

太原市 2015 学年高三年级二模考试试卷分析

地理试卷

(考试时间：上午 9:00—11:30)

一、选择题 ( 本题共 11 小题, 每小题 4 分, 共 44 分。每小题只有 1 个正确选项, 不选、多选、错选均不得分。将每小题的正确选项填入下表中 )

题号	1	2	3	4	5	6	7	8	9
答案	D	A	D	C	B	A	A	B	D
题号	10	11							
答案	C	C							

2015 年 3 月 13 日腾讯新闻报道：在过去的三个月内，太平洋岛国汤加首都努库阿洛法 (  $21^{\circ}\text{S}$  ,  $175^{\circ}\text{W}$  ) 西北的 65 千米处的洋面上因海底火山喷发升起了一座新岛。图 I 为该岛形成过程瞬间景观。据此，完成 1-3 题。



图 1

1. 图示火山灰主要飘落在该岛的

- A. 东北方向      B. 东南方向      C. 西南方向      D. 西北方向

努库阿洛法位于  $21^{\circ}\text{S}$ ，位于东南信风控制区，火山灰飘落至西北方向。

2. 大量火山灰飘落可能造成

A.附近海域出现赤潮现象

B.局地水循环过程中断

C.周边岛屿土壤肥力下降

D.当地昼夜温差加大

火山灰富含矿物质，所以会出现水体富营养化，土壤肥力上升，且昼夜温差减小。

3.该新闻发布日正午，努库阿洛法太阳的方位及高度分别为

A.正南 67°

B.正北 67°

C.正南 71°

D.正北 71°

本题考查正午太阳高度角的计算公式。3月13日正午太阳高度角较春分日正午太阳高度角大，且直射点位于努库阿洛法的正北方向，故选择D。

下表是我国1990-2000年份工业产业重心空间变化统计。据此，完成4-6题。

工业产业	1990年		2000年	
	经度(E)	纬度(N)	经度(E)	纬度(N)
石油和天然气开采业	117.80	41.25	114.73	38.67
煤炭采选业	115.03	36.51	114.45	36.28
造纸及纸制品业	116.40	33.41	116.19	31.77
黑色金属矿采选业	112.70	31.91	114.28	34.53
普通机械制造业	116.31	33.92	117.40	32.77
交通运输设备制造业	116.27	34.09	117.13	33.13
食品制造业	115.45	33.26	116.20	33.18
纺织制造业	116.49	33.17	117.03	32.09
电气机械及器材制造业	116.52	32.42	116.64	30.90
电子及通讯设备制造业	116.16	32.11	116.24	30.81

4.据表可知，我国1990-2000年重心东移幅度最大的工业产业属于

A.技术密集型产业

B.劳动密集型产业

C.资源密集型产业

D.资金密集新产业

本题考查工业地域类型。根据表格可知重心东移幅度最大的产业是黑色金属矿采选业，属于资源密集型产业，故选择C。

5.我国1990-2000年大部分工业产业的重心位于

A.东部地区

B.中部地区

C.西部地区

D.东北地区

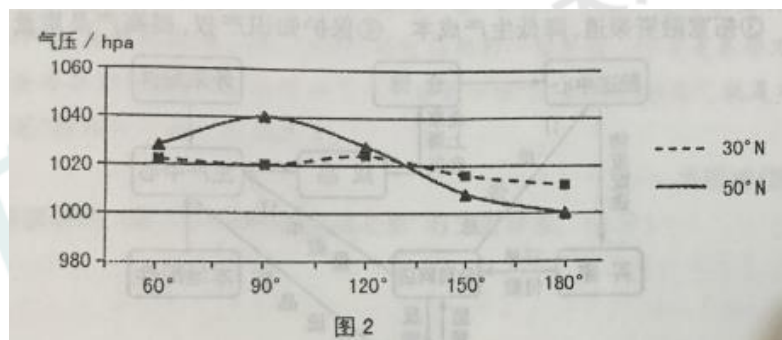
本题考查区域定位能力。我国大部分工业产业中心位于  $112^{\circ} E$ — $117^{\circ} E$ ， $30^{\circ} N$ — $40^{\circ} N$  河南、安徽一带，为中部地区。

6. 上述的重心位置说明我国大部分工业产值主要集中于

- A. 东部地区      B. 中部地区      C. 西部地区      D. 东北地区

本题的关键在于“产值”二字。能够将工业转变为产值的应当属于经济实力较为雄厚且为工业市场的东部地区，故选择 A。

图 2 示意某月份海平面平均气压沿两条纬线的变化状况。读图，完成 7-8 题。



7. 该月份可能是

- A. 1月      B. 4月      C. 7月      D. 10月

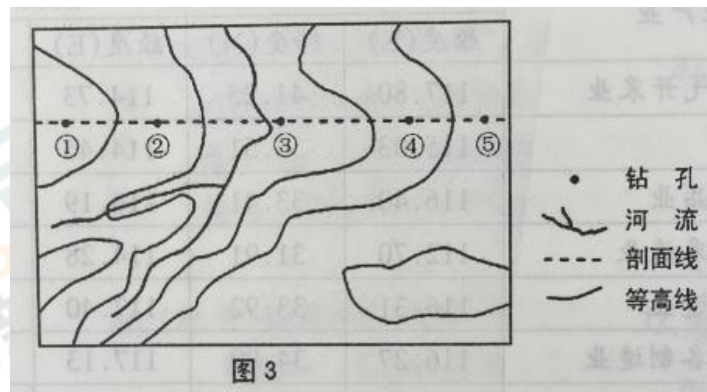
本题考查海陆热力性质差异和南、北半球冬、夏季气压中心。根据图可知，此时气压最高值位于西伯利亚地区，故为蒙古—西伯利亚高压出现的时间，为 1 月。

8. 图示区域  $50^{\circ}N$  纬线的东西气压差大于  $30^{\circ}N$ ，其主要影响因素是

- A. 太阳辐射      B. 海陆差异      C. 大气环境      D. 地势起伏

海陆热力性质差异是产生亚欧大陆和太平洋气压中心的主要原因。

阶地是在地壳的影响下，由河流下切腐蚀作用而成，有几级阶地，就对应应有几次地壳运动。图 3 示意某河流阶地的地形，其中等高距为 20m。某地质考察队沿剖面线在①②③④⑤处分别钻孔至地下同一水平面，利用样本分析得知①⑤为同一岩层且岩层年龄较新，②④为同一岩层年龄较老。读图，完成 9-11 题。



9.图示地区的地质地貌为

- A.向斜山      B.背斜山      C.向斜谷      **D.背斜谷**

本题考查：地质构造与地表形态。根据材料可知，地质构造中老周新，为背斜构造。而根据河流流向可判读地貌为谷地，故为背斜谷。选择 D。

10.图中①②③④所在阶地形成年代最晚的是

- A.①      B.②      **C.③**      D.④

本题考查“阶地”的概念。根据材料可知，阶地是先由内力作用形成地质构造，再由外力作用侵蚀形成的。背斜谷处的③岩层最早形成，可受外力侵蚀作用却最晚。故选择 C。

11.若在③处钻 40m 到达采集样本水平面，则在⑤处钻至该水平面最有可能的深度是

- A.15m      B.45m      **C. 75m**      D.105m

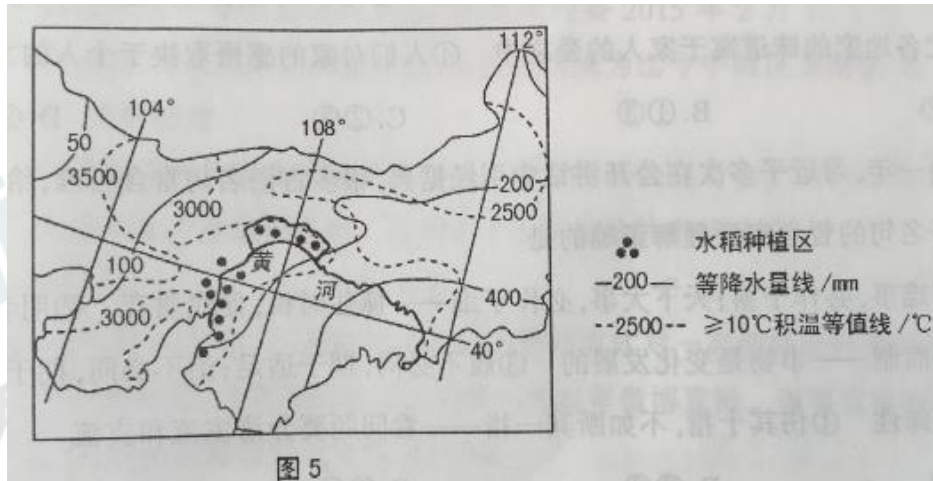
本题考查等高线。③比⑤地势低，地表海拔的相对高度在 40m 以下。故在⑤处钻井至浅水面深度小于 80m。选择 C。

## 第 II 卷（非选择题 56 分）

36. (24 分) 阅读图文资料，完成下列要求。

图 5 中河流沿岸平原是我国小麦主产区，也是北方著名的水稻生产区，所出产的稻米品质优良。

近年来该地“深水淹灌”的稻田面积有不断扩大的趋势。



(1) 分析该平原稻米品质优良的自然原因。(10分)

**【答案】：**该地区纬度较高，水稻生长期较长(2分)；夏季热量较充足(2分)；降水少，光照充足(2分)；昼夜温差大，有利于有机物质的积累(2分)；(土壤肥沃)灌溉水源较充足(2分)。

(2) 有专家对该地区扩大水稻种植面积表示担忧，请阐释其理由。(8分)

**【答案】：**该区域降水少，气候干旱，缺少水源(2分)；(因水稻耗水量大)，过度扩大水稻的种植面积，会造成河流水量减少，引发水荒和土地荒漠化(2分)；与小麦争夺水源，危机国家粮食安全(2分)；不合理的灌溉还会造成土壤次生盐碱化(2分)。

(3) 请为该地区水稻种植业的可持续发展提出可行性措施。(6分)

**【答案】：**依据水资源的承载力，控制水稻的种植面积(2分)；改进灌溉技术和种植方式，节约水资源(2分)；增加科技投入，提高水稻的单位面积产量等(2分)。

37. (22分) 阅读图文资料，完成下列要求。

图6是某国地理位置和等高线地形图。该国首都年降水量约为20毫米，冬季多浓重湿雾，表现出“少雨、多雾”的独特气候特点。图7中的装置使用特殊材质生产的捕雾网，用来采集大气中的雾气，令雾气成为饮用水。

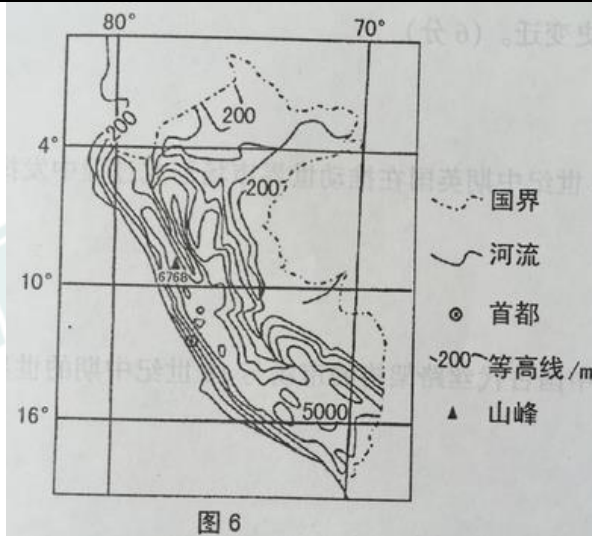


图 6




图 7

(1) 简述该国的地形特征。(8分)

**【答案】：**地形以山地和平原为主(2分)，西部为南北延伸的高大山脉(2分)，东部为低缓的平原(2分)；地势西高东低，起伏较大(2分)。

(2) 分析该国首都“少雨，多雾”气候特征的成因。(10分)

**【答案】：**(受东部山地阻挡)，该地处于东南信风的背风坡，降水较少(2分)；沿岸寒流的减湿作用明显(2分)。西临海洋，水汽较充足(2分)；沿岸寒流降温作用明显，水汽易凝结成雾(2分)；冬季近地面气温低，大气层稳定，不利于浓雾的扩散(2分)。

(3) 该国首都利用捕雾网获取生活用水。你是否赞成这一举措？请阐述理由。(4分)

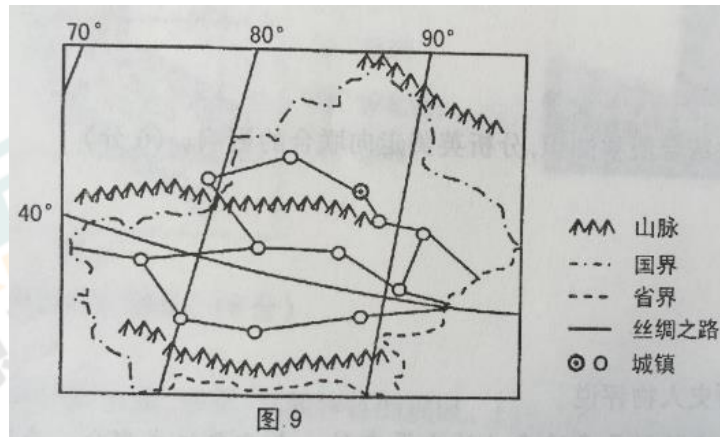
**【答案】：**方案一：赞成——首都气候干旱，水资源短缺问题严重(2分)；该地多浓重湿雾，雾水资源较丰富(2分)。

方案二：大雾天气存在季节变化，雾水来源不稳定(2分)；雾水收集的水资源数量极为有限，难以解决城市的缺水问题。

选修地理部分：

42. (10分) 旅游地理

随着丝绸之路“长安——天山廊道路网”成功申报世界文化遗产，“重走丝绸之路”成为新的旅游热点，有几位游客为获得深刻体验，拟于4月下旬进行以“重走丝绸之路”为主题的深度游。图9示意丝绸之路在我国新疆境内的分布。

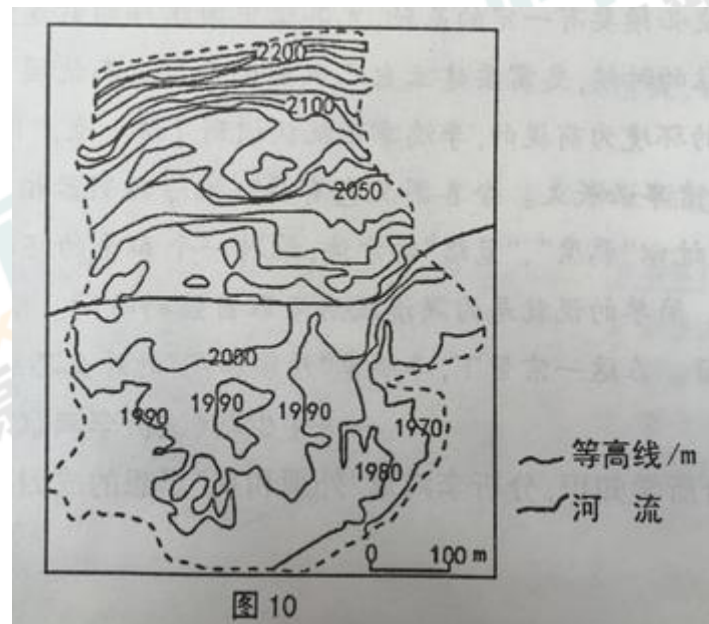


针对旅游目的地的自然环境特点，说明这批游客需要携带的生活用品及注意事项。

**【答案】：**白天太阳辐射较强烈，需带防晒物品（2分）；昼夜温差大，夜晚气温较低，需备防寒衣物（2分）；多大风和沙尘天气，需备防风帐篷等风沙防护用品（2分）；景点之间距离较长，需要准备充足的食物和水（2分）；春季积雪融化，注意避开易发洪水的区域等（2分）。

#### 43. (10分) 自然灾害

图 10 所示区域地处我国四川西部断裂带。2014 年夏秋季节，该区域出现多次降雨。图中虚线所示范围为降雨过后某种地质灾害边界范围。



分析图示地质灾害的成因并指出其对图中河流的危害。

**【答案】：**山地地形，坡度大，地势陡（2分）；地处断裂带，岩石破碎（2分）；雨水下渗和冲刷，诱发岩体下滑，形成滑坡（2分）；岩体阻塞河道，形成堰塞湖（2分）洪水灾害的隐患增大（2分）。

#### 44. (10分) 环境保护

近30年来，我国地下水的开采量以每年25亿立方米的速度递增，地下水的供给量已经占到了全国总供水量的20%。根据国家地下水质量标准的划分，我国东部主要平原地区地下水可以直接饮用的仅占18.4%，经适当处理后可供饮用的占29.5%，需经专门处理后才可饮用的占52.1%。图11是地下水与河流、湖泊、海洋的关系示意图。

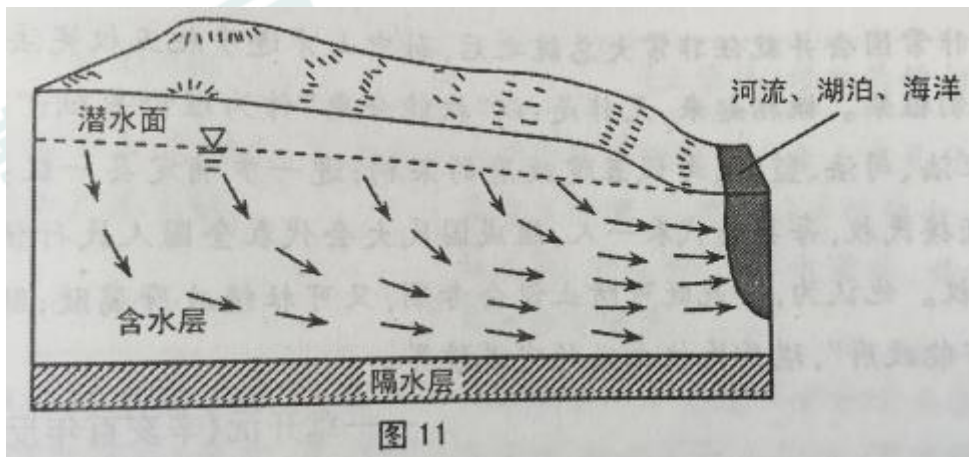


图 11

指出我国东部平原地区地下水污染物的主要来源，并说明防治地下水污染的重要性。

**【答案】：**地下水污染物主要来自工业“三废”（2分）、农业污染（过量使用的化肥和农药）（2分）及生活污水。地下水是我国东部地区的主要水源（2分）；地下水被污染后，通过水循环会影响到河流、湖泊及海洋的水质（2分）；地下水更新慢，自净能力弱，治理难度大（2分）。

### 太原市 2015 年高三年级模拟试题（二）

文科综合能力测试

（考试时间：上午 9:00-11:30）

#### 政治部分




12、甲国某生产部门在 2013 年的劳动生产率是每小时生产 1 件 A 商品，标价是 90 元。如果 2014 年该部门劳动生产率提高了 20%，该国流通中所需要的货币量为 6 万亿元，而货币的实际供应量是 8 万亿元，其他条件不变，则 A 商品的价格是

- A.144 元    **B.100 元**    C.56.25 元    D.81 元

**解析：**  $90 \div (1+20\%) = 75$      $(8-6) \div 6 = 0.33$      $75 \times (1+0.33) = 96.75$

13、图 4 为某公司产品生产、网上销售流程简图。这种“互联网+零售”的模式有利于企业

- ①根据用户反馈对产品进行升级，让用户“参与”产品的研发    ②以信息传递为核心，提升运营效率    ③拓宽融资渠道，降低生产成本    ④保护知识产权，提高产品质量

- A.①②**    B.②③    C.①③    D.②④

**解析：** 面向市场加强创新，增加企业的效率。题中未体现融资和知识产权。

14、目前我国农产品流通至少包括产地市场采购、运输、销地市场批发(一级批发和二级批发)、零售四个环节，在这个过程中，农产品价格被层层“加码”。由于农民在生产、加工、流通各个环节组织化程度低，缺乏市场竞争力，因而并未从农产品涨价中受益。改变这种困境的措施有

- ①减少农产品流通环节，降低农产品价格    ②推动城镇化建设，建立城乡二元体系    ③实现产供销一体化，提高农业综合效益    ④通过规模化和企业化经营，提升市场竞争力

- A.①②    **B.①④**    C.③④    D.②③

**解析：** 题中未体现农产品流通减少，城乡二元体系应该减少。

15、经过长达一年的反垄断调查，国家发改委 2015 年 2 月 10 日宣布对美国高通公司处以 60.88 亿元人民币的高额罚款，此次处罚成为迄今中国反垄断最大一笔罚款。从生产角度看，垄断行为

①限制了消费者自由选择的权利②使价格机制对生产的调节失灵③削弱了生产者提

高劳动生产率的积极性④扰乱了公平竞争的市场秩序

A.①③ B.②④ C.②③ D.①④

解析：对生产的调节和提高劳动生产率的主体是生产者。

16、2015年3月11日，某法院以微博直播的方式对一起涉嫌盗窃罪的刑事案件审理过程进行了全程播报，这是

该院新年以来第一次庭审微博直播。微博直播庭审这一举措表明

- A. 新媒体保障公民知情权、参与权
- B. 司法机关自觉接受社会监督，推进司法公开
- C. 政府依法行政，规范自身行为
- D. 人民民主具有广泛性，确保司法公正

解析：法院微博直播庭审体现了对司法机关的监督。

17、为适应全面从严治党新常态，某市市委在2015年伊始，开展“惩腐铸廉、正风铸廉、民生铸廉”的铸廉行

动。通过一系列活动，加力提速清扫腐败分子，严查“四风”问题，营造党风正、政风清的清明景象，以纠风惠

民新成效彰显宗旨、取信于民。这一活动

- ①是实现人民群众利益的根本保障②是加强党的政治领导的基本途径③有利于密切党群关系,净化政治生态④有利于巩固党的执政基础和执政地位

解析：中国共产党加强党风廉政建设不是经济手段，不能实现人民群众根本利益，有利于加强和群众联系增强党的执政地位。

18、亚洲基础设施投资银行(简称亚投行)是一个由中国倡议成立的政府间性质的亚洲区域多边开发机构,旨在支持亚洲国家基础设施建设,推动区域经济发展。尽管美国从一开始就阻挠其盟友国家加入亚投行,但英、法、德、意等欧洲多国纷纷申请成为亚投行意向创始成员国。材料反映了

①世界多极化趋势加强②亚洲的发展成为世界关注的焦点③国家利益是一国对外活动的出发点和落脚点④亚投行能调解国际争端,缓解国家间矛盾

A、①③ B、①④ C、②③ D、③④

解析:世界经济组织的建立体现了世界经济联系的加强,题中并未体现国家利益的实现。国际性质银行难以调节国家矛盾。

习近平在 2015 年春节团拜会上发表重要讲话,他引经据典,盘点旧岁,谋划新年,并希望国人重视家庭建设,发扬中华民族传统家庭美德。完成 19~20 题。

19.婴儿时,长辈用筷子蘸各种味道教你辨别酸甜苦辣,是一种传承;孩提时,爸爸打你先下手夹菜的筷子,是一种明礼;长大后你用筷子往妈妈的碗里夹上她爱吃的菜,是一种感恩……每个人都有一个关于家的味道、一种情感的记忆,南北不一,味道各异,但对家人的爱,却是唯一。从中我们感悟到

①筷子的使用在不同阶段传递着不同的情感②每个人对家的情感源于长期的生活体验 ③南北各地家的味道寓于家人的爱之中④人们对家的感悟取决于个人的文化水平

A、①② B、①③ C、②③ D、②④

解析:文化具有潜移默化深远持久的特点,人们对家的感觉来源于特定的文化环境和文化活动。

20、过去的一年，习近平多次在公开讲话中引经据典，很多古语名句富含哲理，给人启迪。下列对古语名句的哲学

寓意理解正确的是

①天下难事，必作于易；天下大事，必作于细——抓住时机，促成质变②明者因时而变，知者随事而制——事物是变化发展的③履不必同，期于适足；治不必同，期于利民——矛盾具有特殊性④伤其十指，不如断其一指——看问题要分清主流和支流

A、①② B、②③ C、①④ D、③④

解析：①体现了具体问题具体分析，④体现了抓主要矛盾

21.人体褪黑激素一般在黑暗条件下分泌，有助于调节和促进睡眠。而科学研究发现：以ipad为首的便携式数码设备会促发睡眠障碍，从数码设备荧屏投射出的光线会抑制褪黑激素的产生，从而扰乱人体生物钟。这一研究结论佐证了

- A、符合客观规律的活动来自意识的自觉选择性
- B、人们可以根据规律发生作用的条件利用规律
- C、意识对人体生理活动具有调节和控制作用
- D、一切生命物质都具有对外界刺激做出感应的特性

解析：A混淆了物质与意识的关系，BC与题意不符。

22 荷兰著名的代尔夫特蓝瓷的蓝色异常浓郁，给人以无尽的想象空间，这源于其特别的制作过程。画师在传统

工艺的基础上,使用含有氧化钴黑色成分的颜料,经过特别烧制发生化学反应,黑色就会变为著名的代尔夫特“蓝”。

这种特别的制作过程

- A. 深化了理论认识,推动事物向前发展
- B. 发挥了意识的能动作用,突破具体条件创造联系
- C. 立足于实践探索,建立新的人为事物的联系
- D. 发挥主观能动性,根据主观愿望变革事物

解析:人可以根据实践建立新的联系。

23、今天,我们面对的是一个变革的时代,每人都在思考 2014 年,国家人文历史杂志曾刊登过一组百年来中国人表情的老照片,哲人说“世间一切尽在脸上”对此理解正确的是( )

- ①不同时代国人的表情是社会存在的反应, ②反应时代特点的认识可以支配社会实践的发展
- ③社会存在的变化,发展决定时代观念的变化发展 ④国人表情的变化,是社会意识发作用的表现

解析:社会存在决定社会意识,社会意识是对社会存在的反映

## 第Ⅱ卷(非选择题共 52 分)

38.党的十八届四中全会提出全面推进依法治国,坚持法治国家、法治政府、法治社会一体建设。阅读材料,回答问题。

材料一 2014 年 3 月 1 日,新修改的《公司法》正式生效,标志着以简化程序,降低企业登记门槛的商事制度改革开始全面实施。

(1) 材料一反映了哪些经济信息？商事制度改革通过激发市场活力，最终使企业和劳动者受益。联系材料一和所学经济知识，说明商事制度改革是如何使劳动者受益（14分）

解析：①商事制度改革一年来包括第二、三产业企业增加，个体私营企业从业人员增加，激发了市场活力，创造了更多就业机会

②新型登记企业中第三产业增幅高于第二产业，其中信息技术文体娱乐科研服务业高度增长，促进了产业结构优化。

商事制度改革通过降低企业技术门槛，激发劳动者投资劳动积极性，发挥其在生产力发展中的主导作用，促进企业技术增加尤其是第三产业发展，增加就业人数，提高劳动者收入，促进了信息、文化、体育及科研技术发展，有利于劳动者素质提高。

材料二随着经济社会发展和全面深化改革的推进，立法工作中遇到一些新情况、新问题，对加强和改进立法工作提出了新要求。为此，十二届全国人大三次会议表决通过了关于修改中华人民共和国立法法的决定草案。下面表中列举出针对部分现实问题进行的新修改。

	修改后的相关规定
制定过程中，公众参与的深度和广 度不够。	问题存在重大意见分歧或者涉及利益关系重大调整 的，可以召开听证会，听取基层和有关群 体代表、有关 部门、人民团体、社会组织及有关专家 等方面的意见。
的市有 284 个，按照修改前的《立 法法》规定，享有地 方立法权的只有 9 个。	有设区的市地方立法权，规定设区的市 可以对“城乡 设与管理、环境保护、历史文化# 等方面的事项”制定 地方性法规。

机关出台的文件出现了给老百姓设定义务、增加义务，剥夺和限制权利规定，如限行、限购等。	行政法规、地方性法规依据，地方政府规章不得设定损公民、法人和其他组织权利或者增加其义务的规范。
--	---

(2)结合材料二，分析表中《立法法》修改后的相关规定体现的政治生活道理。(12分)

**解析：**广征求意见，体现了人大科学立法、民主立法，保障公民的表达权、参与权。②依法赋予所有设区的地方立法权，体现了人民代表大会制度体现了民主集中制度原则，充分发挥了中央和地方两个积极性。依法规范政府制定规章制度的权利，体现了政府必须依法行政打造法治政府维护公民的合法权益。

(26分)阅读材料,完成下列要求。

国家形象直接影响一个国家在国际社会中的地位和作用,是国家软实力的重要范畴。 材料一为顺应全球传播时代的潮流,我国在塑造国家形象方面确立了以下思路:一是处理好主观认知与客观实际的关系。国家形象的塑造既取决于该国的国情国力实际,同时也取决于自身的塑造能力特别是国际传播能力。二是处理好国内公众与国外公众的关系。由于国家间的利益矛盾和文化差异,国内公众对本国的认知与国外公众对该国的认知会有差别,需要正确引导国内外社会舆论的互动。三是国家形象的判定标准与传播媒体之间的关系。传媒对国家形象的判定有双重作用,塑造良好的国家形象需要加强对国际主流媒体特别是新媒体的控制力和影响力。

(1)结合材料一,运用联系多样性知识,分析我国塑造国家形象思路的依据。(12分)

**解析：**①事物的联系是多种多样的，要求我们注意分析和把握事物存在和发展的各种条件，一切以时间地点条件为转移②既要注重客观条件又要恰当运用主观条件，国家形象的塑造，既要把握注意我国的国情实际③既要把握内部条件，又要关注外部条件，我们要注重国内公众的反响，和国家的自我认知，也要注重国外公众的感受和影响④既要认识有利条件，又要重视不利条件，要发挥传媒的作用，又要克服其不利影响。

材料二过往的时代，国家形象的塑造主要是国家和政府的事情，如今国家形象的塑造是在日益多元化的进程中通

过碎片化形象的整合而实现的。作为次国家行为体的非政府组织、企业、个人等已经成为国家形象塑造和对外传播的主体,每一个行为体在国家形象的塑造中开始承担着与自身角色相符的责任。“凡我在处,便是中国”的理念对于不同层级的行为体都是适用的。

(2)结合材料二,运用发展中国特色社会主义文化的有关知识,说明公民在塑造我国的国家形象中应该怎么做。(10分)

树立高度的文化自觉和文化自信。增强对文化的自豪感和自信心,积极传播中国优秀文化。投身与社会主义精神文明的伟大实践,为促进文化贡献力量。践行社会主义核心价值体系,加强思想道德修养和科学文化素养。

(3)“凡我在处,便是中国”。从顾炎武的“天下兴亡,匹夫有责”到当代学者崔卫平的“你所站在那个地方,就是属于你的中国。你怎么样,中国便怎么样。你是什么,中国人便是什么。你内心光明的时候,中国便不再黑暗。”无不体现了中国知识分子自觉的历史担当。请你写出从中得到的两条感悟。(4分)

(4)奉献社会,实现人生价值。从我做起,身体力行。

### 历史试卷

24. 孔子曾说:“天视自我民视,天听自我民听”“道之以德,齐之以礼”。古罗马普卢塔克的名言:“道德是永存的,而财富每天在更换主人。”由此可见,古代东西方思想家都强调

- A. 崇德尚群      B. 济世爱民      C. 诚实守信      D. 礼法并施

A 无论是孔子阐述的“德”的观点,还是普卢塔克的道德永存,都是为了强调人们应该崇尚道德、品德,而且不是一小部分人,是大多数人群。



25. 针对“文吏以事胜,以忠负;儒生以节优,以职劣。二者长短,各有所宜”的情况,汉武帝

- A. 以吏为师,以法为教
- B. 崇儒尚法,霸王道杂之
- C. 设置刺史,分区监察
- D. 察举征辟,儒释道并重

B 文吏重才,儒生重德,一个治国,一个改善社会教化。但两者的共同目的都是为了维护专制主义中央集权的统治。

26. 中国古代史学家多以封建制和郡县制来划分中国历史发展阶段。顾炎武希望“有圣人起,

寓封建之意于郡县之中,而天下治矣”。这反映了顾炎武

- A. 呼唤圣人有浓厚的人治色彩
- B. 以地方自治反对君主专制
- C. 探索治国之道具有复古倾向
- D. 借封建宗法精神实现治世

B 顾炎武是明末清初思想家,从材料中可得,他希望建立一个看上去像郡县制的分封制地方格局。由此可知是为了加强地方分权,削弱中央集权以反对君主专制。

27. 清末,国史馆对大臣出任军机处、内阁、部院、疆吏者皆立年表,而对任事总理衙门之人,则

独无年表。国史馆的这种做法从本质上反映出

- A. 总理衙门政治地位低下
- B. 清政府拒绝外来文明
- C. 近代中国变革阻力重重
- D. 国史馆官员观念保守

C 注意本题问本质,B C 看似都不错,但是只是材料表面内容。总理衙门不被采纳实际上是洋务运动不被封建统治阶级所看好和重视,因此连史馆也不将其写入年表,其实是在向西方学习先进外交方面受到了阻挠。

28. 1902年梁启超在《新民丛报》中说：“吾党做劝告开明工夫，未必不为彼党间接发生助力。

彼党做预备革命军工夫，亦未必不为吾党间接生助力，此所谓相反而实相成。”材料表明

- A. 中国近代政党政治的形成
- B. 两党分工明确并各司其职
- C. 两党为共同利益实现联合
- D. 实现民权是两者共同目标

D 由材料可知，是改良派和革命派相互影响相互促进的产物。两者均为追求民主反对君主专制而努力，这是他们共同的目标。

29. 南京临时政府教育部秉承《临时约法》“人民有信教之自由”的含义，以“忠君与共和政体不

合、尊孔与信教自由相违”为由，规定学校不准祭孔、不准尊孔读经。这一举措

- A. 否定袁世凯的尊孔复古逆流
- B. 有利于培养学生的民主意识
- C. 推动学校采用西方教育模式
- D. 使儒学失去了主流思想地位

B 由材料可知是《临时约法》要求人民信仰共和政体而不尊孔尊儒。A项与史实不符，时间未至袁称帝，民主共和整体也不是西方教育内容，不尊儒尊孔不代表就失去了主流思想地位。

30. 历史学家田玄认为：“辛亥革命的走向没有从南方推进到北方，没有从长江流域推进到全国。……形成革命运动沿海、沿江城市先进，内地和边疆城市落后；南方城市先进，北方城市落后（的状况）。”这种“状况”说明

- A. 近代中国政治经济发展不平衡
- B. 南方人比北方人更具有斗争精神
- C. 辛亥革命的领导人多为南方人
- D. 北方比南方的社会矛盾较为缓和

A 此题考查史实，经济基础决定上层建筑。南方革命激烈的原因在于资产阶级力量壮大，与无法蔓延至北方原因一致。其他均不符合史实。

31. 1955年召开的亚非会议确定的会议议程共5项：经济合作；文化合作；人权和自决权；附属国问题；世界和平和合作的促进。这反映出会议的主题是
- A. 反殖反霸合作  
B. 构建政治同盟  
C. 争取经济独立  
D. 实现区域合作

A 由时间可知此会议为万隆会议，第一次没有殖民主义国家参与的大会。并且从会议议程也可看出是反对殖民主义和霸权为共同发展的大会。

32. 在古希腊，泰勒斯推测万物始源于水，因为液体、固体和蒸汽都是水的存在形式。赫拉克利特认为万物的始基是火，因为火非常活跃，能转变成万物。这反映了
- A. 哲学源于民主政治  
B. 理性精神开始萌发  
C. 地理环境影响巨大  
D. 古代科学荒诞不经

B 材料否定了神创世而是肯定了万物创世，打破了神权色彩对人们的思想束缚。此外材料中不涉及民主和地理问题，也不是荒诞不经的言论。

33. 恩格斯在《致玛·哈克奈斯》的信中说：“除细节的真实外，还要真实地再现典型环境中的典型人物。”下列文学流派符合恩格斯这一观点的是
- A. 古典主义文学  
B. 启蒙文学  
C. 浪漫主义文学  
D. 现实主义文学

D 此题极易，由材料可知细节、环境和人物都是典型的，因此符合现实主义文学的描述。

34. 俾斯麦说：“一个期待养老金的人是最守本分的，也是最容易被统治的，社会保险是一种消除革命的投资。”在此俾斯麦是针对
- A. 民众要求建立福利国家的愿望  
B. 结束分裂实现国家统一的目标  
C. 德国社会主义运动的影响日增  
D. 动员民众投入对外扩张的需要

C 由材料中消除革命可知是德意志统一之后在封建专制和资产阶级的双重压迫下，德国

人民处于困苦状态，没有权利且缺乏保障，因此俾斯麦提出社会保险其实是对人民社会主义制度的一种应对的措施。

35. 下表为二战后美国国内生产总值在各产业的分布变化情况表, 表中数据反映了

时间	第一产业	第二产业	第三产业
1953 年	5.5%	47.2%	48.3%
1963 - 1967 年	3.3%	43.5%	53.2%

- A. 不断对外战争导致经济增长缓慢
- B. 消费水平提高促使消费结构变化
- C. 借战胜国地位不断扩大国际市场
- D. 信息技术革命推动产业结构变化

B 从材料可以看出，在二十世纪五六十年代的美国，第一二产业减少，第三产业增加。不是经济发展缓慢和扩大出口以及科技发展导致的，而是因为人民的需要和消费观念的改变与提高要求第三产业有所发展和增加。

40. (25分) 阅读材料, 完成下列要求。

**材料一** 汉代的海上丝绸之路从今天广东出发, 可达东南亚和南亚。汉在徐闻县南七里(今广东徐闻县), 置左右侯官管理。汉武帝时有外国使者来进献, 汉武帝派译长带上黄金和丝绸出海, 到这些国家交换明珠、璧琉璃、奇石、异物。

两宋的海上丝绸之路从泉州和广州等地南下, 可达东南亚和南亚, 通今波斯湾、红海至欧洲, 也可至非洲东海岸, 除主干道外, 还有许多支线。两宋先后在广州、泉州、明州、杭州、密州等12处设有市舶司, 专司外商货物税, 还制定市舶条或市舶法, 不许官员权贵经营海外贸易、买舶商货物。进出口货物达400多种, 进口商品有香料、珍珠、象牙、药材等, 主要出口纺织品、金属及其制品、陶瓷品、茶叶等商品, 外贸分官营与私营, 以后者为主。

——摘编自齐涛《中国古代经济史》

**材料二** 工业革命推动资本主义世界市场基本形成。随着英国世界殖民霸主地位的确立, 广阔的殖民地为其带来巨大的市场和商业利润, 工场手工业不能满足市场的需要, 在18世纪下半期以蒸汽机应用为标志的工业革命兴起了, 机器大生产的产品远远超出国内市场的容量, 需要更广阔的国际市场, 工厂生产需要的原料多来自世界各地, 同时工业革命也为工业资产阶级提供了便捷的交通手段及轰开落后地区大门的坚船利炮, 在工业革命推动下, 资产阶级的全球扩张把整个世界联系为一个整体, 马克思在《共产党宣言》中这样描述资产阶级, 由于一切生产工具的迅速改进由于交通的极其便利, 把一切民族甚至最野蛮的民族都卷进文明中来了, 它的商品的低廉价格, 是它用来摧毁一切万里长城, 征服最野蛮最顽强抵抗的伏外心理的重炮。

——何兰《资本主义世界市场的形成及殖民体系研究》

(1) 根据材料一, 概括海上丝绸之路的历史变迁。(6分)

(2) 根据材料二并结合所学知识, 分析19世纪中期英国在推动世界市场形成过程中发挥重大作用的原因。(9分)

(3) 综合上述材料并结合所学知识, 分析中国古代丝路架构的市场与19世纪中期的世界市场的区别。(10分)

(1) 两宋路线比汉朝更发达; 政府重视海外贸易, 管理越来越规范; 手工业产品出口种类增多; 民间外贸日益发达。

(2) 有制度和政策保障; 最早完成工业革命; 拥有强大的海军; 在交通革新上领先; 对外殖民扩张, 拥有最多的殖民地。

(3) 古代是区域性市场，近代是全球性市场；古代以政治经济和平交往为主，近代还伴以武力征服；古代以中国为主导，近代以西方为主导；古代是以手工制成品和奢侈品为主，近代以工业制成品为主；古代丝路促进了各国之间的友好交往，近代世界市场具有破坏性与建设性的双重作用。

41. (12分) 阅读材料，完成下列要求。

材料一 “此一星期中，自敌人借口于所谓宣战，否认国民政府，继续军事行动等等观之，对我威胁逼迫，可云极矣。顾以余视之，觉不值一笑。固无论其出如何举动，皆不能动摇我抗战之决心及胜利之信念。”(1938年1月15日)

“我之对倭，在以广大之空间土地，求得时间持久之胜利；积各路之小胜，而成全局之大胜。”(1938年3月5日)

——抗战时期蒋介石部分日记

材料二 在1939年至1940年的两年间，正面战场先后进行大的战役有：南昌会战、随枣会战、第一次长沙会战、1939年冬季攻势、桂南会战、绥西作战和枣宜会战等。这7次战役的规模都相当大，地域涵盖华东、华北、华中和西南广大地区，每次战役日军投入的兵力均在8万—10万人左右，中国军队投入的兵力至少在20万以上。正面战场在1939—1940年的两年里，对日军的进攻进行了较为坚决的抵抗，因而给日军较大打击，共毙俘日军26.3万余人，同时也付出了101.9万余人的重大伤亡。

——彤新春《抗日正面战场》

材料三 “国民党的主要领导人蒋介石，一直没有像汪精卫那样放下抗战的旗帜。但当抗日战争相持阶段到来后，他对抗日是消极的，甚至与日本侵略者秘密进行谋求妥协的活动。他实行的反民主的政策，是不利于团结抗日的，他还开始推行积极反共的政策……”

——胡绳《中国共产党的七十年》中共党史出版社1991年版

根据材料并结合所学知识，你如何看待胡绳对国民党抗战的评价。

胡绳对国民党抗战的评价是片面的，带有鲜明的阶级立场。否定了国民党抗战的功绩与努力。

从蒋介石的日记中不难发现其抗战决心之坚。同时，从材料二也可以看出正面战场中国国民党七次会战对日军的沉重打击和自身的伤亡惨重。因此胡绳的评价具有主观色彩。抗日战争是全民族的抗战，是中华民族共同努力的结果。是国共合作的结果，因此在对待国民党抗战的问题上应肯定其作用和功绩。

45. (15分)历史上重大改革回眸

**材料** 唐朝的中央政府实行六部制,比汉朝的十三曹整整少了七个部门,是一次很大的部门精简。李世民用官非常之少,贞观年间,中央机构中的文武官员最少时只有643人,全国仅7000余人,这应该是历朝人数最少的政府了。据明末学者朱国桢的统计,有唐一代需财政负担的官员总数最多时约为1.8万人。

唐朝的官员按官职高低都可以领到一份“职份田”,此外还有永业田,即便是八品或九品的小官,也有永业田二顷。此外,还可以领到一份年薪。即便是养那几百个官员,李世民竟还舍不得由财政出钱,他想出了一个非常古怪的“公廨钱制度”,就是对富豪家庭定向征收一笔“特别财产税”,以此养官。

——吴晓波《历代经济变革得失》

(1)根据材料,概括唐初解决“吏政之患”的主要措施。(6分)

(2)根据材料并结合所学知识,评价唐初采取的这些措施。(9分)

(1) 精简官员；给官员大量授田；对富豪家庭定向征税以养官。

(2) 为减少财政支出；高薪养廉；使唐初出现吏治清明局面；百姓得以休养生息，巩固统治。

更多的真题下载地址：<http://ty.xdf.cn>

咨询电话：0351-3782999