

文科综合能力测试

(考试时间:上午 9:00—11:30)

注意事项:

1. 本试卷分第 I 卷(选择题)和第 II 卷(非选择题)两部分,第 I 卷 1 至 7 页,第 II 卷 8 至 16 页。
2. 回答第 I 卷前,考生务必将自己的姓名、准考证号、考试科目涂写在答题卡上。
3. 回答第 I 卷时,选出每小题答案后,用 2B 铅笔把对应题目的答案标号涂黑。如需改动,用橡皮擦干净后,再选涂其他答案标号。写在本试卷上无效。
4. 回答第 II 卷时,将答案写在答题卡相应位置上。写在本试卷上无效。
5. 考试结束后,将本试卷和答题卡一并交回。

第 I 卷(选择题 共 140 分)

本卷共 35 小题,每小题 4 分,共 140 分。在每小题给出的四个选项中,只有一项是符合题目要求的。

图 1 中 M 湖是世界上最大的时令湖。该湖要么滴水不存,要么碧波荡漾,其最不寻常的特点是湖中难得有水。读图,完成 1~3 题。



1. 图中四地水循环最活跃的是
A. 甲 B. 乙 C. 丙 D. 丁
考查:澳大利亚的气候类型,蒸发旺盛且降水量大,水循环最活跃。
2. M 湖的湖水主要来自
A. 河水、冰川融水 B. 河水、雨水
C. 雨水、季节性积雪融水 D. 冰川融水、地下水
考查:湖泊补给类型。湖泊为热带沙漠气候,降水少,冰川融水。
3. M 湖难得有水,主要是因为
A. 气流下沉,降水稀少 B. 深居内陆,受海洋影响小
C. 气温高,蒸发旺盛 D. 土质疏松,水的下渗量大
考查:气候类型。M 为热沙,位于东南信风背风坡,雨影效应。

城市化包括人口城市化和土地城市化。人口城市化的质量指标包括经济环境、社会环境、文化环境和生态环境;土地城市化的质量指标包括单位土地上的投入、土地的综合效益和土地的利用程度。城市化水平并不等同于城市化质量。图 2 示意山东半岛城市群 1999~2010 年城市人口与土地的增长关系。读图,完成 4~6 题。

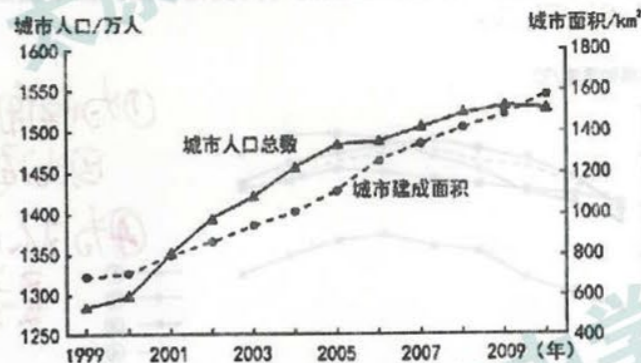


图 2

4. 据图可知,1999~2010 年山东半岛
A. 城市土地增长幅度远大于人口增长
B. 2009 年以后城市中心逐渐衰落
C. 具有典型的滞后城市化特点
D. 城市人口与土地协调发展
考查:城市化质量指标。右轴坐标,城市土地增长幅度远大于人口增长。
 5. 2004 年以后,山东半岛城市发展中呈明显下降趋势的是
A. 人口城市化质量
B. 土地城市化质量
C. 人口城市化水平
D. 土地城市化水平
考查:城市化质量指标。城市土地增长幅度远大于人口增长,土地城市化质量下降。
 6. 为实现城市的可持续发展,山东半岛今后应
A. 重点发展劳动密集型产业
B. 继续扩大城区面积,改善居住条件
C. 鼓励农民工大量迁入
D. 加大对土地的科技与经济投入
考查:城市化质量指标。土地城市化质量下降,应加大对土地的科技与经济投入。
- 避暑型气候是指夏季人体感到舒适的气候条件。当感知温度在 9~26℃ 时人体即感“舒适”。我国避暑型气候主要有五种地域类型,即西南高原型、中东部山岳型、东北山地平原型、西北山地高原型和环渤海低山丘陵型。图 3 是中国夏季避暑型气候分布示意图。读图,完成 7~9 题。



图 3

测评编号

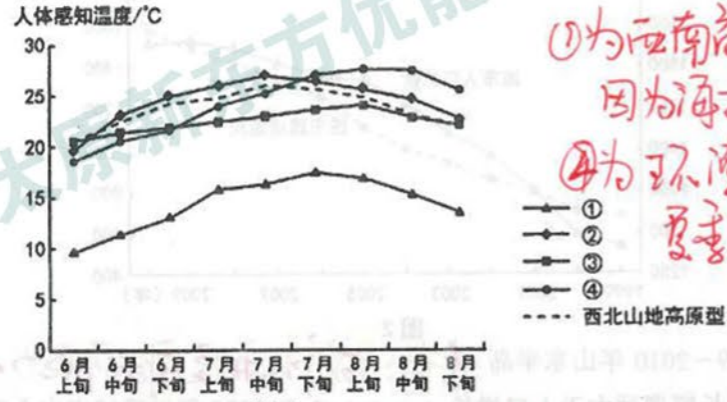
姓名
班级
学号

7. 我国避暑型气候区主要分布在

考查：读图分析判断能力。

- A. 水域广阔地区
- B. 中温带和高海拔地区
- C. 经济发达地区
- D. 森林茂密地区

8. 图4示意各类避暑型气候夏季人体感知温度随时间变化情况。图中曲线表示环渤海低山丘陵型的是



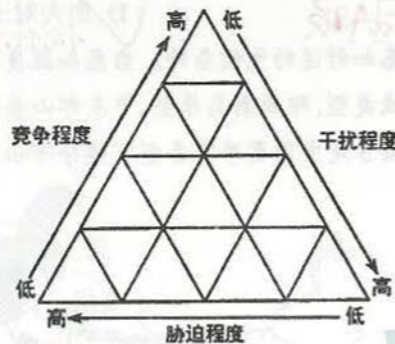
①为西南高原型。因为海拔高，气温低。
④为环渤海丘陵型。夏季风影响大，气温较高。

- A. ①
- B. ②
- C. ③
- D. ④

9. 综合考虑气温、湿度、光照、风速等因素，避暑条件最好的地域是

- A. 西南高原型 光照过强
- B. 西北山地高原型 湿度不足
- C. 环渤海低山丘陵型 夏季温度过高
- D. 东北山地平原型 夏季温度短促

限制植物生存与数量的外界条件主要是胁迫(恶劣的自然环境)和干扰(不稳定的自然环境)。图5显示二者与植物竞争程度的关系。读图,完成10~11题。



10. 高竞争型植物的生境特点表现为

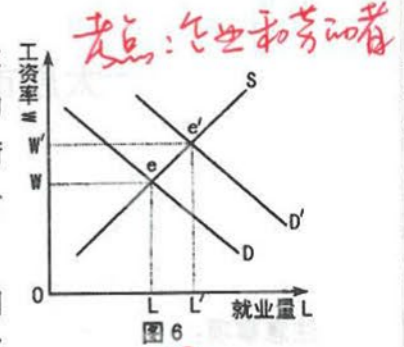
考查：读图分析判断能力。

- A. 低胁迫、低干扰
- B. 高胁迫、低干扰
- C. 低胁迫、高干扰
- D. 高胁迫、高干扰

11. 极地高山植物能适应高胁迫的生境,其在生长中面临的最大胁迫来自

- A. 强光
- B. 低压
- C. 低温
- D. 大风

12. 图6所示的是在劳动力市场上,劳动力供给量S与劳动力需求量D受工资率水平变化的影响。当工资率水平处于W时,劳动力市场供求达到均衡,实现了充分就业。工资率水平高于均衡点时会导致劳动力供给过剩,低于均衡点时会导致劳动力供给不足。下列措施最有可能实现均衡点由e到e'转变的是



- ①国家支持大众创业万众创新
- ②限制过高工资,以免企业因用人成本高而减少用人需求
- ③劳动者要提高自身素质,更好的实现自身价值
- ④企业制定职工最低工资标准,保障劳动者的合法权益

- A. ①②
- B. ③④
- C. ①③
- D. ②④

13. 土豆效应,又称“土豆悖论”,是指在大萧条时期,消费者舍弃高端奢侈品而转向中低端产品,并导致对后者的需求上升,进而推高低成本产品的价格和销量。由此可以推断出

- ①价格上涨不一定带来需求减少
- ②经济越萧条低端商品利润越高
- ③收入是消费的前提和基础
- ④中低端产品的需求弹性小

- A. ①②
- B. ①③
- C. ③④
- D. ②④

14. 2015年3月30日,央行联合多部委发布通知,商贷二套房首付比例下调到最低40%,公积金二套首付比例下调最低至30%。同日,财政部、国税总局发布通知,二手房转让营业税免税的条件由购买满五年调整为购买满两年。该政策的实施

- ①无法直接改变市场的趋势,但却能左右房地产市场的价格
- ②有利于促进二手房市场的流通,支持改善家庭性购房
- ③将有效刺激地产股走强,房地产市场股票价格会持续走高
- ④以调节为主,有住房需求人群支付能力将得到改善

- A. ①②
- B. ①③
- C. ②④
- D. ③④

15. “一个追逐利润的行业不会为无力购买的市场投资产品”,世界卫生组织负责人陈冯富珍指责医药行业,称“追求利润是至今尚未找到埃博拉疫苗的原因之一”。上述指责说明

- ①市场调节不能很好解决公共物品的供给
- ②企业追求利润有利于提高资源利用效率
- ③市场经济条件下经济效益和社会效益之间的对立
- ④市场调节具有自发性、盲目性和滞后性

- A. ①②
- B. ①③
- C. ②④
- D. ③④

16. 2014年12月,国务院常务委员会决定,整合不动产登记职责,建立不动产统一登记制度,由国土资源部负责指导监督全国土地、房屋、草原、林地、海域等不动产统一登记职责,基本做到登记机构、登记簿册、登记依据和信息平台“四统一”。2015年3月1日,《不动产登记暂行条例》开始实施。不动产登记有利于

- ①加强党风廉政建设,提高执政能力
- ②保护权利人的合法财产权
- ③推进国家治理体系和治理能力的现代化
- ④扩大了政府对不动产的管理作用

- A. ①②
- B. ①④
- C. ②③
- D. ③④

新东方 XDF.CN 新东方 XDF.CN 新东方 XDF.CN 新东方 XDF.CN 新东方 XDF.CN 新东方 XDF.CN

17. 民族区域自治制度是我国基本的政治制度，自治权是我国民族区域自治制度的核心内容。下列属于民族自治地方行使自治权的是 **C.** *考点：民族区域自治制度*

①新疆维吾尔自治区高级人民法院开展严厉打击暴力恐怖活动的专项行动 ②湖北省恩施州人大审议《恩施土家族自治州自治条例》 ③湖北省钟祥市九里回族乡政府表彰民族团结先进个人 ④新疆维吾尔地区地税局自主安排使用自治地方的财政收入

A. ①② B. ①③ C. ②④ D. ③④

18. 2014年11月1日，十二届全国人大常委会第十一次会议表决通过决定，将每年的十二月四日定为国家宪法日，同时建立宪法宣誓制度，凡经人大及其常委会选举或者决定任命的国家工作人员正式就职时公开向宪法宣誓。建立宪法宣誓制度

①彰显了我国全面推进依法治国的坚定决心 ②说明全国人大常委会具有质询权和任免权 ③表明遵守宪法和法律是公民的政治性义务 ④有利于让宪法思维内化于国家所有公职人员心中 **B.** *考点：依法治国、公民的权利义务、人大的职权*

A. ①② B. ①④ C. ②③ D. ③④

我国的很多古诗名言警句往往蕴含着深刻的道理。回答19~20题。

19. 清正廉洁乃为官之道。古代思想家孔子就有“以听官府之大计，弊群吏之治。一曰廉善，二曰廉能，三曰廉敬，四曰廉正，五曰廉法，六曰廉辨”的考察官吏政府政绩好坏六条原则。“六廉”理念给政府工作人员的启示是 **C.** *考点：传统文化、思想道德建设*

①要以传统廉政思想为修廉的根本 ②要树立廉洁文化的自觉性 ③要坚守传统的政绩观和价值取向 ④要提高自身思想道德修养

A. ①④ B. ①③ C. ②④ D. ②③



20. 下列名言警句与右图漫画的哲学寓意相一致的是 **C.** *考点：主要矛盾*

A. 旁观者清，当局者迷
B. 和实生物，同则不继
C. 无所不备，无所不寡
D. 兼听则明，偏信则暗

21. 当下一些国民的阅读呈现功利化、实用化等倾向。无论是在实体书店还是网络书店，有关人际关系、升学升职、投资理财、养生保健、家庭教育等实用类书籍往往热销，而文学、哲学、史学等滋养心灵、奠定文化基础的书籍则少有人问津。对这一现象的评价正确的是 **A.** *考点：物质与意识的关系*

①物质决定意识，在阅读过程中适当偏重实用性，具有一定的合理性
②意识具有能动作用，还应选择一些对道德修养有促进作用的书籍
③真理具有客观实在性，人们选择不同的阅读是为了满足需求
④价值判断和选择具有社会历史性，要求人们根据自身需要选择阅读

A. ①② B. ①④ C. ②③ D. ③④

22. 《人民日报》载文指出：全面建成小康社会，全面深化改革，全面依法治国，全面从严治党，构成了有机联系、相互贯通的顶层设计，是中国发展起来之后，更加注重发展和治理系统性、整体性、协同性的必然选择。强调发展和治理系统性、整体性、协同性是因为 **D.** *考点：整体与部分的关系*

①联系观点是唯物辩证法的总特征 ②整体功能总是大于部分功能之和 ③整体居于主导地位，统率着部分 ④系统优化要着眼于事物的整体性

A. ①② B. ②③ C. ①④ D. ③④

23. 习近平在欧美同学会成立100周年庆祝大会上的讲话中说：“希望广大留学人员继承和发扬留学报国的光荣传统，做爱国主义的坚守者和传播者，秉持‘先天下之忧而忧，后天下之乐而乐’的人生理想，始终把国家富强、民族振兴、人民幸福作为努力志向，自觉使个人成功的果实结在爱国主义这颗常青树上。”这表明 **C.** *考点：人生价值的实现*

①社会提供的客观条件决定着人生价值的实现 ②个人对社会发展和人类进步的贡献是评价人生价值的根本尺度 ③爱国主义是个人成功的重要条件和根本保障 ④理想信念影响人生道路的选择

A. ①② B. ①③ C. ②④ D. ③④

24. 班固认为汉初分封以“成太宗(汉文帝)之业”，武帝推恩而致“藩国自析”。西汉末年“中外殫微，本末俱弱”，故王莽“生其奸心”。据此推断班固认为 **A.** *考点：本题考察西汉的治国理念之评价*

A. 汉武帝有削藩过度之嫌 *东汉王莽* B. 分封有利于巩固大一统
C. 太宗时期实现安平四方 D. 外戚专权导致朝野叛乱

25. 理学家王阳明强调“善念存时，即是天理”，“物无善恶”因而无需“为善去恶”。由此判断，王阳明 **A.** *考点：王守仁认为不需要在持“天理”的过程中太过复杂*

A. 反对穷理格物 B. 教人明辨善恶
C. 主张静心无为 D. 阐发禅宗学说

26. 明朝中后期，内阁首辅掌有对谕旨的“封还执奏”之权。至清初，内阁进本拟签，经皇帝定后，由学士照签以朱笔批于本面。这些史实反映出当时 **B.** *考点：指大臣可以拒绝执行，不知自己的身份*

A. 皇帝疏于朝政造成大权旁落
B. 决策过程具有一定制衡色彩
C. 决策制度僵化官员拘泥规制
D. 君主乾纲独断专制达到顶峰

27. 史载，明中期江南某地区“机户出资，机工出力，相依为命”。清朝初年，衙门则对工匠“倡众歇作，另投别户”之行为严加禁止。这一变化反映出当地 **B.** *考点：本题是要搞清楚引申出的意思：加价*

A. 资本主义萌芽已高度发展
B. 工匠群体的斗争意识增强
C. 政府实行积极的抑商政策
D. 私营手工业发展规模扩大

28. 1863年，李鸿章正全力准备进攻苏州的太平军，上海27家洋行联名向他提出，他们愿意出资修筑一条从上海到苏州的铁路，“由此路以扫逆氛，其便捷轻利，莫有过于此者”。材料从侧面反映出当时 **D.** *考点：本题用排除法即可*

A. 列强主动推进中国近代化
B. 清军得以顺利完成剿杀任务
C. 列强对华以资本输出为主
D. 清政府兴办洋务的现实目的

29. 多年来由于各种客观因素,国内史学界及官方对南京大屠杀遇难人数的研究认定存在一定争议。而日本不同派系对此则存在较大差异,并有人认为南京大屠杀有“虚构、夸张”之嫌。这反映了 **D**

- A. 证据充足最终能够还原历史全貌
- B. 日本研究结论全然罔顾史实真相
- C. 遇难人数不明阻碍屠杀事实认定
- D. 立场先行影响学术研究的客观性

解析: 不同的立场看待问题是不同的。

30. 上世纪五十年代末,东北某大学生被分配至山西支援建设。1962年,因政府实施压缩城镇人口的政策重又返回家乡务农。该青年的这一经历可以推断当时 **C**

- A. 高等教育服务农村建设需要
- B. 计划经济决定个人前途命运
- C. 国民经济发展出现较大波动
- D. 左倾错误导致失业现象严重

解析: 左起排除法即可。

31. 屋大维时期,掌握“公开解答权”的民间法士可以按照以往定法的精神对法律作出解释,使之成为新的法律。此举在客观上 **C**

- A. 有利于维护贵族法律特权
- B. 彰显罗马法律的平等精神
- C. 有助于司法独立初步形成
- D. 导致了司法解释的随意性

解析: 司法解释是司法独立的重要条件。

32. 戴高乐曾指出:“1875~1940年我们更换过102届政府,而英国仅更换过20届政府,美国只换过14届。”导致这一差异的历史原因是法国 **D**

- A. 民众民主意识浓厚
- B. 多次卷入对外战争
- C. 国民经济发展滞后
- D. 近代社会矛盾复杂

解析: 法国更换的政府次数多说明政局不稳。

33. 19世纪中叶,“隐私”成为英国中产阶级的重要家居观念。随着住房空间的增大,家庭中的个人独立领域与不同功能的空间开始出现,并强调“仆人必须与主人分开”。这说明当时英国 **C**

- A. 资产阶级强调等级观念
- B. 民生住房得到有效保障
- C. 经济发展影响生活观念
- D. 阶级结构发生显著变化

解析: 本题强调的不是阶级而是生活方式。

34. 图7是二战后苏联某画家创作的一幅漫画,该漫画 **A**

- A. 反映冷战时期意识形态对立
- B. 揭示出欧洲援助计划的本质
- C. 彰显了美国的人道主义精神
- D. 讽刺了苏联的大国沙文主义

解析: 这是一位黑人,不是欧洲人。



图7

35. 丝绸之路、郑和下西洋推动了文化传播与交流,虽然跨越洲际国界,却无法实现全球效应。而戛纳电影节上的一件时装转瞬间即可掀动全球影粉的追捧热潮。这说明 **D**

- A. 大众文化审美的古今差异
- B. 明星效应远大于历史名人
- C. 非物质文化遗产亟待传承
- D. 技术进步推动文化全球化

解析: 本题考察科技对(文化传播)的影响。

第II卷(非选择题 共160分)

本卷包括必考题和选考题两部分。第36~41题为必考题,每个试题考生都必须作答。第42~48题为选考题,考生根据要求作答。

36. (24分)阅读图文资料,完成下列要求。

三峡水库自2003年蓄水以来,入库泥沙量仅为预测的42%。这将导致长江清水下泄,河床下切的力度加大。(3分)

长江水利委员会的泥沙研究成果表明:三峡水库蓄水30年内,在无人干预条件下,长江中下游将发生大量的冲刷,其中藕池口到城陵矶河段河床将平均下切7.4米。图8是长江流域主要水利工程分布示意图。



图8

(1) 简述洞庭湖对长江水量的调节作用。(6分)

考查: 河流的补给方式

- ① 洞庭湖与长江连通,水体可以相互补给。
- ② 丰水期时,江水补给湖水,洞庭湖对长江有削峰作用。
- ③ 枯水期时,湖水补给河水,洞庭湖对长江有补枯作用。

(2) 说明三峡水库入库泥沙量大幅度减少的原因,并分析其对水库及长江中下游的有利影响。(12分)

考查: 水利工程的好处

- 原因: ① 长江上游水利工程密度较大,拦截了大量的泥沙。
② 上游水土保持效果明显,河流含沙量减少。
有利影响: ① 减轻水库泥沙淤积,延长水库使用寿命; ② 减轻河床淤积,降低中下游防洪压力; 提高通航能力; ③ 减缓湖泊萎缩。

(3) 有观点认为清水下泄加剧了长江中下游湖区的旱情,请你为此观点提供论据。(6分)

- ① 清水下泄,河床下切力度加大
- ② 河床加深,水位下降; 湖水的单向补给长江,湖水减少,加剧旱情。

测评编号 姓名 班级 学校

37. (22分) 阅读图文资料, 完成下列要求。

茶叶是斯里兰卡的名片, 该国茶叶出口量居世界第一位, 是其外汇收入的主要来源。茶树适宜生长在降水充沛、年温差小、日温差大、无霜期长、光照适中、排水便利的地区。图9是斯里兰卡的位置及地形示意图。

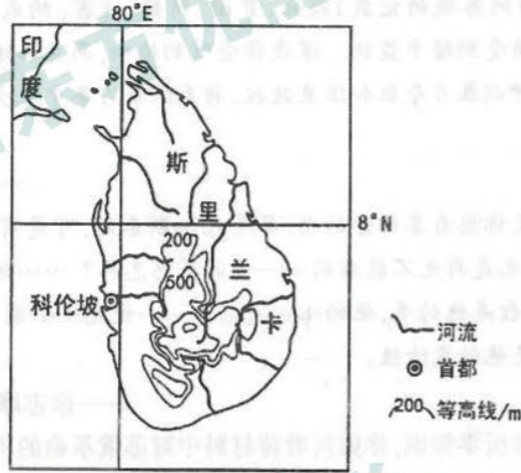


图9

(1) 描述斯里兰卡的地理位置特征。(6分)

考查: 特征描述类
① 岛国 ② 低纬(热带)地区
③ 西北与印度隔海相望, 扼北印度洋要冲, 世界海洋运输的重要枢纽

(2) 推测斯里兰卡茶叶种植的主要地区, 并说明其自然原因。(10分)

考查: 重要区位
① 分布: 中央高地(中部地区)
② 原因: (1) 热量, 水热充足; (2) 纬度低, 海拔高, 年较差小, 日温差大, 光照适中; (3) 丘陵山地, 排水性好。

(3) 说明斯里兰卡大力发展茶叶对外贸易的原因。(6分)

考查: 原因分析类
① 生产条件优越, 品质佳, 产量大
② 市场广阔, 外汇收入主要来源
③ 交通位置重要, 海运便利, 便于出口。

38. (26分) 阅读材料, 完成下列要求。

材料一 在全球经济复苏疲弱, 国内低成本优势削弱, 国际市场大宗商品价格持续下跌的情况下, 我国对外贸易呈现出新的变化: 欧美日传统市场份额下滑, 东盟等新兴市场成为新增长点; 广东、江苏等7省市对外贸易比重下降, 中西部地区贸易活跃; 机电产品以及劳动密集型产品出口稳步增长, 消费品、部分资源产品等进口增长较快; 产业链长、增值率较高的一般贸易进出口增长, 加工贸易进出口比重下滑。我国对外贸易的新变化对企业的发展带来了一定影响, 尤其是“一带一路”构想的提出更是给我国企业发展带来了新的机遇和挑战, 沿线各国资源禀赋各异, 经济互补性较强, 彼此合作潜力和空间很大, 政策沟通、设施联通、贸易畅通、资金融通、民心相通是加强合作的重点。

新变化: 贸易伙伴更趋多元, 贸易区域布局更趋协调, 进出口商品结构进一步优化, 对外贸易自主发展能力不断增强, 说明我国对外贸易进入了稳增长、调结构、提质量、优结构的新常态。

(1) 结合材料, 运用经济生活知识, 概括我国对外贸易呈现的新变化并说明我国企业如何更好地走出去。(14分)

考查: ① 实施“一带一路”战略, 抓住“一带一路”机遇, 加强国际经济合作。
② 调整出口产品结构, 坚持以技术、品牌、质量、服务为核心的出口竞争战略。
③ 提高自主创新能力, 依靠技术进步、管理创新。
④ 增强风险防范意识, 树立安全意识。

材料二 “一带一路”建设秉持的是共商、共建、共享原则, 不是中国一家的独奏, 而是沿线国家的合唱, “一带一路”建设不是要替代现有地区合作机制和倡议, 而是要在已有基础上, 推动沿线国家实现发展战略相互对接、优势互补。但是国际社会对此存在着许多疑虑和误读, 第一担忧会挑战现有区域合作机制。“和平之慕”、“互利共赢”等理念难以让南海国家信服。第二误读了“一带一路”的理念与内涵。有些西方学者认为, “一带一路”构想是中国霸权主义的体现, “一带一路”建设的基础设施投资背后有其他目的。

(2) 结合材料, 运用我国外交政策的相关知识, 回应国际社会对“一带一路”的疑虑和误读。(12分)

考查: ① 国家利益和国家利益决定我国奉行独立自主的和平外交政策, 始信不渝。
② 和平与发展是时代的主题, “一带一路”旨在国家互利共赢。
③ 和平共处五项基本原则是我国外交政策的基石, “一带一路”秉持共商共建共享原则。
④ 维护世界和平促进共同发展是我国外交政策的宗旨。
⑤ 中国是维护世界和平的坚定力量。

39. (26分) 阅读材料, 完成下列要求。

材料一 养生一词, 原出《管子》, 乃保养生命以达长寿之意。中国传统养生文化有着数千年的历史, 在发展过程中融合了自然科学、人文科学和社会科学诸多的因素, 集中华民族数千年养生文化于一身, 以独特的理论体系为基础, 以丰富的临床经验为特点, 汇集了我中国及其它国家历代劳动人民防病健身的众多方法, 糅合了儒、道、佛及诸子百家的思想精华, 在世界传统养生文化中举世无双, 为中华民族的繁衍昌盛和保健事业做出了巨大的贡献。目前, 中国的传统养生文化正以一种前所未有的速度和规模步入了寻常百姓家的生活里, 随处可见。

材料二 健康与长寿一直是人们向往和追求的美好愿望。能否健康长寿, 不仅在于是否懂得养生之道, 而更为重要的是在养生之道的指导下, 学会养生之术, 把养生之道贯彻应用到日常生活中去, 在养生之道和养生之术基础上“因人施养”, 诸如饮食养生、中医养生、心理养生、运动养生、休闲养生等。

(1) 结合材料一, 运用“中华文化的特征”的知识, 说明为什么中国传统养生文化能够步入寻常百姓的生活里。(12分)

考查: ① 中华文化源远流长, 汉字和史书典籍是其重要见证。
② 中华文化博大精深, 表现为独特性、区域性、民族性。
③ 中华文化求同存异, 兼收并蓄, 有其特有的包容性。

(2)结合材料二,运用“事物矛盾问题的精髓”的知识,说明应该如何科学养生。(10分)

矛盾普遍性和特殊性辩证关系原理,是矛盾问题的精髓。
矛盾普遍性和特殊性相统一,是认识矛盾普遍性和特殊性的关键。

(3)结合材料,请你写出两条具有哲理的养生谚语或名言警句。(4分)

生命在于运动。 冬吃萝卜夏吃姜,不用医生开药方。

40.(25分)阅读材料,完成下列要求。

材料一 利玛窦(1552~1610年)是意大利天主教耶稣会的传教士。1582年他来到澳门,通过不断“送礼”,获准到内地传教,利玛窦传教时尊重中国人“祭孔祀祖”的习俗,同时倡导“上帝就是你们所知的天,他曾经启示过你们的孔丘、孟子和许多古昔君王,我们的来到,不是否定你们的圣经贤传,只是提出一些补充而已。”他还与徐光启等人译著了《几何原本》、《乾坤体义》、《同文指算》、《经天该》、《万国舆图》等图书,其中也掺杂了不少宗教神话。他还将中国的《四书》翻译成拉丁文,传到了西方世界。

——摘编自《传教士与近代中国》等

材料二 李提摩太(1845~1919年)出生于英国威尔士卡马登郡。1869年底,25岁的李提摩太牧师如愿地登上了开往中国的轮船。1876年至1878年,历时三年华北旱灾,李提摩太来到山西立即高效率地投入赈灾工作,他把记录灾区景象的日记和呼吁救济的报告设法送回英国。英国人设立了一个救灾捐助基金会,短时间内共募集白银二十万两,约六万英镑。1891年后李提摩太投身到广学会(注:传教士创办的文化出版机构)的工作中,宣传中国需要的政治、经济、法律、工业、交通和社会管理等方面的知识,“首教官员,次教富绅,三教儒士,四教平民”,“如是十数年后,(中国)内不惧民多不能养,外亦不畏各大国之强,势均力敌,内外两患自消”。康有为、梁启超等维新人士都是凭借广学会出版的书籍接受最初的启蒙教育。公车上书时,李提摩太正在北京,康有为慕名来访,把引起轰动の上皇帝请愿书拿给李提摩太看。李提摩太给远方妻子的信中提到:“我吃惊地发现,我曾提出的各项建议几乎都被揉进了请愿书中,并被浓缩在一个绝妙的小小的指南针中。无怪乎他来拜访我,因为我们有这么多共同点。”1902年李提摩太利用庚子赔款建立了山西大学堂。

——摘编自刘伟波《上帝的使者——李提摩太在中国》

(1)根据材料一并结合所学知识,指出利玛窦在华活动的特点并分析其影响。(11分)

特点:主动适应中国国情,尊重中国文化;传教的同时传播了西方文化,做了好事。
影响:加强了东西方文化的交流,促进了科学技术在华传播;儒家学说西传间接影响了西方启蒙思想传播。

(2)根据材料一、二并结合所学知识,评述清朝晚期西方传教士在华活动的主要变化。(14分)

变化:活动领域,范围更加广泛,涉及地方更广,政治变革,地区教育等,传播西方工业文明知识,受众所及广泛;活动成果比较显著。
评:欧美国家逐渐完成工业革命,对外殖民扩张,传教士随之而来;中国被迫开放,允许外国传教;中国近代化的客观需要,扩大了西方宗教在中国的影响;客观上促进了中国的文明转型。

41.(12分)阅读材料,完成下列要求。

材料 俄国式的革命,是无可如何的山穷水尽诸路皆走不通了的一个变计,并不是有更好的方法弃而不采,单要采这个恐怖的方法。

——《毛泽东给肖旭东、蔡林彬并在法诸友信》1920年

(1920年罗素访问苏俄的记载)残酷、贫困、猜疑、迫害,构成了我们生活于其间的气氛。我们的谈话不断受到暗中监视。深夜你会听到枪响,而且知道是唯心主义者在狱中被杀害了。苏联这种以暴力夺取和维持政权、将无限权力集中在少数人手里的共产主义是不可取的。

——罗素 英国哲学家

假如有那么一天你想看某作者的书,算是托尔斯泰的,可是有人告诉你不但他的书再也买不到,你有了书也是再也不能看的——你的感想怎样?……他(列宁)不承认他的思想有错误的机会;铁不仅是他的手,他的心也是的。……他是一个制警句编口号的圣手;他的话里有魔力。这就是他的危险性。

——徐志摩《欧游漫录》1925年

根据材料并结合所学知识,你如何看待材料中对苏俄革命的不同评价。

本题要注意分别概括出两种不同的观点,进行论述,然而再说明原因

请考生在第42、43、44三道地理题中任选一题作答,如果多做,则按所做的第一题计分。

作答时,请把答题卡上所选题目题号后的方框涂黑。

42.(10分)旅游地理

受旅游距离、目的地经济发展水平、经济联系和旅游资源禀赋的影响,入境游客对我国各城市 and 地域的选择偏好有明显的差异。下表是1996~2010年部分入境游客偏好程度居前五位的城市统计。

客源国家	偏好程度居前五位的城市
日本	天津、呼和浩特、大连、上海、南通
韩国	沈阳、长春、青岛、烟台、威海
美国	重庆、福州、南昌、拉萨、西安
法国	承德、太原、大同、洛阳、西安
德国	长春、洛阳、武汉、重庆、拉萨
英国	秦皇岛、承德、武汉、拉萨、西安

对比欧美与日韩游客对我国旅游目的地选择的偏好,并分析其影响因素的差异。

偏好差异:欧美偏好中西部城市;日韩偏好东部城市
影响因素:①欧美受旅游资源禀赋和经济联系影响较大。
②日韩受旅游距离和经济联系影响较大,旅游资源禀赋影响较小。

43. (10分) 自然灾害与防治

2015年第4号台风“美莎克”，于3月31日在菲律宾东偏南大约2190千米的西北太平洋洋面上生成，中心附近最大风力17级以上，中心最低气压905百帕。“美莎克”以每小时20千米左右的速度向西偏北方向移动，菲律宾政府在台风登陆前根据台风强度及预测的路线，对危险地区的居民进行预防性疏散。图10是台风“美莎克”运动路径示意图。

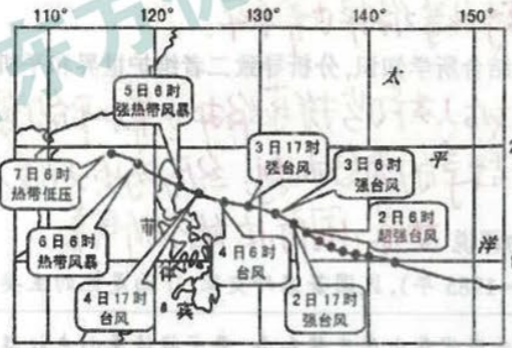


图10

简述台风常形成于菲律宾以东洋面的原因，并为菲律宾政府应对台风“美莎克”提出建议。

原因：①纬度低，气温高；②水域辽阔，水汽充足，气流强烈上升；③地转偏向力，辐合旋转，形成台风。
措施：①加强预报和监测 ②启动预警，提高应急能力

44. (10分) 环境保护

包兰铁路在经过宁夏中卫县沙坡头时，横穿腾格里沙漠南缘，为防御流沙侵袭，科研人员利用麦秸、稻草、芦苇等材料，在铁路沿线流动沙丘上扎设了一条长约16千米的带状沙障，它使得包兰铁路自1958年通车起，一直畅通无阻。图11是包兰铁路及沿线的草方格沙障景观。



图11

简述风沙对该路段铁路的危害，并说明草方格沙障在治理流沙方面的功效。

危害：①风沙堆积，掩埋路基、轨道 ②侵蚀路基 ③加大车胎对钢轨的磨损。
功效：增加地表粗糙程度，削减风力；截留水分，有利于固沙植物存活。

请考生在第45、46、47、48四道历史题中任选一题作答，如果多做，则按所做的第一题计分。作答时，请把答题卡上所选题目号后的方框涂黑。

45. (15分) 历史上的重大改革回眸

材料 兹为改正地税，原有之地地纳贡办法，一律作废；并规定于地契调查完毕后，按土地价格取其百分之三，作为地税。原有地方厅官或各乡各村就地征收之税目，亦一并按照土地价格征收之，但所征金额不得超过地税金额三分之一。……今后对于茶叶烟草等其他商品，均将逐步课征商品税，及至国家商品税岁入超过二百万元时，当按照商品税岁入之比例，于已实施改正之地区，逐步减低地税。

此次改正地税之事，举办非易。因土地情况之不同，改正亦有缓急难易之差别。……原有税法，于地税改正实施之前，继续有效。改正之后五年以内，土地价格因土地买卖而生增减，均按照最初核定之土地价格。

——明治六年《地税改正条例》

(1) 根据材料并结合所学知识，概括指出明治时期地税改革的措施及特点。(9分)

措施：调查土地有情况，政府统一征税标准；限定地税目金额；地税原有商税收入增长而减少。

特点：设置调查；从实际出发；逐步调整，推进。

(2) 根据材料并结合所学知识，分析明治时期地税改革的历史意义。(6分)

废除封建领主地所有制，从法律上确立土地私有制；促进资本主义发展，有利于政府敛财积累；改变了原有的社会结构。

46. (15分) 近代民主思想与实践

材料一 第一条 苏维埃社会主义共和国联盟是工农社会主义国家。
第二条 苏联的政治基础，是由于推翻地主和资本家的政权并争得无产阶级专政，而成长和巩固起来的劳动者代表苏维埃。
第三条 苏联的一切权力属于城乡劳动者，由各级劳动者代表苏维埃实现之。
第四条 苏联的经济基础，是由于消灭资本主义经济体系、废除生产工具与生产资料私有制和消灭人对人的剥削，而确立起来的社会主义经济体系和生产工具与生产资料社会主义所有制。
第五条 苏联的社会主义所有制有两种形式：国家所有制(全民的财产)；合作社—集体农庄所有制(各个集体农庄的和各个合作社的财产)。

——苏维埃社会主义共和国联盟宪法(根本法)1936年

材料二 第一条 中华人民共和国是工人阶级领导的、以工农联盟为基础的人民民主国家。

第二条 中华人民共和国的一切权力属于人民。人民行使权力的机关是全国人民代表大会和地方各级人民代表大会。

第四条 中华人民共和国依靠国家机关和社会力量，通过社会主义工业化和社会主义改造，保证逐步消灭剥削制度，建立社会主义社会。

第五条 中华人民共和国的生产资料所有制现在主要有下列各种：国家所有制，即全民所有制；合作社所有制，即劳动群众集体所有制；个体劳动者所有制；资本家所有制。

——《中华人民共和国宪法》1954年

(1)根据材料一、二并结合所学知识，概括指出中苏两国宪法内容中的相同点。(4分)

都是工农联盟；都实行代议制；都强调社会主义性质。

(2)根据材料一、二并结合所学知识，比较当时中苏两国宪法内容中的不同并简析其原因。(11分)

不同，中国：政权性质是人民民主专政，经济形态为多种所有制并存。苏联：政权性质为工农无产阶级专政；经济形态为社会主义单一公有制。

47. (15分) 20世纪的战争与和平

材料一 第十一条 (一)兹特声明：凡任何战争或战争之威胁，不论其直接影响联盟任何一会员国与否，皆为有关联盟全体之事。联盟应采取适当有效之措施以保持各国间之和平。

第十二条 (一)联盟会员国约定倘联盟会员国间发生争议，势将决裂者，当将此事提交仲裁或依司法解决，或交行政院审查。联盟会员国并约定无论如何，非俟仲裁员裁决或法庭判决或行政院报告后三个月届满以前不得从事战争。

——《国际联盟盟约》1919年

材料二 第二十四条 (一)为保证联合国行动迅速有效起见，各会员国将维持国际和平及安全之主要责任，授予安全理事会，并同意安全理事会于履行此项责任下之职务时，即系代表各会员国。

第三十三条 (一)任何争端之当事国，于争端之继续存在足以危及国际和平与安全之维持时，应尽先以谈判、调查、调停、和解、公断、司法解决、区域机关或区域办法之利用，或各该国自行选择之其他和平方法，求得解决。

第四十一条 安全理事会得决定所应采取武力以外之办法，以实施其决议，并得促请联合国会员国执行此项办法。此项办法得包括经济关系、铁路、海运、航空、邮、电、无线电及其他交通工具之局部或全部停止，以及外交关系之断绝。

第四十二条 安全理事会如认第四十一条所规定之办法为不足或已经证明为不足时，得采取必要之空海陆军行动，以维持或恢复国际和平及安全。此项行动得包括联合国会员国之空海陆军示威、封锁及其他军事举动。

——《联合国宪章》1945年

(1)根据材料一、二并结合所学知识，概括指出《国联盟约》和《联合国宪章》在维护世界和平机制方面的不同点。(8分)

国际联盟：成员国依靠联盟维持和平；提交仲裁法庭或行政院。
联合国：成员国推选安理会；采取政治、司法、经济、外交必要军事手段等维持世界和平。

(2)根据材料一、二并结合所学知识，分析导致二者维护世界和平机制不同的原因。(7分)

国联反映了战后人类似与摸索维持世界和平的想法有些地方不成熟，没有形成制约战争的有力机制；经历两次大战人类对维持和平的认识加深；国际法的不断完善。

48. (15分) 中外历史人物评说

材料 顾维钧(1888-1985年)，民国著名外交家，下面是他的主要外交活动大事年表。

1919年	作为中国政府代表出席巴黎和会，要求将德属山东权益直接交还中国；与日本代表就山东问题进行辩论
1920年	出任国际联盟中国全权代表
1921年	作为中国政府代表出席华盛顿会议，参与山东问题谈判；提出关税自主案等
1931年	九一八事变后代表南京国民政府参与对日外交交涉
1937年	向国联提出申诉书，要求其制止日本的侵略行动
1939年	于国联理事会发表演说，呼吁制止日机在华滥炸暴行，理事会通过援华法案
1945年	参加联合国制宪会议，并率中国代表团首先在《联合国宪章》上签字
1947年	指责雅尔塔密约，重申中国对西沙群岛的主权
1957年	当选海牙国际法庭法官

——摘编自岳谦厚《顾维钧外交思想研究》

(1)根据材料并结合所学知识，概括指出顾维钧外交活动的特点。(6分)

代表中国参与重大国际外交活动；利用国际法捍卫国家主权；做好不同的政府和国际部门。

(2)根据材料并结合所学知识，评价顾维钧外交活动的作用。(9分)

一定程度上维护了国家主权，提高了中国的国际地位，支援了抗日战争，构建了和平的周边环境；推动了近代中国外交事业的发展；限于国家落后，顾维钧许多外交活动的作用非常有限。