

太原市 2014-2015 学年第二学期八年级期末测评试卷分析

初二地理

本试卷为闭卷笔答，答题时间 45 分钟，满分 50 分

(考试时间：下午 2:40—4:30)

注意事项：

1. 本试卷分第 I 卷（选择题）和第 II 卷（非选择题）两部分。
2. 回答第 I 卷前，考生务必将自己的姓名、学校、年级和联系方式涂写在答题卡上。
3. 回答第 I 卷时，选出每小题答案后，用 2B 铅笔把对应题目的答案标号涂黑。如需改动，用橡皮擦干净后，再选涂其他答案标号。写在本试卷上无效。
4. 回答第 II 卷时，将答案写在答题卡相应位置上。写在本试卷上无效。
5. 考试结束后，将本试卷和答题卡一并交回。

第 I 卷（选择题共 20 分）

注意事项：

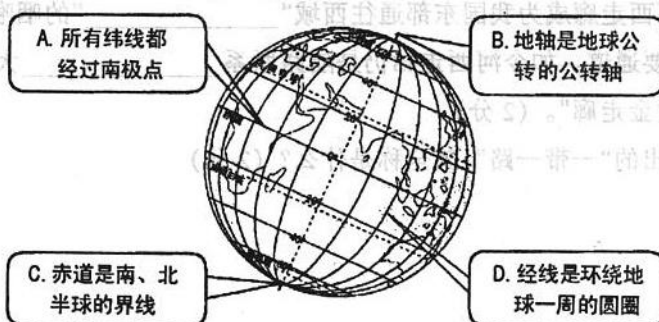
1. 答第 I 卷前，考生务必用 0.5 毫米黑色字迹的中性笔将所需填写的内容填在答题卡上。
2. 每小题选出答案后，请将答案填涂在答题卡上，答案写在试题卷上无效。

一、选择题（下列各题的选项中，只有一个符合题目要求，将正确答案填入表中相应的位置。每小题 2 分，共 20 分）

题号	1	2	3	4	5	6	7	8	9	10
答案	C	D	C	B	A	D	B	A	C	B

地球仪作为地球模型，是我们学习地理的工具。据此，完成 1、2 题。

1. 图中对地球仪上相关的点、线的描述，正确的是



解析：考查地球基本知识。

注意经线是过南北极点的，而纬线是环绕地球一周的圆圈，地轴是地球自转的自转轴，故选择 C。

2. 假设某人乘船环绕地球一周，航程线路最短的大洋是

- A. 太平洋 B. 大西洋 C. 印度洋 D. 北冰洋

解析：考查四大洋面积的大小。

根据题中要航线最短，所以应该经过面积最小的大洋，四大洋面积由大到小依次是太平洋、大西洋、印度洋、北冰洋，故选择 D

3. 亚洲大部分河流顺地势呈放射状向四周分流，说明亚洲的地势特征是

- A. 中间低，四周高 B. 西高东低
C. 中间高，四周低 D. 南高北低

解析：考查地势与河流流向的关系。

因为河流的流向是由中间向四周分流，所以亚洲的地势是中间高，四周低。故选择 C

4. 张老师假期去美国旅游，开学后向同学们描述：“我在太平洋群岛上游玩，到处可见美丽的热带海岛风光……”，你认为该景点位于美国的

- A. 阿拉斯加 B. 夏威夷 C. 旧金山 D. 洛杉矶

解析：考查不同地区的自然风貌。

根据题中所描述是热带海岛风光，所以满足条件只有夏威夷。故选择 B

5. 今年是世界反法西斯战争胜利 70 周年，5 月 9 日现代史上规模宏大的阅兵仪式在俄罗斯举行。俄罗斯是世界上

- A. 面积最大的国家 B. 经济最发达的国家
C. 人口最大的国家 D. 地跨欧、非两大洲的国家

解析：考查俄罗斯的基本概况。

经济最发达的国家是美国，故 B 错，人口最多的国家是中国，故 C 错，俄罗斯是地跨欧、亚两大洲的国家，故 D 错，所以选择 A

6. 西双版纳享有“动植物王国”的美誉。下列动植物主要分布在西双版纳的是

- A. 大熊猫，竹子 B. 袋鼠，杨树 C. 长颈鹿，柳树 D. 孔雀，榕树

解析：不同地区的动植物分布。

大熊猫主要分布在四川，陕西，甘肃等地，故 A 错，袋鼠主要分布在澳大利亚地区，故 B 错误，长颈鹿主要分布在非洲大陆上，故 C 错误，所以选择 D

7. “一碗水，半碗泥”描述的河流是

- A. 长江 B. 黄河 C. 珠江 D. 海河

解析：考查我国四大河的特征。

根据题中描述“一碗水，半碗泥”，说明此河的泥沙含量高，故选择 B

8. 我国分布着大面积肥沃黑土的地区是

A. 东北平原 B. 长江中下游平原 C. 华北平原 D. 四川盆地

解析: 考查我国黑土的分布区。

黑土主要分布在我国的东北地区, 长江中下游平原主要分布着红壤, 华北平原主要分布着盐碱土, 四川盆地主要分布着紫土, 故选择 A

9. 晋陕蒙接壤地区分布着我国及世界上罕见的特大煤田, 被称为“黑三角”或“乌金三角”, 其中储量最大的是
A. 陕西省 B. 内蒙古自治区 C. 山西省 D. 宁夏回族自治区

解析: 考查煤炭的分布区。

我国煤炭主要分布在陕西省, 内蒙古, 山西省, 其中山西省的储量最大, 题目中要求的是储量最大的地区, 故选择 C

10. 近些年, 太原市周边地区出现许多蔬菜大棚, 影响其发展的最主要的因素是
A. 气候 B. 科技 C. 地形 D. 水源

解析: 考查影响农业发展的因素。

根据题目中要发展的是蔬菜大棚业, 属于新型农业, 对科技水平要求较高, 故选择 B。

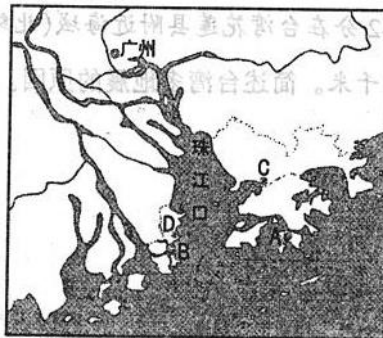
第II卷 (非选择题共 30 分)

注意事项:

1. 用 0.5 毫米黑色字迹的中性笔答在答题卡上。
2. 答卷前将密封线内项目填写清楚, 答案写在试题卷上无效。

二、综合题 (共 30 分)

11. 读“香港、澳门示意图”, 完成下列各题。(6 分)



(1) 写出图中字母所代表的地理事物的名称 (4 分)

特别行政区: A _____ B _____ 城市: C _____ D _____

解析: 考查香港澳门周边地理事物的分布位置。

答案: A 香港 B 澳门 C 深圳 D 珠海 (各一分)

(2) 说出香港和澳门与祖国内地经济联系的优势条件。(2 分)

解析：考查影响香港澳门与内地的联系的经济条件。

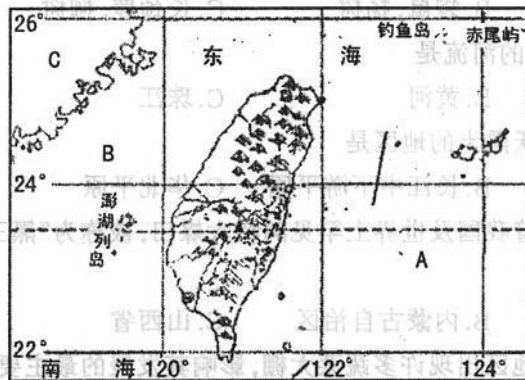
答案：雄厚的资金（1分）；先进的技术（1分）；高素质的人才（1分）等（答出两点即可得2分）

12. 请你绘制所在学校的简易平面图。（4分）

解析：考查平面图的绘制。

答案：注意绘图时要标明比例尺，图例，注记，方向。

13. 读“台湾示意图”，完成下列各题。（10分）



(1) 写出图中字母所代表的地理事物的名称。（3分）

大洋：A _____ 海峡：B _____ 省（区）：C _____

解析：考查台湾周边的地理事物的分布位置。

答案：A 太平洋 B 台湾海峡 C 福建（各一分）

(2) 自古以来，台湾就是我国领土不可分割的一部分，台湾绝大部分居民都是从_____和_____迁移去的。（2分）

解析：考查迁入台湾的地区。

答案：福建（1分），广东（1分）

(3) 2015年4月20日9时42分在台湾花莲县附近海域（北纬24.0度，东经122.5度）发生6.4级地震，震源深度7千米。简述台湾多地震的原因

解析：考查地震的形成原因。

答案：位于亚欧板块与太平洋板块的交界地带（或环太平洋火山地震带）（2分）

(4) 根据下列四名同学对台湾的描述，你认为学习某区域自然地理特征应从哪些方面考虑？（3分）

小红：北回归线横穿台湾南部地区

小玲：台湾地形以山地和丘陵为主

小刚：台湾属于亚热带、热带季风气候

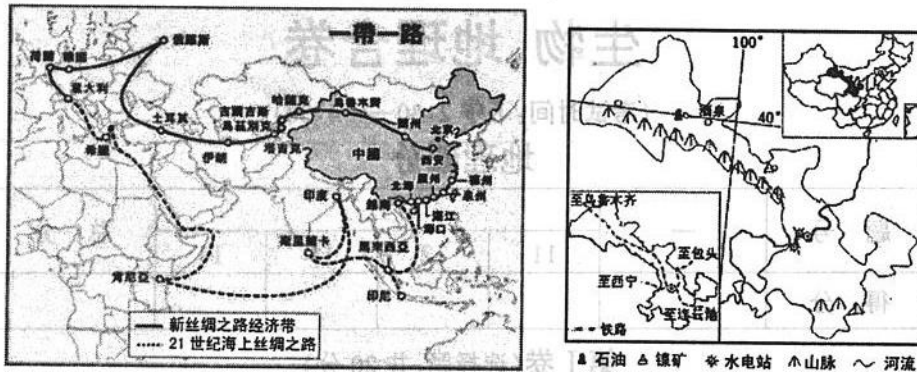
小明：台湾山势陡峻，河流短而水流急

解析：考查区域的自然区位因素。

答案：地理位置；地形；气候；河流等（答出3点即可）若具体回答成台湾地区的自然地理特征也可。

14. 阅读图文资料，完成下列要求。（10分）

材料一：“一带一路，河西走廊示意图”



材料二：习近平总书记于2013年9月和10月分别提出建设“新丝绸之路经济带”和“21世纪海上丝绸之路”，这一跨越时空的伟大战略构想，从历史深处走来，融通古今、连接中外，顺应和平发展、合作共赢的时代潮流，承载着丝绸之路沿途各国发展繁荣的梦想，赋予古丝绸之路以崭新的时代内涵。

(1) 在右图中用2B铅笔或碳素笔描出甘肃省的大致轮廓。（1分）

解析：考查对省区轮廓的描绘。

答案：注意描绘时要细致，不能有遗漏（1分）

(2) 汉唐以来，河西走廊成为我国东部通往西域的“_____”的咽喉要道，是东西方文化交流的重要通道。如今河西走廊仍是陆地联系_____大陆、沟通太平洋和大西洋的“黄金走廊”。（2分）

解析：考查河西走廊的意义。

答案：丝绸之路（1分） 亚欧大陆（1分）

(3) 习总书记提出的“一带一路”，其全称是什么？（2分）

解析：考查“一带一路”的全称。

答案：“新丝绸之路经济带”（1分） “21世纪海上丝绸之路”（1分）

(4) “一带一路”联系了哪些大洲？（3分）

解析：考查“一带一路”联系的大洲。

答案：亚洲（1分） 欧洲（1分） 非洲（1分）

(5) 简要分析河西走廊成为东西方交通要道的主要自然原因。（2分）

解析：考查河西走廊交通位置优越的自然因素。

答案：河西走廊南北两侧为山地，中间为平地；（1分）

祁连山冰雪融水提供了宝贵的水资源等；（1分）

更多的真题下载地址：<http://ty.xdf.cn>

咨询电话：0351-3782999