

太原市 2014-2015 第二学期七年级期末测评试卷

初一地理

本试卷为闭卷笔答，答题时间 90 分钟，满分 100 分

(考试时间：上午 10:00—11:30)

注意事项：

1. 本试卷分第 I 卷（选择题）和第 II 卷（非选择题）两部分。
2. 回答第 I 卷前，考生务必将自己的姓名、学校、年级和联系方式涂写在答题卡上。
3. 回答第 I 卷时，选出每小题答案后，用 2B 铅笔把对应题目的答案标号涂黑。如需改动，用橡皮擦干净后，再选涂其他答案标号。写在本试卷上无效。
4. 回答第 II 卷时，将答案写在答题卡相应位置上。写在本试卷上无效。
5. 考试结束后，将本试卷和答题卡一并交回。

第 I 卷（选择题共 30 分）

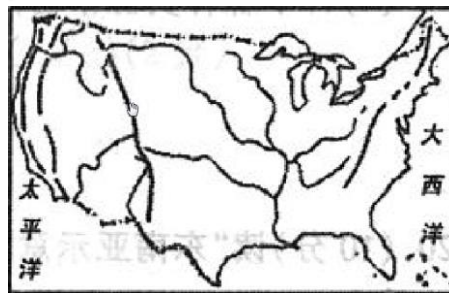
注意事项：

1. 答第 I 卷前，考生务必用 0.5 毫米黑色字迹的中性笔将所需填写的内容填在答题卡上。
2. 每小题选出答案后，请将答案填涂在答题卡上，答案写在试题卷上无效。

一、选择题（每小题 2 分，共 30 分。将每小题的正确选项填入下表中）

题号	1	2	3	4	5	6	7	8	9	10	11	12	13	14	15
选项	D	B	C	A	C	B	D	C	A	C	D	A	A	B	D

1. 美国全称“美利坚合众国”，陆地面积居世界



- A. 第一位 B. 第二位 C. 第三位 D. 第四位

美国面积 930 万平方千米，居世界第四位。

2. 美国是个移民国家，其原住居民是

- A. 犹太人 B. 印第安人 C. 印度人 D. 阿拉伯人

美国土著人口主要为印第安人。

3. 美国最大的工商业中心和港口是

- A. 华盛顿 B. 底特律 C. 纽约 D. 芝加哥

考查纽约的城市职能。

4. 非洲人口最多的国家是

- A. 尼日利亚 B. 埃及 C. 索马里 D. 南非

尼日利亚是非洲唯一人口超过一亿的国家。

5. 尼日利亚是非洲的经济大国之一，被称为

- A. “黄金之国” B. “石油王国”
C. “西非经济巨人” D. “铜矿之国”

考查尼日利亚的美称。

6. 亚洲是世界上季风气候最典型的地区，主要分布在

- A. 西部和北部 B. 东部和南部 C. 西部和南部 D. 东部和中部

考查亚洲季风气候的分布区。

7. 亚洲各国经济发展水平差异很大，其中

- A. 大部分是发达国家 B. 印度人口居世界首位
C. 南亚国家石油丰富 D. 日本属于发达国家

日本经济发达，是亚洲的发达国家。

8. 西亚阿拉伯人喜欢穿白色长袍，主要是因为当地气候

- A. 高温多雨 B. 温暖湿润 C. 炎热干燥 D. 寒冷干燥

西亚多为热带沙漠气候，终年炎热干燥。

9. 世界上面积最大的沙漠是

- A. 撒哈拉沙漠 B. 塔克拉玛干沙漠
C. 卡拉哈里沙漠 D. 维多利亚大沙漠

撒哈拉沙漠是世界面积最大的沙漠。

10. 世界上温带海洋性气候分布最广的地区是

- A. 极地地区 B. 西亚 C. 欧洲西部 D. 东南亚

温带海洋性气候分布在南北纬 40-60 度大陆西岸，以欧洲西部最为典型。

11. 世界上最大的三角洲是

- A. 尼罗河三角洲 B. 长江三角洲 C. 密西西比河三角洲 D. 恒河三角洲

恒河三角洲是世界最大的三角洲。

12. 印度以热带季风气候为主, 其对农业生产的不利影响主要表现在

- A. 干旱洪涝 B. 滑坡 C. 火山喷发 D. 泥石流

南亚为热带季风气候, 分明显的旱雨两季, 故干旱洪涝较为严重。

13. 印度是世界上第二软件大国, 信息技术中心是

- A. 班加罗尔 B. 新德里 C. 加尔各答 D. 孟买

班加罗尔是印度的信息技术中心。

14. 下列动物主要生活在极地地区的是



B. 企鹅主要生存于南极地区。

15. 亚洲“寒暑并存, 干湿同在”, 气候类型复杂多样。造成这种气候特征的主要原因是

- A. 亚洲处在东半球 B. 亚洲大部分处在高纬度地区
C. 亚洲四面濒临海洋 D. 亚洲纬度跨度大, 东西距离长

亚洲面积较大, 南北纬度跨度大, 东西距离长, 气候类型复杂多样。

第II卷(非选择题共70分)

注意事项:

1. 用0.5毫米黑色字迹的中性笔答在答题卡上。
2. 答卷前将密封线内项目填写清楚, 答案写在试题卷上无效。

二、连线题(共10分)

16. (5分) 请将下列地区与相应的叙述用直线连接起来。

- | | |
|------------|--------------|
| A. 东南亚 | ①世界的石油宝库 |
| B. 西亚 | ②黑种人的故乡 |
| C. 撒哈拉以南非洲 | ③两洲两洋的“十字路口” |
| D. 欧洲西部 | ④冰封雪裹的世界 |
| E. 极地地区 | ⑤发达国家最集中的区域 |

A—③ B—① C—② D—⑤ E—④

17. (5分) 请将下列国家与其首都用直线连接起来。

- | | |
|---------|------|
| A. 俄罗斯 | ①新德里 |
| B. 印度 | ②莫斯科 |
| C. 日本 | ③华盛顿 |
| D. 尼日利亚 | ④东京 |
| E. 美国 | ⑤阿布贾 |

A—② B—① C—④ D—⑤ E—③

三、读图分析题 (共 45 分)

18. (15 分) 读“巴西示意图及相关图片”, 完成下列各题。



(1) 在图中相应位置标出横穿巴西南部重要纬线的名称。(1 分)

(2) 写出图中字母代表的地理事物的名称。(3 分)

大洋: A _____ 河流: B _____ 首都: C _____

(3) 巴西高原是世界上面积最大的高原, 大部分属于 _____ 气候, 其最为独特的树木是 _____ 树; 亚马逊平原终年高温多雨, 大部分属于热带雨林气候, 分布着世界上最茂密的 _____。(3 分)

(4) 巴西热带经济作物品种繁多, 其中产量居世界第一位的是 () (2 分)

- A. 大豆、香蕉、咖啡 B. 橡胶、葡萄、油菜
C. 咖啡、甘蔗、柑橘 D. 茶叶、棉花、甜菜

(5) 简析巴西工业集中分布在东南沿海的原因。(3 分)

(6) 你对巴西还有哪些了解, 请举例说明。(3 分)

【答案】: (1) 南回归线 (或 $23.5^{\circ} S$) (1 分)

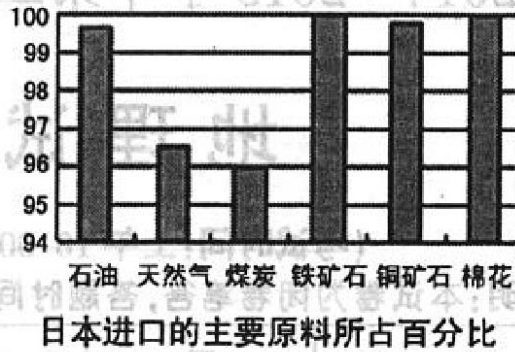
(2) 大西洋 亚马孙河 巴西利亚 (3 分)

(3) 热带草原 纺锤 热带雨林 (3 分)

(4) C (2 分)

(5) 矿产资源丰富; 人口密集, 劳动力资源充足; 市场广阔; 临海, 交通便利; 经济作物品种繁多, 物产丰富等 (答出三点即可得 3 分)

19. (10 分) 读“日本示意图及相关信息”, 完成下列各题。



(1) 写出图中字母所代表的地理事物的名称。(3分)

大洋: A _____ 海域: B _____ 岛屿: C _____

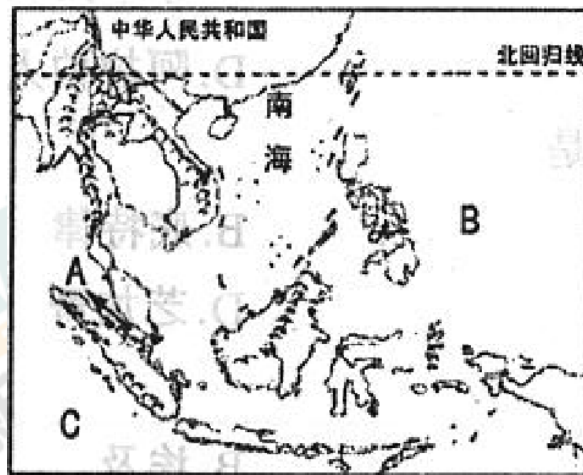
(2) 日本领土主要由四大岛组成, 其中面积最大的岛屿是 _____, 分布着著名的活火山 _____。(2分)

(3) 从“日本进口的主要原料所占百分比”图中可以看出, 日本是原、燃料 _____ 的国家, 工业区集中分布在 _____ 沿岸与 _____ 沿岸的狭长地带。(3分)

(4) 日本森林资源丰富, 为什么还要大量进口木材。(2分)

【答案】: (1) 太平洋 日本海 北海道 (3分)
 (2) 本州 富士山 (2分)
 (3) 贫乏 太平洋 濑户内海 (3分)
 (4) 日本国民的环保、可持续发展意识强; 木材需求量大等 (2分)

20. (10分) 读“东南亚示意图”, 完成下列各题。



(1) 写出图中字母所代表的地理事物的名称。(3分)

海洋: A _____ 大洋: B _____ C _____

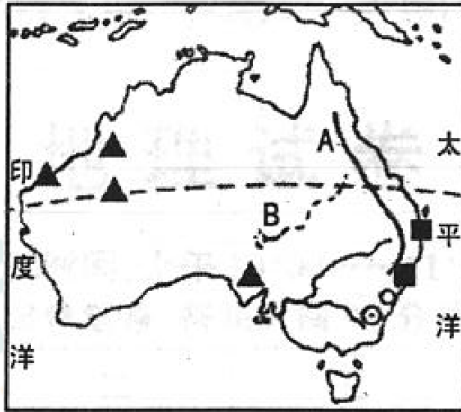
(2) A 海峡位于东南亚“十字路口”的“咽喉”, 地处 _____ 半岛和苏门答腊岛之间, 战略地位非常重要。东南亚最长的国际性河流是 _____。(2分)

(3) 东南亚是世界上华人和华侨分布最为集中的地区, 他们祖籍主要是我国的 _____ 和 _____ 两省。(2分)

(4) 东南亚物产富饶, 你知道东南亚游哪些著名的物产? (3分)

- 【答案】：**(1) 马六甲海峡 太平洋 印度洋 (3分)
 (2) 马来 湄公河 (2分)
 (3) 广东 福建 (2分)
 (4) 橡胶；油棕；椰子；蕉麻；稻米等 (答出三点即可得3分)

21. (10分) 读“澳大利亚示意图”，完成下列各题。



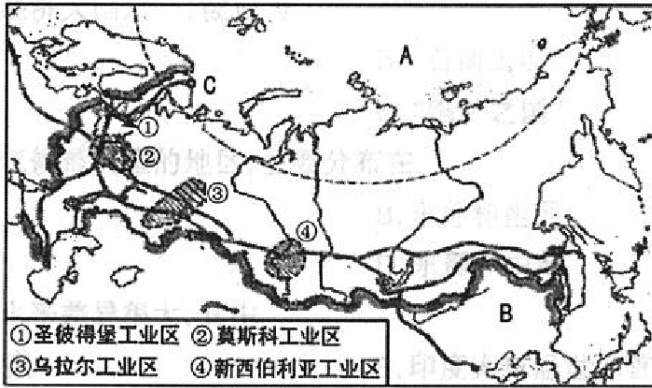
- (1) 在图中相应位置标出横穿澳大利亚中部重要纬线的名称。(1分)
 (2) 写出图中字母代表的地理事物的名称。(2分)
 山脉：A _____ 盆地：B _____
 (3) 澳大利亚地处热带、亚热带，有广阔的自然牧场，养羊业发展最早，是世界上_____生产和输出最多的国家，被称为“_____”的国家；其矿产资源也十分丰富，采矿业是传统工业部门，又被称为“_____”的国家。(3分)
 (4) 澳大利亚的动物具有明显的古老性和独特性，代表性动物有 () (2分)
 A. 北极熊、鸸鹋 B. 考拉、老虎
 C. 鸭嘴兽、狮子 D. 袋鼠、鸭嘴兽
 (5) 简析中国人喜欢春节期间去澳大利亚旅游的原因。(2分)

- 【答案】：**(1) 南回归线 (或 23.5° S) (1分)
 (2) 大分水岭 大自流盆地 (或澳大利亚盆地) (2分)
 (3) 羊毛 骑在羊背上 坐在矿车上 (3分)
 (4) D (2分)
 (5) 澳大利亚位于南半球；我国春节期间正值澳大利亚夏季，温暖舒适等 (2分)

四、材料分析题 (共 15 分)

22. (15分) 阅读图文资料，完成下列各题。

材料一 “俄罗斯示意图”



材料二 2015年莫斯科时间5月9日10时（北京时间9日15时），在俄罗斯首都莫斯科红场举行盛大阅兵仪式，纪念反法西斯战争胜利70周年暨苏联卫国战争胜利70周年。这是俄罗斯现代史上规模最大的阅兵式，参加人数和军事装备创最大规模纪录。中国人民解放军仪仗队也走过红场接受检阅，表明中国人民与世界各国人民共同捍卫二战胜利成果、并肩维护世界和平安宁的坚定立场，同时也彰显了同盟国在二战中联合作战、英勇杀敌的崇高精神。

- (1) 在图中相应位置标出横穿俄罗斯北部重要纬线的名称。（1分）
 - (2) 写出图中字母代表的地理事物的名称。（3分）
- 大洋：A _____ 邻国：B _____ 城市：C _____
- (3) 俄罗斯地跨欧洲和 _____ 洲，领土面积居世界 _____，其亚洲部分与我国北部接壤，北京时间比莫斯科时间 _____（早或晚）。（3分）
 - (4) 俄罗斯基础工业雄厚，部门齐全，其中居世界领先水平的是核工业和 _____ 工业，而 _____ 工业比较落后。（2分）
 - (5) 写出俄罗斯主要工业区的名称。（4分）
 - (6) 简析俄罗斯北部地区农作物分布较少的原因。（2分）

【答案】：（1）北极圈（或 66.5° N）（1分）
 （2）北冰洋 中国 摩尔曼斯克（3分）
 （3）亚 第一 早（3分）
 （4）航天 民用（2分）
 （5）圣彼得堡工业区；莫斯科工业区；乌拉尔工业区；新西伯利亚工业区（4分）
 （6）纬度高，气候寒冷（2分）

附：奖励题（3分）

23. 读“英国示意图”，完成下列各题。



- (1) 英国位于_____半球（北或南）和_____半球（东或西）。（2分）
(2) 说明英国老工业城市分布于煤矿区的关系。（1分）

【答案】：（1）北 东（2分）
（2）靠近煤矿区（1分）

更多的真题下载地址：<http://ty.xdf.cn>

咨询电话：0351-3782999