

太原市 2015~2016 学年第一学期七年级期末考试

地理试卷

本试卷为闭卷笔答，答题时间 90 分钟，满分 100 分。

(考试时间：上午 2:30—4:00)

题号	一	二	三	四	总分
得分					

一、选择题（下列各题的选项中，只有一项符合题目要求，请将正确选项的字母填入下表相应的位置。每题 2 分，共 30 分）

本卷共 35 小题，每小题 4 分，共 140 分。在每小题列出的四个选项中，只有一项符合题目要求。

题号	1	2	3	4	5	6	7	8	9	10	11	12	13	14	15
选项	C	B	A	D	C	A	A	C	D	B	B	B	C	A	D

1.右图中的城市环境遭受的污染属于



- A.大气污染 B.光污染 C.噪声污染 D.水污染

本题考查城市环境污染中的噪声污染。图中所示为飞机起飞带来的巨大噪声，给人们生活带来困扰。

2.下列天气符号与生产生活搭配正确的是

- A. 出海捕鱼 B. 春游踏青 C. 室外锻炼 D. 树下站立

本题考查天气符号。A 选项符号代表台风，台风天气不宜出海；B 选项代表晴，晴天适宜外出踏青；C 选项代表沙尘暴，多扬尘不宜外出锻炼；D 选项代表雷阵雨，不宜站在树下。

3.下列被列入世界文化遗产的聚落，属于意大利的是

- A.威尼斯城 B.丽江古城 C.巴西利亚 D.平遥古城

本题考查聚落的发展与保护。属于意大利的世界文化遗产为威尼斯城，丽江古城和平遥古城都属于中国的世界文化遗产，巴西利亚是巴西的世界文化遗产。

4.下列人类活动有利于保护文化遗产的是

- A.在天龙山石窟上刻“某某到此一游” B.商贩在晋祠设置烧烤摊点
C.在平遥古城修建高大的现代建筑物 D.蒙山景区倡导游客垃圾入箱

本题考查文化遗产的发展与保护。A、B均为不文明的旅游行为，C选项在平遥古城修建高大的现代建筑物破坏了文化遗产的整体性。

5.划分世界三大人种的主要依据是

- A.宗教信仰 B.居住环境 C.体质特征 D.语言文字

本题考查三大人种及其特征判别。世界上不同的人种，其肤色、毛发、面部等体质特征不同，根据人类体质方面的特征，划分为三个主要的人种。

6.生活在北极圈附近的因纽特人属于

- A.黄色人种 B.白色人种 C.混血人种 D.黑色人种

本题考查世界的人种及其分布。因纽特人皮肤为黄色，毛发黑而直，为黄种人。

7.“早穿皮袄午穿纱，围着火炉吃西瓜”反映了该地

- A.气温日较差大 B.气温日较差小
C.气温年较差大 D.气温年较差小

本题考查影响气候的主要因素。该地为我国的西北地区，地表以沙漠为主比热容较小，受热升温较快，受冷降温较快，因此气温的日较差大。

8.某气象站在一天的2时、8时、14时、20时，测得的气温依次是18℃、24℃、35℃、27℃，该地当日平均气温是

- A.24℃ B.25℃ C.26℃ D.27℃

本题考查平均气温的计算。该地当日的平均气温为： $(18+24+35+27) \div 4=26^{\circ}\text{C}$ 。

9.下列地理现象与主要影响因素搭配正确的是

- A.五台山是出名的避暑胜地—距海近
B.黑龙江省冬季漫长而寒冷—纬度低

C.乞拉朋齐被称为地球“雨极”—纬度高

D.乞力马扎罗山形成“赤道雪山”—海拔高

本题考查影响气候的主要因素。五台山气温低，是因其海拔高；黑龙江省因纬度高而冬季漫长且寒冷；乞拉朋齐降水丰富，因其处于山地迎风坡降水丰富；乞力马扎罗山因海拔高而形成“赤道雪山”。

10.世界上使用人数最多的语言是

A.英语 B.汉语 C.俄语 D.阿拉伯语

本题考查世界语言的使用与分布。世界上人数最多的种族是汉族，因此使用人数最多的是汉语。

11.下列地理现象能说明地球自转的是

A.寒来暑往 B.日出日落
C.阴晴变化 D.登高望远

本题考查地球自转与昼夜更替。日出日落反映昼夜更替；寒来暑往反映地球公转带来的季节变化；阴晴变化反映天气变化；登高望远反映海拔高度的变化。

12.0°经线又叫本初子午线，它是

A.东、西半球的界限 B.东经与西经的界限
C.南、北半球的界限 D.北纬与南纬的界限

本题考查地球的经线分布规律。0°经线又叫本初子午线，是计算经度的起始线。从本初子午线向东、向西各划分为180°，以东为东经，以西为西经。南、北半球、北纬与南纬的界限均为赤道；东、西半球的界限为西经20°和东经160°。

13.南、北美洲之间的分界线是

A.苏伊士运河 B.土耳其海峡
C.巴拿马运河 D.马六甲海峡

本题考查七大洲的分界线。巴拿马运河是南北美洲的分界线；苏伊士运河是亚洲和欧洲的分界线；土耳其海峡是欧洲和亚洲的分界线；马六甲海峡位于马来半岛和苏门答腊岛之间，属于亚洲。

14.20世纪60年代，随着科学技术的发展，科学家发现

A.板块交界地带比较活跃 B.地球表层是由七大板块组成
C.板块内部比较活跃 D.地球表层是完整的一个圈层

本题考查板块运动。20世纪60年代，随着科学技术的发展，科学家发现地球的岩石表层不是完整的一个圈层，而是由六大板块组成。板块内部一般比较完整稳定，板块与板块交界地带，地壳活动比较活跃，容易引发火山与地震。

15.“元旦”期间, 太阳直射点的位置是

- A. 位于北回归线 B. 由北向南运动
C. 位于南回归线 D. 由南向北运动

本题考查地球运动与太阳直射点位置。“元旦”期间, 太阳直射点由南回归线向赤道由南向北运动。

二. 连线题 (共 10 分)

16. 将世界三大宗教预期叙述及代表性建筑分别用直线连接起来 (6 分)

- A. 世界上信仰人数最多的宗教 ① 佛教 a. 寺庙
B. 教徒称为“穆斯林”的宗教 ② 基督教 b. 清真寺
C. 诞生于古印度的宗教 ③ 伊斯兰教 c. 教堂

【答案】: (6 分, 每连对一处得 1 分) A-②-c; B-③-b; C-①-a

17. 将下列叙述与对应的时间用直线连接起来 (4 分)

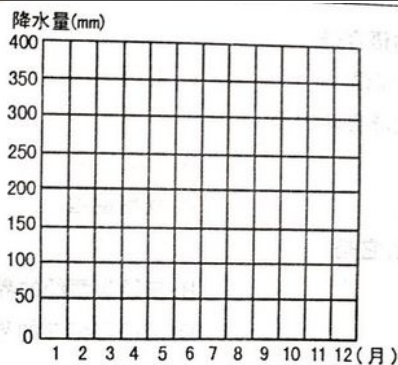
A. 一天中, 气温最高的时间	B. 一天中, 气温最低的时间	C. 一年中, 北半球陆地气温最高的月份	D. 一年中, 北半球陆地气温最低的月份
① 1 月	② 午后 2 点左右	③ 日出前后	④ 7 月

【答案】: (4 分, 每连对一处得 1 分) A-②; B-③; C-④; D-①

三、读图分析题 (共 45 分)

18. 根据太原市年降水量资料, 完成下列各题。 (15 分)

月份	1	2	3	4	5	6	7	8	9	10	11	12
降水量 (mm)	2.8	5.2	9.5	21.5	26.5	60.7	113.7	125.4	57.5	26.4	11.1	2.2



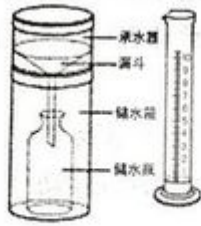
(1) 根据表格资料, 绘制太原市降水量柱状图。 (2 分)

(2) 太原市年降水量约_____毫米。其中降水量最多的是_____月, 约为_____毫米; 降水量最少的是_____月, 约为_____毫米。


(3) 降水量的测量装置是 () (2 分)



A. 百叶箱



B. 雨量器与量杯



C. 风速风向仪



D. 气压计

(4) 一个地方降水量的多少，通常是指该地的 () (2分)

- A. 日降水量 B. 当年的年降水量
C. 月降水量 **D. 多年平均降水量**

(5) 太原市降水季节变得特点是 () (2分)

- A. 夏秋多，冬春少** B. 全年多雨
C. 夏秋少，冬春多 D. 全年少雨

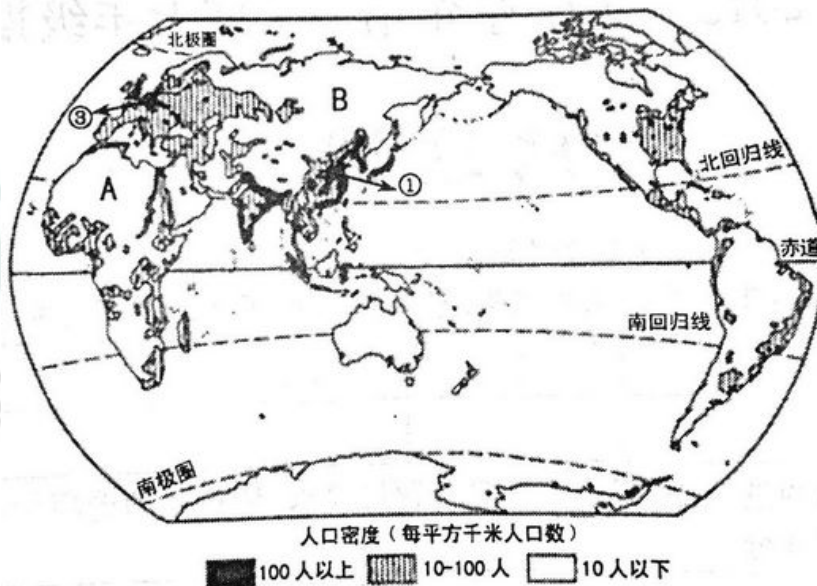
(6) 请举例说明降水与人们生产生活的关系。(2分)

【答案】： (1) 略 (2分) (2) 460 8 125.4 12 2.2 (5分)

(3) B (2分) (4) D (2分) (5) A (2分)

(6) 降水丰富，河湖水量充足，利于农作物生长；适度降水有利于净化空气；降水过少容易发生干旱；河湖干涸；土地龟裂；农业减产；生产生活用水紧张；降水过多容易引发洪涝；暴雪影响出行，导致牧民受灾；适度降雪有利于春播，改善空气质量；冰雹导致农业减产 (答出两点即可得 2分)

19. 读“世界人口分布图”，完成下列各题。(15分)



(1) 将下列世界人口稠密地区的②、④代号标在图中相应位置。(2分)

- ① 亚洲东部 ② 亚洲南部 ③ 欧洲 ④ 北美洲东部

(2) 世界人口分布有的地区稠密, 有的地区稀疏, 分布的特点是: _____。一般来说, 人口稠密地区的自然条件_____, 人口稀疏地区的自然条件_____。(3分)

(3) 人口密度能够准确反映 () (2分)

- A. 民族数量 B. 人口增长的速度
C. 人口数量 D. 人口分布的疏密


(4) 图中 A 地区的人口密度为 () (2分)

- A. 200 人/平方千米 B. <10 人/平方千米
C. 10-100 人/平方千米 D. >100 人/平方千米

(5) 图中 B 地区人口稀少的主要原因是 () (2分)

- A. 空气稀薄 B. 环境湿热 C. 气候寒冷 D. 终年高温

(6) 甲、乙两幅漫画反映了一定的人口问题, 请你分别说出由于人口增长过快、过慢还会带来哪些问题? (4分)



【答案】: (1) 略 (2分)

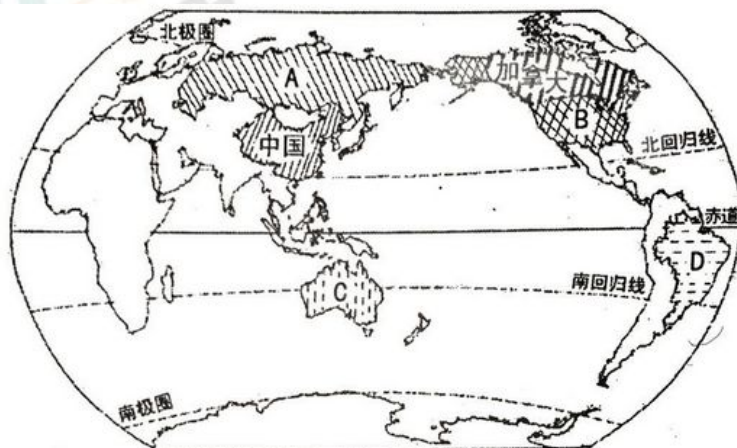
(2) (极) 不平衡 优越 (或好) 恶劣 (或差)

(3) D (2分) (4) B (2分) (5) C (2分)

(6) 人口增长过快, 资源短缺; 住房紧张; 就业困难; 交通拥挤等 (答出两点可得 2分)

(7) 人口增长过慢, 人口老龄化; 劳动力短缺; 国防兵源不足等 (答出两点可得 2分)

20. 读“陆地面积居于前六位的国家分布示意图”, 完成下列各题。(15分)



(1) 写出图中字母所代表的国家。(4分)

A. _____ B. _____ C. _____ D. _____

(2) 陆地面积居世界前六位的国家中, 面积最大的是_____; 人口最多的是_____; 位于大洋洲的是_____。(3分)

(3) 领土指的是国界以内的_____、领水、_____和底土。(2分)

(4) 通常把发达国家和发展中国家的经济差别称为() (2分)

A. “南北差距” B. “东西差距” C. “南南合作” D. “东西合作”

(5) 下列关于发达国家的叙述, 正确的是() (2分)

A. 以初级加工产品为主 B. 大部分人生活在乡村

C. 工业机械化水平高 D. 国民受教育程度低

(6) 简要分析发展中国家经济落后的主要原因。(2分)

【答案】: (1) 俄罗斯 美国 澳大利亚 巴西 (4分)

(2) 俄罗斯(或A) 中国 澳大利亚(或C)

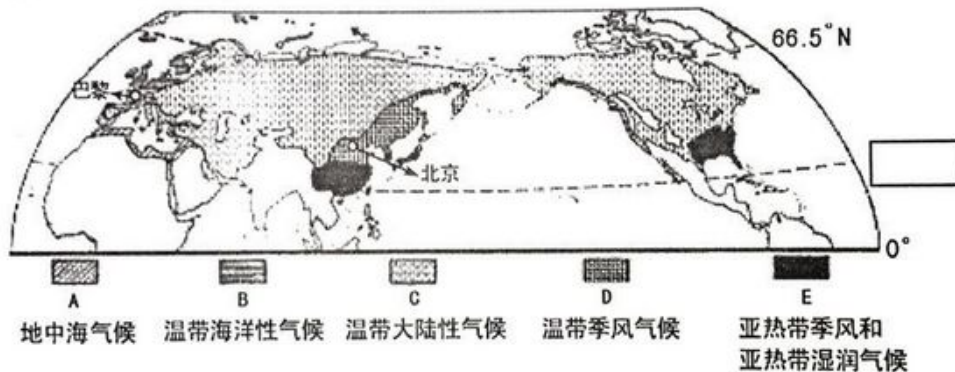
(3) 领陆 领空 (2分) (4) A (2分) (5) C (2分)

(6) 长期遭受殖民者的剥削和掠夺, 经济基础薄弱; 在国际贸易中处于不利地位; 农矿产品价格过低; 企业生存困难; 经济结构单一; 对发达国家依赖严重; 科技水平低; 人口增长过快等(答出两点可得2分)

四、材料分析题 (共 15 分)

21. 读图文资料, 完成下列各题。(15分)

材料一: 北半球亚热带和温带气候类型图



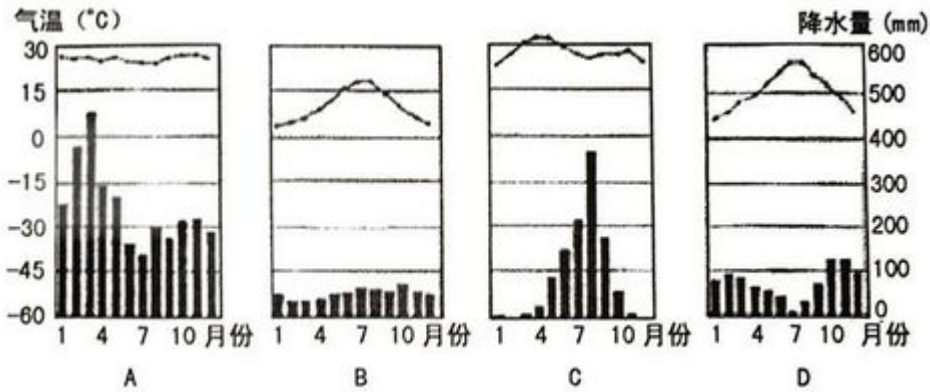
材料二: 第22届联合国气候变化大会于2015年11月30日至12月11日在法国巴黎举行。有195个国家和欧盟的代表出席此次大会, 中国国家主席习近平应邀出席并发表重要讲话, 阐述中国对全球气候治理的看法和主张, 中国从自身发展实践出发, 意识到应对气候变化是实现发展转型的重大机遇, 积极践行绿色、低碳、循环的可持续发展道路。

(1) 在图中方格内写出重要纬线的度数。(1分)

(2) 2015年联合国气候会议在法国_____举行, 中国国家主席习近平在发言中指出在国内积极践行_____、_____和_____的可持续发展道路。

(3) 北半球中纬度地区, 分布面积最大的气候类型是_____, 中国北京是_____, 法国巴黎是_____。

下列气温曲线和降水量柱状图符合巴黎气候特征的是(B) (2分)



(5)人类向空气中大量排放二氧化碳等温室气体,可能带来的后果是() (2分)

- A.全球气候变暖 B.全球气候变冷
C.海平面上升 D.岛屿面积扩大

(6)请你为保护地球大气环境、提高空气质量献计献策。(3分)

【答案】: (1) 23.5° N (1分) (2) 巴黎 绿色 低碳 循环 (4分)
 (3) 温带大陆性气候(或C) 温带季风气候气候(或D) 温带海洋性气候领空(或B) (3分)
 (4) B (2分) (5) A (2分)
 (6) 加大工业污染防治;减少机动车尾气排放量;加强大气空气质量检测;使用清洁能源;垃圾分类处理;减少一次性物品的使用;节约资源,保护森林资源,大力植树造林;绿色出行;低碳生活;加速发展循环经济等(答出三点即可得3分)

附:

奖励题(要自信,你能行!)(3分)(加入总分不再另计,高出满分者也按100分计)

22.读“2008年部分大洲人口的平均出生率、死亡率和自然增长率表”,完成下列各题。(3分)

大洲	出生率(%)	死亡率(%)	自然增长率(%)
非洲	3.8	1.5	
欧洲	1.0	1.2	-0.1
世界	2.0	0.8	1.2

注:数据存在四舍五入

- (1)计算非洲人口的自然增长率,并填入表格。
 (2)下列关于发展中国家人口增长的叙述,正确的是()
 A.缓慢 B.零增长 C.迅速 D.负增长

【答案】: (1) 2.3 (1分) (2) C (1分)