

**太原市 2015-2016 学年第二学期高一年级试卷**

**地 理**

本试卷为闭卷笔答，答题时间 90 分钟，满分 100 分。

( 考试时间：下午 4:30—6:00 )

**注意事项：**

- 1.本试卷分第 I 卷（选择题）和第 II 卷（非选择题）两部分。
- 2.回答第 I 卷前，考生务必将自己的姓名、学校、年级和联系方式涂写在答题卡上。
- 3.回答第 I 卷时，选出每小题答案后，用 2B 铅笔把对应题目的答案标号涂黑。如需改动，用橡皮擦干净后，再选涂其他答案标号。写在本试卷上无效。
- 4.回答第 II 卷时，将答案写在答题卡相应位置上。写在本试卷上无效。
- 5.考试结束后，将本试卷和答题卡一并交回。

**第 I 卷（选择题共 40 分）**

**注意事项：**

- 1.答第 I 卷前，考生务必用 0.5 毫米黑色字迹的中性笔将所需填写的内容填在答题卡上。
- 2.每小题选出答案后，请将答案填涂在答题卡上，答案写在试题卷上无效。

**一、选择题（本题共 20 小题，每小题 2 分，共 40 分。每小题只有 1 个正确选项，不选、多选、错选均不得分。将每小题的正确选项填入下表中）**

题号	1	2	3	4	5	6	7	8	9	10
答案	A	D	B	D	B	C	B	B	A	B
题号	11	12	13	14	15	16	17	18	19	20
答案	C	A	D	B	D	A	C	C	C	D

生育率是指某区域在一定阶段育龄妇女实标生育子女的平均数量。《世界人口数据录》显示 2010 年全球生育率为 2.5，发达国家为 1.7，发展中国家为 2.7，最不发达国家为 4.5,中国 为 1.2。据此，回

答 1~3 题。

1. 下列四个省级行政区中, 生育率最低的可能是

- A. 北京                      B. 安徽                      C. 贵州                      D. 新疆

本题考查人文地理人口生育率问题。由题可知一般情况经济越发达的地方生育率水平越低, 上面我国四个行政区域中, 北京生育率水平最低, 故选 A。

2. 目前, 我国生育率水平极低的主要原因是

- A. 新生儿成活率比较低下                      B. 养育子女成本过于昂贵  
C. 养老保障制度十分完善                      D. 计划生育政策实施有效

本题依然考查人文地理人口生育率问题。据我国国情可知, 我国的生育率水平低的原因是国家实行计划生育政策, 故选 D。

3. 若继续保持现有生育率水平, 未来我国可能出现的人口问题是

- A. 人口流动现象加剧                      B. 劳动人口严重不足  
C. 人口分布明显不均                      D. 社会养老负担减轻

本题依然考查人文地理人口生育率问题。我国实行了长达 30 多年的计划生育政策, 新出生人口锐减, 现在城市人口老龄化问题严重, 如果继续实施此政策, 未来我国可能出现劳动人口严重不足的问题。故选 B

研究表明, 在人口老龄化的初期, 许多国家都会出现农村人口老龄化程度高于城市的特点, 即“城乡倒置”现象。图 1 为中国城乡人口老龄化趋势预测示意图。读图, 回答 4~5 题。

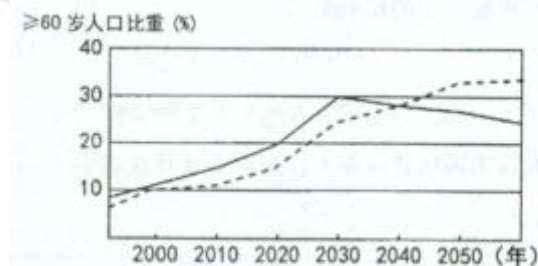


图 1

4.我国人口老龄化“城乡倒置”现象还会持续约

- A.10 年                      B.15 年                      C.20 年                      D.25 年

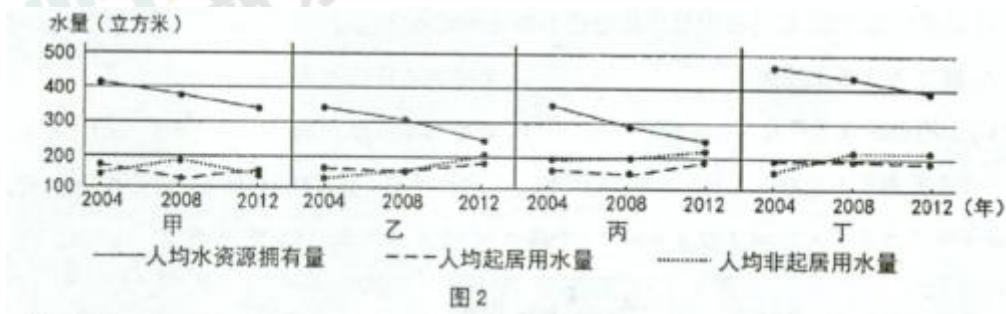
本题考查人口老龄化问题，由图 1 数据可知时间会持续 25 年，故选 D。

5. 此现象在我国产生的主要原因是

- A.农村自然环境比城市优越                      B.农村的青壮年人口大量外迁  
C.城市人口死亡率低于农村                      D.农村医疗保障制度日益完善

本题考查农村人口老龄化出现的原因，我国农村人口老龄化是由于人口迁移造成的，大量青壮年劳动力迁移到城市，造成了农村人口老龄化问题严重，故选 B。

有些人口学专家认为在各种自然资源中，对人口容量影响最为明显的是水资源。图 2 为某区域四个城市的人均水资源拥有量和用水量示意图。读图，完成 6--7 题。



6. 若只考虑人均水资源，图示四市中人口数量尚未达到人口最大容量的城市是

- A.甲、乙                      B.乙、丙                      C.甲、丁                      D.丙、丁

本题考查水资源和人口容量的问题。根据题意可知对人口容量影响最为明显的是水资源，综合看上述四个城市，故选 C。

7. 现阶段我国进行人口合理容量估算的意义主要在于

- A 使边远山区尽快脱贫致富                      B.制定符合国情的人口政策  
C.制定城乡经济的发展模式                      D.促进国内人口的有序流动

由题可知政策制定需要参考本国国情，我国人口政策的制定需要参考我国实际的人口合理容量，故选 B。

2015年下半年以来,欧洲出现了二战后最大的难民潮,大量来自叙利亚、利比亚等局势动荡地区的难民正源源不断地涌入欧洲,其中绝大部分难民选择前往德国。据此,回答8~9题。

8. 导致此次人口大规模迁移的因素是

- A.经济因素                      B.政治因素  
C.自然因素                      D.文化因素

本题考查人口迁移原因的问题。据题意可知此次人口迁移是由于战争造成的,故B正确。

9. 大批难民涌入德国,对德国可能产生的影响是

- A.劳动力短缺得以缓解                      B.就业竞争压力减小  
C.社会治安趋向于好转                      D.人地矛盾逐渐缓和

大批难民涌入必然会导致一系列的社会问题:治安,就业,人地矛盾等,劳动力短缺现象可能会的一缓解,故选A。

下表为1990~2010年我国不同地区城市人口和城市建成区面积年均增长(%)速度统计资料。据此,回答10~11题。

	全国	东部	中部	西部
城市人口	4.56	6.80	3.28	3.40
城市建成区面积	7.77	8.60	6.23	8.63

10. 1990年以来,我国

- A.城市人口总数逐年上升的趋势在减缓                      B.东部地区因经济发达城市化进程较快  
C.中部地区的城市建成区人口密度增大                      D.西部城市的土地集约化程度高于东部

据题可知东部地区因经济发达城市化进程较快。故选B。

11.由表中数据可知,目前我国城市化进程中面临的突出问题是

- A.城市人口增长过快                      B.交通拥堵日益加重  
C.土地资源浪费严重                      D.环境污染逐步加剧

本题考查城市化问题，城市化必然会带来交通、城市用地、环境污染、人口等问题，据题可知城市化带来土地资源浪费问题。故选 C。

丹麦首都哥本哈根从 1947 年起，在城市建设方面实施“手指规划”方案，该方案对建设生态宜居城市意义重大。图 3 为哥本哈根“手指规划”方案示意图。读图，回答 12~13 题。

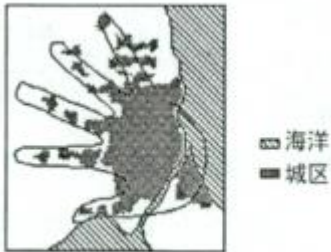


图 3

12 图中“手指”延伸的方向可能是

- A.交通干线 B.狭长低地 C.风景名胜 D.工业园区

本题考查城市化过程中交通拥挤的问题，手指延伸方向主要是交通干线，为了方便城市人口的出行。故选 A。

13. 图中“手指”之间的区域最适宜规划为

- A 大型工业区 B.低级住宅区 C 中心商务区 D.绿化休闲

本题考查交通布局问题，交通干线之间要布局绿化带，有利于美化环境，改善交通。故选 D。

下表为 2009 年中国、印度、德国、美国四国人口的相关统计数据。据此完成 14-15 题。

国家	中国	印度	德国	美国
总人口数(百万人)	1338	1155	82	307
百万人以上大城市的人口占本国人口比重(%)	17	13	8	45

14. 四个国家中城市化水平较高的是

- A.中国和美国 B.美国和德国 C.中国和印度 D.德国和印度

本题考查城市化水平高低问题。城市化水平高低的一大指标就是人口的城市化，城市人口占总人口的百分比，据题可知美国德国比重最高。故选 B。

15. 由表中数据可知，2009 年

- A 美国百万人以上大城市的数量最多
- B 德国百万人以上大城市的数量最少
- C 印度百万人以上大城市的人口比美国少
- D 中国百万人以上大城市的人口比印度多

据表可知 D 选项正确。

图 4 为京津冀地区各城市与北京经济联系强度指数示意图，图中城市名称下括弧内的数值越大，说明该城市与北京的经济联系越紧密。读图，回答 16-17 题。



16.图中

- A 北京的服务范围可覆盖到其他城市
- B 承德市的服务职能比石家庄市齐全
- C 等级低的城市数量多且彼此相距远
- D 各级城市之间相互独立且互不联系

本题考查城市间联系问题，从上图可以看出承德市服务职能比石家庄弱，B 错；等级低的城市彼此相距不远，C 错；各城市间相互联系，D 错；北京的服务范围广，可以覆盖到其它城市。故选 A。

17. 与石家庄相比，唐山与北京的经济联系指数较高，其原因是唐山

- A.经济水平较高
- B.城市等级较低
- C 区位优势明显
- D.劳动力较丰富

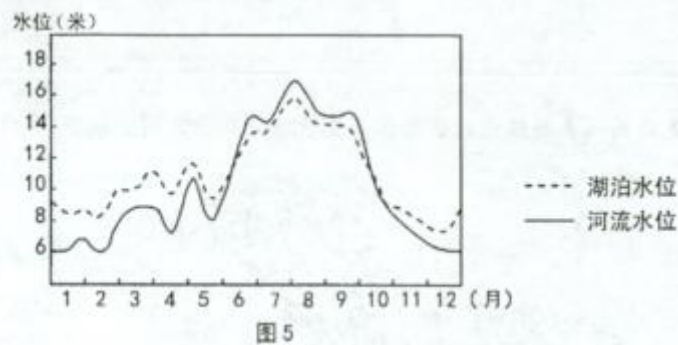
从图表可以看出石家庄地理位置没有唐山优越，唐山距北京较近且经济连接紧密。故选 C。

18.廊坊市的燕郊镇因有 30 万“北漂”在此安家而成为著名的“睡城”。这里的居民白天大多在北京工作、消费，晚上回到家里只是为了睡觉。燕郊镇“睡城”兴起的主要原因是

- A.自然环境优美      B.工资水平较高  
C.房价水平较低      D.服务业较发达

据题可知，北京周边近郊房价太高，北漂为了节省开支，故选择在燕郊居住，燕郊距离北京较近，交通便利，成为睡城。故选 C。

江西的鄱阳湖是我国的第一大淡水湖，湖水与长江相连通。图 5 是某年鄱阳湖与长江相连河段的水位变化示意图。读图，回答 19~20 题。



19.由图推断，鄱阳湖周边地区容易发生洪水灾害的时间是

- A.1~3 月    B.3~6 月    C.6~9 月    D.9~12 月

本题考查湖泊与河水的补给关系，河流水位高就会补给给湖泊，6 到 9 月河流水位较高，容易导致湖泊水位上涨发生洪涝灾害。故选 C。

20. 鄱阳湖周边地区容易发生洪水灾害的自然原因有

- ①湖畔地势陡峻，水流汇集速度快②围湖造田，湖泊的蓄洪能力下降③雨季长江水位高湖水难以外泄④夏季风异常，流域内降水多且集中

- A.①②      B.②③      C.①④      D.③④

本题考查湖泊洪涝灾害的自然原因，鄱阳湖在河水洪水期时，湖水难以外泄，夏季流域内降水集中，所以易发生洪涝灾害。D 正确。

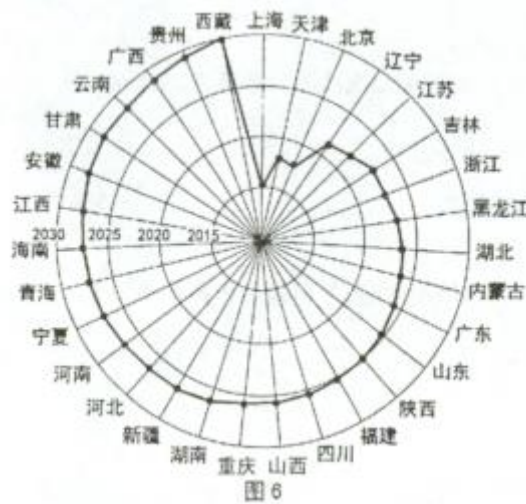
第Ⅱ卷（非选择题共 60 分）

注意事项：

- 1.用 0.5 毫米黑色字迹的中性笔答在答题卡上。
- 2.答卷前将密封线内项目填写清楚，答案写在试题卷上无效。

二、非选择题（共 5 小题）

21. (12 分) 图 6 为中国科学院预估的全国 31 个省级行政单位（不含港澳台）实现人口零增长时间（单位：年）示意图。读图，完成下列要求。



(1) 说出导致我国各省实现人口零增长时间差异的主要因素。(2 分)

考查人口增长变化的根本原因为经济原因。

**【答案】：**社会经济(经济或生产力水平)因素(2 分)

(2) 说明目前上海市与云南省人口自然增长的差异。(4 分)



本题考查人口增长类型，原始型、传统型、现代型。据题可知，

【答案】：上海市人口自然增长率较低(实现零增长)，已进入现代型；(2分)云南省人口自然增长率较高，向现代型过渡。(2分)

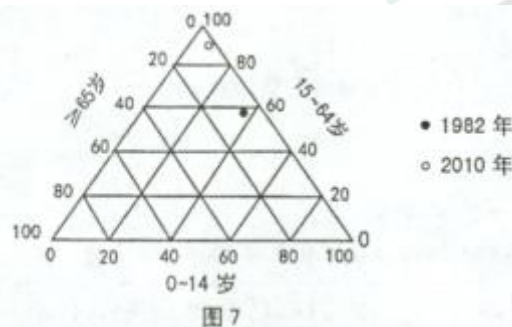
(3) 2015年10月，党的十八届五中全会决定全面实施一对夫妇可生育两个孩子政策。简要分析现阶段我国实施这一人口政策的意义。(6分)

目前我国人口出现老龄化问题，劳动力人口锐减。为应对出现的社会问题，特制订了二孩政策。

【答案】：有利于减缓我国劳动力数量减少的趋势；有利于缓解人口老龄化问题，减轻政府和家庭的养老负担；不会使人口生育率在短时间内增长过快；有利于我国保持适当的人口规模，促进社会的协调发展。(每点2分，任答3点即可，共6分)

22. (12分) 阅读图文资料，完成下列要求。阅读图文材料，完成下列要求。

深圳市是改革开放后在我国南方沿海地区快速兴起的一座特大城市。据统计，深圳人口在1982年仅35万，2010年迅速增长到1036万。2011年深圳市的常住人口已达到1047万，其中非户籍人口779万，比2010年的非户籍人口有所减少。深圳特区建市以来首次出现非户籍人口减少。图7为1982年和2010年深圳市人口年龄结构示意图。



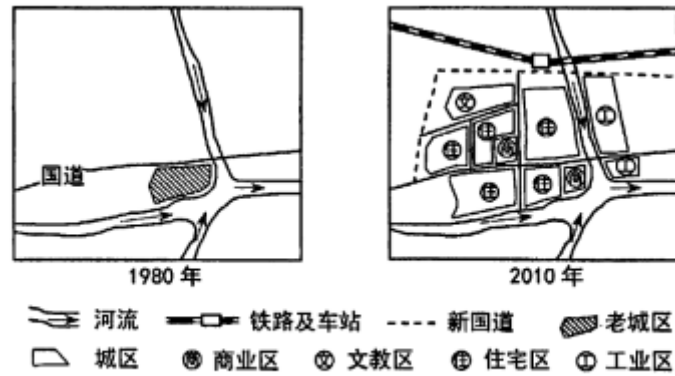
(1)说明1982~2010年深圳市人口年龄结构的变化及其原因。(6分)

【答案】：劳动力（15~64岁）人口比重显著增加，(2分，少年儿童和老年人口的比重下降。(2分)原因：深圳市经济发展迅速，吸引大批青壮年劳动力迁入。(2分)

(2)简述非户籍人口减少对深圳经济发展的影响，并提出应对措施。(6分)

**【答案】:** 非户籍人口的减少,可能会导致廉价劳动力不足,影响经济的发展。(2分)提高工资水平以吸引人口迁入;(2分)加速产业的优化升级,减少对廉价劳动力的依赖。(2分)

23. (12分) 图8示意某市1980年与2010年的城区地域结构。读图,完成下列要求。



(1) 说明河流对老城区形成和发展的影响。(4分)

考查城市区位问题, 河流交汇处易形成城市。

**【答案】:** 位于河流交汇处, 提供水资源(2分)和便利的水运条件。(2分)

(2) 从地域结构角度说出该市城市化水平提高的主要表现。(4分)

**【答案】:** 城区用地规模扩大,(2分) 出现明显的功能分区。(2分)

(3) 说出该市商业区布局所考虑的主要因素。(4分)

考查商业区布局的区位因素, 主要是看交通和市场。

**【答案】:** 交通便利 (2分), 接近市场 (2分)

24. (12分) 下表是英国和阿根廷城市化水平(%)统计资料。据此, 完成下列要求。

年份	1950	1960	1970	1980	1990	2000	2010
英国	79.0	82.4	86.1	87.9	89.1	89.4	90.1
阿根廷	51.3	64.6	78.9	82.9	87.0	90.1	92.5

(1) 根据表中资料, 绘制英国和阿根廷城市化水平增长折线图。(4分)

【答案】: 图略, 注意坐标和图例, 各 2 分。

(2) 比较英国和阿根廷城市化进程的差异。(4 分)

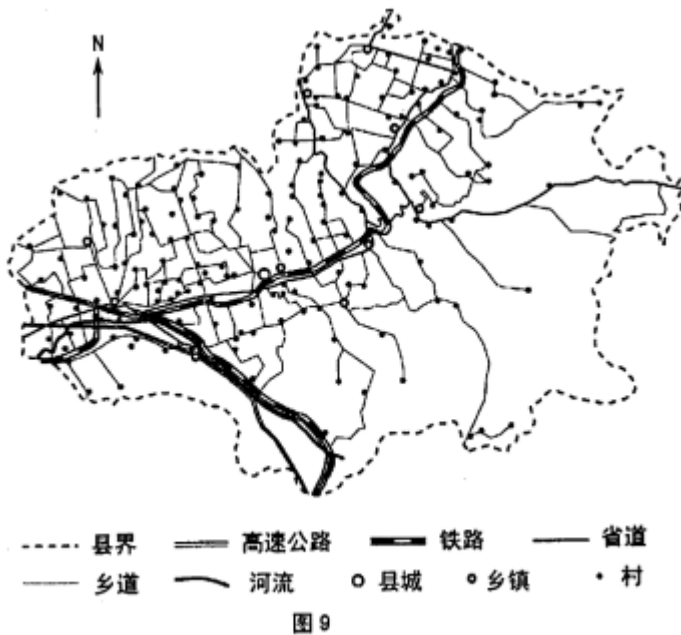
本题考查发达国家和发展中国家城市化水平的差异。

【答案】: 英国的城市化进程起步早, 发展的速度慢; 阿根廷的城市化进程起步晚, 发展的速度快。(每点 2 分, 共 4 分)

(3) 据世界银行统计数据显示, 2013 年阿根廷的城市化水平已位居全球第一。有人认为阿根廷的城市发展不合理, 请说出理由。(4 分)

【答案】: 社会经济发展是城市化的主要动力, 城市化水平应与经济发展相适应;(2 分) 阿根廷属发展中国家, 经济尚较落后, 城市化水平明显超过了其经济发展阶段和工业化水平(虚假城市化)或城市总体发展和基础设施建设相对落后, 易出现城市环境问题。(2 分)

25. (12 分) 图 9 是山西省某县级行政区聚落与交通线分布示意图。读图, 完成下列要求。



(1) 根据已学知识, 说明山区交通线路的分布特点。(6 分)

考查交通布局区位因素, 受地形的影响, 山区交通布局应为:

【答案】: 山区交通线路比较稀疏;(2 分) 线路尽量避开陡坡, 沿和缓的河谷地带延伸;(2 分) 为减缓坡度, 线路多呈“之”字形分布。(2 分)

(2) 根据图中聚落和交通线的分布, 推断该县内部的地形差异, 并说明理由。(6 分)

考查城市布局区位因素。

**【答案】：**该县东部和南部为山地，(2分)北部和西部为平原。(2分)东部和南部聚落稀少，交通线路稀疏；北部和西部聚落众多，交通线路稠密，呈网状分布。(2分)

更多的真题下载地址：<http://ty.xdf.cn>

咨询电话：0351-3782999