

太原市 2015-2016 学年第二学期七年级阶段性测试 (三)

历史试卷

(考试时间: 下午 4:30-6:00)

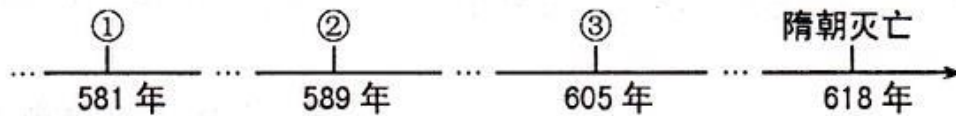
说明: 本试卷为闭卷笔答, 做题时间 90 分钟, 满分 100 分。

题号	一	二	三	四	总分
得分					

一、单项选择题 (每小题 2 分, 共 30 分)

题号	一	二	三	四	总分
得分					

1. 在下面隋朝重大历史事件的时间轴上, 与①②③处时间相对应的历史事件分别是



- A. ①隋朝建立②隋灭陈, 统一全国③开凿大运河
- B. ①隋灭陈, 统一全国②隋朝建立③开凿大运河
- C. ①开凿大运河②隋朝建立③隋灭陈, 统一全国
- D. ①隋朝建立②开凿大运河③隋灭陈, 统一全国

【答案】A

【解析】本题主要考查历史相关知识的记忆, 581 年, 杨坚夺取北周政权, 建立隋朝。589 年隋军南下, 灭掉南朝最后一个朝代陈, 统一全国。从 605 年起, 隋炀帝开通了一条纵贯南北的大运河。选项 A 符合题意。

2. 魏征是唐朝政治家、思想家, 被后人称为“一代名相”。他曾说: “君之所以明者, 兼听也; 其所以暗者, 偏信也。”历史上魏征辅佐的“明君”是

- A. 唐高祖
- B. 唐太宗
- C. 唐玄宗
- D. 唐高宗

【答案】B

【解析】本题主要考查历史相关知识的记忆, 与题中“魏征”相关的明君是唐太宗, 唐太宗重用敢于直言的魏征, 魏征前后向唐太宗进谏二百多次, 是最著名的谏臣。选项 B 符合题意。

3. 诗歌在一定程度上反映了社会生活。下列诗句中, 能反映唐玄宗统治前期盛世景象的是

- A. “海内存知己, 天涯若比邻”
- B. “忆昔开元全盛日, 小邑犹藏万家室”
- C. “朱门酒肉臭, 路有冻死骨”
- D. “孤帆远影碧空尽, 唯见长江天际流”

【答案】B

【解析】本题主要考查获取材料信息、调动知识的能力, 唐玄宗统治前期的盛世景象被称为开元之治, 根据选项 B 中的“开元”二字可以选出答案。A 项“海内存知己, 天涯若比邻”是初唐时期王勃送别友人的诗, C 项“朱门酒肉臭, 路有冻死骨”是杜甫对当时社会民不聊生的批判, D 项“孤帆远影碧空尽, 唯见长江天际流”是李白对祖国山川大河的赞美。选项 B 符合题意。

4. 诗人灵一在《与元居士青山潭饮茶》中写到野泉烟火与云间, 坐饮香茶爱此山。”诗中提及的饮茶之风在全国范围盛行始于

- A. 汉朝
- B. 隋朝
- C. 唐朝
- D. 宋朝

【答案】C

【解析】本题主要考查历史相关知识的记忆，唐玄宗时期，茶叶生产在江南农业中占有重要地位，饮茶之风在全国盛行。选项C符合题意。

5. 右图是 1972 年吐鲁番市阿斯塔纳 187 号墓出土的唐三彩《戴帷帽骑马女俑》，通高 31 厘米，马长 23.6 厘米，通体彩绘，女俑头戴黑色风帽。从中可以提取到的信息是



- ①唐三彩是唐朝陶瓷业的典型代表
 - ②唐朝政府要求妇女胡服骑乘
 - ③唐朝是一个开放和自由的时代
 - ④胡服骑乘是唐朝的社会风尚之一
- A. ①②③ B. ②③④ C. ①②④ D. ①③④

【答案】D

【解析】本题主要考查获取材料信息、调动知识的能力。题中材料和图片没有提到与政府对妇女胡服骑乘要求有关的内容，故②错误。①③④是可以从材料中提取到的信息。选项D符合题意。

6. 中国历史上唯一的女皇帝武则天，是山西文水人。下列有关武则天的史实叙述，不正确的是

- A. 在新疆设立北庭都护府
- B. 她晚年称帝，改国号为周
- C. 其统治被称为“开元之治”
- D. 她曾破格提拔有才能的人

【答案】C

【解析】本题主要考查历史相关知识的记忆，ABC 都是与武则天相关的史实，C 项中的“开元之治”是唐玄宗时期。选项C符合题意。

7. 下表是《唐朝主要外国社团来唐概况表》，其中大食，即阿拉伯；波斯，即今伊朗；百济、高丽与新罗都是今朝鲜半岛上的国家；狮子国，是今天印度洋上斯里兰卡。下列选项不能从表格中提取到的是

国家	大食	新罗	波斯	天竺	日本	百济	高丽	狮子国
次数	37	26	26	25	13	8	7	3

- A. 阿拉伯国家使团来华次数最多
- B. 新罗、波斯、天竺来华次数较为频繁
- C. 亚洲国家与唐朝交往密切
- D. 中外交往的主要内容是商品贸易往来

【答案】D

【解析】本题主要考查获取材料信息、调动知识的能力。题中表明“大食，即阿拉伯”，并且在表格中大食使团来华次数为 37，相比于表格中的其他国家是次数最多的，故 A 选项正确。从表格中可以看出，新罗来华次数为 26，波斯为 26，天竺为 26，相比于表格中的其他国家是次数较为频繁的，故 B 选项正确。从材料中可以看出表格中的国家分别是今天的阿拉伯、朝鲜半岛和印度洋，都是亚洲国家，故 C 选项正确。从题中无法提取出中外交往的具体内容，故 D 选项无法从表格中提取出。选项D符合题意。

8. 初一年级（3）班的同学以“隋唐时期”为研究主题，进行研究性学习。你认为他们应选择的题目是

- A. 统一国家的建立
- B. 繁荣与开放
- C. 民族关系新发展
- D. 政权的分立

【答案】B

【解析】本题主要考查调动和运用历史相关知识的能力。A 选项为隋朝的特征，唐朝不符合。B 选项是隋唐两

朝的共同特征。C选项是唐朝的特征，与隋朝不符合。D选项隋唐两朝都不符合。选项B符合题意。

9. 继王羲之之后，我国书法史上最成就的大书法家是

- A. 褚遂良 B. 欧阳询 C. 颜真卿 D. 柳公权

【答案】C

【解析】本题主要考查历史相关知识的记忆，颜真卿是继王羲之之后，我国书法史上最成就的大书法家。选项C符合题意。

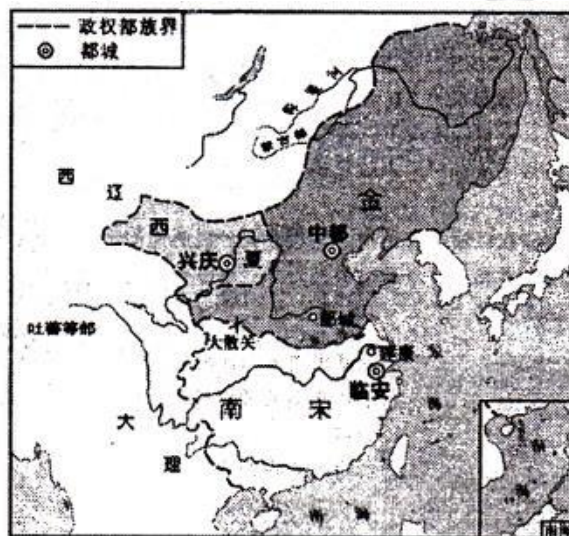
10. “自从陈桥兵变，黄袍加体，即位以来，称为真龙天子。”文中的“真龙天子”指的是

- A. 宋高宗赵构 B. 宋太祖赵匡胤 C. 宋真宗赵构 D. 宋真宗赵匡胤

【答案】B

【解析】本题主要考查历史相关知识的记忆，与题中“陈桥兵变”，“真龙天子”相关的人物是宋太祖赵匡胤。选项B符合题意。

11. 观察右边《金、南宋对峙形势图》，对图中政权相关信息的解读，不正确的是



- A. 阿保机建立金并定都中都
B. 西夏的建立者是党项族的元昊
C. 山西当时在金的统治范围之内
D. 金与南宋的分界线是淮水至大散关一线

【答案】A

【解析】本题主要考查获取材料信息、调动知识的能力。A选项中阿保机建立契丹国（辽）定都上京，阿骨打建立金定都会宁，后来金迁都燕京，改名为中都。B选项正确，CD两项可以通过图片得出。故选项A符合题意。

12. 瓦子在宋代城市盛行的主要原因是

- A. 士大夫的提倡
B. 达官贵人的需要
C. 农业生产的发展
D. 市民阶层不断壮大

【答案】D

【解析】本题主要考查历史相关知识的记忆，随着城市的繁荣，宋代的市民阶层不断壮大，市民文化生活也丰富起来。东京城内出现许多娱乐兼营商业的场所叫做瓦子。故选项D符合题意。

13. 下列对宋代社会风貌的描述令史实的是

- A. 受北方少数民族影响，劳动者多穿小袖狭身的短衣

- B. 由于一些士大夫的提倡，妇女缠足的陋习逐渐传开
C. “邸店如云屯”，形容当时娱乐业的兴旺
D. 北方的肉食以羊肉为多，南方人吃鱼多

【答案】C

【解析】本题主要考查历史相关知识的记忆，ABD 都符合宋代的社会风貌，C 选项中“邸”是提供住宿的，“邸店如云屯”形容旅店业的兴旺。选项 C 符合题意。

14. 纸币的出现给商品的流通带来便利。世界上最早的纸币——交子，出现于

- A.隋朝 B.唐朝 C.北宋 D.南宋

【答案】C

【解析】本题主要考查历史相关知识的记忆，北宋前期，四川地区出现交子，是世界上最早的纸币。选项 C 符合题意。

15. “爆竹声中一岁除，春风送暖入屠苏。千门万户瞳瞳日，总把新桃换旧符”。王安石这首诗描写的节日是

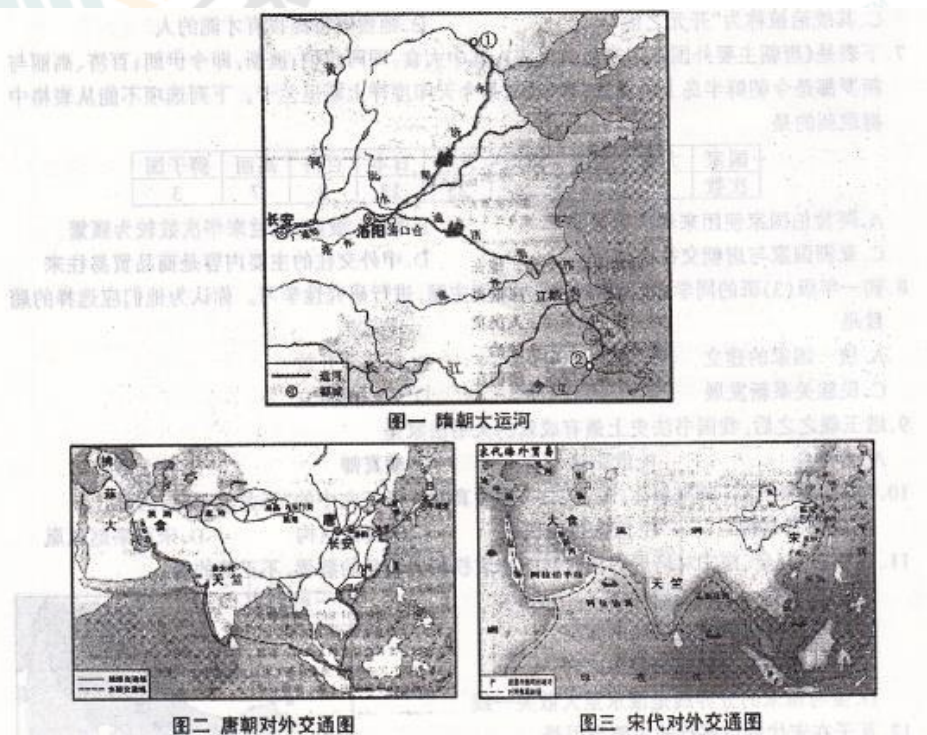
- A.端午节 B.中秋节 C.元宵节 D.春节

【答案】D

【解析】本题主要考查获取材料信息、调动知识的能力，题中“爆竹”“一岁除”“新桃换旧符”可以看出这是在描写春节。选项 D 符合题意。

二、简答题（本题共 16 分）

16. 释图，回答下列相关问题。



(1) 写出图一中运河起止点①②处的名称。古人评价大运河说：“天下转漕（指水上粮食运输），仰此一渠。”据此写出大运河开通的作用。（6分）

(2) 图二路线呈现出唐朝对外交通的发达，举出唐朝对外友好往来的两个事例。（4分）

(3) 与图二比，图三中宋代的对外交通路线呈现出什么特点？分析其形成的原因。（6分）

【答案】

(1) ①涿郡（2分）②余杭（2分）

作用：大大促进了南北的经济交流，有利于巩固统治。（2分）

(2) 玄奘西游天竺; 鉴真东渡日本; 日本、新罗等国派遣唐使、留学生、留学僧来华等。

(评分说明:答出任意两例得 4 分。)

(3) 宋朝对外交通以海路为主, 海上交通发达; (2 分)

原因: 北方由于少数民族政权控制, 陆地丝绸之路中断; 宋代造船业的发达, 航海技术的先进, 指南针用于航海; 宋朝政府鼓励海外贸易等。

(评分说明:答出上述任意一点原因得 2 分, 共 4 分)

三、材料解析题(本题含 2 小题, 17 小题 16 分, 18 小题 16 分, 共 32 分)

17.材料一唐中前期, 北方各民族以“天可汗”称呼唐天子, 有视唐天子为北方各民族之共主。这些民族建立的政权都是唐帝国的地方政权的重要意义。而且, 唐帝国也册封这些民族的首领, 封他们为帝国的官吏。如少数民族的阿史那社尔、契苾何力、黑齿常之、李谨行等都深受唐朝重用, 有的还成了驸马。

——改编自《唐朝民族政策研究》

材料二唐亡以后, 由于国界变迁频繁, 边民互市得以发展, 文化及政治交流使游牧民族逐渐建立了自己的国家。由于少数民族善战, 而汉族又着力文人治军, 宋军战斗力常为政治势力所左右, 宋一味礼让也给了少数民族政权强大的机会。

材料三在我国历史上的民族战争中, 涌现出了一些杰出的领袖人物, 受到本民族人民的爱戴。他们中有的是在抵抗异族进攻的战争中, 英勇保护了本民族人民的家园和生命财产, 如西汉的卫青、霍去病; 宋代的-----等人, 他们都是本民族的英雄。

——材料二、三选自翦伯赞《试述中国历史上民族关系和特点》

材料四两宋时期, 若干少数民族政权与汉族中央王朝长期并立。少数民族与汉族间关系的历史进程是在和战交错的复杂场景中曲折发展。封建生产方式向边疆地区扩展, 各少数民族政权在建立之初, 都主动接受中原封建文化, 仿效中原实行汉制, 加快了本民族的封建化进程。

——改编自《中国历代战争之两宋烽烟》

阅读材料, 结合所学知识, 回答问题。

(1) 材料一说明了唐朝实行怎样的民族政策? 试举出体现这种民族政策的一例史实。(4 分)

(2) 根据材料二, 概括宋朝时期少数民族政权强大的原因。(4 分)

(3) 根据材料三, 写出符合空白处要求的一位历史人物。(2 分)

(4) 根据材料四, 用史实说明两宋时期“少数民族与汉族间关系的历史进程是在和战交错的复杂场景中曲折发展”。(4 分)

(5) 综合上述材料, 归纳我国古代民族关系发展的特点。(2 分)

【答案】

(1) 民族交融, 平等、开明的民族政策。(2 分)

事例: 唐朝政府把文成公主嫁给吐蕃松赞干布; 金城公主嫁给吐蕃赞普尺带珠丹; 册封回纥、靺鞨、南诏的首领等。(答出任意一例得 2 分)

(2) 少数民族善战; 宋朝重文轻武的政策, 导致军队战斗力较弱; 宋朝内部政治势力左右军队, 宋朝政府一味礼让等。(评分说明:答出上述任意一点得 2 分, 共 4 分)

(3) 岳飞、韩世忠、杨继业、文天祥等。(答出符合题意的任意一例得 2 分)

(4) 两宋的民族关系有战有和, 在战与和的过程中曲折发展。“战”的事例: 北宋与辽之间的澶州之战; 北宋与西夏交战; 南宋与金的交战, 如岳飞抗金, 取得郾城大捷等。“和”的事例: 北宋与辽签订澶渊之盟(辽撤兵, 北宋给辽岁币); 宋夏议和(元昊向宋称臣, 宋给西夏岁币); 南宋与金达成的宋金议和(南宋向金称臣, 并给金岁币, 双方以淮水至大散关一线为界)等。(评分说明: 能从和、战两个角度答出以上任意一点史实得 2 分, 共 4 分。)

(5) 民族间有战有和, 但政治、经济、文化不断地交流融合, 和平始终是民族关系的主流。(2 分)

18.材料一

朝代	南方		北方	
	人口(户)	占全国户数比例	人口(户)	占全国户数比例
唐代	3920415	43.2%	5148529	56.8%
北宋	11224760	62.9%	6624296	37.1%

——杨远《西汉至北宋中国经济文化向南发展》

材料二唐朝社会经济的繁荣表现在各个方面。全国共修建了四十多处大型水利工程；农耕技术有很大发展，南方水稻广泛采用育秧移植栽培，产量大大增加；唐朝农民制成曲辕犁，还创制了新的灌溉工具筒车。唐朝商业繁荣，都城长安宏伟富丽，全城街道整齐，城里人口上百万，云集着边疆各族和世界各国的人；城内分为坊和市，坊是居民住宅区，东市和西市是繁华的商业区，周围用高大的围墙围着。

材料三两宋时期，南方开辟了大片湖田，改进了耕作技术，兴修水利，农作物品种增多，从越南引进占城稻，水稻产量居粮食产量的首位，棉花的种植由福建、两广扩展到长江流域。宋代的商业繁荣超过了前代，如商业城市最大的是开封和临安，临安城大街小巷店铺林立，坊市不分，早市、夜市“买卖昼夜不绝”，国内外客商往来不绝。南宋政府鼓励海外贸易，在主要港口设立市舶司，加以管理。……《宋史》曰：“国家根本，仰给东南”。

——改编自七年级下册教材

阅读材料，结合所学知识，回答问题。

- (1) 材料一中，唐宋以来，我国南北方人口有何变化？简述出现这一变化的原因。(4分)
- (2) 材料二、三中，南宋临安城与唐朝长安城的繁荣相比有何异同点？(6分)
- (3) 材料三中“国家根本，仰给东南”说明了什么？(2分)
- (4) 根据上述材料，归纳促进古代农业发展的共同因素。(4分)

【答案】

- (1) 南方人口增长快，北方相对较慢，南方人口明显超过北方。(2分)
原因：北方战乱多，南方社会较为稳定，大量北方人口南迁。(2分)
- (2) 相同点：城市人口多，规模大；城市商业繁荣，买卖兴旺；吸引了各民族、各国的客商往来等。(2分)
不同点：唐朝长安城内坊和市分开；市用围墙围着；(2分)南宋临安城打破坊市界限，坊市不分，早市、夜市“买卖昼夜不绝”；宋政府鼓励海外贸易，在主要港口设立市舶司加以管理等。(2分)
- (3) 说明了中国的经济重心完成南移。(2分)
- (4) 兴修水利；先进的生产技术；生产工具的革新；农作物的品种多和产量高；统治者的重视；和平的环境等。(评分说明:答出上述任意一点得2分，共4分。)

四、探究题(本题共22分)

19.隋唐时期是我国历史上的繁荣鼎盛时期。这一时期，统治者改良政治，发展生产，出现了治世局面，文化也呈现出辉煌的新气象。李明同学运用不同的方法提出了下面问题，请你参与完成下面任务。

任务一【设计卡片，分类归纳】

(1) 下面对隋唐领先世界科技成就的表述中，有一项不够准确，请指出并改正。

- ①隋朝李春设计建造的赵州桥，是世界现存最古老的一座石拱桥。
- ②唐朝印刷的《金刚经》，是世界上最早的雕版印刷品。
- ③唐都长安城规划整齐，是当时世界上最大的城市。
- ④隋唐时期开凿的敦煌莫高窟，是世界最大的艺术宝库之一。

【答案】

- (1) ②不符合史实，应改为：唐朝印刷的《金刚经》，是世界上现存最早的、标有确切日期的雕版印刷品。(2分)
- (2) 唐朝是我国诗歌创作的黄金时代。根据提示信息，写出对应的历史人物。

- A. 诗歌豪迈奔放, 清新飘逸, 人们称他为“诗仙”的是——
B. 他被称为“诗圣”, 其诗歌被称为“诗史”的是——
C. 提倡诗歌反映现实生活, 代表作有《新乐府》《秦中吟》的是——

【答案】

(2) A:李白(2分) B:杜甫(2分) C:白居易(2分)

任务二【建构框架, 分析影响】(4分)

(3) 把下面结构图中横线上空缺的内容补充完整。

创立

隋文帝: 用分科考试的办法选拔官员

隋炀帝: 设进士科, 科举制正式诞生

完善

唐太宗: 大大扩充国学的规模

武则天: 首创殿试和武举

唐玄宗: 诗赋成为进士科主要考试内容

影响:

【答案】

(3) 影响: 科举制改善了用人制度; 促进了教育事业的发展; 促进了文学艺术的繁荣, 特别是唐诗的繁荣; 科举制是世界最早的考试制度等。(评分说明: 答出任意一点得2分, 共4分。)

任务三【解读史料, 评价人物】(6分)

(4) 阅读右边唐太宗的名言, 结合史实, 简要评价唐太宗。

“我功德不及汉文帝, 更不可浪费民力。”

“自古皆责中华, 贱夷狄, 朕独爱之如一。”

“天下英雄, 入吾彀中矣。”

“以铜为镜, 可以正衣冠; 以古为镜, 可以知兴替; 以人为镜, 可以明得失。”

【答案】

(4) 唐太宗是中国历史上杰出的政治家。他注意吸取隋亡教训, 认识到皇帝要勤于政事, 大臣要廉洁奉公, 政府要轻徭薄赋、发展生产, 统治才能巩固。善于用人和重视纳谏, 贞观时期, 名相名将辈出, 如“房谋杜断”的房玄龄和杜如晦, 敢于直言的魏征等。沿用和完善隋朝的三省六部制, 增加宰相人数, 避免宰相专权。合并州县, 革除唐初“民少吏多”的弊政, 减轻人民负担。重视文化教育, 完善科举制, 增加了考试科目, 以进士科最为重要; 中央设国子学、太学等, 学校还有了专业分科, 如医学、算学、天文学等。以较为开明的民族政策, 赢得各民族的拥戴, 北方各族尊称他为“天可汗”。唐太宗还设立安西都护府作为管辖西域的最高行政和军事机构。唐太宗把文成公主嫁给吐蕃赞普松赞干布, 加强了唐蕃友好关系, 促进了吐蕃经济文化交流。唐太宗派人到天竺学习熬制砂糖的技术。唐太宗实行一些比较开明的政策, 既维护了统治, 又使百姓安居乐业, 经济发展, 国力强盛, 为唐朝进入全盛时期奠定了基础, 他统治期间, 史称其统治为“贞观之治”, 太宗不愧为我国古代杰出的政治家, 著名帝王。(评分说明: 能结合史实进行说明, 三点以上得6分。)

任务四【总结规律, 形成认识】(4分)

(5) 写出隋唐时期任意一个治世局面的名称, 并总结治世局面的共同特征。

【答案】

(5) 隋朝: 开皇之治; 唐朝: 贞观之治、开元之治(任意一例得2分)

共同特征: 国家统一, 社会安定, 政治清明, 经济繁荣, 文化昌盛, 民族关系友好, 对外交往活跃, 百姓生活安居乐业等。(评分说明: 答出符合上述意思言之有理得2分。)