

太原市 2016 年初中毕业班综合测试（一）

文科综合

（考试时间：下午 3：00-5：30）

历史

注意事项：

1. 文科综合由历史和思想品德两部分组成，满分 150 分，考试时间 150 分钟。其中历史部分分第 I 卷和第 II 卷。全卷共 6 页，满分 75 分，考试时间 70 分钟。
2. 答卷前，考生务必将自己的姓名、准考证号填写在本试卷相应的位置。
3. 答案全部在答题卡上完成，答在本试卷上无效。
4. 考试结束后，将本试卷和答题卡一并交回。

第 I 卷（选择题，共 30 分）

一、选择题（本大题共 15 小题，每小题 2 分，共 30 分。在每小题的四个选项中，只有一项最符合题意，请选出并在答题卡上将该项涂黑）

1. 山西是华夏文明起源的中心区域之一，绵延了 5000 年的华夏文明，在山西留下 53875 处不可移动文物。下列建筑能反映古代山西文明成就是的



①晋祠圣母殿



②临汾尧庙



③祁县乔家人院



④曲阜孔庙

- A. ①②③ B. ①②④ C. ①③④ D. ②③④

答案：A

解析：该题考察山西地区历史。根据题目要求反映山西文明成就，④曲阜孔庙是山东地区文明成就。故答案为 A。

2. “它是全世界迄今为止，年代最久，唯一存留，以无坝引水为特征的宏大水利工程，并由此使四川成为天府之国。”这个“宏大的水利工程”是指

- A. 灵渠 B. 大运河 C. 都江堰 D. 赵州桥

答案：C

解析：该题考察中国古代史中春秋战国时期的水利工程。根据题目中“唯一留存”和“四川成为天府之国”，可知答案为都江堰。故答案为 C。

3. 北魏太武帝讨灭北凉后，将北凉的 3 万户佛教信徒迁徙到平城。由于鲜卑人在中原建立政权后亟需安抚汉人，所以具有麻痹作用的佛教在北魏境内兴盛起来。唐朝时，山西佛教进入极盛时期，以五台山为中心的山西佛教社会地位也越来越高。下列表述不能从材料中提取到的是

- A. 佛教在北魏时期传入中国 B. 对统治者来说佛教能缓解社会矛盾
C. 北魏政权是鲜卑族人建立 D. 山西佛教在唐朝时发展到极盛时期

答案：A

解析：该题考察中国古代史中佛教的发展以及材料中信息的解毒能力。根据题目中“北魏太武帝讨灭北凉后，将北凉的 3 万户佛教信徒迁徙到平城。”可知北魏以前中国就有佛教，再结合所学知识可知佛教汉代传入中国。故答案为 A。

4. 历史题材的影视作品是对历史史实的艺术加工，其情节必须尊重历史史实。下列情节与史实不相符的是
- A. 《半月传》中秦朝的莒姬用纸给半月写信
B. 《贞观长歌》中李世民在太原起兵
C. 《成吉思汗》中铁木真阅读活字印刷的书籍
D. 《郑和下西洋》中船上装有指南针

答案：A

解析：该题考察中国古代史中科技的成就。中国西汉年间发明造纸术，东汉蔡伦改进造纸术。故答案为 A。

5. 学习明清历史后，某同学对这一历史时期的阶段特征进行总结。你认为表述最准确的是
- A. 分裂走向统一
B. 民族交融交往
C. 繁荣开放并存
D. 繁盛危机前夜

答案：D

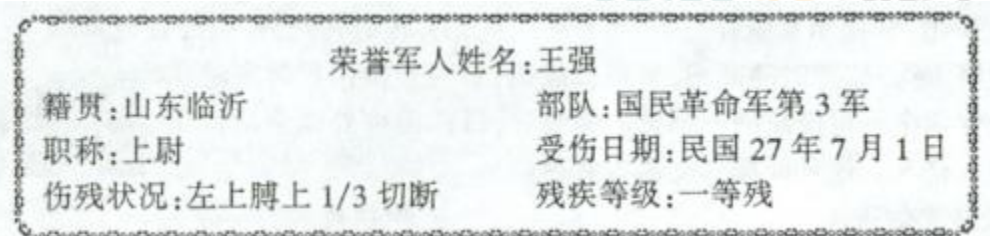
解析：该题考察中国古代史明清时期的特征。宋代开始中央实现了对地方的有效控制，此后没有出现分裂的状况。明清时期实行闭关锁国的政策，没有对外开放和交流。故答案为 D。

6. 史学家陈旭麓认为“民族的反思，是在遭遇极大的困难中产生的。一百多年来，中华民族的第一次反思是在鸦片战争后，渐知诸事不如人，只有学习西方。第二次则是反思何以学了西方仍然失败。”其中“第二次反思”开始于
- A. 经济技术
B. 政治制度
C. 思想文化
D. 军事强国

答案：B

解析：该题考察中国近代史中中华民族的奋起。鸦片战争后我们开始学习西方技术即洋务运动，甲午中日战争北洋水师全军覆没标志洋务运动失败，先进的中国人开始学习西方的政治制度，比如戊戌变法。故答案为 B。

7. 根据下列信息推断，荣誉军人王强伤于



- A. 辛亥革命时期
B. 国民革命时期
C. 抗日战争时期
D. 解放战争时期

答案：C

解析：该题考察中国近代史中抗日战争以及对材料中信息的解读能力。材料得知受伤日期为民国 27 年，换算成公元纪年为 1911+27=1938，抗日战争开始时间为 1937 年 7 月 7 日。故答案为 C。

8. 某校举办“新中国发展成就展”，拟分“初步创业”、“艰难探索”、“改革开放”、“世纪新篇”四个篇章。下列应入选“改革开放”篇的是

- ① 武汉长江大桥通车
② 第一颗原子弹爆炸成功
③ 小岗村包产到户
④ 设立深圳特区
- A. ①②
B. ①④
C. ②③
D. ③④

答案：D

解析：该题考察中国近代史中改革开放。改革开放是在 1978 年十一届三中全会上确立的，武汉长江大桥通车的时间为 1957 年，第一颗原子弹爆炸成功是 1964 年。故答案为 D。

9. 下表是 20 世纪 60~80 年代中期《人民日报》对美国不同态度的报道数量统计表。其中造成 1975 年以后对美国消极报道减少的主要原因是

	1960 年第一季度	1975 年第一季度	1985 年第一季度
积极报道	0	2	51
消极报道	323	81	88
中性报道	16	10	224

- A. 美苏冷战的开始
B. 中国加入了亚太经合组织
C. 中美关系正常化
D. 中国恢复联合国合法席

答案：C

解析：该题考察世界史中二十世纪国际关系和中国近代外交政策。根据材料中“1975 年以后对美国消极报道减少的主要原因”可知 1972 年尼克松访华，打破中美外交坚冰，中美关系正常化。故答案为 C。

10. 亚历山大的征服既是灾难，也促进了东西方文明的交融。下列不在其帝国疆域内的是

- A. 尼罗河文明
B. 黄河文明
C. 印度河文明
D. 两河流域文明

答案：B

解析：该题考察世界史中马其顿东征。在马其顿东征中最先征服了埃及，然后是巴比伦以及印度。故答案为 B。

11. 小明同学根据下面的历史叙述分别得出了相应的结论，其中不正确的是

- A. 文艺复兴的核心思潮是人文主义——它是一次资产阶级思想文化运动
B. 国王不能征税，不能随意废除或停止法律的执行——出自法国的《人权宣言》
C. 人们利用蒸汽机提供的动力带动机器，进行生产——从此人类进入了“蒸汽时代”
D. 揭示了资本主义必然要被社会主义代替的客观规律——出自《共产党宣言》

答案：B

解析：该题考察世界史中近代资本主义的发展。法国在资产阶级革命后建立起来了民主共和国，废除了君主制。故答案为 B。

12. “由于他证明了地上的力学也能应用于天上的星球，从而昭示了一种简单而统一的自然规律的存在，整个思想界不禁为之亢奋。……于是传统的宗教信仰被动摇了，唯物主义思想开始盛行。”材料中的“他”对自然科学的突出贡献是

- A. 浮力定律
B. 力学三定律
C. 进化论
D. 相对论

答案：B

解析：该题考察世界史中近代科技的发展。根据材料中“地上的力学也能应用于天上的星球”，所以该科学家应该为牛顿。故答案为 B。

13. 新经济政策、罗斯福新政与中国的改革开放相比，三者的相同之处是

- ①都是在经济面临困难的背景下进行的
②都是符合本国国情的改革
③都突出了计划经济的主导地位
④都是大胆创新的结果
⑤都巩固了政权
- A. ①②③④
B. ①③④⑤
C. ②③④⑤
D. ①②④⑤

答案：D

解析：该题考察世界史中新经济政策、罗斯福新政以及中国的改革开放的相同点。中国的改革开放是要建立社会主义市场经济，所以③中都突出了计划经济的主导地位不符合。故答案为 D。

14. 有人将法德关系作如下比喻：以前两国都在同一条马路上开车，各有各的“交通规则”，结果一再撞车。现在仍在同一条马路上开车，大家都遵守相同的“民主”规则，不再撞车了。这里法德“不再撞车”的原因是

- A. 法德和解，欧洲走向联合
B. 二战打击下，法德无力再战
C. 对抗美国，法德相互依存
D. 多极化趋势，法德各自发展

答案：A

解析：该题考察世界史中二十世纪的国际关系。二战后欧洲衰落，世界为美苏控制，为了摆脱美国控制，法德和解，建立欧洲共同体，欧洲走向联合。故答案为 A。

15. 空闲时聊聊天，旅游时晒晒图，看到二维码扫一扫，微信已越来越成为人们生活中不可或缺的一部分。据统计，目前国内外微信活跃用户已达 5 亿人。这种便捷的交流方式得益于

- A. 航天技术的进步
B. 生物技术的突破
C. 新材料技术的应用
D. 网络技术的发展

答案：D

解析：该题考察世界史中科技的发展。材料中微信的广泛使用得益于网络技术的发展。故答案为 D。

第 II 卷（非选择题，共 45 分）

二、简答题（本大题共 2 小题，16 题 4 分，17 题 4 分，共 8 分）

16. 构建和谐社会、和谐世界是人类共同的目标。根据要求，回答问题。（4 分）

（1）中国传统文化注重和谐，举出春秋战国时期体现和谐思想的一例主张。（1 分）

【解析】

老子的辩证思想体现了和谐的原则；孔子提出“仁者爱人”，体现出人际关系的和谐；孟子主张施行仁政，协调统治者和百姓的人际关系；他还主张不要过分捕捞鱼鳖，要按时令进山伐树等体现了人与自然的和谐；墨子主张“兼爱、非攻”反映了战国时代平民的愿望，也能体现人际关系的和谐等。

评分说明：答出上述言之有理的任意一例得 1 分。

（2）根据下列图片或地图蕴含的历史信息，说明其与“和谐”相关的史实。（任选一例作答，2 分）



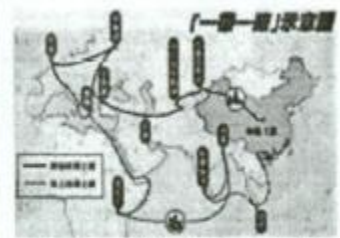
图一 西安事变的报道



图二 《联合国宣言》的签署



图三 周恩来在万隆会议上



图四 “一带一路”示意图

【解析】

西安事变和平解决，促成抗日民族统一战线初步形成；标志着国共十年内战基本结束，国共第二次合作开始。

《联合国宣言》得签署，标志着国际反法西斯同盟得建立；各国保证用自己的全部人力和物力，联合起来，彻底打垮法西斯国家。万隆会议，提出“求同存异”原则，促进了中国和亚非国家得团结和合作；形成了亚非人民团结一致，保卫和平得万隆精神。“一带一路”战略，是中国实行全方位开放得一大创新；推动沿线国家间实现合作与对话，建立更加平等均衡得新型伙伴关系，夯实世界经济长期稳定发展得基础。

评分说明：任选一例说明促进和谐的作用得 2 分。

（3）你认为当今世界，影响人类和谐发展的因素有哪些？（1 分）

【解析】

地区冲突；霸权主义；恐怖主义；环境污染；过度开发资源等，（答出言之有理一点得 1 分）

17. 走进历史人物，认识历史人物对社会进步所起的作用。根据要求，回答问题。（4 分）

历史信息	历史人物
“朕为始皇帝，后世以计数。”“分天下以为三十六郡。”“焚诗书，坑术士，六艺从此缺焉。”	①人物：_____
“天下为公”“以天下为己任”“民族、民权、民生”“革命尚未成功，同志仍须努力。”	②人物：_____
“战争中的第一人，和平中的第一人，美国同胞心目中的第一人。”被誉为“合众国之父”。	人物：华盛顿

(1) 阅读上表历史信息，写出对应的历史人物。从①人物到②人物观点的变化，体现了人类政治文明怎样的发展趋势？(3分)

【解析】

秦始皇(1分) 孙中山(1分) 趋势：由专制到民主，由人治到法治(1分)

(2) 简述华盛顿所开创的政治制度对后世的影响。(1分)

【解析】

华盛顿所创立得总统制、联邦制和体现三权分立原则得资产阶级政治体制，为后来很多国家走上资本主义道路，确立民主共和制提供了范例。

评分说明：答出意思相近的一点得1分。

三、材料解析题 (本大题共2小题，第18题10分，第19题12分，共22分)

18. 材料一 18世纪末到19世纪中期美国进行了工业革命。北部工业水平越来越高，当时全国85%的工厂在北方。工厂的存在，使得北方需要大量的原料和自由劳动力。而在美国南方，奴隶制种植园经济非常盛行。南方拥15个蓄奴州，有黑奴400多万，主要生产棉花，并出口到英国和西欧国家。南北的矛盾越来越不能调和。于是，革命在所难免。

材料二 随着克里米亚的灾难，俄国人认识到自己工业经济的落后。而这一切的阻碍都在于农奴制度的存在。19世纪50年代末的俄国，农奴一贫如洗，无力购买工业品，造成国内市场狭小。同时，工场也没有雇佣到更多的自由劳动力，因为农奴被束缚在土地上，没有自由工作的权利。一场改革在所难免。

——材料一、二均摘自人教版九上教师教学用书

材料三 19世纪中叶的日本同中国一样，一直与世隔绝。在1853年美国海军准将马修·佩里率领“黑船”抵达日本。受到侮辱后的日本人认识到，要想砸碎西方控制的锁链，必须“求知识于世界”，才能摆脱危机。

——根据《基辛格眼中的日本》整理

材料四 两次鸦片战争，使“天朝上国”备受屈辱。统治者逐渐醒悟：要想复兴，只能学会与洋人打交道。而洋人又在机器设备和生产技术上最为先进，于是政府开始购买军备，并筹建自己的工厂。

——聂幼犁《建设民族复兴视野下的中国近代史》

阅读材料，结合所学知识，回答问题。

- 写出材料一、二中，发生在美、俄两国的革命或改革的名称，并分析革命和改革“在所难免”的原因。(4分)
- 根据材料三、四，归纳19世纪中期，中日两国面临的局面及应对的措施有何相同之处。(2分)
- 简要谈谈你对材料四所述历史事件的看法。(3分)
- 哪一历史事件推动了19世纪中期上述各国的变革？(1分)

【解析】

(1) 美国南北战争(1分) 俄国1861年改革(1分) 原因：美国南北矛盾不可调和，南方种植园经济严重阻碍了资本主义经济的发展。(1分) 俄国农奴制都严重阻碍了资本主义经济的发展(1分)

(2) 对外都实行闭关锁国政策；都面临着西方列强得入侵（1分）两国都进行了改革；都学习西方先进技术，创办近代工矿企业等。（1分）

(3) 洋务运动引进了西方先进得科学技术，使中国出现了第一批近代企业，为中国近代企业积累了生产经验，培养了技术力量；客观上为中国民族资本主义得产生和发展起到了促进得作用，为中国得近代化开辟了道路。但洋务派主观目的是维护封建统治，而不是把中国引向资本主义，故不能让中国强大起来。

评分说明：答出积极2分，消极1分，共3分。

(4) 工业革命（1分）

19. 材料一 从1500至1763年的近代初期是人类历史上一个较关键的时期。正是在这一时期里，地理大发现揭示了新大陆的存在，从而预示了世界历史的全球性阶段的来临。

——斯塔夫里阿诺斯《全球通史》

材料二 英国经济学家史丹莱·杰温斯对19世纪中叶英国的描述：“北美和俄罗斯的平原是我们的粮田；芝加哥和奥得萨是我们的粮仓；加拿大和波罗的海沿岸是我们的林木生产者；印度人和中国人替我们种植茶叶，在东西印度扩大了我们的咖啡园、甘蔗和香料园；西班牙和法国是我们的葡萄园，地中海沿岸各国是我们的菜园主。我们的棉田，长期以来都是分布在美国南方，而现在差不多扩展到地球上各个热带地区去了。”

——周一良、吴于廑《世界通史资料选辑》

材料三 现在的世界是开放的世界。中国在西方国家产业革命以后变的落后了，一个重要原因就是闭关自守。建国以后，人家封锁我们，在某种程度上我们也还是闭关自守，这给我们带来了一些困难。三十几年的经验教训告诉我们，关起门来搞建设是不行的，发展不起来。

——选自《邓小平文选》

材料四 人民网《中国入世十年：改变自己影响世界》报道：“加入世界贸易组织十年，中国在世界贸易组织中的比重从4.3%提高到10.4%，成为世界第一大出口国。中国国内生产总值从全球排名第六位跃居到第二位，年均增速11%……中国平均每年进口7500亿美元的商品相当于为贸易伙伴创造了1400万个就业岗位。”

阅读材料，结合所学知识，回答问题。

- (1) 材料一中的“地理大发现”指哪一历史事件？如何理解其“预示了世界历史的全球性阶段的来临”？（2分）
- (2) 分析材料二中19世纪中叶英国出现这种经济状况的原因。（2分）
- (3) 根据材料三，概括20世纪七八十年代中国实行对外开放的原因，并写出对外开放的格局。（4分）
- (4) 根据材料四，说明中国加入世界贸易组织后所产生的影响。（2分）
- (5) 综合上述材料，归纳当今世界促进经济发展的共同因素。（2分）

【解析】

(1) 新航路开辟（1分）新航路开辟后，打破了世界各地孤立隔绝得状态，世界由分散走向整体，联系日益密切，世界市场开始形成（1分）

(2) 英国资产阶级革命为资本主义经济的发展扫清了障碍，英国经济快速发展，为了占有原材料和市场，英国不断通过殖民扩张，成为最大的殖民帝国，拥有最广阔得海外市场；19世界上半期，英国率先完成了工业革命，成为“世界工厂”；先进交通工具得发明与运用，促进了商品得流通，进一步推动了世界市场得形成等（任意两点得2分）

(3) 原因：闭关自守导致中国长期落后；全球经济一体化发展趋势的客观要求；中国需要对外开放吸引国外资金、学习国外先进得科学技术和现代化管理经验，进行社会主义现代化建设等。（任意两点得2分）

格局：经济特区——沿海开放城市——沿海经济开放区——内地（1分）全方位、多层次、宽领域得对外开放格局。（1分）

(4) 对中国：中国成为世界第一大出口国；促进中国经济发展，增强中国综合国力（1分）

对世界：增强国际竞争力，促进世界经济发展，为贸易过创造大量就业岗位，推动经济全球化。（1分）

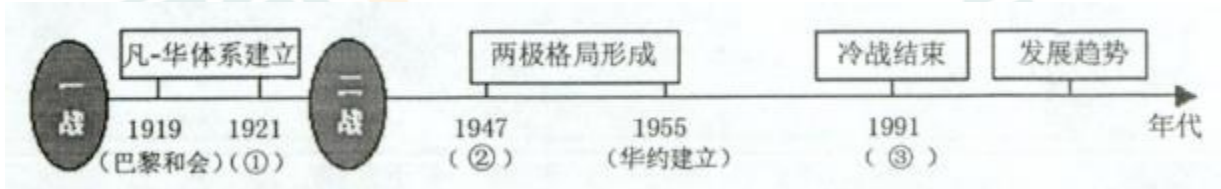
(5) 开放的对外政策；先进得科学技术；经济全球化得推动等。（任意两点得2分）

四、探究题 (本大题共 15 分)

20. 世界政治格局指的是一种相对稳定的国际关系结构。20 世纪以来世界政治格局发生了三次变动, 每一次格局的变动都给世界带来了深远的影响。张老师围绕这一主题, 编制了下面的复习学案, 请你参与完成。

任务一【线索梳理】 (3 分)

(1) 根据时间轴上的提示信息, 写出与序号对应的历史事件。



任务二【列表归纳】 (6 分)

(2) 将下表中空缺的内容补充完整 (3 分)

格局名称	“凡尔赛—华盛顿”体系 (一战后~1939 年)	两极格局 (二战后~1991 年)	③ (1991 年~至今)
对世界的影响	消极: ① 积极: 暂时缓和帝国主义国家之间关系, 维持了一战后资本主义世界相对稳定的局面。	消极: 冷战严重威胁世界和平; 加重各国经济发展的负担; 积极: ②	消极: 局部冲突不断, 出现许多威胁世界和平的因素; 积极: 世界局势总体缓和, 和平与发展成为时代主题。

(3) 结合史实, 分别说明 20 世纪国际关系格局三次变动后中国的国际地位。(3 分)

任务三【史料解读】 (4 分)

近 500 年来发生过三次结构性的权力转变……第一次是西方世界(欧洲)的崛起, 此转变始于 15 世纪, 在 19 世纪急剧加速; 第二次转变发生在 19 世纪末美国的崛起……到 20 世纪, 全球经济、科技、文化和理念, 大半时间由美国主导; 我们目前正在经历的则是现代时尚的第三次权力转变, 或可称为“群雄竞起”的时代。
——(美)法里德·扎卡里亚《后美国世界》

(2) 根据材料中“三次结构性的权力转变”, 任选其中一次用史实加以说明。

任务四【规律总结】 (2 分)

(5) 完成上述任务, 概括影响世界政治格局变动的因素。

【解析】

(1) ① 华盛顿会议 (1 分) ② 杜鲁门主义 (1 分) ③ 苏联解体 (1 分)

(2) ① 消极: 没有从根本上解决帝国主义国家之间得矛盾, 埋下了战后得不稳定因素。(1 分)

② 积极: 两极格局对峙下维持了世界得相对和平; 世界和平民主力量的崛起, 促进了科技进步等。(1 分)

③ 一超多强或多极化趋势。(1 分)

(3) ①巴黎和会上，中国提出收回山东主权，废除二十一条，遭到拒绝；华盛顿会议签订的《九国公约》肯定了美国提出的“门户开放”政策，作为战胜国的中国，仍处于帝国主义列强的共同支配之下，中国国际地位低下；②中国人民取得抗日战争的伟大胜利，对世界反法西斯战争作出重大贡献，中国成为联合国创始国和五个常任理事国之一，中国国际地位得到提升；③新中国成立，奉行独立自主的和平外交政策，朝鲜战争打击了美帝国主义，亚非会议上中国“求同存异”促进了亚非的团结合作，成为建立国际新秩序中的重要力量；改革开放后，中国经济发展，国力增强，冷战后成为多强之一，国家地位提高。

评分说明：分别答出每次格局变动后对中国影响的任意一点得 1 分，共 3 分。

(4) 示例：第一次：文艺复兴推动了欧洲思想解放，为欧洲资本主义得发展奠定了思想文化基础；新航路开辟密切了欧洲和世界的联系，促进了欧洲大西洋沿岸工商业得繁荣；新航路开辟后，西欧各国相继走上殖民扩张与掠夺道路，为欧洲资本主义发展提供了资本原始积累和巨大得海外市场等；英法等国得资产阶级革命推翻了封建统治，确立了先进资产阶级民主制度，推动了资本主义的发展；以英国为主导得欧洲在第一次工业革命中居于主导地位，创造了巨大得生产力，促进了经济的发展等。所以欧洲崛起始于 15 世纪，在 19 世纪急速加剧。

第二次：两次世界大战中，美国都是在战争初期，保持“中立”，向交战双方出售军火，大发战争财；战后，又以战胜国瓜分战利品，其政治地位，经济实力大增；罗斯福新政，进行政策调整和制度创新，不但使美国摆脱了经济危机，而且对资本主义制度进行了调整与完善，巩固了政权；利用第三次科技革命得先进成果，通过援助西欧和日本等，控制资本主义世界，并占据世界市场等。所以说 20 世纪得世界大半时间由美国主导。

评分说明：答出两点以上史实，并加以说明即可得 4 分。

(5) 战争；大国关系的发展变化；国家利益；国家的经济科技实力；综合国力等。（任意两点得 2 分）