



东北师大附中

2013 级高三第六次模拟考试

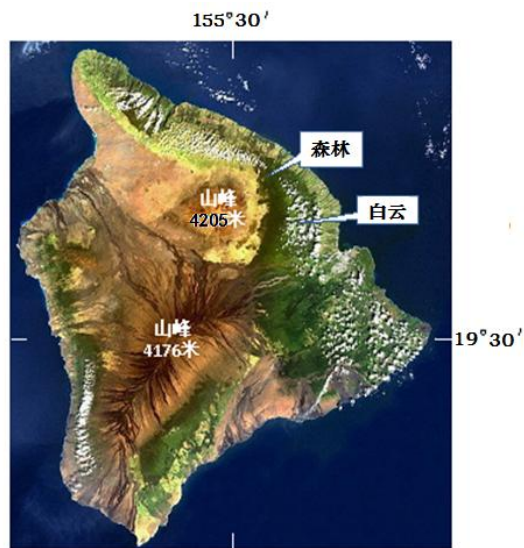
文综试题

本试卷分第 I 卷（选择题）和第 II 卷（非选择题）两部分。共 300 分

第 I 卷（选择题 共 140 分）

本卷共 35 小题，每小题 4 分，共 140 分。在每小题给出的四个选项中，只有一项是符合题目要求的。

下图是某岛屿的遥感影像图。该岛屿面积为 10458 平方千米，在岛屿东北部降水丰富，植被茂密；而在西南部降水很少，植被稀疏。读图完成 1~2 题。



- 下列关于该岛屿位置和成因类型的叙述选项中，正确的是
 - 位于北太平洋；大陆岛
 - 位于南太平洋；珊瑚岛
 - 位于北太平洋；火山岛
 - 位于南太平洋；冲积岛
- 该岛屿东北部山麓的自然植被类型属于
 - 亚热带常绿阔叶林
 - 亚热带常绿硬叶林
 - 热带雨林
 - 热带草原

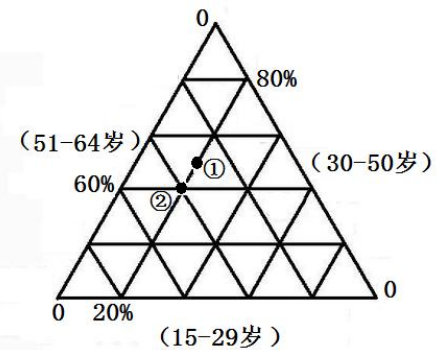
下图为谢贝利河水系示意图，该河发源于高原山地，其上、中、下游分别流经的地形类型为山地、高原、平原。读图完成 3~4 题。



谢贝利河水系示意图

- 下列关于谢贝利河的径流量特点和其最主要补给水源的叙述中，正确的是
 - 自上游向下游增大；冰雪融水
 - 自上游向下游减小；雨水
 - 自上游向下游增大；雨水
 - 自上游向下游减小；冰雪融水
- 该河流下游无支流，推测其主要的成因最可能是
 - 地上河
 - 地形平坦
 - 干湿季分明
 - 降水过少

下图为某发达国家的劳动力年龄结构变化示意图，图中①和②表示该国相隔十年的两个年份劳动力年龄结构，且该国劳动力总数呈下降趋势。读图完成 5~6 题。



- 下列说法中正确的是
 - 劳动力年龄结构指的是各劳动力年龄组人口数占总人口的比重
 - ①代表的劳动力年龄结构对应的年份比②对应的年份时间晚
 - 在①对应的年份，该国 51-64 岁一组的人口数占总人口数的 30%

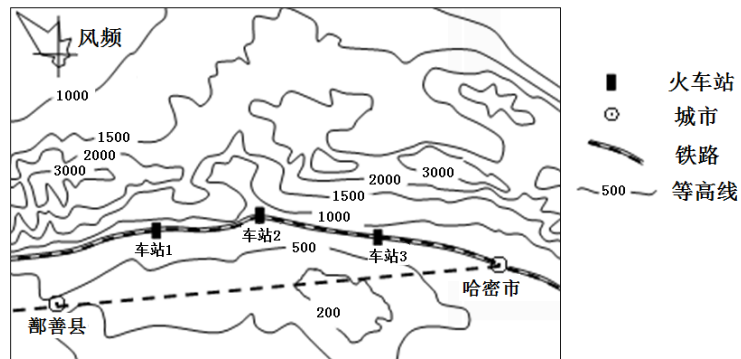
D. 在②对应的年份里该国劳动力年龄结构构成中, 30-50岁和51-64岁比例均为40%

6. 下列关于该国人口方面的说法中, 正确的是

- A. 十年来, 该国某年龄段劳动力比重保持稳定, 最主要原因是降低就业年龄
- B. 引起该国劳动力年龄结构变化的最主要原因是老龄化严重
- C. 引起该国劳动力年龄结构变化的最主要原因是出生率过低
- D. 10年来, 该国人口快速增长

下图中的铁路该路段曾多次发生因大风致列车脱轨、倾覆及设备损毁的现象。读图完成7~8题。

8题。



7. 下列关于图示地区的叙述中, 正确的是

- A. 图示地区导致列车脱轨等现象的主要风向为东南风
- B. 相比较, 图中受大风危害最重的路段在车站2附近
- C. 车站2、车站3受大风危害的差异主要是车站所在地地形类型不同导致的
- D. 本地的四个车站中, 相比较而言, 车站2上下车的换乘客流量最大

8. 该段铁路并没沿虚线的走向而是选择了实线修建, 主要是因为

- A. 虚线线路风灾危害更大
- B. 实线线路修建成本更低
- C. 实线线路洪涝灾害更少
- D. 虚线线路占用耕地更多

“渔光互补”是指在水面上架设太阳能电池板发电、水域用于水产养殖的发展模式。这种模式在我国中东部地区得到推广且以小型分散式为主, 下图为杭州市郊区的某“渔光互补”产业园景观图。读图完成9~10题。



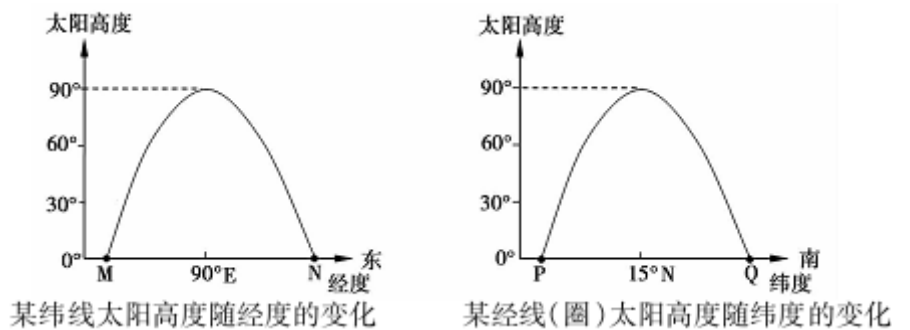
9. 这种生产模式的重大优势是

- A. 提高渔业产量
- B. 提高太阳能利用率
- C. 提升农业技术水平
- D. 提高土地利用效率

10. 与西部大型集中式光伏发电站相比, 该模式采用小型分散式的最主要原因是

- A. 不需要跨区域输送
- B. 靠近消费市场
- C. 光伏发电技术的进步
- D. 建设成本低

读某时刻太阳高度随经度和纬度变化示意图, 回答11题。



11. 图中MN和PQ均是地球表面昼半球的圆弧, 则

- A. MN大于180°, PQ大于180°
- B. MN大于180°, PQ等于180°
- C. MN小于180°, PQ小于180°
- D. MN小于180°, PQ等于180°

12. 小明在北京超市买的普通樱桃是20元/斤, 买进口樱桃是60元/斤; 同一时期他老家樱桃采摘园的樱桃价格是15元/斤。基于上述信息

- A. 可以推断小明老家的物价水平低于北京
- B. 可以推断进口樱桃与超市的普通樱桃是互补商品
- C. 可以推断北京的居民收入水平高于小明老家的居民收入水平
- D. 由于信息量不足, 无法做出以上推断

13. 如图所示, 农户宁先生通过网络信贷平台获得了急需的30万元贷款用于扩大生产规模。按照约定, 红薯收获时宁先生付了3600斤红薯用于抵扣贷款利息。该商业模式中



- ①投资人有权作为股东参与宁先生的经营活动, 分享收益
- ②农户解决了融资难的问题, 又节约了农产品的营销成本
- ③网贷平台承担了债券买卖的特殊功能

④农户、投资人和网贷平台实现了多赢

- A. ①② B. ①③ C. ②④ D. ③④

14. “生猪价格上涨——母猪存栏量增加——生猪供应量增加——生猪价格下跌——大量母猪淘汰——生猪供应量减少——生猪价格上涨……”这是我国生猪养殖行业一直难以跳出的周期性规律。要破解“猪周期”，需要

- A. 根据国内消费量调节生猪养殖量
B. 不断扩大生猪规模化专业化养殖
C. 在猪肉位于高价时扩大生猪养殖量
D. 引导居民改变饮食结构规避涨价风险

15. “在外东奔西跑，不如在家淘宝。”随着农村宽带的普及和电子商务的发展，全国各地出现了一批专业“淘宝村”，村里家家户户以开淘宝店为生，带动了当地物流、包装等相关产业的发展，带动了农村经济的发展。“淘宝村”的发展

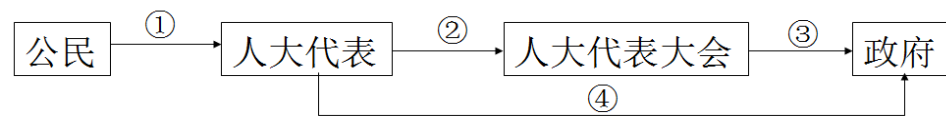
- ①优化了农村经济结构 ②促进了农业生产信息化发展
③增加了农村公共积累 ④体现了专业化分工对生产力的促进作用
A. ①③ B. ②④ C. ②③ D. ①④

16. 李奶奶家住某老旧小区的六层，上下楼很不方便。大家一直盼着小区加装电梯，但一、二层住户因为担心影响采光和噪音干扰，坚决反对。居民老旧小区加装电梯的改造

- ①应要求一、二层住户服从多数人的意见
②应尊重一、二层住户的合法权利，充分协商
③可请求政府为电梯改造提供资金，避免矛盾
④可请求社区居委会发挥自治组织作用，调解纠纷

- A. ①② B. ②④ C. ①③ D. ③④

17. 下图反映了公民、人大代表、人民代表大会和政府之间的关系，选择适当的选项完成下图。



- A. ①监督 ②选举 ③质询 ④提案 B. ①选举 ②提案 ③监督 ④质询
C. ①质询 ②提案 ③选举 ④监督 D. ①监督 ②质询 ③选举 ④提案

18. 不管双边还是多边无论是现实世界还是虚拟空间，“命运共同体”成为贯穿 2015 年中国外交的一个核心理念。这一理念的提出是基于

- ①应对共同危机、化解共同难题的需要 ②和平与发展是当今时代的主题
③维护共同利益是我国对外活动的出发点 ④我国在综合国力竞争中的优势地位
A. ①② B. ①③ C. ②④ D. ③④

19. 某公司开发出一款手机阅读新闻资讯软件，它与 5000 多家新闻媒体合作，基于大数据，根

据用户年龄、性别、职业等特征，自动计算并推荐其感兴趣的资讯。截止 2016 年 3 月，该软件累计激活用户数已达 4.5 亿，月活跃人数超过 1 亿 2 千万。这表明

- ①彰显新的时代精神是文化创新的客观要求
②现代科学技术是推动文化发展的重要动力
③文化交流、借鉴与融合是文化创新的必由之路
④准确把握文化需求才能促进文化产业健康发展

- A. ①② B. ①③ C. ②④ D. ③④

20. 自从塑料被广泛使用以后，“白色污染”一直困扰着人类。最近，中美研究人员通过科学实验发现，黄粉虫可以吞食和完全降解塑料，他们还从黄粉虫体内分离出靠聚苯乙烯生存的细菌，这项研究对治理“白色污染”具有重要意义。由此可见

- ①科学实验是认识的唯一来源 ②实践是认识的目的
③实践是检验认识真理性的唯一标准 ④实践为人们提供日益完备的认识工具
A. ①② B. ①③ C. ②③ D. ③④

21. 习近平总书记在党的十八届五中全会第二次全体会议上讲话指出，“知其事而不度其时则败”，我们要正确面对国际国内环境发生的深刻复杂变化。材料观点告诉我们

- ①要善于分析和把握事物存在与发展的条件
②人们能够根据事物固有的联系建立新的具体联系
③善于抓住机遇才能赢得主动和优势
④自在事物的联系是在主客观条件相互作用下形成的

- A. ①③ B. ①④ C. ②③ D. ②④

22. “人生在世——幼时认为什么都不懂，大学时以为什么都懂，毕业后才知道什么都不懂，中年又以为什么都懂，到晚年才觉悟一切都不懂。”林语堂先生的人生感悟启示我们

- A. 坚持在“扬弃”中推进事物的发展
B. 在曲折中把握事物发展的总体趋势
C. 做好量的积累为质的飞跃创造条件
D. 摒弃旧事物为新事物成长开辟道路

23. 2016 年 1 月 12 日，国务院发布了《关于整合城乡居民基本医疗保险制度的意见》。这是国务院根据我国居民医疗保险现状出台的一项重要政策，是推进医药卫生体制改革、实现城乡居民公平享有基本医疗保险权益、促进社会公平正义、增进人民福祉的重大举措，对促进城乡经济社会协调发展、全面建成小康社会具有重要意义。材料表明

- ①社会意识归根到底都是社会存在的反映 ②发挥主观能动性是认识事物的关键
③改革是发展中国特色社会主义的强大动力 ④意识对改造客观世界具有推动作用
A. ①③ B. ②④ C. ①④ D. ②③

24. 荀子曰：“川渊深而鱼鳖归之，山林茂而禽兽归之，刑政平而百姓归之，礼义备而君子归之”。材料表明荀子主张

- A. 爱护山林，保护环境
B. 以刑辅德，人定胜天
C. 礼法并施，政治清明
D. 天人合一，共同发展
25. 史载唐朝驸马（公主夫婿）选取注重门第出生，多出自勋贵名臣，而明朝严令皇室与大臣联姻，故驸马多出自寒门。这种变化反映了

- A. 中央集权的加强
B. 科举制度的成熟
C. 贵族制度的衰落
D. 专制皇权的强化
26. 麻曾是中国古人重要的纺织原料，很多成语都提到了麻，例如：披麻救火、快刀斩乱麻、皂丝麻线和心乱如麻等，但是到了明代，民间麻的种植量大大减少，其主要原因是
- A. 官营手工业对民间手工业的冲击
B. 来自西方工业化生产的冲击
C. 更加舒适廉价的棉纺织品的冲击
D. 丝织业快速发展带来的冲击
27. 元朝马致远的杂剧《破幽梦孤雁汉宫秋》取材自昭君出塞，其笔下的汉室奸佞当权、外族凭陵，官员都是一批“干领了皇家俸”却不能“安社稷、定戈矛”的废物；汉元帝本来宠爱昭君，却因异族索要而只能恨恨地唱：“我呵，空掌管着文武三千队，中原四百州，只待要割鸿沟。”材料反映出

- A. 元朝统治集团的腐朽无能
B. 士人仕途无望借古讽今
C. 理学空谈误国的惨痛教训
D. 汉族文人家国衰败之痛
28. 19世纪60年代起，中国各地教案层出不穷。义和团运动之后，教案数量迅速呈递减趋势，到辛亥革命前后已渐趋于无。这一变化能够反映当时
- A. 救亡的路径由自强转向革命
B. 中外民族矛盾日趋缓和
C. 国人对西方的认识不断深入
D. 西方各国加强对华控制

29. 阅读表1，根据表格数据可以推知

表1 中国工业资本中官营资本与私营资本的产值（1920~1936年）

	1920年	1936年	年均增长率
官营资本	1.84亿元	2.22亿元	1.18%
民营资本	2.51亿元	16.32亿元	12.41%

- A. 民营资本在国民经济中居于主导
B. 官营资本迅速膨胀
C. 国内政策有利于民族工业的发展
D. 政府弱化经济控制
30. 1903年，清政府制定“癸卯学制”，基本照搬当时的日本学制，但对来自日本的学科名称进行了彻底改换，如将“经济学”改称“理财学”、“古文书学”改称“金石文字学”、“理科”改称“格致科”等等。这反映了清政府
- A. 借鉴日本学制，复兴传统教育
B. 回应改革诉求，兼顾文化尊严
C. 不辨名实之分，追求全盘西化
D. 坚持中体西用，抗拒制度变革
31. 汪康年于光绪十五年(1889)参加乡试，因在“日月星辰系焉”(出自《四书·中庸》)一题中，能“以吸力解‘系’字，罗列最新天文家言”，被主考官认为是“新旧学均有根柢”，因此想把

他列为第一名。这反映了

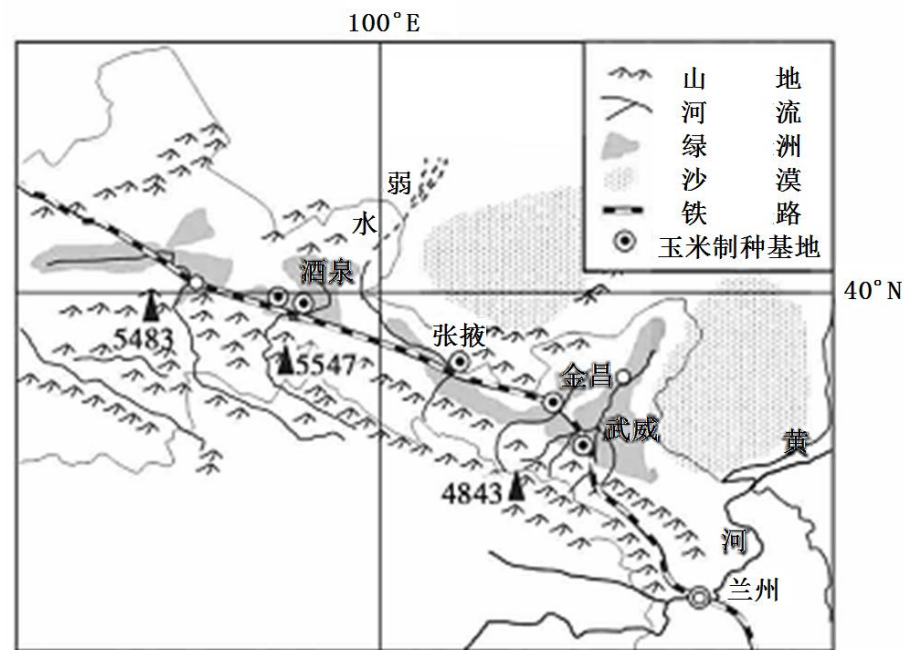
- A. 戊戌变法的开展推动科举制度的变革
B. 科举考试的内容变化顺应了时带潮流
C. 科举取士标准随时代发展而有所不同
D. 中国向西方的学习逐步转向思想领域
32. “分权原则之所以会在1787年被制宪会议采纳，本就不是为了促进效率，而是为了排除独断权力的行使。”“它的目的不是为了避免权力之间的摩擦，而是想通过不可避免的权力摩擦使国民从专制下解脱出来。”材料主要说明
- A. 分权会影响政府的工作效率
B. 分权会带来各权力之间的摩擦
C. 分权以效率为代价来保障民主
D. 分权是历史发展无奈的选择
33. 《欧洲家庭史》记载，在19世纪的西欧，“父母—子女组合，看起来已是主要的家庭组群。但是当各自走出家外谋生后，所有孩子就离开父母的家”。同时，“曾是普遍现象的生产性家庭单位现今成为例外了”，“没有生产职能的家庭便成为一种众多的现象”。这反映了
- A. 工业革命引起家庭职能变化
B. 资本主义手工工场日益增多
C. 海外殖民活动加剧人口流动
D. 西欧封建生产方式逐步解体
34. “它在塑造历史中起到了突出的作用，至少在过去的500年间，它充当了使世界走向一体化的力量”。“它”是指
- A. 工业革命
B. 通信技术
C. 世贸组织
D. 国际贸易
35. 罗斯福说：“我们的政府不是主人，而是人民的工具。……国家的责任之一，就是关怀那些陷入逆境以致不靠别人帮助就连起码的生存资料也无法获得的公民。”据此可知，这一认识
- A. 促使国家全面干预经济
B. 催生了福利国家模式
C. 促进了民主政治的完善
D. 推动了以工代赈措施

第 II 卷（非选择题 共160分）

本卷包括必考题和选考题两部分。第 36 题—41 题为必考题，每个试题考生必须作答。第 42—44 题为地理选考题，第 45—48 为历史选考题，请考生根据要求作答。

36. (24 分) 阅读图文材料，完成下列要求。

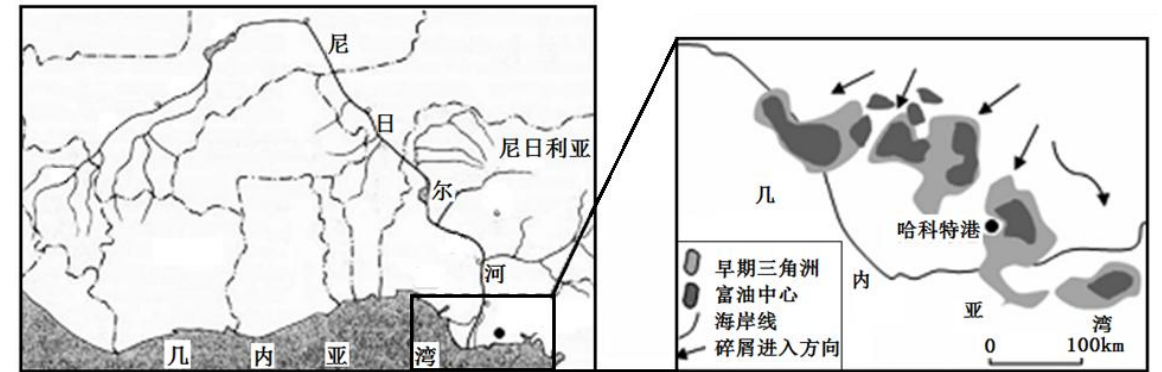
玉米生长期较短，喜高温，苗期较耐旱，此后需水量大。自上世纪 70、80 年代以来，我国在东北、华北、西北等地相继建成了一些玉米制种基地。目前，河西走廊为我国最大的玉米制种基地（如下图所示）。



- (1) 分析在满足玉米生长所需光照和水分方面，河西走廊制种基地比东北、华北的突出优势。(8 分)
- (2) 每年 10 月是河西走廊玉米的集中晾晒时期。种子晾晒场地多在沙漠荒滩和戈壁滩上。说明沙漠荒滩和戈壁滩作为玉米晾晒场地独特的自然条件及种子被脱水的原理。(12 分)
- (3) 有人建议河西走廊进一步扩大制种产业规模，你是否赞同，说明理由。(4 分)

37. (22 分) 阅读图文材料，完成下列要求。

材料一 尼日尔河三角洲是世界第三大湿地，地势低平，大部分地区海拔在 200 米以下，由淤泥、粉砂组成，湖泊、沼泽、河流星罗棋布。尼日尔河三角洲陆下面和海底石油、天然气资源也极为丰富。下面左图示意尼日尔河流域，右图示意尼日尔河三角洲油气资源的分布。



材料二 尼日利亚是非洲第一大石油生产和出口大国。截止 2014 年已探明石油储量居世界第十；已探明天然气储量居世界第八。目前中国是尼日利亚的第三大贸易伙伴。

- (1) 简要分析尼日尔河三角洲形成原因。(8 分)
- (2) 归纳右图中油气资源的分布特点。(6 分)
- (3) 运用区位分析的理论，简述尼日利亚发展石油工业的有利条件。(8 分)

38. (26 分) 阅读材料，回答下列问题。

材料 作为商品粮主产区，今年国家继续在吉林省实施大豆目标价格改革试点。日前，修改完善后的《吉林大豆目标价格改革试点工作实施方案》已经国务院批复准予实施。

基本原则是：价格由市场决定，收益由国家保证。大豆价格由市场供求形成，政府不干预市场价格。保障基本收益，当市场价格低于目标价格时，政府通过财政补贴保障大豆种植者基本收益，稳定大豆生产。

政策包含的主要内容是：在全省范围内取消大豆临时收储政策，政府不干预市场价格，价格由市场供求决定。地方实行大豆目标价格补贴政策应以国家统一公布的大豆目标价格为标准，2015 年目标价格为每吨 4800 元。国家采取生产成本加基本收益的方法确定目标价格水平，定价首先考虑更好地保护农民利益，无论市场价格和生产成本如何变动，都可以保障农民种植不亏。

本、有收益；其次要坚持有利于发挥市场机制的作用，目标价格只保证农民获得基本收益而不是全部收益，农民也要承担部分收益下降风险，提高农业生产竞争力和抗风险能力。

(1) 用市场经济的有关知识谈谈大豆价格改革方案坚持“价格由市场决定，收益由国家保证”原则的意义。(14分)

(2) 结合材料说明政府是如何落实大豆价格改革试点工作的。(12分)

39. (26分) 阅读材料，回答问题。

“十二五”以来，我国各地深入推进开发式扶贫，全力推进农村贫困地区发展，扶贫、脱贫工作成效显著。

材料一 经济贫困背后隐藏着文化的贫困。山区贫穷的根源除了资源贫乏之外，另一个主要症结是人口文化素质低、生产技能差。贫困地区长期固有的落后的思维方式、生活方式和行为习惯，形成所谓贫困文化，这种长期的贫困文化积淀，又反过来成为制约人们摆脱困境、谋求发展的桎梏。

材料二 当前，我国扶贫开发已进入啃硬骨头、攻坚拔寨的冲刺期，必须创新扶贫开发思路，坚持精准扶贫、精准脱贫，要研究贫困人口致贫的原因，把握区域和个体因素的差异，对有劳动能力、无劳动能力、生存条件恶劣等不同类型的贫困户，逐户制定差异化的帮扶措施，做到措施精准；要改变以往“眉毛胡子一把抓”的做法，杜绝“扶富不扶贫”“扶强不扶弱”等问题的发生，要将国家的扶贫政策和当地的实际相结合，坚决打赢这场脱贫攻坚战，确保贫困人口到2020年如期脱贫。

(1) 结合材料一，运用“文化与生活”知识说明在扶贫工作中注重解决文化贫困的合理性。(10分)

(2) 结合材料二，运用矛盾的观点，分析精准扶贫政策的正确性。(12分)

(3) 请为动员全社会力量广泛参与扶贫书写两条公益广告语。(4分)

40. (25分) 民族主义指忠诚于本民族、为维护和扩大本民族的利益而斗争的思想观念。然而民族概念的复杂和不确定性，造成了民族主义概念的混乱。同时，民族主义又同国家密切相关。阅读材料，回答问题。

材料一 一般认为，民族主义是17-18世纪欧洲的产物。英国革命后建立了第一个民族国家，民族主义等同于追求个性解放和参与公共事务的自由主义思想。美国革命和法国革命都产生了民族主义思想，但其内涵有所不同。美国的民族意识是英国殖民统治促发的，其核心内容不仅仅是独立的政治权利，而且同个性自由和宗教信仰多样化密不可分。……在法国，反抗国内暴政同反对外族干涉有着相同的目标，激起了巨大的民族主义热情。

——王缉思《民族与民族主义》

材料二 1919年五四运动后，孙中山曾说：“夫汉族光复，满清倾覆，不过只达到民族主义之一消极目的而已，从此当努力猛进，以达民族主义之积极目的也。积极目的为何？即汉族当牺牲其血统、历史与夫自尊自大之名称，而与满、蒙、回、藏之人民相见乎诚，合为一炉而冶之，以成一中华民族之新主义。”

1925年3月孙中山在其遗嘱中说：“我已嘱咐国民党进行民族革命运动之工作，俾中国可免帝国主义加诸中国的半殖民地状况之羁缚。……希望不久即将破晓，斯时苏联以良友及盟国而欣迎强盛独立之中国。”

——摘编自《孙中山文集》等

(1) 据材料一，比较17—18世纪英国与法美两国民族主义思想内涵有何不同。(6分) 结合所学知识说明美国和法国民族主义思想形成的共同原因。(6分)

(2) 根据材料二，概括孙中山民族主义思想发展的内涵。(4分) 根据材料及所学知识论述该思想的发展对中国社会产生的重大影响(9分)

41. (12分) 阅读材料，完成下列要求。

材料 有历史学者为说明社会转型路径与模式，引用了如下公式： $R = (M_p + M_s) - C$ 。其中： R (result) 为社会转型成果、成效或绩效； M_p (primordial motorization) 为社会转型的原动力； M_s (secondary motorization) 为社会转型进程中的继发性推动力； C (counteractant) 为社会转型进程中形成的社会阻力。

根据该社会转型数学模型，社会转型进程可能会出现三种绩效状态：

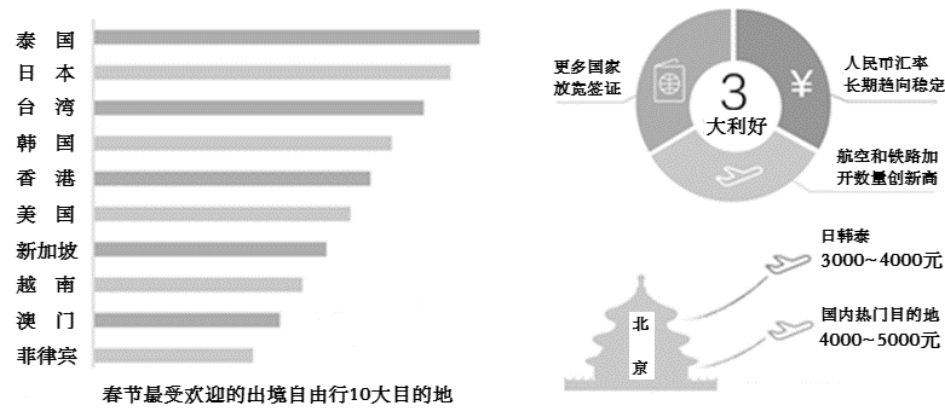
- (1) 当 $M_p + M_s > C$ 时，社会转型顺利推进。
- (2) 当 $M_p + M_s = C$ 时，社会转型停滞不前。
- (3) 当 $M_p + M_s < C$ 时，社会转型倒退崩溃。

运用16~19世纪中国或西方的相关史实，对上述公式进行探讨。

(说明：可以就社会转型中一个或多个绩效状态的公式进行论证；也可以对公式进行修改、补充、否定或提出新公式，并加以论述，要求观点明确、史论结合、史实准确。)

42. (10分)【旅游地理】

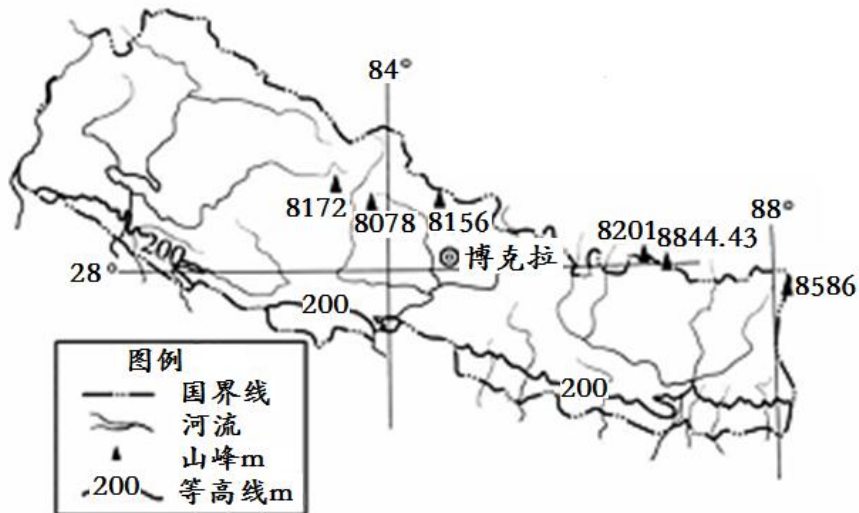
世界旅游组织数据显示,自2012年起中国连续多年成为世界第一大出境旅游消费国。下图为某旅行网发布的《2016春节自由行趋势报告》相关材料。



试分析近年我国游客春节赴境外旅游成为常态的主要原因。

43. (10分)【自然灾害与防治】

2015年4月25日,图示区域博克拉发生8.1级地震,此后,这里多次发生余震,出现了严重的次生地质灾害。



试说明地震发生后博克拉及周边区域可能出现的次生地质灾害类型,并分析次生地质灾害严重的原因。

44. (10分)【环境保护】

据统计,我国城市数量2014年达到658个,城镇化率达到54.77%。城市化的同时,城市也面临环境污染加重、生态系统退化等问题。在城区道路、广场等建设中大量采用花岗岩、釉面砖、水泥、柏油铺设地面,河岸、湖岸、海岸普遍硬化。全国62%的城市发生过水涝,许多城市涝灾和水资源短缺并存。



试分析城市地面包括河岸、湖岸、海岸,普遍硬化带来的水环境问题。

45. (15分)【历史上重大改革回眸】

材料一 现在乡村建设运动已为国人所注意,但乡村建设由何而起呢?……从浅的一层来说,是由于近些年来的乡村破坏而激起来的救济乡村运动;乡村建设运动是起于中国社会建设之要求,中国以经济落后而一切落后,所缺乏的东西太多,因而国人都抱有一种积极建设的要求;中国问题并不是什么旁的问题,就是文化失调——极严重的文化失调。

——梁漱溟:《乡村建设运动因何而起》1937年

材料二 大量文盲的存在,无疑与国家的现代化目标严重冲突,也与国民为国家主人的民国理念严重背离。因此,扫除文盲不仅是乡建最重要团体之一——中会平民教育促进会工作的出发点和重点……山东乡村建设研究院在邹平引入了许多作物新种,“最受欢迎的是美棉”,1932年种植脱利斯美棉(通俗称“脱字棉”)874亩,次年推广到23266亩,第三年达到41283亩。这种棉花质量好,售价高,而且产量大大超过土种棉花,老百姓称之为“八百准”,即每大亩(合3市亩)有收获800斤的把握;……邹平实验县对社会风俗的改良,一方面利用村学、乡学大力宣传复兴传统良风美俗,如敬老爱幼、礼贤尚义、恤贫睦邻、扬善抑恶、勤劳俭朴等,另一方面禁止陈规陋习,如妇女缠足、早婚、吸毒赌博等,提倡“伦理情谊”,鼓励“人生向上”。……梁漱溟认为中国文化所欠缺者一是科学技术,二是团体组织,因此对于发展合作事业有特别的兴趣。邹平县有一个特别著名的合作社——梁邹美棉运销合作社,成立于1932年秋,专门运销研究院正在推广种植良种美棉,以实现农户的增产增收。

——徐秀丽:《民国时期的乡村建设运动》

(1) 根据材料一及所学知识,概括乡村建设运动兴起的背景。(9分)

(2) 根据材料及所学知识概括乡村建设运动的历史作用。(6分)

46. (15分)【近代社会的民主思想与实践】

阅读材料，回答相关问题：

美国建国后不久就发生了两条发展道路的论争。论争中形成的“杰弗逊传统”和“汉密尔顿传统”在美国历史上都产生了重大影响。

材料 政治上，汉密尔顿主张建立强有力的联邦政府和联邦军队。政治哲学上崇拜制度，主张法治，反对平民政治，认为人性本恶，有利益之争，需要有效率的政府主持福利；经济上主张建立有效的联邦银行体制以及税收、信用制度、保护关税制度，反对自由放任主义；主张建立多元经济体，农工商并存，大力发展工商业。汉密尔顿的思想归根结底是以工商立国，仿效英国再造一个工商业繁荣的新国家。

杰弗逊则力主小国家、小政府，主张维护州权，害怕中央政府的大权力吃掉各州的小权力，特别反对宪法中没有保护人民基本权利的条款；经济上力主以农立国，以独立的农场主经济为基础立国，反感发展工商制造业；认为独立的农民才是独立的、诚实有道德的人，农民参与政治可以保证政治纯洁；而工业社会造成拥挤的城市和财富分配不均。杰弗逊想要在新生的北美打破欧洲的旧制度，走独立自耕农的农业发展道路，建立和平、安宁、民主的世外桃源式的理想国。在现实中则是代农场主立言，他本人就拥有一个不小的农场。

——董正华《世界现代化进程十五讲》

(1) 根据材料概括汉密尔顿与杰弗逊论争的主要分歧。(9分)

(2) 根据材料及所学知识分析二者治国策略产生的社会背景。(6分)

47. (15分)【20世纪的战争与和平】

材料 1993年，马克·布罗利在《自由领导者》一书中剖析了英美两个海洋帝国得以长期掌握世界霸权的决定性原因：通过制度化的国际体系缔造，领导者将世界上大部分中小国家变成了自己的利益关联方。在开放国际政治——经济体系下，中小国家可以继续发挥各自在经济领域的相对优势，同时避免承担维护体系的成本。这就是为什么当挑战者出现时，许多与主导性自由霸权国在经济和政治体制方面不甚相同的国家也会选择维护旧秩序：利益相关者在破旧立新方面总是存有疑虑的。相比之下，苏联虽然在增殖权势方面也很有潜力，但由于其对开放性国际市场的怀疑态度，本质上只是在一个封闭空间内进行发展。当其经济出现固有的波动和低潮时，往往难以获得化解危机所需的弹性空间，只有向外扩张，最终败于自由霸权国组织的利益相关联盟。

——刘怡《秩序重构：“二战”的政治遗产》

(1) 根据材料并结合所学知识，分析自由霸权国长期掌握和维持世界霸权的原因。(9分)

(2) 根据材料并结合所学知识，说明苏联在化解危机方面的努力。(6分)

48. (15分)【中外历史人物评说】

阅读材料，回答下列问题。

材料 叶适(1150—1223年)，浙江温州永嘉人，世称水心先生，南宋永嘉学派的集大成者(注：永嘉学派，又称“事功学派”、“功利学派”等，是南宋时期在浙东永嘉(今温州)地区形成的，因其代表人物多为浙江永嘉人，故名)。“学术之会，总为朱(熹)、陆(九渊)二派，而水心断断(争辩)其间，遂称鼎足”。叶适批评朱、陆等人“专以心性为宗主”，耳目之官废而不用，其结果只能是“舍实事而希影象，弃有用而为无益？此与孟子所谓‘毁瓦画墁’何异，盖学者之大患也。”

叶适曾任兵部侍郎、工部侍郎、礼部侍郎、知建康府兼沿江制置使、宝文阁待制兼江淮制置使等官职，对现实情况了解得较为深切。著述甚多，对当时的政治、军事、法律、财政、金融、民事等各方面的问题，都有深刻的论述，并提出了自己的主张。“崇义以养利”，“不抑天下之道”，“以国家之力扶持商贾，流通货币”。

——摘编自郑师渠总主编《中国文化通史·两宋卷》等

(1) 根据材料并结合所学知识，分析叶适上述主张出现的背景。(9分)

(2) 叶适学术地位很快衰落下去。根据材料并结合所学知识，指出其衰落的原因。(6分)