

## 太原市 2016-2017 学年第二学期阶段性测试试卷分析

# 七年级地理

本试卷为闭卷笔答，答题时间 90 分钟，满分 100 分

(考试时间：下午 2:30—4:00)

### 注意事项：

1. 本试卷分第 I 卷（选择题）和第 II 卷（非选择题）两部分。
2. 回答第 I 卷前，考生务必将自己的姓名、学校、年级和联系方式涂写在答题卡上。
3. 回答第 I 卷时，选出每小题答案后，用 2B 铅笔把对应题目的答案标号涂黑。如需改动，用橡皮擦干净后，再涂选其他答案标号。写在本试卷上无效。
4. 回答第 II 卷时，将答案写在答题卡相应位置上。写在本试卷上无效。
5. 考试结束后，将本试卷和答题卡一并交回。

### 第 I 卷（选择题共 40 分）

#### 注意事项：

1. 答第 I 卷前，考生务必用 0.5 毫米黑色字迹的中性笔将所需填写的内容填在答题卡上。
2. 每小题选出答案后，请将答案填涂在答题卡上，答案写在试题卷上无效。

一、选择题（下列各题的选项中，只有一项正确，请将正确选项的字母填入下表相应位置。每小题 2 分，共 30 分）

题号	1	2	3	4	5	6	7	8	9	10	11	12	13	14	15
答案	B	D	A	D	C	A	B	C	B	A	C	C	D	B	C

1. 下列大洲的轮廓图中，表示亚洲的是



正确选项：B

本题考查大洲的轮廓图。A 项是北美洲，C 项是非洲，D 项是南美洲

2.本初子午线(0°经线)的地面标志位于

- A.中国北京天文台      B.美国华盛顿天文台  
C.法国巴黎天文台      D.英国伦敦格林尼治天文台原址

本题考查记忆重要经线的地理意义。本初子午线又叫零度经线，是人为设定的，与当时英国的航海事业有关，1884年，正式确定以通过英国伦敦格林尼治天文台原址的经线作为全球的零度经线。

3.从南极到北极，纬度的变化规律是

- A.由大变小再增大      B.逐渐增大      C.由小变大再减小      D.逐渐减小

本题考查纬度的变化规律。纬度在0°至90°之间，赤道为0°，由赤道向南或向北逐渐增大，北纬90°是北极，南纬90°是南极。所以从南极到北极是从90°到0°，再到90°。

4.有指向标的地图上，指向标的箭头一般指示

- A.东方      B.南方      C.西方      D.北方

本题考查地图上的方向。地图上的方向有不同的表示方式，有的用指向标箭头指向北方定向，有的用经纬网确定方向，有的采用上北下南，左西右东规定方向。

5.一般情况下，太原市一天当中最高气温出现在

- A.上午10点左右      B.日出前后      C.午后2点左右      D.中午12点

本题考查气温的日变化。以一天为周期的气温变化，一天中最高气温出现在午后2时左右，最低气温出现在日出前后

6.下列叙述气候的是

- A.太原冬季寒冷干燥，夏季高温多雨      B.柴门闻犬吠，风雪夜归人  
C.东边日出西边雨，道是无晴却有晴      D.夜来风雨声，花落知多少

本题考查天气与气候。天气是某个地方在短时间内的天气状况，特点是多变；气候是一个地方多年的天气平均状况，具有相对稳定性；A项描述的就是太原冬季或夏季稳定的天气状况；B项描述的是“雪”，C项是指多变的春日天气，“有晴”与“无晴”；D项描述的是“风”和“雨”。

7.位于非洲，被称为“赤道雪山”的是

- A.喜马拉雅山      B.乞力马扎罗山      C.阿尔卑斯山      D.安第斯山

本题考查世界著名山脉的地理位置。乞力马扎罗山位于非洲，出于赤道附近，海拔5895米，是非洲第一高峰，山顶冰封峭立，白雪皑皑，形成奇异的“赤道雪山”景观。A位于我国的青藏高原，C位于欧洲，D位于北美洲西部。

8.下列地区中，主要分布着黄色人种的是

- A.非洲北部和西部                      B.北美洲中部和东部  
C.亚洲东部和东南部                      D.大洋洲西部和北部

本题考查人种的分布。黑色人种主要分布在非洲的中部和南部；白色人种主要分布在欧洲、北美洲、非洲的北部、亚洲的西部和南部及大洋洲；黄色人种主要分布在亚洲的东部、美洲的印第安人和北冰洋沿岸的因纽特人也属于黄色人种。所以 ABD 地区主要分布白色人种，C 地区分布黄色人种。

9.世界上使用人数最多和使用范围最广的语言分别是

- A.英语和汉语                      B.汉语和英语                      C.日语和法语                      D.法语和德语

本题考查语言的分布。使用人数最多的语言是汉语，因其是汉族的主要语言，使用汉语的总人数超过 12 亿；而使用范围最广的是英语，和其早期拓展的殖民地统治有关，其殖民地遍布世界各地。

读右图，完成 10—11 题。

10.下列地区中，属于世界人口稠密区的是

- A.亚洲东部和南部                      B.亚洲北部  
C.非洲北部和南部                      D.北美洲北部

11.从纬度位置看，世界人口稠密区主要分布在

- A.中、高纬度地区                      B.低纬度地区  
C.中、低纬度地区                      D.高纬度地区



本题考查世界人口的分布。

10 题：依图来看，世界人口主要分布在亚洲的东部和南部、欧洲、北美洲东部四个地区，只有 A 选项符合。

11 题：低纬度是 0—30 度，中纬度 30—60 度，高纬度是 60—90 度，所以看图可知，这四个地区主要位于 0—60 度之间，即中低纬度地区。

12.目前世界上信仰人数最多的宗教是

- A.佛教                      B.天主教                      C.基督教                      D.伊斯兰教

本题考查宗教的情况。佛教、基督教和伊斯兰教是世界三大宗教，天主教是基督教三大教派之一，其中信徒最多和流传最广的宗教是基督教，教徒总数超过 10 亿，分布在 100 多个国家和地区，主要分布在欧洲、美洲、大洋洲。伊斯兰教主要分布在亚洲的西部和东南部，非洲的北部和东部；佛教主要分布在东亚、东南亚和南亚的斯里兰卡。

13.下列国家中，属于发达国家且位于北美洲的是

- A.日本                      B.澳大利亚                      C.巴西                      D.加拿大

本题考查国家的地理位置及发展程度。巴西为发展中国家，其余为发达国家，日本位于亚洲，澳大利亚位于大洋洲，巴西位于南美洲，加拿大位于北美洲。

14.下列组织中，目前属于全球最大的区域经济合作组织之一的是

- A.“世界贸易组织”                      B.“亚太经济合作组织”  
C.“东南亚国家联盟”                  D.“石油输出国组织”

本题考查世界重要的经济组织。A 是全球性的，最重要的国际经济组织之一；C 是区域性经济组织，但不是最大的；D 主要宗旨是协调的统一成员国的石油政策，维护各自和共同的利益，只协调石油经济发展；B 是亚太地区经济合作的机构，是最大的区域经济合作组织。

15.2017 年 1 月 28 日是农历春节，这一天太原市的昼夜长短状况是

- A.昼长夜短                                  B.昼夜长短相等  
C.昼短夜长                                  D.昼最短夜最长

本题考查昼夜长短的变化规律。1 月 28 日太阳直射南半球，北半球昼短夜长。

## 二、连线题(共 10 分)

16.(4 分)将下列地理现象与相对应的影响因素用直线连接起来。

- |                     |       |
|---------------------|-------|
| A.赤道地区阳光灼热，两极地区冰天雪地 | ①人类活动 |
| B.五台山是我国华北地区著名的避暑胜地 | ②纬度位置 |
| C.亚欧大陆沿海地区比内陆地区降水丰富 | ③地形因素 |
| D.冬季，我国北方塑料大棚里可生长蔬菜 | ④海陆分布 |


【分析】本题考查世界的气候。A 赤道和极地之间的温度差异主要是太阳辐射的纬度分布造成的；B 夏季，五台山属于山地，海拔高，气温低，可避暑，所以是地形因素；C 沿海地区受海洋湿润气流的影响，易形成降水，所以比内陆降水多，属于海陆分布差异；D 通过人类活动改变了北方冬天蔬菜生长的气候条件。

【答案】A—② B—③ C—④ D—①

17.(6分)将下列宗教建筑与相对应的宗教及建筑名称分别用直线连接起来。

A 佛教


a.



①清真寺

B.伊斯兰教


b.



②寺庙

C.基督教

c.



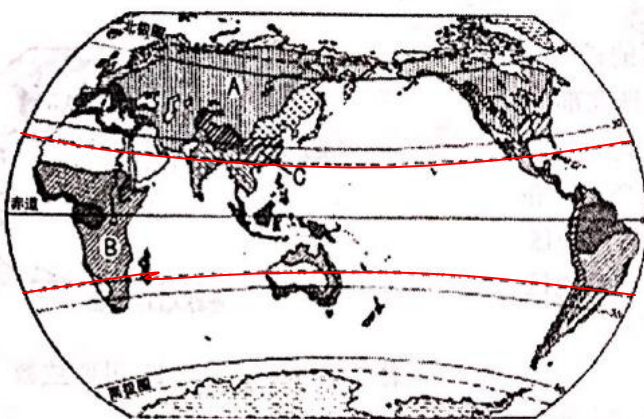
③教堂

【分析】本题考查宗教对建筑的影响。佛教：佛塔、寺庙、石窟等；伊斯兰教：圆形穹顶、清真寺；基督教：尖顶、十字架，教堂风格。

【答案】A—c—② B—a—① C—b—③

### 三、读图分析题(共 45 分)

18. (15分)读“世界气候类型分布图”，完成下列各题。



- 热带雨林气候
- 热带草原气候
- 热带季风气候
- 热带沙漠气候
- 亚热带季风和亚热带湿润气候
- 地中海气候
- 温带海洋性气候
- 温带季风气候
- 温带大陆性气候
- 极地气候
- 高原山地气候

(1) 在图中用 2B 铅笔或碳素笔分别描出南、北回归线。(2 分) (图中红线所示)

(2) 写出图中字母所代表的气候类型。(3 分)

A. \_\_\_\_\_ B. \_\_\_\_\_ C. \_\_\_\_\_

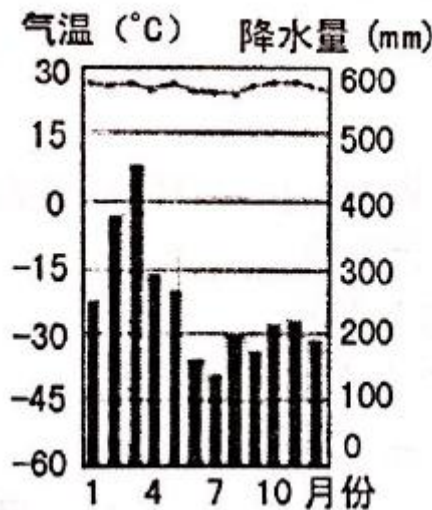
**【分析】** 本题考查世界气候的分布。A 位于亚洲大陆的中部和北部，深居内陆，气候干燥，降水少，所以是温带大陆性气候；B 位于非洲的中部和南部，海拔高，气候湿润，适宜牧草生长，属于热带草原气候；C 位于亚洲的东部，海陆热力性质差异明显，属于季风气候。

**【答案】** 温带大陆性气候 热带草原气候 亚热带季风气候 (或亚热带季风和亚热带湿润气候)

(3) 世界气候类型的分布有一定的规律性，其中主要分布在低纬度地带的有热带雨林气候、\_\_\_\_\_气候、\_\_\_\_\_气候和\_\_\_\_\_气候。(3 分)

**【分析】** 本题考查热带的四种气候类型

**【答案】** 热带草原 热带沙漠 热带季风



(4) 上图为某地气温曲线和降水量柱状图，该地年均温在 20°C 以上，位于\_\_\_\_\_带，年降水量在 2000mm 以上，属于\_\_\_\_\_气候。七大洲中，此种气候类型分布最广的是\_\_\_\_\_洲。(3 分)

**【分析】** 本题考查热带雨林气候的特点和分布

**【答案】** 热 热带雨林 南美

(5) 下列现象中，能引起全球气候变暖的是( ) (2 分)

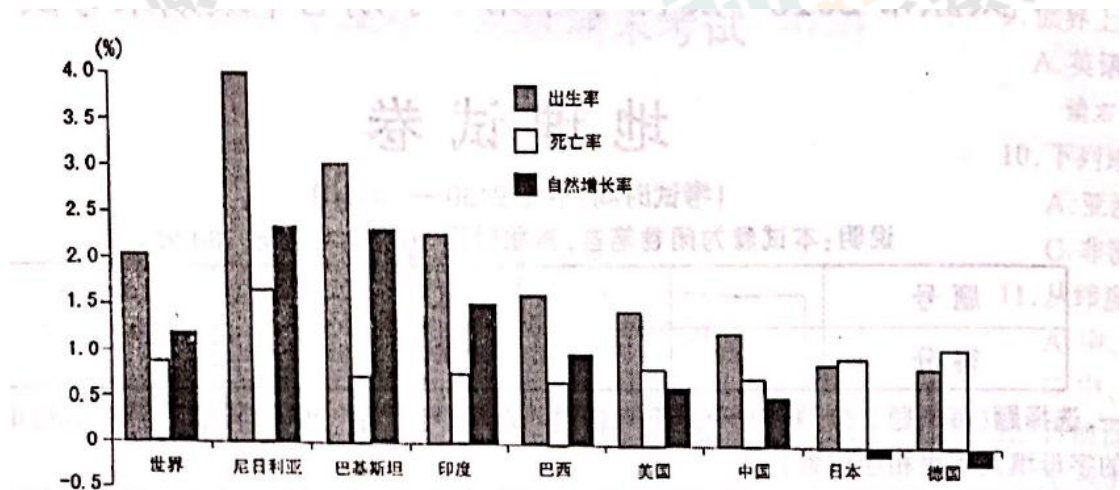
- A. 沙漠面积扩大
- B. 二氧化碳气体增多
- C. 城市规模扩大
- D. 水土流失更加严重

**【分析】** 本题考查全球气候变暖的原因，二氧化碳增多，吸收的地面辐射增多，气温升高。AD 属于生态问题，C 会形成城市的热岛效应，不会引起全球的变化。

(6) 人类有哪些行为会对气候或天气产生不利影响?(2 分)

**【答案】** 过度放牧；过度开垦；过度砍伐；围湖造田；大量燃烧矿物燃料；焚烧垃圾；街边烧烤；汽车尾气；工业废气随意排放等（答出任意两点即可得 2 分）

19.(15 分)读“世界不同国家的人口增长图(2008 年)”，完成下列各题。



(1) 世界人口增长的速度通常用人口\_\_\_\_\_来表示，图中尼日利亚的人口出生率约为\_\_\_\_\_%，死亡率约为\_\_\_\_\_%，人口自然增长率约为\_\_\_\_\_%，这些数据表明该国人口在\_\_\_\_\_（增加或减少）。(5 分)

**【分析】** 人口自然增长率=人口出生率-人口死亡率，人口自然增长率大于 0 表明人口增长，小于 0 表明人口减少

**【答案】** 自然增长率 4.0 1.7 2.3 增加

(2) 德国的人口自然增长率为- 0.2%，表明人口在\_\_\_\_\_（增加或减少），当人口自然增长率等于零则表明人口保持平衡。(1 分)

**【答案】** 减少

(3) 目前，世界人口呈增长趋势，但存在明显的地区差异。发达国家与发展中国家相比，一般来说，\_\_\_\_\_人口增长迅速，\_\_\_\_\_人口增长缓慢。(2 分)

**【答案】** 发展中国家 发达国家

(4) 人口增长过快或过慢会带来许多问题。请分别写出漫画 A.B 所反映的人口问题。(4 分)



A

人口问题: \_\_\_\_\_



B

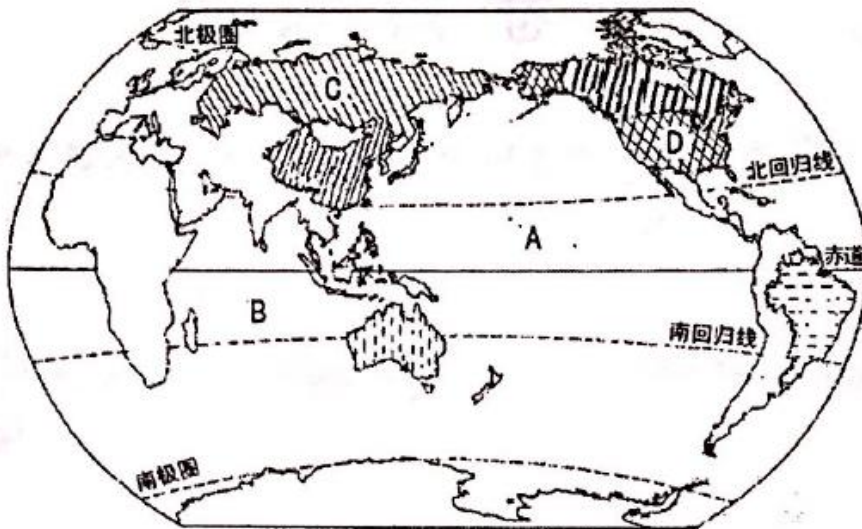
人口问题: \_\_\_\_\_

**【答案】A: 就业困难 B: 人口老龄化 (或养老负担加重)**

(5) 甲说人是生产者, 数量越多创造的财富就越多, 所以人越多越好;乙说人是消费者, 数量越多消耗的资源 and 排放的废物就越多, 所以人越少越好。请针对甲乙二人的人口观点, 说说你的人口观点。(3分)

**【答案】**人口增长过快会带来资源紧缺、交通拥挤、住房紧张、就业困难等问题, 对资源环境造成巨大压力, 给社会经济带来沉重负担等 (1分) 人口增长过慢会造成人口老龄化、劳动力短缺、国防兵源不足、养老负担过重等问题 (1分) 所以人口的增长要与社会、经济的发展相适应, 与资源利用、环境保护相协调 (1分)

20.(15分)读“陆地面积居世界前六位的国家分布示意图”, 完成下列各题。



(1) 在图中用 2B 铅笔或碳素笔描出中国大陆的轮廓。(1分) (略)

(2) 写出图中字母所代表的地理事物的名称。(4分)

大洋:A \_\_\_\_\_ B \_\_\_\_\_ 国家:C \_\_\_\_\_ D \_\_\_\_\_

**【答案】**太平洋 印度洋 俄罗斯 美国




(3) 陆地面积居世界前六位的国家中，位于大洋洲的是\_\_\_\_\_；位于南美洲的是\_\_\_\_\_ (2分)

【分析】陆地面积世界前六依次为：俄罗斯（亚洲）加拿大（北美洲）中国（亚洲）美国（北美洲）巴西（南美洲）澳大利亚（大洋洲） 【答案】澳大利亚 巴西

(4) 世界经济发展中，发达国家和发展中国家存在较大差异。请将下列叙述的序号填入相应图里。(6分)

- ①出售计算机、轿车等工业品                      ②出售石油、木材等初级产品  
③农业生产以半机械化或手工生产为主          ④赚钱多                      ⑤赚钱少  
⑥大部分人生活在城市



【分析】发达国家：经济发达，主要为制造业，生产大型工业产品，城市化水平高；发展中国家：经济发展程度较低，主要为加工业，依赖资源和能源。

【答案】发达国家：①④⑥                      发展中国家：②③⑤

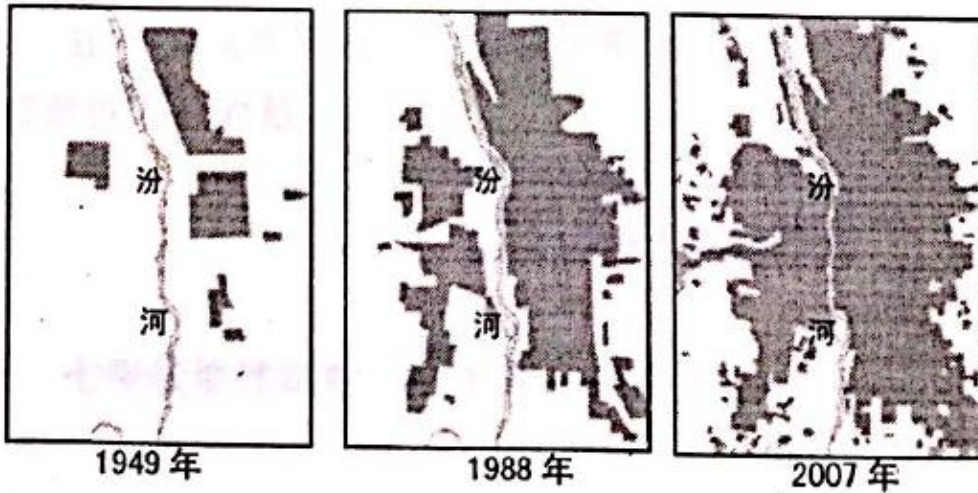
(5) 请分别说出“南北差距”和“南南合作”的含义。(2分)

【答案】“南北差距”：指发达国家和发展中国家的经济差别  
“南南合作”：指发展中国家之间的合作

#### 四、材料分析题(共 15 分)

21.(15分)阅读图文材料，完成下列各题。

材料一 “太原城市建设用地规模的变化图”



材料二 据史料记载，“太原”一词有“大而加丢谓之太”、“高而平坦谓之原”之意，在多山的山西有“大平原”之誉。黄土沃其野，汾河贯其中，有着 2500 多年历史的太原被称为“龙城”。然而，2016 年 11 月太原市先后两次被雾霍烧城，空气污染指数分别达到 367 和 364，属于重度污染。两次雾霍天气的首要污染物都是 PM2.5，主要来源于供暖、工业废气、汽车尾气、建筑工地和道路交通产生的扬尘等，专家提醒，驾驶人员小心驾驶，呼吸道疾病患者尽量减少外出，出行人员要戴上口罩等。

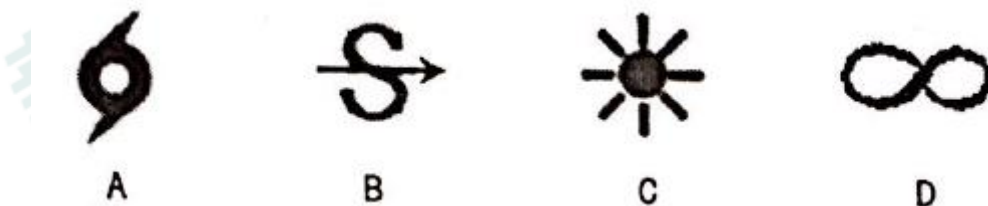
(1) 聚落一般可分为\_\_\_\_\_聚落和\_\_\_\_\_聚落，太原属于\_\_\_\_\_聚落。(3分)

**【答案】**城市 乡村 城市

(2) 从 1949 年到 1988 年至 2007 年，太原城市沿着\_\_\_\_\_河两岸向东西方向和\_\_\_\_\_方向扩展，城市建设用地规模在不断\_\_\_\_\_ (扩大或减小)。(3分)

**【答案】**汾 南北 扩大

(3) 下列天气符号表示霾的是( ) (2分)



**【答案】**D

(4) 以太原市为例，简析聚落分布与当地自然环境的关系。(3分)

**【分析】**从自然地理要素：地形、土壤、气候、水源、交通等分析

**【答案】**太原市分布在汾河谷地，地形平坦；土壤肥沃；气候适宜；水源充足；交通便利（答出任意三点即可得 3 分）

(5) 雾貌天气的污染物主要来源于哪里?会带来哪些危害?(4分)

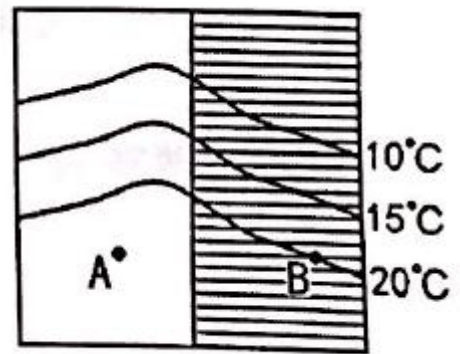
**【答案】** 污染物主要来源于供暖；工业废气；汽车尾气；建筑工地和道路交通产生的扬尘等  
危害：能见度降低，容易引发交通事故；容易引发呼吸道疾病；对心血管患者产生影响；影响户外活动等

**附:奖励题**(要自信，你能行!)(3分)(加入总分不再另计，高出满分者也按100分计)

22.(3分)读“某区域等温线分布示意图”(空白部分表示陆地，阴影部分表示海洋)，完成下列各题。

(1) 图示表示的是\_\_\_\_\_半球(南或北)。(1分)

(2) A、B两地相比，气温较高的是\_\_\_\_\_地，此时正值\_\_\_\_\_季(夏或冬)。(2分)



**【分析】** (1) 由等温线知，温度由南向北逐渐减少，表明由南向北纬度递增，所以为北半球 (2) B点为20°C，A点大于20°C，表明陆地温度比海洋温度高，应该是夏季。

**【答案】** (1) 北 (2) A 夏 (2分)

更多的真题下载地址：<http://ty.xdf.cn>

咨询电话：0351-3782999