

太原市 2016-2017 学年第一学期期中试卷分析

七年级地理

本试卷为闭卷笔答，答题时间 90 分钟，满分 100 分

(考试时间：上午 10:00—11:30)

注意事项：

1. 本试卷分第 I 卷（选择题）和第 II 卷（非选择题）两部分。
2. 回答第 I 卷前，考生务必将自己的姓名、学校、年级和联系方式涂写在答题卡上。
3. 回答第 I 卷时，选出每小题答案后，用 2B 铅笔把对应题目的答案标号涂黑。如需改动，用橡皮擦干净后，再涂涂其他答案标号。写在本试卷上无效。
4. 回答第 II 卷时，将答案写在答题卡相应位置上。写在本试卷上无效。
5. 考试结束后，将本试卷和答题卡一并交回。

第 I 卷（选择题共 40 分）

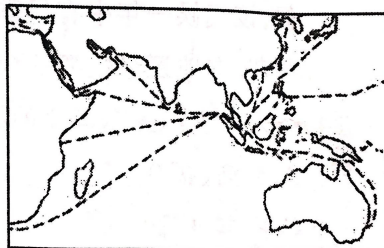
注意事项：

1. 答第 I 卷前，考生务必用 0.5 毫米黑色字迹的中性笔将所需填写的内容填在答题卡上。
2. 每小题选出答案后，请将答案填涂在答题卡上，答案写在试题卷上无效。

一、选择题（下列各题的选项中，只有一项正确，请将正确选项的字母填入下表相应位置。每小题 2 分，共 30 分）

题号	1	2	3	4	5	6	7	8	9	10	11	12	13	14	15
答案	D	C	B	C	A	D	D	C	A	C	C	B	A	B	D

右图为东南亚某海峡海上航线示意图。读图完成下题。



1.位于东南亚的世界著名海峡是：

- A. 土耳其海峡 B.直布罗陀海峡 C.麦哲伦海峡 D.马六甲海峡

本题考查世界著名海峡的位置。土耳其海峡是亚欧的分界线；直布罗陀海峡是非洲和欧洲的分界线；麦哲伦海峡是南美洲大陆的最南端；只有马六甲海峡位于苏门答腊岛和马来半岛之间，位于东南亚地区。故 D 正确。

2.东南亚的地理位置非常重要，因其地处：

- A.非洲和大洋洲、印度洋和太平洋的“十字路口” B.亚洲东部，太平洋东岸
C.亚洲和大洋洲、印度洋和太平洋的“十字路口” D.大洋洲东部，印度洋西岸

本题考查东南亚地区。东南亚被称作是“十字路口”连接了亚洲和大洋洲，太平洋和印度洋，故 C 正确。

3.一般根据体质特征可将人类分为黄、白、黑三大人种，亚洲是：

- A.白色人种的故乡 B.黄色人种的故乡 C.黑色人种的故乡 D.混血人的故乡

本题考查人种。白色人种主要分布在欧洲；黑色人种主要分布在撒哈拉以南的非洲；混血人种主要分布在美洲，故 B 正确。

4.深居亚欧大陆内部，降水稀少，气温日较差和年较差都大的气候类型是

- A.温带海洋性气候 B.地中海气候 C.温带大陆性气候 D.温带季风气候

本题气候类型的特征和成因。温带海洋性气候，受西风影响，全年温和湿润；地中海气候，夏季受副高控制，干燥少雨，冬季受西风控制，温和多雨；温带季风气候，由于海陆热力性质差异，夏季高温多雨，冬季寒冷干燥，故 ABD 错误 C 正确。

5.亚洲各国经济发展水平不同，多属于发展中国家，唯一的发达国家是：

- A.日本 B.韩国 C.老挝 D.新加坡

本题国家经济发展水平差异。亚洲唯一的发达国家是日本，GDP 总量全球第三。故 A 正确。

6.西亚一些国家的居民，常把床铺放在屋顶上睡觉，这是因为

- A.能欣赏美丽的夜空 B.当地气候温暖湿润 C.能呼吸新鲜空气 D.当地气候炎热少雨

本题考查气候。西亚主要的气候类型是热带沙漠气候，全年炎热干燥，极少下雨，故 D 正确。

7.阿拉伯人是西亚分布最广泛的居民，他们主要信仰

- A.佛教 B.犹太教 C.基督教 D.伊斯兰教

本题考查世界主要宗教及其分布地区。阿拉伯人主要信仰伊斯兰教，耶路撒冷被伊斯兰教、犹太教、基督教奉为“圣城”。佛教主要分布在南亚，东南亚等地。，故 D 正确。

8.世界上平均海拔最高的大洲是

- A.南美洲 B.欧洲 C.南极洲 D.亚洲

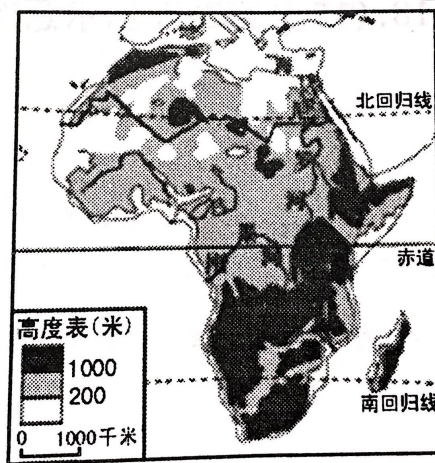
本题考查世界地形。南极洲因为大部分被冰雪覆盖，所以整体海拔较高；仅次于南极洲的是非洲，非洲被称为“高原大陆”，故 C 正确。

9.下列关于南极地区的叙述正确的是

- A.以大陆为主体 B.全部被冰层所覆盖 C.以海洋为主体 D.全部位于南极圈以北

本题考查南极地区的地理环境。南极 99% 的大陆都是被冰雪覆盖，以陆地为主，大部分都位于南极圈以南。故 A 正确

右图为“撒哈拉以南非洲示意图”。读图完成 10、11 题。



10.下列关于撒哈拉以南非洲自然环境的叙述，正确的是

- A.介于太平洋和大西洋之间 B.全部位于南半球，被称为“热带大陆”
C.地形以高原为主，地势由东南向西北倾斜 D.世界上海岸线最曲折的地区，多海湾和半岛

本题考查撒哈拉以南的非洲自然地理环境特征。这部分地区介于大西洋和印度洋；并不是全部位于南半球，南北半球都有；欧洲才是世界上海岸线最曲折的地区，多半岛和海湾。故 C 正确。

11.撒哈拉以南非洲分布最广的植被类型是：

- A.热带雨林 B.温带草原 C.热带草原 D.温带森林

本题考查自然带。撒哈拉以南的非洲分布最广的气候类型是热带草原气候，所以分布最广的植被类型是热带草原，故 C 正确。

12.欧洲西部河流众多，其中流经国家最多的国际河流是：

- A.莱茵河 B.多瑙河 C.易北河 D.罗讷河

本题考查西欧的河流。河网较密，水量充沛，河流较短，水位稳定，流经的国家众多。故 B 正确。

13. 欧洲西部温带海洋性气候分布广泛, 大面积种植多汁牧草, 适宜发展:

- A. 畜牧业和养殖业 B. 林业和养殖业 C. 种植业和花卉业 D. 交通业和加工业

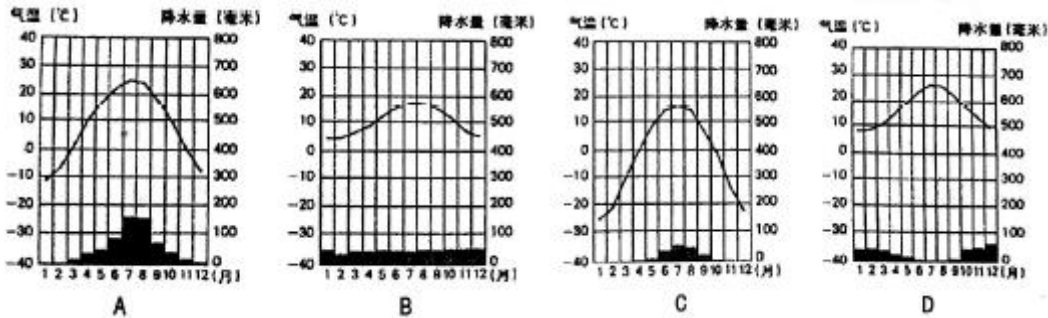
本题考查西欧的农业。温带海洋性气候, 全年温和湿润, 有利于多汁牧草的生长, 主要发展畜牧业。故 A 正确。

14. 下列关于欧洲西部经济高度发达的叙述, 正确的是:

- A. 工业中心众多, 分布均衡 B. 工业以制造业为主
C. 资本主义经济发展时间短 D. 农业在经济中所占比重大

本题考查西欧的经济。欧洲西部是工业革命的发源地, 目前也是世界上工业发达的地区之一。欧洲西部的工业以制造业为主, 从事制造业的人口比例很高。故 B 正确。

15. 油橄榄、葡萄、柑橘是欧洲西部重要的经济作物, 适合这些作物生长的气候类型是



本题考查气候类型和自然带。油橄榄、葡萄、柑橘主要是地中海气候影响下的植被带, 故 D 正确。

二、连线题 (共 10 分)

16. (4 分) 将下列地理现象与其所属地区用直线连接起来。

- | | |
|-------------------------|---------------------|
| A. 白色长袍是当地人的传统服饰 | ①撒哈拉以南非洲 |
| B. 成群的角马、羚羊往水草茂盛的地方迁徙 | ②西亚 |
| C. 曲折幽深的挪威峡湾景色宜人 | ③极地地区 |
| D. 巨厚的冰层覆盖在大地上、漂浮在洋面上 | ④东南亚 |
| E. 世界上橡胶、油棕等热带经济作物的最大产区 | ⑤欧洲西部 |

【答案】: A②; B①; C⑤; D③; E④

17. (6 分) 将下列旅游景点与其所属国家用直线连接起来。

- | | | |
|-------------|-------|-----------------------------------|
| A. 热带 | ①四季分明 | a. $0^{\circ} \sim 23.5^{\circ}$ |
| B. (南、北) 温带 | ②极昼极夜 | b. $66.5^{\circ} \sim 90^{\circ}$ |

C. (南、北) 寒带

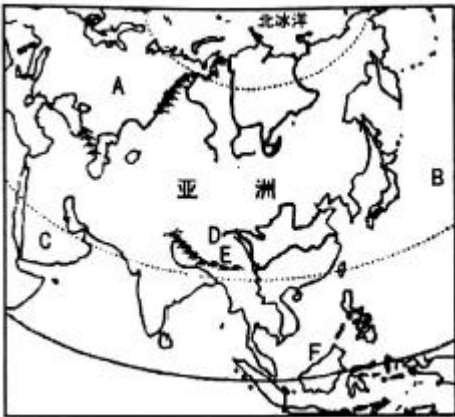
③阳光直射

c.23.5° ~66.5°

【答案】: A③a; B④; C⑤; D①; E②

三. 读图分析题 (共 45 分)

18. (15 分) 读“亚洲示意图”, 完成下列各题。



(1) 在图中用 2B 铅笔或碳素笔描出赤道 (1 分)

(2) 写出图中字母所代表的地理事物的名称。(6 分)

大洲: A. _____ 大洋: B. _____ 半岛: C. _____

高原: D. _____ 山脉: E. _____ 群岛: F. _____

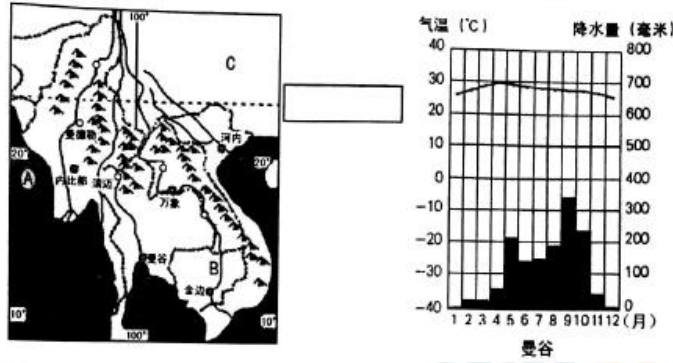
(3) 亚洲河流众多, 大多发源于中部且呈 _____ 状分布, 说明亚洲的地势 _____ 高, _____ 低。(3 分)

(4) 亚洲的东部和南部是世界上季风气候最典型的地区。冬季, 风从亚欧大陆内部的 _____ 和蒙古一带吹来, 带来寒冷干燥的天气; 夏季, 风来自湿热的 _____ 和印度洋, 带来高温多雨的天气。(2 分)

(5) 探究地区 (或大洲) 的自然环境, 一般从哪些方面入手 (3 分)

【答案】: (2) 欧洲 太平洋 阿拉伯半岛 青藏高原 喜马拉雅山 马来群岛
(3) 放射 中部 四周 (4) 西伯利亚 太平洋
(5) (地理位置) 地形 气候 河流 植被 土壤 自然资源等

19. (15 分) 读“中南半岛地形、河流与城市分布示意图”完成下列各题。



(1) 在图右侧的方格内标出重要纬线的名称。(1分)

(2) 写出图中字母所代表的地理事物的名称(3分)

海湾: A _____ 河流: B _____ 国家: C _____

(3) 东南亚地处 _____ 带(温度带), 中南半岛大部分地区作为右图所示的 _____ 气候, 该气候一年中有旱季和雨季之分, 农作物一般在 _____ 季播种, _____ 季收获, 本地区最重要的粮食作物是 _____。(5分)

(4) 华人和华侨为东南亚的经济发展做出了巨大贡献, 他们主要来自我国的 () (2分)

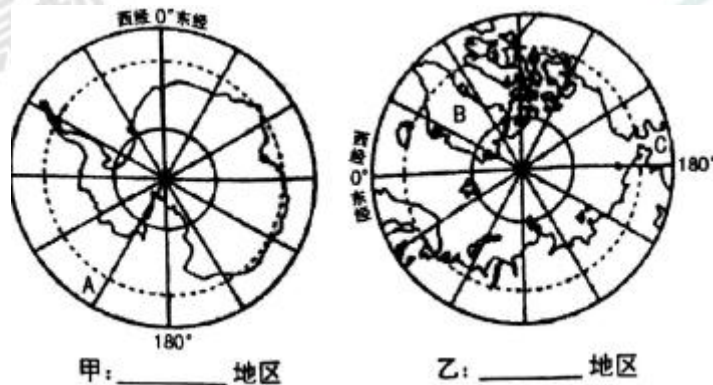
A. 台湾、福建 B. 广东、福建 C. 广东、广西 D. 台湾、河南

(5) 描述中南半岛的地形特征。(2分)

(6) 沿河设城是中南半岛城市分布的普遍规律, 请说明河流对城市分布的影响。(2分)

【答案】: (1) 北回归线 (23.5° N) (2) 孟加拉湾 湄公河 中国 (3) 热 热带季风 雨 旱 水稻 (4) B (5) 地势北高南低; 山河相间, 纵列分布 (6) 为城市提供生产生活用水; 提供便利的水运条件。

20. (15分) 读“两极地区示意图”, 完成下列各题。



甲: _____ 地区

乙: _____ 地区

(1) 在图下方横线上填出地区名称。(2分)

(2) 写出图中字母所代表的地理事物的名称。(4分)

大洋：A_____ 岛屿：B_____ 海峡：C_____

(3) 南极大陆大部分地区的年平均降水量仅 55 毫米，被称为地球上的“_____”，南极大陆的主要气候特征是_____、_____、_____。(4分)

(4) 我国在北极地区建立的第一个科学考察站是() (2分)

A. 长城站 B. 中山站 C. 昆仑站 D. 黄河站

(5) 下列图片中的动物被称为“冰上霸王”的是() (2分)



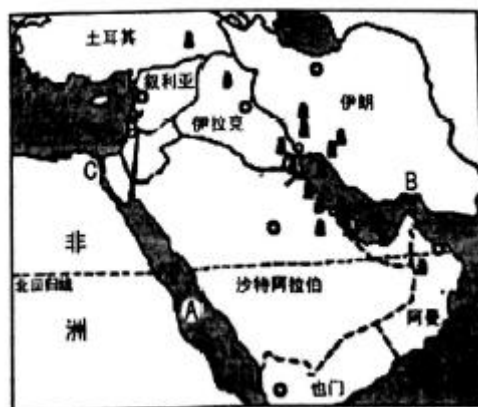
(6) 赴南极地区开展科考活动的最佳时间是每年 11 月至次年 3 月，简析主要原因。(2分)

【答案】：(1) 甲：南极 乙：北极 (2) 太平洋 格陵兰岛 白令海峡 (3) 白色沙漠 酷寒 干燥 烈风 (4) D (5) A (6) 南极地区此时正值极昼期；也是一年中的暖季，适合开展科学考察活动等。

四、材料分析题 (共 15 分)

21. (15 分) 阅读图文资料，完成下列各题。

材料一：“西亚地区示意图”



材料二：2017 年 3 月 15 日至 18 日，沙特阿拉伯国王萨勒曼对中国进行了国事访问，访问期间，双方签署了产能、贸易、航天、新能源、教育等多个领域的一系列合作项目，两国的进一步交往将向中东国家和

国际社会传递加强战略合作，深化发展对接，促进地区和平，打造人类命运共同体的积极信号。沙特阿拉伯是西亚重要的产油国，也是中国“一带一路”的重要站点，近年来，该国提出推动国内经济转型、摆脱对石油依赖的“愿景”，中国的“一带一路”和沙特的“愿景”深度对接，将有利于促进沙特经济多样化发展，调整过去单一的生产结构。

(1) 在图中适当位置标出地中海。(1分)

(2) 写出图中字母所代表的地理事物的名称。(3分)

海域：A _____ 海峡：B _____ 运河：C _____

(3) 西亚地处亚、_____、_____三大洲的交界地带，目前是世界上石油储量最丰富的地区，被称为“_____”，其中沙特阿拉伯石油储量居世界第一位，以“_____”著称。(4分)

(4) 沙特王国此次访华期间，双方签署了_____、贸易、_____、新能源、_____等多个领域的一系列合作项目。(3分)

(5) 描述西亚地理位置的重要性。(2分)

(6) 中国的“一带一路”与沙特的“愿景”深度对接将会比沙特带来哪些影响？(2分)

【答案】：(2) 红海 霍尔木兹海峡 苏伊士运河 (3) 欧 非 世界石油宝库 (4) 产能 航天 教育 (5) 西亚地处亚、欧、非三大洲的交界地带，位于阿拉伯海，红海，地中海，黑海，里海五个海之间；沟通大西洋和印度洋的枢纽，地理位置十分重要等。 (6) 促进沙特经济多样化发展；调整过去单一的生产结构。

奖励题：(要自信，你能行) (3分) (加入总分，不在另计，高出满分者也按100分计)

22. (3分) 读欧洲西部气候类型分布图，完成下列各题。



(1) 位于同纬度的 A、B、C 三地，气温年较差从大到小的排序是_____，年降水量从大到小的排序是_____。(2分)

(2) 高山气候主要分布在_____山脉。(1分)

【答案】： (1) C>B>A A>B>C (2) 阿尔卑斯山

更多的真题下载地址：<http://ty.xdf.cn>

咨询电话：0351-3782999