

太原市 2016-2017 学年第二学期七年级期末测评试卷分析

初一地理

本试卷为闭卷笔答，答题时间 90 分钟，满分 100 分

(考试时间：上午 10:00—11:30)

注意事项：

1. 本试卷分第 I 卷（选择题）和第 II 卷（非选择题）两部分。
2. 回答第 I 卷前，考生务必将自己的姓名、学校、年级和联系方式涂写在答题卡上。
3. 回答第 I 卷时，选出每小题答案后，用 2B 铅笔把对应题目的答案标号涂黑。如需改动，用橡皮擦干净后，再选涂其他答案标号。写在本试卷上无效。
4. 回答第 II 卷时，将答案写在答题卡相应位置上。写在本试卷上无效。
5. 考试结束后，将本试卷和答题卡一并交回。

第 I 卷（选择题共 20 分）

注意事项：

1. 答第 I 卷前，考生务必用 0.5 毫米黑色字迹的中性笔将所需填写的内容填在答题卡上。
2. 每小题选出答案后，请将答案填涂在答题卡上，答案写在试题卷上无效。

一、选择题（下列各题的选项中，只有一个符合题目要求，将正确答案填入表中相应的位置。每小题 2 分，共 20 分）

题号	1	2	3	4	5	6	7	8	9	10	11	12	13	14	15
答案	D	C	D	B	A	B	C	D	A	A	D	C	B	C	D

右图为澳大利亚国徽。据此完成 1—3 题。



1. 澳大利亚国徽上的两种动物分别是
- A. 考拉和鸸鹋 B. 袋鼠和考拉
C. 袋鼠和鸭嘴兽 D. 袋鼠和鸸鹋

解析：树袋熊又名树熊或考拉，是澳大利亚的国宝；鸭嘴兽是出现在澳大利亚 20 仙硬币上的动物；澳大利亚国徽左边是一袋鼠，右边是一只鸸鹋，它们一般只会向前走，不轻易后退，象征着一个永远迈步向前的国家；所以选 D

2. 澳大利亚被称作“世界活化石博物馆”，主要是因为该国的动物具有明显的
- A. 古老性和稀有性 B. 代表性和独特性
C. 古老性和独特性 D. 代表性和古老性



解析：澳大利亚被称为“世界活化石博物馆”。植物 9000 种是其他国家没有的；鸟类有 450 种特有的。全球的有袋类动物，除南美洲外，大部分都分布在澳大利亚。澳大利亚由于环境稳定，所以特有地球演化过程中保留下来的古老生物种类，它们虽显得原始，却成为人类研究地球演化历史的活化石。所以选 C。

3. 澳大利亚最大的城市是

- A. 帕斯 B. 墨尔本 C. 堪培拉 D. 悉尼

解析：澳大利亚的首都是堪培拉；墨尔本是澳大利亚第二大城市；悉尼是澳大利亚第一大城市，澳大利亚经济、金融、航运和旅游中心，世界著名的国际大都市；珀斯(Perth)是澳大利亚第四大城市，地处澳大利亚大陆西岸地中海气候地区；所以选 D

中国和尼日利亚于 1971 年建交，建交以来双边关系发展顺利，中国企业在尼日利亚承包的项目主要涉及铁路、房屋建设、水利工程、通信系统等领域。据此完成 4-6 题。

4. 尼日利亚所属的大洲是

- A. 亚洲 B. 非洲 C. 欧洲 D. 北美洲

解析：尼日利亚处于非洲几内亚湾西岸的顶点，南濒大西洋几内亚湾。所以选 B

5. 尼日利亚十分注重水利工程建设，该国著名的河流是

- A. 尼日尔河 B. 刚果河 C. 赞比西河 D. 墨累河

解析：刚果河位于非洲中西部，为非洲第二长河，主要流经刚果民主共和国等国家；赞比西河是发源于赞比亚西北部，位于非洲南部，是非洲第四大河流；墨累河是澳大利亚最长、也是最大的一条河流，发源于澳大利亚东南部的大分水岭；尼日尔河是西非主要河流，仅次于尼罗河和刚果河的非洲第三长河，流经尼日利亚；所以选 A

6. 下列关于尼日利亚经济发展的叙述，正确的是

- A. 以出口农矿产品为主 B. 加强与各国合作，努力发展民族经济
C. 以种植热带经济作物为主 D. 严禁开发石油，全部留给子孙后代

解析：农业生产方式仍以小农经济为主，粮食不能自给，每年仍需大量进口，所以 A 错；尼日利亚属热带草原气候，不适合种热带经济作物，C 错；D 项说法太绝对，错误；尼日利亚是非洲能源资源大国，是非洲第一大石油生产和出口大国，所以可以与各国合作，发展民族经济。

7. 巴西的种族组成非常复杂，其中人数最多的是

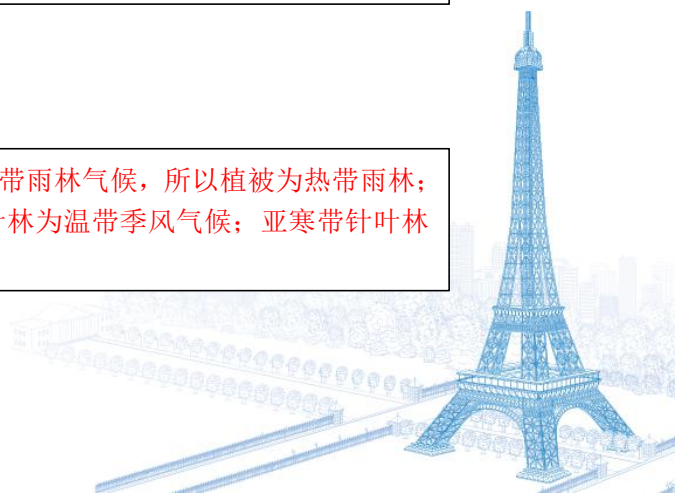
- A. 黄种人 B. 黑种人 C. 白种人 D. 混血种人

解析：由于历史原因，巴西人口的种族构成十分复杂，种族和文化差异显著。巴西人口中 47.3% 的为白种人，43.1% 为混血种人，7.6% 为黑人，2.1% 为亚洲人，其余则为少数印第安人。所以选 C。

8. 巴西森林茂密，最主要的植被类型是

- A. 亚寒带针叶林 B. 温带落叶阔叶林
C. 亚热带常绿阔叶林 D. 热带雨林

解析：巴西位于热带地区，主要有热带草原气候和热带雨林气候，所以植被为热带雨林；亚热带常绿阔叶林为亚热带季风气候；温带落叶阔叶林为温带季风气候；亚寒带针叶林是位于亚寒带地区；所以选 D



9.巴西的首都是

- A.巴西利亚 B.圣保罗 C.里约热内卢 D.萨尔瓦多

解析：圣保罗是巴西乃至南半球最大的都市；里约热内卢位于巴西东南部沿海地区，巴西乃至南美的重要门户；萨尔瓦多共和国是位于中美洲北部的一个国家，首都为圣萨尔瓦多；巴西利亚为巴西的首都；所以选 A

10.世界上面积最大的大洲是

- A.亚洲 B.南美洲 C.非洲 D.大洋洲

解析：考查世界七大洲面积排名：1.亚洲 2.非洲 3.北美洲 4.南美洲 5.南极洲 6.欧洲 7.大洋洲，所以选 A

11.西亚地处“五海三洲两洋”之地，五海之中有一个“海”实为湖泊，它是

- A.阿拉伯海 B.红海 C.黑海 D.里海

解析：西亚位于亚洲、非洲、欧洲三大洲的交界地带，位于阿拉伯海、红海、地中海、黑海和里海(内陆湖)之间，所以被称为“五海三洲之地”。其中阿拉伯海是印度洋的一部分；红海是印度洋的陆间海，介于阿拉伯半岛和非洲大陆之间的狭长海域；黑海是世界上最大的内陆海；里海是世界上最大的咸水湖；所以选 D

12.非洲有数量众多的长颈鹿、狮子、斑马等动物，它们生活的环境属于

- A.热带雨林气候 B.热带沙漠气候
C.热带草原气候 D.地中海气候

解析：热带草原开阔广袤，地势平坦，哺育了大量食草动物，这些动物的极大繁盛又为食肉动物提供了丰富的食物，且动物适应于奔跑，四肢发达，适宜长颈鹿、狮子、斑马等生存，所以选 C

13.企鹅皮下有一层厚厚的脂肪，它适应的气候条件是

- A.寒冷 B.酷寒 C.温暖 D.潮湿

解析：南极的气候特征为酷寒、烈风、干燥；企鹅的脂肪主要是用来御寒的，选 B。



14.小明去年 7 月去新马泰旅游，下面是他的旅游见闻，其中正确的是

- A.当地人以面食为主，几乎每天午后下雨
B.车窗外，农田到处是成片的棉花和大豆
C.满载石油的日本油轮经马六甲海峡后，继续向东北方向驶去
D.在新加坡能看见火山喷发的奇观，只能用英语和当地人交流

解析：新马泰主要的粮食作物为水稻，所以不应以面食为主，A 错；棉花和大豆是温带作物，新马泰位于热带地区，B 错；新加坡是一个多语言的国家，拥有 4 种官方语言，即马来语、华语、英语和泰米尔语，D 错；马六甲海峡是位于马来半岛与印度尼西亚的苏门答腊岛之间的漫长海峡，因此可以看到，选 C。

15.四位同学在小组合作学习时对欧洲西部开展讨论，结论可信的是

- A.甲同学:畜牧业发达是因为劳动力资源丰富
B.乙同学:咖啡、油棕、天然橡胶等热带作物闻名于世



C.丙同学:工业发展时间较晚,工业基础十分薄弱

D.丁同学:多数国家都使用同一种货币叫欧元

解析:畜牧业发达是温带海洋性气候有利于多汁牧草的生长,且欧洲劳动力不丰富,A错;咖啡、油棕、橡胶是热带作物,欧洲主要位于温带地区,B错;欧洲工业发展时间早,工业基础好,C错;欧盟是欧洲地区的重要组织,统一使用货币一欧元,D对。

二、连线题(共 10 分)

16.(5 分)请将下列叙述与所属国家示意图用直线连接起来。

A. 咖啡王国

B. 南美洲面积最大的国家

C. 西非经济巨人

D. 非洲人口最多的国家

E. 骑在羊背上的国家



解析:考查国家的轮廓及地理特征,①为澳大利亚,农牧业发达,盛产羊毛;②为巴西,位于南美洲,热带地区,盛产咖啡、可可等;③为尼日利亚,是非洲第一人口大国,也是非洲第一大经济体。

答案: A—② B—② C—③ D—③ E—①

17.(5 分)请将下列地区与相对应的叙述用直线连接起来。

A. 东南亚

B. 西亚

C. 撒哈拉以南非洲

D. 欧洲西部

E. 极地地区

①世界的石油宝库

②两洲两洋的“十字路口”

③黑种人的故乡

④冰封雪裹的世界


⑤发达国家最集中的区域

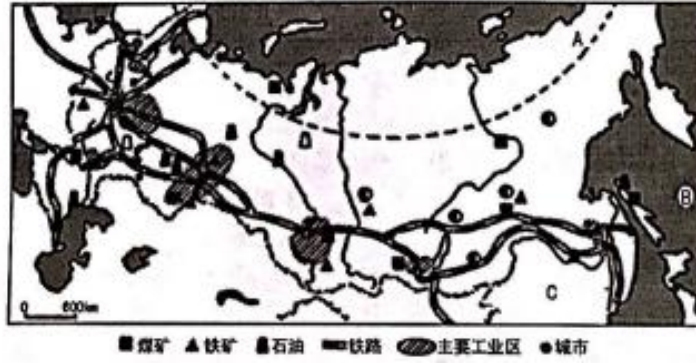
解析:考查重要地区的地理特征。东南亚位于亚洲和大洋洲,太平洋和印度洋之间;西亚是目前世界上石油储量最丰富、产量最大和出口量最多的地区,有“世界石油宝库”的称号;撒哈拉以南非洲,俗称“黑非洲”,意为“黑种人的故乡”,至今居民中仍以黑种人占绝大部分;欧洲西部指欧洲西部濒临大西洋的地区和附近岛屿,主要为发达国家,比如英国、法国、荷兰等;极地地区指北极和南极,南极大陆的 98%被冰雪覆盖着。

答案: A—② B—① C—③ D—⑤ E—④

三、读图分析题(共 45 分)

18.(15 分)读“俄罗斯示意图”,完成下列各题。





- (1) 在图中用 2B 铅笔或碳素笔描出俄罗斯的大致轮廓。(1 分) (图略)
- (2) 写出图中字母所代表的地理事物的名称。(3 分)
- 纬线:A _____ 大洋:B _____ 邻国:C _____

解析: 考查俄罗斯的位置特征

答案: 北极圈(或 66.5°N); 太平洋; 中国

- (3) 俄罗斯国土辽阔, 地跨 _____ 洲和 _____ 洲, 陆地面积居世界第 _____ 位。俄罗斯大部分地区属于 _____ 气候, 冬季长而寒冷, 夏季短而温暖。(4 分)

解析: 考查俄罗斯的地理位置, 陆地面积, 气候特征

答案: 欧; 亚; 一; 温带大陆性

- (4) 俄罗斯的工业主要集中在国土的 _____ 洲部分。近年来, 俄罗斯加大了对东部地区的开发力度, 经济建设逐步向国土的 _____ 发展, 东西之间的交通运输方式主要是 _____。(3 分)

解析: 考查俄罗斯的工业分布特征和交通运输方式

答案: 欧; 亚洲部分(或东部); 铁路

- (5) 既是欧洲第一长河, 又被称为俄罗斯“母亲河”的是 () (2 分)
- A. 叶尼塞河 B. 鄂毕河 C. 伏尔加河 D. 勒拿河

解析: 考查俄罗斯的河流特征。欧洲第一长河——伏尔加河; 西伯利亚地区的鄂毕河、叶尼塞河、勒拿河


答案: C

- (6) 俄罗斯从中国进口的工业品主要有服装、鞋帽、皮革制品、体育用品、纺织品等, 俄罗斯出口到中国的工业品主要有钢铁、肥料、原木、原油、核反应堆、有机化学品等。请说出俄罗斯的工业结构特征。(2 分)

解析: 考查俄罗斯的工业特征, 从工业类型和实力是否雄厚去分析

答案: 基础工业雄厚(或发达); 以重工业为主; 核工业和航天工业居世界领先水平; 民用(或轻)工业落后等

19.(15 分)读“美国本土示意图”, 完成下列各题。





(1) 在图中适当位置标注加拿大的名称。(1分) (图略, 加拿大位于美国的北部)

(2) 写出图中字母所代表的地理事物的名称。(3分)

大洋:A _____ B _____ 河流:C _____

解析: 考查美国的地理位置和地理事物

答案: 太平洋; 大西洋; 密西西比河

(3) 美国陆地面积 930 多万平方千米, 仅次于俄罗斯、_____ 和 _____, 居世界第四位; 人口 3 亿多, 仅次于中国和 _____, 居世界第三位。美国的原住民是 _____, 属于黄色人种。(4分)

解析: 考查美国的国土面积、人口、居民特征

答案: 加拿大; 中国; 印度; 印第安人

(4) 美国虽然是世界上最大的农产品出口国, 但是每年还需要从国外大量进口农产品, 其中主要有 () (2分)

- A. 棉花和黄麻 B. 小麦和玉米
C. 大豆和肉类 D. 咖啡和可可

解析: 考查美国的农产品。美国主要位于温带地区, 没有热带经济作物, 所以重要进口热带农产品。答案: D

(5) 美国国旗是下图中的 () (2分)



解析: 考查美国的国旗。A 为印度国旗; C 为新西兰国旗; D 为日本国旗; 美国的国旗旗面由 13 道红白相间的宽条构成, 左上角还有一个包含了 50 颗白色小五角星的蓝色长方形。50 颗小星代表了美国的 50 个州, 而 13 条间纹则象征着美国最早建国时的 13 块殖民地。答案: B

(6) 分析一个国家自然环境对人类活动的影响, 应从地理位置、地形、气候、河流、资源等多种因素入手。简析美国自然环境对人类生产活动的影响。(3分)



解析：考查美国的自然环境与人类活动之间的关系

答案：从纬度位置看，美国本土大部分位于北温带，热量充足，利于发展农业；从海陆位置看，美国本土三面临海，多优良港湾，海上航运便利；从地形看，美国本土平原面积广大，利于农业的专门化和机械化生产；从气候看，美国气候类型复杂多样，利于农业的多样化生产；从河流看，美国河湖众多，为灌溉、发电、运输等提供有利条件；从资源看，美国矿产、森林等资源丰富，为工业发展奠定良好的基础等。（答出任意三点即可得 3 分）

20.(15 分)读“日本示意图”，完成下列各题。



(1) 写出图中字母所代表的地理事物的名称。(3 分)

大洋:A _____ 海域:B _____ C _____

解析：考查日本的地理事物

答案：太平洋；日本海；濑户内海

(2) 日本属于_____亚的群岛国家，人稠地狭，地形以山地丘陵为主，最高峰 3776 米的_____山，是一座著名的_____火山。日本拥有世界著名的大渔场_____渔场。(4 分)

解析：考查日本的地理事物特征

答案：东；富士；活；北海道

(3) 日本被称为“地震之邦”，主要原因是日本地处（ ）(2 分)

- A. 亚欧板块与印度洋板块交界地带
- B. 亚欧板块与太平洋板块交界地带
- C. 美洲板块与大西洋板块交界地带
- D. 美洲板块与太平洋板块交界地带

解析：考查板块边界与地震带

答案：B


(4) 寿司是日本的传统食品，既可以作为小吃也可以当正餐，寿司的主料是米饭。日本属于亚热带、温带季风气候，最主要的粮食作物（ ）(2 分)

- A. 玉米
- B. 高粱
- C. 小麦
- D. 水稻

解析：考查日本的农作物

答案：D

(5) 请说出日本工业分布的特点，并简析其主要原因。(4 分)



解析：考查日本的工业特征

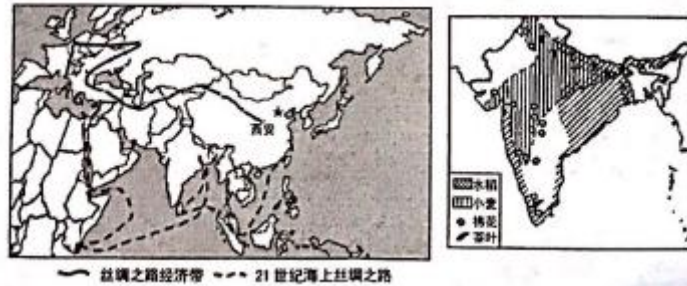
答案：分布：集中分布在太平洋沿岸； 濑户内海沿岸的狭长地带(2分)

主要原因：群岛国家，海岸线曲折，多优良港口，海上运输便利；矿产资源贫乏，是世界上最大的矿产品进口国；工业分布在沿海地区，便于原料、燃料的输入和工业产品的输出；扩大海外市场，提高经济效益等。(答出任意两点即可得2分)

四、材料分析题(共15分)

21.(15分)阅读图文资料，完成下列各题。

材料一左图为“一带一路示意图”.右图为“印度主要农作物分布示意图”。



材料二 2017年5月14日，“一带一路”国际合作高峰论坛在北京隆重开幕。自2013年提出至今，“一带一路”以共商、共建、共享为原则，以和平合作、开放包容、互学互鉴、互利共赢的丝绸之路精神为指引，底得了国际社会的广泛参与。参加本次论坛的代表有29位外国元首、政府首脑及联合国秘书长等3位重要国际组织负责人。本次论坛进一步概聚了世界各国、社会各界共建“一带一路”的共识，推动了“一带一路”与各国发展战略的对接，签署了一批重大项目、政策的合作协议，进一步务实推进“一带一路”的建设。‘一带一路’，倡议虽为中国首倡，但并非中国的“独角戏”，而是世界各国所共享。

(1) 在图中用2B铅笔或碳素笔描出印度的大致轮廓。(1分)(图略)

(2) “一带一路”的倡导国家是____，“一带”是指____，“一路”是指____。(3分)

解析：考查一带一路的知识

答案：中国；丝绸之路经济带；21世纪海上丝绸之路

(3) 印度处在_____的沿线(填“丝绸之路经济带”或“21世纪海上丝绸之路”), 与我国同属于世界著名的文明古国。印度是世界第二软件大国，信息技术中心位于_____, 最大的海港是_____。(3分)

解析：考查印度与一带一路的关系及印度的工业特征

答案：21世纪海上丝绸之路；班加罗尔；孟买

(4) 印度主要的粮食作物是_____和_____, 主要的经济作物且是重要出口物资的有_____等。(3分)


解析：考查印度的农作物

答案：水稻；小麦；棉花(或茶叶，黄麻；甘蔗)

(5) “一带一路”建设的原则是什么?(3分)

解析：考查一带一路的知识

答案：共商；共建；共享



(6) 本次“一带一路”高峰论坛的意义何在? (2 分)

解析: 考查一带一路的意义

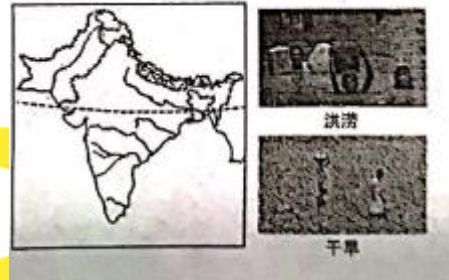
答案: 进一步凝聚了世界各国、社会各界共建“一带一路”的共识; 推动了“一带一路”与各国发展战略的对接; 签署了一批重大项目、政策的合作协议; 进一步务实推进“一带一路”的建设等。(答出任意两点即可得 2 分)

附: 奖励题(要自信, 你能行!)(3 分)(加入总分不再另计, 高出满分者也按 100 分计)

22.(3 分)读“印度示意图”, 完成下列各题。

(1) 印度以热带季风气候为主, 全年高温, 分为明显的旱、雨两季。请在图中适当位置用箭头标注西南季风(1 分)(图略)

(2) 西南季风如何变化就会造成水、旱灾害?(2 分)



解析: 考查西南季风对气象灾害的影响

答案: 西南季风来得早; 退得晚; 风力太强; 雨水就过多, 容易造成水灾。(答出任意一点即可得 1 分)

西南季风来得晚; 退得早; 风力太弱; 雨水就不足, 容易造成旱灾。(答出任意一点即可得 1 分)

