

2016 南昌名校期末 初一（上）试卷合集

新东方
XDF.CN

目录

江西心远学校七年级语文期末考试试卷（第一学期）	2
江西育华学校七年级语文期末考试试卷（第一学期）	7
江西心远学校七年级数学期末考试试卷（第一学期）	12
江西育华学校七年级数学期末考试试卷（第一学期）	17
江西心远学校七年级英语期末考试试卷（第一学期）	21
江西育华学校七年级英语期末考试试卷（第一学期）	27



扫描二维码，找对应校区老师获取解析

江西心远第一学期期末测试 七年级（初一）语文试卷

一、语言知识及运用（12分）

1 下列词语中加点的字读音字形完全正确的一项是（ ）（2分）

A 鸟啮（zhuàn） B 惩戒（chéng） C 庇护（pì） D 抻（tuán）扶摇而直上

A 秣纤（xiān） B 晋察冀（jì） C 鄙薄（bǐ） D 神采奕奕

A 气慨（kǎi） B 褴褛（lǚ） C 掺和（hé） D 骇人听闻

A 怅然（chàng） B 魁梧（wú） C 怂恿（sǒng） D 据为已有

2 下列句子中加点词语使用不正确的一项是（ ）（2分）

A 不出意料，结果显示男性和女性的幸福观大相径庭

B 这部著作是他长期工作经验的总结，是他经过反复修改后处心积虑写出来的

C 黄石，半城山色半城湖，“三山”与“两湖”相得益彰

D 看到小明滑稽的样子，同学们不禁哄堂大笑

3 下列句子中没有语病的一项是（ ）（2分）

A 如今，不仅年轻人喜欢上网购物，一些老年人也加入到“淘宝一族”的行列

B 在这次经典诵读活动中，全班同学发挥了团结互助，获得校领导和老师的一致好评

C 微笑是一首动人的歌声，它让我们的生活充满了温馨

D 首都南城经济圈迅速崛起，在全国乃至北京各区县造成了轰动效应

4 把下面几个句子组成语意连贯的一段文字，排序正确的一项是（ ）（2分）

① 添一点儿什么东西进去呢？

② 为什么不创造一种像自己一样的生物加入世间呢？

③ 澄清的池水照见她的面容和身影，她忽然灵机一动

④ 想呀想，走呀走，她走得有点疲倦了，偶然在一个池子旁边蹲下来

⑤ 她觉得天地之间，应该添点什么东西进去，让他生气蓬勃才好

A ⑤①③②④ B ③②⑤①④ C ⑤④①③② D ⑤①④③②

5 下列表述有误的一项是（ ）（2分）

A 《杞人忧天》节选自《列子·天瑞》。《列子》旧题为列御寇者，据考证，可能是晋人作品。

B 《天上的城市》，作者郭沫若，写于1921年10月，作者目睹当时中国社会的种种黑暗现实，陷入苦闷之中。但诗歌《天上的街市》却借助想象，为我们描述了一幅美好的画面，暗示出作者谈谈的喜悦之情。

C 真是“畏罪潜逃”了，我以为。——这句话运用了拟人的修辞手法，倒装句，更突出地表现“我”的愤怒之情。

D “哎呀，真是美极了！”皇帝说，“我十二分地满意”——这句话的标点符号使用全部正确。

6 对下列寓言概括得不准确的一项是 () (2 分)

一只精美的鸟笼里,主人精心地饲养着一只虎皮鹦鹉。主人对这只 鹦鹉可谓费尽心思,换水添料,不厌其烦。有一天,主人喂食后,忘了关鸟笼, 鹦鹉逃出了笼子,主人开始很痛心,但后来一想:鸟归林,鱼入水,正是“得其 所哉”,便也安然了。谁知十来天后,在山坡的树林边发现了那只虎皮鹦鹉僵硬 的尸体,主人感到很奇怪,鹦鹉回到大自然,怎么会死在秋果累累的树林边呢?于是他把鹦鹉的尸体带回家解剖,发现鹦鹉的肠胃空空的,竟没有半点食物。

- A 安逸的生活剥夺了生存的力
- B 过分的溺爱,有时候反而是一种祸
- C 想要获得安逸舒适生活,只有失去自由
- D 自由与生命,有时候不能兼得

二、古诗文阅读与积累

(一)诫子书 诸葛亮夫君子之行,静以修身,俭以养德;非淡泊无以明志。夫学需静也,才需学也,非学无以广才,非志无以学成。淫慢则不能励精,险躁则不能治性。年与时驰,意与日去,遂成枯落,多不接世,悲守穷庐,将复何及!

7 下面句子朗读节奏的划分正确的一项是 () (2 分)

- A 非淡泊/无以/明志
- B 年与时/驰
- C 险躁/则不/能治性
- D 将复/何及

8 解释文中加点的词 (2 分)

致远: 险躁:

9 说说文中划线句的意思。(2 分) 年与时驰,意与日去

10 文章中多次谈到“静”,结合文章中这些句子,谈谈你对“静”的理解 (3 分)

11 诸葛亮告诫儿子,成才有三个条件,其一是立志,其二是学习,其三是什么? 请你再写表达同样意思的两句经典诗句。(2 分)

第三个条件:

诗句: _____, _____。

(二)根据课文填空。(8 分)

12 填补下列名句的空缺处或按要求填空。

(1) _____, 定然有美丽的街市。

(2) 非淡泊无以明志, _____。

(3) 僵卧孤村不自哀, _____。

(4) _____, 我言秋日胜春朝。

(5) 李商隐在《夜雨寄北》中以见面的欢愉化解客居的寂寞,重重深情转化为 想象的图景的名句: _____, _____。

(6)《潼关》中能让人感觉到作者想冲破罗网,勇往直前的少年意气的句子:

_____, _____。

三、阅读理解 (25 分)

纪念白求恩 (11 分)

白求恩同志是加拿大共产党员,五十多岁了,为了帮助中国的抗日战争,受加拿大共产党和美国共产党的派遣,不远万里,来到中国。去年春上到延安,后来到五台山工作,不幸以身殉职。一个外国人,毫无利己的动机,把中国人民的解放事业当作他自己的事业,这是什么精

神？这是国际主义的精神，这是共产主义的精神，每一个中国共产党员都要学习这种精神。列宁主义认为：资本主义国家的无产阶级要拥护殖民地半殖民地人民的解放斗争，殖民地半殖民地的无产阶级要拥护资本主义国家的无产阶级的解放斗争，世界革命才能胜利。白求恩同志是实践了这一条列宁主义路线的。我们中国共产党员也要实践这一条路线。我们要和一切资本主义国家的无产阶级联合起来，要和日本的、英国的、美国的、德国的、意大利的以及一切资本主义国家的无产阶级联合起来，才能打倒帝国主义，解放我们的民族和人民，解放世界的民族和人民。这就是我们的国际主义，这就是我们用以反对狭隘民族主义和狭隘爱国主义的国际主义。

白求恩同志毫不利己专门利人的精神，表现在他对工作的极端的负责任，对同志对人民的极端的热忱。每个共产党员都要学习他。不少的人对工作不负责任，拈轻怕重，把重担子推给人家，自己挑轻的。一事当前，先替自己打算，然后再替别人打算。出了一点力就觉得了不起，喜欢自吹，生怕人家不知道。对同志对人民不是满腔热忱，而是冷冷清清，漠不关心，麻木不仁。这种人其实不是共产党员，至少不能算一个纯粹的共产党员。从前线回来的人说到白求恩，没有一个不佩服，没有一个不为他的精神所感动。晋察冀边区的军民，凡亲身受过白求恩医生的治疗和亲眼看过白求恩医生的工作的，无不为之感动。每一个共产党员，一定要学习白求恩同志的这种真正共产主义者的精神。

白求恩同志是个医生，他以医疗为职业，对技术精益求精；在整个八路军医务系统中，他的医术是很高明的。这对于一班见异思迁的人，对于一班鄙薄技术工作以为不足道、以为无出路的人，也是一个极好的教训。

①我和白求恩同志只见过一面。②后来他给我来过许多信。③可是因为忙，仅回过他一封信，还不知他收到没有。④对于他的死，我是很悲痛的。⑤现在大家纪念他，可见他的精神感人之深。⑥我们大家要学习他毫无自私自利之心的精神。⑦从这点出发，就可以变为大有利于人民的人。⑧一个人能力有大小，但只要有这点精神，就是一个高尚的人，一个纯粹的人，一个有道德的人，一个脱离了低级趣味的人，一个有益于人民的人。

13 按要求完成下列题目。（4分）

- (1) 用/给第四段划分层次（只分两层，1分）：①②③④⑤⑥⑦⑧
- (2) 第四段的过渡句（填句子前面的序号，1分）：
- (3) 简要概括第四段的内容（2分）：

14 联系上下文，简要说说你对第（1）段“一个外国人，毫无利己，把中国人民的解放事业当作他自己的事业，这是什么精神？”这句话的理解（2分）

15 本文主要采用了哪种写作手法？说说这种手法对于表现本文主题的作用。（2分）

16 联系全文，说说白求恩同志“毫无利己专门利人的精神”具体表现在什么地方？（3分）

(二) 人生没有永远 (14 分) 杨绛

(1) 自从迁居三长途之后,终于有了一个家,我们可以安顿下来了。

(2) 我们仨,却不止三人。每个人摇身一变,可变成好几个人。例如阿瑗小时才五六岁的时候,我三姐就说:“你们一家呀,圆圆头最大,钟书最小。”我的姐姐妹妹都认为三姐说得对。阿瑗长大了,会照顾我,像姐姐;会陪我,像妹妹;会管我,像妈妈。阿瑗常说:“我和爸爸最‘哥们’,我们两个顽童,爸爸还不配做我的哥哥,只配做弟弟。”我又变为最大的。钟书是我们的老师。我和阿瑗都是好学生,虽然近在咫尺,我们如有问题,问一声就能解决,可是我们决不打扰他,我们都勤查字典,到无法自己解决才发问。他可高大了。但是他穿衣吃饭,都需我们母女把他当孩子般照顾,他又很弱小。

(3) 他们两个会联成一帮向我造反,例如我出国期间,他们连床都不铺,预知我将回来,赶忙整理。我回家后,阿瑗轻声嘀咕:“狗窠真舒服。”有时他们引经据典的淘气话,我一时拐不过弯,他们得意说:“妈妈有点笨哦!”我的确是最笨的一个。我和女儿也会联成一帮,笑爸爸是色盲,只识得红、绿、黑、白四种颜色。其实钟书的审美感远比我强,但他不会正确地说出什么颜色。我们会取笑钟书的种种笨拙。也有时我们夫妇联成一帮,说女儿是学究,是笨蛋,是傻瓜。

(4) 我们对女儿,实在很佩服。我说:“她像谁呀?”钟书说:“爱教书,像爷爷;刚正,像外公。”她在大会上发言,敢说自己的话,她刚做助教,因参与编《英汉小词典》,当了代表,到外地开一个极左的全国性语言学大会。有人提出凡“女”字旁的字都不能用,大群左派都响应赞成钱瑗是最小的。她说:“那么,毛主席词‘寂寞嫦娥舒广袖’怎么说呢?”这个会上被贬得一文不值的大学者如丁声树郑易里等老先生都喜欢钱瑗。

(5) 钱瑗曾是教材评审委员会的审稿者。一次某校要找个认真的审稿者,校方把任务交给钱瑗。她像猎狗般嗅出这篇论文是抄袭。她两个指头,和钟书一模一样地摘着书页,稀里哗啦地翻书,也和钟书翻得一样快,一下子找出了抄袭的原文。

(6) 一九八七年师大外语系与英国文化委员会合作建立中英英语教学项目,钱瑗是建立这个项目的人,也是负责人。在一般学校里,外国专家往往是权威。一次师大英语系新聘的英国专家对钱瑗说,某门课他打算如此这般教。钱瑗说不行,她指示该怎么教。那位专家不服。据阿瑗形容:“他一双碧蓝的眼睛骨碌碌地看着我,像猫。”钱瑗带他到图书室去,把他该参考的书一一拿给他看。这位专家想不到师大图书馆竟有这些高深的专著。学期终了,他到我们家来,承认“得益不浅”。师大外国专家的成绩是钱瑗评定的。

(7) 阿瑗是我生平杰作,钟书认为“可造之材”,我公公心目中的“读书种子”。她上高中学背粪桶,大学下乡下厂,毕业后又下放四清,九蒸九焙,却始终只是一粒种子,只发了一点芽芽。做父母的,心上不能舒坦。

(8) 人世间不会有小说或童话故事那样的结局:“从此,他们永远快快乐活地一起过日子。”

(9) 人间没有单纯的快乐。快乐总夹带着烦恼和忧虑。

(10) 人间也没有永远。

(11) 一九九七年早春,阿瑗去世。一九九八年岁末,钟书去世。我们三人就此失散了就这么轻易地失散了。“世间好物不坚牢,彩云易散琉璃脆”。现在,只剩下了我一人。

(12) 我清醒地看到以前当做“我们家”的寓所,只是旅途上的客栈而已。家在哪里,我不知道,我还在寻觅归途

17. 结合语境,根据括号内的要求回答问题(4分)

(1) 他可高兴了。(分析加点词的妙处)

(2) 她像猎狗般嗅出这篇论文是抄袭。(分析句子所用修辞手法的表达效果)

18. 钱钟书、杨绛夫妇学贯中西，却对女儿钱媛“实在很佩服”；第(4)段到第(6)段详细回忆了钱媛的三件事情，仿照示例概括钱媛令父母佩服之处，填写在下列横线上。(2分)

(4) _____ (5) _____ (6) 学问高深

19. 根据你的理解，从内容和结构的角度，说说第(12)自然段在文中的作用(4分)

20. 作者在第一段说“终于有了一_个家。”，结尾又说“只是旅途上的客栈。”，请说说你对这两句话的理解以及这样写的表达效果。(4分)

四、综合性学习与写作(45分)

21. 综合性学习(5分)

(1) 填空(2分)

“东胜神州海外有一国土，名曰傲来国。海中有一名山，山上有一仙石，受日月精华，遂有灵通之意。内遇仙胎，一日迸裂，……”这段话出自四大名著之一的《西游记》。这段话介绍了_____的出身来历。

“一头红焰发蓬松，两只眼睛亮似灯。不黑不青蓝靛脸，身披一领鹅黄氅，腰束双攒露白藤。顶下骷髅悬九个，手持宝杖甚峥嵘。”这段判词写的是_____

(2) 某校七年级一班同学在阅读《西游记》时，对猪八戒这个人物有两种不同的看法，为此语文老师组织了一场辩论。假如你是正方，针对反方辩词该怎么说了(3分) 反方辩词：我方认为，猪八戒好吃懒做，见识短浅，在取经的路上，意志不坚定，遇到困难就嚷嚷着要散伙。而且还经常搬弄是非、耍小聪明、说谎，又爱占小便宜，贪恋女色。这是一个贪生怕死、自私自利的人。

正方辩词三：_____

22. 写作(40分)

请以“_____的味道”为题目，展开想象联想，自选角度，写一篇文章。

要求：

- (1) 先把题目补充完整，然后作文。
- (2) 立意自定，文体自选(踏歌除外)。
- (3) 说真话，抒真情，忌抄袭。
- (4) 不得出现真实的校名、人名
- (5) 书写工整，不少于600字。

江西育华学校七年级语文期末试卷

说明：1.本试卷共四大题，20 小题，全卷满 100 分，考试时间 120 分钟。

2.本卷分为试题卷和答题卷，答案要求写在答题卷上，不得在试卷上作答，则不给分。

3.卷面书写要求干净、整洁，不得使用涂改液进行涂改。

一、语言积累与运用（10 分）

1.下列字形和加点的注音全部正确的一项是（ ）（2 分）

- A.哺乳（bǔ） 筌临 咄咄逼人（duó） 煞有介事
B.称职（chèn） 斑斓 混（hùn）为一谈 秣纤合度
C.掺和（huo） 气概 参差不齐（cēng） 大相径庭
D.庇佑（pì） 战栗 莽莽榛榛（zhēn） 人声鼎沸

2.下列句子中加点成语使用不恰当的一项是（ ）

A.临江的秋水广场站，其地铁文化墙的设计别具匠心，巧妙地将湿地和白鹭元素融合，呈现出“一城景色半城湖，湖光水影映洪城”的美景。

B.这对于一班见异思迁的人，对于一班鄙薄技术工作以为不足道、以为无出路的人，也是一个极好的教训。

C.今年年初以来，大蒜、绿豆等农产品大幅涨价、疯涨速度令人叹为观止，由此也催生出“蒜你狠”“豆你玩”等一系列网络新词。

D.这些很好的方法一旦融会贯通，定会收到事半功倍的效果。

3.下面句子没有语病的是（ ）

A.南昌舰是国产第一代导弹驱逐舰，服役 30 多年，累计航程达 17 余万海里，多次圆满完成战备巡逻、军事演习。

B.通过 12 月开展的万达旅游城冬游活动，使同学们增进了友谊。

C.网购之所以让那么人着迷的原因，是他们在下单后基本没有感觉到在花钱。

D.“艰难困苦，玉汝于成”。长征历时之长、规模之大、行程之远、环境之险恶、战斗之惨烈，不仅在中国历史上绝无仅有，而且在世界战争历史乃至人类文明史上也是非常罕见的。

4.下列句子组成语段排序正确的一段是_____（2 分）

桂花象征着友好、吉祥和光荣。_____

- ①月桂树叶编织成的“桂冠”成了“光荣称号”的代名词
②《吕氏春秋》中以“物之美者，招摇之桂”称赞桂花是世界上最美好的东西
③“蟾宫折桂”则成为人们对读书人金榜题名的美好祝愿
④某些少数民族地区青年男女也常以赠送桂花来表示爱慕之情
⑤战国时期，韩燕两国曾以相互馈赠桂花来表示亲善友好

A. ⑤③②④① B. ①⑤②④③ C. ⑤④②③① D. ②⑤①③④

5.“月送花香浮小院”是一副对联的上联，与这一上联对仗最工整的下联是（ ）（2 分）

- A. 绿叶红花映山前 B. 风摇竹影到幽斋
C. 梦随春风到天明 D. 风吹萤火到满园

二、古诗文阅读与积累（22 分）

（一）阅读下面这首诗，完成 6-7 题（4 分）

浣溪沙·丙辰岁不尽五日^①，吴松^②作。

姜夔

雁怯重云不肯啼，画船愁过石塘西，打头风浪恶禁持。

春浦渐生迎棹绿，小梅应长亚门枝，一年灯火要人归。

【注释】①丙辰：庆元二年（1196），岁不尽五日：谓除夕前五日。②吴松：江名。古称松江。

性地叹口气，在黑暗中摸索着将门打开，又重重地关上，似乎想要以此发泄对那一脸晦暗的廊灯的愤恨。其实，楼下的小卖部里，摆满了各种各样的灯泡，而且价格低廉到不过是坐一站公交车的价格，但包括我在内的所有人，谁都没有想起，在买泡面的时候，顺手捎带一个灯泡上来。

(2)父亲过来看我，走到门口，看见我费力地用手机里微弱的光线照明，立刻放下手里的东西，说声“稍等”，便下了楼。不过是几分钟的工夫，他便拿了一个灯泡上来，一声不响地安好。然后，他轻轻一击掌，昔日暗淡无光的走廊，瞬间便有了温暖通透的光亮，我站在门口，看父亲脸上淡然的微笑，便说：“你可真是光明使者呢，你一来，这灯就好了。”

(3)父亲却扭过身来，正对着我，说：“其实路过的每一个人，都可以是光明使者，不过是一块五毛钱的灯泡，顺手就捎过来了，何必每次总是感叹世风日下，自己却始终不去动手呢？”

(4)我笑，“可不是人人都像您这样乐于助人，况且，这还是租来的房子，这走廊，也属于公共的区域，不只我们这一层，楼上的人也都要从此经过呢。”

(5)父亲没吱声，只拿起身边的扫帚，边一层层地扫着楼梯上丢掉的烟头、纸屑、菜叶，边哼起他惯唱的京剧。有人从他身边经过，他便停下来，将身子朝楼梯一侧，又朝来人笑着点一点头，表示让对方先行。而路人总是诧异地看父亲一眼，又微微地停一下，这才在父亲的笑意里，慌乱地点一下头，匆匆离去。那脚步的失措，看上去有些逃的意思。

(6)我在晚饭的时候，便抱怨他，说：“何必对陌生人这样殷勤？他们指不定在心里觉得你有毛病呢。”父亲呷下一口酒，道：“我管不着别人心里怎么想，但我开心就可以啊，况且，我就不信你给别人微笑，他还能泼你一盆冷水不成？所谓寻开心，就是这样，你自己不去主动找，它还会自登家门？”

(7)几日后，翻起账本，突然想起一个借钱的熟人，当时他信誓旦旦，说三个月后肯定一分不少地全都打到我的账户里来，可是又过去两个月了，他不仅没有打钱，连一个解释的电话都没有。气愤之下，我抄起电话便要质问熟人。父亲得知后将我拦住，说：“钱既然已经借出去了，就不必再催了。”我不解，说：“难道就让这笔钱白白地给他了不成？这样不守信用的人，你又何必跟他客气？”

(8)父亲一声不响地拿过我的账本，将我记下的还款日期一栏“啪”的一道线勾掉，这才说：“何时你将心里那个还款的日期，也一并改成无期限的时候，就不会像现在这样气愤了；假如人家忙得忘记了，你过去一通责问，那岂不是彼此坏了感情？一笔钱丢掉不要紧，连带地连一个朋友也给弄丢了，那就得不偿失了。”

(9)我依然心里憋闷，说：“可是我觉得这个人根本就是故意忘记的，我刚刚听说他借过别人的钱，每次别人一催，他就推说下个月还，结果是几个月过去了，还是没有丝毫要还的迹象。”

(10)父亲依然不紧不慢地喝一口茶，道：“如果他真是一个常占便宜的人，那你这钱，丢了也没有关系，能够用钱测出一个人的深浅，并在以后的路上，尽可能地远离这样的人，不是更好吗？况且，如果他不打算还你，你再怎样地催促，也是得不到这笔钱的，不如心中先放下，这样轻松的是你，而他，则会在你的安静里，心里有小小的失落与不安。”

(11)隔着十几年的光阴看过去，我第一次发觉，硕士毕业的我，从书本中得到的那些东西，在没有读过几本书的父亲面前，原来是如此的苍白且无力。人生中一切矛盾的化解，并不是拿尖锐的刀子划过，而是那最朴素最温暖的轻轻一放。

13、文章写了父亲哪三件事？请简要概括。(3分)

14、文章中主要写“父亲”，却用大量的笔墨写“我”，有什么作用？(2分)

15、请你用简洁的语言说说题目“轻放”的含义。(6分)

16、欠债还钱，本是天经地义。父亲却劝“我”不必催促，你认同父亲的这种做法吗？说说你的看法。(3分)

(二) 阅读下面额文字，完成 17-19 题。(8 分)

时间在头发里行走

迟子建

墙上的挂钟，曾是我童年最爱看的一道风景，我对它有一种说不出的崇拜，因为它掌管着时间，我们的作息似乎都受着它的支配。我觉得左右摇摆的钟摆，就是一张可以对所有人发号施令的嘴，它说什么，我们就得乖乖地听。到了指定的时间，我们得起床上学，我们得做课间操，我们得被父母吆喝着去睡觉……虽然说，有的时候，我们还没睡够不想起床，我们在户外的月光下还没有戏耍够不想回屋睡觉，都必须因为时间的关系而听从父母的吩咐。他们理直气壮呵斥我们的话与挂钟息息相关，“都几点了，还不起床”，要么就是“都几点了，还在外面疯玩，快睡觉去！”这时候，我觉得挂钟就是一个拿着烟袋锅磕着我们脑门的狠心的老头，又凶又僵，真想把它给掀翻在地让它永远不能再行走。

在我的想象中，它就是一个看不见形影的家长，严厉而又古板。但有时候它也是温情的，比如除夕夜里，它的每一声脚步都给我们带来快乐，我们可以放纵地提着灯笼在白雪地上玩个尽兴，可以在子时钟声敲响后得到梦寐以求的压岁钱，想着用这钱可以买糖果来甜甜自己的嘴，真想在雪地上畅快地打几个滚……我那时天真地以为时间是被一双神秘大手给放在挂钟里的，从来不认为那是机械的产物。它每时每刻地行走着，走得不慌不忙，气定神凝，它不会因为贪恋窗外鸟语花香的美景而放慢脚步，也不会因为北风肆虐大雪纷飞而加快脚步，它的脚是世界上最能经得起诱惑的脚，从来都是循着固定的轨迹行走。我喜欢听它前行的声音，总是一个节奏，好像一首温馨的摇篮曲。

我上初中以后，手表就比较普及了，我看见时间躲在一个小小的圆盘里，在我们的手腕上跳舞，它跳得静悄悄的，不像墙上的挂钟，行进得那么清脆悦耳，“滴答”“滴答”的声音不绝于耳。所以，手表里的时间总给我们一种鬼鬼祟祟的感觉，从这里走出来的时间因为没有声色而少了几分气势，这样的时间仿佛也没了威严，不值得尊重，所以明明到了上课时间我还会磨蹭一两分钟再进教室，手表里的时间也就因此显得有些落寞。

后来，生活变得丰富多彩了，时间栖身的地方就多了，项链坠可以隐藏着时间，让时间和心脏一起跳动；台历上镶嵌着时间，时间和日子交相辉映；玩具里放置着时间，时间就有了几分游戏的成分；至于计算机和手提电话，只要我们一打开它们，率先映入眼帘的就有时间……时间如繁星一样到处闪烁着，它越来越多，也就越来越显得匆匆了……

十几年前的一天，我第一次发现了时间的痕迹，我在梳头时发现了一根白发，它在清晨的曙光中像一道明丽的雪线一样刺痛了我的眼睛，我知道，时间其实一直悄悄地躲在我的头发里行走，只不过它这一次露出了痕迹而已。我明白，时间让花朵绽放的时候也会让人的眼角绽放出花朵——鱼尾纹；时间让一棵青春的小树越来越枝繁叶茂；让车轮的辐条越来越沾染上锈迹；让一座老屋逐渐地驼了背……时间还会变戏法，它能让一个活生生的人在瞬间消失在他们曾为之辛勤劳作着的土地上，我的祖父、外祖父和父亲，就这样，让时间给无声地接走了，再也看不到他们的脚印，只能再清冷的梦中见到他们依稀的身影……他们不在了，可时间还在，它总是持之以恒、激情澎湃地行走着，在我们看不到的角落，在我们不经意走过的地方，在日月星辰中……

现在，我终于明白，挂钟上的时间和手表里的时间，只是时间的一个表象而已，它存在于更丰富的日常生活中：在涨了又枯的河流中；在小孩子戏耍的笑声中；在花开花落中；在候鸟的一次次迁徙中；在我们岁岁不同的脸庞中；在桌子椅子不断增添的新的划痕中；在一个人的声音又清脆而变得沙哑的过程中；在一场接着一场去了又来的寒冷和飞雪中……只要我们在行走，时间就会行走。我们和时间是一对情侣，相依相偎着，不朽的它会在我们不知不觉间引领着我们一直走到地老天荒。

(选自《中外文摘》2011 年第 07 期，有删改)

17、作者在不同的人生阶段，对时间有不同的理解。请根据文意，填写下表。(4 分)

人生阶段。	时间的表现	对时间的认识或感情
童年	挂钟	严厉而又古板 温情
初中	①_____	鬼鬼祟祟 少了气势，没有了威严
后来	栖身于项链、台历、计算机、手机……	②_____
十几年前	在我们看不到的角落，在我们不经意走过的地方，在日月星辰中……	③_____
现在	④_____	和我们是一对情侣，相依相偎，不朽

18、请赏析划线句子的表达效果。(2分)

我觉得挂钟就是一个拿着烟袋锅磕着我们脑门的狠心的老头，又凶又倔

19、读了本文，相信你对时间有更深刻的认识。请把你的感悟写下来。(不能抄原文)(2分)

四. 写作(50分, 含卷面分5分)

20.一次元旦表演, 我发现自己拥有如此美丽的歌喉; 一番书海徜徉, 我发现思绪驰骋原来是那么自由; 一回亲友送别, 我发现从此多一份牵挂; 一轮朝阳初升, 那片辉煌居然洒满我的心头; 也可能, 我发现自己并不是那么高尚、理智、成熟……行走在这迷茫而美丽的青春路上, 我们是否步履匆匆, 来不及发现别样的自我?

请你以“刹那间, 我发现了自己”为题, 写一篇不少于600字的记叙文。文中不得出现真实的人名、校名, 否则扣分。

江西省心远第一学期期末测试

七年级（初一）数学试卷

说明：1.本卷共有六个大题，24 个小题，全卷满分120 分，考试时间120 分钟。
2 本卷分为试题卷和答题卷，答案要求写在答题卷上，不得在试题卷上作答，否则不给分。

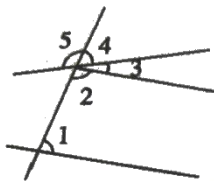
一选择题：(本大题共6 小题,每小题3 分,共18 分,每小题只有一个正确选项)

1 如图，下列结论正确的是 ()

- A $\angle 1$ 与 $\angle 3$ 是同位角 B $\angle 2$ 与 $\angle 3$ 是同旁内角
C $\angle 1$ 与 $\angle 2$ 是同旁内角 B $\angle 5$ 与 $\angle 2$ 是对顶角

2 如图，点O 是直线AE 上的一点，图中小于平角的角共有 ()

- A 4 个 B 8 个 C 9 个 D 10 个



(第 1 题图)



(第 2 题图)

3 如图是一块带有圆形空洞和方形空洞的小木板则下列几何体既可以用来堵住 圆形空洞，又可以用来堵住方形空洞的是 ()



A



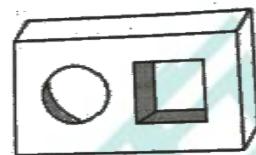
B



C



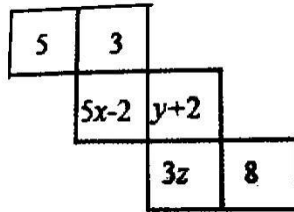
D



4 若 $6x+13$ 和 $3x-7$ 互为相反数，则 x 的值为 ()

- A $2/3$ B $-2/3$ C $3/2$ D $-3/2$

5 如图是一个正方体的展开图，折叠后它们的相对两面上的代数式的值相等，则 $x-y$ 的值是 ()



6 某工作车间有26 名工人, 每人每天可以生产800 个螺钉或1000 个螺母, 1 个螺钉需要配2 个螺母, 为使每天生产的螺钉和螺母刚好配套, 设安排X 名工人生产螺钉, 则下面所列方程正确的是 ()

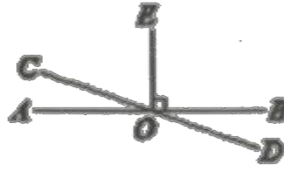
- A $2 \times 1000 (26-x) = 800x$
- B $1000 (13-x) = 800x$
- C $1000 (26-x) = 2 \times 800x$
- D $1000 (26-x) = 800x$

二填空题:(本大题共8 小题, 每小题3 分, 共24 分)

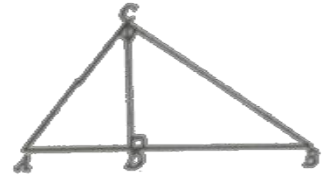
- 7 一个角是它的余角的2 倍, 则这个角的补角是__
- 8 某张试卷上的一道方程题: $2 + \square x / 3 + 1 = x$, \square 处在印刷时被墨盖住了, 查参考答案, 得知这个方程的解是 $x=2.5$, 那么 \square 处应该是数字__
- 9 我们知道, 无限循环小数都可以转化成分数, 例如, 将0.3 转化成分数时, 可设 $x=0.3$, 则 $10x=3.3$, 所以 $10x=3+x$, 即 $= \frac{1}{3}$, 照此方法, 将0.43 化为分数是.
- 10 某商品的标价为1200 元, 若以六折优惠销售, 相对于进价仍获利20%, 则该商品的进价为元.
- 11 如图, 某同学用剪刀沿直线将一片完整的树叶剪掉一部分, 发现剩下的树叶的周长比原树叶的周长要小, 能正确解释这一数学知识的是.
- 12 如图, 直线AB, CD 相交于点O, $OE \perp AB$, 若 $\angle BOD=20^\circ$, 则 $\angle COE=$ 度.
- 13 计算: $31^\circ 26' \div 2 + 18^\circ 32' \times 3 =$
- 14 如图, $\triangle ABC$ 是直角三角形, 其中 $\angle ACB=90^\circ$, $CD \perp AB$, 下列结论正确的有 (填序号)
 - ① BC 与AC 互相垂直; ②CD 垂直于CB; ③点C 到AB 的线段AD ④线段BC 的长是B 到AC 的距离, ⑤AC, CD, CB 三条线段中, 线段CD 最短.



(第 11 题图)



(第 12 题图)



(第 14 题图)

三、(本大题共 4 小题, 每小题 6 分, 共 24 分)

15. 解方程: $\frac{1}{6}(3x-6) = \frac{2}{5}x-3$

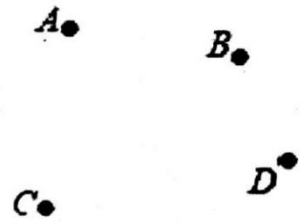
16. 解方程: $\frac{x+17}{5} - \frac{3x-7}{4} = -2$

17. 若单项式 $-2m^{4x+3}n^2$ 和 $\frac{1}{3}mn^{y+1}$ 是同类项, 求代数式 $-3x^2y - [5xy - 2(4xy - 1) - x^2y] + 1$ 的值.

18. 如图, 平面上有四个点 A, B, C, D, 请根据下列语句画图

- (1) 画直线 AB, CD 交于 E 点 (2) 连接
 线段 AD, 并将其反向延长; (3) 作射线
 BC

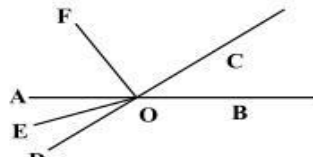
(4) 在平面内找一个 F, 使点 F 到 A, B, C, D 四个点的距离之和最小



四、(本大题共 4 小题, 每小题 8 分, 共 32 分)

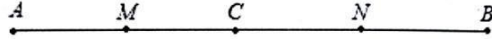
19. 如图, 直线 AB, CD 相交与点 O, OE 平分 $\angle AOD$, $OF \perp OC$.

- (1) 图中 $\angle AOF$ 的余角是 _____; (写出图中符合条件的所有角)
 (2) 如果 $\angle AOC = 145^\circ$, 那么根据 _____ 可得 $\angle BOD =$ _____ 度;
 (3) 如果 $\angle EOF = 58^\circ$, 求 $\angle BOC$ 的度数.



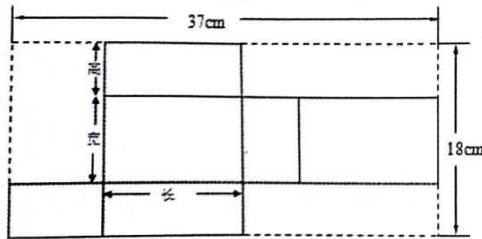
20. 整理一批图书, 如果由一个人单独做需要用 $60h$, 现安排一部分人整理 $2h$, 随后又增加了 6 人和他们一起又整理了 $4h$, 恰好完成整理工作, 假设每人的工作效率相同, 请问先安排整理的人员有多少人?

21. (1) 如图,点 C 在线段 AB 上,AC=6cm,MB=11cm,点 M,N 分别是 AC、BC 的中点. 求线段 BC,MN 的长;



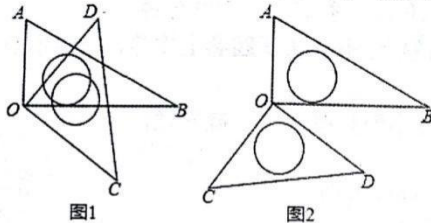
(2)若点 C 在线段 AB 的延长线上,且满足 $AC-BC=acm$,点 M,N 仍分别是 AC、BC 的中点,求线段 MN 的长度.

22. 桑海药业集团生产的某种药品的长方体包装盒的展开图如图所示,根据图中数据,如果长方体盒子的长比宽多 4cm,求这种药品包装盒的表面积和体积.



五、(本大题共 10 分)

23. 将一副三角板中的两块直角三角尺的直角顶点 O 按如图方式叠放在一起.



- (1)如图(1)若 $\angle BOD=35^\circ$,则 $\angle AOC=$ _____;若 $\angle AOC=135^\circ$,则 $\angle BOD=$ _____;
- (2)如图(2)若 $\angle AOC=140^\circ$,则 $\angle BOD=$ _____;
- (3)猜想 $\angle AOC$ 与 $\angle BOD$ 的数量关系,并结合图(1)说明理由.
- (4)三角尺 AOB 不动,将三角尺 COD 的 OD 边与 OA 边重合,然后绕点 O 按顺时针方向任意转动一个角度,当 $\angle AOD$ ($0^\circ < \angle AOD < 90^\circ$) 等于多少度时,这两块三角尺各有一条边互相垂直,请画出满足条件的所有可能情况的示意图并直接写出 $\angle AOD$ 角度的值,不需要说明理由.

六、(本大题共12 分)

24. 阅读理解《算法统宗》中记载了一个“李白沽酒”的故事,诗云

今携一室酒,游春郊外走. 逢朋加一倍,入店饮斗丸. 相逢三处店,饮尽杯中酒. 试问能算士:如何知原有.

大意是李白在郊游时,做出了这样一条约定:遇见朋友,先到酒店里将壶里的酒增加一倍,再喝掉其中的19 升酒(注古代一斗是10 升).按照这样的

约定，在第三个店里遇到朋友正好喝光了壶中的酒。

(1) 列方程求壶中原有多少升酒？

(2) 设壶中原有 a 升酒，则在第 n 个店里喝完酒后壶中余 a_n 升酒，如第一次饮酒后余 $a_1 - 2a - 19$ (升)，第二次饮酒后余 $a_2 - 2a_1 - 19$ (升)。

1 用 a_{n-1} 的表达式表示 a_n ，再用 a 和 n 的表达式表示 a_n

2 按照这个约定，如果在第四家店喝光了壶中的酒，请问原壶中有多少升酒？

江西育华学校七年级（上）数学期末试卷

一、选择题（本大题共 8 个小题，每小题 3 分，共 24 分，每小题只有一个正确选项）

1. 下列算式中，运算结果为负数的是（ ）

A -3^2 B $|-3|$ C $-(-3)$ D $(-3)^2$

2. 小星同学在“百度”搜索中输入“中国梦，我的梦”，能搜索到与之相关的结果的条数为 61700000，这个数用科学记数法为（ ）

A 617×10^5 B 6.17×10^6 C 6.17×10^7 D 0.617×10^8

3. 下列各式中运算错误的是

A $2a+a=3a$ B $-(a-b)=-a+b$ C $a+a^2=a^3$ D $3x^2y-2yx^2=x^2y$

4. 如果代数式 $x-2y+2$ 的值是 5，则 $2x-4y$ 的值是（ ）

A 3 B -3 C 6 D -6

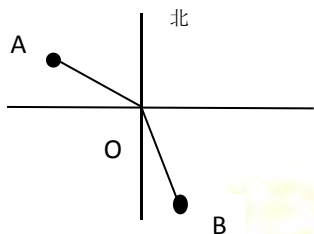
5. 某村原有林地 108 公顷，旱地 54 公顷，为保护环境，需把一部分旱地改为林地，使旱地的面积占林地面积的 20%。设把 x 公顷旱地改为林地，则可列方程（ ）

A $54-x=20\% \times 108$ B $54-x=20\%(108+x)$

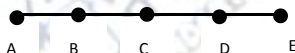
C $54+x=20\% \times 162$ D $108-x=20\%(54+x)$

6. 如图，在灯塔 O 处观测到轮船 A 位于北偏西 54° 的方向，同时轮船 B 在南偏东 15° 的方向，那么 $\angle AOB$ 的大小是（ ）

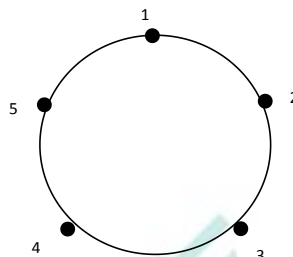
A 69° B 111° C 141° D 159°



第 6 题



第 7 题



第 8 题

7. 如图，线段 $AB=BC=CD=DE=1\text{cm}$ ，图中所有线段的长度之和为（ ）

A 4cm B 10cm C 20cm D 30cm

8. 如图，一只青蛙在圆周上标有数字的五个点上跳，若它停在奇数点上，则下次沿顺时针方向跳两个点，若它停在偶数点上，则下次沿逆时针方向跳一个点，若青蛙从 1 这个点开始跳，则经过 2016 次后它停在哪个数对应的点上（ ）

A 1 B 2 C 3 D 4

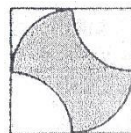
一、 填空题，（本大题共 6 个小题，每个小题 3 分，共 18 分）

9. 已知 $\angle \alpha = 47^\circ 30'$ ，则 $\angle \alpha$ 的余角的度数为_____。

10. 已知 $|m-4| + (n/2+1)^2 = 0$ 则 $2m-n =$ _____。

11. 已知 $x=-2$ 是关于 x 的方程 $3+ax=x$ 的解，则 a 的值为_____。

12. 已知长方形的长为 $(2b-a)$ ，宽比长少 b ，则这个长方形的周长是_____。



第 14 题

13. 已知 $\angle AOB=90^\circ$, $\angle BOC=43^\circ$, 那么 $\angle AOC=$ _____。

14. 如图, 阴影部位是由 4 段以正方形边长的一半为半径的圆弧围成的, 这个图形被作为试斯坦因豪斯图形。若图中正方形的边长为 a , 则阴影部位的面积为_____。

三、(本大题共 4 小题, 每小题 6 分, 共 24 分)

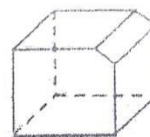
15. 计算: $(-5)^3 \times (-\frac{3}{5}) + 32 \div (-2^2) \times (-1\frac{1}{4})$

16. 解方程: (1) $2x+1=4-x$

(2) $\frac{2y-1}{3} = \frac{y+2}{4} - 1$

17. 先化简, 再求值: $3ab^2 - 2(ab - \frac{3}{2}a^2b) + (3a^2b - 2ab^2)$, 其中 $a = -4$, $b = \frac{1}{2}$ 。

18. 如图, 把一个正方体切去一块得到下面的几何体, 分别画出图中几何体从正面看、从左面看和从上面看到的平面图形。

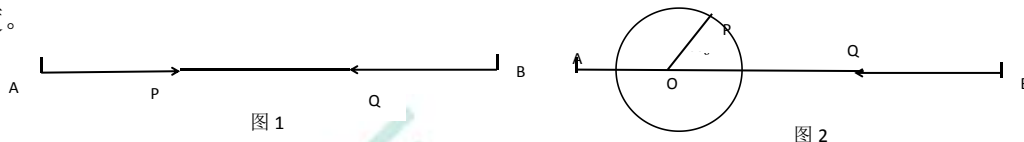


四、(本大题共 3 小题, 每小题 8 分, 共 24 分)

19. 如图, 已知线段 $AB=20\text{cm}$.

(1) 如图 1, 点 P 沿线段 AB 自点 A 向点 B 以 2 厘米/秒运动, 点 P 出发 2 秒后, 点 Q 沿线段 BA 自 B 点向 A 点以 3 厘米/秒运动, 问再经过几秒后 $AP=BQ$;

(2) 如图 2: $AO=4\text{cm}$, $PO=2\text{cm}$, $\angle POB=60^\circ$, 点 P 绕着点 O 以 60 度/秒的速度逆时针旋转一周停止, 同时点 Q 沿着直线 BA 自点 B 向 A 点运动, 假若 P、Q 两点能相遇, 求点 Q 运动的速度。



20. 若某风景名胜区的原门票价格是: 成人票每张 100 元, 学生票每张 80 元, 为吸引游客, 风景区管委会决定实行打折优惠, 其中成人票打 8 折, 学生票打 6 折。

(1) 设某旅游团有成人 x 人, 学生 y 人, 请用含 x , y 的代数式表示出该旅游团打折后所付的门票费;

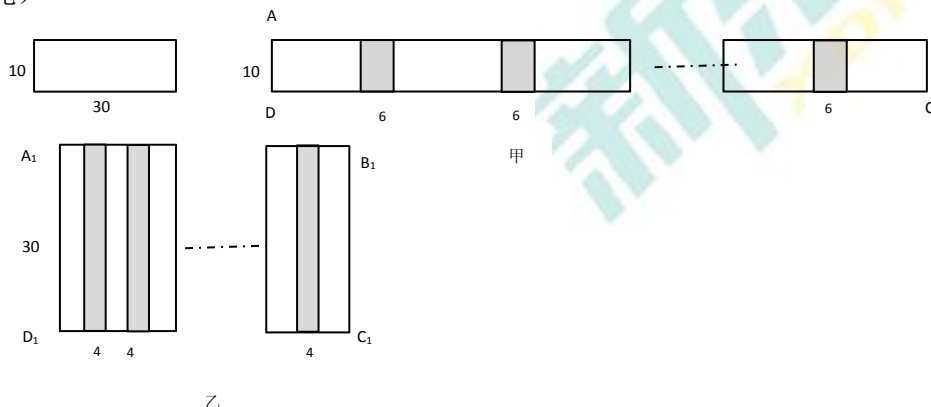
(2) 若某旅游团的成人比学生多 12 人, 所付门票费比不打折少 1228 元, 求该旅游团成人和学生各有多少人?

21. 小明和小慧两位同学在数学活动课上, 把长为 30cm, 宽为 10cm 的长方形白纸条粘合起来, 小明按图甲所示的方法粘合起来得到长方形 ABCD, 粘合部分的长度为 6cm, 小慧按如图乙所示的方法粘合起来得到长方形 $A_1B_1C_1D_1$, 粘合部分的长度为 4cm。

(1) 求 5 张白纸分别按图甲和乙粘合后, 总长度分别为多少厘米?

(2) 用 x 张白纸按甲粘合后, 总长度为多少厘米?

(3) 若长为 30cm, 宽为 10cm 的长方形白纸条共 100 张, 则应分给小明多少张长方形白纸条, 才能使小明和小慧按各自要求粘合起来的长方形面积相等 (要求 100 张长方形白纸条全部用完)



五、(本大题共 1 小题, 共 10 分)

22. 已知: 如图 1, 点 A、O、B 依次在直线 MN 上, 现将射线 OA 绕点 O 沿顺时针方向以每秒 2° 的速度旋转, 同时射线 OB 绕点 O 沿逆时针方向以每秒 4° 的速度旋转, 如图 2, 设旋转时间为 t 秒 ($0 < t < 90$).

- (1) 用含 t 的代数式表示 $\angle MOA$ 的度数;
- (2) 在运动过程中, 当 $\angle AOB = 60^\circ$ 时, 求 t 的值
- (3) 在旋转过程中是否存在这样的 t , 使得直线 OB 是由射线 OM、射线 OA、射线 ON 中的其中两条组成的角 (指大于 0° 而不超过 180° 的角) 的平分线? 如果存在, 请求出 t 的值, 如果不存在, 请说明理由.

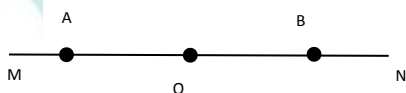


图 1



图 2

江西省心远第一学期期末终结性测试

一. 听力
略

二. 单项选择 (8 分)

() 28. Are Jane and Tom in _ _ grade?

-Yes, but they are in different _ _ .

A.same;class B.a same;classes C.the same; classes D.the same;class

() 29. These pairs of shoes _ _ John 's and that pair of shoes _ _ my brother 's

A.is;is B.is;are C.are;is D.are;are

() 30. We have math _ _ Firday. It 's difficult _ _ interesting.

A.on;or B.on;but C.in;or D.in;but

() 31. Now, everybody, please turn to page _ _ and look at _ _ picture

A.the fifth;five B.five;the fifth C.the fifth;the fifth D.five;five

() 32. How old is she? She is _ _ .

A.fourty one B.forty one C.fourth-one D.forth-one

() 33. _ _ Alice and Helen play sports after school ?

-Yes, they _ _ . But I think it 's difficult _ _ me.

A.Do;do;for B.Does;does;in C.Do;does;with D.Does;do;to

() 34. Is this book _ _ ? No, it 's _ _ book.

A.your;her B.yours;hers C.your;hers D.yours;her

() 35. I want to see the movie **Iron Man3** 《钢铁侠 3》. Do you know the _ _ of the ticket?

-Yes. Five dollars

A.number B.money C.price D.dollar

三. 完型填空 (27 分)

A) 通读全文, 掌握其大意, 选择最佳选项 (每空 1 分, 共 15 分)

In the US Mother's Day is a holiday on the second Sunday in May. It is a day when children give their _ 36 _ cards, presents and flowers.

One of the _ 37 _ ways to celebrate Mother's Day is to give your mother the day off. Let her have a good rest while other members of the family do the _ 39 _ .

Many families begin Mother's Day with _ 40 _ in bed. Usually dad and the children will let mum _ 41 _ late as they go into the kitchen(厨房) and get ready _ 42 _ her favorite meal. A Mother's Day breakfast can make anything your mum likes.

_ 43 _ the food is cooked, keep everything nicely on a plate. Don't forget to put the bottle _ 44 _ only one flower. It 's spring here, the children can pick the nicest _ 45 _ from the garden outside. When everything is ready, carefully carry the plate and mum's favorite books and newspapers up to her _ 46 _ . Cards and small presents from the children can be put on the plate _ 47 _ it is given to mum in bed.

Many families take mum out to her favorite _ 48 _ for a meal. It is a good day to let your mum _ 49 _ and let her see what a wonderful _ 50 _ she has.

() 36. A. mothers B. parents C. teachers D. friends

- () 37. A. good B. better C. well D. best
- () 38. A. meal B. rest C. job D. hobby
- () 39. A. homework B. washing C. housework D. shopping
- () 40. A. breakfast B. lunch C. sipper D. dinner
- () 41. A. eat B. sleep C. wash D. cook
- () 42. A. to B. for C. with D. by
- () 43. A. Before B. Until C. After D. Unless
- () 44. A. have B. has C. with D. of
- () 45. A. plate B. flower C. bottle D. food
- () 46. A. dining room B. bedroom C. washing D. classroom
- () 47. A. after B. when C. if D. before
- () 48. A. restaurant B. hotel C. bank D. park
- () 49. A. sleep B. eat C. cook D. rest
- () 50. A. family B. job C. restaurant D. flower

B) 通读全文,掌握其大意·用方框中所给词的适当形式填空,每词限用一次。(无需变形的·为6题·每小题1分·需变形的为4题·每小题1.5分)

favorite, at, are, slow, like, interest, open, really, because, friend

If you are a teenager and you don't like reading, this is for you. Here is some advice on finding your 51 books:

Ask around. Ask your 52 or favorite teachers to suggest(建议) some books.

Go to the library. Don't be shy about it. You can ask a librarian a question 53 this: Do you have any books on rock music?

Try a few pages. If a book doesn't interest you after you read a few pages, leave it and try another, until you find an 54 one.

Read at your own pace. Reading isn't a test. So when you read 55, you can have a look 56 words here and there and think. If you 57 interested in it, you'll read to the end quickly. Then you can read another one.

Let one good thing lead to another. When you read some 58 interesting books, you may be sorry when you finish them. 59 the end is never really the end for a person who reads. You can always 60 another book, and another.

四、阅读理解 (20分)

A

Every country has its favorite food. In some countries, people eat rice every day. They often eat it with meat, fish and vegetables. Japanese eat a lot of fish, and they eat a lot of rice, too.

In England, the favorite food is fried fish and French fries. In the US, people like hamburgers a lot. And they like to have cold drinks. In Canada, people eat bread with butter on it. In India, people like to eat hot food. Some people eat only fruit and vegetables. They don't like to eat meat and fish. They think green food is good for them.

- () 61. Japanese like to eat _____
A. Fish B. rice C. bread D. A and B
- () 62. In the US, people like to have _____
A. fish and fries
B. bread with butter
C. hamburgers and cold drinks
D. fish and rice
- () 63. Some people like to eat fruit and vegetables because _____
A. they are sweet
B. they don't have meat or
fish C. meat and fish aren't
delicious D. they are green
food

B

It is Sunday morning. Mrs. White and her daughter Kate go to the bookshop near their house. Mrs. White wants to buy some picture books for her grandson. Kate wants to buy some storybooks. In the bookshop Kate meets her old friend, Sue. They talk for a long time and forget to buy the books. At twelve o'clock, Mrs. White finds them and asks Sue to have lunch with them.

- () 64. When do Mrs. White and her daughter go shopping?
A. On Sunday evening.
B. On Sunday morning.
C. On Saturday afternoon.
D. On Saturday morning
- () 65. Where is the bookshop?
A. Near the school.
B. Behind the school.
C. Behind their classroom.
D. Near Mrs. White's house.

() 66. Where do the two good friends

meet? A. In the clothes shop.

B. In the bookshop

C. In the school.

D. At Mrs. White's home

C

"Who needs a shopping mall if you have Taobao?" says Wang Lin, 28, a writer in Beijing.

Taobao, China's largest online shopping site, has become an important part of Wang Lin's

life. She spends lots of money on Taobao.

A growing number of Chinese Internet users like Wang have found the joys of online shopping. Most

online shoppers are students or young workers. More women shop online than men.

Clothing and home-use

products are the most popular online.

It was reported that more than 250 billion yuan was spent on online shopping last year, 80% through

Taobao.

Taobao means "looking for treasure" in Chinese. People can find almost everything they need on

Taobao, from clothes to books, from candies to DVD players.

You may question the security of online shopping, Wang Lin said, "It's very safe and convenient. The shop owner will not get the money unless you receive the products from the sellers and are

satisfied with them. You can also get your money back if you want to return the products."

67. What are the most popular online

products?

A. Candies and DVD players.

B. Clothes and books.

C. Clothing and home-use

products.

D. Treasure.

68. Most online shoppers

are _____.

A. young B. old

C. babies D. Men

69. what does underline word "security" mean ?

A.质量 B.安全 C.信誉 D.密码

70. Which is the best title (标题) of the passage?

A. Wang Lin's life.

B. Online shopping in China.

C. Shopping on line is not safe. D. Looking for treasure.

五、补全对话 (5分)

Waitress : What can I do for you?

Sarah:I want a T-shirt for my father.

Waitress :71 This kind of T-shit sells well.

Sarah : It looks nice. I think my father will like it. Waitress: 72

Sarah : Size M.

Waitress : 73 We have white. Black. Yellow and blue. Sarah Yellow.74

Waitress : One hundred and twenty yuan. Sarah : OK. I'll take it. 75

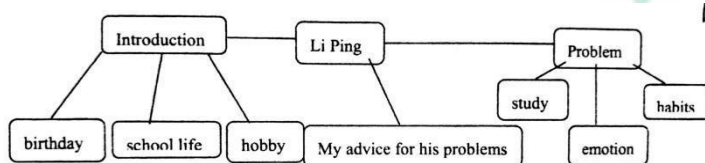
Waitress : Thank you.

六、书面表达 根据下面图表信息，写一篇短文，介绍笔友李平的基本情况，他遇到的困惑，以及你给他的一些建议。要点表达要全，可适当发挥。词数不少于6词。

提示：1.基本情况：出生于 2004 年 10 月 23 日；爱打篮球和游泳喜欢上英语课；

2.困惑：学习上作业多情感上父母整天忙于一工作习惯上爱吃垃圾食品，不爱吃水果和蔬菜；

3.建议：多吃水果和蔬菜；努力学习；多与家人、朋友.....



Li Ping is my pen friens. He _____

新东方
XDF.CN

优能中学教育
YOUNEER SECONDARY SCHOOLS EDUCATION

新东方
XDF.CN

江西育华学校七年级上英语期末试卷

本试题总分 100 分，答题时间为 100 分钟

一、听力测试(20 分)

略

二、语言知识运用 (10 分)

请阅读下面各小题，从题中所给的 A、B、C、D 四个选项中选出可以填入空白处的最佳选项，并将其填到答题卷的相应位置。(每小题 1 分)

21---Thanks for _____ me with my English. ---It is my pleasure.

- A. help B. helping C. to help D. helps.

22. The shoes don't fit me. Would you please show me _____ ?

- A. another pair B. the other one C. the other. D. another one.

23. This Sunday is Mary's _____ birthday. What do you want to buy for her?

- A. the ninth B. nine years old C. ninth D. the ninth

24. She bought that dress _____.

- A. in good price B. of a good price C. with good price D. at a good price

25. ---Did you see Your Name yesterday?

--Yes, but I think it is _____. I fell asleep when I watched it.

- A. boring B. exciting C. interesting D. relaxing

26. Look! The T-shirts in our store are _____. Some are red while others are green.

- A. have different colors B. in all color C. in different colors D. have all colors

27. We have _____ Thursday afternoon.

- A. an English, in B. English, on C. English, at D. English, in

28---Who _____ biology? ---Mr. Liu.

- A, teach you B. teaches her C. teach her D. teaches your

29. I can't go with you because I'm busy _____ my homework.

- A. to do B. do C. doing D. does

30. The pants _____ nice, I'll take _____.

A. look, them B. looks, it C. look, it D. looks, them

三、完形填空(20 分)

A)请先阅读下面短文，掌握其大意，然后从各小题所给的 A、B、C、D、四个选项中选出可以填入相应空白处的最佳选项，并将其填到答题卷的相应位置。(每小题 1 分)

Next to our school there is a store. It's 31, but there are lots of school things 32 it. Do you and your friends 33 books, pens or 34? Please come to the store. They 35 those things at very good 36. Big erasers are just two yuan 37. And small erasers are only one yuan. The pens are just on sale 38 three yuan. Oh, I like that cartoon pencil sharpener. 39 the price! It's only two yuan. I'll take 40. Do you want school things? Just come here and see for yourself!

- 31.A.short B. small C. big D. beautiful
 32.A. in B. for C. of D. on
 33.A. have B. need C. take D. sell
 34.A.pencils B. milk C. clothes D. apples
 35.A.like B. sell C. buy D. sale
 36.A.store B. price C. money D. prices
 37.A.one B. every C. each D. only
 38.A.for B. of C. in D. to
 39.A.Look at B. Watch C. See D. Read
 40.A.them B. it C. they D. both of them

B)请先阅读下面短文，掌握其大意，然后从方框所给的词中选出最恰当的 10 个，用其适当的形式填空，并将答案填到答题卷的相应位置。每个词限用一次。(每小题 1 分)

likes	on	thinks	clean	be	in	help	eat	do	come
-------	----	--------	-------	----	----	------	-----	----	------

The Spring Festival is Chinese New Year's Day. It usually 41 in January. Everyone in China 42 the Spring Festival very much. When the Spring Festival comes, Liu Mei usually 43 her parents 44 house and 45 some shopping. 46 that day everyone 47 dumplings, New Year's cakes and other delicious food. Li Hong likes New Year's cakes. But Wang

53. What does the writer think of "math"?
- A. Difficult but interesting. B. Difficult and boring.
C. Boring but interesting. D. Difficult but relaxing.
54. Why does the writer say it is NOT my day?
- A. Because he is often busy on Wednesday.
B. Because there are no classes he likes on Wednesday.
C. Because he is very kind.
D. Because there is no science class on Wednesday.
55. How many classes does the writer have on Wednesday?
- A. Four. B. Five. C. Six. D. Seven
56. What's the best title for the passage?
- A. My Classes B. My Favorite Class C. My Day D. A Busy Day

C

Do you know something about the holiday, camps(度假营) in Hong Kong? The students in Hong Kong take part in many kind of holiday camp . And their parents don' t need to stay with them. Though they were very young.

In the holiday camps, parents want their children to learn some practical knowledge(实践知识) in their life and also learn some knowledge about living skills(生活技能), science, reading and writing... The most important (最重要的) for the children is to learn to look after themselves.

Holiday camps in Hong Kong are not so expensive. Most families can send their children there for further (进一步的) study or for making their bodies strong.

57. When students in Hong Kong are in the holiday camps, their parents_____.
- A. must be with them B. have to look after them nearby
C. must stay at home D. aren't with them

58. The most important thing for the students to take part in the holiday camps in Hong Kong is

- A. to learn some English words B. to learn more knowledge about many things
C. to learn to look after themselves D. to have a further study about many subjects

59. Holiday camps in Hong Kong are _____.

- A. very dear B. not so expensive C. very expensive D. very cheap

60. The students who often take part in the holiday camps _____.

- A. can have more knowledge about many things B. can be very clever
C. can be very strong D. both A and C

B) 请阅读下面短文，根据短文内容从下面方框的七个选项中选择五个适当的句子还原到原文中，使短文意思通顺、结构完整，并将其填到答题卷的相应位置。（每小题 2 分）

61 I only need to go to school from the first to the twenty second. 62 This year it is from January 23rd to 26th, My mother can go to the festival with me, but my father can't. He is too busy. All the people sing, dance and play games at the festival. 64 I don't need to go to school and can have a long holiday. My parents and I want to take a trip in England. 65 I am sure we'll have a good time.

- A. After the festival, the term is over.
B. January is a great month.
C. We will come back to Beijing on February 15th.
D. It is the first month of the year.
E. All the students and parents can come to the festival.
F. Parents can't come to the festival with their children.
G. Every year, our school has an art festival.

五、补全对话（5 分）

请阅读下面对话，根据对话内容补上所缺句子，使对话通畅、合理、完整。（每空一句，每句一分）

(Zhang=Z Mike=M)

A:66. _____

B:Yes, please. I need a T-shirt.

A: 67. _____

B: I like it, green is my favorite color.68. _____

A: Forty-five dollars for one, and eighty dollars for two.

B: Can I have two T-shirts in different colors?

A: 69. sure _____

B:Green and black.

A:OK 70. _____

B:Thanks,they fit me.

六、书面表达

请根据下列思维导图，以 John 的名义给新认识的网友 scoot 写一封 60 词左右的邮件介绍 John 的 school life.注意格式。（reason 理由）

