

2017~2018 学年第一学期八年级期末考试

历史试卷

(考试时间：上午 10:00-11:30)

说明：本试卷闭卷笔答，做题时间 90 分钟，满分 100 分。

题号	一	二	三	四	总分
得分					

一、单项选择题 (本大题含 15 小题，每小题 2 分，共 30 分)

题号	1	2	3	4	5	6	7	8	9	10	11	12	13	14	15
选项															

1. 习近平总书记指出，上海党的一大会址、嘉兴南湖红船是我们党梦想起航的地方。我们党从这里诞生，从这里出征，从这里走向全国执政，这里是我们党的根脉。我们党从这里诞生的时间是

- A. 1911 年 10 月 B. 1921 年 7 月 C. 1949 年 10 月 D. 1927 年 8 月

答案解析：据所学知，1921 年 7 月，中共一大在上海召开，标志着中国共产党的诞生，自从有了中国共产党，中国革命的面貌就焕然一新了。所以 B 选项是正确的。本题考查了中国共产党诞生的时间。

2. 中国共产党第一次代表大会确立的党的奋斗目标是

- A. 建立无产阶级专政，实现共产主义 B. 领导和组织工人运动
C. 提出反帝反封建的民主革命纲领 D. 打到军阀，推翻帝国主义

答案解析：根据已学知识可以知道，1921 年 7 月，中国共产党第一次全国代表大会在上海秘密召开，参加大会的代表有毛泽东、董必武、陈潭秋、王尽美、邓恩铭、李达等 13 人，代表全国五十多个党员，共产国际的代表也出席了大会。大会确定党的名称为“中国共产党”；党的奋斗目标是推翻资产阶级政权，建立无产阶级专政，实现社会主义和共产主义；党在当前的任务是组织工人阶级，开展工人运动；选举产生了党的领导机构中央局。选陈独秀为中央局书记。ABC 与题意相符。所以 A 选项是正确的。本题考查中共一大的奋斗目标。

3. 李大钊是中国马克思主义思想传播的先驱，在中华大地上第一次高高举起马克思主义的旗帜。他宣传马克思主义的事迹有

- ①创办《每周评论》 ②发表《庶民的胜利》 ③发表《布尔什维主义的胜利》 ④创办《大公报》
A. ①②③ B. ②③④ C. ①③④ D. ①②④

答案解析：【考点提示】新文化运动为本题主要考查点。

【重难点分析】根据题干中“李大钊是中国马克思主义思想传播的先驱，在中华大地上第一次高高举起马克思主义的旗帜”并结合所学知识可知，为宣传马克思主义他创办了《每周评论》。他的马克思主义著作主要有《庶民的胜利》、《布尔什维主义的胜利》。《大公报》是英敛之在天津创办。因此答案是 A 选项。

4. 刽子手把林祥谦绑在电线杆上，逼他下复工的命令，遭到林祥谦的严词拒绝。刽子手先砍一刀，怒声喝道：“到底下不下上工命令？”林祥谦忍痛疾呼：“我们的头可断，工不可上！”……材料描述的情景是

- A. 五四运动 B. 北伐战争 C. 京汉铁路工人大罢工 D. 湖南农民运动

答案详解：根据题干中“林祥谦、工不可上”并结合所学知识可知，这次运动是工人罢工运动，ABD 都不符合题意，因此答案是 C 选项。

5. 阅读下面某历史著作节选。据此判断，它叙述的史实是

同时，它也表明，单靠工人阶级孤军奋战是不可能战胜强大的敌人的，必须联合广大农民、城市小资产阶级和民族资产阶级，组成广泛的反帝反封建的统一战线，才能取得中国革命的胜利。

- A. 马克思主义的传播 B. 中国共产党的成立 C. 中国工人运动的第一次高潮 D. 国共第一次合作

答案详解：根据题干中“工人阶级必须联合广大农民、城市小资产阶级和民族资产阶级，组成最广泛的反帝反封建的统一战线”并结合所学知识可知，1923年6月中国共产党第三次全国代表大会确定了全体共产党员以个人名义加入国民党，与国民党建立革命统一战线的方针。1924年1月20日至30日，在中国共产党人的参加与帮助下，孙中山在广州召开了国民党第一次全国代表大会，重新解释了三民主义。大会通过了共产党人起草的以反帝反封建为主要内容的宣言，确定了联俄、联共、扶助农工的三大政策，从而把旧三民主义发展为新三民主义。以国共两党合作为特征的革命统一战线的建立，加速了中国革命的进程，在中国革命历史上出现了轰轰烈烈的大革命。因此答案是D选项

6. 随着北伐的胜利进军，各地的工农革命运动蓬勃发展。到1926年11月底，湖南已有54个县建立农民协会组织，会员达107万人；到1927年1月会员又增加了到200万人。湖北全省农民协会会员1926年7月有3万多人，到11月增加到20万人左右。城市工会组织和工人运动也得到很大的发展。与材料所述意思相符的是

- A. 工农群众是北伐的主力军 B. 工农运动的支持是北伐胜利的原因
C. 湖南、湖北是北伐的主战场 D. 北伐胜利后在各地建立了政权

答案详解：根据题干中“工农革命运动、农民协会组织会员的人数、城市工会组织和工人运动也得到很大发展”并结合所学知识可知，在北伐中，工农运动起到了重要的作用，是北伐胜利的原因，因此答案是B选项。

7. 从“大革命失败”“1927年8月1日”“周恩来”“打响武装反抗国民党统治的第一枪”等一组关键词中，可知其反映的历史事件是

- A. 黄埔军校创办 B. 南昌起义
C. 井冈山会师 D. 三湾改编

答案详解：本题考查南昌起义。结合所学知识可知，1927年8月1日，周恩来、朱德、贺龙、叶挺、刘伯承等领导北伐军在江西南昌举行起义，打响了武装反抗国民党反动派的第一枪，标志着中国共产党独立领导武装斗争的开始。故本题正确答案为B。

8. 下面是小丽收集的一组纪念红军长征的邮票，如果按照红军长征路线的先后顺序排列，正确的是



① 过雪山草地



② 遵义会议



③ 胜利会师



④ 四渡赤水

- A. ①②③④ B. ②④①③ C. ②③④① D. ①②④③

答案详解：由于红军在反击国民党军第五次“围剿”时失利，1934年10月，红军被迫进行战略转移。沿途突破敌人四道封锁线，兵力损失过半，1935年1月，遵义会议以后，红军不畏艰难，四渡赤水河，打乱了敌人的围剿计划，南渡乌江，然后巧渡金沙江，从此红军跳出国民党军队包围圈从而掌握了作战的主动权。通过大凉山彝族地区，接着，红军北上，强渡大渡河，飞夺泸定桥，翻越雪山，穿过草地，挥师北上，1935年10月，中共中央和中央红军到达陕甘革命根据地的吴起镇，1936年10月红二、四方面军与红一方面军在甘肃会宁会师，红军三大主力会师，

宣告二万五千里长征胜利结束。因此答案是 B 选项。

9. 他是山东菏泽人，时任二十九军中将师长。曾经在长城抗战中率领大刀队奇袭日军，闻名中外。七七事变发生后，率部参加北平保卫战，在南苑指挥部队奋勇抗击日军。他冲入敌军，挥舞大刀斩杀日军。最后壮烈牺牲，年仅 39 岁。他是

- A. 杨靖宇 B. 张自忠 C. 左权 D. 赵登禹

答案详解：本题考查七七事变。解题的关键是“二十九军师长”，1930 年，赵登禹跟随冯玉祥参加了“中原大战”，战败后冯的部队被整编，赵登禹被任命为第 29 军 37 师 109 旅旅长。1937 年 7 月 28 日，对日作战时壮烈殉国，是抗日殉国的第一位师长。因此答案是 D 选项。

10. 在反法西斯战争和抗日战争即将胜利的前夜，中国共产党第七次全国代表大会召开。下面有关中共七大的叙述，不正确的是

- A. 1945 年 4 月，在延安召开
B. 大会主要讨论抗战胜利后中国将走什么道路的问题
C. 大会指出抗战胜利后要建立一个社会主义性质的中国
D. 大会为争取抗日战争的胜利和实现中国的光明前途准备了条件

答案详解：【考点提示】中共七大为本题主要考查点。

【重难点分析】根据所学知识可知，抗日战争胜利前夕，中国共产党在延安召开第七次全国代表大会。大会主要讨论夺取抗战胜利和胜利后中国将走什么道路的重要问题。大会制定了党的政治路线，那就是：放手发动群众，壮大人民力量，在中国共产党的领导下，打败日本侵略者，解放全国人民，建立一个新民主主义的中国。大会为争取抗日战争的胜利和实现中国的光明前途准备了条件。因此答案是 C 选项。

11. 2014 年 2 月 27 日，十二届全国人大常委会第七次会议决定，将中国人民抗日战争胜利纪念日确定为

- A. 7 月 7 日 8. 10 月 1 日 C. 8 月 15 日 D. 9 月 3 日

答案详解：本题考查抗日战争的胜利。

1945 年 8 月 15 日，日本裕仁天皇宣布无条件投降；9 月 2 日，日本代表在投降书上签字；9 月 3 日日本对同盟国各国递交降书。十四年的抗日战争，中国人民终于取得了伟大胜利。2014 年 2 月 27 日，第十二届全国人大常委会第七次会议经表决通过全国人大常委会关于确定中国人民抗日战争胜利纪念日的决定，确定每年 9 月 3 日为中国人民抗日战争胜利纪念日。故本题正确答案为 D。

12. 1945 年 8 月 29 日，重庆《大公报》社评：天下午三点多钟，毛泽东先生到了重庆。毛泽东先生来了！中国人听了高兴，世界人听了高兴，毫无疑问的，大家都认为这是中国的一件大喜事。毛泽东到重庆的目的是

- A. 为发动内战争取时间 B. 把不愿和平的罪名强加给国民党
C. 为了尽可能争取和平 D. 会见老朋友、老同学

答案详解：【考点提示】重庆谈判为本题主要考查点。

【重难点分析】依据材料可以看出，人们对毛泽东来重庆的兴奋之情，体现的是人们期盼抗战后国共合作、和平建国的愿望。AB 选项是国民党的意图，排除。因此答案是 C 选项。

13. 揭开了人民解放军战略进攻序幕的历史事件是

- A. 刘邓大军挺进大别山 B. 辽沈战役
C. 百万雄师横渡长江 D. 平津战役

答案详解：1947 年夏，刘伯承、邓小平率领晋冀鲁豫解放军，千里跃进大别山，开辟了大别山根据地，牵制了国民党军队，揭开了人民解放军全国性战略进攻的序幕。所以 A 选项是正确的。

14. 中国近代的教育在西方文化的影响下，不断地发生着变化。下面有关近代教育的场景描述，不符合史实的是

- A. 李鸿章见证了京师同文馆的创建 B. 康有为、梁启超参加过科举考试
C. 陈独秀参与了京师大学堂的创办 D. 孙中山在黄埔军校发表演讲

答案详解：京师大学堂，是北京大学在清末 1898 年至 1911 年间的曾用名。作为戊戌变法的“新政”之一，学校创办于 1898 年 7 月 3 日，是中国近代第一所国立大学，其成立标志着中国近代国立高等教育的开端。而陈独秀是新

文化运动发起人之一。因此答案是 C 选项。

15. 优秀的文艺作品是时代的缩影，动荡的时代诞生伟大的作品。下列中国近代文艺作品及其作者的搭配，错误的是

- A. 《义勇军进行曲》——聂耳
- B. 《愚公移山》——齐白石
- C. 《狂人日记》——鲁迅
- D. 《小二黑结婚》——赵树理

答案详解：A 项音乐家聂耳的代表作品是《义勇军进行曲》，该作品后来被定为中华人民共和国国歌。故 A 不正确。

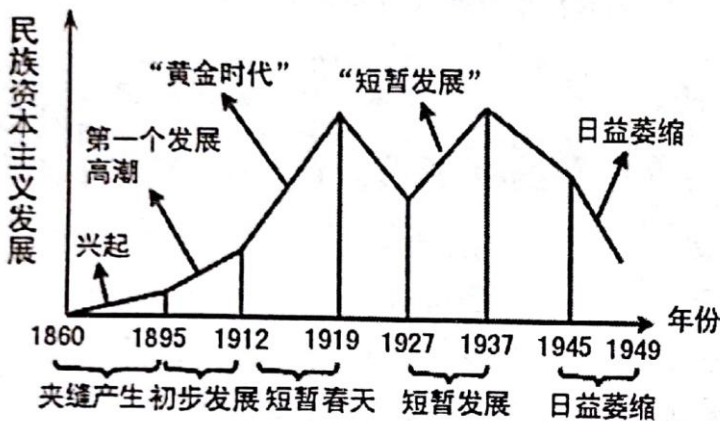
B 项 1940 年徐悲鸿取材寓言故事创作的巨幅画《愚公移山》表达出中国人民团结一心，打败日本侵略者的坚定信念。所以 B 选项是正确的。

C 项《狂人日记》是鲁迅的一篇短篇作品，收录在鲁迅的短篇小说集《呐喊》中。它也是中国第一部现代白话文小说。故 C 不正确。

D 项四十年代后，赵树理《小二黑结婚》为代表的乡土文学作品开始反映中国革命和建设进程。故 D 不正确。所以 B 选项是正确的。

二、简答题（本题共 14 分）

16. 根据下列图示信息，回答问题。



图一 近代民族资本主义发展曲线图



图二 民国初年江浙民族工业分布图

(1) 根据图一，分别简述下面两个时间段近代民族资本主义发展的原因。(6 分)

1895——1912 年出现第一个高潮：

1912——1919 年进入“黄金时代”：

(2) 中国近代被称为“状元实业家”的人是谁？简述其主要贡献。(4 分)

(3) 综合上述图示信息，概括中国近代民族工业发展的特点。(4 分)

答案：

16、(1) “第一个发展高潮”：甲午中日战争后，外国人纷纷在华开办工厂、开采矿山，刺激了中国民族工业的发展，很多人走上了“实业救国”道路，民族工业出现了第一个发展高潮。(2 分)

“黄金时代”：辛亥革命后，中华民国临时政府颁布了一系列奖励发展实业的法令，各种实业团体纷纷涌现，海外华侨归国创业，掀起了发展实业的热潮。(2 分) 第一次世界大战期间，西方列强忙于战争，暂时放松了对中国的经济侵略，中国民族工业获得了迅速发展的良机，进入了“黄金时代”。(2 分)

(2) 张謇 (2 分) 贡献：创办大生纱厂，垦牧公司、轮船公司、面粉厂等一系列企业，把挣来的钱，用于兴办文化

和公益事业，创立了学校、图书馆、医院等。（答出任意一点得2分）

（3）中国民族工业的发展曲折艰难，在三座大山的夹缝中艰难求生存，总体水平落后；主要集中在轻工业部门；地区分布不平衡，主要集中在沿江和沿海地区的大城市等。

评分说明：答出上述任意一点得2分，共4分。

三、材料解析题（本题含两小题，第17题16分，第18题18分，共34分）

17.唱红歌是弘扬革命传统教育和进行爱国主义教育的一种方式。阅读下列材料，结合所学知识，回答问题。

材料一 “拿起武器间革命，工友农友真英雄，秋收起义成了功，一杆大旗满地红，工友农友，团结一条心，红色政权扎下万年根，革命永远向前进！跟着领袖毛委员，走上雄伟的井冈山，革命要有落脚点，地是根来枪是胆。……”

——《秋收起义暴动歌》

材料二 “我的家在东北松花江上，那里有森林煤矿，还有那满山遍野的大豆高粱。我的家在东北松花江上，那里有我的同胞……从那个悲惨的时候，脱离了我的家乡，抛弃那无尽的宝藏，流浪！流浪！”

——《松花江上》

材料三 风在吼，马在叫。黄河在咆哮，黄河在咆哮，河西山岗万丈高，河东河北高粱熟了；万山丛中抗日英雄真不少，青纱帐里游击健儿呈英豪，端起了长枪洋枪，挥动着大刀长矛，保卫家乡！保卫黄河！保卫华北！保卫全中国……

——《黄河大合唱—保卫黄河》

材料四 “没有共产党就没有新中国，没有共产党就没有新中国，共产党辛劳为民族，共产党他一心救中国。他指给了人民解放的道路，他领导中国走向光明，他坚持了抗战八年多，他改善了人民的生活，他建设了敌后根据地，他实行了民主好处多，没有共产党就没有新中国……”

——《没有共产党就没有新中国》

- （1）材料一歌词中，反映了哪些历史史事？（4分）
- （2）材料二歌词描述的是哪一历史事件后东北的状况？简述这一事件的影响。（4分）
- （3）材料三歌曲表现出了中国人民怎样的民族精神？（2分）
- （4）根据材料四划线部分歌词，用史实说明，中国共产党是如何建立、巩固和发展抗日根据地的。（6分）

答案：

17、（1）开展武装斗争，发动秋收起义；建立红色政权；建立井冈山根据地等。

评分说明：答出上述任意一点得2分，共4分。

（2）九一八事变（2分）九一八成为中国人民抗日战争的起点，揭开了世界反法西斯战争的序幕。从此，中国人民开始了艰苦卓绝的抗战。（2分）

（3）表现出中华民族的伟大、独立、坚强，体现了中国人民的勇敢、顽强和百折不挠的拼搏精神和抗日救国的坚强意志。（2分）

（4）建立：全民族抗战爆发后，八路军、新四军挺进敌后，建立抗日根据地，将敌人的后方变成抗日的前线，晋察冀、晋绥、晋冀豫、山东等抗日根据地先后建立起来。（2分）巩固和发展：在中国共产党领导下，以主力部队和地方基干民兵为骨干，组织各方力量，展开群众性的人民游击战争。根据各地不同的地形特点，采取地道战、地雷战、夜袭战、麻雀战等战法，使日军不得安宁；（2分）中国共产党还制定各项政策和措施，根据地建立抗日民主政权，实行减租减息的土地政策，发展生产，使根据地成为敌后游击战得以长期坚持并取得最后胜利的基地。（2分）

评分说明：分别从上面不同角度各答出符合题意的一点史实得2分，共6分。

18. 中国共产党领导中国人民打败了国民党，取得了人民解放战争的伟大胜利。阅读下列材料，结合所学知识，回答问题。

材料一 抗日战争胜利后，中国共产党这时调整了土地政策，将抗战时期的减租减息政策改为实行耕者有其田的土地政策。1947年，中国共产党召开全国土地会议，制定了土地改革总路线，颁布了《中国土地法大纲》，此后，各

个解放区先后开展了土地改革运动。历时一年多后，广大农民分得了土地、房屋、粮食和衣物。

材料二 西北野战军撤离延安后，在中央军委和毛泽东、周恩来等亲自指挥下，按照中央军委和毛泽东确定的蘑菇战术，依靠陕北优越的群众条件和有利地形，与国民党几十万军队在陕北高原周旋，使其始终无法准确获知中共中央和人民解放军的位置，而不得不往返奔波，疲于奔命，造成补给等方面的严重困难，士气低落。而人民解放军则利用有利时机和地形，寻机歼敌，在三个月的时间内共歼敌 1.4 万余人。

材料三 人民群众支持三大战役统计表

项目	辽沈战役	淮海战役	平津战役
民工	160 万人	543 万人	154 万人
担架	1.38 万副	30.5 万副	2 万副
车辆	6750 辆	88 万辆	40 万辆
牲畜	80 万头	76.7 万头	100 万头
船只		8500 只	
粮食	0.7 亿斤	9.6 亿斤	3.1 亿斤

- (1) 材料一中，抗战胜利后，中国共产党的土地政策发生了什么变化？解放区的土地改革产生了什么作用？（6分）
- (2) 材料二反映了人民解放军采取了怎样的作战方式和原则？（2分）
- (3) 简述材料三中三大战役胜利的意义。（2分）
- (4) 根据上述材料信息，分析中国共产党取得人民解放战争胜利的原因。（6分）
- (5) 从近代国共两党关系的变化中，我们得到哪些启示？（2分）

答案：

18、(1) 将抗战时期的减租减息政策改为实行耕着有其田的土地政策。(2分) 作用使农村的阶级关系和土地占有状况发生了根本性变化，激发了农民革命和生产积极性；翻身农民踊跃参军参战，为人民解放战争的胜利提供了重要的人力、物力保障。(答出一点得2分，共4分)

(2) 以运动战为主要方式，以歼灭敌人有生力量为主要方式，集中优势兵力各个歼灭敌人的作战原则和方针。(2分)

(3) 三大战役的胜利，基本消灭了国民党的主力，大大加速了人民解放战争在全国的胜利。(2分)

(4) 土地改革调动了农民的革命热情和生产积极性，为战争胜利奠定了物质基础；人民群众在物资、人力、精神等方面支援前线，得到人民的支持和拥护；中国共产党的正确领导和正确的作战方针政策；国民党军队内部不团结；国民党政府腐败，失去民心等。

评分说明：答出上述任意一点得2分，共6分。

(5) 国共两党合则两利，分则两伤；中国共产党始终以国家和民族的立意为重，代表人民的利益；取得胜利必须制定符合民心的政策，得到人民的支持；必须团结一切可以团结的力量等。

评分说明：答出言之有理的任意一点得2分。


四、探究题（共22分）

19. 中国近代百年历程，社会的各个领域都发生了深刻的变化。让我们在一些承载历史的缩影中，运用所学知识，完成下面学习任务。


任务一【建筑——凝固历史】(4分)



图一 瑞金临时中央政府大礼堂



图二 遵义会议会址



图三 西安事变谈判旧址

(1) 请你从上面建筑图片中任选一个，简介发生在这里的重大历史事件。


任务二【图片——感受历史】(12分)



图四 李宗仁在台儿庄



图五 彭德怀在前线



图六 侵华日军总司令冈村宁次在投降书上签字

(2) 图四、五反映的是抗日战争时期的哪两个战役？分别简述它们的重要意义。(8分)

(3) 你认为出现图六场景的原因有哪些？(4分)

任务三【城市——见证历史】(6分)

(4) 下面的史事反映了中国近代社会哪些领域的变化？分析其变化的原因。

- ①上海南京路上穿旗袍和中山装的行人②上海招商局架设电话线，开通第一部电话 ③上海创办近代规模最大的商务印书馆④上海创办近代存在时间最长的中文报纸《申报》⑤上海最早创办了文化出版机构新文化运动的刊物《青年杂志》⑥上海街道上行驶的有轨电车

答案：

19、(1) 示例：图一：1931年冬，中华苏维埃第一次全国代表大会在这里召开，会议宣布成立共和国临时中央政府，定都瑞金。

图二：遵义会议是红军长征途中召开的重大会议。这次会议在极其危急的时刻，挽救了党，挽救了红军，挽救了革命，成为中国共产党历史上生死攸关的转折点。是中国共产党由幼稚走向成熟的标志。(2分)

图三：这是1936年12月国民党将领张学良、杨虎城扣押蒋介石，要求停止内战，联共抗日的西安事变发生后，中国共产党从全民族利益出发，与国民党谈判的地址。西安事变的和平解决，揭开了国共两党由内战到联合抗日的序幕，成为扭转时局的关键。从此，十年内战基本结束，抗日民族统一战线初步形成。

评分说明：任选其一，从时间、背景、内容、影响等方面答出任一要点得2分，共4分。

(2) 图一：台儿庄战役(2分)意义：是抗战以来中国正面战场取得的最大的一次胜仗，振奋了中国军民的精神，坚定了抗战意志和信念。(2分)

图二：百团大战(2分)意义：有力打击日军的侵略气焰，提高了共产党和八路军的威望，振奋了全国军民争取抗战胜利的信心。(2分)

(3) 抗日战争是正义的，反侵略的民族解放战争；在中国共产党倡导下，以国共合作为基础的抗日民族统一战线旗帜下，正面战场和敌后战场相互配合；中国各族人民和海外华侨浴血奋战，实行全民族抗战，是抗战胜利的重要保证；国际社会的援助与支持，是中国抗日战争胜利的外部因素等。

评分说明：答出上述任意一点得2分，共4分。

(4) 交通通讯；思想文化；社会生活习俗等。(2分)原因：在西方工业文明的冲击下，西方先进文明成果的传入，推动了中国近代社会经济、思想文化、生活习俗的变化；西方民主、科学思想的传播，特别是辛亥革命后，民主共和观念深入人心，国人人格平等的理念增强；中国人接受西方先进文化并进行创新等。(答出任意一点得2分，共4分)