

# 江西省 2018 年中等学校招生考试

## 地理样卷

一、选择题（本大题共 15 小题，每小题 1 分，共 15 分。在每小题列出的四个选项中，只有一项是符合题目要求的，多选、错选、不选均不得分）

读撒哈拉以南非洲略图（图 1），完成 1~4 题。

1. 该地区主要分布的人种是  
A. 黑种人                      B. 黄人种  
C. 白种人                      D. 混血人种
2. 图中四地，降水最少的是  
A. 甲地                          B. 乙地  
C. 丙地                          D. 丁地
3. 动物摄影师要拍摄非洲动物大迁徙景观应在  
A. 甲地                          B. 乙地  
C. 丙地                          D. 丁地
4. 黄金、可可和木材三大传统出口产品是甲地所在国家的经济支柱，体现该国的经济特征是  
A. 服务业发达                  B. 以出口工业产品为主  
C. 采矿业发达                  D. 以出口初级产品为主

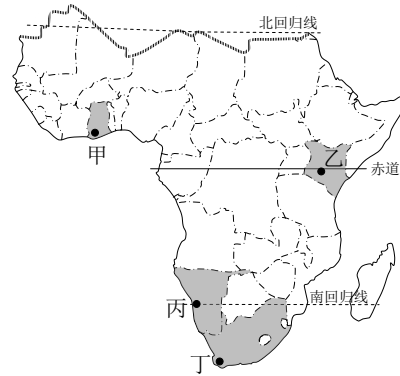


图 1

读日本北海道岛示意图（图 2），完成 5~7 题。

5. ①、②、③、④四地，最适宜筑港的是  
A. ①      B. ②      C. ③      D. ④
6. 北海道岛  
A. 位于西半球                  B. 渔业生产落后  
C. 多火山地震灾害              D. 属温带海洋气候
7. 一年中北海道白昼最短的日期是  
A. 春分                          B. 夏至  
C. 秋分                          D. 冬至

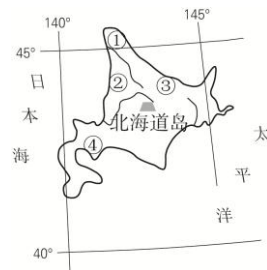


图 2

河西走廊因位于黄河以西而得名，是我国西北地区重要的农耕区。读河西走廊地区示意图（图 3），完成 8~10 题。

8. ①、②、③、④四地，水能最丰富的是  
A. ①                              B. ②  
C. ③                              D. ④
9. 制约河西走廊地区农业生产的主要因素是  
A. 热量                          B. 地形  
C. 土壤                          D. 水源

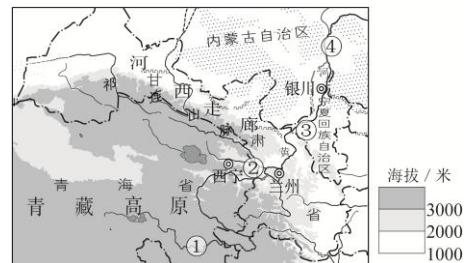


图 3

10. 河西走廊大力发展农业生产，可能产生的生态环境问题主要是  
A. 水土流失                      B. 土地沙化                      C. 湿地破坏                      D. 冰川消融

2017年11月8日，我国南极科学考察队奔赴南极，开启第五个南极考察站的建设。据此完成11~12题。

11. 一般在12、1、2月建设南极考察站，原因是该段时间南极地区
- A. 天气始终风和日丽                      B. 处于暖季，有极昼现象
- C. 周边海域风平浪静                      D. 处于暖季，地形较平坦
12. 为了保护南极环境，考察站在建设过程中不应出现的行为是
- A. 采掘石油，获取能源                      B. 建筑垃圾带离南极
- C. 融化冰雪作生活用水                      D. 生活垃圾及时处理

读长江三角洲（部分）城市分布图（图4），完成13~15题。

13. 无锡市有一批3吨重的大闸蟹将运往苏州，最佳运输方式是
- A. 水运                      B. 管道
- C. 公路                      D. 航空
14. 该地区
- A. 城市密集                      B. 经济落后
- C. 能源丰富                      D. 水资源匮乏
15. 该地区应重点防范
- A. 火山喷发                      B. 水源枯竭
- C. 水体污染                      D. 风沙危害

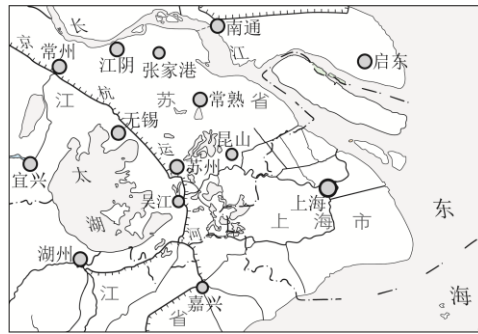


图4

二、综合题（本大题共3小题，共15分）

16. （5分）读世界某区域板块构造示意图（图5），完成下列问题。

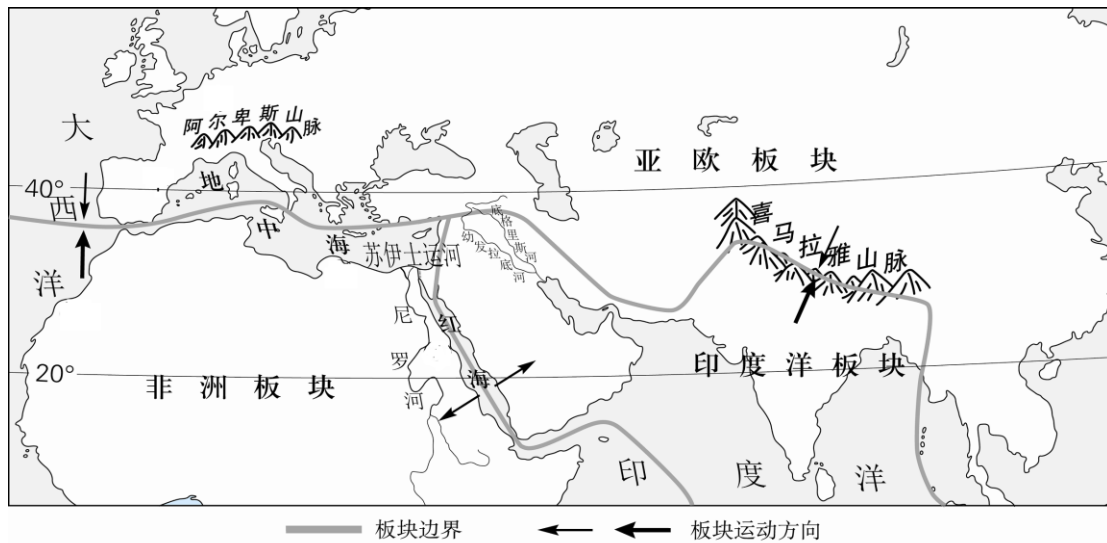


图5

- (1) 根据板块构造理论，地中海将逐渐变\_\_\_\_\_（大、小），喜马拉雅山会越来越\_\_\_\_\_（高、低）。（1分）
- (2) 类似于红海附近的板块交界处，常常形成\_\_\_\_\_或\_\_\_\_\_。（1分）
- (3) 与欧亚间的传统航线（绕过非洲最南端）相比，经过苏伊士运河的航线的优势主要是\_\_\_\_\_，不足主要是\_\_\_\_\_。（2分）
- (4) 尼罗河下游沿岸及河口三角洲地区是世界上最早形成城市的地区之一，主要原因有\_\_\_\_\_。（1分）

17. (6分) 台湾东北部的火烧寮是我国年降水量最多的地区, 被称作中国“雨极”。读台湾地形分布示意图(图6)和台湾岛部分农产品分布图(图7), 完成下列问题。



图6

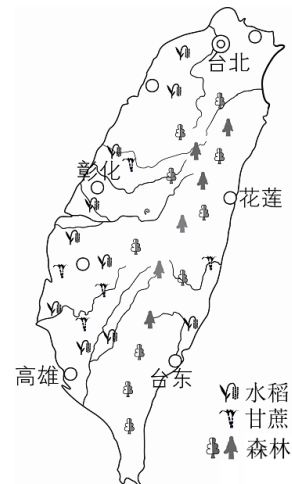


图7

- (1) 台湾岛东临\_\_\_\_\_洋, 钓鱼岛位于台湾岛的\_\_\_\_\_ (方向)。(1分)
- (2) 火烧寮成为我国“雨极”的主要原因是\_\_\_\_\_。(1分)
- (3) 台湾岛上的铁路呈\_\_\_\_\_状分布, 社会经济原因是\_\_\_\_\_。(2分)
- (4) 台湾岛物产丰富。根据图7信息任举一物产说明其分布特点及成因。(2分)

18. (4分) 地理探究: 我省某中学地理学习小组对棉纺织业的发展条件进行探究。我国棉花分布示意图(图8)、美国棉花分布示意图(图9)和江西省地形分布示意图(图10)三幅图是小组成员探究过程中查阅的部分资料。

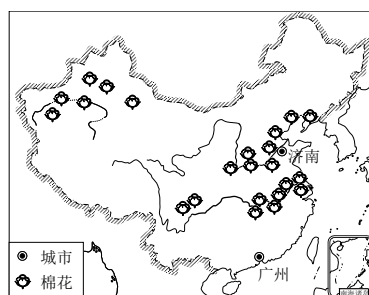


图8

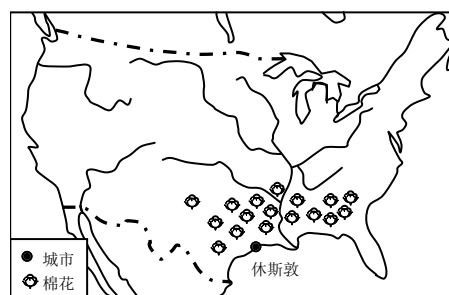


图9



图10

- (1) 中国济南、美国休斯敦适宜发展棉纺织业的优势条件是\_\_\_\_\_。(1分)
- (2) 查资料时, 学生发现广州有众多棉纺织厂, 于是探讨广州适宜发展棉纺织业的条件, 结论可能是\_\_\_\_\_。(1分)
- (3) 结合图10, 学生对自己所在的江西省各区域进行分析, 认为江西省南部(如赣州市)不适宜大规模发展棉纺织业, 原因可能是\_\_\_\_\_。(2分)

# 江西省 2018 年中等学校招生考试

## 地理样卷参考答案

### 一、选择题（本大题共 15 小题，每小题 1 分，共 15 分）

1. A    2. C    3. B    4. D    5. D    6. C    7. D    8. B    9. D

10. B    11. B    12. A    13. C    14. A    15. C

### 二、综合题（本大题共 3 小题，共 15 分）

16. (5 分)

(1) 小；高（每空 0.5 分，共 1 分）

(2) 裂谷；海洋（可调换顺序，每空 0.5 分，共 1 分）

(3) 缩短航行距离，节省运输时间和成本（1 分）；运河深度有限，吃水较深的大型船舶无法通过。（1 分）

(4) 水源充沛，地势平坦，土壤肥沃，农业发达，人口稠密，交通便捷。（任答两点，得 1 分）

17. (6 分)

(1) 太平；东北（每空 0.5 分，共 1 分）

(2) 东临太平洋，典型的季风气候，雨季长；地处夏季风的迎风坡，降水量大。（1 分，其他合理答案酌情给分）

(3) 环（1 分）；人口、城市呈环状分布（1 分，其他合理答案酌情给分）

(4)（任答一种即可）

水稻（甘蔗）：主要分布在台湾岛西部。（1 分）因为西部地势低平，水热充足，利于水稻、甘蔗等作物的生长。（1 分）

森林分布在台湾岛中东部。（1 分）因为中东部多山地丘陵，林地面积广。（1 分）

18. (4 分)

(1) 靠近棉花产地，原材料丰富。（1 分，其他合理答案酌情给分）

(2) 交通便利，市场广阔，劳动力充足。（任答一点给 1 分，其他合理答案酌情给分）

(3) 缺乏原材料；消费市场狭窄。（一点给 1 分，共 2 分，其他合理答案酌情给分）