

太原市 2017-2018 学年第二学期八年级阶段性测试（三）

历史试卷

（考试时间：下午 4：30-6：00）

说明：本试卷为闭卷笔答，做题时间 90 分钟，满分 100 分。

题号	一	二	三	四	总分
得分					

一、单项选择题（每小题 2 分，共 30 分）

题号	1	2	3	4	5	6	7	8	9	10	11	12	13	14	15
选项															

1. 中华人民共和国的成立，开辟了中国历史的新纪元。下列对“新纪元”理解正确的是
 - A. 彻底摧毁了我国两千多年的封建帝制
 - B. 中华民族由衰败到振兴的转折点
 - C. 推翻了三座大山压迫成为独立自主的国家
 - D. 标志我国进入社会主义初级阶段

答案解析：C。根据所学知识判断中华人民共和国成立的意义，可知答案为 C。

2. 1951 年 5 月 23 日，中央人民政府和西藏地方政府在北京中南海正式签订了《关于和平解放西藏办法的协议》。这意味着
 - A. 争取和平解放西藏取得了成功
 - B. 西藏从此走上了社会主义道路
 - C. 彻底废除了西藏封建土地制度
 - D. 废除了册封达赖、班禅的制度

答案解析：A。根据材料“1951 年、《关于和平解放西藏办法的协议》”可知答案为 A。

3. “危难时刻，他受命出任中国人民志愿军司令员兼政治委员，率领中国人民志愿军赴朝作战。”这里的“他”是
 - A. 朱德
 - B. 彭德怀
 - C. 贺龙
 - D. 邓小平

答案解析：B。根据材料“中国人民志愿军司令员”可知答案为 B。

4. 新中国成立初，中国人民银行组织设计新版人民币（1953 版），下面是一分纸币的正面图案，图案所示为民用汽车，其型号为苏制。这可以佐证



- A. 工业化建设成果显著
- B. 重工业体系初步确立
- C. 社会主义建设全面展开

D. 我国经济建设受苏联影响

答案解析: D. 根据材料“新中国成立、1953年、其型号为苏制”可知这个阶段是一五计划时期刚刚开始,我国经济建设受苏联影响较大,因此答案为D。

5. 歌曲能反映时代的特点, 往往成为一个时代的主旋律。以下歌曲出现于新中国成立以后的有

- ① 《义勇军进行曲》
 - ② 《翻身农奴把歌唱》
 - ③ 《志愿军进行曲》
 - ④ 《学习雷锋好榜样》
- A. ①②③ B. ②③④ C. ①②④ D. ①③④

答案解析: B. 《义勇军进行曲》是在1935年民族危亡的时刻诞生的, 因此不符合新中国成立后出现, 答案为B。

6. 1956年中共八大提出“我们国内的主要矛盾, 已经是人民对于建立先进的工业国的要求同落后的农业国的现实之间的矛盾, 已经是人民对于经济文化迅速发展的需要同当前经济文化不能满足人民需要的状况之间的矛盾。”这一矛盾提出的主要依据是

- A. 中华人民共和国成立
- B. 第一个五年计划完成
- C. 社会主义基本制度建立
- D. 人民代表大会制度建立

答案解析: C. 根据材料“1956年中共八大”可知此题考查中共八大召开的背景, 因此答案为C。

7. 北京同仁堂是我国中药行业著名的老字号, 创建于1669年, 以配方奇特、制作精湛、药品货真价实而享誉海内外。1954年, 同仁堂的经理乐松生以大局为重, 顺应历史潮流, 带头进行公私合营, 受到毛泽东主席的高度赞扬。下面与此叙述相符合的措施是



- A. 农业生产合作化的“社会主义改造”
- B. 手工业生产合作化的社会主义改造
- C. 资本主义工商业的社会主义改造
- D. 生产规模和销售规模的进一步改造

答案解析: C. 根据材料“公私合营”可知答案为C。

8. 1964年, 周恩来与美国记者斯诺交谈时说:“15年中, 有些事情我们是做对了, 但也做了一些错事……只有敢于承认自己的缺点和错误, 我们才能改正它们。”周恩来所说的“错事”是指

- A. 土地改革运动消灭了私有制
- B. 社会主义建设事业急于求成
- C. 为反对美国拒绝参加联合国
- D. 派志愿军参加抗美援朝战争

答案解析: B. 根据材料“1964年、只有敢于承认自己的缺点和错误, 我们才能改正它们”可知在之前的社会主义建设中出现了“左”倾错误, 因此答案为B。

9. 1959~1961年, 我国的国民经济发生严重困难。为克服困难局面, 中共中央调整国民经济的方针是

- A. 调整、巩固、充实、提高
- B. 以阶级斗争为纲
- C. 公私合营、和平赎买
- D. 抓革命、促生产

答案解析：A。根据所学可知在 1959~1961 年中共中央调整国民经济的方针是“八字方针”，因此答案为 A。

10. “平地又是一声春雷，在我们最最敬爱的伟大领袖毛主席的亲切关怀和支持下，山西省无产阶级的革命组织和代表们，联合起来，把省委内一小撮走资本主义道路的当权派窃取的种种大权夺回来了！无产阶级和广大劳动人民，在山西省重新掌了大印，当家做主了！”这篇社论最可能发表于

- A. 1949—1952 年间
- B. 1953—1956 年间
- C. 1956—1966 年间
- D. 1966—1976 年间

答案解析：D。根据材料“把省委内一小撮走资本主义道路的当权派窃取的种种大权夺回来了”可知此时期是“文革”时期，因此答案为 D。

11. “从一九七四年到一九七六年，由于‘四人帮’的干扰破坏，全国大约损失工业总产值一千亿元，钢产量两千八百万吨，财政收入四百亿元……”。这则材料反映出文化大革命的一个严重后果是

- A. 民主法制遭到践踏
- B. 国民经济遭受巨大损失
- C. 经济结构极不合理
- D. 教育文化事业遭到摧残

答案解析：B。根据材料“全国大约损失工业总产值一千亿元，钢产量两千八百万吨，财政收入四百亿元……”可知本题考查“文革”时期国民经济遭受的损失，因此答案为 B。

12. 阅读表格，你认为人均口粮和人均收入发生变化是因为

时间	粮食产量	人均口粮	人均收入
1976 年	35000 斤	230 斤	32 元
1979 年	132300 斤	800 斤	200 元

- A. 农村经济体制的改革
- B. 土地改革的完成
- C. 农村人民公社的建立
- D. 科学技术的进步

答案详解：A。根据材料 1976 年到 1979 年粮食产量变化可知由于农村经济体制改革提高了农民的生产积极性，因此答案为 A。

13. “经济特区成功吸引了大量外国投资，外资企业不单为中国政府提供大量税收，还为中国引入先进生产管理技术。”材料说明了经济特区

- A. 建立的原因
- B. 建立的目的
- C. 发挥的作用
- D. 发展的过程

答案详解：C。根据材料可知，材料说明的是经济特区在经济发展中发挥的作用，因此答案为 C。

14. 1984 年刚上任青岛电冰箱厂厂长的张瑞敏说：“欢迎我的是 53 份请假报告，上班八点钟来，九点钟走人，十点钟时往大院里扔一个手榴弹也炸不死人。”出现这一情景的原因是

- ①计划经济体制下，企业职工缺乏积极性
 - ②多种所有制形式并存，职工下海经商
 - ③分配中平均主义现象严重
 - ④企业吃国家的“大锅饭”
- A. ①②③ B. ②③④ C. ①②④ D. ①③④

答案详解：D。根据材料反映的问题是国营企业的弊端，因此①③④是正确的，而②多种所有制形式并存是在 1997 年中共十五大确立的，因此答案为 D。





15. 英国《金融时报》中文网专栏作家吴晓波说：1978 年以来，中国企业有三次创业的高潮点，分别是 1984 年、1992 年和 2001 年。其中 2001 年出现创业高潮是因为

- A. 进行国有企业改革
- B. 建立社会主义市场经济体制
- C. 邓小平南方讲话
- D. 中国加入世界贸易组织

答案详解：D。根据 2001 年可判断选项只有 D 项符合。

二、简答题（本大题共 16 分）

16. 下列图片从不同侧面反映了不同时期的时代特征。根据要求，回答下列问题。

<p style="text-align: center;">【革命的见证】</p> <p>(1)图一是矗立在天安门广场的人民英雄纪念碑，决定建立这座纪念碑是在哪一次会议上？它的建立有何意义？（4分）</p>	 <p style="text-align: center;">图一</p>
<p style="text-align: center;">【精神的丰碑】</p> <div style="display: flex; justify-content: space-around;">   </div> <p style="display: flex; justify-content: space-around;"> 图二 黄继光 邱少云 </p>	<p>(2)图二人物是抗美援朝战争中无数志愿军战士的代表，任选其一，简述其事迹。他们为什么被称为“最可爱的人”？（4分）</p>
<p style="text-align: center;">【宣传的力量】</p> <p>(3)在“鼓足干劲、力争上游、多快好省地建设社会主义”总路线影响下，结合图三的宣传画说明 1958 年全国出现了什么局面？造成这种局面的主要原因是什么？（4分）</p>	 <p style="text-align: center;">图三</p>
 <p style="text-align: center;">图四</p>	<p style="text-align: center;">【思想的解放】</p> <p>(4)图四是 1978 年 5 月《光明日报》发表《实践是检验真理的唯一标准》的文章。它是在什么样的背景下发生的？在当时起到什么作用？（4分）</p>

【答案与解析】

- (1) 中国人民政治协商会议第一届全体会议；（2分）以表示对革命先烈的崇敬和缅怀。（2分）
- (2) 示例：黄继光，上甘岭战役中的战斗英雄，用自己的胸膛堵住敌人的机枪射口，为战友开辟了前进道路。（2分）因为他们发扬高度的爱国主义、革命英雄主义和国际主义精神。（2分）
- (3) 掀起“大跃进”运动和人民公社化运动；（2分）急于求成，忽视了客观的经济规律。（2分）
- (4) 背景：“文革”刚结束，党的指导思想仍然推行“两个凡是”的方针。（2分）意义：是一场深刻的思想解放运

动，使人们认识到，只有实践才是检验真理的唯一标准；或解放了人们的思想，为十一届三中全会召开奠定了思想基础。(2分)

三、材料解析题（本大题共 2 小题，17 题 18 分，18 题 16 分，共 34 分）

17. 新中国成立后，我党不同时期调整生产关系使之适应生产力的发展。阅读下列材料，结合所学知识，回答问题。

材料一 1950年6月，中央人民政府颁布《中华人民共和国土地改革法》，规定废除地主阶级封建剥削的土地所有制，实行农民的土地所有制。此后，农民的生产积极性大大提高。他们早出晚归，积肥、修堤，添置耕牛和农具。

到1951年，全国粮食产量达到1.4亿吨，比1949年增长26.9%。

材料二 《1956年国民经济中公私经济成分的比较表》

项目	社会主义公有制经济	私有制经济
国民收入	92.9%	7.1%
工业总产值	100%	-
商品零售额	95.8%	4.2%

材料三 1978年前，小岗村作为“吃粮靠返销、用钱靠救济、生产靠贷款”的“三靠村”而闻名，大多数村民都曾出门讨过饭。1978年冬，小岗村实行包产到户，并于第二年秋实现温饱。

2007年，人均纯收入达到6000元，比2006年全省农民人均纯收入的3556元高出2400多元，全村总收入达到2293.8万元（以2008年人口计），人月均500元，全村劳动人口2840人，人均收入8077元，月均673元。

2014年，工农业总产值7.38亿元，村集体经济收入665万元，农民人均纯收入14500元。

- 根据材料一，写出《中华人民共和国土地改革法》的内容，并简述土地改革的历史意义。（6分）
- 材料二中的数据说明了国民经济中公有制和私有制经济所占比例有何特点？这一特点的形成与哪一史实有关？说明了什么？（6分）
- 结合材料三，分小岗村人民生活水平不断提高的原因。（4分）
- 归纳上述政策的调整所起的共同作用。（2分）

【答案与解析】

- 内容：废除了地主土地所有制，实行了农民土地所有制。（2分）
意义：彻底摧毁了封建土地制度，消灭了地主阶级；农民翻了身，得到土地，成为土地的主人，人民政权更加巩固；农民生产性大大提高，解放了生产力，为国家工业化建设准备了条件。（答出上述任意一点2分，共4分）
- 公有制经济所占比例都超过90%，在国民经济中占主导地位，私有制经济比例很小。（2分）三大改造的基本完成；（2分）说明了生产资料私有制向社会主义公有制的转变，社会主义公有制广泛确立，或社会主义基本制度在我国建立起来。（2分）
- 实行家庭联产承包责任制；政府的大力支持；有适合村情的规划等。（评分说明：答出符合题意的任意一点得2分，共4分）
- 调动了农民的生产积极性，极大地解放了农村生产力，促进了农村经济的发展。（2分，答出任意一点得2分，共4分）

18. 新中国成立后，党和政府进行了工业化和民主政治建设的探索。阅读下列材料，结合所学知识，回答问题。

材料一 建国初期我国的工业基础，特别是重工业基础非常薄弱……许多重要工业品的人均产量，不仅远远落后于工业发达国家，甚至落后于1950年的印度。这种落后的经济状况只能靠优先发展重工业才能改变，只有钢铁等基础工业发展了，机器制造业的原材料增多了，轻工业的装备才能保证。……同时，当时的国际环境也急需需要我们尽

快建立强大的军事工业，以增强国防力量。1953年，我国开始了发展国民经济的第一个五年计划。

——何沁主编《中华人民共和国史》

材料二 随着经济建设的发展，我国的民主政治建设也加紧进行。在全国人民普选的基础上，1954年9月，第一届全国人民代表大会在北京召开。大会制定了《中华人民共和国宪法》。这是我国第一部社会主义类型的宪法，也是我国有史以来真正反映人民利益的宪法。宪法规定，中华人民共和国全国人民代表大会是最国家权力机关。中华人民共和国的一切权力属于人民。人民行使权力的机关是全国人民代表大会和地方各级人民代表大会。

材料三 全面的社会主义建设事业开始后，我国的工业化建设取得了巨大成就。工业生产能力和技术水平大大提高，建成一大批大中型项目。武汉、包头两大钢铁基地，大庆油田、胜利油田和大港油田，都是这个时期建设起来的。新兴的电子工业、原子能工业、航天工业从无到有地发展起来。我国初步形成了独立的、比较完整的工业体系和国民经济体系，为现代化建设打下了坚实的物质基础。在那个火热的年代，全国各条战线上涌现出了大批英雄模范人物。

材料二、三均摘自八上 部编教材

- (1) 根据材料一，简述建国初期我国优先发展重工业的必要性。并列至少两项“一五”计划期间的国家建设成就。(6分)
- (2) 根据材料二，指出1954年《中华人民共和国宪法》的性质。谈谈你对人民代表大会制度的认识。(4分)
- (3) 材料三中，全面建设社会主义时期建设成就的取得产生了什么影响？(2分)
- (4) 列举材料三中所述全面建设社会主义时期涌现出的英雄模范人物一例，写出一点你对这一时期时代精神的理解。(4分)

【答案与解析】

(1) 重工业基础非常薄弱；受帝国主义的封锁孤立包围；加强军事国防力量等。

建设成就：中国第一个汽车制造厂——长春第一汽车制造厂建成投产；中国第一个大型钢铁轧钢厂——鞍山钢铁厂建成投产，中国第一座大型露天煤矿——辽宁阜新海州露天煤矿建成投产；中国第一块国产手表在天津诞生；中国第一架喷气式歼击机在沈阳试制成功；中国第一个制造机床的工厂——沈阳第一机床厂建成投产等。(答出符合题意的任意两个事例得2分)

(2) 1954年第一届全国人民代表大会制定《中华人民共和国宪法》，是我国第一部社会主义类型宪法，也是我国有史以来真正反映人民利益的宪法。(2分) 认识：人民代表大会制度是我国的基本政治制度，是国家以根本大法的形式确立的；人民代表大会制度的常设机关是全国人民代表大会，全国人民代表大会是国家最高权力机关，代表人民行使权力，体现了我国民主制度的建设和完善等。(答出言之有理任意一点得2分)

(3) 我国初步形成了独立的、比较完整的工业体系和国民经济体系，为现代化建设打下了坚实的物质基础。(2分)

(4) “铁人”王进喜；“党的好干部”焦裕禄；“解放军好战士”雷锋等。(答出任意一例得2分)

艰苦创业、艰苦奋斗，全心全意为人民服务的精神。(2分)

四、探究题（本大题共20分）

19. 1978年召开的十一届三中全会，开启了我国改革开放和社会主义现代化建设的新时期。到2018年，历时40年的改革开放，中国社会发生了巨大变化。请你围绕以下任务完成探究活动。

任务一【对比中解读历史事件】(6分)

(1) 十一届三中全会同新民主主义革命时期召开的遵义会议一样，都是在党的重大历史转折关头召开的会议，所以十一届三中全会被称为是“新时代的遵义会议”。根据下面示例，请你对十一届三中全会做一简要说明。

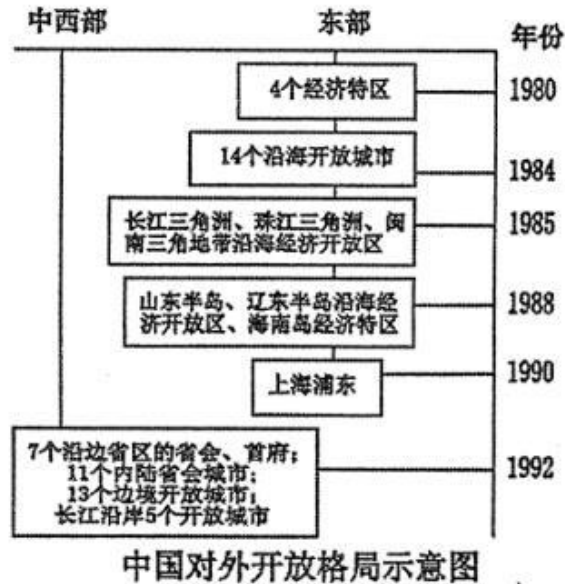
【示例】遵义会议是中国新民主主义革命时期一个生死攸关的转折点，集中全力纠正博古等人在军事组织上的“左”的错误，肯定毛泽东正确主张，选举毛泽东为中央政治局常委，取消博古、李德军事最高指挥权，确立了毛泽东同志在党和红军中的领导地位，挽救了党，挽救了红军，挽救了革命，共产党从幼稚走向了成熟。

【简介】十一届三中全会：

任务二【导图中探索历史过程】(8分)

(2) 根据右图归纳我国对外开放形成的格局和特点。(4分)

(3) 观察右图，指出山西在我国对外开放的格局中处于哪一层次？是何时开放的？(4分)



任务三【史实中阐释历史结论】(6分)

(4) 20世纪后半期，美国前总统卡特曾说：“中国改革开放以来发生的巨变在很大程度上要归功于邓小平”。以经济体制改革为例，结合史实阐述邓小平的贡献。

【答案与解析】

(1) 十一届三中全会是新中国成立以来党的历史上具有深远意义的伟大转折，开启了我国改革开放的历史新时期。它冲破了长期以来的“左”倾错误的严重束缚，确定了解放思想、开动脑筋、实事求是、团结一致向前看的指导方针；果断停止使用“以阶级斗争为纲”的口号，作出把党和国家的工作中心转移到经济建设上来，实行改革开放的历史性决策，形成以邓小平为核心的党的第二代中央领导集体。以后，中国共产党在思想、政治、组织等方面进行全面拨乱反正。(评分说明：仿照示例，答出两点内容得4分，影响得2分，共6分。)

(2) 格局：经济特区——沿海开放城市——沿海经济开放区——内地；(2分) 特点：全方位、多层次、宽领域；由沿海向内地发展；点线面结合等。(2分)

(3) 处于内地(2分) 1992年开放的(2分)

(4) 在农村实行家庭联产承包责任制，实行分田到户，自负盈亏，使农民有了生产自主权，生产积极性大大提高，带来农村生产力的解放，促进农村经济的发展；随着农业生产向专业化、商品化、社会化发展，农村乡镇企业也迅速发展起来，为农民致富和实现现代化开辟了一条新路；在城市对国有企业进行改革，实行以公有制为主体的多种所有制经济并存，实行政企分开，逐步扩大企业的生产经营自主权，实行按劳分配为主、多种分配方式并存的制度，城市经济体制改革的中心环节是增强企业活力。通过改革，企业有了经营自主权，企业的经济利益、职工的经济收入增加，大大调动了企业、职工的积极性，增强了企业的活力；提出建立社会主义市场经济体制，把社会主义基本制度和市场经济结合起来；建立社会主义市场经济体制，有利于实现经济的协调发展和稳定高速增长，对现代化建设有巨大推动作用，使中国的经济实力明显增强等。

(评分说明：分别答出上述任意一点史实并加以说明，各得2分，共6分)