

2017-2018 学年第二学期高一年级期末考试

历史试卷

(考试时间: 下午 2: 30-4: 00)

说明: 本试卷闭卷笔答, 做题时间 90 分钟, 满分 100 分。

题号	一	二			总分
		26	27	28	
得分					

一、选择题: 本大题共 25 小题, 每小题 2 分, 共 50 分。在每题给出的四个选项中, 只有一项是符合题目要求的。请将正确答案的字母填在下方答题栏内。

题号	1	2	3	4	5	6	7	8	9	10	11	12	13
答案													
题号	14	15	16	17	18	19	20	21	22	23	24	25	
答案													

1. 1920 年 9 月, 俄共(布)中央给各省省委的信中强调: “下达给乡的征集制, 就是余粮制, 居民要用连环保的方式予以完成。”同时, 俄共(布)中央还决定, 严惩劳动中的逃跑现象, 直至关进集中营。这些措施

- A. 有助于调动农民的生产积极性
- B. 促进了苏俄经济的迅速发展
- C. 是向社会主义过渡的正确途径
- D. 有利于战胜敌势力的进攻

【答案】D

【解析】本题考查“战时共产主义”考点, 此时苏俄采用的是余粮收集制, 有利于苏俄人民取得战争胜利, 故选 D。

2. 有学者把苏联某一时期的社会主义模式归纳为: 在国家计划范围内, 为了劳动者的利益利用价值规律和商品货币; 根据劳动的质和量付给报酬的原则; 允许多元化的社会主义所有制形式存在。符合这一特征的政策是:

- A. 战时共产主义政策
- B. 新经济政策
- C. 农业集体化政策
- D. 优先发展重工业

【答案】B

【解析】本题考查新经济政策, 由题可知该政策的特征是在国家掌控主要经济命脉的前提下, 利用市场和商品货币关系发展经济, 故选 B。

3. 1929-1933 年期间, 苏联大批引进先进技术设备, 高薪聘请大批外国专家和技工, 派遣 2000 多人出国考察、学习。这些措施

- A. 有利于工业化的实现
- B. 是新经济政策的延续
- C. 确立了计划经济体制
- D. 背离了社会主义道路

【答案】A **【解析】**本题考查苏联第一个五年计划, 由题可知此时苏联采取第一个五年计划, 使苏联从农业国变成工业国, 集中力量发展重工业, 故选 A。

4. 1946 年后, 由于苏联政府不断增加自留地的农业税额, 农民不堪重税, 纷纷砍掉自家果树, 杀掉喂养的牛猪。为减轻农民负担, 赫鲁晓夫推行的改革措施是

- A. 鼓励开垦荒地，扩大谷物种植
B. 取消农产品义务交售制
C. 允许庄员拥有一定自留地
D. 开展大规模种植玉米运动

【答案】B

【解析】本题考查苏联赫鲁晓夫改革，其在农业方面采取取消农产品的义务交售制，实行收购制，提高收购价格，增加农民收入，故选 B。

5. 1923-1928 年间，美国投机收益指数从 100 增到了 400，而工资指数仅从 100 增到 112。这一现象
A. 反映了美国经济的繁荣
B. 凸显了消费的不均衡性
C. 加剧了金融市场的风险
D. 导致了失业人数的激增

【答案】C

【解析】本题考查 1929-1933 经济大危机，其出现的直接原因是毫无顾忌地分期付款和银行信贷以及股票投机活动，会加剧金融市场风险，故选 C。

6. 1930，胡佛开始削减税收，并迅速扩大政府消费，进行大量政府投资。1932 年，胡佛创建复兴银行公司，政府通过该银行直接借款给公司和银行。这说明胡佛政府
A. 开始尝试国家干预经济
B. 完全放弃自由放任政策
C. 充分挖掘国内市场潜力
D. 对凯恩斯主义进行实践

【答案】A

【解析】本题考查胡佛政府反危机措施，成立复兴银行公司是政府对国家经济的有限干预，故选 A。

7. 罗斯福新政时期，些人激烈地抨击罗斯福，说他“叛变了他的阶级”，其举措是“淡红色的社会主义”这些抨击主要针对新政中的
A. 整顿财政金融
B. 实行美元贬值
C. 规定工资工时
D. 调节工业生产

【答案】C

【解析】本题考查罗斯福新政，罗斯福通过《全国劳工关系法》使工人有权组织自己的工会，成立全国劳工关系委员会，保障工人的基本权利，故选 C。

8. 二战后，日本政府在经济发展的各个时期，根据不同阶段的特点，通过各种计划，促进经济的起飞。如鸠山内阁《经济自卫五年计划》，岸信介内阁的《新长期经济计划》，池田内阁的《国民经济倍增计划》。这反映了日本
A. 开始实行计划经济
B. 限制私有企业发展
C. 加强对经济的干预
D. 扶持高新技术产业

【答案】C

【解析】本题考查日本战后资本主义的新变化，战后资本主义国家盛行国家干预经济的凯恩斯主义经济理论，实行国家对经济的宏观调控，由题可知，日本通过各种机会促进经济，表明了日本开始加强对经济的干预，故选 C。

9. 1982 年美国股票总值的 69%，掌握在 2.3% 的家庭手中；1983 年美国 90% 的家庭只占有全部股票的 10.7%，而 10% 的家庭却占有全部股票的 89.3%。这说明股票分散化
A. 缓和了社会矛盾
B. 提高了企业管理水平
C. 扩大了社会消费
D. 没有改变企业的决定权

【答案】D

【解析】本题考查战后资本主义的新变化，战后主要资本主义国家企业经济发生变革，采用人民资本主义，股票不再只为少数资本家拥有，呈现出分散化的趋势，但是企业的决定权仍然掌握在少数大股东手中，故选 D。

10. 2011 年 6 月，欧元区的失业率为 9.9%，25 岁以下人群的失业率为 20.3%；近一半的欧洲人，因年幼或年老的缘故而被归为“依赖”型，在工作年龄段人群里真正在工作的只有 64%。出现这一现象的主要原因是
A. 福利制度的推行
B. 混合所有制的产生
C. 金融危机的影响
D. 国有化政策的推行

【答案】A

【解析】本题考查福利国家的出现，战后资本主义国家建立起比较完善的社会福利制度，包括失业保险、养老保险等，导致出现题干所述现象，故选 A。

11. 1981 年里根上台时，美国经济已陷入衰退。但与此同时，“国家已做好准备，把经济政策彻底地向右转”。为此，里根政府采取的措施是

- A. 实行自由放任政策
- B. 增加国有经济的比重
- C. 降低个人和企业税率
- D. 增加福利支出

【答案】C

【解析】考察战后美国经济的发展。二战后，资本主义国家普遍实行国家垄断资本主义，促进了资本主义经济的发展。但进入 70、80 年代以后，国家垄断资本主义的作用越来越小，美国等国不得不进行新的调整，减少国家的干预以利于经济的发展。题干所反映的正是这一情况，故选 C。

12. 有一证件的文字是：兹有顾福初君依章于 1955 年 9 月 6 日报名入社，共投股田 7 亩 2 分 3 厘 3 毫，折合 6 股 7 分，特发给此股单为证。此证所反映的历史事件是

- A. 过渡时期总路线的提出
- B. 对农业进行社会主义改造
- C. 人民公社化运动的开展
- D. 家庭联产承包责任制的实行

【答案】B

【解析】考察三大改造，1955 年我国实行对农业的社会主义改造，把农民组织起来参加农业

13. 有民谣唱到：挖粮队，真厉害，进了家门找布袋；翻了箱，倒了柜，粒粒粮食装起来；哪个敢吭一声气，揪着脖子捆起来；先来一场大辩论，不服再游一回街。该民谣反映的事件发生在

- A. 国民经济恢复时期
- B. 第一个五年计划时期
- C. 人民公社化运动时期
- D. “文革”十年动乱时期

【答案】C

【解析】考察人民公社化运动，人民公社时期一切财产由全公社统一核算，统一分配，故选 C。

14. 1961 年，党的农村政策做了重大调整，如恢复了农民的自留地，允许农民从事家庭副业，解散了公共食堂，取消了平均主义的供给制，缩小了社队规模，将基本核算单位下放到生产小队一级。这些政策

- A. 保护了农民个体经济
- B. 调动了农民的生产积极性
- C. 彻底纠正了“左”倾错误
- D. 开始了农村经济体制改革

【答案】B

【解析】考察国民经济的调整，1960 年对国民经济实行调整、巩固、充实、提高的“八字方针”，农业方面调动了农民的生产积极性，故选 B。

15. 据统计，到 1965 年，我国社会主义性质的商业机构的从业人员由 1957 年的 522.2 万人减少到 302 万人，减少 42.1%。出现这一变化的主要原因是

- A. 财政困难依然严峻
- B. 经济结构发生变化
- C. 产业结构趋于均衡
- D. “八字方针”的推行

【答案】D

【解析】考察国民经济的调整，1960 年对国民经济实行调整、巩固、充实、提高的“八字方针”，故选 D。

16. 1978 年 10 月，经国务院批准，四川省率先进行“扩大企业自主权”试点改革：逐户核定企业的利润指标，允许他们在实现目标以后提留分享少量利润，作为企业的基金，并允许给职工发放少量奖金。其目的是

- A. 确立市场经济体制
- B. 调动企业生产积极性
- C. 建立现代企业制度
- D. 促进多种所有制发展

【答案】B

【解析】考察经济体制改革, 1984年后城市经济体制改革全面展开, 中心环节是增强企业活力, 把企业搞活, 故选 B。

17. 上海飞乐音响股份有限公司创立于 1984 年 11 月 18 日, 是新中国第一家股份制上市公司。1986 年 11 月 14 日, 邓小平将一张飞乐音响股票赠送给来访的美国纽约证券交易所主席约翰·范尔霖先生。飞乐股票的发行表明。

- A. 对外开放进入新的阶段
B. 社会主义市场经济的确立
C. 经济体制改革取得一定突破
D. 企业所有制发生了质的变化

【答案】C

【解析】考察经济体制改革, 1984年后城市经济体制改革全面展开, 中心环节是增强企业活力, 把企业搞活, 故选 C。

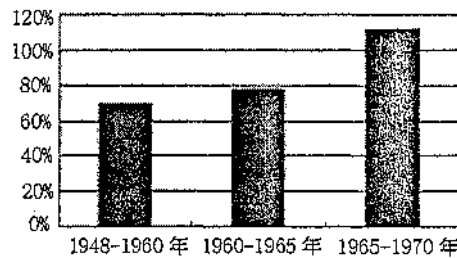
18. 改革开放初期, 广东有一个说法: 遇到绿灯往前走, 看到黄灯赶紧走, 碰上红灯绕着走。但 1992 年他们说: 北京送来了更通畅的绿灯。“北京送来的绿灯”是指

- A. 设立经济特区
B. 加入世界贸易组织
C. 开放沿海港口城市
D. 建立社会主义市场经济体制

【答案】D

【解析】考察社会主义市场经济体制, 1992 年 10 月中共十四大明确指出, 我国经济体制改革的目标是建立社会主义市场经济体制, 故选 D。

19. 右图为 1948-1970 年世界出口贸易总额年均增长率示意图。出现这一现象的主要原因是



- A. 雅尔塔体系的建立
B. 市场经济原则的普遍认同
C. 马歇尔计划的提出
D. 新的世界经济体系的建立

【答案】D

【解析】考察战后资本主义世界经济体系的形成, 由图可知世界出口贸易增长率逐渐上升, 表明新的世界经济体制形成, 故选 D。

20. 1950 年 5 月法国外长舒曼发表声明: 提议“把法德的全部煤钢生产置于一个其他欧洲国家都可参加的高级联营机构的管制之下……各成员国之间的煤钢流通将立即免除一切关税, 并不受递减运价的影响。”这一声明

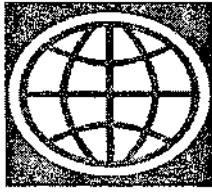
- A. 消除了法德间择期矛盾
B. 标志着关税同盟的建成
C. 推动了欧洲经济一体化
D. 使法德摆脱了美国控制

【答案】C

【解析】考察欧洲一体化, 1951 年法、意、荷、意、比等国家成立了欧洲煤钢共同体, 有利于欧洲经济一体化, 故选 C。

21. 某区域合作组织既有经济实力强大的发达国家(如美国), 也有经济发展水平较低的发展中国家, 区内成员


国的综合国力和市场成熟程度差距很大，经济上的互补性较强。符合上述条件的组织是




A



B



C



D

【答案】C

【解析】考察北美自由贸易区，该组织实现了发达国家与发展中国家的优势互补，增强了区域集团的实力，故选 C。

22. 2017 年 11 月，亚太经合组织 (APEC) 第二十五次领导人非正式会议在越南岘港举行。各成员国在积极应对贸易保护主义，推进包括数字经济、多边贸易体制、亚太自贸区等诸多方面进行合作达成共识。这反映出该组织的主要作用是

- A. 推进贸易投资自由化
- B. 推动成员国均衡发展
- C. 消除成员国间的分歧
- D. 实现政治经济一体化

【答案】A

【解析】本题亚太经济合作组织，该组织在贸易和投资自由化等方面取得了成就，故选 A。

23. 1995 年，时任美国财政部长萨默斯认为这么多的国家转向以市场为基础的经济，也许是更震动更大的变化。这是一场把亚洲、东欧、拉美和非洲几十亿人送上通往繁荣的快速电梯的运动。”当时推动这场“运动”的主要因素是

- A. 签署《与贸易总协定》
- B. 亚太经合组织成立
- C. 东盟自由贸易区启动
- D. 世界贸易组织成立

【答案】D

【解析】考察世界贸易组织的建立，该组织促使各成员国通过贸易获得生活水平的提高和经济的繁荣，故选 D。

24. 2017 年 6 月 16 日亚洲基础设施投资银行宣布，银行理事会批准新一轮 3 个意向成员加入，成员总数增至 80 个。此次批准的 3 个意向成员分别是汤加、阿根廷和马达加斯加，亚投行的设立体现了

- A. 国际经济新秩序的建立
- B. 经济全球化的趋势
- C. 亚洲经济的稳定发展
- D. 多极化格局的形成

【答案】B

【解析】考察经济全球化，经济全球化的表现之一是资本全球化，国际货币基金组织和世界银行等组织的成立，故选 B。

25. 据腾讯 2018 年 4 月 9 日消息，苹果公司联合创始人史蒂夫·沃兹尼亚克表示，由于担心与社交媒体巨头 Facebook 分享的个人信息无法受到安全保障，他正退出 Facebook。此前，花花公子网站也于当地时间周二发布消息，宣布退出 Facebook。这反映了互联网

- A. 对人们的生活没有积极意义
- B. 极大提高了人们的工作效率
- C. 以经营社交软件为主要内容
- D. 产生的消极影响应引起重视

【答案】D

【解析】考察经济全球化的问题，题干反映了经济全球化存在的问题，其产生的消极影响应引起重视，故选 D。

二、非选择题：本大题共3小题，共50分。

26. (18分) 阅读材料，完成下列要求。

材料一 没有充分的土地，但却拥有充裕的劳力，中国人本可全力以赴去生产资本以弥补土地的短缺。但是实际上，在力图节省土地的同时，技术发展反倒专注于能更密集地使用劳力的手段。

——吉尔伯特·罗兹曼《中国的现代化》

材料二 从15世纪末开始，农村中的一些土地贵族就以暴力驱赶农民，大规模地圈占村社的公地和农民的耕地，使之成为牧场。他们仅雇佣少量、工资低微的农业工人放牧羊群，使大部分农民失去生机，沦为流民。然而，谁也没有想到，恰恰正是这一具有英国特色的圈地运动，使英国古老的封建经济结构在无声无息中，居然向新兴的资本主义经济结构发生着转变。

——钱昌明《英国是怎样成为“日不落帝国”的》

材料三 各地改革开放后，就开始吸引流动人口了。深圳、广东先开放，建设特区吸引了几十万过去。因为当时开始办的产业都是“三来一补”，都是劳动密集型的，吸引了大批内地农村人口。

——摘编自葛剑雄《人往高处走，社会离不开迁徙自由》

- (1) 根据材料一概括中国古代农业的特点，并结合所学知识分析其对中国经济的影响。(4分)
- (2) 根据材料二并结合所学知识，指出“圈地运动”中劳动力的转移情况及对英国经济的影响。(6分)
- (3) 根据材料三，概括改革开放后我国人口流动的特点。(4分)
- (4) 综合三则材料归纳影响劳动力迁移的因素。(4分)

26. 答案：

(1) 特点:劳动力密集型(或者人口过多,人地矛盾突出,制约技术革新)。(2分)

影响:促进传统农业的繁荣;但大量劳动力被束缚在土地上,不利于工业化(现代化)发展。(2分,任答1点即可)

(2) 转移情况:转移到手工工场和具有资本主义性质的农场。(2分)

影响:提供了自由劳动力;促进了资本原始积累;促进英国资本主义的迅速发展。(4分,任答2点即可)

(3) 从农村迁移到沿海经济发达地区(或从农村迁移到城市);由市场主导,自由迁移。(4分)

(4) 政府政策;经济发展(市场推动);经济结构(4分,任答2点即可,其它言之有理亦可)

解析:本题考察古今中国语英国农业的发展情况。

27. (16分) 阅读材料，完成下列要求。

材料一 国际货币基金组织和世界银行的资金主要来源于各会员国认缴的股金，股金份额的多少是根据每个会员国的相对经济实力来确定的，而会员国的投票权的大小与其认缴的股金份额成正比……国际货币基金组织和世界银行都是由美国实际控制，国际货币基金组织是欧洲人坐头把交椅，为了防止局面失控，美国财政部设计了诸多重大议题赞成票必须达到85%以上才能实施的条款，相当于赋予美国财政部(17%投票权)一票否决权。而在世界银行，由于是美国财政部挑选行长，在完全掌握人事权的情况下，只有很少的情况下才设置85%赞成票的门槛，以便提高“效率”。这就是玩“政策设计”和局限于“操作流程”二者之间层次的落差。

——摘编自宋鸿兵编著《货币战争》

材料二 美国官方黄金持有量和对外美元债务变化情况表(单位:10亿美元)

年份	世界官方黄金持有量	美国官方黄金持有量	外国银行持有的未偿付的对美国的美元债权
1951	33.5	22.9	8.9
1968	38.7	10.9	38.5

——摘编自郭昊新《论当代世界经济格局》

材料三 1976年，国际货币基金组织理事会通过《牙买加协定》，正式开始了牙买加体系时代……特里芬难题和货币危机的风险将从美国转移分散到日本和欧洲……美元与黄金脱钩，黄金非货币化，美国彻底进入了有恃无恐的高

速印刷发行美元时代,至2011年已经接近60万亿美元。美元信用下降,逼迫人们开始把欧元(原来的英镑、马克、法郎)、日元等作为国际储备和交易货币……在自私自利动机驱使下,拥有国际货币发行权的国家很难遏制其印刷货币的内在冲动,牙买加体系下,这样的国家由一个变成了多个,更容易造成竞争性货币贬值和国际货币危机。

——张洁、温伯馨《关于“特里芬难题”和“美元危机”的思考》

- (1) 材料一反映的实质问题是什么?如何认识而战后初期的资本主义世界金融体系?(6分)
- (2) 材料二反映了什么现象?结合所学知识分析原因。(6分)
- (3) 根据材料三概括牙买加体系的特点,并分析这一体系对国际金融的影响。(4分)

27. 答案:

(1) 实质:美国凭借经济优势在布雷顿森林体系中处于支配地位。(2分)

认识:顺应了经济全球化的趋势:在一定程度上稳定了世界经济秩序,有利于世界经济向体系化、制度化发展;(2分,任答1点即可)满足了美国对外经济扩张的需要。(2分)

(2) 现象:60年代末美国黄金储备减少,外债增多。(2分)

原因:西欧和日本崛起,世界经济多极化趋势出现;美国的军备竞赛和扩张使财政赤字扩大,国际收支恶化。(4分)

(3) 特点:黄金非货币化(美元与黄金脱钩);货币储备多元化(国际货币从美元一种变成美元、欧元、日元等多种)。(2分,任答1点即可)

(4) 影响:一方面一定程度上弥补了布雷顿森林体系的缺陷,另一方面储备多元化易加剧金融体系的混乱和动荡(或者货币危机的风险更分散,竞争性货币贬值和国际货币危机的频率可能增加)。(2分)

解析:本题考查世界金融货币体系,经济全球化的内容。

28. (16分) 阅读材料,完成下列要求。

材料一 1952年中国主要工业品总产量的国际比较表

	中国	美国	苏联	日本	法国	印度
原煤(亿吨)	0.66	5.1	2.6	0.4	0.5	0.3
原油(万吨)	44	26671	3788	29	15	25
发电量(亿度)	73	3887	912	449	330	51
钢(万吨)	135	8785	2733	484	865	146
水泥(万吨)	286	3872	1019	446	742	266

——根据赵德馨主编《中华人民共和国经济史》数据整理

材料二 1998—2002年私营、国有和外资工业企业的工业产值比较表

年份	私营企业		国有企业		外资企业	
	产值(亿元)	比重(%)	产值(亿元)	比重(%)	产值(亿元)	比重(%)
1998	2083	3.90	33621	62.90	17750	33.21
2000	5520	7.94	40554	58.32	23465	33.74
2002	12951	14.30	45179	49.87	32459	35.83

——摘编自陈勇勤《中国经济史》

材料三 计划经济国家是在西方发达国家已经基本实现工业化的背景下才开始工业化进程,走了一条由国家计划推动、优先发展重工业、以粗放型增长方式为主、过分追求高速度……片面强调自力更生的工业化道路。新型工业化道路则是克服传统工业化道路的缺陷和不足,以信息化带动,力求产业结构优化……实现可持续发展的、对外开放和由政府导向的、市场推动型的工业化道路。

——摘编自简新华、向琳等《论中国的新型工业化道路》

- (1) 材料一反映了什么状况？这种状况是怎样初步改变的？（4分）
(2) 根据材料二并结合所学知识，指出这三类工业企业的产值变化趋势并说明原因。（8分）
(3) 根据材料三，概括新中国工业化道路各方面的变化。（4分）

28. 答：(1) 状况：新中国工业生产基础和水平非常落后。（2分）

改变：制定实施“一五计划”，优先发展重工业，建立国家工业化的初步基础。（2分）

(2) 趋势：三类企业的产值都在增长，但所占比重私营企业上升，国有企业下降。（2分）

原因：深化国有企业改革；对外开放的逐步深入；市场经济体制的建立；加入世界贸易组织；经济全球化的推动。（6分，任答3点即可）

(3) 由国家计划推动到由政府主导，市场推动；由片面强调自力更生到对外开放；由粗放型增长到可持续发展；由优先发展重工业到产业结构的优化。（4分，任答2点即可）

解析：本题考察我国建国初期“一五计划”内容以及改革开放后所有制结构的变化。