

太原市 2018 年八年级结业测试

地 理

(考试时间：下午 2:30—4:30)

注意事项：

- 1.本试卷分第 I 卷（选择题）和第 II 卷（非选择题）两部分。
- 2.回答第 I 卷前，考生务必将自己的姓名、学校、年级和联系方式涂写在答题卡上。
- 3.回答第 I 卷时，选出每小题答案后，用 2B 铅笔把对应题目的答案标号涂黑。如需改动，用橡皮擦干净后，再选涂其他答案标号。写在本试卷上无效。
- 4.回答第 II 卷时，将答案写在答题卡相应位置上。写在本试卷上无效。
- 5.考试结束后，将本试卷和答题卡一并交回。

第 I 卷（选择题共 40 分）

注意事项：

- 1.答第 I 卷前，考生务必用 0.5 毫米黑色字迹的中性笔将所需填写的内容填在答题卡上。
- 2.每小题选出答案后，请将答案填涂在答题卡上，答案写在试题卷上无效。

一、选择题（本题共 20 小题，每小题 2 分，共 40 分。每小题只有 1 个正确选项，不选、多选、错选均不得分。将每小题的正确选项填入下表中）

题号	1	2	3	4	5	6	7	8	9	10
答案	C	B	A	B	C	D	A	C	C	B

4 月 8 日，博鳌亚洲论坛 2018 年年会在海南省召开，来自世界各国的 2000 多位嘉宾汇集一堂，本次年会主题为“开放创新的亚洲荣发最的世界”。据比完成 1—3 题。

1，海南省的简称、省级行政中心是

- A. 闽、广州    B. 粤、海口    C. 闽、福州    D. 琼、海口

本题考查中国省级行政区划的简称和行政中心相关知识，海南省的简称是琼，省级行政中心是海口，故选 D。

2. 从四大地理区域看，海南省位于

- A 南方地区    B. 北方地区    C. 西北地区    D. 青藏地区

本题考查我国四大区域的相关知识，海南省位于秦岭---淮河一线以南，应该属于南方地区。

3. 博鳌亚洲论坛 2018 年年会安排在海南省，从自然条件考虑，该省的主要优势是
- A. 地形平坦      B. 气候适宜      C. 河湖众多      D. 植被茂密

本题考查我国四大区域的相关知识，海南省位于南方地区，属于热带地区。而年会在 4 月举行，故该省的自然方面的优势是气候适宜，选 B。

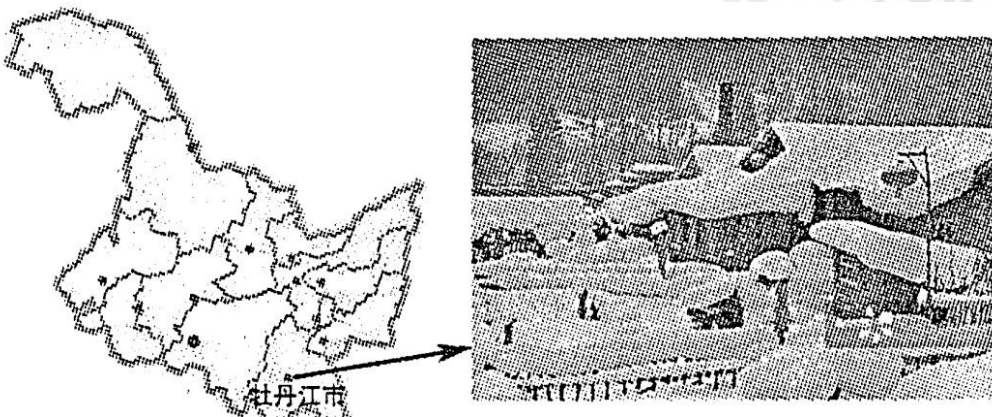
4. 美国农业高度发达，是世界上最大的农产品出口国，其中产量居世界前列的有
- A. 茶叶、稻米      B. 羊毛、甘蔗      C. 小麦、玉米      D. 橡胶、椰子

本题考查美国农业的相关知识，其中产量居前列的应该是小麦和玉米。羊毛产量最大澳大利亚，甘蔗产量最大是巴西，橡胶产量最大是马来西亚，椰子产量最大是菲律宾。选 C。

5. 日本经济高度发达，但对外依赖严重，其主要原因是
- A. 经济发展迅速，原燃料需求量大      B. 以山地丘陵为主，平原狭窄
- C. 矿产资源贫乏，国内市场狭小      D. 地处板块交界处，多火山地震

本题考查日本的相关知识，日本经济对外依赖严重的原因是：国土面积狭小，自然资源贫乏，国内市场狭小。故选 C。

双峰林场位于黑龙江省牡丹江市，该地区海拔 1200 米以上，夏季多多雨、冬季多雪，雪期从每年 10 月至次年 5 月，年平均积雪厚度达 2 米，雪量堪称中国之最，且雪质好，粘度高，素有“中国雪乡”的美誉。左图为黑龙江省简图，右图为雪乡景观。据此完成 6、7 题。



6. “中国雪乡”所在地的气候特征是
- A. 冬季寒冷干燥，夏季温暖湿润      B. 冬季寒冷，夏季温暖，雨雪丰富
- C. 全年高温多雨，大风天多      D. 全年高温，有明显的旱、雨季

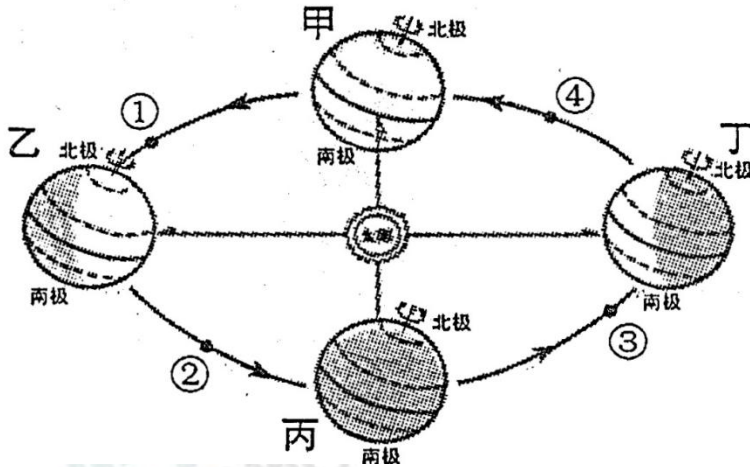
本题考查我国气候的相关知识，其中双峰林场位于黑龙江，黑龙江属于温带季风气候区。同时，由于距海较近，受海洋影响较大，故冬天降雪量大。选 B。

7. 东北山地是我国著名的林区，双峰林场主要位于

- A. 大兴安岭    B. 长白山脉    C 小兴安岭    D. 秦岭

本题考查我国地理单元----山地的相关知识，由图可知，该区域为长白山区，其中双峰林场位于长白山区。选 B.

端午节为每年农历五月初五，今年的端午节是6月18日，其与春节、清明节、中秋节并称为我国民间四大传统节日。下图为地球公转示意图。据此完成8—10题。



8. 今年端午节时，地球在公转轨道上大致处于  
A. ①位置    B. ②位置    C. ③位置    D. ④位置

本题考查地球公转的相关知识，由图可知，甲是春分日（3.21）、乙是夏至日（6.22）、丙是秋分日（9.23）、丁是冬至日（12.22）。而端午节是6.18.应该在夏至日之前，所以位于位置①。选 A.

9. 端午节前后，太原昼夜长短的特点是  
A. 出现极昼    B. 昼短夜长    C. 昼夜等长    D. 昼长夜短

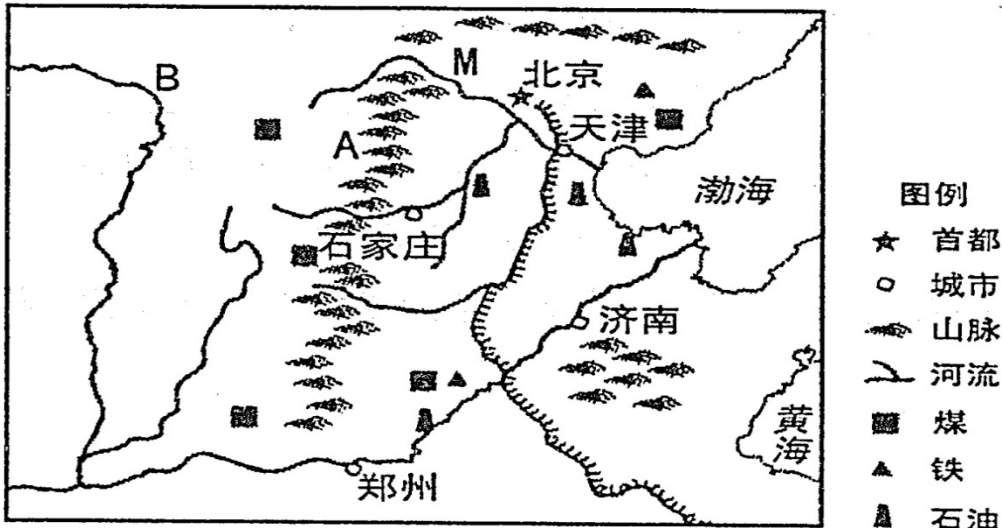
本题考查地球公转的相关知识，端午节前后，太阳直射北半球，此时，太原的昼夜长短特点应为昼长夜短。选 D.

10. 当地球公转到乙位置时，下列叙述正确的是  
A. 全球昼夜等长    B. 太原正午太阳高度达一年中最大  
C. 适合南极科考    D. 悉尼正午太阳高度达一年中最大

本题考查地球公转的相关知识，当地球公转到乙位置时，应为夏至日。全球昼夜等长应该是二分日时，A 错。适合南极科考，应该在南半球夏季时进行，也就是12月左右进行，C 错。悉尼位于南半球，正午太阳高度达到一年最大应该为直射南回归线时，也就是12.22.D 错。太原位于北半球，北回归线以北地区，夏至日时，正午太阳高度达到一年中最大。故选 B.

第II卷（非选择题，共30分）

二、非选择题（共30分）



11. （10分）读北方地区局部示意图，完成下列各题

- (1) 在图中用 2B 铅笔或碳素笔描出汾河。（1分）
- (2) 写出图中字母所代表的地理事物的名称。（2分）

山脉：A \_\_\_\_\_ 河流：B \_\_\_\_\_

A:太行山      B:黄河

(3) 北京是我们伟大祖国的首都，其最重要的城市职能是全国的 \_\_\_\_\_ 中心，也是世界著名的和现代化国际城市。（2分）

政治文化      古都

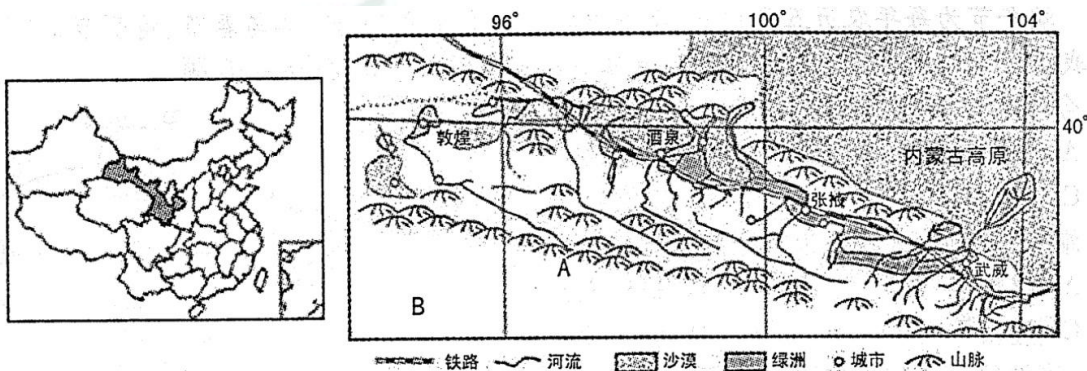
(4) 判断图中 M 河的流向并说明理由。（2分）

M 河流向：自西北向东南      理由：西北侧海拔较高，东南侧海拔低。河流由高处流向低处。

(5) 说出山西储量最丰富的矿产资源，并为山西的经济发展出谋划策。（3分）

煤 策略：①加大科技投入，提高煤炭资源利用率。②开发新能源，提升新能源在能源消费结构中的比重③注重生态环境保护，进行环境治理④完善交通运输网络⑤产业结构调整，升级，促进第三产业发展，绿色农业旅游观光农业推动城市化发展⑥延伸产业链，提高附加值，提高经济效益，完善加工体系⑦开发利用新能源（清洁 可再生）

12. (10分) 阅读图文资料, 完成下列各题。



材料一 “河西走示意图”

材料二 河西走廊古称“州”、“凉州”，位于甘肃当境内，长达 1000 多千米，是呈西北—东南走向的狭长地带，因其位于黄河以西而得名。河西走廊地势平坦，海拔 1500 米左右，是我国西北地区重要的“粮仓”。这里成为我国东部通往西域“丝绸之路”的咽喉要道，随着“一带一路”战略的实施，这条古老的丝绸之路在沉寂了数百年后，再一次焕发出勃勃生机。

(1) 在上方右图中用阴影表示河西走廊的位置。(1分)

(2) 写出图中字母所代表的地理事物的名称。(2分)

山脉：A \_\_\_\_\_ 高原：B \_\_\_\_\_

**A:祁连山 B:青藏高原**

(3) 河西走廊位于 \_\_\_\_\_ 省境内，是呈西北—东南走向的狭长地带，从四大地理区域看，河西走廊属于 \_\_\_\_\_ 地区。(2分)

**甘肃 西北地区**

(4) 社会经济发展深受自然环境影响，请你说出河西走廊的城市分布特点。(1分)

**城市多分布于山谷之中 位于河流的出山口、下游山麓地带**

(5) 河西走廊是西北地区重要的“粮仓”。简析该地区发展农业的有利的自然条件。(2分)


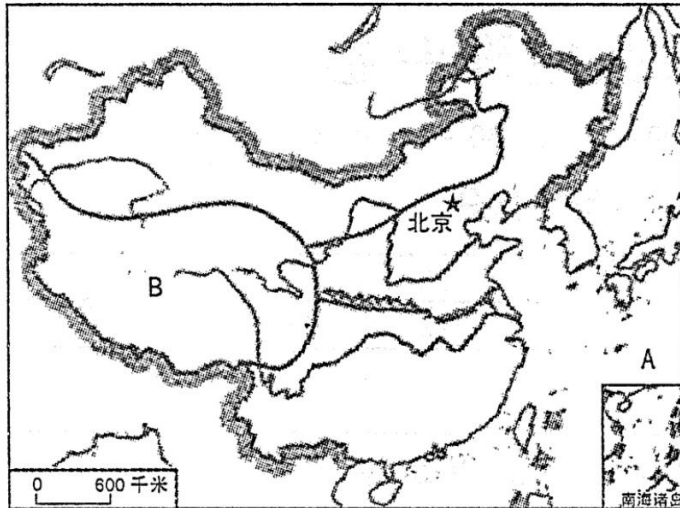
**自然条件：①位于温带大陆性气候区，昼夜温差大，有利于作物营养物质的累积②地形平坦，土壤肥沃③夏季高山冰雪融水较多，河流众多，灌溉水源丰富④夏季热量充足，降水较少，光照充足**

(6) 随着“一带一路”战略的实煎，如何抓住这一机遇促进河西走廊生态、经济的良性发展，请你献计献策。(2分)

①加强当地基础设施建设②保护和改善生态环境③积极开发当地旅游资源④加强物流基地建设⑤开展特色农业

13. (10分) 阅读图文资料，完成下列各题。

材料一 “中国四大地理区域示意图”



面食



水乡

材料二 《舌尖上的中国1》是中国中央电视台拍摄制作的第一部高端美食类系列纪录片，在国内共拍摄了60多个地方，涵盖港、澳、台在内的祖国各地。该纪录片全方位展示博大精深的中华美食文化，让观众从饮食文化方面认识理解传统和变化着的中国。在“自然的馈赠”一集中这样描述“中国拥有世界上最富戏剧性的自然景观，高原、山林、湖泊、海岸线。这种地理跨度有助于物种的形成和保存，任何一个国家都没有这样多潜在的食物原材料……”

(1) 在图中用2B铅笔或碳素笔描出秦岭-----淮河一线。(1分)

(2) 写出图中字母所代表的地理事物的名称。(2分)

大洋：A \_\_\_\_\_ 区域：B \_\_\_\_\_

A:太平洋 B:青藏地区

(3) 秦岭与淮河大致位于同一纬度，是我国东部地区一条重要的地理分界线。从气温角度看，1月份等温线大致经过该线；从降水角度看，\_\_\_\_\_等降水量线大致经过该线；从温度带角度看，该线以北是\_\_\_\_\_带，以南为亚热带。(3分)

0° 800mm 温

(4) 举例说明南、北方地区自然环境差异对人们生产生活的影响。(2分)

北方地区主要农产品粮食作物：小麦；油料作物：花生；糖料作物：甜菜；

经济作物：棉花、谷子、大豆等；

植被和果树：东北天然森林、温带水果；

矿产资源：铁；主要能源：煤炭、石油；主要水果：苹果、葡萄、梨、桃、杏、柿；

风俗习惯 人民主食：面食（东北，华北：盛产小麦，以面食为主；黄土高原：则以小米为主）；

传统民居特点：注意防寒保温（东北，华北：土坯垒墙，砖瓦房（火炕）；黄土高原：窑洞）；

交通工具：传统：骡马作役畜马车；现代：铁路、公路

脆弱的生态环境：由于长期的垦植开荒、水土流失、生态环境恶化严重（东北：黑土流失；华北：旱、涝、碱、风沙威胁；黄土高原：黄土裸露，沟壑纵横）；

东北平原：退耕还林，退耕还牧，重建生态家园；华北平原：兴修水利，改善灌溉条件、营造农田林网，改善土壤，减轻灾害；黄土高原：植树种树，退耕还林，退林还牧，发展生态农业；

南方地区主要农产品粮食作物：水稻；油料作物：油菜；糖料作物：甘蔗；经济作物：棉花；

植被和果树：亚热带、热带经济作物和林果（长江三角洲、珠江三角洲、四川盆地-植桑养蚕-蚕丝的主要产区；海南岛、雷州半岛、云西南部是天然橡胶的生产基地）；

主要水果：两广、闽、台胜产甘蔗；南部沿海地区出产香蕉、荔枝、龙眼、菠萝、柑橘、桂圆等水果；

海南岛出产椰子；矿产资源：有色金属；主要能源：核能和水能丰富；

风俗习惯人民主食：大米

传统民居特点：注意通风散热，以南北朝向为主，瓦房屋面较陡

交通工具：传统：船舶；现代：船舶

生态环境及治理 长江中下游、淮河流域是我国洪涝灾害频繁发生的地区。98年大洪水使湖北、湖南、江西的受灾面积达一万平方千米，损失百亿元；加固堤坝；疏浚水道；重点限期治理污染源。红壤是在高温多雨的环境下发育而成的，含铁、成风较多，有机质少，酸性强，土质粘重，是我国南方的低产土壤之一，需要改良：增施有机肥料、补充熟石灰等以改变土壤的酸性，种植茶树、油树、杉树、马尾松等耐酸性经济林木以抑制土壤的粘性。

(5) 探究：我国饮食多样、食材丰富的主要原因。(2分)

饮食多样、食材丰富。这是与自然地理环境特征密不可分的。

①我国气候类型复杂多样、季风气候显著、温带大陆性气候面积广阔。

②我国地形以山地丘陵为主，地形呈阶梯状分布，水分和热量条件差异较大。

③我国纬度跨越范围较大，纬度地带性差异显著，热量条件差异大。

④我国降水的特点是由东南向西北内陆递减，经度差异明显。

⑤我国的土壤由于在水热等条件的共同作用下造成土壤肥力的差异，东北地区黑土为主肥力大，北方地区黄土为主肥力居中，南方地区红壤为主肥力较差。