

秘密★启用前

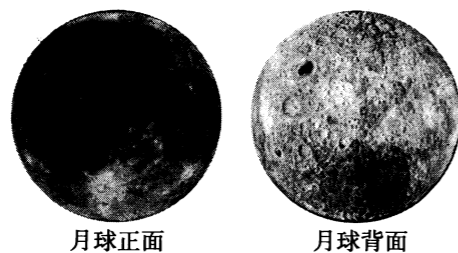
文科综合

注意事项:

1. 答卷前,考生务必将自己的姓名、准考证号填写在本试题相应的位置。
2. 全部答案在答题卡上完成,答在本试题上无效。
3. 回答选择题时,选出每小题答案后,用 2B 铅笔把答题卡上对应题目的答案标号涂黑。如需改动,用橡皮擦干净后,再选涂其他答案标号。回答非选择题时,将答案用 0.5mm 黑色笔迹签字笔写在答题卡上。
4. 考试结束后,将本试题和答题卡一并交回。

一、选择题:共 35 小题,每小题 4 分,共 140 分。在每小题给出的四个选项中,只有一项是符合题目要求的。

2019 年 1 月 3 日,中国研制的嫦娥四号探测器在月球背面成功着陆,实现了人类探测器首次在月球背面的软着陆。据科学论证,月球表面的环形山主要是宇宙天体撞击形成的。据此完成 1~3 题。



月球正面

月球背面

1. 月球探测器减速着陆时采用反推器,而不用降落伞是因为月球上

A. 无大气	B. 地势起伏大
C. 引力小	D. 表面温差大
2. 与正面相比,月球背面环形山更多,可能是背面

A. 受太阳辐射更强烈	B. 内力作用强
C. 无地球的屏障保护	D. 侵蚀作用大
3. 月球背面更适宜进行空间天文观测,其原因可能是

A. 地势高峻	B. 地球无线电干扰少
C. 终年黑夜	D. 受太阳活动影响小


2018 年 8 月 18 日,受台风“温比亚”影响,山东潍坊发生严重洪水灾害。“蔬菜之乡”寿光大量蔬菜大棚被毁,导致山东及全国许多地区部分蔬菜价格快速上涨。据此完成 4、5 题。

4. 本次洪灾导致部分蔬菜市场价格快速上涨的主要原因是寿光

A. 蔬菜种植面积大	B. 蔬菜外运困难
C. 市场需求量增加	D. 种植成本提高
5. 减轻洪灾对寿光蔬菜生产影响的措施是

A. 控制生产规模	B. 兴修水利工程
C. 培育优良品种	D. 雨季提前采收

5G 即“第五代移动通信技术标准”,可以给用户带来更高的宽带速率、更低更可靠的时延和更大容量的网络连接。华为是 5G 技术的引领者,中国将成为首批 5G 商用的国家。5G 基站是新一代小型设备,覆盖范围相对较小;数量可能是 4G 的 2~3 倍,光纤用量将比 4G 多 16 倍;选址难度较高,需要通过勘察设计和系统仿真,提高基站选址效率和覆盖效果。据此完成 6~8 题。



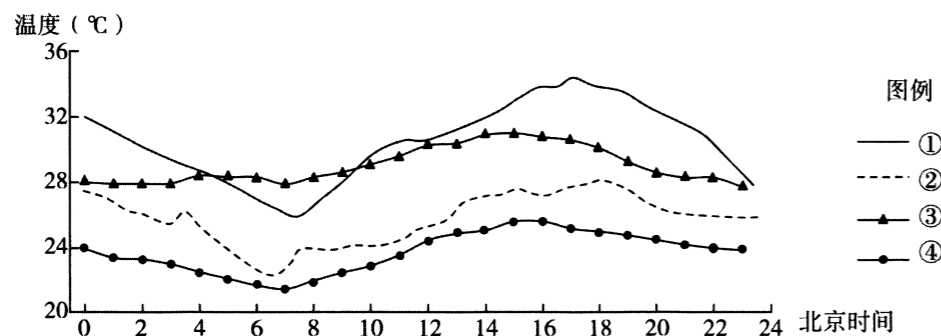
6. 5G 基站选址主要用到的地理信息技术是

A. RS	B. GIS
C. GPS	D. 数字地球
7. 影响 5G 基站布局密度的主导因素是

A. 交通运输	B. 地形地势
C. 科学技术	D. 人口分布
8. 华为公司成为 5G 技术引领者的关键原因是

A. 国家政策的支持	B. 企业信誉度高
C. 研发费用投入多	D. 市场竞争力小

我国巴丹吉林沙漠地区年降水量在 40~109mm 之间,年蒸发量超过 1000mm,沙漠东南部有众多起伏较大的沙山;车日格勒湖位于沙漠东南部,常年积水,湖岸东侧湖相沉积物最高处比现代湖面高出约 9m。下图表示 6 月 1 日和 8 月 9 日车日格勒湖表层水温与该沙漠气温日变化。据此完成 9~11 题。



9. 表示 8 月 9 日车日格勒湖表层水温日变化的是

- A. ① B. ②
C. ③ D. ④

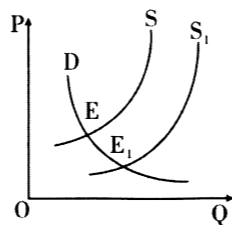
10. 车日格勒湖区陆风最强约出现在

- A. 6 月 1 日 0 时前后 B. 8 月 9 日 7 时前后
C. 6 月 1 日 12 时前后 D. 8 月 9 日 17 时前后

11. 与湖相沉积物堆积时期相比,目前的车日格勒湖

- A. 面积大 B. 蒸发弱
C. 湖水深 D. 盐度高

12. 图中 P 为价格, Q 为数量, S 和 S₁ 为商品的供给曲线, D 为需求曲线。若其他条件不变, 下列情况会引起 E 点向 E₁ 点变动的是



- ①某种商品替代品的价格下降
②生产某商品的企业普遍提高劳动生产率
③国家对新能源汽车免征购置税
④实行绿色生态农产品生产补贴制度, 农民扩大生产规模

- A. ①② B. ①③ C. ②④ D. ③④

13. 实体经济是指物质、精神产品和服务的生产、流通等经济活动, 是国民经济的基石。下列促进实体经济发展的措施及其影响传导正确的是

- A. 实行稳健的财政政策→企业融资成本降低→企业产品结构优化→企业竞争力增强
B. 加大减税降费力度→企业产品成本降低→企业管理更加科学→企业活力增强
C. 大力发展股权融资→降低企业负债率→缓解企业还债压力→企业发展方式转变
D. 加大企业研发支持→增强企业创新能力→掌握关键核心技术→企业竞争力增强

14. 2017 年我国新能源汽车财政补贴额度比 2016 年降低 20%; 2018 年下半年相对于去年补贴政策又下降了 40%; 2019 年至 2020 年中央及地方补贴标准和上限在 2017 年的基础上再降 20%; 2020 年新能源汽车补贴政策彻底退出。我国对新能源汽车行业财政补贴标准的这一变化

- A. 会倒逼企业提高技术水平, 增强核心竞争力
B. 意味着政府淡化财政作用, 促使企业自主发展
C. 会降低新能源汽车竞争力, 不利于新能源汽车产业发展
D. 将导致新能源汽车长期涨价成为必然趋势

15. 2018 年 7 月 26 日, 国家主席习近平在金砖国家领导人约翰内斯堡会晤大范围会议上发表讲话指出, 金砖国家要加强贸易投资、财金、互联互通等领域合作。要在联合国、二十国集团、世贸组织等框架内, 坚定维护基于规则的多边贸易体制, 推动贸易和投资自由化便利化, 旗帜鲜明反对保护主义。这表明金砖国家

- ①坚持开放发展理念, 推动世界市场体系建设
②在促进世界经济稳定和增长方面肩负重要使命
③坚持携手共进, 致力于推动全球化深入发展
④推进国际经济合作, 成为全球化的主要获利者

- A. ①② B. ②③ C. ①④ D. ③④

16. 2018 年 12 月 29 日, 十三届全国人大常委会第七次会议表决通过了修改后的村民委员会组织法、城市居民委员会组织法, 将村、居委会任期由三年改为五年。(村)居委会任期与村和社区党的委员会、总支部委员会、支部委员会的任期保持一致。这一举措旨在

- ①统一部署换届工作, 提高基层政权组织能力
②延长基层管理任期, 扩大基层群众自治权利
③稳定村(居)干部队伍, 促进基层管理有序发展
④加强党的全面领导, 完善基层群众自治制度

- A. ①② B. ②③ C. ①④ D. ③④

17. 2018 年 12 月 25 日, 国家发展改革委、商务部发布《市场准入负面清单》。清单以外的行业、领域、业务等, 各类市场主体皆可依法平等进入, 真正实现“非禁即入”。这一举措有利于

- ①弱化政府市场监管职能 ②推动政府管理模式创新
③提高政府行政管理效率 ④优化政府经济服务效能

- A. ①② B. ②③ C. ①③ D. ②④

18. 2018年11月5日至10日,以“新时代,共享未来”为主题,首届中国国际进口博览会吸引172个国家、地区和国际组织参会,3617家企业参展,成交额达578亿美元。进口博览会的成功举办

- ①印证了和平与发展仍然是当今时代的主题
- ②彰显了中国推动构建开放型世界经济的担当
- ③创立了维护世界利益为目标的中国特色外交
- ④打造了携手各国实现经济全球化的崭新平台

A. ①② B. ③④ C. ①④ D. ②③

19. 2018年,中国互联网文化相关产业迅速发展,网络视频用户规模达6.09亿,付费比例达53.1%。传统“内容免费+广告推广”的方式进化为“内容付费+广告推广”的模式,极大冲击了付费电视频道、出版业等传统文化产业发展。这启示我们,新时代的文化产业发展要

- ①集中全部力量发展互联网文化相关产业
- ②着眼人民群众的文化需求推出优质作品
- ③融合现代科技与互联网资源不断创新
- ④发挥大众传媒对文化创新的决定作用

A. ①② B. ①③ C. ②③ D. ③④

20. 始建于公元前256年的都江堰水利工程,以其“全世界历时最悠久、设计最科学、布局最合理、经济效益最发达、自流灌溉面积最广”的特点享誉中外,至今仍担负着四川盆地中西部地区7市38县1076万余亩农田灌溉。2018年8月14日,都江堰水利工程成功入选第五批世界灌溉工程遗产名录。这有利于

- ①促进中国灌溉技术的传承与创新
- ②发挥文化在经济建设中的基础作用
- ③见证中华文化一脉相传的先进基因
- ④增强文化自信与中华文化的影响力

A. ①② B. ③④ C. ②③ D. ①④

21. 历史发展有其规律,但人在其中不是完全消极被动的。只要把握住历史发展大势,抓住历史变革时机,奋发有为,锐意进取,人类社会就能更好前进。从唯物论角度看,这一论断的依据是

- ①人类社会具有物质性,其发展规律也是客观的
- ②自然界的存在与发展不受人的影响,是客观的
- ③尊重客观规律是发挥主观能动性的前提
- ④只要尊重社会发展规律,就一定能获得成功

A. ①② B. ①③ C. ②④ D. ③④

22. 恩格斯指出,认识中“不仅每个已经解决的问题都引起无数的新问题,而且每一个问题也多半都只能一点一点地、通过一系列常常需要花几百年时间的研究才能得到解决”。

对这种认识现象的合理解释是

- ①认识的局限性意味着达不到真理性认识
- ②真理与谬误的转化使认识呈现为封闭式循环运动
- ③主客观条件的限制决定了认识的反复性
- ④认识对象、认识主体和实践的无限发展导致认识具有无限性

A. ①② B. ①④ C. ②③ D. ③④

23. 1978年12月18日,中国共产党十一届三中全会开启了改革开放和社会主义现代化建设的伟大征程。改革是发展中国特色社会主义的强大动力。改革的实质是

- A. 调整社会意识适应社会存在的发展状况
- B. 改变物质资料生产方式,不断解决社会主要矛盾
- C. 使生产关系适应生产力,上层建筑适应经济基础发展状况
- D. 坚持群众观点和群众路线,推动社会主义现代化建设

24. 在商朝,征伐、祭祀、施政等政治要务都要进行占卜;西周时期,君主管理国家往往关注百姓的议论。这反映了

- A. 商朝政治制度被西周抛弃
- B. 国家管理不再借助神权
- C. 西周治国理念发生了变化
- D. 君主利用民意加强集权

25. 下表是两晋南朝时期代表皇权的宗室外戚与世家大族在官僚体系中的占比变化情况。据此可知,这一时期

	西晋	东晋	南朝
宗室外戚	19%~38%	7%	19%~38%
世家大族	49%~64%	78%	49%~64%

- A. 官僚体系日益遭到破坏
- B. 皇权与门阀势力斗争激烈
- C. 皇权势力逐渐走向衰微
- D. 社会发展出现了严重倒退

26. 在埃及开罗附近的遗址中,发现唐至宋初的瓷片数以万计;叙利亚沙玛拉遗址发现大批唐代陶瓷器;印度勃拉名纳巴特遗址也发现唐瓷片。以上信息表明唐代

- A. 瓷器是海外贸易的最主要商品
- B. 海上丝绸之路的辐射范围较广
- C. 私人海外贸易的规模不断扩大
- D. 中国已经成为东亚文化圈中心

27. 宋朝的地主与佃农有上下尊卑之分,“主犯佃照凡人减一等,佃犯主照凡人加一等”;到了清朝,租佃制进一步发展,佃农与地主“系平等相称,并无主仆名分”。这一变化反映了

- A. 佃农的政治权力大大提高
- B. 社会经济发展冲击等级秩序
- C. 新社会经济关系正在孕育
- D. 程朱理学的影响在逐渐减弱

28. 第二次鸦片战争后,清政府准备派团出使西方,由于中外外交礼仪不同,“用中国人为使臣,诚不免于为难”,于是委任美国人蒲安臣担任中国全权使节出使美、英、法、普、俄诸国,并取得一系列外交成果。这反映了当时
- A. 美国政府侵犯中国外交主权 B. 清政府熟悉近代外交的规则
C. 传统华夷观念影响外交行为 D. 中国逐渐摆脱外交被动局面
29. 近代西方自由思想传入中国,出现了不同的内涵。1903年,严复说:“祛异族之侵横,求有立于天地之间……乃国群自由,非小己自由也。”1918年,胡适说:“我所最期望于你的是一种真正纯粹的为我主义。”这些言论
- A. 有利于中国民族民主运动发展 B. 指明了中国人民的救国道路
C. 主导了五四新文化运动的方向 D. 摧毁了传统礼教的文化基础
30. 1932年,苏区政府建立“中华钨矿公司”,负责赣南地区的钨砂生产并将钨砂运到广东交易。从1932年到1934年10月红军长征前,钨砂贸易总计创造了620万元的财富。这一举措
- A. 调动了苏区人民生产的积极性 B. 改善了根据地的民生
C. 有利于打破国民党的经济封锁 D. 提高了红军的战斗力
31. 1986年,浙江一家生产压力锅的乡镇企业与国企沈阳双喜压力锅厂联营,可以使用其技术并以“双喜牌”名义销售,市场占有率达到了48%,最后取代了沈阳压力锅厂。这种现象成为当时的一种趋势。这表明
- A. 乡镇企业经营模式适应市场形势 B. 国企已经无法适应市场经济需要
C. 市场经济体制基本取代计划经济 D. 乡镇企业逐渐成为市场主导力量
32. 古代雅典的梭伦为了发展雅典的手工业,允许外邦人获得雅典的公民权;而到了伯利克里时期却规定:“其父母皆为雅典人者,始能为雅典人。”这一变化说明古代雅典
- A. 手工业获得较大的发展 B. 人地矛盾日益尖锐
C. 公民权利意识逐渐强化 D. 民主政治走向鼎盛
33. 1875年,德国社会主义工人党成立(后更名为德国社会民主党),它以争取普选权和合法的议会活动为目标。这一目标的确定
- A. 与社会经济发展的状况相适应 B. 是对巴黎公社革命的经验总结
C. 与马克思主义基本理论相违背 D. 导致了德国工人运动陷入低潮
34. 1890年,美国《谢尔曼反托拉斯法》将大企业限制州际贸易列为非法;1914年,美国《克莱顿反托拉斯法》将“对不同的商品购买者实行价格歧视”“直接或间接取得其他公司全部或部分股权”等不公平竞争方式均列为非法。这表明美国
- A. 否定了垄断企业的合法性 B. 希望建立不受限制的市场经济
C. 资本集中影响了经济稳定 D. 力图维护自由主义的市场经济

35. 1972年,美苏就限制进攻性战略武器达成协议,规定今后不再建造陆基洲际导弹发射器,导弹拥有数量限制为美国1710枚,苏联2358枚。这一协议

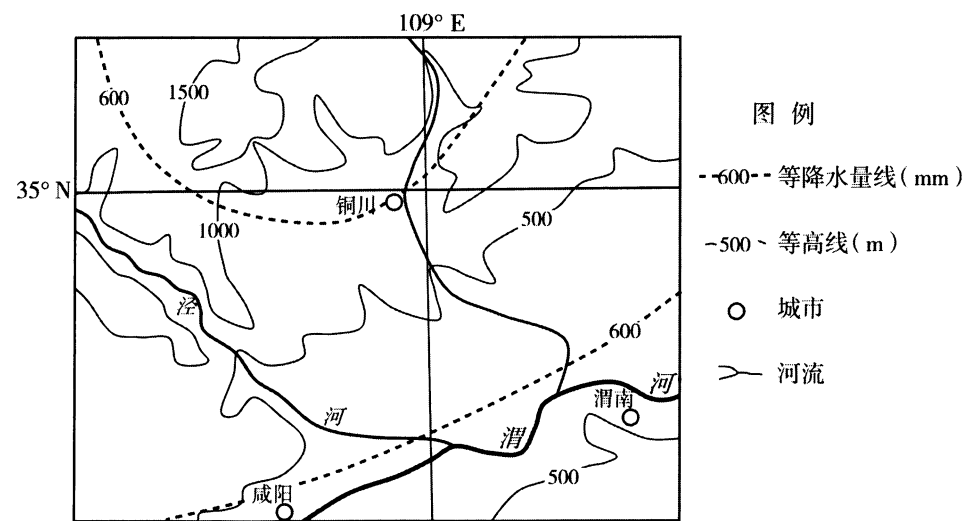
- A. 表明美苏努力维护世界和平 B. 使美苏两极格局受到了冲击
C. 说明苏联综合国力超越美国 D. 一定程度上缓和了国际局势

二、非选择题:本大题包括必考题和选考题两部分。第36~42题为必考题,每个试题考生都必须作答。第43~47题为选考题,考生根据要求作答。

(一)必考题:共135分

36. 阅读图文材料,完成下列要求。(24分)

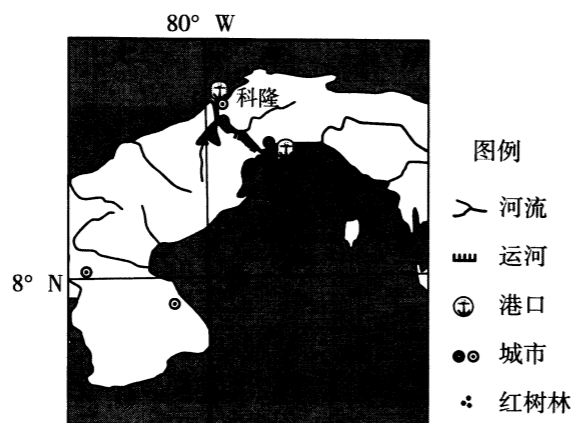
铜川是药王孙思邈故里,有着悠久的药材种植历史,自然环境独特,土壤种类多样,共有中草药600多种。铜川市因煤而兴、因煤而殇,在产业转型过程中,该市深入挖掘药王孙思邈中医药文化,充分发挥区位和资源优势,积极培育发展中药材产业,使全市中医药种植、加工、流通、研发、文化、服务全面发展,中医药产值突破1000亿元。近年来,铜川积极开展林下套种中药材,借助孙思邈中医药文化节,进一步扩大药王文化的对外影响力,让中医药走向世界。下图示意铜川及周边地区。



- (1) 简析铜川中草药品种丰富的自然原因。(6分)
- (2) 分析铜川在产业转型中选择中医药产业的原因。(8分)
- (3) 说出铜川开展林下套种中药材带来的经济价值。(4分)
- (4) 说明铜川产业转型对我国资源转型城市发展带来的启示。(6分)

37. 阅读图文材料,完成下列要求。(22分)

巴拿马科隆自由贸易区(位置见下图)是西半球最大的自由贸易区,世界货物集散中心。目前中国是该自贸区最大的商品供应国。巴拿马两面临海,海岸密布生态价值很高的红树林。2017年6月,中国企业投资并承建的科隆玛格丽特岛最大现代化集装箱深水港(简称玛岛港项目)扩建工程开工。在玛岛港项目建设中,从20海里外的大西洋深海采沙吹填造陆。其设计、规划、建设、使用设备以及后期经营管理均由中方企业提供。玛岛港项目建成后,将依托已拓建完成的巴拿马运河(集装箱船的运力是过去的两倍多)广阔的发展前景,成为中国“一带一路”建设倡议的一个重要支点。



- (1)说明巴拿马运河扩建改造,给玛岛建设现代化深水港口带来的机遇。(6分)
- (2)说出港口扩建过程中从20海里外的大西洋深海采沙的利弊。(4分)
- (3)简述玛岛港项目对科隆自贸区进一步发展的社会经济意义。(6分)
- (4)分析玛岛港项目对提升中国商品在美洲市场竞争力的作用。(6分)

38. 阅读材料,完成下列要求。(14分)

改革开放40年的实践启示我们:开放带来进步,封闭必然落后。统计显示,1979年至2017年,我国累计吸引外商直接投资达18966亿美元,是吸引外商直接投资最多的发展中国家。近年来,我国先后2次修订《外商投资产业指导目录》、3次更新自由贸易试验区负面清单,不断缩减对外资的准入限制。但与党的十八届三中全会的要求相比,扩大开放仍有很大空间,特别是在金融、文化、教育、医疗、电信等服务业领域。中西部地区利用外资占比从2010年的15%降至2016年的13.3%,远远低于东部地区。从人均看,我国利用外资世界排名第124位,约为世界平均水平的50%、发展中经济体的70%、发达经济体的20%。

十九大报告明确要求:“面向未来,中国将坚持改革开放不动摇,继续深化改革,特别要进一步扩大对外开放,大幅度放宽外资市场准入。”

结合材料,运用经济生活知识,说明中国进一步扩大对外开放,大幅度放宽外资市场准入是多赢之举。

39. 阅读材料,完成下列要求。(12分)

党的领导是中国特色社会主义最本质的特征。加强纪律建设是全面从严治党的治本之策。进入新时代,修订《中国共产党党内纪律处分条例》(以下简称《条例》)势在必行。

2018年2月,中共中央印发《中央党内法规制定工作第二个五年规划(2018-2022年)》,对今后5年党内法规制度建设进行顶层设计,进一步将依规治党与依法治国有机统一,协调党纪国法,明确提出《条例》作为规范党组织和党员行为的基础性法规,要进一步修订的要求。

2018年5月,中央纪委贯彻党的十九大精神,坚持习近平新时代中国特色社会主义思想为指导,中央纪委深入总结监督执纪中的新经验新做法,深刻分析查找制度漏洞;结合深化国家监察体制改革,完善纪法衔接条款,增强制度合力;广泛征求中央有关部门和中央纪委常委、31个省(区、市)纪委书记等负责人的意见,并深入部分省、市、县调研,聚焦整治群众身边腐败问题,汲取人民群众关注度高、针对性强的意见和建议,确保《条例》修订更好地体现人民立场、时代要求、使命责任。

2018年7月31日,中共中央政治局召开会议审议《条例》修订稿。8月26日,新修订的《党内纪律处分条例》公布并从2018年10月1日起实施。

结合材料,运用政治生活知识,说明新时代中国共产党是如何坚持加强和改善党的领导的。

40. 阅读材料,完成下列要求。(26分)

在庆祝改革开放40周年大会上,党中央、国务院授予100名同志改革先锋称号。其中有:农村改革重要推动者杜润生、真理标准大讨论代表人物胡福明、杂交水稻研究开创者袁隆平、城市集体企业改革先行者步鑫生、企业管理创新优秀企业家张瑞敏、国防科技事业改革发展重要推动者于敏、中医药科技创新优秀代表屠呦呦、科技体制改革实践探索者王选、“女排精神”优秀代表郎平、“互联网+”行动探索者马化腾等杰出贡献人员。

他们是对我国改革开放做出巨大贡献的杰出代表,堪称各个领域的楷模。作为青年一代,我们要向他们学习,担负起新时代赋予的光荣使命和责任。

- (1)结合材料,运用文化生活知识,说明改革先锋人物体现的中华民族精神。(10分)
- (2)结合材料,运用辩证唯物主义相关原理,分析改革先锋人物取得成就的原因。(10分)
- (3)选择一位你所熟悉的改革先锋人物,谈谈如何向他学习,实现自己的人生梦想。(6分)

41. 阅读材料,完成下列要求。(25分)

材料一 976年,潭州太守朱洞建立岳麓书院。南宋张栻主教期间,在其所著的《岳麓书院记》中强调,岳麓书院的教育宗旨是“成就人材,以传道而济斯民也”。书院经常举办讲会,主讲教师欢迎别人质疑问难,师生相互切磋交流,外地士子也可来听。1167年,朱熹来访,与张栻论学,举行了历史上有名的“朱张会讲”,这是中国古代文化史上的一件盛事。1194年,朱熹重整岳麓书院,颁行《朱子书院教条》。1507年,王守仁来岳麓讲学。乾隆时期山长(校长)王文清制定学规18条,其中10条讲如何做人,8条讲如何做学问,压轴的一条即为“疑误定要力争”。书院景色优美,处处体现着于山水自然之间体悟“斯文”之道的智慧。

——摘编自宋明昌《书院:传统文化的名片》

材料二 1902年,岳麓书院改制为湖南高等学堂,1926年定名湖南大学。1932~1949年,胡庶华先后三次担任校长,他以书院内的朱熹手书“忠孝廉节”和欧阳正焕所立“整齐严肃”八字碑文作为校训,提出“承朱(熹)张(栻)之绪,取欧美之长”的口号。自1935年起,湖南大学新生开始接受军事管理,并开设体育及武术课。1940年,胡庶华提出“科学社会化”,其实是“民众科学化”。他加强与工矿企业的合作交流,并联络教师与校友兴办了抗战纺织机械厂、肥皂厂等企业,各系师生研究战时本省建设问题蔚然成风。湖南大学还十分注重引进留学人员,鼓励他们采用欧美最新教材,倡行基础理论与现场实习相结合。

——摘编自张泽麟《胡庶华的大学教育思想及治校实践》

- (1)根据材料一并结合所学知识,说明岳麓书院对文化发展的促进作用。(8分)
- (2)根据材料一、二并结合所学知识,概括民国时期湖南大学与古代岳麓书院办学理念之相同之处,并说明湖南大学的新理念及其原因。(17分)

42. 阅读材料,完成下列要求。(12分)

材料 纽约只有300多年的历史。1626年,荷兰人以价值约24美元的小物件从印第安人手中买下曼哈顿岛辟为贸易站,称之为“新阿姆斯特丹”。1664年,英荷战争结束后,英王查理二世的弟弟约克公爵占领了这块地方,改称纽约。独立战争期间,纽约是乔治·华盛顿的司令部所在地和他就任美国第一任总统的地方,也是当时美国的临时首都。1825年,伊利运河建成通航,以后又兴建了铁路,沟通了纽约同中西部的联系。到19世纪中叶,纽约逐渐成为美国最大的港口城市和国际大都会。1929年10月24日,纽约华尔街的股市暴跌,全球经济陷入一片愁云惨雾之中。第二次世界大战以后,纽约市成了主导世界的城市,华尔街是美国财富和经济实力的象征。

——根据李三虎《纽约与广州:一种城市变迁的历史透视》等整理

结合世界史的所学知识,从纽约的历史变迁中提取一个信息,指出它所反映的世界史上的重大历史现象,并概述和评价该历史现象。(要求:简要写出所提取的信息及历史现象,对历史现象的概述和评价准确全面。)

(二)选考题:共25分。请考生从2道地理选考题、3道历史选考题中每科任选一题作答,并用2B铅笔在答题卡上把所选题目号后的方框涂黑。注意:所做题目的题号必须与所涂题目的题号一致,在答题卡选答区域指定位置答题。如果多做,则每学科按所做的第一个题目计分。

43. 【地理——选修3:旅游地理】(10分)


杭州临安白沙村(见下图),位于浙江省杭州市临安区的西北角,全村总面积32平方公里,是太湖水系的源头,距离杭州七十公里。白沙村是一个典型的山区村,平均海拔600米,森林覆盖率在95%以上,全村十里长谷蜿蜒,两侧峰峦起伏,溪流急湍,水清石现,有着“飞流直下三千尺”“白云深处有人家”的绝妙意境。绿水青山、潺潺小溪,遍地而起的农家乐,整齐洁净的村道……让这个“太湖源头第一村”声名鹊起。令许多中外游客和文人墨客流连忘返。



说明白沙村遍地而起的农家乐对旅游者带来的影响。(10分)

44. 【地理——选修6:环境保护】(10分)

塔拉滩光伏电站,位于气候干旱的青海共和县,原是一片受风沙威胁并退化严重的草场。电站投入运营后,光伏电池板下的草类等植被得到恢复。植被的恢复,不仅影响到了电池板的发电效率,还带来了火灾隐患,使得电站每年在除草的人力成本和化学药剂等方面需多投入180万元。2016年,电站与当地牧民合作,将电站内的草地作为牧草地加以利用,上千只羊进入电站帮助除草,人们把这些羊称为“光伏羊”。光伏羊进入电站的举措,实现了经济效益、社会效益和生态环境效益的统一。



说明光伏电站建设对干旱区植被恢复的作用,并说出光伏羊进入电站所带来的环境效益。

45.【历史——选修1:历史上重大改革回眸】(15分)

材料 六朝时期,用九品官人法选拔官吏,标准是门第而非学识。隋朝初年,废除了地方长官辟举本地士人担任官吏的陋习,明确规定九品以上地方官一律由尚书省所属吏部进行考核;以后又规定,州县官吏三年一换,不得连任,不许本地人担任本地官吏。与此同时,隋朝设立秀才科、明经科,参加考试的有太学(国子学)、州县学的生徒,也有各州按规定举荐的贡士。考试统一的课程,一律按照才学标准录取;录取和任用权完全掌握在吏部手中。隋炀帝增设了进士科,只考试策论。一般的读书人,都可以通过科举考试进入仕途。

——摘编自樊树志《国史十六讲》

(1)根据材料并结合所学知识,概括隋朝选官制度的特点。(8分)

(2)根据材料并结合所学知识,简析隋朝选官制度改革的作用。(7分)

46.【历史——选修3:20世纪的战争与和平】(15分)

材料 一战后,无止境的军备竞赛使饱尝世界大战苦难的各国人民深感不安,强烈要求裁减军备。各国政府力图通过会议和协定,裁他国军备之长,补本国军备之短。1925年底,国联理事会决定成立裁军筹备委员会,负责草拟裁军公约草案。英、美两国念念不忘裁减法国的陆军;法国主张限制各国建造大型舰只;德国始则要求战胜国裁军,继而以“军备平等”为口号要求重整军备。1930年底,裁军筹备委员会向国联理事会提交了关于限制军备的公约草案,并附有筹委会成员国的49项保留条件。1932年初,世界裁军会议召开,会议给予德国以重新武装的权利,但未能在限制军备公约草案的基础上再前进一步。1934年,由于日本和德国相继退出,世界裁军会议陷入瘫痪和瓦解的境地。

——摘编自王斯德主编《世界通史》

(1)根据材料并结合所学知识,概括一战后出现国际裁军的原因。(8分)

(2)根据材料并结合所学知识,简析国际裁军陷入困境的原因。(7分)

47.【历史——选修4:中外历史人物评说】(15分)

材料 1889年,光绪皇帝亲政,慈禧太后退居颐和园。翁同龢向他们呈交了冯桂芬的《校邠庐抗议》来表达改革思想,他申明,中国的道德准则和伦理教化,仍然必须作为国家根基,其所需的是西方知识的补充,而绝不是被西方知识取代。受其影响,光绪帝1889年开始阅读西方译著,1891年学习英语。中日甲午战争后,深感瓜分危机的翁同龢认识到中国不改革就无以为继。同时,他也看到了通过改革可以从李鸿章和张之洞手中夺取现代化的领导权。因此,他力图赢得皇帝和皇太后两方的支持,以确保自己在

运动中的领导地位。他还向年轻有为的士子和官员寻求支持,康有为便是其中的一位,翁有意使他在场温和变革中成为自己的主要助手,便把他推荐给了皇帝。

——摘编自徐中约《中国近代史》

(1)根据材料并结合所学知识,概括翁同龢力推改革的时代背景。(8分)

(2)根据材料并结合所学知识,简评翁同龢的作为。(7分)

文科综合答题卡

答题卡类型: A

姓名 _____

贴条形码区

准考证号 _____

注意
事项

1. 答题前, 考生务必首先认真核准条形码上的姓名、准考证号, 然后使用0.5毫米的黑色笔迹签字笔将姓名、准考证号填写在相应位置, 并在答题卡背面左上角填写姓名和准考证号末两位。准考证号的每个书写框内只能填写一个阿拉伯数字。要求字体工整、笔迹清晰。填写阿拉伯数字的样例: 0|1|2|3|4|5|6|7|8|9
2. 答选择题时, 必须使用2B铅笔填涂。修改时, 要用橡皮将修改处擦干净。规范填涂样例: ■
3. 答非选择题时, 必须使用0.5毫米的黑色笔迹签字笔书写; 作图题可先用铅笔绘出, 确认后再用0.5毫米的黑色笔迹签字笔描清楚。要求字体工整、笔迹清晰。严格按题号所指示的答题区域作答, 超出答题区域书写的答案无效; 在试题、草稿纸上答题无效。
4. 保持答题卡清洁、完整。严禁折叠, 严禁在答题卡上作任何标记, 严禁使用涂改液、胶带纸和修正带。严禁污染答题卡上的黑色方块。
5. 未按上述要求填写、答题, 影响评分质量, 后果自负。

此栏禁止考生填涂。缺考标记: ■。缺考考生由监考员贴条形码, 并用2B铅笔填涂左边的缺考标记。

选择题 (用2B铅笔填涂)

- | | | | |
|--------------|--------------|--------------|--------------|
| 1 (A B C D) | 6 (A B C D) | 11 (A B C D) | 16 (A B C D) |
| 2 (A B C D) | 7 (A B C D) | 12 (A B C D) | 17 (A B C D) |
| 3 (A B C D) | 8 (A B C D) | 13 (A B C D) | 18 (A B C D) |
| 4 (A B C D) | 9 (A B C D) | 14 (A B C D) | 19 (A B C D) |
| 5 (A B C D) | 10 (A B C D) | 15 (A B C D) | 20 (A B C D) |
| 21 (A B C D) | 26 (A B C D) | 31 (A B C D) | |
| 22 (A B C D) | 27 (A B C D) | 32 (A B C D) | |
| 23 (A B C D) | 28 (A B C D) | 33 (A B C D) | |
| 24 (A B C D) | 29 (A B C D) | 34 (A B C D) | |
| 25 (A B C D) | 30 (A B C D) | 35 (A B C D) | |

非选择题 (用0.5毫米的黑色笔迹签字笔书写)

36. (24分)

(1) (6分)

(2) (8分)

请在各题目的答题区域内作答, 超出答题区域的答案无效

请在各题目的答题区域内作答, 超出答题区域的答案无效

(3) (4分)

(4) (6分)

37. (22分)

(1) (6分)

(2) (4分)

(3) (6分)

(4) (6分)

请在各题目的答题区域内作答, 超出答题区域的答案无效

请在各题目的答题区域内作答, 超出答题区域的答案无效

38. (14分)

39. (12分)

40. (26分)

(1) (10分)

请在各题目的答题区域内作答, 超出答题区域的答案无效

考生姓名 准考证号
必填 姓名 准考证号末两位
考生务必将姓名、准考证号末两位用0.5毫米的黑色笔迹签字笔认真填写在书写框内，准考证号末两位的每个书写框只能填写一个阿拉伯数字。

请在各题目的答题区域内作答，超出答题区域的答案无效

(2) (10分)

(3) (6分)

41. (25分)
(1) (8分)

请在各题目的答题区域内作答，超出答题区域的答案无效

请在各题目的答题区域内作答，超出答题区域的答案无效

(2) (17分)

42. (12分)

请在各题目的答题区域内作答，超出答题区域的答案无效

请在各题目的答题区域内作答，超出答题区域的答案无效

地理选考题

43. 44.

(考生从给出的第43、44两题中任选一题作答。注意：只能做所选定的题目。如果多做，则按所做的第一个题目计分，作答时请用2B铅笔将所选做题号后的方框涂黑。)

地理选做题号 (10分)

历史选考题

45. 46. 47.

(考生从给出的第45、46、47三题中任选一题作答。注意：只能做所选定的题目。如果多做，则按所做的第一个题目计分，作答时请用2B铅笔将所选做题号后的方框涂黑。)

历史选做题号 (15分)

(1)

(2)

请在各题目的答题区域内作答，超出答题区域的答案无效