



山西省 2019 年中考考前适应性训练试题

文科综合 道德与法治

注意事项:

1. 文科综合由历史和道德与法治两部分组成, 满分 150 分, 考试时间 150 分钟。其中道德与法治部分采用开卷考试, 分第 I 卷和第 II 卷, 全卷共 8 页, 满分 75 分, 考试时间 70 分钟。
2. 答卷前, 考生务必将自己的姓名、准考证号填写在本试卷相应的位置。
3. 答案全部在答题卡上完成, 答在本试卷上无效。
4. 考试结束后, 将本试卷和答题卡一并交回。

第 I 卷 选择题 (共 36 分)

一、选择题(在每小题的四个选项中, 只有一项最符合题意, 请选出并在答题卡上将该项涂黑。本大题共有 12 小题, 每小题 3 分, 共 36 分)


1. “三大里程碑”是习近平同志在某次大会上作出的重要论述, 他指出: “建立中国共产党、成立中华人民共和国、推进改革开放和中国特色社会主义事业, 是五四运动以来我国发生的三大历史性事件, 是近代以来实现中华民族伟大复兴的三大里程碑。”
请问此论述出自下面哪次讲话?



A



B



C



D

2. 2019 年 3 月, 全国“两会”如期召开。下面对“两会”认识不正确的是
- ①“两会”是对“中华人民共和国全国人民代表大会”和“中国人民政治协商会议”的统称
 - ②全国人民代表大会代表全国人民统一行使国家权力, 是国家最高权力机关
 - ③人民政协是中国共产党领导的多党合作和政治协商的权力机构
 - ④全国人大及其常委会行使国家立法权, 前者通过的法律通常为基本法律

⑤在政协会议上民主党派通过提交议案, 履行管理国家的职能

⑥宪法和法律赋予政协与人大相同或相似的国家权力

- A. ①④ B. ①②④ C. ③⑥ D. ③⑤⑥

3. 下面是小宇同学对一些概念的认识理解, 其中理解正确的是

- A. 夏丽与迎面走来的同学打招呼, 结果同学不理她, 夏丽一下子郁闷了, 但转念一想: “也许她没有看到我。”心情瞬间就明亮起来。这种调节情绪的方法是转移注意法
- B. 小明这周负责班级纪律登记, 为了能让自己班级本周评上流动红旗, 就把本班迟到的学生都记到其他班级里。这是集体主义的体现
- C. 王叔叔对当地扶贫款的使用情况有诸多疑惑, 于是向有关部门提出查看相关信息的要求。这是在自觉参与政府的民主决策
- D. 小刘同学用新方法解答一道数学题; 小赵同学给家人做了一道新菜。这都是创新改变生活的表现

4. 下列对名言古语的理解正确的个数是

- ①“功崇惟志, 业广惟勤。”告诉我们青春的探索需要自信
- ②“独学而无友, 则孤陋而寡闻。”告诉我们学会学习, 需要掌握科学的学习方法
- ③“人非圣贤, 孰能无过, 过而能改, 善莫大焉!” 告诉我们要学会接纳自己, 接纳自己不满意的部分, 主动改正缺点, 做更好的自己
- ④“向死而生, 反求诸己。”告诉我们因为有死亡的存在, 生命才会显得光芒四射。所以要自强不息, 不畏挫折, 活出自己
- ⑤“勿以恶小而为之, 勿以善小而不为。”这句古语所追求的精神境界是止于至善

- A. 2 个 B. 3 个 C. 4 个 D. 5 个


5. 下面是一组易混概念填空练习: 升入初中, 老师鼓励我们对问题要有自己的见解, 同时还要接纳他人合理、正确的意见, 老师是在培养我们的(); 老师告诉我们要树立底线意识, 触碰道德底线的事情不做, 违反法律的事情坚决不做, 这是()的要求; 通过学习知道, 在社会生活中, 如我们需要基本的安全感、信任感一样, ()是人最基本的精神需求。

请从下面备选词语中选出与上述对应恰当的一项

- | | | |
|-------|-------|-----|
| ①批判思维 | ②行己有耻 | ③情绪 |
| ④独立思维 | ⑤见贤思齐 | ⑥情感 |

- A. ④②⑥ B. ①②⑥ C. ④⑤⑥ D. ④②③

6. 下面是板报组围绕两个主题搜集的六个素材, 请你根据素材推测这两个主题分别是




- A. 尊重他人 换位思考
B. 礼仪待人 平等
C. 诚实守信 正义
D. 遵守规则 公平

7. 下列关于公民基本权利的说法不正确的是

- ①公民的政治权利和自由就是指选举的权利
②广场示威的行为一定违法, 依法上街游行、组织罢工属于公民的政治权利
③财产权涉及依法占有和使用, 获得收益和进行处分
④物质帮助权是公民在年老、疾病或丧失劳动力情况下获得国家物质帮助的权利
⑤基本权利中, 劳动和受教育同时也是公民的基本义务

- A. ①④
B. ①②
C. ③⑤
D. ①③

8. 法制学习小组收集了一些图片来理解法不可违, 请选出下列图片分类正确的一项



- A. ①③⑥和②④⑤
B. ①④⑥和②③⑤
C. ①③④和②⑤⑥
D. ③④⑥和①②⑤

9. 下列对现行宪法相关内容认识不正确的是

- ①我国现行宪法为 1982 年宪法, 并历经 1988 年、1993 年、1999 年、2004 年、2018 年五次修订, 全文包括序言与四章, 共一百三十八条
②自治旗的人民代表大会不属于民族自治地方的自治机关, 没有立法权

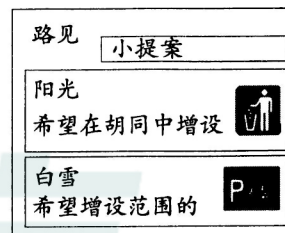
- ③我国检察机关共有 4 级, 分别是最高检察院、高级检察院、中级检察院和基层检察院
④宪法规定村民委员会设人民调解、治安保卫、公共卫生等委员会
⑤我国宪法第 3 章新增第 7 节监察委员会, 对包括村委会从事管理的人员在内的公职人员和有关人员进行监察
⑥我国行政机关共有 5 级, 其中第 5 级是居委会(街道办)

- A. ②④⑤
B. ②③⑥
C. ①②③⑥
D. ①③⑤⑥

10.

我给街道办提意见

“群众家门口的事群众说了算”, 某街道办事处开发了一款手机小程序, 居民有什么意见建议, 都可以在上面畅所欲言, 相关部门可以通过大数据对居民意见实时查看和归类, 为街道规划设计和管理工作提供依据。



右图是来自街道办小程序的一张截屏。你认为正确的理解应该是

- A. 垃圾箱、禁止自行车停放; 激发社区活力, 保障居民决策权有效行使
B. 垃圾箱、自行车停放位置; 创新社区参与途径, 利于满足群众的诉求
C. 垃圾箱、禁止自行车停放; 提供了交流平台, 保证居民有效行使质询权
D. 垃圾箱、自行车停放位置; 扩大了公民义务, 利于意见表达和集中民智
11. 九年级学生小强准备用手机拍摄一部反映农村改革序幕的微视频, 参加学校举办的庆祝改革开放 40 周年大赛。在他构思的镜头中, 你认为合理的一项是
- A. 外景: 村委会门口悬挂着“决胜全面建成小康社会”的红色横幅
B. 内景: 村民挤在村委会观看“中国加入世界贸易组织签字仪式”的电视新闻
C. 近景: 坐在炕头上的村民老王听说“建设美丽乡村”后笑得合不上嘴
D. 特写: 安徽省凤阳县小岗村 18 位农民按下“大包干”红手印的图片
12. 构建人类命运共同体理念的核心内涵是建设持久和平、普遍安全、共同繁荣、开放包容、清洁美丽的世界。下列能体现这一思想的是
- ①2018 年 9 月 3 日, 在中非合作论坛上习近平表示, 未来 3 年和今后一段时间重点实施“八大行动”, 中方决定以政府援助等方式, 向非洲提供 600 亿美元支持
②在纪念第十五个国际反腐败日招待会上, 国家监察委主任杨晓渡发表讲话, 要深入推进全面从严治党和反腐败斗争, 维护联合国权威和《联合国反腐败公约》作为国际反腐败合作的主渠道地位
③2018 年 12 月 8 日 2 时 23 分, 我国在西昌卫星发射中心用长征三号乙运载火箭成功发射嫦娥四号探测器, 开启了月球探测的新旅程
④针对美国总统特朗普当地时间 19 日签署了所谓的“2018 年对等进入西藏法案”, 中国外交部表示, 美方有关法案对中方的指责充满偏见, 中方对此绝不接受
- A. ①②
B. ②③
C. ①③
D. ①②④

三、分析说明题(注意:下面有两道题,请任选一道加以作答,6分)

18. 选做题一

故宫年轻了!

近些年,“故宫年轻了”的印象深入人心。无论是火爆一时的综艺节目《国家宝藏》,还是深受年轻观众喜欢的纪录片《我在故宫修文物》,抑或是“故宫淘宝”上那些妙趣横生的文创产品、故宫微博上那些“萌萌哒”的“段子”。进入网络时代,故宫仿佛开始了“逆生长”,不断以新的方式,走进公众尤其是年轻人的生活。

请谈谈你对上述现象的看法。

答:

选做题二

“一块屏幕”真能改变命运?

近日,一篇《这块屏幕可能改变命运》的报道刷爆朋友圈。报道主要讲成都七中这所名校,通过网络视频直播或录播的方式,将该校的优质教育资源传递到全国多地相对贫困地区的学校,跟随成都七中同步上课。据报道称,16年来,全国共有72000名学生通过这种方式完成高中课程;其中88人考上清华北大,大多数成功考取本科。

对于这种教学模式,你认为是否值得推广?

答:

四、实践探究题(14分)

19.

一场春运期间的旅行

腊月二十八日,家住省城的九年级学生小强很兴奋,正读大学的表哥要接他一起到西安姨妈家过年。小强要让自己这次难得的外出旅行过得充实而有意义。

请你随小强一同旅行,并解决下列问题。

(1)进站检票时,小强发现并没有工作人员。正在疑惑时,表哥笑着说:“这是最新的‘刷脸’进站,只需3秒,再不用人挤人排长队了!”体验完“刷脸”进站的小强,想起了道德与法治教材中介绍的关于中国高铁家族成员“和谐号”和“复兴号”的自主创新成就,禁不住感慨起来。


你认为小强会有哪些感慨?(2分)

答:

(2)站台候车时,旅客都在黄线外等候。小强看到这道黄线,联想到道德与法治以及其他学科知识,他问表哥:“你知道为什么要设定这样的黄线吗?”

请你帮助表哥回答小强的提问。(2分)

答:



(3)列车进站了,小强随着人流有序上车。在寻找座位时,小强看到右图的座位序号,他产生了疑惑。表哥对此大加赞赏。你认为小强产生了怎样的困惑?表哥赞赏小强的原因是什么?(2分)

答:

(4)在旅途中,小强看到右图中这样一幕,很气愤,就通过微信予以曝光,并与大家讨论,你会说些什么呢。(2分)

答:


(5)观察右图,回答下列两个问题:

①你认为这张“座霸”照片是小强拍摄的吗?(1分)


②为什么要对照片中的“座霸”做遮挡处理?(1分)

答:

(6)快到西安北站时,一位南方游客希望小强能帮他推荐沿线的一些景点。以下是小强的推荐,你认为其中符合要求且属于世界文化遗产的有哪些?(写出序号及名称)(2分)




①



②




③



④



⑤



⑥

答:

(7)到站了,小强被出站口人山人海的场面震撼了。

“春运”这一独特中国现象的背后,蕴含的是中华文化中家的深厚意味和丰富内涵。

你认为中国人的“家”有什么意味和内涵?(2分)

答:



“座霸”强占他人座位 乘警规劝无效



道德与法治

第Ⅱ卷 非选择题 (共 39 分)

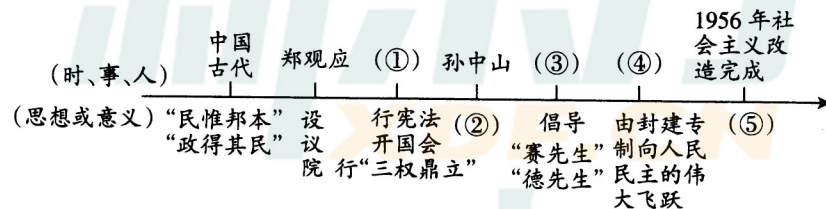
二、简答题(本大题有 5 小题,共 19 分)

13. 填空题。(本题有 2 小题,每空 1 分,共 11 分)

(1) 基础知识填空

- ① 中华人民共和国的国家元首是 ▲。
- ② 我国的最高监察机关是 ▲。
- ③ 社会主义民主政治的本质特征是 ▲。
- ④ ▲ 是现代政治文明的核心,是发展市场经济、实现强国富民的基本保障。
- ⑤ 民法总则规定的从事民事活动的基本原则有平等,自愿,公平, ▲,不得违反法律,不得违背公序良俗,有利于节约资源、保护环境等。
- ⑥ 公民的政治权利和自由包括选举权和被选举权、政治自由和 ▲。

(2) 下图是我国民主发展的简要历程,请将时间数轴上相对应的内容填写完整。



14.

哥哥该不该应聘

朋友圈有这样一则广告:足不出户,不用朝九晚五,每天上网 3 个小时轻松入手 50 块。现招收点击、发帖、发电子邮件的兼职发布人员(俗称网络水军),只要您会上网,就能轻松赚外快,多劳多得,月薪 5000 元不是梦。(注:网络水军即受雇于网络公关公司,为他人发帖回帖造势的网络人员,以注水发帖来获取报酬。)

得知正在找工作的哥哥有意应聘,你会怎样说?(2 分)

答:

15. (注意:下面有两道题,请任选一道加以作答,2 分)

选做题一

下面是小李同学搜集的时代楷模人物事迹展图。

时代楷模——王继才、王仕花夫妇

他们每天在岛上升起五星红旗,监测海上和空中的状况,救济海上脱险职员,记载海防日记。三十余年如一日坚守开山岛,被称为“孤岛夫妻哨”,仅有 3 个春节离开孤岛与家人聚会,把人生最美好的年华献给海防事业。

时代楷模——卓嘎、央宗姐妹

翻过喜马拉雅的崇山峻岭,透过云雾缭绕的日拉雪山,半个世纪以来,在父亲桑杰曲巴的带领下,在全国人口最少的山南市隆子县玉麦乡的一个小村庄,父女三人以放牧为生,守护着数千平方公里的国土。

结合上述两则人物事迹,找出他们身上有哪些值得我们学习的共同点。(2 分)

答:

选做题二

我的手机哪里去了?

上自习时,小周发现自己的手机找不见了,于是态度严肃地问同桌:“你把我的手机藏哪儿了?”同桌很生气地反问:“你凭什么怀疑我?”两人便大声吵起来……

根据上述材料,回答下列问题:

(1) 同学之间的这种冲突可能带来哪些不良后果呢?(1 分)

答:

(2) 出现这种冲突,我们该如何化解呢?(1 分)

答:

16. 质疑质疑吧(注意:下面有两道题,请任选一道加以作答,2 分)

选做题一

2018 年 7 月,国家烟草局制定了创建“文明吸烟环境”的五年行动计划,表示这是当前和未来行业的重点工作。烟草局要大力投资建设吸烟场所,并争取地方配套资金,在 2022 年底,建设范围全面覆盖全国有需求的城市及乡镇。建设吸烟场所,简单说就是室内建吸烟室,室外建吸烟区。

请对此做法,谈谈你的看法。

答:

选做题二



看完这张奖状,你有什么看法?

答:

17. 下面是被媒体用“极度舒适”一词大加赞赏的一则新闻。

政法大学学生维权——学以致用的生动案例!

11 月 15 日,中南财经政法大学旁一酒店发布集赞换代金券免费吃大餐活动,约 400 位学生前来兑换时,酒店却不予兑换。其中很多都是中南财经政法大学法学院的学生,大家积极维权。在该酒店现场,学生报警后,警察及时赶到,并组织学生有序地登记相关情况,整个维权过程中,学生都保持良好的秩序,不打骂,有理有据,只用事实和法律讲话。经警方和消协调解,酒店答应按承诺给券。

你认为大学生维权行为得到媒体赞赏的原因是什么?(2 分)

答:

山西省2019年中考考前适应性训练试题

文科综合（道德与法治）答题卡

姓名 _____ 准考证号 _____

考生禁填 缺考考生，由监考员用2B铅笔填涂下面的缺考标记 缺考标记	注意事项 1. 答题前，考生先将自己的姓名及准考证号填写清楚，并认真核对条形码上的姓名及准考证号。 2. 选择题必须使用2B铅笔填涂；非选择题必须使用0.5毫米的黑色笔迹签字笔书写，字体工整、笔迹清晰。 3. 请按照题号顺序在各题目的答题区域内作答，超出答题区域书写的答案无效；在草稿纸、试卷上答题无效。 4. 保持清洁，不要折叠，不要弄破、弄皱，不准使用涂改液、修正带、刮纸刀。	正确填涂样例
---	---	-------------------



一、选择题

- | | | |
|---|--|--|
| 1 <input type="checkbox"/> A <input type="checkbox"/> B <input type="checkbox"/> C <input type="checkbox"/> D | 6 <input type="checkbox"/> A <input type="checkbox"/> B <input type="checkbox"/> C <input type="checkbox"/> D | 11 <input type="checkbox"/> A <input type="checkbox"/> B <input type="checkbox"/> C <input type="checkbox"/> D |
| 2 <input type="checkbox"/> A <input type="checkbox"/> B <input type="checkbox"/> C <input type="checkbox"/> D | 7 <input type="checkbox"/> A <input type="checkbox"/> B <input type="checkbox"/> C <input type="checkbox"/> D | 12 <input type="checkbox"/> A <input type="checkbox"/> B <input type="checkbox"/> C <input type="checkbox"/> D |
| 3 <input type="checkbox"/> A <input type="checkbox"/> B <input type="checkbox"/> C <input type="checkbox"/> D | 8 <input type="checkbox"/> A <input type="checkbox"/> B <input type="checkbox"/> C <input type="checkbox"/> D | |
| 4 <input type="checkbox"/> A <input type="checkbox"/> B <input type="checkbox"/> C <input type="checkbox"/> D | 9 <input type="checkbox"/> A <input type="checkbox"/> B <input type="checkbox"/> C <input type="checkbox"/> D | |
| 5 <input type="checkbox"/> A <input type="checkbox"/> B <input type="checkbox"/> C <input type="checkbox"/> D | 10 <input type="checkbox"/> A <input type="checkbox"/> B <input type="checkbox"/> C <input type="checkbox"/> D | |

二、简答题

太原市中小学学习中心

13. (1) ① _____ ② _____ ③ _____
 ④ _____ ⑤ _____ ⑥ _____
- (2) ① _____ ② _____ ③ _____
 ④ _____ ⑤ _____

14. _____

15. 选作题

16. 选作题

太原市中小学学习中心

请在各题目的答题区域内作答，超出黑色矩形边框限定区域的答案无效

请在各题目的答题区域内作答,超出黑色矩形边框限定区域的答案无效

17.

新东方
XDF.CN

三、分析说明题(先选择,后作答)

18. 选作题

一对一

太原市中小学学习中心

四、实践探究题

19.(1)

(2)

(3)

(4)

(5) ①

②

(6)

(7)

新东方
XDF.CN

一对一

太原市中小学学习中心

请在各题目的答题区域内作答,超出黑色矩形边框限定区域的答案无效