

山西中考模拟百校联考试卷(二)



晋文源出品, 盗印必究

文科综合

道德与法治

注意事项:

1. 文科综合由历史和道德与法治两部分组成, 满分 150 分, 考试时间 150 分钟。其中道德与法治部分采用开卷考试, 分第 I 卷和第 II 卷, 全卷共 8 页, 满分 75 分, 考试时间 70 分钟。
2. 答卷前, 考生务必将自己的姓名、准考证号填写在本试卷相应的位置。
3. 答案全部在答题卡上完成, 答在本试卷上无效。
4. 考试结束后, 将本试卷和答题卡一并交回。

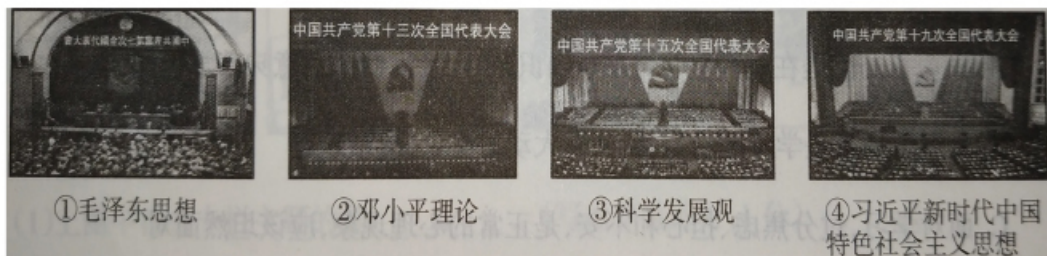
第 I 卷 选择题 (共 36 分)

一、选择题(在每小题的四个选项中, 只有一项最符合题意, 请选出并在答题卡上将该项涂黑。本大题共有 12 小题, 每小题 3 分, 共 36 分)

1. 下列是对改革开放 40 周年庆祝大会上习总书记讲话内容的理解, 正确的一项是
- ① 改革开放是以安徽凤阳县小岗村实行“大包干”开始为标志的
 - ② 改革只有进行时, 没有完成时; 我们开放的大门不会关闭, 只会越开越大
 - ③ 改革开放 40 年来, 我国取得了举世瞩目的伟大成就, 全面建成小康社会的目标已经实现
 - ④ 建立中国共产党、成立中华人民共和国、推进改革开放和中国特色社会主义事业是五四运动以来我国发生的三大历史性事件

- A. ①② B. ②④ C. ①③ D. ③④

2. 下列会议与所确立的党的指导思想对应正确的一项是



- ① 毛泽东思想 ② 邓小平理论 ③ 科学发展观 ④ 习近平新时代中国特色社会主义思想
- A. ①④ B. ②④ C. ①③ D. ②③

3. 下列基础知识的表述, 正确的一项是
- A. 现实常常会把梦想打败, 因此梦想与现实之间是永远无法相交的
 - B. “同学们, 我说明白了吗?” 与 “同学们, 你听明白了吗?” 都体现了师生之间的平等观念
 - C. 青春期身体变化主要表现在三个方面: 反抗与依赖、闭锁与开放、勇敢与怯懦
 - D. 初中生小华携带管制刀具, 屡教不改, 还多次拦截殴打他人, 这属于严重不良行为
4. 小靳看到下面的新闻材料后, 发表了自己的几点看法, 不正确的一组是

新闻节选

——十三届全国人大常委会第七次会议 2018 年 12 月 29 日通过决定, 十三届全国人大二次会议将于 2019 年 3 月 5 日在北京召开。

——十三届全国人大常委会第七次会议 2018 年 12 月 29 日通过决定, 将村委会、居委会的任期由 3 年改为 5 年。

——第十七号国家主席令: 《全国人民代表大会常务委员会关于修改〈中华人民共和国农村土地承包法〉的决定》已由中华人民共和国第十三届全国人民代表大会常务委员会第七次会议于 2018 年 12 月 29 日通过, 现予公布, 自 2019 年 1 月 1 日起施行。

- ① 全国人大常委会是国家的最高权力机关, 拥有最高监督权和立法权
 - ② 上图三则新闻共同体现出全国人大常委会在行使重大事项决定权
 - ③ 村委会、居委会换届选举是我国基层群众自治制度的体现
 - ④ 国家主席不是国家机构, 但它是国家元首, 拥有最高的决定权和任免权
- A. ①③ B. ②④ C. ①④ D. ②③
5. 下列是李叔叔近期的行为表现, 其中依法行使自身基本政治权利的一组是
- ① 早上锻炼身体 30 分钟
 - ② 收到一个中奖信息, 马上到银行汇款兑奖
 - ③ 在影楼拍了一张一寸照片
 - ④ 针对网络谣言现象在微博上进行有力的批评
 - ⑤ 参加“树立总体国家安全观”的宣传教育活动
 - ⑥ 选出了市人大代表
 - ⑦ 拨打“市长热线”反映环境污染问题
 - ⑧ 参加了游行、集会、罢工
 - ⑨ 去社保中心领取了低保金
 - ⑩ 晚上到老年大学学习外语
- A. ①③⑤⑩ B. ④⑥⑦ C. ②④⑨ D. ④⑥⑦⑧

6. 下列三组漫画, 反映的共同主题是



- A. 合作共赢 B. 和平发展 C. 诚信友善 D. 文化差异



扫描二维码
关注考试信息

7. 下面是初中生小李发的朋友圈动态,你认为值得点赞的是

- ①“与人为善,推己及人”让我明白诚实守信是做人的根本原则
- ②“竞争上岗、设置老年人窗口、按顺序排队”都体现了社会的公平正义
- ③心情不好,可以采用做瑜伽这种放松训练的方法来调节情绪
- ④“霸座女”“抢夺公交车司机方向盘的人”真多,就应该判刑
- ⑤某广场搞活动,免费向小学生发放印有商场广告的红领巾,这种创新精神值得学习

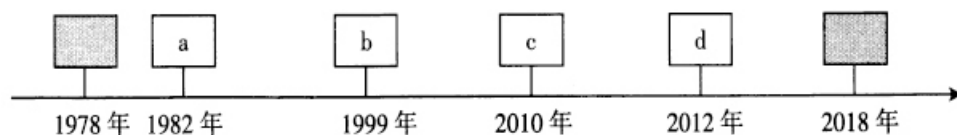
- A. ①③④ B. ②③ C. ①⑤ D. ②④⑤

8. 下列行为涉嫌犯罪的一组是



- A. ①⑤ B. ②⑥ C. ③⑤ D. ①④

9. 改革开放以来,社会主义法治建设取得重大进展。结合所学知识,指出方框内abcd依次应该填写的重要内容是



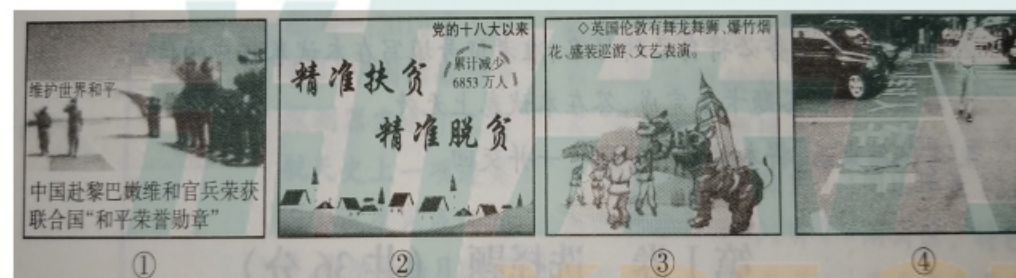
- A. a 颁布实施第一部宪法 b 依法治国载入宪法 c 中国特色社会主义法律体系形成
d 提出依法治国基本方略

- B. a 颁布并实施现行宪法 b 提出依法治国 16 字方针 c 中国特色社会主义法律体系形成 d 第五次修改现行宪法

- C. a 颁布并实施现行宪法 b 依法治国载入宪法 c 第四次修改现行宪法 d 提出建设法治中国的目标

- D. a 颁布并实施现行宪法 b 依法治国载入宪法 c 中国特色社会主义法律体系形成 d 提出全面推进依法治国

10. 下列漫画能体现“中国担当”这一主题的是



- A. ①④ B. ③④ C. ①② D. ②③

11. 下列名言、古语或俗语与对应的解释,有两个不正确,请选出来

- ①“要想了解自己,最好问问别人”——他人评价是认识自己的一面镜子
- ②“友直,友谅,友多闻,益矣”——与正直、诚信和见识广的人交朋友,是有益的
- ③“人生不售来回票,一旦动身,决不能复返”——说明生命是短暂的、独特的
- ④“万物并育而不相害,道并行而不相悖”——告诫我们要学会“相互包容”
- ⑤“驼负千斤,蚁背一粒”——告诉我们承担责任应该不言代价与回报

- A. ①⑤ B. ③⑤ C. ②④ D. ②③

12. “学习”该如何理解呢?小陈同学做出下列回答,正确的一项是

- A. 学习指的就是在校园里学习书本知识,一旦走出校园就意味着学习的终止
- B. 学习压力就是学习的动力,压力越大动力越足,成绩越好
- C. 面对学习,过分焦虑、担心和不安,是正常的心理现象,应该坦然面对
- D. “纸上得来终觉浅,绝知此事要躬行”告诫我们要坚持在实践中学习,实践出真知

道德与法治

第Ⅱ卷 非选择题 (共 39 分)

二、简答题(本大题有 5 小题,共 21 分)

13. (1)基础知识。(每空 1 分,共 7 分)

- ①社会主义民主的本质是 ▲ ;
- ②中华民族精神的核心是 ▲ ;
- ③中华文化的特点是 ▲ ;
- ④战略布局是“四个全面”;总体布局是“ ▲ ”;
- ⑤一般违法与犯罪最大的区别是 ▲ ;
- ⑥公民的基本义务任意写出一条: ▲ ;
- ⑦人权是哪一年写进宪法的: ▲ 。

(2)下列是某教材上的几幅图片,小莲在整理过程中产生了如下几个疑问,请帮她回答:



- A. 图 1 有两个自治区在 2018 年举行了成立 60 周年庆祝活动,你知道是哪两个吗?(1 分)
- B. 图 2 所反映的世界格局还存在吗?为什么?(1 分)
- C. 结合图 3 信息,你能得出什么结论?(1 分)

14. 在 2019 年全国“学雷锋月”到来之际,小明负责主编“向雷锋叔叔学习,践行核心价值观”主题专栏。现在,他准备为专栏配图,在网上和图书馆搜集到如下图片:



- (1)上图中符合专栏主题的是 ▲ 。(写出序号即可,1 分)
- (2)剩余的图片任选一幅,谈谈你的看法。(2 分)
- (3)简要说说小明主编这样的专栏有何意义。(1 分)

15. 省城某初中七年级(6)班召开“畅谈友谊”主题班会,大家畅所欲言,下面我们一起来听听这些声音:

小王:上周我请假两天,功课落下好多,小何帮助我补习,真是我最好的朋友。

小张:我以前的好朋友喜欢在背后说我的坏话,沟通了几次,她也没有改正,现在我已经不再与她来往了!

(1)为什么小王觉得小何是她最好的朋友?(1 分)

(2)你认同小张的做法吗?(1 分)

16. 某校“新闻社团”搜集到以下热点新闻,你感触最深的是哪一条?为什么?(3 分)

新闻一:2019 年 1 月 4 日,中国嫦娥四号探测器完成了人类航天史上一项连美国都没有完成的壮举,成功着陆月球背面,开启了一个人类探索盲区的新大门。

新闻二:就在临近国家公祭日的敏感节点,各地群众通过各种追思纪念活动重温民族痛史之时,有人在网上传布“屠刀之下无冤魂”“钓鱼岛是日本的”等一系列不当言论,日前警方已将其抓捕。

新闻三:2019 年春节期间,全国共接待游客 3.86 亿人次,同比增长 12.1%,实现旅游收入 4750 亿元,同比增长 12.6%。其中,乡村民宿、休闲街区、特色小镇等全域旅游新产品业态备受青睐;自驾游、乡村游、都市游、冰雪游高速增长。旅游市场整体活跃,自驾车出游比例接近 50%,成为家庭出游的主要方式。


17. “质疑批判”是当今学生必备的核心素养之一。

鲧禹治水

鲧是大禹的父亲,曾经治理洪水长达九年,救万民于水火之中,是一个悲剧色彩浓厚的治水英雄。

面对滔滔洪水,大禹从父亲鲧治水的失败中汲取教训,改变了“堵”的办法,对洪水进行疏导,体现出他具有带领人民战胜困难的聪明才智;大禹为了治理洪水,“三过家门而不入”。13 年,耗尽心血与体力,终于完成了治水的大业。

据此,请你对右面图片中的学校行为作出富有批判性的评价。(2 分)



三、分析说明题(注意:下面有两道题,请任选一道加以作答,6分)

18. 选作题 1

电子支付之我看

自 2014 年底“扫码付款”诞生至今,虽然只有 4 年时间,却已经在极大程度上改变了人们以往的消费支付习惯。出门不带现金、只带手机成了很多消费者的常态。就连街边的小贩都支持移动支付,带着现金反而好长时间花不出去。不过,“无现金”真的值得提倡吗? 2018 年 7 月,央行发文部署集中整治拒收现金工作,新零售行业是整治工作的重点。有人认为电子支付挺方便的,避免找零,有时商家会有一些优惠;也有人认为拒收现金的行为损害了一些人的利益。

请谈一谈你对“无现金社会”现象的看法。

选作题 2

经典文学谁做主?

近日,部分出版社再次出版名家文学作品集时,给这些作品重新取了书名。比如,沈从文的《边城》变成了《我明白你会来,所以我等》;鲁迅先生的散文集被命名成《风弹琵琶,凋零了半城烟沙》;李清照的诗集被命名为《哇哦,这个姑娘好有才》……这种以标题吸引眼球的行为在时下成为出版界的一种趋势,在网上引发读者的热议。

假如你不赞成“将名家大师们的经典著作改编成网络小说画风”的行为,你会说些什么?

四、实践探究题(12分)

19.

山西欢迎您

近日,各大网络平台都在推荐《山西姑娘》这首歌,你听了吗? 歌词中提到山西的面、山西的醋、山西的汾酒以及山西众多的历史文化景点,真可谓 3000 年文明看陕西,5000 年文明看山西;地下文明看陕西,地上文明看山西;不少网友表示想来山西看一看。有一个旅游团利用春节放假的时间来到了山西,学校要求小红作为导游全程陪同。

在导游的过程中,小红遇到了下列任务和问题,请你帮助她解决。

(1)根据下图判断该旅行团成员都来自哪里?(任意说出 4 个即可,2分)



(2)

《山西姑娘》

- a 外祖在乔家大院做过账房; b 永和大枣吃了甜心;
c 大峡谷我捉过迷藏; d 长大后五台山我常去敬香;
e 云冈的石窟我也没少去逛; f 沁水小米伴我成长
.....




一路上他们高唱《山西姑娘》,激情高扬,但对上述歌词中的景点或特产具体在哪儿却不清楚,你能帮忙在地图上标出来吗?

(把歌词中的序号大致写在所对应的区域内即可,标对 3 个给 1 分,标对 5 个给 2 分)

(3)下一站,他们要到关帝庙进行祭拜:

A. 游客们从太原南站坐高铁前往运城关帝庙时,准备带下列物品,你觉得不能带的是什么?(写出序号即可)你会怎么说服他们?(2分)



B. 他们对关二爷非常崇拜,对他的精神品质尤为敬佩,你能告诉他们关二爷都有哪些值得我们学习的品质吗?(1分)

(4)游客们又驱车来到红色革命圣地左权麻田八路军总部进行瞻仰,一位外国游客用不太流利的汉语说:“在第二次世界大战期间,能最终打败日本帝国主义的侵略,应该归功于我们国家在日本本土投放的两颗原子弹。”

小红听后,立即进行了反驳,你觉得她会说些什么呢?(2分)

(5)行程的最后,小红带领游客们来到了山西脱贫致富模范村——桃树湾村参观。村长说:“2018 年村委会在乡政府的领导下取得了很大成就,利用上拨扶贫款,不少村民先后建起了自家的养猪场、养鸡场、养羊场,这些集体经济都为村民们插上了致富的翅膀。”

这段材料有 3 处错误,请指出两处。(2分)

(6)行程结束后,小红写出了这次导游的感悟与收获,她会写点什么?(1分)

山西中考模拟百校联考试卷（二）

文科综合（道德与法治）答题卡

姓名 _____ 准考证号

考生禁填
缺考考生，由
监考员用2B铅笔填
涂下面的缺考标记

缺考标记

注意事项
1. 答题前，考生先将自己的姓名及准考证号填写清楚，并认真核对条形码上的姓名及准考证号。
2. 选择题必须使用2B铅笔填涂；非选择题必须使用0.5毫米的黑色笔迹签字笔书写，字体工整、笔迹清晰。
3. 请按照题号顺序在各题目的答题区域内作答，超出答题区域书写的答案无效；在草稿纸、试卷上答题无效。
4. 保持清洁，不要折叠，不要弄破、弄皱，不准使用涂改液、修正带、刮纸刀。

**正确填涂
样例**

贴条形码区

一、选择题

- | | | |
|---|--|--|
| 1 <input type="checkbox"/> A <input type="checkbox"/> B <input type="checkbox"/> C <input type="checkbox"/> D | 6 <input type="checkbox"/> A <input type="checkbox"/> B <input type="checkbox"/> C <input type="checkbox"/> D | 11 <input type="checkbox"/> A <input type="checkbox"/> B <input type="checkbox"/> C <input type="checkbox"/> D |
| 2 <input type="checkbox"/> A <input type="checkbox"/> B <input type="checkbox"/> C <input type="checkbox"/> D | 7 <input type="checkbox"/> A <input type="checkbox"/> B <input type="checkbox"/> C <input type="checkbox"/> D | 12 <input type="checkbox"/> A <input type="checkbox"/> B <input type="checkbox"/> C <input type="checkbox"/> D |
| 3 <input type="checkbox"/> A <input type="checkbox"/> B <input type="checkbox"/> C <input type="checkbox"/> D | 8 <input type="checkbox"/> A <input type="checkbox"/> B <input type="checkbox"/> C <input type="checkbox"/> D | |
| 4 <input type="checkbox"/> A <input type="checkbox"/> B <input type="checkbox"/> C <input type="checkbox"/> D | 9 <input type="checkbox"/> A <input type="checkbox"/> B <input type="checkbox"/> C <input type="checkbox"/> D | |
| 5 <input type="checkbox"/> A <input type="checkbox"/> B <input type="checkbox"/> C <input type="checkbox"/> D | 10 <input type="checkbox"/> A <input type="checkbox"/> B <input type="checkbox"/> C <input type="checkbox"/> D | |

二、简答题

13. (1) ① _____ ② _____ ③ _____
 ④ _____ ⑤ _____ ⑥ _____
 ⑦ _____
- (2) A. _____
 B. _____
 C. _____
14. (1) _____
 (2) _____
 (3) _____
15. (1) _____
 (2) _____
16. _____

请在各题目的答题区域内作答，超出黑色矩形边框限定区域的答案无效

考号：

姓名：

班级：

学校：

请在各题目的答题区域内作答,超出黑色矩形边框限定区域的答案无效

17.

三、分析说明题(先选择,后作答)

18. 选作题

四、实践探究题

19.(1)

(2) (将序号填在图内)



(3) A.

B.

(4)

(5)

(6)

请在各题目的答题区域内作答,超出黑色矩形边框限定区域的答案无效