

太原市 2019 年初中毕业班综合测试(一)

文科综合

(考试时间: 下午 2:30—5:00)

历史

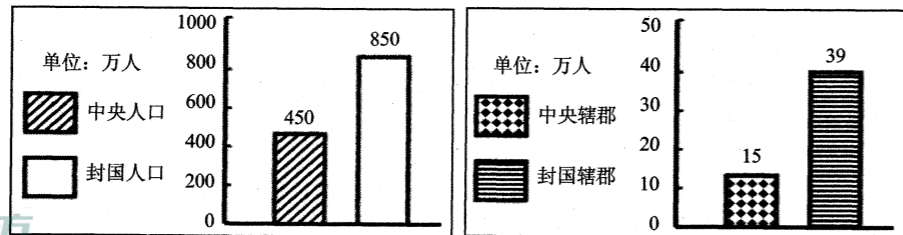
注意事项:

- 1.文科综合由历史和思想品德两部分组成,满分 150 分,考试时间 150 分钟。其中历史部分分第 I 卷和第 II 卷两部分。全卷共 8 页,满分 75 分,考试时间 70 分钟。
2.答题前,考生务必将自己的姓名、准考证号填写在本试卷相应的位置。
3.答案全部在答题卡上完成,答在本试卷上无效。
4.考试结束后,将本试卷和答题卡一并交回。

第 I 卷 选择题(共 30 分)

一、选择题(在每小题的四个选项中,只有一项最符合题意,请选出并在答题卡上将该项涂黑。本大题共 15 个小题,每小题 2 分,共 30 分)

- 1.下面关于我国古代朝代更替的顺序,正确的是
A.三国—>东晋—>西晋—>南北朝 B.三国—>西晋—>东晋—>南北朝
C.西晋—>东晋—>三国—>南北朝 D.西晋—>三国—>东晋—>南北朝
2.根据下面《西汉初期中央和封国力量的对比表》的数据,从中能得出的结论是



- A.诸侯国势力强大,严重威胁着中央王朝 B.西汉初年实行单一的分封制
C.通过创立郡县制加强了对地方的控制 D.西汉初年中央严格控制地方
3.山西现存古戏台近 3000 座,居全国之冠。其中现存 8 座元代戏台全部在山西境内,右图是位于今山西翼城县武池村乔泽庙的元代舞楼,是我国现存最大的元代戏台。据考证,该戏台建于“泰定元年十二月十七日”(公元 1324 年)。由此可得出
A.山西戏剧剧种繁多居全国首位
B.山西因现存戏台数量多成为中国戏曲的发源地
C.这座戏台因有确切的纪年,具有极高的文物价值
D.这座戏台因造形独特,结构复杂,是我国最大的戏台



- 4.“万众一心兮,群山可撼;惟忠与义兮,气冲斗牛……上报天子兮,下救黔首;杀尽倭奴兮,觅个封侯!”与这首豪迈雄壮的《凯歌》有关的人物是
A.岳飞 B.郑成功 C.戚继光 D.文天祥
5.历史漫画能形象直观的反映历史现象。观察下列一组漫画,据此判断,它们反映的共同主题是



- A.中国领土不断遭到割占 B.中国忍辱负重,任由列强摆布
C.中国通商口岸急剧增加 D.中国半殖民地化程度不断加深
6.《全球通史》中写道:“当凡尔赛的调停人没有将这个丢失的省份还给中国时,在北京的学生和知识分子中间爆发了声势浩大的示威游行……这场运动是中国历史上民族感情最强烈、最普遍的表露。”材料中的“这场运动”指的是
A.洋务运动 B.维新变法运动 C.义和团运动 D.五四运动
7.南京,见证了近代中国的沧桑历史,有人形象地说它既是中国近代史的起点,也是中国近代史的终点。对下面四幅图片反映的史实解读正确的是



- 图 1《南京条约》签字 图 2 孙中山与临时参议院在南京合影 图 3 日本在南京递交投降书 图 4 人民解放军占领南京
A.图 1 条约签订,说明清政府沦为西方列强统治中国的工具
B.图 2 现象说明辛亥革命推翻了封建制度,建立了民主政府
C.图 3 场景标志着中华民族摆脱民族压迫实现了完全独立
D.图 4 反映的史实标志着国民党政权在大陆统治的垮台
8.《中华人民共和国发展国民经济的第一个五年计划》中指出,“为克服分散的个体经济的落后性,提高农业生产,必须积极地和有步骤地在自愿互利原则的基础上,把贫农和中农联合起来,发展农业合作化。”这里的“农业合作化”是指
A.1950—1952 年的土地改革
B.1953 年开始的农业社会主义改造
C.1958 年开始的人民公社化运动
D.1978 年开始的家庭联产承包责任制

9.小华同学课外阅读了周扬主编的《影响中国历史的100件大事》一书,下表是她根据该书第八章《中华人民共和国时期的大事》目录编制而成的。你认为横线处应填写的大事是

序号	时间	入选大事	入选理由
92	1949年	中华人民共和国成立	实现了民族独立,开辟了中国历史新纪元
93	1950-1953年	抗美援朝战争胜利	捍卫了朝鲜独立,维护了中国安全
94	1964年	中国第一颗原子弹爆炸成功	打破帝国主义国家的核垄断
95	1971年	_____	中国外交事业的重大胜利
96	1978年	中共十一届三中全会	新中国历史的伟大转折
97	1997年和1999年	香港、澳门回归祖国	是“一国两制”构想的成功实践
98	2001年	加入世界贸易组织	中国改革开放新纪元
99	2003年	成功发射“神舟五号”	实现载人飞天梦
100	2008年	北京成功举办2008年奥运会	百年奥运梦终圆

- A.第26届联合国大会恢复中华人民共和国合法席位
B.中美发表《联合公报》,两国关系开始走向正常化
C.中日两国正式建立外交关系
D.中美两国正式建立外交关系

10.在15世纪后期的欧洲,游记成了畅销书,水手变为最令人羡慕的职业,海外探险是人们津津乐道的事。你认为当时出现这些现象的主要原因是

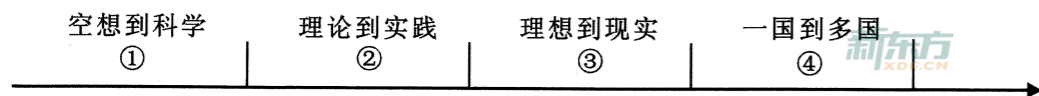
- A.郑和下西洋 B.新航路的开辟 C.火车的发明 D.手工工场的出现

11.“国王必须依法行使权力,无权废除法律,征税需经议会同意,议员有政治活动的自由。”

材料叙述的政治体制是

- A.联邦制 B.君主立宪制
C.三权分立 D.中央集权制

12.习近平总书记在纪念马克思诞辰200周年大会上的讲话中指出:“马克思给我们留下的最有价值,最具影响力的精神财富,就是以他名字命名的科学理论”。下图为马克思主义理论发展示意图,与序号处相对应的叙述,不正确的是



- A.①处《共产党宣言》发表 B.②处英国宪章运动兴起
C.③处俄国十月革命胜利 D.④中国等国走上社会主义道路

13.照片记录了历史瞬间的镜头,为我们研究历史提供了珍贵的影像资料。历史学习小组要办一期“第二次世界大战”的图片史料展览,下列可以入选的有



①萨拉热窝刺杀事件 ②激战后的凡尔登 ③雅尔塔会议 ④诺曼底登陆

- A.①② B.③④ C.①③ D.②④

14.苏联早期的领导人布哈林说:“我们过去认为,我们可以一举消灭市场关系。而实际情况表明,我们恰恰要通过市场关系走向社会主义”。材料中“通过市场关系走向社会主义”指的是

- A.战时共产主义政策 B.苏俄新经济政策
C.斯大林模式 D.赫鲁晓夫改革

15.下列历史史实与历史推论的搭配,正确的是

选项	史实	推论
A	15世纪,欧洲殖民者开始入侵非洲,逐步建立起了在非洲的殖民体系。	标志着非洲完全沦为欧洲国家的殖民地。
B	1936年美国农业收入增加近1倍,工业恢复到1929年水平,国民收入增加了50%。	罗斯福新政取得了显著成效,美国完全摆脱了经济危机。
C	欧盟成员国内部人员、资本和货物可以自由流通,各成员国公民有统一的欧洲护照。	大大加快了欧洲一体化的进程。
D	1955年,在印度尼西亚召开的万隆会议上,中国代表团针对帝国主义国家的破坏,提出了“求同存异”的方针。	标志亚非拉国家冲破世界资本主义殖民体系而独立。

弥 封 线 内 不 要 答 题

二、简答题(本大题共10分)

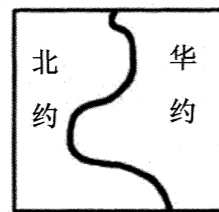
16. 格局通常是指在一定时期内社会处于相对稳定的结构状态。据此,回答下面相关问题。

(1)中华民族多元一体格局是在长期的历史发展过程中,各民族相互依存,休戚与共形成的。根据下表信息,在序号对应空白处填写相应史实。(4分)

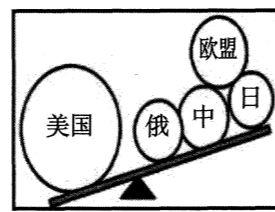
时期	清朝中华民族多元一体格局形成的史实		对中华民族共同体形成的意义 ③
	对内措施	对外斗争	
清朝	西北地区 乾隆:平定大小和卓叛乱 设伊犁将军	东北地区 康熙组织两次雅克萨之战,中俄签订《尼布楚条约》,从法律上规定了黑龙江流域和外兴安岭、库页岛在内的广大地区是中国的领土。	③
	西南地区 顺治:册封五世达赖 康熙:册封五世班禅 雍正:设①_____	东南地区 郑成功从荷兰殖民者手中收复台湾; 1684年,清政府设②_____,巩固东南海防。	

(2)20世纪的世界格局是在各种政治力量的博弈中演进。观察下列图示,回答相关问题。(6分)

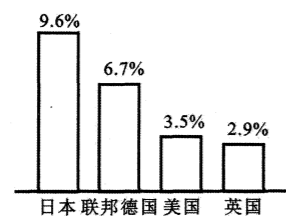
①请分别对图一、图二局势出现的背景,做一简要说明。(4分)



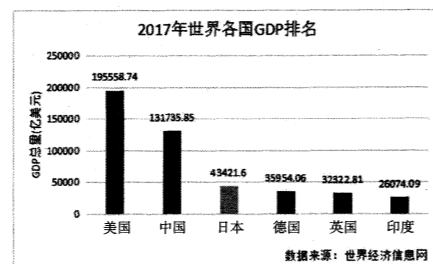
图一



图二



图三 20世纪70年代主要资本主义国家经济增长率



图四 2017年世界各国GDP排名

②图三和图四分别是在上述格局下出现的现象,概括日本、中国经济快速增长的共同原因。(2分)

三、材料解析题(本大题共2小题,每小题10分,共20分)

17. 思想解放是人类文明发展的重要组成部分。阅读下列材料,结合所学知识,回答问题。(10分)

材料一 “仁者爱人”。“为政以德,譬如北辰,居其所而众星拱之。”

——《论语》

“法不阿贵……刑过不避大臣,赏善不遗匹夫”“事在四方,要在中央;圣人执要,四方来效”。

——《韩非子》

(1)根据材料一,简述孔子、韩非子的思想主张对后世王朝的影响。(2分)

材料二

在欧洲历史刚刚进入近代的黎明期,在佛罗伦萨和威尼斯诸城升起的一片灿烂星云,成了中世纪和近代的分水岭。但丁、彼特拉克、薄伽丘等人把形形色色的思想汇聚起来,从而产生崭新的近代文化。

——马克垚主编《世界文明史》(上)

《新青年》喊出的最响亮的口号是“民主”和“科学”……“民主”和“科学”的提出不是偶然的。民主的对立物是专制,科学的对立物是愚昧和迷信,这正是中国几千年封建统治的恶果。

——金冲及著《二十世纪中国史纲》(第一卷)

(2)上述两段材料分别反映的是哪一历史事件? 比较这两个历史事件的共同之处。(4分)

材料三 十月革命帮助了全世界也帮助了中国的先进知识分子,用无产阶级的宇宙观作为观察国家命运的工具,重新考虑自己的问题,走俄国人的路——这就是结论。

——毛泽东《论人民民主专政》(1949.6)

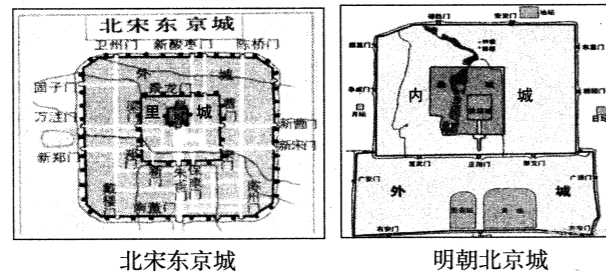
(3)如何理解材料三中,中国要走“俄国人的路”? (2分)

材料四 1978年5月,《光明日报》发表《实践是检验真理的唯一标准》的文章,开始了真理标准问题的大讨论。12月,邓小平作了《解放思想,实事求是,团结一致向前看》的重要讲话,他指出,解放思想,开动脑筋,实事求是,团结一致向前看,首先是解放思想。

(4)材料四中的思想解放是在什么背景下发生的? 在当时产生了怎样的影响? (2分)

18.城市的发展强有力地推动着人类社会的发展。阅读下列材料,结合所学知识,回答问题。(10分)

材料一



材料二 琅城是兴起于法国东北部教会土地上的一个城市,这里是法国毛纺织业中心。12世纪初,为了寻求自由发展,琅城发起集资赎回自治的活动,市民用这笔赎金向主教高德里和法国国王路易六世,一次性赎买了琅城的自治权。然而,当主教把手中的赎金挥霍殆尽之后,便撕毁赎城协议,取消了琅城的自治权。1112年,琅城市民发动起义,市民高呼“公社”“自治”口号……怒杀高德里及其手下的帮凶。1128年,国王路易六世不得不签发“特许”证书,琅城最终赢得了自治。随着城市的发展和工商业的繁荣,市民阶层逐渐形成。

——马世力、陈光玉《一本书读懂世界史》

材料三 工业革命的开始和深入,促使美国历史上城市化的第一次大发展。19世纪20~40年代,美国北部进入了工厂制盛行时期,1831年为801个,1840年增加至1240个;随着工厂制的盛行,农村人口涌向城市,转变为工业劳动力,使城市人口和城市数目迅猛增长。城市数目和城市人口年平均增长率分别为4.9%和5.5%。19世纪30年代以后,美国还出现了修筑公路、铁路和开凿运河的热潮。水路和陆路运输的便利,加强了城市之间和城乡之间的经济联系,并使处于交通枢纽地位的城市和城镇迅速成长。

——杨荣《工业革命对美国城市化的影响》

材料四 《太原市历版城市总体规划》(节选)

年份	城市定位	名城保护
54版	以重工业为主导	未涉及历史文化保护
81版	重工业城市	规划三处名胜景区:天龙山-晋祠景区、崛围山-上兰村景区、双塔寺-南十方景区。
2011版	开始强调省会城市对区域的辐射影响,强化作为省会的基本职能,体现了工业城市向区域性中心城市转变的趋势。	打造“具有世界影响的国家历史文化名城”

- (1)材料一中两个朝代的城市布局体现出的共同政治特点是什么?(2分)
- (2)根据材料二,指出琅城市民获得自治权的方式,并简述城市取得自治权对西欧发展所起的作用。(2分)
- (3)根据材料三,概括工业革命对美国城市化进程影响的表现。(3分)
- (4)根据材料四,分析太原市54版和2011版城市定位的背景。2011版太原市城市规划提出“打造‘具有世界影响的国家历史文化名城’”,你认为提出这一规划的理由可能有哪些?(3分)

四、探究题(本大题共15分)

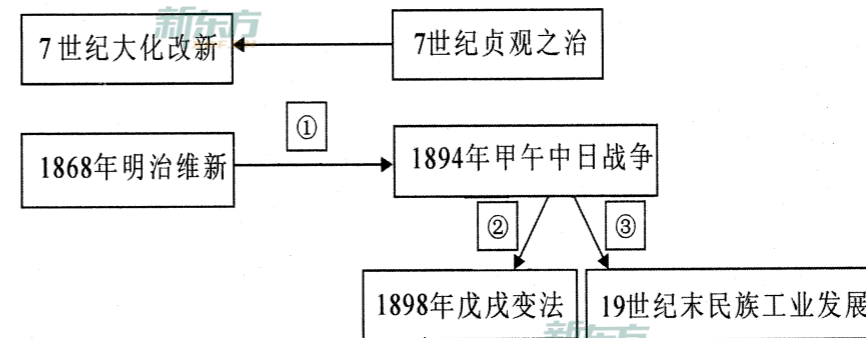
19.一个国家、民族的对外态度对未来的发展至关重要。九年级(1)班同学围绕相关话题设计了下面学习任务单,请你完成相关学习任务。



任务一【实物史料——解读历史信息】(2分)

(1)左边的唐代陶俑图为我们了解唐朝社会状况提供了哪些方面的证据?

任务二【思维导图——进行历史解释】(7分)



- (2)7世纪的大化改新与同一时期的贞观之治有何关系?概括日本的两次改革有何相似之处?(3分)
- (3)简述图示中①②③处箭头所指相关史实之间的内在联系。(4分)

任务三【史料实证——提炼历史观点】(6分)

(4)阅读下列材料,从中提炼一个主题,并围绕这个主题,运用史论结合的方法进行论述。(要求:主题明确,观点鲜明,论证充分。)

资本主义世界市场的形成经历了一个漫长而复杂的过程。15世纪末16世纪初,世界几大文明区域连接起来。19世纪末,随着科技革命的深入,世界被列强瓜分,形成了列强支配的资本主义世界体系,资本主义全球化趋势增强,世界连接成一个整体。“一带一路”作为古丝绸之路的现代复兴,它继承和弘扬了“和平合作、开放包容、互学互鉴、互利共赢”的丝绸之路精神。它是中国全方位开放的结果,是包容性全球化的必然要求,标志着中国从参与全球化到塑造全球化的态势转变。

——王义桅《论“一带一路”的历史超越与传承》

太原市2019年初中学业综合测试（一）

文科综合（历史）答题卡

姓名 _____

准考证号

考生禁填
缺考考生，由
监考员用2B铅笔填
涂下面的缺考标记

缺考标记

注意事项
1.答题前，考生先将自己的姓名及准考证号填写清楚，
并认真核对条形码上的姓名及准考证号。
2.选择题必须使用2B铅笔填涂；非选择题必须使用0.5毫
米的黑色笔迹签字笔书写，字体工整、笔迹清晰。
3.请按照题号顺序在各题目的答题区域内作答，超出答
题区域书写的答案无效；在草稿纸，试卷上答题无效。
4.保持清洁，不要折叠，不要弄破、弄皱，不准使用涂
改液、修正带，刮纸刀。

**正确填涂
样例**

贴条形码区

一、选择题

- | | | |
|-------------------|--------------------|--------------------|
| 1 [A] [B] [C] [D] | 6 [A] [B] [C] [D] | 11 [A] [B] [C] [D] |
| 2 [A] [B] [C] [D] | 7 [A] [B] [C] [D] | 12 [A] [B] [C] [D] |
| 3 [A] [B] [C] [D] | 8 [A] [B] [C] [D] | 13 [A] [B] [C] [D] |
| 4 [A] [B] [C] [D] | 9 [A] [B] [C] [D] | 14 [A] [B] [C] [D] |
| 5 [A] [B] [C] [D] | 10 [A] [B] [C] [D] | 15 [A] [B] [C] [D] |

二、简答题

16. (1) ① _____ ② _____

③ _____

(2) ① _____

② _____

三、材料解析题

17. (1) _____

(2) _____

(3) _____

(4) _____

请在各题目的答题区域内作答，超出黑色矩形边框限定区域的答案无效。

请在各题目的答题区域内作答，超出黑色矩形边框限定区域的答案无效。

18. (1) _____

(2) _____

(3) _____

(4) _____

四、探究题

19. (1) _____

(2) _____

(3) _____

(4) _____

请在各题目的答题区域内作答，超出黑色矩形边框限定区域的答案无效。