

太原市 2019 年初中毕业班综合测试 (一)

文科综合

(考试时间: 下午 2: 30-5: 00)

历史

注意事项:

1. 文科综合由历史和思想品德两部分组成, 满分 150 分, 考试时间 150 分钟。其中历史部分分第 I 卷和第 II 卷。全卷共 6 页, 满分 75 分, 考试时间 70 分钟。
2. 答卷前, 考生务必将自己的姓名、准考证号填写在本试卷相应的位置。
3. 答案全部在答题卡上完成, 答在本试卷上无效。
4. 考试结束后, 将本试卷和答题卡一并交回。

第 I 卷 (选择题, 共 30 分)

一、选择题 (本大题共 15 小题, 每小题 2 分, 共 30 分。在每小题的四个选项中, 只有一项最符合题意, 请选出并在答题卡上将该项涂黑)

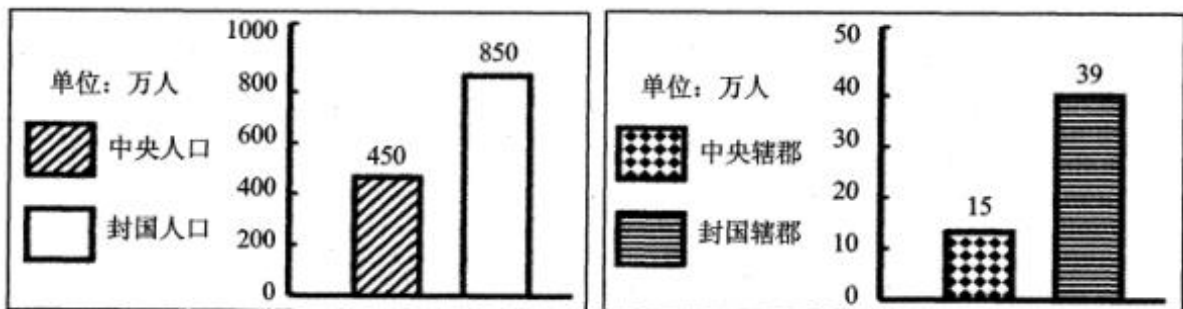
1. 下面关于我国古代朝代更替的顺序, 正确的是

- | | |
|--------------------|--------------------|
| A. 三国——东晋——西晋——南北朝 | B. 三国——西晋——东晋——南北朝 |
| C. 西晋——东晋——三国——南北朝 | D. 西晋——三国——东晋——南北朝 |

【答案】B

【解析】本题考查三国两晋南北朝时期的史实。难度不大, 把各个朝代先后顺序弄清楚就可以了, 因此答案为 B。

2. 根据下面《西汉初期中央和封国力量的对比表》的数据, 从中能得出的结论是



- | | |
|-----------------------|-----------------|
| A. 诸侯国势力强大, 严重威胁着中央王朝 | B. 西汉初年实行单一的分封制 |
| C. 通过创立郡县制加强了对地方的控制 | D. 西汉初年中央严格控制地方 |

【答案】A

【解析】本题考查郡国并行制。由图片信息可知, 地方人口数量高于中央, 地方封国辖郡多于中央辖郡, 说明地方诸侯国势力强大, 严重威胁到中央王朝的统治。因此答案选 A。

3. 山西现存古戏台近 3000 座, 居全国之冠。其中现存 8 座元代戏台全部在山西境内, 右图是位于今山西翼城县武池村乔泽庙的元代舞楼, 是我国现存最大的元代戏台。据考证, 该戏台建于“泰定元年十二月十七日”(公元 1324 年)。

由此可得出

- A.山西戏剧剧种繁多居全国首位
- B.山西因现存戏台数量多成为中国戏曲的发源地
- C.这座戏台因有确切的纪年，具有极高的文物价值
- D.这座戏台因造形独特，结构复杂，是我国最大的戏台

【答案】C

【解析】本题属于根据材料作答和山西地方史的题。根据材料可知山西古戏台现存数量是全国之冠，但不是戏曲种类居全国之冠，所以A排除。材料里没有提到山西是否是戏曲的起源地，故B排除。材料里提到是现存元代的最大戏台，而不是全国现存的最大戏台，故排除D。所以本题选C。

4.“万众一心兮，群山可撼；惟忠与义兮，气冲斗牛……上报天子兮，下救黔首；杀尽倭奴兮，觅个封侯！”与这首豪迈雄壮的《凯歌》有关的人物是

- A.岳飞
- B.郑成功
- C.戚继光
- D.文天祥

【答案】C

【解析】根据材料杀尽倭奴，可知是戚继光抗倭，所以选C。

5.历史漫画能形象直观的反映历史现象。观察下列一组漫画，据此判断，它们反映的共同主题是



清政府就像木偶一样被摆布



- A.中国领土不断遭到割占
- B.中国忍辱负重，任由列强摆布
- C.中国通商口岸急剧增加
- D.中国半殖民地化程度不断加深

【答案】D

【解析】本题考查了八年级上册·中国近代史的相关知识点，图为鸦片战争、甲午战争及八国联军侵华战争。八国联军侵华没有割地，排除A；中国未“忍辱负重”，排除B；通商口岸未“急剧”增加，排除C。故选D。

6.《全球通史》中写道：“当凡尔赛的调停人没有将这个丢失的省份还给中国时，在北京的学生和知识分子中间爆发了声势浩大的示威游行……这场运动是中国历史上民族感情最强烈、最普遍的表露。”材料中的“这场运动”指的是

- A.洋务运动
- B.维新变法运动
- C.义和团运动
- D.五四运动

【答案】D

【解析】本题考查了五四运动的相关知识点。由“凡尔赛会议没有将中国丢失的省份还给中国”“北京的知识分子和学生爆发了示威游行”可知答案为五四运动。

7.南京，见证了近代中国的沧桑历史，有人形象地说它既是近代史的起点，也是近代史的终点。对下面四幅图片反映的史实解读正确的是



图 1《南京条约》签字 图 2 孙中山与临时参议员在南京合影 图 3 日本在南京递交投降书 图 4 人民解放军占领南京

- A.图 1 条约签订，说明清政府沦为西方列强统治中国的工具
- B.图 2 现象说明辛亥革命推翻了封建制度，建立了民主政府
- C.图 3 场景标志着中华民族摆脱民族压迫实现了完全独立
- D.图 4 反映的史实标志着国民党政权在大陆统治的垮台

【答案】D

【解析】本题是一道图片题。图片的介绍或图片本身的文字是此类图片的解题关键，本题的题干已经给出坐标是考南京，图片是对每一个南京历史时间的介绍，根据所学知识，判断选项的正确与否即可，故选 D。

8.《中华人民共和国发展国民经济的第一个五年计划》中指出，“为克服分散的个体经济的落后性，提高农业生产，必须积极地和有步骤地在自愿互利原则的基础上，把贫农和中农联合起来，发展农业合作化。”这里的“农业合作化”是指

- A.1950—1952 年的土地改革
- B.1953 年开始的农业社会主义改造
- C.1958 年开始的人民公社化运动
- D.1978 年开始的家庭联产承包责任制

【答案】B

【解析】本题考查的是新中国社会主义建设时期的历史，由题中的材料可以看出考查的是对农业的集体化改造，结合所学知识可知，这一事件应是 1953 年开始的三大改造。故选 B 项。

9.小华同学课外阅读了周扬主编的《影响中国历史的 100 件大事》一书，下表是她根据该书第八章《中华人民共和国时期的大事》目录编制而成的。你认为横线处应填写的大事是

序号	时间	入选大事	入选理由
92	1949 年	中华人民共和国成立	实现了民族独立，开辟了中国历史新纪元
93	1950—1953 年	抗美援朝战争胜利	捍卫了朝鲜独立，维护了中国安全
94	1964 年	中国第一颗原子弹爆炸成功	打破帝国主义国家的核垄断
95	1971 年	_____	中国外交事业的重大胜利
96	1978 年	中共十一届三中全会	新中国历史的伟大转折
97	1997 年和 1999 年	香港、澳门回归祖国	是“一国两制”构想的成功实践
98	2001 年	加入世界贸易组织	中国改革开放新纪元
99	2003 年	成功发射“神舟五号”	实现载人飞天梦
100	2008 年	北京成功举办 2008 年奥运会	百年奥运梦终圆

- A.第 26 届联合国大会恢复中华人民共和国合法席位
- B.中美发表《联合公报》，两国关系开始走向正常化
- C.中日两国正式建立外交关系
- D.中美两国正式建立外交关系

【答案】A

【解析】从时间 1971 年可以看出是中国恢复联合国合法席位。中美联合公报是与中日建交是 1972 年，中美建交是 1979 年。故选 A。

10.在 15 世纪后期的欧洲，游记成了畅销书，水手变为最令人羡慕的职业，海外探险是人们津津乐道的事。你认为当时出现这些现象的主要原因是

- A.郑和下西洋
- B.新航路的开辟
- C.火车的发明
- D.手工工场的出现

【答案】B

【解析】从材料中 15 世纪后期，欧洲，海外探险可以推出答案为新航路开辟。郑和下西洋为中国。火车发明为 19 世纪。手工工场出现与海外探险无关。故选 B。

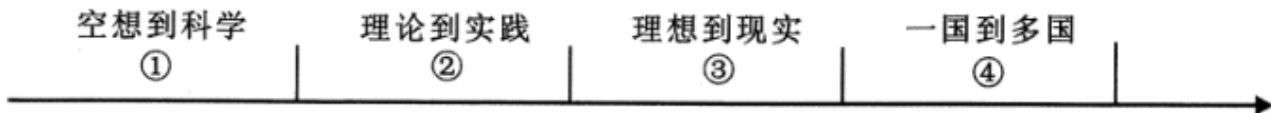
11.“国王必须依法行使权力，无权废除法律，征税需经议会同意，议员有政治活动的自由。”材料叙述的政治体制是

- A.联邦制
- B.君主立宪制
- C.三权分立
- D.中央集权制

【答案】B

【解析】本题考察资本主义国家民主政体，材料中提到了国王的权利被制约，这是典型的君主立宪制，故选择 B。

12.习近平总书记在纪念马克思诞辰 200 周年大会上的讲话中指出：“马克思给我们留下的最有价值，最具影响力的精神财富，就是以他名字命名的科学理论”。下图为马克思主义理论发展示意图，与序号处相对应的叙述，不正确的是



- A.①处《共产党宣言》发表
- B.②处英国宪章运动兴起
- C.③处俄国十月革命胜利
- D.④处中国等国走上社会主义道路

【答案】B

【解析】本题考察马克思主义精神的传播，马克思主义从理论到实践是巴黎公社运动的开展，故 B 错误，宪章运动推动了马克思主义思想的产生。

13.照片记录了历史瞬间的镜头，为我们研究历史提供了珍贵的影像资料。历史学习小组要办一期“第二次世界大战”的图片史料展览，下列可以入选的有



①萨拉热窝刺杀事件



②激战后的凡尔登



③雅尔塔会议



④诺曼底登陆

A.①②

B.③④

C.①③

D.②④

【答案】B
【考点】 本题考查的是第二次世界大战，组合选项题可用排除法解答。

【解析】 萨拉热窝刺杀事件是第一次世界大战的导火线，②凡尔登激战是第一次世界大战的重要战役，它们与第二次世界大战无关，据此可排除含①②的ACD三个选项，所以B选项是正确的。

14. 苏联早期的领导人布哈林说：“我们过去认为，我们可以一举消灭市场关系。而实际情况表明，我们恰恰要通过市场关系走向社会主义”。材料中“通过市场关系走向社会主义”指的是

A. 战时共产主义政策

B. 苏俄新经济政策

C. 斯大林模式

D. 赫鲁晓夫改革

【答案】B
【考点】 本题考查新经济政策。

【解析】 结合所学知识分析，战后的苏俄继续实行战时共产主义政策导致了严重的经济、政治危机，因此，1921年开始实行新经济政策，向社会主义过渡。它允许多种经济成分并存，大力发展商品经济，利用资本主义的资本和生产方式促进国民经济的恢复和发展。故本题正确答案为B。

15. 下列历史史实与历史推论的搭配，正确的是

选项	史实	推论
A	15世纪，欧洲殖民者开始入侵非洲，逐步建立起了在非洲的殖民体系。	标志着非洲完全沦为欧洲国家的殖民地。
B	1936年美国农业收入增加近1倍，工业恢复到1929年水平，国民收入增加了50%。	罗斯福新政取得了显著成效，美国完全摆脱了经济危机。
C	欧盟成员国内部人员、资本和货物可以自由流通，各成员国公民有统一的欧洲护照。	大大加快了欧洲一体化的进程。
D	1955年，在印度尼西亚召开的万隆会议上，中国代表团针对帝国主义国家的破坏，提出了“求同存异”的方针。	标志亚非拉国家冲破世界资本主义殖民体系而独立。

【答案】C
【考点】 本题主要考查史实与推论相关知识。

【解析】 A选项，15世纪欧洲殖民者入侵非洲，是逐步建立殖民体系，“完全程度性词，绝对化，排除。

B. 1936年美国农业收入增加近1倍，工业恢复到1929年水平，国民收入增加了50%，说明罗斯福新政取得了显著成效，但是并没有完全摆脱经济危机，只是缓和了经济危机，所以排除。

C. 欧盟成员国内部人员、资本和货物可以自由流通，各成员国公民有统一的欧洲护照，体现的是经济方面合作的加深，故C错误。

D. 万隆会议召开时还未完全冲破世界资本主义殖民体系。

第 II 卷 (非选择题, 共 45 分)

二、简答题 (本大题共 10 分)

16. 格局通常是指在一定时期内社会处于相对稳定的结构状态。据此, 回答下面相关问题。

(1) 中华民族多元一体格局是在长期的历史发展过程中, 各民族相互依存, 休戚与共形成的。根据下表信息, 在序号对应空白处填写相应史实。(4 分)

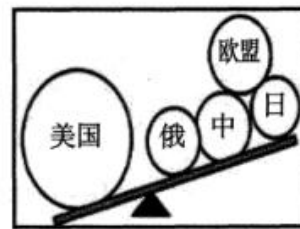
时期	清朝中华民族多元一体格局形成的史实		对中华民族共同体形成的意义
	对内措施	对外斗争	
清朝	西北地区 乾隆: 平定大小和卓叛乱 设伊犁将军	东北地区 康熙组织两次雅克萨之战, 中俄签订《尼布楚条约》, 从法律上规定了黑龙江流域和外兴安岭、库页岛在内的广大地区是中国的领土。	③
	西南地区 顺治: 册封五世达赖 康熙: 册封五世班禅 雍正: 设①_____	东南地区 郑成功从荷兰殖民者手中收复台湾; 1684 年, 清政府设②_____, 巩固东南海防。	

(2) 20 世纪的世界格局是在各种政治力量的博弈中演进。观察下列图示, 回答相关问题。(6 分)

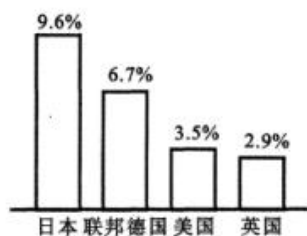
①请分别对图一、图二局势出现的背景, 做一简要说明。(4 分)



图一



图二



图三 20世纪70年代主要资本主义国家经济增长率



图四 2017年世界各国GDP排名

②图三和图四分别是在上述格局下出现的现象, 概括日本、中国经济快速增长的共同原因。(2 分)

【答案】

(1) ①驻藏大臣(1分) ②台湾府(1分) ③意义：促进了民族融合与民族团结；加强了各地间的经济文化交流，使得各民族共同进步和发展；使中华民族的民族认同感各文化认同感不断强化，从而使统一成为历史主流。(答出符合上述意思的任意一点可得1分，共2分)

(2) 图一：第二次世界大战后，美国成为世界上军事、经济实力最强大的国家，称霸世界的野心日益膨胀，二战后强大起来的社会主义国家苏联成为美国实现野心的障碍，为了遏制苏联为首的社会主义阵营，美国出台冷战政策，在军事上成立了北大西洋公约组织；(1分) 面对美国的冷战攻势，为了对抗北约，苏联和东欧社会主义国家成立华沙条约组织。(1分)

图二：苏联解体后，美国成为世界唯一超级大国，并企图凭借强大的经济、军事和科技力量，建立一个以美国为主导的“单级世界”；(1分) 但是，欧盟、日本、中国和俄罗斯等一些具备较强综合实力的国家联盟或国家也在国际事务中发挥着重要作用，推动世界朝着多极化方向发展，于是暂时出现了“一超多强”的局面。(1分)

(3) 共同原因：都是在相对稳定的世界格局出现后，有相对稳定和平的环境为前提；都有政府恰当的政策；都重视科学技术等。

评分说明：答出符合上述意思的任意一点可得1分，共2分。

【解析】第一问考查学生对清代民族关系的掌握情况。第二问根据图一中北约、华约可知该题考查冷战相关内容，根据所学可知第二次世界大战后，美国成为世界上军事、经济实力最强大的国家，为了遏制苏联为首的社会主义阵营，在军事上成立了北大西洋公约组织；为了对抗北约，苏联和东欧社会主义国家成立华沙条约组织。图二根据美国与俄、日、中、欧盟分别在平衡两侧，可知该图考查“一超多强”相关内容。第三问考查学生战后中日经济发展原因，根据所学即可得出答案。

【考点】本题考查学生清代民族关系与战后世界政治格局的演变与经济发展。同时考查学生基础知识的掌握与漫画类、图标类答题方法。

三、材料解析题 (本大题共2小题，每小题10分，共20分)

17. 思想解放是人类文明发展的重要组成部分。阅读下列材料，结合所学知识，回答问题。(10分)

材料一 “仁者爱人”。“为政以德，譬如北辰。居其所而众星拱之。”

——《论语》

“法不阿贵……刑过不避大臣，赏善不遗匹夫”“事在四方，要在中央；圣人执要，四方来效”。

——《韩非子》

(1) 根据材料一，简述孔子、韩非子的思想主张对后世王朝的影响。(2分)

材料二

在欧洲历史刚刚进入近代的黎明期，在佛罗伦萨和威尼斯诸城升起的一片灿烂星云，成了中世纪和近代的分水岭。但丁、彼特拉克、薄伽丘等人把形形色色的思想汇聚起来，从而产生崭新的近代文化。

——马克垚主编《世界文明史》(上)

《新青年》喊出的最响亮的口号是“民主”和“科学”……“民主”和“科学”的提出不是偶然的。民主的对立物是专制，科学的对立物是愚昧和迷信，这正是中国几千年封建统治的恶果。

——金冲及著《二十世纪中国史纲》(第一卷)

(2) 上述两段材料分别反映的是哪一历史事件？比较这两个历史事件的共同之处。(4分)

材料三 十月革命帮助了全世界也帮助了中国的先进知识分子，用无产阶级的宇宙观作为观察国家命运的工具，重

新考虑自己的问题，走俄国人的路——这就是结论。

——毛泽东《论人民民主专政》(1949.6)

(3) 如何理解材料三中，中国要走“俄国人的路”？ (2分)

材料四 1978年5月，《光明日报》发表《实践是检验真理的唯一标准》的文章，开始了真理标准问题的大讨论。12月，邓小平作了《解放思想，实事求是，团结一致向前看》的重要讲话，他指出，解放思想，开动脑筋，实事求是，团结一致向前看，首先是解放思想。

(4) 材料四中的思想解放是在什么背景下发生的？在当时产生了怎样的影响？ (2分)

【答案与解析】

(1) 孔子：主张“仁”的学说，“为政以德”等思想主张；影响：汉武帝“罢黜百家，独尊儒术”后，儒学成为以后各个朝代的治国思想，成为两千年封建社会的正统思想。(1分)

韩非子：主张改革、法治，建立君主专制中央集权集权的封建国家；影响：秦始皇统一全国后，建立起专制主义中央集权制度，对后世产生甚远影响。(1分)

分析：本题考察先秦时期百家争鸣的代表人物、具体思想及影响。

(2) 文艺复兴(1分)，新文化运动(1分)

相同点：都发生社会转型时期；都反对封建统治；都提倡自由、平等；都是资产阶级领导的，都是资产阶级性质的思想解放运动；都解放了思想，促进了社会进步等。(答出上述任意两点得2分)

分析：本题考察的是文艺复兴和新文化运动的具体知识，需要对两个事件的影响进行比较。

(3) 当时的中国，在经历了资产阶级领导的近代化探索失败的情况下，俄国十月革命给中国送来了马克思主义，给中国带来了新世纪的曙光(1分)；随着马克思主义在新文化运动、五四运动中的传播，中国无产阶级以马克思主义为理论指导，在中国共产党领导下，领导中国人民取得了新民主主义革命的胜利，马克思主义与中国革命实践相结合。(1分)

分析：本题考察的是中国新民主主义革命与俄国革命，马克思主义的关系。

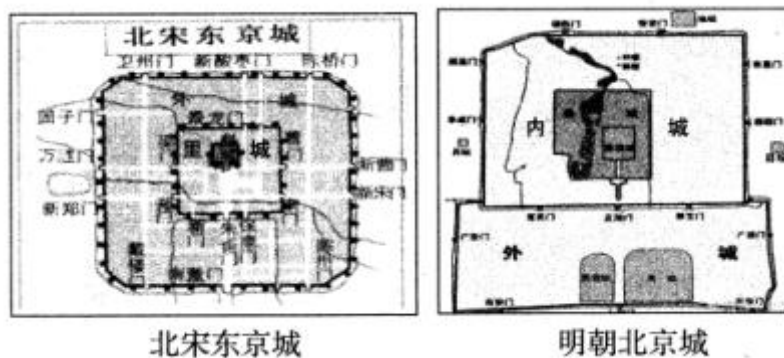
(4) 背景：“文革”结束后，党的指导思想上仍然是“左”倾错误，于是思想界展开了一场真理标准问题的大讨论(1分)；

影响：真理标准问题大讨论，使人们认识到实践是检验真理的唯一标准，把人们思想从“左”倾错误中解放出来，为十一届三中全会的召开奠定思想基础等。(1分)

分析：本题考察的是十一届三中全会召开的背景和影响。

18.城市的发展强有力地推动着人类社会的发展。阅读下列材料，结合所学知识，回答问题。(10分)

材料一



材料二 琅城是兴起于法国东北部教会土地上的一个城市，这里是法国毛纺织业中心。12世纪初，为了寻求自由发展，琅城发起集资赎回自治的活动，市民用这笔赎金向主教高德里和法国国王路易六世，一次性赎买了琅城的自

治权。然而，当主教把手中的赎金挥霍殆尽之后，便撕毁赎城协约，取消了琅城的自治权。1112年，琅城市民发动起义，市民高呼“公社”“自治”口号……怒杀高德里及其手下的帮凶。1128年，国王路易六世不得不签发“特许”证书，琅城最终赢得了自治。随着城市的发展和工商业的繁荣，市民阶层逐渐形成。

——马世力、陈光玉《一本书读懂世界史》

材料三 工业革命的开始和深入，促使美国历史上城市化的第一次大发展。19世纪20-40年代，美国北部进入了工厂制盛行时期，1831年为801个，1840年增加至1240个；随着工厂制的盛行，农村人口涌向城市，转变为工业劳动力，使城市人口和城市数目迅猛增长。城市数目和城市人口年平均增长率分别为4.9%和5.5%。19世纪30年代以后，美国还出现了修筑公路、铁路和开凿运河的热潮。水路和陆路运输的便利，加强了城市之间和城乡之间的经济联系，并使处于交通枢纽地位的城市和城镇迅速成长。

——杨荣《工业革命对美国城市化的影响》

材料四《太原市历版城市总体规划》(节选)

年份	城市定位	名城保护
54版	以重工业为主导	未涉及历史文化保护
81版	重工业城市	规划三处名胜景区：天龙山-晋祠景区、崛围山-上兰村景区、双塔寺-南十方景区。
2011版	开始强调省会城市对区域的辐射影响，强化作为省会的基本职能，体现了工业城市向区域性中心城市转变的趋势。	打造“具有世界影响的国家历史文化名城”

- (1) 材料一中两个朝代的城市布局体现出的共同政治特点是什么？(2分)
- (2) 根据材料二，指出琅城市民获得自治权的方式，并简述城市取得自治权对西欧发展所起的作用。(2分)
- (3) 根据材料三，概括工业革命对美国城市化进程影响的表现。(3分)
- (4) 根据材料四，分析太原市54版和2011版城市定位的背景。2011版太原市城市规划提出“打造‘具有世界影响的国家历史文化名城’”，你认为提出这一规划的理由可能有哪些？(3分)

【答案】

- (1) 皇城和宫城是国家政治权力所在地，位于城市中心；(1分)体现了皇权的至高无上和中央集权。(1分)
- (2) 金钱赎买和武力斗争(1分)作用：城市取得自治权，城市资本主义工商业发展和繁荣，市民阶层逐渐形成；分化出早期的资产阶级，为资本主义产生创造了条件。(1分)
- (3) 城市工厂制盛行；城市人口增加，工人阶级力量壮大；促进了交通运输业的发展，加强了经济联系；位于交通要道的城市规模逐渐扩大等。
- (4) 1954年，中国正处于一五计划期间，太原定位在重工业城市为主导；(1分)
2011版，经过改革开放的探索，太原经济获得发展，90年代成为首批内陆开放城市，作为省会城市对周边的带动作用得到重视，单纯重工业定位已不适合新时期发展需要。(1分)
理由：太原建城2500多年；晋祠是纪念晋国第一代诸侯唐叔虞而建；战国开始，赵魏韩三家分晋，太原属赵国；唐朝李渊父子从太原起兵；唐代名臣狄仁杰等。(从太原的历史、名胜、名人、历史地位等角度回答言之有理即可得1分。)

【解析】

- (1) 材料一考察中国古代政治中皇权不断加强知识点与经济建筑的影响，由材料可知两个建筑的形态为皇城宫城居于中心，体现皇权的至高无上与皇帝独尊。
- (2) 材料二考察西欧城市自治运动与资本主义萌芽的产生，材料分析得出斗争方式为赎买和斗争，作用从对工商业经济的发展与阶级方面进行分析。
- (3) 材料三考察工业革命的影响。
- (4) 材料四考察中国特色社会主义建设道路的探索与中国特色社会主义经济建设与发展。开放性试题言之有理即可。

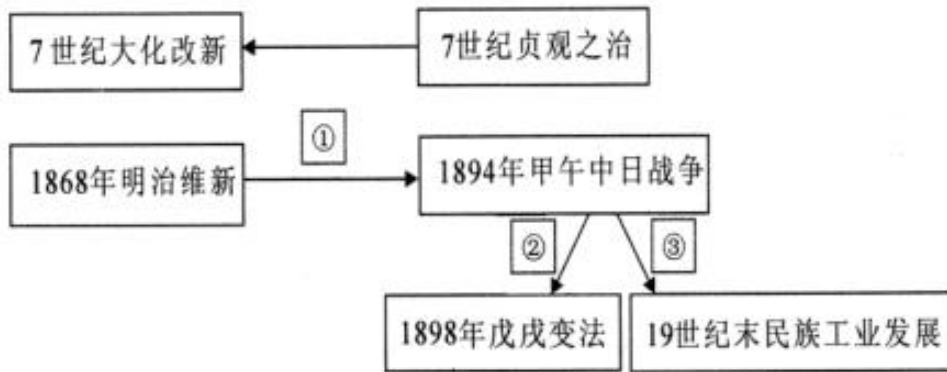
可得分。

四、探究题（本大题共 15 分）

19. 一个国家、民族的对外态度对未来的发展至关重要。九年级（1）班同学围绕相关话题设计了下面学习任务单，请你完成相关学习任务。

			<p>任务一【实物史料——解读历史信息】(2分) (1)左边的唐代陶俑图为我们了解唐朝社会状况提供了哪些方面的证据？</p>
<p>女子骑马雕塑</p>	<p>唐非洲黑人俑</p>	<p>唐三彩骑驼乐舞俑</p>	

任务二【思维导图——进行历史解释】(7分)



(2)7 世纪的大化改新与同一时期的贞观之治有何关系？概括日本的两次改革有何相似之处？（3分）

(3)简述图示中①②③处箭头所指相关史实之间的内在联系。（4分）

任务三【史料实证——提炼历史观点】(6分)

(4)阅读下列材料,从中提炼一个主题,并围绕这个主题,运用史论结合的方法进行论述。(要求:主题明确,观点鲜明,论证充分。)

资本主义世界市场的形成经历了一个漫长而复杂的过程。15 世纪末 16 世纪初,世界几大文明区域连接起来。19 世纪末,随着科技革命的深入,世界被列强瓜分,形成了列强支配的资本主义世界体系,资本主义全球化趋势增强,世界连接成一个整体。

“一带一路”作为古丝绸之路的现代复兴,它继承和弘扬了“和平合作、开放包容、互学互鉴、互利共赢”的丝绸之路精神。它是中国全方位开放的结果,是包容性全球化的必然要求,标志着中国从参与全球化到塑造全球化的态势转变。

——王义桅《论“一带一路”的历史超越与传承》

【答案与解析】

(1) (1) 反映了唐朝开放豪迈的社会风气；对外交往的活跃；民族交往频繁；唐代音乐艺术交流；以及陶瓷技术水平的高超。(答出符合意思的一点得 1 分，共 2 分)

(2) 日本大化改新是受中国唐朝先进的制度、文化等的影响，向中国学习的背景下进行的。(1 分) 相同之处：都向当时先进的国家学习；改革前国内社会矛盾都十分尖锐，都面临着社会转型；内容上都涉及政治、经济、文化等各方面；都使社会性质发生变化；都对本国历史发展产生深远影响等。(答出任意一点得 1 分，共 2 分)

(3) ①：日本明治维新后，走上资本主义道路，同时也走上了对外侵略扩张的道路，1894 年发动了侵略中国的甲午战争；(1 分) ②：甲午战争后，清政府被迫签订了《马关条约》，允许日本在中国开放的通商口岸开设工厂，中国的民族危机空前严重，半殖民地化程度进一步加深；(1 分) 为挽救民族危机，1898 年，民族资产阶级进行了戊戌变法；(1 分) ③：清政府也放宽了对中国民间设厂的限制，出现了开设工厂的热潮，民族资产阶级打出“实业救国”的口号，民族工业获得发展。(1 分)

(4) 示例：主题：不断扩大的全球化市场 (1 分)

15—16 世纪，随着新航路的开辟，美洲大陆的发现，打破了世界分裂隔绝的状态，使欧洲、亚洲、非洲和美洲之间的联系日益密切，开始成为一个整体，资本主义世界市场开始形成；工业革命中发明的火车、轮船等为社会提供了更为快捷、廉价、便利的交通，西方列强以商品输出的方式，占据世界市场，使生产和市场之间的联系变得更加密切，世界市场初步形成；19 世纪末，随着第二次工业革命的开展，帝国主义国家通过发动侵略战争，扩大殖民掠夺，用开工厂、修铁路、办银行等资本输出的方式促成了资本主义世界市场的最终形成；当今随着世界经济全球化的发展趋势，中国政府“一带一路”倡议的提出，本着开放包容的精神，在平等交流、合作共赢的原则上，积极参与国际组织的活动，加强与各国的合作与交流，更加贴近世界各国的需求，推动全球化的发展。

总之，世界市场的形成，需要各国之间打破贸易壁垒，相互取长补短，在秉承平等互利原则的基础上，加强合作与交流，不断推动世界经济的发展。

评分说明：主题明确得 1 分，分阶段答出符合上述意思的任意一点史实及说明共得 4 分，总结性评述得 1 分，共 6 分。