




# 文科综合

## 注意事项:

1. 答卷前,考生务必将自己的姓名、准考证号填写在本试卷相应的位置。
2. 全部答案在答题卡上完成,答在本试卷上无效。
3. 回答选择题时,选出每小题答案后,用 2B 铅笔把答题卡上对应题目的答案标号涂黑。如需改动,用橡皮擦干净后,再选涂其他答案标号。回答非选择题时,将答案用 0.5mm 黑色笔迹签字笔写在答题卡上。
4. 考试结束后,将本试卷和答题卡一并交回。

一、选择题:共 35 小题,每小题 4 分,共 140 分。在每小题给出的四个选项中,只有一项是符合题目要求的。

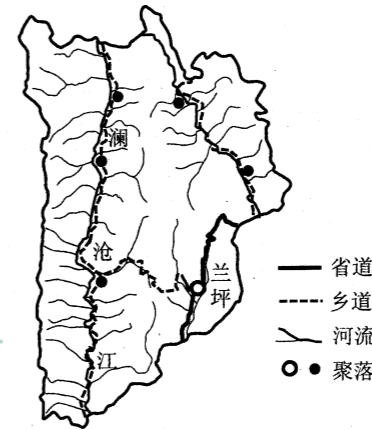
位于高纬度地区或高海拔的湖泊,冬季湖水随气温急剧降低而迅速封冻,如果湖泊底部有微生物分解产生的甲烷气体,在上升过程中会被封锁在湖面的冰层中,形成形态各异的冰冻气泡。风把湖面的积雪吹走并打磨冰面,使冰面透明,冰泡清晰可见,这样的湖泊被称为“冰泡湖”。位于新疆天山山脉的被誉为“大西洋最后一滴眼泪”的赛里木湖(海拔 2 071 米,最大水深 92 米,平均水深 46.4 米)就是著名的“冰泡湖”。下图示意赛里木湖冰泡景观。据此完成 1~3 题。



1. 利于赛里木湖冰泡形成的天气条件是
  - A. 准静止锋徘徊不前
  - B. 快行冷锋过境
  - C. 沙尘暴天气的袭来
  - D. 锋面气旋控制
2. 推测冬季将积雪吹离赛里木湖面的大风多为
  - A. 偏西风
  - B. 偏东风
  - C. 偏北风
  - D. 偏南风

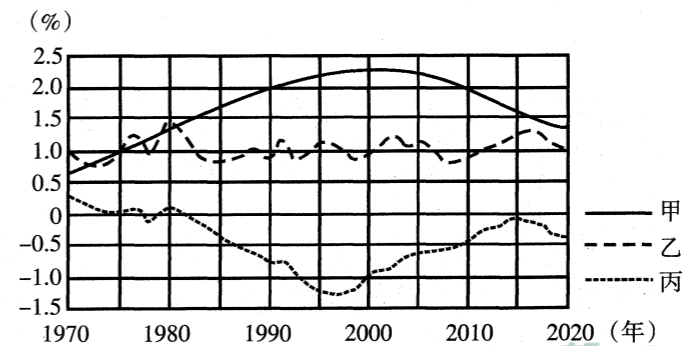
3. 赛里木湖出现冰泡的区域主要位于
  - A. 湖泊北部
  - B. 湖泊南部
  - C. 湖泊内部
  - D. 湖泊边缘

兰坪白族普米族自治县位于怒江、澜沧江、金沙江“三江并流”世界自然遗产核心区,境内大小河流均系澜沧江水系。下图为兰坪县水系、聚落、交通分布图。据此完成 4~6 题。



4. 兰坪县地形地势的格局是
  - A. 北高南低,北为高原南为山地
  - B. 断裂构造复杂,地貌类型多样
  - C. 河流长而湍急,流水地貌发育
  - D. 山脉南北纵贯,山河相间分布
5. 兰坪县聚落的空间分布特点是
  - A. 分布均衡,大多位于澜沧江沿岸
  - B. 分布不均衡,主要分布在河谷地带
  - C. 聚落主要分布在中部
  - D. 聚落主要分布在西南部
6. 影响兰坪县省道、乡道公路布局的主导因素是
  - A. 地形地质
  - B. 社会经济
  - C. 科学技术
  - D. 河流水文

下图为某国家人口出生率、死亡率和自然增长率统计图。据此完成 7~8 题。



7. 图中曲线分别表示人口出生率、死亡率和自然增长率的是
  - A. 甲、乙、丙
  - B. 乙、甲、丙
  - C. 丙、甲、乙
  - D. 甲、丙、乙



8. 图示国家社会经济发展的特点是

- A. 社会福利制度比较完善, 经济水平高
- B. 社会经济落后, 处于工业化发展初期
- C. 人口迁出率高, 城市化进程极为缓慢
- D. 劳动力价格低廉, 公民受教育程度低

德国库卡集团是世界顶级的为自动化生产行业提供柔性生产系统、机器人、夹具、模具等的供应商之一。2017年1月10日,我国以生产家用电器为主的美的集团发布公告称,公司已完成收购德国库卡机器人公司的交割工作,持有库卡集团已发行股本的94.55%。这是近年来中国公司规模最大的海外收购交易之一。据此完成9~11题。

9. 美的集团收购德国库卡集团的主要目的是

- A. 实现强强联合, 扩大企业生产规模
- B. 吸纳科技人才, 加大科技研发投入
- C. 缩短生产与消费的空间距离, 获取最佳效益
- D. 优化产业结构, 提升生产智能化水平

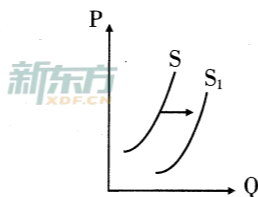
10. 德国库卡集团具有的产业优势是

- A. 充满创新活力, 市场竞争力强
- B. 生产自动化, 生产效率高
- C. 生产设备精良, 工艺技术先进
- D. 企业规模小, 环境污染少

11. 美的集团收购德国库卡集团将有利于

- A. 调整人工智能产业全球化布局
- B. 联合开拓中国人工智能市场
- C. 加快淘汰美的集团的落后产能
- D. 库卡集团开辟多个融资渠道

12. 右图反映的是一定时期内某商品的供给量(Q)随价格(P)变化的情况。在其他条件不变的情况下, 下列选项中可能会引起曲线S向曲线S<sub>1</sub>变动的是



- ①提高贷款基准利率, 控制银行信贷规模
- ②向该商品行业政策倾斜, 加大财政补贴
- ③企业应对市场竞争, 降低价格刺激需求
- ④深化供给侧改革, 提高技术创新水平

- A. ①③
- B. ①④
- C. ②③
- D. ②④

13. 北斗三号攻克了100多项相关核心技术难题,全球定位精度大大提高,北斗三号基本系统完成建设,标志着北斗系统服务范围由区域扩展到全球,并将开启与美国GPS竞争的时代。这说明核心技术的突破

- ①可以提高品牌竞争力, 提高市场占有率
- ②能降低企业经营成本, 提高企业经济效益
- ③可以提高产品附加值, 促进消费结构的提升
- ④可以降低替代品的需求, 增加对该产品的需求

- A. ①③
- B. ①④
- C. ②③
- D. ②④

14. 为进一步支持实体经济发展,优化流动性结构,降低融资成本,中国人民银行决定下调金融机构存款准备金率1个百分点,2019年1月15日和1月25日分别下调0.5个百分点。受该政策影响,下列传导正确的是

- A. 下调存款准备金率→优化流动性结构→财政补贴加大→实体企业减税降费
- B. 下调存款准备金率→货币供给量增加→人民币汇率升高→出口企业压力减小
- C. 下调存款准备金率→商业银行贷款增加→实体企业融资压力缓解→企业可持续发展
- D. 下调存款准备金率→商业银行贷款利率降低→实体企业融资成本降低→企业创新能力提高

15. 全球第一个以“进口”为主题的国家级展会——首届中国国际进口博览会(进博会)在上海开幕。本届进博会突出低碳化、数字化等新一轮科技发展热点,展示人类对历史和未来的最新探索,将引领未来的产业发展,改变人类的生产和生活方式。进博会的成功举办对我国的积极意义是

- ①可以优化我国的产品供给结构, 满足人民对美好生活的需要
- ②分享中国经济发展红利, 促进贸易自由化、经济全球化
- ③加大我国企业的市场竞争压力, 对同行业产品造成一定冲击
- ④有利于转变经济发展方式, 推动我国产业升级, 实现创新发展

- A. ①②
- B. ①④
- C. ②③
- D. ③④

16. 2019年3月5日,李克强总理在政府工作报告中指出,把高血压、糖尿病等门诊用药纳入医保报销,着力缓解民生的痛点。推出这一政策是
- ①加强经济职能,落实简政放权的具体体现  
②加强社会建设,落实对人民负责原则的举措  
③优化公共服务,打造便民利民政府的内在要求  
④推动民主决策,保障人民民主真实性的必然要求
- A. ①②                      B. ①④                      C. ②③                      D. ③④
17. 新一届全国人大及其常委会加快立法步伐,审议、通过一批重要立法项目。个人所得税法修正案草案共有 67291 人提出 131207 条意见,在认真听取意见的基础上作出 7 次修改,推动了个人所得税从分类税制向综合与分类相结合税制转变,确保广大人民群众享受到减税福利。这一过程
- ①是全国人大及常委会行使最高立法权的具体体现  
②是最高国家权力机关贯彻民主集中制的活动原则的体现  
③是人大代表反映民意为民服务,行使提案权的体现  
④是我国立法机关高效立法,民主决策,执政为民的具体体现
- A. ①②                      B. ①④                      C. ②③                      D. ②④
18. 习近平总书记在《告台湾同胞书》发表 40 周年纪念会上明确指出,“台海形势走向和平稳定、两岸关系向前发展的时代潮流,是任何人任何势力都无法阻挡的! 国家强大、民族复兴、两岸统一的历史大势,更是任何人任何势力都无法阻挡的!”“两岸必须统一,也必然统一。”这表明
- ①两岸统一符合和平与发展时代潮流,统一是历史大势所趋  
②独立自主是我国外交的基本立场,任何外部势力都无权干涉  
③综合国力是国际关系的决定因素,国家强大决定统一的进程  
④共同利益是两岸合作的基础,维护国家主权是外交活动的目的
- A. ①②                      B. ①④                      C. ②③                      D. ②④
19. 2018年6月5日,“发现紫禁城”故宫文化创意产品“一窗一世界”亮相蒙古国乌兰巴托,当地孩子们通过中国老师的讲解和手工制作等环节,全面了解故宫窗棂的古朴、灵秀、对称、素雅之美,通过一扇扇样式灵活多变,图案错综复杂的花窗感悟中国传统建筑之美及其蕴含的人文精神。这表明故宫窗棂
- ①具有民族性,代表着中国式建筑的独特美学  
②具有多样性,丰富了当今世界的建筑文化

- ③具有物质性,是蕴含丰富文化寓意的物质载体  
④具有世界性,会帮助世界了解中华文化的新辉煌
- A. ①②                      B. ①③                      C. ②④                      D. ③④
20. 民歌是“最优美的作品”,滋长于土地上,如同人们撒下的种子,顽强生长。作曲家喜欢从民歌中汲取养分。格林卡说:“真正创造音乐的是人民,作曲家只不过是把它们编成曲子而已。”他的话说明
- A. 我们进行文艺创作要参与社会实践  
B. 人民群众是社会精神财富的创造者  
C. 要发展人民群众喜闻乐见的大众文化  
D. 文艺创作既要继承传统,又要赋予时代精神
21. 从 2017 年 4 月初河北雄安新区横空出世,到 2018 年 12 月底《河北雄安新区总体规划(2018—2035 年)》获批,雄安新区始终坚持把每一寸土地规划得清清楚楚再开工建设,基本未动一砖一瓦,但外在面貌看似基本没变,“未来之城”已呼之欲出。这说明雄安新区
- ①总体规划具有客观性,是未来新区建设的依据  
②在建设实践中形成的规划蓝图指导着新区的建设  
③建设坚持辩证法思想,做到快慢适度,先后有序  
④坚持规划先行,发挥意识的主动创造性和自觉选择性
- A. ①②                      B. ①③                      C. ②④                      D. ③④
22. 习近平指出,中国经济是一片大海,而不是一个小池塘。大海有风平浪静之时,也有风狂雨骤之时。狂风骤雨可以掀翻小池塘,但不能掀翻大海。经历了无数次狂风骤雨,大海依旧在那儿! 经历了 5000 多年的艰难困苦,中国依旧在这儿! 面向未来,中国将永远在这儿! 这表明
- ①事物的主要矛盾决定事物的发展方向  
②矛盾具有特殊性,要具体问题具体分析  
③事物的发展是前进性和曲折性的统一  
④矛盾的同—性是绝对的、斗争性是相对的
- A. ①②                      B. ②③                      C. ①④                      D. ③④

23. 截至 2018 年 11 月 16 日,全国 31 个省区市的省级机构改革方案已全部获得党中央、国务院批准。山东为打造海洋高质量发展战略要地,组建省委海洋发展委员会和省海洋局;浙江、湖北、重庆等地为加大金融监管的力度,组建了省级地方金融监督管理局。这表明

- ①要在矛盾普遍性的指导下研究特殊性
- ②生产关系应适应生产力发展
- ③上层建筑促进经济基础的巩固与完善
- ④要坚持辩证否定观,树立创新思维

- A. ①②                      B. ①④                      C. ②③                      D. ③④

24. 西周时的学术、教育与宗教、祭祀有密切关系,由负责宗庙祭祀、记事和文书管理的祝、宗、卜、史掌管。周王室和各诸侯国都设有负责这类事务的官员。东周时,王室衰败,诸侯国动荡,这类职官流落民间,于是就把知识带到了民间。据此可知

- A. 周代实行家国一体的政治制度
- B. 西周时期私学已经在民间兴起
- C. 官学是“百家”学说的思想来源
- D. 东周学术的变迁引起社会动荡

25. 唐朝三省长官和其他参与决策的官员,都集中到政事堂议事,政事堂逐渐成为一个高于三省的决策机构。三省长官实际上脱离了本部门,而副职左右仆射则成为三省实际的负责人。后来皇帝干脆不设三省正职,以副职替代,让副职进入政事堂。这些措施

- A. 赋予了低级官员相权
- B. 加强了专制皇权
- C. 导致冗官局面的出现
- D. 提高了行政效率

26. 会子是南宋发行的一种纸钞。据说宋孝宗在会子发行后的十年里都睡不好觉。他曾经回购了价值 200 万两银的流通会子,并将它们烧掉。此外,他还命令缴纳税费时可以用纸钞,并通过限制纸钞流通期限来控制会子的兑换价值。这表明,南宋政府

- A. 维护金属货币的市场主导地位
- B. 抑制通货膨胀的措施取得了显著的成效
- C. 强化了对商业活动的直接监管
- D. 通过限制流通量来调整纸钞的市场价值

27. 康熙二十五年,广东成立了专营外贸的“外洋行”,将外贸与内贸区分开来,洋商与一般商人区分开来。外洋行是清廷政治权力与对外贸易商业资本相结合的产物。从此,外洋行成为专门经管外贸的机构,洋商(行商)也成为一种专门的行业。此种交易形式

- A. 旨在保证政府税收和对外防范
- B. 是清廷闭关锁国政策的具体表现
- C. 加剧了欧洲对中国的经济侵略
- D. 反映了传统朝贡贸易格局的变动

28. 下表反映的是晚清外事机构的变动及对外关系的发展。这些举措

时间	机构变动及对外关系
1861 年	设立“总理各国事务衙门”,主管外交事务,兼管通商、海防等洋务事务。又设南、北洋通商大臣,分别掌管南北口岸通商事务
1867 年	聘请美国驻华公使蒲安臣为特命大使,组成使团出访欧美
1875 年	开始派遣驻外公使。郭嵩焘成为中国第一个驻外(英)公使
1877 年	相继在一些国家的商埠设立领事馆,以保护中国侨民的利益
1901 年	改“总理各国事务衙门”为外务部,位列六部之首

- A. 体现了清政府主动融入世界潮流
- B. 适应了资本主义国家侵华的需要
- C. 使中国摆脱了不平等条约的束缚
- D. 客观上推动了中国的近代化进程

29. 1920 年,孙中山说:自北京大学学生运动以来,一般爱国青年无不以革新思想为将来革新事业之预备……社会遂蒙极大之影响。学潮弥漫全国,人皆激发天良,誓死为爱国之运动;倘能继长增高,其将来收效之伟大且久远者,无可疑也。这表明

- A. 孙中山决计要进行思想领域的革命
- B. 五四运动中青年学生起了主力军作用
- C. 五四运动促进了中华民族的新觉醒
- D. 孙中山已认识到改组国民党的必要性

30. 下表为国共两党抗战方针和政策的历史叙述。据此能够被认定的历史事实是

主要观点	出处
中国的抗战“将是一个持久的艰苦的抗战”	1937年7月15日,朱德讲话
全国人民总动员,实行大规模的组织民众与武装民众;发动游击战争;建立抗日民族统一战线,实现国共合作等	1937年7月21日,中共中央“五项主张”
达成持久战为基本要旨;划分四个战区,规划对每个战区的具体作战方案	1937年8月22日国民党《战争指导方案》和《作战指导计划》
实行持久抗战,在外交、军事、政治、经济、民运和教育各方面进行改革;将抗战局限为政府和军队的任务	1938年4月,国民党《抗战建国纲领》

- A. 国共双方均认可对日持久抗战的政策
- B. 国民党是全面抗战路线的倡导者
- C. 国共两党都强调统一战线的重要作用
- D. 国共合作是抗战胜利的主要原因

31. 1979年4月,中共中央正式决定对国民经济实行“调整、改革、巩固、提高”的八字方针,并强调这次调整的指导思想是:“一定要从自己国家的实际出发,走出一条在社会主义制度下实现现代化的中国式道路。”新“八字方针”的提出

- A. 标志着城市经济体制改革全面展开
- B. 实现了中国共产党工作重心的转移
- C. 表明经济工作逐渐摆脱“左”的束缚
- D. 纠正了农业和轻重工业的比例失调

32. 罗马法规定:在买卖诉讼中,不明知而出售劣质木材之人,仅仅是依据买卖之诉承担对瑕疵差价的补偿责任。但如果是明知而隐瞒真相、欺骗买方,用劣质木材建造的房屋倒塌了,卖方就要承担全部房屋的赔偿责任。这反映出罗马法

- A. 注重形式而忽视内容
- B. 司法原则和程序不统一
- C. 具有开放性和灵活性
- D. 蕴涵着诚信的行为要求

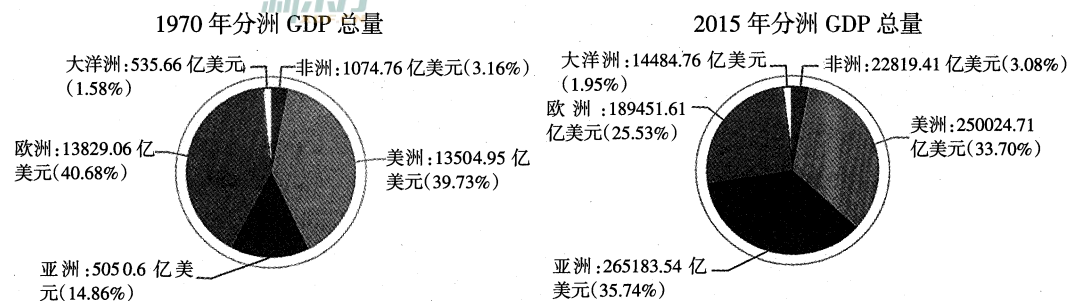
33. 15世纪,书写文化在欧洲蔓延开来,人们喜爱写日记、歌谣,撰写自传和家族历史,摘录箴言,编写神秘剧,在书页空白处涂鸦。这一现象的出现主要是由于

- A. 新航路开辟改变社会观念
- B. 人文主义价值观深入人心
- C. 教会垄断文化局面被打破
- D. 市民阶层社会地位的提高

34. 1932年,国家允许农民在所谓的集体农庄市场上对其剩余农产品进行贸易往来,计划征收的粮食配额由1810万吨减少到1490万吨,计划五年内将工业消费品的产量提高134%,农产品的产量增加177%,住房空间扩大40%。这表明当时苏联

- A. 肯定和继承了新经济政策
- B. 国民经济结构趋于协调
- C. 注重民众生活状况的改善
- D. 经济发展模式发生变化

35. 下图是1970年和2015年分洲GDP总量。这一变化反映了



- A. 经济全球化下世界经济发展不平衡
- B. 世界贸易范围的明显扩大
- C. 国际经济格局趋于体系化和制度化
- D. 经济区域化趋势日益加强

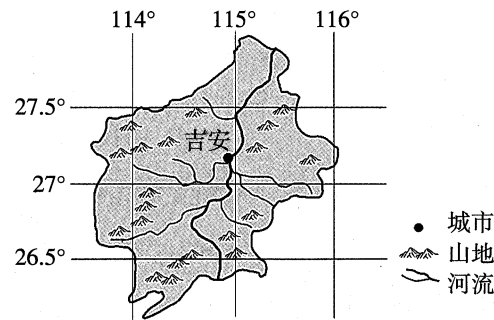
二、非选择题:本大题包括必考题和选考题两部分。第36~42题为必考题,每个试题考生都必须作答。第43~47题为选考题,考生根据要求作答。

(一)必考题:共135分

36. 阅读图文材料,完成下列要求。(22分)

位于江西省中西部的吉安市是井冈蜜柚特色果业生产基地。井冈蜜柚是以“井冈”为品牌,以桃溪特早蜜柚、泰和沙田柚、金沙柚作为主导品种的吉安地方良种,品质优良、丰产稳定,适宜大面积推广栽培。吉安市多低山丘陵,森林覆盖率高,蜜柚种植与栽培有上千年的历史。吉安市北与长江三角洲对接,南与华南经济圈呼应,是中原通往东南沿海的“黄金走廊”,形成水、陆、空立体交通体系。吉安市根据气候和土壤的区域差异,合理进行井冈蜜柚不同品种的产业布局,主推9月中上旬以桃溪蜜柚为主的特早熟型,10月上旬以金沙柚为主的早熟型,11月中旬以泰和沙田柚为主的中熟型,既拉开了柚果上市期,又延长了柚果鲜果的货架期,可以满足中秋、国庆、元旦、春节市场需

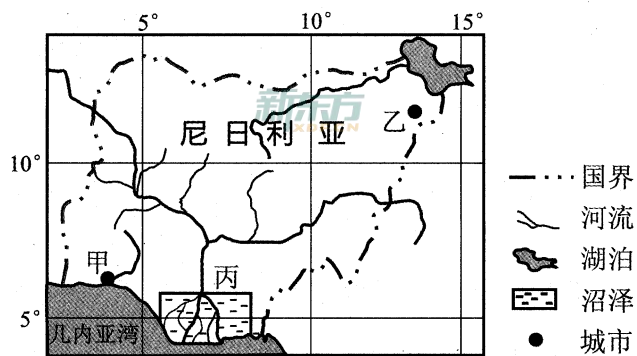
求。下图示意吉安市山地水系分布。



- (1)分析吉安市推广种植井冈蜜柚的自然条件优势。(6分)
- (2)阐释吉安市发展井冈蜜柚种植业的社会经济条件。(6分)
- (3)阐述为了避免井冈蜜柚的同质化竞争,吉安市应采取的主要措施。(4分)
- (4)请你为吉安市做大做强井冈蜜柚产业提出合理建议。(6分)

37. 阅读图文材料,完成下列要求。(24分)

尼日利亚地处低纬度地区,赤道低气压带长期在境内移动。下图示意尼日利亚及附近国家水系与城市分布。



- (1)推测一年中,尼日利亚境内的风向变化规律。(4分)
- (2)图中甲城市年降水量明显多于乙城市,分析造成两城市年降水量存在差异的主要原因。(6分)
- (3)比较尼日利亚境内河流水文特点的区域差异,并说明原因。(8分)
- (4)阐释图中丙地区沼泽面积较大的主要原因。(6分)

38. 阅读材料,完成下列要求。(14分)

改革开放40年来,深圳的探索为中国改革开放提供了经验和深圳方案。市场化是深圳经济体制改革的永恒信条,只要充分发挥好市场作用,更好发挥政府作用,营造一流的市场化环境和完善的市场体系,就一定推动经济发展质量变革、效率变革和动力变革。接轨国际拥抱世界。开放带来进步,封闭必然落后。经济全球化时代,只有把开放的大门越开越大,按照国际规则“打篮球”,聚全球资源为己所用,才能赢得发展的主动,赢得国际竞争的主动。在5G技术、超导材料、基因测序、3D显示、新能源汽车等

新兴产业领域,深圳企业创新能力已处于世界前沿。全市森林覆盖率40.9%,拥有近千座公园,被誉为“公园之城”。PM2.5年均浓度居中国大型城市最好水平,完善的现代化功能和宜居的生态环境,成为深圳靓丽的“城市名片”。

结合材料并运用所学经济知识,分析深圳方案对我国经济转型升级的借鉴意义。(14分)

39. 阅读材料,完成下列要求。(12分)

中央政法工作会议2019年1月15日至16日在北京召开。习近平强调要创新为民谋利、为民办事、为民解忧的机制,加快推进社会治理现代化,加快推进政法领域全面深化改革,加快推进政法队伍建设,履行好维护国家政治安全、确保社会大局稳定、促进社会公平正义、保障人民安居乐业的职责任务。要善于把党的领导和我国社会主义制度优势转化为社会治理效能,完善党委领导、政府负责、社会协同、公众参与、法治保障的社会治理体制,打造共建共治共享的社会治理格局,不断谱写政法事业发展新篇章。

结合材料,运用政治生活的知识,说明如何打造政法工作共建共治共享的社会治理格局?(12分)

40. 阅读材料,完成下列要求。(26分)

《平“语”近人——习近平总书记用典》第六集主要围绕“共产党员修身”的主题展开。本集结构如下:

引用的习近平讲话	正所谓“不要人夸颜色好,只留清气满乾坤”。党员干部加强道德修养,途径方法很多,其中重要的是自觉从中华优秀传统文化中汲取营养,老老实实向人民群众学习,时时处处见贤思齐,以严格标准加强自律,接受他律。	要时刻用党章、用共产党员的标准要求自己,要有“与人不求备,检身若不及”的精神,时刻自重自省自警自励。	要牢记“从善如登,从恶如崩”的道理,始终保持积极的人生态度,良好的道德品质,健康的生活情趣。
内容主旨	通过讲述严以修身是全面从严治党必修课来阐释中国共产党人不断锤炼党性修养。	通过讲述总书记的两张伙食费收据的故事来阐释党员干部严以律己的最终目的是为了无愧于人民。	通过讲述领导示范、用人导向、制度保障来阐释党员干部如何做到修身。如何把践行“三严三实”贯穿于全部工作生活中。

- (1)结合材料,运用所学价值观的知识,分析共产党员加强自身修养对其人生成长的重要意义。(10分)
- (2)结合材料,运用所学文化生活知识,分析共产党员如何提高自身修养。(10分)
- (3)除习近平引用的三个典故外,请你再列举三条关于“修身”的格言。(6分)

41. 阅读材料,完成下列要求。(25分)

材料一 明代的儿童教育形成了较为完整的自然教育理论,王守仁的贡献最为突出。他认为儿童时期“良知”保存的最多,受蒙蔽最少,所以实施教育要及早从儿童时期抓起。王守仁批判了当时教育儿童的传统方法,反对体罚,主张“今教童子,必使其趋向鼓舞,中心喜悦,则其进自不能已”。王守仁认为教育并非铸造器物,使学生变得千人一面,要根据学生的个性差异,分别给予适当的陶冶,“只如狂者便从狂处成就他,狷者便从狷处成就他。”王守仁明确指出:教育的目的是“明人伦”,即认识和恪守儒家道德规范,王守仁主张培养“圣人”是教育的最高理想。他鼓励阅读儒家经典,强调道德修养要身体力行,不断实践,逐步领会道德观念的实质。例如讲“孝”,不能只讲孝顺父母的道理,而且要在道德行为中体现出“孝”来,奉养父母,认真听从父母教诲,这才算得上真正尽了“孝道”。

——摘编自余文武《王阳明教育思想研究》等

材料二 卢梭在其教育代表作《爱弥儿》里写道:“在我们的灵魂深处生来就有一种正义和道德的原则;尽管我们有自己的准则,但在判断我们和他人的行为是好或是坏的时候,都要以这个原则为依据,所以我把这个原则称为良心。”他认为“良心”是超越民族的全人类共有的道德观念,如公正、诚实、勇敢、克制。卢梭认为除非孩子自己有兴趣去读,否则,读书就是孩子们在儿童时期遇到的灾难。他主张以儿童的经验为基础,独立观察和研究大自然中的各种事物,在实践中获得真知。卢梭反对和控诉封建专制制度对儿童个性与自由的摧残和压制,反对经院主义教育强迫儿童呆读死记宗教教义及其严酷的纪律和体罚,自然教育的目的是培养“自然人”,即完全自由成长、身心调和发达、能自食其力、不受传统束缚的一代新人。这种“自然人”能够对事物进行观察、判断、独立思考和分析,“除了他自己的理智以外,不为任何其他的权威所控制就行了”。

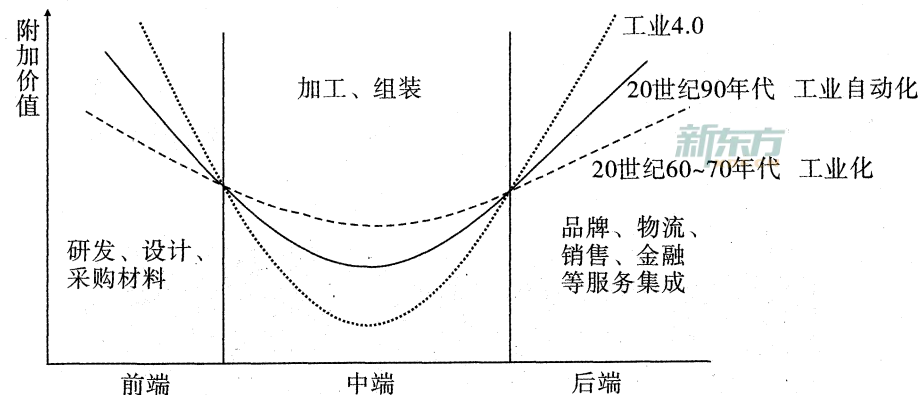
——摘编自黎军、张大玲《卢梭自然主义教育思想评析》等

- (1)根据材料一并结合所学知识,概括王守仁教育思想的特点,并说明其时代背景。(11分)
- (2)根据材料一、二并结合所学知识,指出卢梭教育思想与王守仁教育思想的主要不同之处,并对卢梭教育思想做出简要评价。(14分)

42. 阅读材料,完成下列要求。(12分)

材料 微笑曲线理论的形成,源于国际分工模式由产品分工向要素分工的转变,也就是参与国际分工合作的世界各国企业,由生产最终产品转变为依据各自的要素禀赋,只完成最终产品形成过程中某个环节的工作。整个环节就形成所谓的全球产业链。以制造加工环节为分界点,全球产业链可以分为产品研发、制造加工、流通三个环节。从过程产品到最终产品再到最终产品销售,产业链上各环节创造的价值随各种要素密集

度的变化而变化,如下图。



(注:工业4.0是利用信息化技术促进产业变革的时代,也就是智能化时代。)

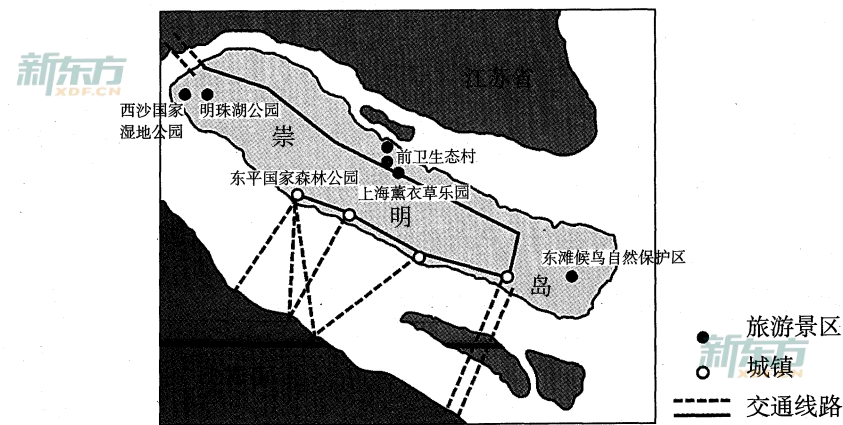
——据施振荣《微笑曲线》等

从上图提取有关“微笑曲线理论”信息,并结合所学知识进行解释说明。

- (二)选考题:共25分。请考生从2道地理选考题、3道历史选考题中每科任选一题作答,并用2B铅笔在答题卡上把所选题目题号后的方框涂黑。注意:所做题目的题号必须与所涂题目的题号一致,在答题卡选答区域指定位置答题。如果多做,则每学科按所做的第一个题目计分。

43. 【地理——选修3:旅游地理】(10分)


崇明岛地处长江入海口,为全国第三大岛,是世界最大的河口沙岛。岛上地势平坦,空气清新,四季分明,自然风光优美,为亚太候鸟南北迁徙通道上的重要驿站。主要的旅游景点有东平国家森林公园、西沙国家湿地公园、上海薰衣草乐园、前卫生态村、明珠湖公园、东滩候鸟自然保护区等,是休闲度假旅游的绝佳选择地。下图示意崇明岛及其主要的旅游景点。



分析游客大多选择春、夏和秋季到崇明岛休闲度假旅游的原因。

44.【地理——选修6:环境保护】(10分)

近些年来,我国发展农业不再是一味地扩大耕地面积,而是积极开展退耕还林还草工作,为生态文明贡献一份力量。2018年国家有关部委下达了关于2018年退耕还林还草任务的通知,2018年退耕还林还草实施范围首先包括25°以上坡耕地(不含基本农田)。下图示意陡坡修建的梯田。



分析我国25°以上坡耕地实施还林还草工程的主要原因。

45.【历史——选修1:历史上重大改革回眸】(15分)

材料 清军入关后,八旗兵及其家属随顺治皇帝入关者不计其数,使得辽东“土旷人稀,生计凋敝”。清政府在东北实施招垦政策,在加强盛京驻防八旗的同时,鼓励关内汉族民人出关开垦土地。经过从清初到康熙中叶近半个世纪的土地开发、人口迁徙,到康熙二十二年(1683年),东北汉族民人的人口数量已经显著增加,八旗组织不直接管理汉人。顺治十年在盛京设辽阳府,置辽阳、海城两县管理汉人,这是清代在东北设置州县之始,即“民户州县制”。雍正年间,出现设置州县高潮,在吉林地区也设置了永吉州、泰宁县、长宁县。咸丰初年弛禁,同治年间设呼兰理事同知,这是黑龙江地区设置州县的开始。“编户则守令治之,八旗则城守辖之”,州县长官负责征收赋税。晚清时期则普遍设立州县,建立行省体制。

——据孟繁勇《清代“大一统”思想与东北边疆地区行政管理体制创制》

- (1)根据材料并结合所学知识,概括清代民户州县制的特点。(6分)
- (2)根据材料并结合所学知识,简述清代民户州县制的作用。(9分)

46.【历史——选修3:20世纪的战争与和平】(15分)

材料 1937年,国联国际智力合作委员会发表《关于历史教育的宣言》,提出政府与教科书撰写者应该从促进各国民间的相互理解的原则出发编写历史教科书。1945年德国被美国、英国、法国、苏联4国占领。在西部的美、英、法军占领区,军政府开始了关于历

史教科书的国际对话。占领军向德国历史学家提供打字机、纸张以及最新的学术著作,占领军中的学者与德国学者展开交流等。20世纪50年代,教育状况迫切需要新编写的教科书,60年代中期,人们再次强烈感到和解的必要性。1976年,德国波兰共同教科书委员会在华沙和布伦斯维克举行会议,发表了《德意志联邦共和国与波兰人民共和国历史地理教科书的建议》,其中包括古代、中世纪的斯拉夫人和日耳曼人、中世纪东欧中部的德国移民、波兰和德国骑士团、文艺复兴和巴洛克时代德国与波兰的宗教文化关系、启蒙时代的波兰与普鲁士等26项内容。

——据(日)宫崎悠《战后德国与波兰有关历史教科书的对话》

- (1)根据材料,指出二战后德国新编历史教科书的背景。(8分)
- (2)根据材料并结合所学知识,评价二战后德国、波兰有关历史教科书问题对话的影响。(7分)

47.【历史——选修4:中外历史人物评说】(15分)

材料 僧一行(683年~727年),本名张遂,是唐代一位披着袈裟的天文学家。武则天的侄子武三思,为提高自己的声望,千方百计结交张遂,张遂厌恶武三思,遂遁入空门,法名僧一行。在寺庙中,翻译佛经,研究天文历算,遍寻天下名师求教数学。唐玄宗初即位,欲兴文治,编纂国典,一行被请到长安。为修订新历,一行主持进行了造仪观象、实测子午线等一系列卓越的天文活动。其中,用黄道游仪观测发现太阳的运行速度是不均匀的,这为确定二十四节气提供了科学依据。他还发现恒星不恒,也在自移,这比西方天文学家哈雷的发现早大约一千年。一行组织的实地测量地域全长近四千公里,还深入南海中进行观测。他实测子午线一度为131.11公里(现代测知110.92公里)。开元十五年(727年),一行主持修订的《大衍历》终于草成,成为当时以最新天文观测成就为依据的一部先进历法,成为后世历代编历的范本,日本也采用《大衍历》。

——据郭伯南《中国史话》(下)

- (1)根据材料并结合所学知识,说明僧一行取得科技成就的原因。(6分)
- (2)根据材料并结合所学知识,分析僧一行科技成就的作用。(9分)



# 文科综合答题卡

姓名 \_\_\_\_\_

贴条形码区

准考证号 \_\_\_\_\_

注意  
事项

1. 答题前，考生务必须先认真核准条形码上的姓名、准考证号，然后使用0.5毫米的黑色笔迹签字笔将姓名、准考证号填写在相应位置，并在答题卡背面左上角填写姓名和准考证号末两位。准考证号的每个书写框内只能填写一个阿拉伯数字。要求字体工整、笔迹清晰。填写阿拉伯数字的样例：0|1|2|3|4|5|6|7|8|9
2. 答选择题时，必须使用2B铅笔填涂。修改时，要用橡皮将修改处擦干净。规范填涂样例：■
3. 答非选择题时，必须使用0.5毫米的黑色笔迹签字笔书写；作图题可先用铅笔绘出，确认后再用0.5毫米的黑色笔迹签字笔描清楚。要求字体工整、笔迹清晰。严格按题号所指示的答题区域作答，超出答题区域书写的答案无效；在试题、草稿纸上答题无效。
4. 保持答题卡清洁、完整。严禁折叠，严禁在答题卡上作任何标记，严禁使用涂改液、胶带纸和修正带。严禁污染答题卡上的黑色方块。
5. 未按上述要求填写、答题，影响评分质量，后果自负。

此栏禁止考生填涂 缺考标记 缺考考生由监考员贴条形码，并用2B铅笔填涂左边的缺考标记。

## 选择题 (用2B铅笔填涂)

- |  |  |  |  |
|--|--|--|--|
| 1 <input type="checkbox"/> A <input type="checkbox"/> B <input type="checkbox"/> C <input type="checkbox"/> D  | 6 <input type="checkbox"/> A <input type="checkbox"/> B <input type="checkbox"/> C <input type="checkbox"/> D  | 11 <input type="checkbox"/> A <input type="checkbox"/> B <input type="checkbox"/> C <input type="checkbox"/> D | 16 <input type="checkbox"/> A <input type="checkbox"/> B <input type="checkbox"/> C <input type="checkbox"/> D |
| 2 <input type="checkbox"/> A <input type="checkbox"/> B <input type="checkbox"/> C <input type="checkbox"/> D  | 7 <input type="checkbox"/> A <input type="checkbox"/> B <input type="checkbox"/> C <input type="checkbox"/> D  | 12 <input type="checkbox"/> A <input type="checkbox"/> B <input type="checkbox"/> C <input type="checkbox"/> D | 17 <input type="checkbox"/> A <input type="checkbox"/> B <input type="checkbox"/> C <input type="checkbox"/> D |
| 3 <input type="checkbox"/> A <input type="checkbox"/> B <input type="checkbox"/> C <input type="checkbox"/> D  | 8 <input type="checkbox"/> A <input type="checkbox"/> B <input type="checkbox"/> C <input type="checkbox"/> D  | 13 <input type="checkbox"/> A <input type="checkbox"/> B <input type="checkbox"/> C <input type="checkbox"/> D | 18 <input type="checkbox"/> A <input type="checkbox"/> B <input type="checkbox"/> C <input type="checkbox"/> D |
| 4 <input type="checkbox"/> A <input type="checkbox"/> B <input type="checkbox"/> C <input type="checkbox"/> D  | 9 <input type="checkbox"/> A <input type="checkbox"/> B <input type="checkbox"/> C <input type="checkbox"/> D  | 14 <input type="checkbox"/> A <input type="checkbox"/> B <input type="checkbox"/> C <input type="checkbox"/> D | 19 <input type="checkbox"/> A <input type="checkbox"/> B <input type="checkbox"/> C <input type="checkbox"/> D |
| 5 <input type="checkbox"/> A <input type="checkbox"/> B <input type="checkbox"/> C <input type="checkbox"/> D  | 10 <input type="checkbox"/> A <input type="checkbox"/> B <input type="checkbox"/> C <input type="checkbox"/> D | 15 <input type="checkbox"/> A <input type="checkbox"/> B <input type="checkbox"/> C <input type="checkbox"/> D | 20 <input type="checkbox"/> A <input type="checkbox"/> B <input type="checkbox"/> C <input type="checkbox"/> D |
| 21 <input type="checkbox"/> A <input type="checkbox"/> B <input type="checkbox"/> C <input type="checkbox"/> D | 26 <input type="checkbox"/> A <input type="checkbox"/> B <input type="checkbox"/> C <input type="checkbox"/> D | 31 <input type="checkbox"/> A <input type="checkbox"/> B <input type="checkbox"/> C <input type="checkbox"/> D |  |
| 22 <input type="checkbox"/> A <input type="checkbox"/> B <input type="checkbox"/> C <input type="checkbox"/> D | 27 <input type="checkbox"/> A <input type="checkbox"/> B <input type="checkbox"/> C <input type="checkbox"/> D | 32 <input type="checkbox"/> A <input type="checkbox"/> B <input type="checkbox"/> C <input type="checkbox"/> D |  |
| 23 <input type="checkbox"/> A <input type="checkbox"/> B <input type="checkbox"/> C <input type="checkbox"/> D | 28 <input type="checkbox"/> A <input type="checkbox"/> B <input type="checkbox"/> C <input type="checkbox"/> D | 33 <input type="checkbox"/> A <input type="checkbox"/> B <input type="checkbox"/> C <input type="checkbox"/> D |  |
| 24 <input type="checkbox"/> A <input type="checkbox"/> B <input type="checkbox"/> C <input type="checkbox"/> D | 29 <input type="checkbox"/> A <input type="checkbox"/> B <input type="checkbox"/> C <input type="checkbox"/> D | 34 <input type="checkbox"/> A <input type="checkbox"/> B <input type="checkbox"/> C <input type="checkbox"/> D |  |
| 25 <input type="checkbox"/> A <input type="checkbox"/> B <input type="checkbox"/> C <input type="checkbox"/> D | 30 <input type="checkbox"/> A <input type="checkbox"/> B <input type="checkbox"/> C <input type="checkbox"/> D | 35 <input type="checkbox"/> A <input type="checkbox"/> B <input type="checkbox"/> C <input type="checkbox"/> D |  |

## 非选择题 (用0.5毫米的黑色笔迹签字笔书写)

36. (22分)

(1)

(2)

(3)

请在各题目的答题区域内作答，超出答题区域的答案无效

请在各题目的答题区域内作答，超出答题区域的答案无效

(4)

37. (24分)

(1)

(2)

(3)

(4)

请在各题目的答题区域内作答，超出答题区域的答案无效

请在各题目的答题区域内作答，超出答题区域的答案无效

38. (14分)

39. (12分)

请在各题目的答题区域内作答，超出答题区域的答案无效

考生 必填	姓名	<input type="text"/>	准考证号 末两位	<input type="text"/>	<input type="text"/>	考生务必将姓名、准考证号末两位用0.5毫米的 黑色笔迹签字笔认真填写在书写框内，准考证号末 两位的每个书写框只能填写一个阿拉伯数字。

请在各题目的答题区域内作答，超出答题区域的答案无效

40. (26分)

(1)

(2)

(3)

41. (25分)

(1)

请在各题目的答题区域内作答，超出答题区域的答案无效

请在各题目的答题区域内作答，超出答题区域的答案无效

(2)

42. (12分)

请在各题目的答题区域内作答，超出答题区域的答案无效

请在各题目的答题区域内作答，超出答题区域的答案无效

地理选考题

43.  44.

(考生从给出的第43、44两题中任选一题作答。  
注意：只能做所选定的题目。如果多做，则按所做  
的第一个题目计分，作答时请用2B铅笔将所选  
号后的方框涂黑。)

地理选做题号 \_\_\_\_\_ (10分)

历史选考题

45.  46.  47.

(考生从给出的第45、46、47三题中任选一题作  
答。注意：只能做所选定的题目。如果多做，则按  
所做的第一个题目计分，作答时请用2B铅笔将所  
选题号后的方框涂黑。)

历史选做题号 \_\_\_\_\_ (15分)

请在各题目的答题区域内作答，超出答题区域的答案无效