



晋文源出品, 盗印必究

山西中考模拟百校联考试卷(三)

文科综合

道德与法治

注意事项:

1. 文科综合由历史和道德与法治两部分组成, 满分 150 分, 考试时间 150 分钟。其中道德与法治部分采用开卷考试, 分第 I 卷和第 II 卷, 全卷共 8 页, 满分 75 分, 考试时间 70 分钟。
2. 答卷前, 考生务必将自己的姓名、准考证号填写在本试卷相应的位置。
3. 答案全部在答题卡上完成, 答在本试卷上无效。
4. 考试结束后, 将本试卷和答题卡一并交回。

第 I 卷 选择题 (共 36 分)

一、选择题(在每小题的四个选项中, 只有一项最符合题意, 请选择并在答题卡上将该项涂黑。本大题共有 12 小题, 每小题 3 分, 共 36 分)

1. 下列有关 2019 年全国“两会”的知识归纳正确的是
 - A. 2019 年全国“两会”是指中国人民政治协商会议和全国人民代表大会常务委员会
 - B. “两会”开幕时间分别是 3 月 3 日和 3 月 6 日
 - C. 出席 2019 年全国“两会”的人员有全国人大代表和全国政协委员
 - D. 中国共产党代表大会第四次全体会议表决通过了《中华人民共和国外商投资法》
2. 关注全国“两会” 提高民主法治素养

2019 年全国“两会”上全国人大代表、重庆市谢家湾小学校长刘希娅等人大代表联名提交了关于修订《中华人民共和国未成年人保护法》的议案。恰逢老师复习此专题, 小李编制了几道题, 其中答案正确的是

 - ①全国人大代表提交关于修订《中华人民共和国未成年人保护法》的议案
——需要 30 名以上全国人大代表联名
 - ②该议案关注了未成年人违法犯罪问题, 其中建议将我国刑法所规定的未成年人承担刑事责任的年龄下调至 12 周岁
——刑法规定未成年人承担刑事责任年龄下限为 16 周岁
 - ③该议案建议对未成年人犯罪之后的监管建立长期追踪机制
——体现了对未成年人的学校保护

- ④如果全国人大常委会表决通过《中华人民共和国未成年人保护法》(修订)
——全国人大常委会行使国家立法权
- A. ①④ B. ②③ C. ①② D. ③④

3. 下列图片的主题反映社会主义核心价值观在公民个人层面要求的是



①




②



③



④



⑤



⑥

- A. ①②③④ B. ②③④⑤
C. ②④⑤⑥ D. ②③⑤⑥
4. 下列有关基础知识的表述, 正确的是
- A. 民族自治地方的自治机关是当地的人大和政府——是中央政权统一领导下的特别行政区
 - B. 小刚遇上难题, 改变惯常思维, 转换角度解决了难题——注意转移法
 - C. 行己有耻, 止于至善——知廉耻, 懂荣辱, 追求做人至高境界
 - D. 商女不知亡国恨, 隔江犹唱后庭花——体现了国家利益至上
5. 改革开放像一列“时光列车”, 根据时间对一路的风景和驿站进行排序, 正确的是
- ①将“国家实行社会主义市场经济”写入宪法
 - ②十一届三中全会开启了改革开放和社会主义现代化建设的伟大征程
 - ③国家经济腾飞, 成为世界第二大经济体
 - ④我国实现了由温饱到小康的历史性飞跃
 - ⑤建设成为富强民主文明和谐美丽的社会主义现代化强国
 - ⑥中国特色社会主义进入了新时代
- A. ②④③①⑥⑤ B. ②①④③⑥⑤
C. ②①④③⑤⑥ D. ②④③①⑤⑥
6. 暑期九年级学生小明报名参加了“生活随手拍”活动, 下列他拍下的内容与所对应的主题相符的是
- A. 青年王某在征兵站报名——积极行使权利
 - B. 市民刘某飞身一跃成功跨越护栏——侵犯了肖像权
 - C. 赫哲族非物质文化遗产传承人张某制作鱼皮画——传承中华优秀传统文化
 - D. 大街上烟雾缭绕、异常火爆的烧烤摊——大众创业



扫描二维码
关注考试信息

7. 下列是小刚某一天遇到的四个情境,其中做法存在问题的是


A. 情境一:小刚将家中的餐厨垃圾顺手扔到了楼下带有图标③的垃圾箱里



①



②



③



④

B. 情境二:小刚需要办理身份证,他去了图标②的地方



①



②



③



④

C. 情境三:办完身份证后,小刚来到超市,购买了带有图标②的绿色食品



①



②



③



④


D. 情境四:乘坐公交车回家时,有位叔叔准备点烟,他指了指图标①,进行善意提醒



①



②



③



④

8. 有什么了不起!

赵某今年16岁,爱好涂鸦,就连平遥古城这样的文化古城都不放过。后被群众举报,当公安人员赶到时,他说:“我爸是大领导,你们找他去!我就是涂个鸭,有什么了不起,这是我的权利!”赵某为他的行为付出了代价,被拘留3天并罚款。

据此材料,下列说法正确的是

- ①赵某的行为属于行政违法行为,从处罚结果也能看出
- ②法律面前人人平等,不管有什么领导背景
- ③赵某的行为不属于公民的权利,而且权利与义务是统一的
- ④拘留3天,属于刑事处罚中的主刑,会被关进监狱执行的
- ⑤“群众举报”值得点赞,因为同违法犯罪行为作斗争是公民的基本权利

A. ①②③ B. ②③⑤ C. ①③⑤ D. ②③④

9. 下列新闻事件不能直接体现“新发展理念”的是

- A. 2019年8月18日,第二届全国青年运动会将在山西举行。“二青会”吉祥物为褐马鸡“青青”
- B. 2019年3月10日凌晨,我国在西昌卫星发射中心用长征三号乙运载火箭,成功将“中星6C”卫星发射升空
- C. 5年来以首都北京为核心,以城市副中心和雄安新区为两翼,京津冀发展正展翅起飞
- D. 2018年7月2日,为期11天的第四十二届联合国教科文组织世界遗产大会上,中国贵州省梵净山获准列入世界遗产名录

10. 中兴和华为几乎同时起步,可是30年过去了,两个企业的规模和命运出现了明显分化。目前华为已位居世界前列;而中兴通讯旗下的手机产品,绝大多数都采用的是美国企业高通的处理器,很多芯片、元器件也都来自美国企业,其发展因美国禁令戛然而止。上述材料启示我们

- ①提升创新能力是企业持续发展之基、市场制胜之道,大国重器一定要掌握在自己手里
- ②商品生产在全球范围内完成,是经济全球化的重要表现
- ③创新是引领发展的第一动力,企业是社会创新的重要力量,必须自强奋斗、敢于突破
- ④面对经济全球化,我们既要顺应历史潮流,也要居安思危,为应对各种困难和挑战做好充分准备

A. ①②④ B. ①③④ C. ②③④ D. ①②③④

11. 小华整理了有关“制度”的知识,其中理解正确的一组是

- ①人民代表大会是我国的最高国家权力机关
- ②在我国的基本经济制度中,体现社会主义性质的是公有制为主体
- ③村民说事制度是我国基层民主治理的一种创新尝试
- ④中国共产党领导的多党合作和政治协商制度是我国的根本政治制度

A. ①② B. ②③ C. ③④ D. ①④

12. 小明看到右面新闻材料后,在笔记本上做了如下批注,其中正确的一组是

- ①“审查2018年国民经济和社会发展计划执行情况”是全国人大在行使监督权
- ②“八、其他”里面应该是:国家主席向全国人民代表大会汇报工作
- ③全国人大和最高人民法院之间是监督与被监督的关系,人民法院上下级是领导与被领导的关系
- ④“政府工作报告”是国务院总理作的,国务院总理是由国家主席提名并根据全国人大的决定任命的
- ⑤人大代表在这次会议上将行使表决权

A. ①④⑤ B. ②③④
C. ①③④ D. ②④⑤

热点新闻

2019年3月4日,第十三届全国人民代表大会第二次会议预备会议通过,第十三届全国人民代表大会第二次会议议程:

- 一、审议政府工作报告
- 二、审查2018年国民经济和社会发展计划执行情况与2019年国民经济和社会发展计划草案的报告
- 三、审查2018年中央和地方预算执行情况与2019年中央和地方预算草案的报告
- 四、审议全国人民代表大会常务委员会关于提请审议《中华人民共和国外商投资法(草案)》的议案
- 五、审议全国人民代表大会常务委员会工作报告
- 六、审议最高人民法院工作报告
- 七、审议最高人民检察院工作报告
- 八、其他

道德与法治

第Ⅱ卷 非选择题 (共 39 分)

二、简答题(本小题共 5 小题,共 21 分)

13. (1) 基础知识填空。(每空 1 分,共 5 分)

- ① 规范国家权力运行以保障公民权利的实现,是宪法的_____。
- ② 处理纠纷和应对侵害最正规、最权威的手段是_____。
- ③ _____是当今时代的主题。
- ④ 猎杀珍贵、濒危野生动物的违法行为应在_____法庭被审判。
- ⑤ _____是社会主义民主的本质特征。

(2) 结合下列图片,完成相应问题。(每空 1 分,共 5 分)




①




②



③



④



⑤



⑥

A: 习近平总书记在庆祝改革开放四十周年大会上做了重要讲话,说到五四运动以来我国有三大历史性事件。请选择对应的图片,并按照时间先后顺序填入横线处_____。(填序号即可) (1分)

B: 十九届一中全会后,习总书记带领政治局七位常委,重返图_____,重申要弘扬_____,不忘初心,牢记使命。请问中国共产党的初心和使命是_____。(3分)

C: 图⑥中反映的历史事件的意义在于_____。(1分)

14. 2019年3月15日上午,十三届全国人大二次会议闭幕,国务院总理李克强会见中外记者并围绕减税降费、养老托幼、营商环境、就业、看病、善待农民工、慢性病入医保等关键词回答了 17 个问题。

结合所学知识,你能从上述材料中得到哪些信息?(3分)

15. “无穷的远方,都与我們有关。”当今的学校教育,早已告别“两耳不闻窗外事,一心只读圣贤书”的时代,青年学子们也纷纷走出校门,通过特殊的方式为社会发展建言献策。

太原某中学 2019 届九年级学生经过调研,模拟政协撰写了《关于加强中小学校食堂膳食营养的提案》,准备提交给市政协。此消息一经传出,大家纷纷为他们点赞。请你说说为他们点赞的理由。(3分)

16. “古法压榨的非转基因花生油”

花生油纯天然非转基因更健康!古法小榨是一种历史很悠久的制油方法。一直以来备受人们的推崇,这种技术最早见于农业技术著作《神农本草》,通过小批量的花生进行物理式压榨,以低出油率为代价,只榨取花生的第一道自然本油,所以每一滴都浓香珍贵。通过这种经典工艺而得到的好油,最大程度保留了花生的营养与风味。这则广告有着很多噱头,请你推测其中可能的虚假宣传成分。(2分)

17. 社会乱象

近日,湖南永州 84 岁的老人邓某上公交后,因没带老年优待证被驾驶员张红提醒,他起身用拐杖殴打张红,随后又分别拿起拖把和扫把进行殴打,施暴时间长达五分钟。警方调查发现,他在前两天还无故殴打另一位女司机。

自发生了重庆公交车坠江事件后,又有几起在公交车上一言不合就大打出手的极端矛盾冲突事件……

从这些事件中,我们可以得到哪些启示呢?(3分)

三、分析说明题(6分)

18. 选作题 1

山西某村有 200 多户人家,似乎被定格在明清之际,最老的房子距今已有 400 多年,有距今 10 万年的旧石器时代人类活动的遗址,还有从明万历年间一直到民国初年的民宅古建院落 40 余座,近 500 间房屋,且该村的古建筑造型别致,风格各异,砖雕、木雕保存完好,古民居内精美的木雕成为中国黄河流域珍贵的民俗活化石。

时至今日,该村的老房子里依然人声不绝,而乡村发展却一直不温不火。面对日

新月异的时代变化,是保护还是发展,自然成了村民们无法回避的问题。对于这个问题,你是如何看待的?请做分析说明。

选作题 2

某知名演员因不知“知网”为何物,因此他的博士学位真实性受到质疑。经调查,该演员涉嫌学术不端、论文造假等问题被撤销博士学位,其他有关人员也受到处理。近几年来,时有媒体曝光大学生找“枪手”、考试作弊被除名、为了让子女上好学校家长不惜高价行贿等……

请对材料中所反映的现象谈谈你的看法。

四、实践探究题(12分)

19. 山西是具有光荣革命传统的老区,现存革命遗址和纪念性建筑物约 1460 处,已成为弘扬民族精神、进行爱国主义和革命传统教育的重要阵地。

太原市某中学九年级的李华、王亮、高明三名同学,在得到家长的同意后,准备利用清明节假期结伴做一个太原周边的革命文化研学游,时间预计两天半。但有些事项他们也不太清楚,请你帮忙参谋一下。



(1)对于研学旅游要走的路线问题,大家开始就有分歧。高明说我们可以先去五台山,再北上朔州看应县木塔,然后到悬空寺,最后返回太原。结果遭到了其他两位同学的反对。


你认为李华和王亮反对的理由是什么?(2分)

(2)最后三位同学选定了一条线路:太原—文水—平遥—太原,可是对于如何出行产生了分歧。李华觉得坐汽车好,王亮觉得坐火车好,高明表示他不知道。请你给他们提出建议并说明理由。(2分)

(3)出行之前,他们好好准备了一番,背包里有零食、矿泉水、相机、笔记本、笔等物品,你觉得还应该准备什么?(2分)

(4)三位同学的第一站是文水县的刘胡兰烈士纪念馆,瞻仰了烈士雕像,重温了烈士事迹,还看到了毛主席亲笔为刘胡兰烈士题的字。你知道毛主席的题字内容吗?(1分)

(5)结束文水的行程后,第二天他们来到了著名的平遥古城。游览途中,在进入城门后,三人进入了一个仍然是四面城墙,只有两个大门洞的地方,高明同学由于没仔细看介绍,对此处表示奇怪。你能告诉他图片中的这个地方叫什么名字吗?古代时有何功能?(2分)



(6)行程结束返回太原后,三位同学非常开心,特别是高明同学,感到收获满满。你觉得他们此行有何收获?(3分)

山西中考模拟百校联考试卷（三）

文科综合（道德与法治）答题卡

姓名 _____ 准考证号

--	--	--	--	--	--	--	--	--	--

<p>考生禁填</p> <p>缺考考生，由监考员用2B铅笔填涂下面的缺考标记</p> <p style="text-align: center;"><input type="checkbox"/></p> <p>缺考标记</p>	<p>注意事项</p> <p>1. 答题前，考生先将自己的姓名及准考证号填写清楚，并认真核对条形码上的姓名及准考证号。</p> <p>2. 选择题必须使用2B铅笔填涂；非选择题必须使用0.5毫米的黑色笔迹签字笔书写，字体工整、笔迹清晰。</p> <p>3. 请按照题号顺序在各题目的答题区域内作答，超出答题区域书写的答案无效；在草稿纸、试卷上答题无效。</p> <p>4. 保持清洁，不要折叠，不要弄破、弄皱，不准使用涂改液、修正带、刮纸刀。</p>	<p>正确填涂</p> <p style="text-align: center;">样例</p> <p style="text-align: center;">■</p>	<p>贴条形码区</p>
--	--	---	--------------

一、选择题

- | | | |
|---|--|--|
| 1 <input type="checkbox"/> A <input type="checkbox"/> B <input type="checkbox"/> C <input type="checkbox"/> D | 6 <input type="checkbox"/> A <input type="checkbox"/> B <input type="checkbox"/> C <input type="checkbox"/> D | 11 <input type="checkbox"/> A <input type="checkbox"/> B <input type="checkbox"/> C <input type="checkbox"/> D |
| 2 <input type="checkbox"/> A <input type="checkbox"/> B <input type="checkbox"/> C <input type="checkbox"/> D | 7 <input type="checkbox"/> A <input type="checkbox"/> B <input type="checkbox"/> C <input type="checkbox"/> D | 12 <input type="checkbox"/> A <input type="checkbox"/> B <input type="checkbox"/> C <input type="checkbox"/> D |
| 3 <input type="checkbox"/> A <input type="checkbox"/> B <input type="checkbox"/> C <input type="checkbox"/> D | 8 <input type="checkbox"/> A <input type="checkbox"/> B <input type="checkbox"/> C <input type="checkbox"/> D | |
| 4 <input type="checkbox"/> A <input type="checkbox"/> B <input type="checkbox"/> C <input type="checkbox"/> D | 9 <input type="checkbox"/> A <input type="checkbox"/> B <input type="checkbox"/> C <input type="checkbox"/> D | |
| 5 <input type="checkbox"/> A <input type="checkbox"/> B <input type="checkbox"/> C <input type="checkbox"/> D | 10 <input type="checkbox"/> A <input type="checkbox"/> B <input type="checkbox"/> C <input type="checkbox"/> D | |

二、简答题

13. (1) ① _____ ② _____ ③ _____

④ _____ ⑤ _____

(2) A _____ B _____

C _____

14. _____

15. _____

16. _____

17. _____

请在各题目的答题区域内作答，超出黑色矩形边框限定区域的答案无效

考号：

姓名：

班级：

学校：

请在各题目的答题区域内作答,超出黑色矩形边框限定区域的答案无效

三、分析说明题(先选择,后作答)

18. 选作题

四、实践探究题

19.(1)

(2)

(3)

(4)

(5)

(6)

请在各题目的答题区域内作答,超出黑色矩形边框限定区域的答案无效