

太原市 2019 年高三年级模拟试题(二)

文科综合能力测试

(考试时间:上午 9:00—11:30)

注意事项:

- 1.答题前,考生务必将自己的姓名、准考证号填写在本试卷与答题卡相应的位置。
- 2.全部答案在答题卡上完成,答在本试卷上无效。
- 3.回答选择题时,选出每小题答案后,用 2B 铅笔把答题卡上对应题目的答案标号涂黑。如需改动,用橡皮擦干净后,再选涂其他答案标号。回答非选择题时,将答案用 0.5mm 黑色笔迹签字笔写在答题卡上。
- 4.考试结束后,将本试卷和答题卡一并交回。

一、选择题:共 35 小题,每小题 4 分,共 140 分。在每小题给出的四个选项中,只有一项是符合题目要求的。

2014 年京杭大运河入选世界文化遗产名录,江苏扬州境内古运河长约 30 千米。16 世纪末,扬州人舍直改弯,把城南 100 多米长的运河河道,重修延长至 1700 多米,解决了该河段漕运易搁浅的问题,这就是著名的扬州运河三湾(图 1)。据此完成 1~2 题。




图 1

1. 16 世纪末,扬州城南运河舍直改弯后,运河航运条件得以改善的主要原因是
A. 流量增大 B. 泥沙减少 C. 航道加深 D. 流速加快
2. 目前,运河三湾地区最适宜发展的产业是
A. 内河航运 B. 文化旅游 C. 湿地养殖 D. 金融商贸

卢旺达位于非洲中东部赤道附近,境内多山,西部边境的湖泊狭长深邃。首都基加利被认为是东非最安全整洁的城市,2008 年成为非洲首个获得“联合国人居奖”的城市。近 20 年来,卢旺达经济增长较快,被称为非洲经济发展的奇迹。近年来,中国企业在卢旺达的投资快速增长,卢旺达公路总里程的 70% 由中资公司修建。据此完成 3~5 题。

3. 近年来,中国企业纷纷在卢旺达投资的首要条件是
A. 投资环境良好 B. 自然资源丰富 C. 劳动力成本低 D. 交通条件便利
4. 卢旺达的中资企业产业构成中占比最高的可能是
A. 建筑业 B. 家电业 C. 采矿业 D. 旅游业
5. 与南非相比,在卢旺达修筑公路可能较多考虑的问题是
A. 防洪水 B. 防地震 C. 防滑坡 D. 动物保护

下表为我国三个省级行政区 2013~2017 年常住人口增量及 2017 年城市化水平。据此完成 6~8 题。

省级行政区	常住人口增量(万人)					2017 年城市化水平(%)
	2013 年	2014 年	2015 年	2016 年	2017 年	
I	50	80	125	150	170	69.85
II	42	53	61	52	59	53.49
III	46	37	19	2.4	-2.2	86.5

6. I、II、III 省级行政区的简称分别是
A. 粤、皖、京 B. 京、皖、粤 C. 皖、粤、京 D. 粤、京、皖
7. 2017 年 II 行政区常住人口增量位居全国前列,其主要原因是
A. 外来人口增加 B. 农业发展迅速 C. 务工人员回流 D. 人口出生率提高
8. 2013~2017 年 III 行政区常住人口数量变化的特点可以概括为
A. 持续增长 B. 持续减少 C. 先增后减 D. 先减后增

我国东南部湿润环境下的典型丹霞地貌区,山体往往具有强烈的离散性,表现为一个个独立的孤岛状山峰和悬崖围闭的沟谷。山峰海拔大多在 300~400 米,悬崖的相对高度大多小于 200 米。独特的地貌特征往往造成植物生长环境的差异,其自然生态分异有别于一般意义上的自然带分异规律。图 2 示意我国东南地区丹霞地貌山顶和悬崖植被的分布,图 3 示意该区域沟谷坡麓的植被类型。据此完成 9~11 题。

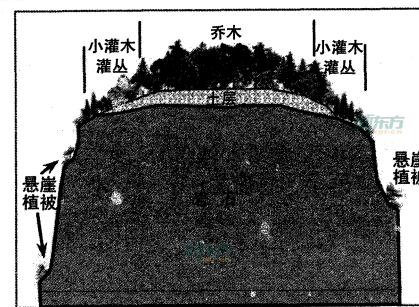


图 2




图 3

9. 导致图 2 中山顶中部与外围地区植被差异的主要因素是

- A. 降水 B. 热量 C. 土壤 D. 风力

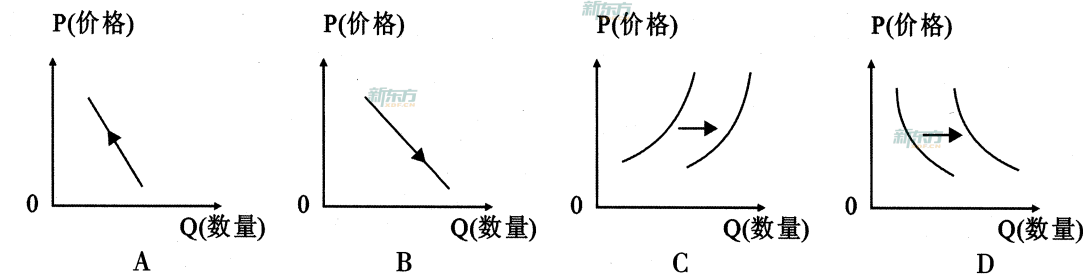
10. 图中悬崖植被

- A. 喜光 B. 喜湿 C. 喜阴 D. 耐旱

11. 与同纬度其他地区相比,我国东南地区丹霞地貌区悬崖围闭的沟谷植被具有较强的

- A. 热带性 B. 温带性 C. 干旱性 D. 单一性

12. 中国政府宣布于 2018 年 11 月 1 日始,降低涉及纺织品、机电产品设备等商品的最惠国税率。如果之前中国进口 X 国一件标价为 100 美元的 M 商品关税税率为 10.5%,2018 年 X 国生产 M 商品的社会劳动生产率提高 10%,我国进口 M 商品的关税税率下调 2.7%,其他条件不变,那么一件 M 商品在我国的售价对消费者的影响可以图示为



13. “禀赋效应”是指:当一个人拥有某项物品后,那么他对该物品的评价要比未拥有之前大大增加。下列做法中企业利用“禀赋效应”原理的是

- ①某科技公司通过股权激励的方式,增强核心员工的归属感
- ②某净水器公司推出净水器免费试用活动,到期不满意免费拆卸
- ③某手机厂商借助明星推广产品与服务,提升其影响力
- ④某电商开展“双 11”打折促销活动,提高营业额增加利润

- A. ①② B. ①④ C. ②③ D. ③④

14. 下表为 2018 年我国国民经济和社会发展的有关情况统计数据。根据表格信息可推断出

GDP 增速	最终消费支出对国内生产总值增长的贡献率	万元国内生产总值能耗比上年下降	第三产业增加值占国内生产总值的比重	全国居民人均可支配收入比上年增长
6.6%	76.2%	3.1%	52.2%	8.7%

①节能减排取得新成绩,产能过剩的问题得到缓解

②经济结构优化,消费成为拉动经济的重要引擎

③居民收入与经济增长同步,人民共享发展的成果

④投资规模不断缩小,第一、二产业利润持续下降

- A. ①② B. ①④ C. ②③ D. ③④

15. 2018 年 11 月,首届中国国际进口博览会在上海举行。博览会吸引了全世界的目光,众多国家和地区精心组织企业参展,这是我国坚定支持贸易自由化和经济全球化、主动向世界开放市场的重大举措。举办进口博览会有利于

- ①缓解国际贸易矛盾,提升人民币的国际地位和影响力
- ②促进全球贸易增长,积极推动开放型世界经济的发展
- ③坚决反对贸易保护主义,引领经济全球化的发展方向
- ④展示世界优秀文明成果,助推国内消费需求优化升级

- A. ①③ B. ①④ C. ②③ D. ②④

16. 城乡社区协商是基层群众自治的生动实践,是社会主义协商民主的重要组成部分和有效实现形式。某市提出,到 2020 年基本形成协商主体多元、程序规范、制度健全、成效显著的城乡社区协商新局面,保证人民在政治生活中享有广泛参与的权利。这有利于

- ①健全国家权力运行监督体系,提升社区治理水平
- ②丰富民主管理形式,拓宽公民政治参与渠道
- ③提升城乡社区治理法治化、科学化、精细化水平
- ④保障居民基本政治权利,实现人民当家作主

- A. ①② B. ①④ C. ②③ D. ③④

17. 2018 年 11 月 10 日起,在全国范围内对第一批 106 项涉企行政审批事项分别按照直接取消审批、审批改为备案、实行告知承诺、优化准入服务等四种方式实施“证照分离”改革。通过这项改革可以

- ①减轻政府监管责任,完善公共服务
- ②转变政府性质,维护市场竞争秩序
- ③推进政府简政放权,促进创新创业
- ④创新管理模式,提高政府行政效率

- A. ①② B. ①③ C. ②④ D. ③④

18. 2019年2月,中美在北京举行第六轮经贸高级别磋商。双方认真落实两国元首阿根廷会晤共识,对技术转让、贸易平衡等共同关注的议题进行了深入交流,双方就主要问题达成原则性共识。这表明

- ①国家间的共同利益是国家合作的基础
- ②平等互利是实现国家合作共赢的前提
- ③维护世界和平已成为国际社会的焦点
- ④经贸关系已成为国际关系的基本形式

A. ①② B. ①③ C. ②④ D. ③④

19. 2018年11月,我国藏医药浴法列入联合国教科文组织非物质文化遗产名录。随着藏医药浴法的列入,我国共有40个项目列入联合国教科文组织非物质文化遗产相关名录。藏医药浴法申遗成功

- ①基于我国非物质文化遗产保护处于世界领先水平
- ②说明灿烂的中华文化既是民族的又是世界的
- ③增强了我国人民对中华文化的理解和认同
- ④是民族文化和民族情感的集中展示和表达

A. ①② B. ①④ C. ②③ D. ③④

20. 讲好中国故事,应立足中国,放眼世界,树立国际化的思维方式,把握古今,贯通东西,精心构建话语体系。这启示我们,彰显社会主义意识形态的影响力和感召力需要

- ①善用世界话语讲好中国故事,用先进理论提升中国经验
- ②大力推进马克思主义多元化、民族化、国际化和中国化
- ③深入推动马克思主义同中国特色社会主义文化建设结合
- ④立足于马克思主义科学理论,反映人民群众的根本利益

A. ①③ B. ①④ C. ②③ D. ②④

21. 2019年4月23日是中国人民海军成立70周年纪念日,我国举行了盛大的海上阅兵。我国的海上战舰从无到有,从弱到强,人民海军科技工作者不断地进行科技攻关,历经设计—试验—失败—总结—再试验……直至成功。这表明

- ①实践基础上的理论创新是社会变革的先导
- ②认识要经历认识—实践—再认识多次反复
- ③人类的认识能力既是有限的又是无限的
- ④实践推动认识的不断深化、拓展和前进

A. ①② B. ①④ C. ②③ D. ③④

22. 漫画《接棒》给我们的哲学启示是

- ①重视量的积累,为实现事物的发展积极创造条件
- ②果断抓住时机,促成事物质变,实现事物的转变
- ③用联系的观点看问题,重视事物前后相继的联系
- ④坚持辩证否定观,在“扬弃”中实现事物的质变

A. ①② B. ①③ C. ②④ D. ③④



23. 蔚保国扎根北斗科研一线23年,历经北斗工程全过程,提出了数字多波束多星测控技术体制,解决了困扰我国航天领域的多星测控难题,2016年获国家科技进步奖特等奖,2018年荣获最美科技工作者称号。蔚保国事迹告诉我们

- ①一个人奉献社会旨在彰显自我价值
- ②人生价值在于对社会的责任和贡献
- ③创造性思维是实现人生价值的前提
- ④人既是价值创造者也是价值享受者

A. ①② B. ①③ C. ②④ D. ③④

24. 公元前546年,宋国大夫向戌约晋、楚两国在宋国都城商丘开会,调停两国间的战争,这次弭兵会盟由各国有势力的大夫参加。会议约定各国间停止战争,破坏协议者,各国共讨之。这一活动

- A. 标志着分封制已经瓦解
- B. 反映了士族阶层的崛起
- C. 表明政治结构发生改变
- D. 确立了宋国的霸主地位

25. 秦汉时期,漕粮通过黄河、渭河由东向西运抵长安;唐宋期间,漕运逐渐转变为由东南而西北;元、明、清三朝,漕运则转变为南北方向,由南而至北。古代漕运线路的变化

- A. 适应了经济格局的变化
- B. 推动了经济重心的南移
- C. 有利于经济的协调发展
- D. 影响了对外贸易的发展

26. 宋太宗选拔将领,重视其是否“循谨”,即能很好管束下属,武勇则次之。宋真宗御制武臣“敕七条”规定,将领的关键在于修身、守职及威严三项,无一条涉及果敢用兵等要求。由此可见宋朝初年

- A. 治军突出理学思想
- B. 实行重文轻武政策
- C. 制衡兵权管控过度
- D. 铲除地方割据势力

27. 据史料记载,清康熙二十三年(1684年),北起辽宁南至广东,分布大小港口有一百多处。几乎所有亚洲、欧洲、美洲的主要国家都与中国发生了直接贸易关系,中国出口的商品有236种之多。这一现象表明当时
- A. 清政府逐渐废除了“海禁”政策
B. 中国与世界经济联系比较密切
C. 中国的资本主义萌芽发展迅速
D. 中国在对外贸易中居于出超地位
28. 1830年,47名在华英商上书英国国会,历数在华遭受的禁止乘轿等诸多限制,控诉广东当局称其为“奸夷”。1834年,80余名英商致国王的请愿书建议发动战争解决对华关系问题。这反映出
- A. 英商旨在维护大英帝国尊严
B. “海禁”政策阻断了中英贸易
C. 英国寻求平等的对华关系
D. 侵华战争舆论氛围逐渐形成
29. 1908年,湘潭绅商们对于粤汉铁路正线不经过湘潭深感忧虑:“潭埠势必永远成废”,“数百年祖宗营业,一旦归于无何有之乡,万众能不寒心!”最终结果,湘潭隔江与铁路相望,距其15公里的株洲则因铁路通车走向兴盛。由此可见
- A. 铁路改变南北经济格局
B. 新式交通影响地方兴衰
C. 列强通过路权蚕食掠夺
D. 地方绅商掀起保路运动
30. 1946年4月,晋察冀解放区在首府张家口市举行了国民参政会(一个政府政策的民间咨询机关)委员的选举,大约有80%的市民参加了这次选举,最终选出了90名参政会委员和30名候补委员,包括社会各阶层成员。这表明中国共产党
- A. 实行多党合作的政协制度
B. 受到苏联政治体制的影响
C. 努力探索新民主主义道路
D. 得到广大农民群众的支持

31. 1984年中央1号文件规定,土地承包期一般应在十五年以上。1993年中央11号文件规定,在原定的耕地承包期到期之后,再延长三十年不变,还赋予农民更加充分而有保障的土地承包经营权。这反映出
- A. 农民的土地承包权发生质变
B. 农村经济体制改革逐渐深化
C. 农业经济发展障碍得以消除
D. 农村产业结构调整效果显著
32. 在古代雅典,戏剧家的创作主要涉及城邦政务、社会矛盾、人生困惑等问题,戏剧开演前通常会有一些仪式,为国牺牲公民的子女被请上舞台,城邦事务发言人会当众宣布他们可以在成年以前得到城邦抚恤金。这些现象说明雅典
- A. 民主政治达到顶峰
B. 人文主义思潮盛行
C. 注重强化城邦意识
D. 公民政治地位提高
33. 图4反映的是19世纪初在英国出现的工人大规模捣毁机器、袭击厂主的卢德运动,1813年英国政府颁布《捣毁机器惩治法》,规定可用死刑惩治破坏机器的工人。据此可知当时英国
- A. 工人运动缺乏科学理论指导
B. 工业革命完成激化阶级矛盾
C. 无产阶级联合起来提高待遇
D. 政府依然具有浓厚专制色彩
34. 1932年,全世界机器出口的1/2销往苏联,在苏工作的外国专家近2000人;1933年,苏联向西方国家贷款总额高达14亿卢布;1935年,出现苏联与资本主义国家建交高潮。这些现象反映了
- A. 该时期国际形势趋于缓和
B. 西方经济危机局面得到缓解
C. 经济全球化得以加速发展
D. 经济建设突破意识形态阻碍
35. 2011年,德国和法国共同编撰的“讲述欧洲历史的教科书”历时五年终于完成。创造了编撰共同历史教科书的德法模式,即“双方一直磨合到彼此就大部分争议问题达成共识,再开始共同撰写教科书”。这种模式的出现
- A. 重新建构了欧洲的历史
B. 有效推动了欧盟的建立
C. 有助于实现世界的和平
D. 体现了史学的现实功能




图4

二、非选择题:共 160 分。第 36~42 题为必考题,每个试题考生都必须作答。第 43~47 题为选考题,考生根据要求作答。

(一)必考题,共 135 分

36. 阅读图文资料,完成下列要求。(24 分)

2018 年 6 月微软公司将代号为“北方群岛”的数据中心部署在苏格兰的奥克尼群岛附近海底。奥克尼群岛目前是欧洲的可再生能源研究中心。数据中心是用特定设备在互联网上传输、存储数据信息的场所,其运行和散热耗能巨大,规模以运行耗能的多少来衡量。图 5 示意微软公司大型数据中心的全球分布及奥克尼群岛的地理位置。

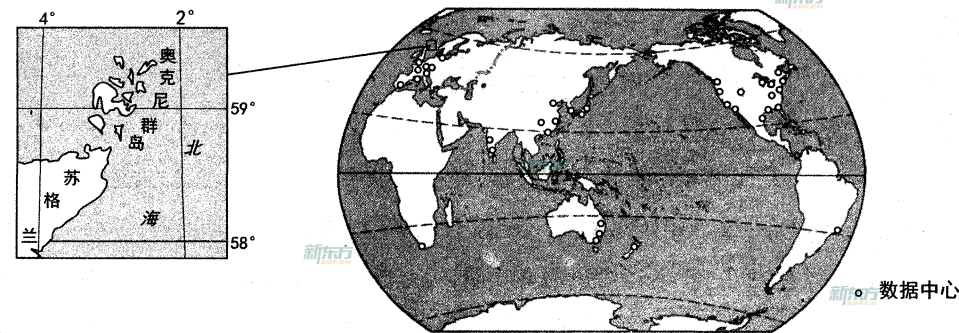


图 5

(1)据图概括微软公司大型数据中心的分布特点。(6 分)

(2)分析奥克尼群岛附近海底布局水下数据中心的优势条件。(6 分)

(3)推测“北方群岛”在建设中需克服的自然障碍。(6 分)

(4)有人建议推广“北方群岛”的经验,在全球范围内建设沿海水下数据中心,你是否赞成?请表明态度并说明理由。(6 分)

37. 阅读图文资料,完成下列要求。(22 分)

人多地少是填海的内在需求,淤泥浅滩是造陆的自然条件。澳门是世界上人口密度最大的地区,也是世界上填海造陆比例最高的地区。随着填海造陆工程的推进,海岸生态问题逐渐显现。2018 年 7 月底,我国推出限制围填海政策。珠江水系素有“三江汇流,八口入海”之美誉,珠江河口的泥沙淤积状况是陆地径流和海水运动交互作用的结果。2009 年澳门大学搬迁至珠海市。图 6 示意珠江口及澳门位置,图 7 示意澳门面积的变化,下表为珠江三条支流的统计数据。

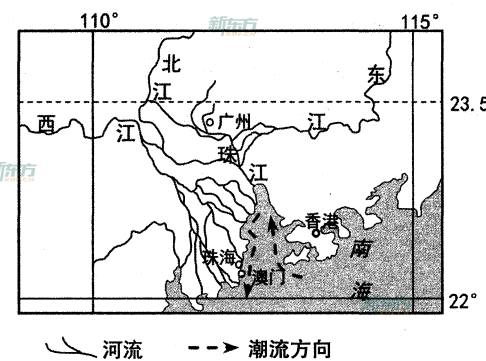


图 6

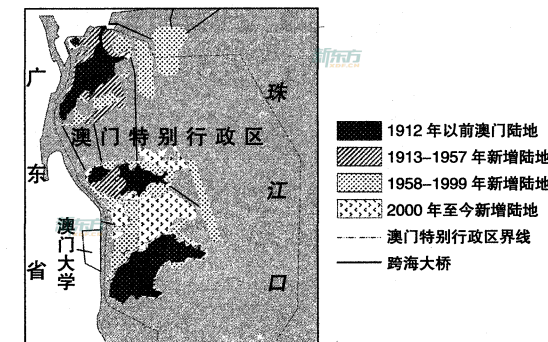


图 7

	干流长度(km)	集水面积(km ²)	多年平均径流量(亿 m ³)	多年平均输沙量(万吨)
西江	2214	353120	2200	6802
北江	573	52068	410	515
东江	562	35340	220	314

(1)分析西江输沙量远远高于北江、东江的原因。(6 分)

(2)与香港相比,说明澳门填海造陆的自然优势。(6 分)

(3)说明澳门填海造陆可能带来的生态问题。(4 分)

(4)填海造陆不能从根本上解决土地资源的不足。请为澳门走出这一困境献计献策。(6 分)

38. 阅读材料,完成下列要求。(14分)

2018年,某市GDP为2229亿元,人均GDP为10.57万元,占全省经济总量1/16,其中民营经济占比超过九成。该市纺织服装、制鞋、建材陶瓷、食品饮料、纸制品、装备制造、化纤等亿元以上企业超过700家,集成电路、石墨烯等新兴产业崛起,形成了主业鲜明、集群化态势鲜明的产业集群。专注于一双鞋、一片纸、一颗糖、一把伞……以民生产品制造为主的实体经济是该市产业的根基,在全市GDP总量中贡献占比达60%以上,由实体经济创造出的产值、税收和就业岗位占比都在95%以上。产城融合、以城带乡、以产兴城、全市统筹、城乡一体,城乡差距日益缩小。目前,该市已有上百家制造企业直接在海外设厂,参与全球化分工。改革开放以来,该市走出了一条独具特色的发展道路。

结合材料,运用经济生活知识,分析该市是如何走出一条独具特色发展道路的。

40. 阅读材料,完成下列要求。(26分)

2019年3月18日,中共中央总书记、国家主席、中央军委主席习近平在北京主持召开了学校思想政治理论课教师座谈会。

材料一 习近平总书记强调,思想政治理论课是落实立德树人根本任务的关键课程。青少年阶段是人生的“拔节孕穗期”,最需要精心引导和栽培。我们办中国特色社会主义教育,就是要理直气壮开好思政课,用新时代中国特色社会主义思想铸魂育人,引导学生增强中国特色社会主义道路自信、理论自信、制度自信、文化自信,厚植爱国主义情怀,把爱国情、强国志、报国行自觉融入坚持和发展中国特色社会主义事业、建设社会主义现代化强国、实现中华民族伟大复兴的奋斗之中。

材料二 互联网为思政课的发展提供了广阔平台。由教育部依托北京高校思想政治理论课高精尖创新中心建设的“全国高校思想政治理论课教师网络集体备课平台”,能够完成集体备课、线上答疑、教学观摩展示,还可以提供教学资源检索、资源管理、在线备课、互动教学等服务,仅2018年,教育部就累计培训20万人次。但同时,一批青少年在互联网经济和新媒体冲击下,功利意识凸显。有人认为,互联网减弱了思政课的教学效果。

(1)结合材料一,运用文化生活知识,分析开好思政课对培养时代新人的作用。(12分)

(2)有人认为,“互联网减弱了思政课的教学效果”。结合材料二,运用两点论和重点论统一的知识对此观点进行评析。(10分)

(3)做时代新人,要学好思政课。请围绕如何学好思政课提两条方法论建议。(4分)

39. 阅读材料,完成下列要求。(12分)

为扩大对外开放,促进外商投资,推动形成全面开放新格局,构建开放型经济新体制,中共中央提出制定《外商投资法》。按照党中央决策部署和中央全面依法治国委员会工作要求,国务院有关部门经过认真调研、征求意见和论证协调,拟订了《外商投资法(草案)》,并提请全国人大常委会审议。全国人大常委会两次审议草案,采取多种形式广泛征求意见反复修改,不断调整完善。第十三届全国人大宪法和法律委员会对草案进行统一审议。2019年3月15日,十三届全国人大二次会议第四次全体会议表决通过了《外商投资法》。

结合材料,运用政治生活知识,分析《外商投资法》由中共中央提出并经全国人大审议通过的原因,并说明制定《外商投资法》的重要意义。

东
封
线
内
不
要
答
题

41. 阅读材料,完成下列要求。(25分)

材料一 明代乡绅阶层是国家权力末梢的自治主体,充当国家治理乡村的代理人。其来源,一种是未仕但具有准官僚资格的生员、监生、举人;一种是通过科举途径做官而致仕的居乡官僚;第三类是无功名无官职的乡里领袖,被地方官任命为“乡约正”,负责讲解圣谕和约规,以和睦宗族,正地方风俗。明末,顾宪成和高攀龙因政治失败,以乡绅的身份隐居无锡乡里,重修东林书院,主持读书讲学活动,被称为“东林党人”。崇祯年间,乡绅张溥等人在江南地区组织了规模庞大的“复社”组织。东林党和复社都积极参与政治运动,追求社会稳定和政治清明,对晚明政治产生了极大影响。

——摘编自秦德君《中国古代“乡绅之治”:治理逻辑与现代意蕴》等

材料二 1540—1640 年被称为“流动的世纪”,英国社会稳定、经济繁荣,乡绅阶层日益兴起。乡绅属于地主阶级,是介于贵族与农民之间的中间阶层,大致包括骑士、缙绅与纹章乡绅三个群体。16 世纪初乡绅人数约为 6000,到 17 世纪末增长到约 20000 人。乡绅人数增加源于社会流动的加快。英国农业资本主义与商业的迅猛发展导致新财富增加,一大批出身非乡绅家庭的新富人士集中涌现,通过努力实现了地位提升。宗教改革后,大量的修道院土地被政府没收并出售,促进了土地市场活跃,为大批新富人士通过购置土地成为乡绅地主提供了条件。国家对于新富之人积极吸纳,为其提供了政治保证。1568 年官方纹章院开始向新兴社会人士开放申请,引起人们追逐爵位纹章的热潮,出现了“荣誉膨胀”现象。据统计,1560—1639 年间官方授予的新纹章数量多达 3760 个,而成功晋升绅士的莎士比亚正是这一变化的受益者。

——摘编自许明杰《从莎士比亚遗嘱看英国乡绅的兴起》

(1)根据材料一并结合所学知识,说明晚明乡绅阶层在当时社会生活中的作用。(8分)

(2)根据材料一、二并结合所学知识,比较晚明与英国乡绅的不同点,并分析其成因。(17分)

42. 阅读材料,完成下列要求。(12分)

材料 1919 年大事记

时间	事件
1月18日	中国代表顾维钧在巴黎和会上明确提出“山东是中国领土,战败国德国应将其山东的一切权利直接交还中国”。
2月28日	南北和平五次会议召开,和谈陷于僵局。
3月31日	陈毅、李富春等 26 人赴法勤工俭学。
4月6日	《每周评论》刊载《共产党宣言》的部分文章。
5月2日	美国实用主义哲学家、教育家杜威来华讲学。
5月4日	北京大学学生向天安门广场集中时,和警方发生冲突,从而爆发举世闻名的五四运动。
6月3-7日	上海、天津、南京等地发生罢工、罢市、罢课声援五四运动。
7月6日	张作霖借日军力量称霸东三省。
8月	中国试制成功第一架水上飞机——“甲型一号”。
9月	李大钊在本月出版的《新青年》上发表了《我的马克思主义观》,完整介绍了马克思主义。
9月25日	张伯苓创办的私立南开大学开学。
11月12日	日本人制造“台江事件”,北京政府外交部向日本驻华公使发出抗议照会。
本年	上海、北京等大中城市女性流行一种短衣长裤的着衣时尚,服装逐渐西化。

——据吴晓波《跌荡一百年》等整理

根据材料并结合中国近代史所学知识,解读上表中的主要历史现象。(要求:从材料中提取一个或多个历史现象,解读全面准确,须史论结合。)

(二)选考题:共 25 分。请考生从 2 道地理选考题、3 道历史选考题中每科任选一题作答。如果多做,则每科按所做的第一题计分。

43.【地理——选修 3:旅游地理】(10分)

已有 600 年历史的故宫,近几年成为火爆的“新网红”。朝珠耳机、故宫口红、故宫日历等文化创意产品在网上的热销,《我在故宫修文物》、《上新了,故宫》等纪录片和综艺节目的播出,《千里江山图》、《清明上河图》等文物的特别展览……日益引发了大众,特别是年轻人对中国传统文化的尊重和热爱。“紫禁城里过大年”、“紫禁城上元灯会”等文化活动,更是让 2019 年春节的故宫博物院再次游人爆满,门票的预约网站也曾一度瘫痪。

说明故宫的运作模式对我国文化遗产类景区发展的启示,以及在游客流量增大时应采取的措施。(10分)

44.【地理——选修6:环境保护】(10分)

占海洋面积不足2%的珊瑚礁,养育着全球1/4的海洋生物。珊瑚的生存对水温和水质的要求较为苛刻,最适宜的生长温度为25~27℃之间。近30年来,由于海水升温、人为破坏等原因,珊瑚礁的全球性衰退已达40~50%。广西涠洲岛(图8)位于珊瑚分布的北缘,表层海水多年平均温度为24.6℃,将成为热带珊瑚未来的避难所。目前科学家正在涠洲岛海域进行人工繁育“种”珊瑚的实验,积极保护和修复珊瑚礁。

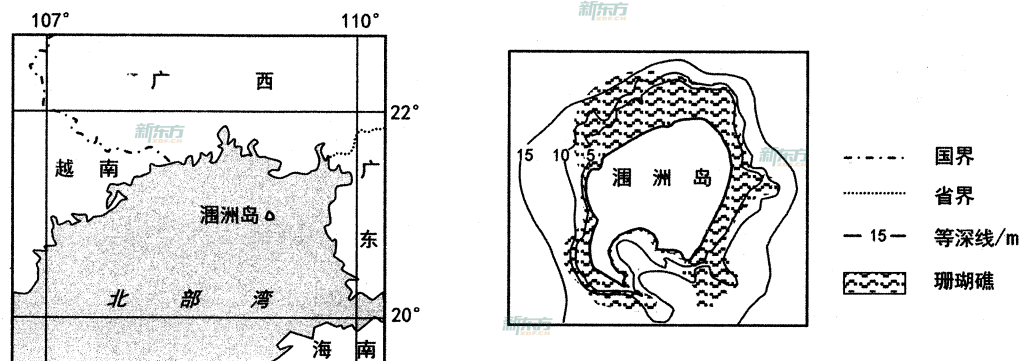


图8

分析涠洲岛能够成为未来热带珊瑚生存避难所的原因,并说明在涠洲岛“种”珊瑚的生态意义。

45.【历史——选修1:历史上重大改革回眸】(15分)

材料 为有效掌控财税资源,征派赋役,维系国家运转,政府需借助一套由户籍、地籍、征籍等构成的册籍系统。明洪武年间,主要以人户为中心的赋役黄册为主,以土地为中心的鱼鳞图册为辅,互为经纬。明中后期,赋役征收的对象逐渐由人户转向田地,土地和地籍就演变为赋役征派的主要依据。由于民户人丁、田地的变化,加上地方役吏从中舞弊,一些黄册所开列人户的姓名和事产早已不符合实际,黄册制度逐渐陷入紊乱和废弛状态。有鉴于此,地方州县为应对征税而编制了实用文册——实征册,又名白册,按照实际需要灵活编制,更切合本地区的实况,很快就在全国大部分地区被普遍采用,政府逐步确立了田赋“定额化”的原则,以此来确保国家财政的收入。清初编纂的赋役全书成为一种征税标准,于是实征册就成为田赋“定额化”下州县实征的重要册籍。

——摘编自杨国安《账簿与权力:清代实征册与乡村基层赋税征收》

(1)根据材料并结合所学知识,简析明清编定实征册的原因。(8分)

(2)根据材料并结合所学知识,说明明清实征册制度产生的影响。(7分)

46.【历史——选修3:20世纪的战争与和平】(15分)

材料 凯南和尼采是冷战史上最有代表性的美国战略家。凯南是职业外交家和历史学家,集知识分子特有的天真与执着于一身。凯南认为杜鲁门主义的言辞过于夸张,以自由为名在世界所有地区抵制共产主义,既无必要也不可能,他的信念是“想要和平,那就采取和平的行动”。凯南反对军备竞赛,希望美国在裁军谈判中做出让步和妥协,他把冷战竞争的结局更多地寄托在苏联的内部变化上。这种立场被认为过于软弱,抑或过于理想化。尼采更像精于算计的华尔街投资银行家,他有决断力,重视协作,讲求效率,更相信数据和事实而非直觉。他信奉的是“想要和平,那就准备战争”,他更重视美苏之间意识形态分歧和制度性矛盾,并不认为杜鲁门主义有何不妥。尼采认为美国的战略是防御性的,苏联则不然,因此美国必须有更强的军事力量,使苏联不敢发动第一次打击。他认为美国是最伟大的国家,有责任运用自己的力量改造世界。

——摘编自石斌《核时代的美国安全观念与战略传统》

(1)根据材料,指出凯南与尼采对美苏关系认识的异同。(8分)

(2)根据材料并结合所学知识,简评两人的冷战思想对美国外交政策的影响。(7分)

47.【历史——选修4:中外历史人物评说】(15分)

材料 1828年11月,容闳出生于广东省香山县。1850年,他在美国慈善组织资助下进入耶鲁大学学习,四年后以优异成绩毕业,是耶鲁大学乃至所有美国大学里第一个中国毕业生。1860年11月,容闳前往“天京”,对洪仁玕提出七条建议:设立武备学校,海军学校,实业学校,颁定各级学校教育制度等。但当时天国政权已风雨飘摇,容闳发现太平天国远不是自己想象的理想国,他大失所望,落魄离开。1863年秋,容闳到安庆拜见曾国藩,被正式任命为出洋委员,赴美国购买机器筹办机器制造厂,之后又受命协助管理江南制造局。1872年春,容闳被任命为出洋副委员,主抓幼童选派和监督事务,他一共选拔并陪同120名幼童出洋。数十年后,这些留学生成长为转型中国的中坚力量。1898年,70岁的容闳积极参加维新派各种学会活动,甚至把自己在北京东安门的寓所提供给了维新党领袖作会场。变法失败后,容闳流亡香港,他转而加入革命党阵营,帮助孙中山筹集起义军费。1912年4月21日容闳客死异乡。葬礼上,牧师讲了这样一段悼词:“假如他还没有老,他一定会亲自参加革命,他的与生俱来的、热爱效忠中国的光焰,绚丽燃烧,直到他生命的尽头。”他的代表作《西学东渐记》堪为近代中国西学东渐和中美交流历史的经典文本。

——摘自《中国留学生之父容闳》

(1)根据材料并结合所学知识,概括容闳对中国近代化做出的贡献。(8分)


(2)根据材料并结合所学知识,分析容闳一生支持各项进步事业的原因。(7分)

弥封线内不准答题

文科综合答题卡

姓名 _____

准考证号



注意事项

- 1.答题前，考生务必须先认真核准条形码上的姓名、准考证号，然后使用0.5毫米的黑色笔迹签字笔将姓名、准考证号填写在相应位置，并在答题卡背面左上角填写姓名和准考证号末两位。准考证号的每个书写框内只能填写一个阿拉伯数字。要求字体工整、笔迹清晰。填写阿拉伯数字的样例：0123456789
- 2.答选择题时，必须使用2B铅笔填涂。修改时，要用橡皮将修改处擦干净。规范填涂样例：
- 3.答非选择题时，必须使用0.5毫米的黑色笔迹签字笔书写；作图题可先用铅笔绘出，确认后再用0.5毫米的黑色笔迹签字笔描清楚。要求字体工整、笔迹清晰。严格按题号所指示的答题区域作答，超出答题区域书写的答案无效；在试题、草稿纸上答题无效。
- 4.保持答题卡清洁、完整。严禁折叠，严禁在答题卡上作任何标记、严禁使用涂改液、胶带纸和修正带。严禁污染答题卡上的黑色方块。
- 5.未按上述要求填写、答题，影响评分质量，后果自负。

■ 此栏禁止考生填涂 缺考标记 □ 缺考考生由监考员贴条形码，并用2B铅笔填涂左边的缺考标记。

选择题 (用2B铅笔填涂)

<input type="checkbox"/> 1 [A] [B] [C] [D]	<input type="checkbox"/> 6 [A] [B] [C] [D]	<input type="checkbox"/> 11 [A] [B] [C] [D]	<input type="checkbox"/> 16 [A] [B] [C] [D]
<input type="checkbox"/> 2 [A] [B] [C] [D]	<input type="checkbox"/> 7 [A] [B] [C] [D]	<input type="checkbox"/> 12 [A] [B] [C] [D]	<input type="checkbox"/> 17 [A] [B] [C] [D]
<input type="checkbox"/> 3 [A] [B] [C] [D]	<input type="checkbox"/> 8 [A] [B] [C] [D]	<input type="checkbox"/> 13 [A] [B] [C] [D]	<input type="checkbox"/> 18 [A] [B] [C] [D]
<input type="checkbox"/> 4 [A] [B] [C] [D]	<input type="checkbox"/> 9 [A] [B] [C] [D]	<input type="checkbox"/> 14 [A] [B] [C] [D]	<input type="checkbox"/> 19 [A] [B] [C] [D]
<input type="checkbox"/> 5 [A] [B] [C] [D]	<input type="checkbox"/> 10 [A] [B] [C] [D]	<input type="checkbox"/> 15 [A] [B] [C] [D]	<input type="checkbox"/> 20 [A] [B] [C] [D]
<input type="checkbox"/> 21 [A] [B] [C] [D]	<input type="checkbox"/> 26 [A] [B] [C] [D]	<input type="checkbox"/> 31 [A] [B] [C] [D]	
<input type="checkbox"/> 22 [A] [B] [C] [D]	<input type="checkbox"/> 27 [A] [B] [C] [D]	<input type="checkbox"/> 32 [A] [B] [C] [D]	
<input type="checkbox"/> 23 [A] [B] [C] [D]	<input type="checkbox"/> 28 [A] [B] [C] [D]	<input type="checkbox"/> 33 [A] [B] [C] [D]	
<input type="checkbox"/> 24 [A] [B] [C] [D]	<input type="checkbox"/> 29 [A] [B] [C] [D]	<input type="checkbox"/> 34 [A] [B] [C] [D]	
<input type="checkbox"/> 25 [A] [B] [C] [D]	<input type="checkbox"/> 30 [A] [B] [C] [D]	<input type="checkbox"/> 35 [A] [B] [C] [D]	

非选择题 (用0.5毫米的黑色笔迹签字笔书写)

36. (24分)
(1) (6分)

(2) (6分)

请在各题目的答题区域内作答，超出答题区域的答案无效

请在各题目的答题区域内作答，超出答题区域的答案无效

(3) (6分)

(4) (6分)

37. (22分)

(1) (6分)

(2) (6分)

(3) (4分)

(4) (6分)

请在各题目的答题区域内作答，超出答题区域的答案无效

请在各题目的答题区域内作答，超出答题区域的答案无效

38. (14分)

39. (12分)

40. (26分)

(1) (12分)

请在各题目的答题区域内作答，超出答题区域的答案无效

考生必填：姓名 准考证号末两位

考生务必将姓名、准考证号末两位用0.5毫米的黑色笔迹签字笔认真填写在书写框内，准考证号末两位的每个书写框只能填写一个阿拉伯数字。

请在各题目的答题区域内作答，超出答题区域的答案无效

(2) (10分)

(3) (4分)

41. (25分)

(1) (8分)

请在各题目的答题区域内作答，超出答题区域的答案无效

请在各题目的答题区域内作答，超出答题区域的答案无效

(2) (17分)

42. (12分)

请在各题目的答题区域内作答，超出答题区域的答案无效

请在各题目的答题区域内作答，超出答题区域的答案无效

地理选考题 43. 44.

(考生从给出的第43、44两题中任选一题作答。注意：只能做所选定的题目。如果多做，则按所做的第一个题目计分，作答时请用2B铅笔将所选题号后的方框涂黑。)

地理选做题号 _____ (10分)

历史选考题 45. 46. 47.

(考生从给出的第45、46、47三题中任选一题作答。注意：只能做所选定的题目。如果多做，则按所做的第一个题目计分，作答时请用2B铅笔将所选题号后的方框涂黑。)

历史选做题号 _____ (15分)

(1)

(2)

请在各题目的答题区域内作答，超出答题区域的答案无效