

山西中考模拟百校联考试卷(四)



晋文源出品, 盗印必究

文科综合
道德与法治

注意事项:

1. 文科综合由历史和道德与法治两部分组成, 满分 150 分, 考试时间 150 分钟。其中道德与法治部分采用开卷考试, 分第 I 卷和第 II 卷, 全卷共 8 页, 满分 75 分, 考试时间 70 分钟。
2. 答卷前, 考生务必将自己的姓名、准考证号填写在本试卷相应的位置。
3. 答案全部在答题卡上完成, 答在本试卷上无效。
4. 考试结束后, 将本试卷和答题卡一并交回。

第 I 卷 选择题 (共 36 分)


一、选择题(在每小题的四个选项中, 只有一项最符合题意, 请选出并在答题卡上将该项涂黑。本大题共有 12 小题, 每小题 3 分, 共 36 分)

1. 下列不属于 2019 年十三届全国人大二次会议议程的是

- ①全国“两会”继续设立代表通道、委员通道和部长通道, 肩负人民重托、彰显履职风采
- ②国家监察委员会是中央一级的监察机关, 由全国人大产生, 国家监察委主任向全国人大作工作报告
- ③审查 2018 年国民经济和社会发展计划执行情况与 2019 年国民经济和社会发展计划草案的报告
- ④中华人民共和国中央军事委员会主席由全国人民代表大会选举产生, 也要向人大报告工作并受人大监督

- A. ①②④ B. ②③④ C. ①③④ D. ①②③


2. 下列有关人大或政协的内容与图片对应正确的是



① ② ③ ④

- A. 在图①会议上颁布了《共同纲领》, 起到了临时宪法的作用
- B. 图②会议于 2019 年 3 月 3 日召开, 政协委员列席会议
- C. 全国人大代表是从图③在场的人大代表中直接选举产生的
- D. 图④是关于 2019 年全国人大会议的报道

3. 下列图片与“民主”和“和谐”问题有关的分别是



- A. ①③/②⑤ B. ①⑤/②⑥ C. ①⑤/③④ D. ②⑤/①⑥

4. 复习课上, 老师展示了下列热点事件, 其中解读正确的一组是

- ①《红海行动》《战狼 2》一经播出就异常火爆
——高票房背后充分体现了文化自信
- ②2019 年 1 月 1 日, 《中华人民共和国电子商务法》正式实施
——这是互联网经济在法治上的体现
- ③在外交部山西全球推介会综合展区, 一段视频展示了百度如何打造山西智慧城市
——创新已经成为世界主要发达国家发展战略的重心
- ④山西省发展改革委下达山西省教育现代化推进工程(切块下达项目)2019 年中央预算内投资计划, 涉及长治市第五中学校学生公寓楼、襄汾县职业技术教育中心 31 个建设项目
——项目实施有利于教育的发展

- A. ①②④ B. ①③④ C. ②③④ D. ①②③

5. 某校模拟法庭小组接受了几个案件, 其中属于犯罪行为的是

- A. 社会青年李某、张某二人因看路人王某不顺眼, 将其殴打成轻微伤
- B. 17 岁中学生赵某多次持刀强夺小学生财物, 得赃款 1000 多元
- C. 出版社未经作者同意发表其作品
- D. 骑自行车闯红灯被交警罚款



扫描二维码
关注考试信息

6. 小飞同学非常喜欢中华传统文化,特意整理了一些经典古语,但其中存在一些理解偏差,请你帮他找出来

- ①“悬衡而知平,设规而知圆”比喻有了严明的法度,人们才会有所遵循,告诉我们应遵守规则。
- ②“鞠躬尽瘁,死而后已”告诉我们在有生之年要积极服务社会,为社会做贡献,死了以后就没人记得你了。
- ③“夫喜群而恶独,相扶而相植者,人情之所乐也”喜欢聚群,不好孤独,乐于互助合作,是人之常情,告诉我们要养成亲社会行为。
- ④“千里之堤,毁于蚁穴”长长的堤坝因为小小蚂蚁的啃噬,可能会被摧毁,告诉我们生活中要注意防虫灭虫,加强预防。
- ⑤“天地生人,有一人应有一人之业;人生在世,生一日当尽一日之勤”告诉我们无论何时何地,都应努力提升素质,勇于承担责任。

- A. ①⑤ B. ①③ C. ②③ D. ②④

7. 你认识这些图标吗?


在道德与法治课上,老师展示了几个国际组织的图标,同学们兴奋地议论开了。以下同学的说法正确的是

芳芳:图标①的总部在瑞士日内瓦,是一个独立于联合国的永久性国际组织,负责管理世界经济和贸易秩序,有“经济联合国”之称。

李涛:图标②是西方的重要军事力量。这是二战后西方阵营军事上实现战略同盟的标志,是马歇尔计划在军事领域的延伸和发展。

马璐:图标③主体是中国、俄罗斯、哈萨克斯坦、吉尔吉斯斯坦、塔吉克斯坦和乌兹别克斯坦六个成员国,是亚太地区重要的经济合作论坛,也是亚太地区最高级别的政府间经济合作机制,中国是其重要的成员国。

杨洋:图标④是国际奥林匹克五环旗,我国在2008年举办了第29届夏季奥运会。



- A. 芳芳和李涛 B. 李涛和马璐 C. 马璐和杨洋 D. 芳芳和杨洋

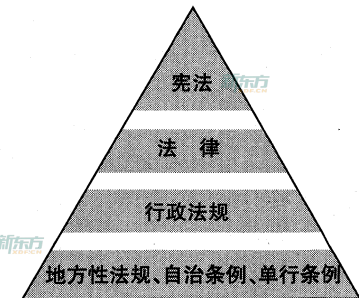
8. 2019年3月15日,第十三届全国人民代表大会第二次会议以2929票赞成,8票反对,8票弃权表决通过了《中华人民共和国外商投资法》,并将于2020年1月1日起施行。下列说法正确的是

- A. 这表明全国人大在行使国家立法权,全国人大是我国的立法机关
- B. 习近平同志签署主席令,他是中华人民共和国中央军委主席的身份签署的
- C. 此法的立法程序为:提出——表决——审议——公布
- D. 8票弃权,说明这些人大代表没有认真履行自己的职责

9. 右图是中国特色社会主义法律体系示意图,以下对我国法律体系认识错误的是

- ①截至2018年10月,我国除宪法外,有有效法律268件,行政法规757件,地方性法规、自治条例、单行条例12000多件
- ②国务院根据宪法和法律,制定行政法规
- ③地方性法规、自治条例、单行条例由地方各级人大及其常委会制定
- ④行政法规和道德一样,不具有强制性

- A. ①② B. ③④ C. ②③ D. ①④



10. 下列对学科基础知识的认识和理解错误的有

- ①由广大人民选举产生组成的人民政协是我国的爱国统一战线组织
- ②我国在少数民族聚居的地方实行民族区域自治,分区、州、县三级
- ③村委会、居委会、街道办都是基层群众自治的有效形式
- ④人大和政协都有五级,在县级以上设常委会
- ⑤全国人大是我国最高权力机关,“一府两院”由它产生并接受其领导

- A. 4个 B. 3个 C. 2个 D. 1个

11. 为了培养学生的核心素养,某中学积极落实课标中的活动建议,定期组织学生开展社会实践活动,下列同学们参与的活动与科学精神有关的是

- A. 科技馆里同学们分小组进行项目式学习
- B. 到市中级人民法院旁听庭审
- C. 鹊雀楼前,老师带同学们进行《登鹊雀楼》教学
- D. 学校组织的防震、防火自救逃生演练

12. 以下关于宪法知识的认识,不正确的有

- ①宪法规定的是国家生活中根本性、全局性的问题,如我国的国家性质、根本制度、基本经济制度、民生问题等
- ②现行宪法是1982年宪法,共修订五次
- ③只有全国人大及其常委会有修改的权力
- ④“尊重和保障人权”于2004年写入宪法
- ⑤2018年修宪时,在国家机构中增加了监察委员会一节
- ⑥宪法第三章内容最多,是宪法的核心内容

- A. 2处 B. 3处 C. 4处 D. 5处

中华人民共和国宪法	
序言	
第一章	总纲
第二章	公民的基本权利和义务
第三章	国家机构
	第一节 全国人民代表大会
	第二节 中华人民共和国主席
	第三节 国务院
	第四节 中央军事委员会
	第五节 地方各级人民代表大会和地 方各级人民政府
	第六节 民族自治地方的自治机关
	第七节 监察委员会
	第八节 人民法院和人民检察院
第四章	国旗、国歌、国徽、首都

道德与法治


第Ⅱ卷 非选择题 (共 39 分)

二、简答题(本题有 5 小题,共 21 分)

13. (1)基础知识填空。(每小题 1 分,共 5 分)

- ①1997 年,中共十五大把 ▲ 作为党领导人民治理国家的基本方略。
- ②小王 18 岁了,他又拥有了一条 ▲ 的基本义务。
- ③ ▲ 是交往的起点。
- ④进入新时代,我国社会的主要矛盾是 ▲ 。
- ⑤国家权力机关的执行机关是 ▲ 。

(2)①漫画反映的内容均与 ▲ (主题)有关。(1 分)



- ②漫画反映出法律的作用是 ▲ 、 ▲ 。(2 分)
- ③漫画 b 反映出,为了实现司法正义,要求司法机关 ▲ 。(1 分)
- ④如果设问“为什么要扫黑除恶”,主体需要用 ▲ 思维模式回答。(1 分)

14. 重视科学实践 培养科学精神

中国在西晋前后发明原始的瓷器,比 19 世纪初德国人麦森“再发明”出瓷器早约 1500 年,中国古代凭借着瓷器在中西方贸易中获得了巨大的优势。

西方国家在瓷器的研制中,不仅记录了全部的实验过程和结果,而且把每一次实验之间的细小差异全都记录下来。与熟练掌握瓷器制造工艺却不明白其化学原理的亚洲工匠不同,这些欧洲人对瓷器烧制的原理有理性认识,并有定量的了解,他们善于通过调节瓷器土中元素的配比和烧制过程,来制造各种精致的瓷器。在 1930 年,中国的瓷器进口量超过了出口量,西方瓷器发展速度超过了中国。

从中可以看出是哪些因素使西方瓷器技术快速进步?(3 分)

15. 陈更,1992 年出生在咸阳。她的家庭重视教育、崇尚读书。老家西侧的房间里保留着两个古旧的书架,上面塞满旧书、旧课本和旧杂志。陈更小时候,没有书看了就跑去架子上翻,对文字的痴迷在那时生了根。不过,中学文理分科时,陈更选择了理科。她家境一般,觉得理科意味着可以有一技傍身,意味着更广阔的就业面。

2009 年高考后,陈更被同济大学录取,读自动化专业。同济大校园里有很多的河流,大片的草地,养着孔雀和天鹅。这很快就唤醒了陈更的文艺细胞,她选修了声乐课、电影鉴赏课,古典诗词的启蒙就是从这时候开始。同年,陈更被保送北大直博,专业是一般力学与力学基础,研究方向是智能康复机器人的控制器设计。

2013 年,陈更首次在河北卫视《中华好诗词》节目中亮相,之后连续四年参加央视《中国诗词大会》,最终获得节目总冠军。

陈更的成长经历让你感触最深的是什么?(2 分)

16. 同学们,照片里是不是你最熟悉的校服呢?你喜欢自己的校服吗?2019 年“两会”上,民革中央向全国政协提案中建议:提升校服功能认识,改进校服美感与舒适度,从根本上解决校服“学生不爱穿、公众不满意”的问题。




选作题 1:如果你同意修改校服,请说明理由。(2 分)

选作题 2:如果给你一个自己设计校服的机会,请将你的构思画出来吧!(2 分)

17. 端午节快到了,有很多同学想出去旅游,感受祖国的大好河山。他们有的准备去陕西的莫高窟,领略世界文化遗产的魅力;有的同学想去大同领略五岳之首恒山的雄姿;还有的同学想去与山西接壤的广西壮族自治区感受民族风情,顺便带点壮族特色食品——犒回来!这时,有位同学跳出来,说,你们快别出去了,说的都是错的!请你指出他们错在哪里并改正。(4 分)

18. 材料一:现实中,面对学生在校园或教室里所做的不当行为,如校园欺凌、个别学生破坏课堂纪律、“问题学生”顶撞老师、同学之间发生矛盾等,老师们往往不知采取怎样的应对措施,想管却不敢管。



材料二:2018年3月13日,四川省达州市大竹县第二小学校启动了“戒尺进入课堂”活动,全校每个班都配备了一把“戒尺”。做“良心”教育,是学校让“戒尺进入课堂”的本意和初衷,如果学生的行为和表现违反了班规校纪,老师就可以动用戒尺对学生实施轻微惩戒。

材料三:2019年“两会”,全国人大代表、湖北省人大常委会副主任周洪宇向全国人大提出修改教师法的议案,建议赋予教师教育惩戒权。

你是否赞成赋予教师教育惩戒权?

四、实践探究题(12分)


19. 做自信的山西人

黄河流域是中华民族的摇篮,孕育了源远流长、博大精深的三晋文化。

某校九年级准备利用假期开展一次社会实践活动,重温山西的历史,感受今天的发展,畅想未来的美好,做自信的山西人!

第一小组:“重温历史”组 来到临汾市襄汾县丁村

(1)他们首先来到了丁村民居宅建筑群。据当地村民介绍,这些民居大多为明清时期的建筑,这些古建筑采用榫卯结构,坚固结实。右图是他们拍下的照片,这些民居建筑与刚被大火侵扰的巴黎圣母院,从建筑角度上来说,有什么区别呢?(2分)



(2)随后,他们准备去世界文化遗产的景点,山西有哪些景点属于世界文化遗产呢?(1分)

第二小组:“感受发展”组 来到朔州市右玉县

(3)同学们了解了右玉县详细的发展历程,看到自中华人民共和国成立以来,右玉经过近70年坚持不懈造林治沙,坚韧不拔改善生态,变成了闻名全国的“塞上绿洲”,同时孕育形成了宝贵的“右玉精神”。右玉之所以有今天的发展,靠的是什么?(3分)

(4)右玉的发展,充分体现了生态文明建设中的“两山论”,即_____。(1分)

第三小组:“畅想未来”组 来到汾阳市山西杏花村汾酒集团有限责任公司

(5)参观过程中,学生们看到用汾酒调制的各种色彩斑斓的鸡尾酒感到非常惊艳!而这种西方流行的混合酒



的口感更符合国际市场的需求。随行的李老师看到学生惊讶的表情,就请经理为同学们说一说公司这么做的理由,你觉得经理会说什么?(3分)

(6)通过这次实践活动,同学们更深刻地感受到了身为山西人的自豪与自信,纷纷表示以实际行动做自信的山西人。请问他们会有何实际行动?(2分)

山西中考模拟百校联考试卷（四）

文科综合（道德与法治）答题卡

姓名 _____ 准考证号

--	--	--	--	--	--	--	--	--	--

<p>考生禁填</p> <p>缺考考生，由监考员用2B铅笔填涂下面的缺考标记</p> <div style="text-align: center; margin-top: 10px;"> <input style="width: 20px; height: 20px; border: 1px solid black;" type="checkbox"/> </div> <p>缺考标记</p>	<p>注意事项</p> <p>1. 答题前，考生先将自己的姓名及准考证号填写清楚，并认真核对条形码上的姓名及准考证号。 2. 选择题必须使用2B铅笔填涂；非选择题必须使用0.5毫米的黑色笔迹签字笔书写，字体工整、笔迹清晰。 3. 请按照题号顺序在各题目的答题区域内作答，超出答题区域书写的答案无效；在草稿纸、试卷上答题无效。 4. 保持清洁，不要折叠，不要弄破、弄皱，不准使用涂改液、修正带、刮纸刀。</p>	<p>正确填涂 样例</p> <div style="text-align: center; margin-top: 10px;"> ■ </div>	<p>贴条形码区</p>
--	--	---	--------------

一、选择题

- | | | |
|---|--|--|
| 1 <input type="checkbox"/> A <input type="checkbox"/> B <input type="checkbox"/> C <input type="checkbox"/> D | 6 <input type="checkbox"/> A <input type="checkbox"/> B <input type="checkbox"/> C <input type="checkbox"/> D | 11 <input type="checkbox"/> A <input type="checkbox"/> B <input type="checkbox"/> C <input type="checkbox"/> D |
| 2 <input type="checkbox"/> A <input type="checkbox"/> B <input type="checkbox"/> C <input type="checkbox"/> D | 7 <input type="checkbox"/> A <input type="checkbox"/> B <input type="checkbox"/> C <input type="checkbox"/> D | 12 <input type="checkbox"/> A <input type="checkbox"/> B <input type="checkbox"/> C <input type="checkbox"/> D |
| 3 <input type="checkbox"/> A <input type="checkbox"/> B <input type="checkbox"/> C <input type="checkbox"/> D | 8 <input type="checkbox"/> A <input type="checkbox"/> B <input type="checkbox"/> C <input type="checkbox"/> D | |
| 4 <input type="checkbox"/> A <input type="checkbox"/> B <input type="checkbox"/> C <input type="checkbox"/> D | 9 <input type="checkbox"/> A <input type="checkbox"/> B <input type="checkbox"/> C <input type="checkbox"/> D | |
| 5 <input type="checkbox"/> A <input type="checkbox"/> B <input type="checkbox"/> C <input type="checkbox"/> D | 10 <input type="checkbox"/> A <input type="checkbox"/> B <input type="checkbox"/> C <input type="checkbox"/> D | |

二、简答题

13. (1) ① _____ ② _____ ③ _____

④ _____ ⑤ _____

(2) ① _____ ② _____

③ _____ ④ _____

14. _____

15. _____

16. 选作题 _____

17. _____

请在各题目的答题区域内作答，超出黑色矩形边框限定区域的答案无效

考号：

姓名：

班级：

学校：

请在各题目的答题区域内作答,超出黑色矩形边框限定区域的答案无效

三、分析说明题

18.

四、实践探究题

19.(1)

(2)

(3)

(4)

(5)

(6)

请在各题目的答题区域内作答,超出黑色矩形边框限定区域的答案无效