

2019~2020 学年第一学期高一年级阶段性测评

政治试卷

(考试时间:上午 9:10—10:40)

说明:本试卷为闭卷笔答,答题时间 90 分钟,满分 100 分。

题号	一	二	三	四	总分
得分					

一、选择题(本题共 25 小题,每小题 2 分,共 50 分,在每小题给出的四个选项中,只有一项是符合题目要求的,请将其字母标号填入下表相应位置)

题号	1	2	3	4	5	6	7	8	9	10	11	12	13
答案													
题号	14	15	16	17	18	19	20	21	22	23	24	25	得分
答案													

1.2019 年 10 月 1 日,《我和我的祖国》在某影院的上映票价为 40 元,打折后康女士支付了 30 元购买了电影票。在这里,货币执行的职能分别是

- A. 流通手段、价值尺度                      B. 价值尺度、流通手段  
C. 支付手段、流通手段                      D. 价值尺度、支付手段

2.“花呗”是蚂蚁金融服务集团推出的一款消费信贷产品,用户开通后可以使用其额度享受“先消费、后还款”的体验。下列对这一信贷产品认识正确的是

- ①由国家(地区)发行并强制使用    ②属于消费信贷,有利于释放消费潜力    ③属于电子货币,可以在任意地方使用    ④能加速商品流通,激发市场的活力

- A. ①②                      B. ①④                      C. ②③                      D. ②④

3.中国人民银行于 2019 年 9 月 10 日起陆续发行中华人民共和国成立 70 周年纪念币一套,包括金质纪念币 4 枚,银质纪念币 2 枚(均为法定货币)。对该金银纪念币的认识正确的是

- ①国家可以规定该纪念币的面额和发行量    ②其本质是一般等价物    ③该纪念币只能用于市场流通不能收藏    ④该纪念币的购买力是由国家规定的

- A. ①②                      B. ①④                      C. ②③                      D. ②④



中华人民共和国建国 70 周年纪念币

4.加大改革创新力度,深入推进数字货币研发是 2019 年中国人民银行工作的重头戏。发行数字货币的主要目的是替代实物现金,降低传统纸币发行和流通的成本,提升经济交易活动的便利性和透明度。数字货币的发行有利于

- ①缩小人民币的使用范围    ②提高市场交易的便捷性    ③扩大人民币的供应量    ④加强对经济活动的监管

- A. ①②                      B. ②③                      C. ②④                      D. ③④

5.2018 年 10 月 30 日,菲律宾人民币交易商协会在马尼拉签约成立。2019 年 5 月 30 日,捷克央行称允许使用人民币作为外汇储备货币。人民币越来越受国际市场重视是因为

- ①人民币作为世界货币,具有较高的国际购买力    ②中国经济高质量发展,为其奠定了坚实的基础    ③人民币持续升值,消除了国际金融风险    ④改革开放的深入发展,为其创造了良好的经济环境

- A. ①②                      B. ①③                      C. ②④                      D. ③④

6.2019 年 8 月 8 日,人民币对美元汇率中间价为 7.0039 元。2019 年 10 月 8 号,人民币对美元汇率中间价为 7.0538 元。若不考虑其他因素,下列推导正确的是

- ①人民币升值→我国企业在美国投资成本下降→有利于我国企业到美国投资    ②人民币贬值→我国出口到美国商品的价格下降→有利于我国商品出口到美国    ③美元贬值→中国去美国旅游人数增多→有利于扩大内需    ④美元升值→美国企业在华投资成本下降→有利于吸引外资

- A. ①③                      B. ①④                      C. ②③                      D. ②④

7.假设 2018 年某国每件 M 商品的价值用货币表示为 X 元。2019 年该国全社会商品零售价格总额为 10000 亿元,货币流通次数为 5 次,央行最终供应纸币 5000 亿元,在其他条件不变的情况下,2019 年每件 M 商品的价格会

- A. 上涨                      B. 下跌                      C. 不变                      D. 不确定

8.国庆期间,小明参观了北京世博园,去之前,他网上成功订购机票并预订宾馆,费用从储蓄卡中扣除,这一过程包含的经济现象有

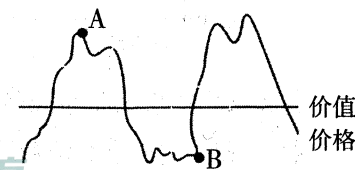
- ①现金结算    ②商品流通    ③信用透支    ④转帐结算

- A. ①②                      B. ②④                      C. ①④                      D. ③④

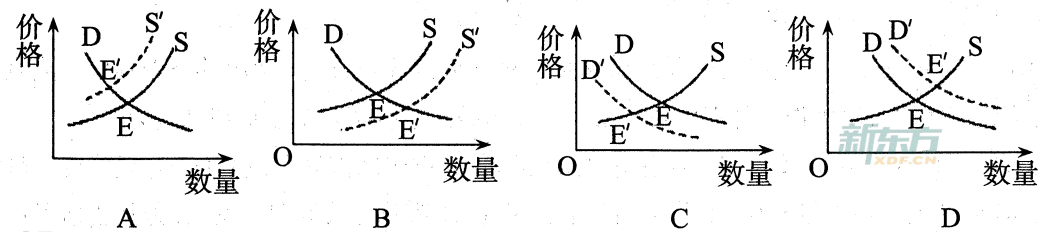
9.价值规律是商品经济的基本规律。根据右图可以得出的结论有

- ①在 A 点时,该商品的替代品需求会减少    ②在 B 点时,生产该商品的企业都会亏本    ③在 A、B 点时,企业能否盈利取决于每个企业的个别劳动生产率    ④在 A、B 点时,生活必需品的需求弹性均较小

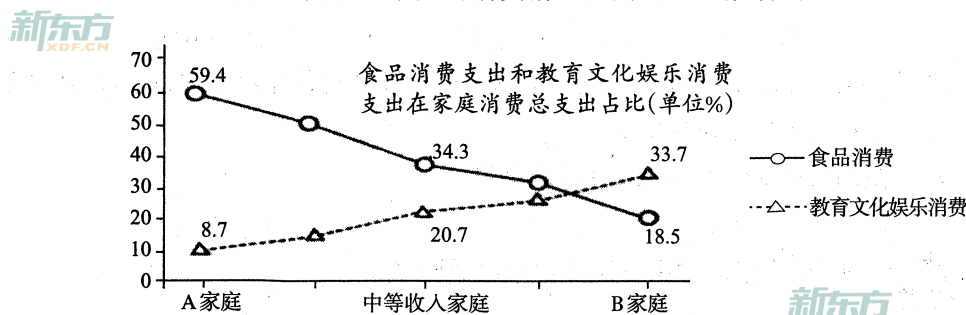
- A. ①②                      B. ①③                      C. ②④                      D. ③④



10. 2019年3月26日,财政部公布了《关于进一步完善新能源汽车推广应用财政补贴政策的通知》。之后,相关部门陆续出台多项政策,以确保2019年新能源汽车的增长率为30%。这会使燃油车需求发生变化(S、D分别为燃油车的供给曲线和需求曲线,E为变化前供求交叉点,E'为变化后供求交叉点)。在不考虑其他因素的情况下,下列曲线能够正确反映这一变化的是



11. 2019年国庆黄金周,受高铁发展、高速免费、景区降价、监管有力等积极因素的影响,游客满意度和获得感逐步提升,国内游客达7.82亿人次,旅游消费创新高。这反映了
- ①享受资料消费已成为家庭消费的主流
  - ②经济发展是旅游消费增长的决定性因素
  - ③消费观念转变决定旅游消费增加
  - ④人们的生活水平和生活质量不断提高
- A. ①②      B. ①③      C. ②④      D. ③④
12. “网红经济”是以时尚达人为形象代表,以“红人”的品味和眼光为主导进行选款和视觉推广,在社交媒体上聚集人气,依托庞大的粉丝群体进行定向营销,从而将粉丝转化为购买力的一个过程。下列关于这一现象认识正确的是
- ①消费者的从众心理助推了网红市场需求
  - ②网红经济大大促进了享受资料消费
  - ③网红经济是消费水平提高的基础和前提
  - ④网红经济的出现依托于信息技术的发展
- A. ①②      B. ②③      C. ①④      D. ③④
13. 下图为2018年某国不同收入家庭的消费情况。由此可以推断出



- ①A家庭的恩格尔系数较高,说明消费水平较高
  - ②B家庭食品消费支出数额少,应为低收入家庭
  - ③B家庭消费结构更合理,消费水平较高
  - ④A家庭食品支出占比高,消费结构不合理
- A. ①③      B. ①④      C. ②④      D. ③④

14. 走过20年,网络文学年产值已达90亿元,但问题也日渐凸显。网络文学亟需提高社会责任和文化担当,作家们决不能仅仅用金钱来衡量作品价值,要严肃认真考虑作品的社会效果,珍惜自己的社会形象。这说明
- ①金钱是万恶之源,要反对拜金主义
  - ②君子爱财取之有道,不义之财不可取
  - ③对待金钱应做到用之有益,用之有度
  - ④要树立正确金钱观,挣钱需合乎道德与法律
- A. ①②      B. ①③      C. ②④      D. ③④
15. 2019年8月26日,中国国际智能产业博览会在重庆开幕,主题为“智能化·为经济赋能,为生活添彩”。“智能+”已经开始接棒“互联网+”,产业数字化即将让人们的生活开启无限可能。这表明
- ①生产决定消费的方式,决定消费质量和水平
  - ②新消费热点的出现,为生产创造出新的劳动力
  - ③消费形成了新的需求,对生产具有决定性作用
  - ④生产为消费创造动力,为消费者带来全新体验
- A. ①②      B. ①④      C. ②③      D. ②④
16. 《国家中长期科学和技术发展规划纲要(2006-2020)》提出,到2020年,全社会研究开发投入占国内生产总值的比重提高到2.5%以上,力争科技进步贡献率达到60%以上,对外技术依存度降低到30%以下。这要求我们
- ①加快科学技术的发展,大力推动科技进步和创新
  - ②全面深化改革,推动社会制度的根本性变革
  - ③大力实施人才强国、科教兴国战略
  - ④立足国情,把科技创新作为工作中心
- A. ①②      B. ①③      C. ②③      D. ②④
17. 改革开放40年来,我国的农村土地改革经历了由土地所有权归集体所有,统一经营,到承包经营权归农户的“两权分离”,再到现在的所有权、承包权、经营权“三权分置”的过程。这一改革
- ①有利于确保农民对土地的所有权
  - ②有利于提高农民的生产积极性和土地利用效率
  - ③最终确立了农村土地集体所有
  - ④反映了我国农村生产力的发展要求
- A. ①②      B. ①④      C. ②③      D. ②④
18. 2019年是国企改革攻坚年,我国进一步扩大重点领域混合所有制改革,积极稳妥地推进装备制造、造船、化工等领域的战略性重组,持续推动电力、环保等领域的专业化整合。推进国企混合所有制改革有利于
- ①增强国有资本控制力,巩固和发展公有制主导作用
  - ②优化所有制结构,巩固国有经济主体地位
  - ③优化国有资本布局,增强其控制力竞争力
  - ④激发经济发展活力,使各种所有制经济取长补短
- A. ①②      B. ①③      C. ②④      D. ③④
19. 2019年8月8日晚8时,二青会开幕式在山西省体育中心红灯笼体育场隆重举行。开幕式上展现的国际视野、中国气派、山西元素,让购票观演的小张尽享视听盛宴。从社会再生产过程看,小张的经济活动有
- ①生产活动
  - ②交换活动
  - ③分配活动
  - ④消费活动
- A. ①②      B. ①③      C. ②④      D. ③④



20.2019年8月14日,中国互联网企业100强榜单正式发布,深圳市腾讯计算机系统有限责任公司位居第二名。下列对该公司认识正确的有

- ①该公司的决策机构是股东大会及总经理 ②监事会负责组织实施公司的日常经营管理事宜 ③该公司应当为党组织的活动提供必要条件 ④公司经营者要增强履行社会责任的使命感

A. ①③ B. ②④ C. ①④ D. ③④

21.2018年中央经济工作会议把稳就业摆在了“六稳”的首位,2019年政府工作报告首次将就业优先政策置于宏观政策层面。党和国家的这一重要安排

- ①基于就业是最大的民生 ②旨在引导全社会重视就业、支持就业 ③是有效解决我国就业问题的根本途径 ④强调了目前我国发展要以就业工作为中心

A. ①② B. ①③ C. ②④ D. ③④

22.2019年9月23日,国家主席习近平对我国选手在第45届世界技能大赛上取得的佳绩作出重要指示。他强调:劳动者素质对一个国家、一个民族发展至关重要,要弘扬精益求精的工匠精神,激励广大青年走技能成才、技能报国之路。这说明

- ①劳动者要转变就业观念,以创业带动就业 ②要坚定不移的把发展作为党执政兴国的第一要务 ③劳动者是生产的主体,在生产力发展中起主导作用 ④要建设知识型、技能型、创新型劳动者大军

A. ①② B. ①④ C. ②③ D. ③④

23.在2019年全国劳动模范和先进工作者大会上,坚守焊接岗位30多年的焊工李万君向全国广大劳动群众发出倡议,用劳动为实现中国梦添砖加瓦,在推进“四个全面”伟大实践中建功立业,争做有智慧、有技术、能发明、会创新的劳动者。这说明

- ①实现和维护劳动者权益是社会主义制度的本质要求 ②积极履行劳动义务是保障劳动者主人翁地位的前提 ③劳动者应依法履行劳动义务不断提高个人职业技能 ④劳动者应充分调动和发挥劳动的积极性和创造性

A. ①② B. ①③ C. ②④ D. ③④

24.数据显示,中国居民存款的年增速持续下行,2018年的增速为十年来最低。居民存款增速减缓的原因可能是

- ①我国居民理财途径拓宽,部分资金被用于其他投资 ②我国居民收入持续减少,使其存款能力不断下降 ③物价全面持续上涨,居民银行存款储蓄总额逐年减少 ④我国居民消费观念有所转变,消费支出增加

A. ①② B. ①④ C. ②③ D. ③④

25.十九大报告中提出“要提高直接融资的比重”。“直接融资”是指资金供给者与需求者不通过金融中介机构介入,而是通过一定的金融工具直接形成债权债务关系的金融行为。以下属于直接融资的是

- ①A公司发行了200万股新股票 ②B公司发行了4000万元债券 ③张某向银行借款1000万元支付工资 ④李某将5万元存入银行

A. ①② B. ③④ C. ①③ D. ②④

二、分析说明题(本题包括3小题,共30分)

26.(8分)知识付费,从本质上讲就是把知识变成产品或服务,以实现其商业价值。近年来,知识付费经济迅速兴起。2018年,知识付费经济规模约86.3亿元,预计2020年将达到235亿元。喜马拉雅FM、知乎Live等知识付费平台持续发力个性化、专业化的优质内容生产,运用互联网技术降低用户学习成本。市场需求的旺盛也会促进知识提供方的标准化生产能力,以及更加合理的定价机制,让知识的“价格”变得更加理性起来。

结合材料,运用商品的有关知识分析知识付费的合理性。

27.(10分)2019年3月,我国颁布《外商投资法》,确立了外商投资准入、促进、保护、管理等方面的基本制度框架和规则,为进一步全面深化改革、扩大对外开放、积极有效利用外资提供了更加有力的法治保障。2019年上半年全国新设立外商投资企业20131家,实际使用外资4783.3亿元人民币,同比增长7.2%。同时外资企业在进出口总额、工业产值、税收和就业等方面的贡献率均有所提高。未来,中国政府仍将进一步加大外商投资权益的保护力度,为外资企业提供更加优质的服务,使中国始终成为最具竞争力的外商投资热土。

运用“我国的基本经济制度”的有关知识,说明我国出台《外商投资法》的原因。

28.(12分)华为技术有限公司成立于1987年。30多年来,华为技术有限公司与中国改革发展的脉搏同行,从行业的“追赶者”成为“领跑者”。华为坚信大规模发展通信基础设施是大势所趋,坚定瞄准通信领域这个“城墙口”冲锋,保持着自己的战略定力;坚持不懈贯彻“以人为本,以客户为中心”的企业文化,赢得了更多忠实的客户;坚持不懈实现创新,2018年华为的研发投入占营业额的14.7%,居世界第五。如今,华为在多个科技领域都拥有绝对的话语权,如5G网络、华为移动终端、个人电脑、服务器等。

结合材料,运用“企业经营与发展”的相关知识,分析说明华为公司成为领跑者的原因。

四、实践探究题(共12分)

30.(12分)2019年8月以来,某市猪肉价格呈连续上涨态势。某校高一(1)班同学对此进行了市场调查,请帮其概括材料所蕴含的经济学道理,并简要分析。

材料一 受去年非洲猪瘟的影响,在生猪产能大幅下降的同时市场需求依旧旺盛,导致猪肉价格大幅提升。

材料二 玉米进口价格上涨,导致饲养成本增加;另外,受高温多雨天气影响,致使生猪运输成本大增,导致猪肉价格大幅提升。

材料三 由于2018年猪肉价格较低,部分养殖户缩小养殖规模,影响今年猪肉的上市量。

材料四 专家表示:猪肉价格受多种因素影响,价格波动很难避免,出现短期暴涨暴跌属于正常现象,养殖户应该理智补栏,防止生产的盲目性。

材料	经济学道理	简要分析
一	供求影响价格	生猪产量下降,需求增加,导致猪肉供不应求,价格上涨
二		
三		
四		

新东方 XDF.CN

三、生活践行题(共8分)

29.(8分)某校高一(2)班学生对大学生就业现状进行了市场调查。请结合材料,与他们一起分析劳动力市场信息。

材料一 近5年我国大学生毕业人数(单位:万人)

2015	2016	2017	2018	2019
749	765	795	820	834

注:目前我国每年新增就业机会大约在900万个左右,每年新增就业人员约1000万左右。

材料二 我国2016-2018三届本科毕业生部分去向分布

	受雇工作	国有企业	民营企业	国内外读研
2016届	75.1%	22%	53%	15.5%
2017届	74.4%	19%	53.2%	16.4%
2018届	73.6%	18.8%	54%	16.8%

注:材料二数据来自《2019年中国大学生就业报告(就业蓝皮书)》

(1)材料一、二分别反映了什么经济现象?(3分)

(2)结合材料,运用“新时代的劳动者”知识,谈谈大学生自身如何顺利实现就业?(5分)

弥 封 线 内 不 要 答 题



【新生专享】

—— 中小学VIP课程拼团享折扣 ——

# 来新东方 拼团啦!

团战在即

不玩套路,走心优惠,一年只此一次! 更大优惠力度,等你来拼!



多对一的服务,更优惠的价格!



互助式2-6人小班学习,有伙伴才是真课堂!



新东方自主研发教材,考点掌握更精准!

11月18日 恢复原价

3人即可成团

成团即可享 **8**折



长按识别二维码参与拼团

新东方 老师好!

咨询: 0351-5600688

【新生专享】  
—— 中小学一对一课程 ——

500元  
好课直减券

0元筹

筹学费 抵现金

各年级 各学科 任意时间段 均可使用

(报名10节课以上可使用此优惠)

11月9日—11月17日

- 筹课发起者:** 筹得定金可抵扣相应金额学费，筹多少，抵多少，500元封顶!
- 帮筹学员:** 可领取新东方内部资料一本，还有机会获得新东方为您准备的帮筹大礼~
- 前15名筹课成功:** 添加小新还可领取新东方定制四季学习礼盒一个!
- 发起者、帮筹学员:** 均可参加抽奖，有机会获得**幸运大礼!**



500元直减券  
0元筹



长按识别二维码发起活动