

座号

2018—2019 学年下期期中质量调研试题

二年级数学

题号	一	二	三	四	五	六	总分
得分							

一、细心读题,我会填。(9、10题每题2分,其余每空1分,共28分)

- 在 $20 \div 5 = 4$ 中,4是(),20是()数,5是()数,这个算式读作:()。
- $36 \div 4 = ()$,想: $4 \times () = 36$,口诀是()。
- 从72里面减去8,连续减()次后得数是0。
- 15只蚕宝宝,每个纸盒里放5只,要用()个纸盒。要求用几个纸盒,就是求()里面有()个(),列式为()。
- $60 - 40 \div 8$ 这个算式里有()法和()法,计算时要先算()法,再算()法。
- 把算式填在合适的()里。
 $48 \div 6$ 3×5 $36 \div 9$ $28 \div 4$
() < () < () < ()
- 已知 $\square \times 7 = 14$, $12 \div \bigcirc = \square$,那么 $\square = ()$, $\bigcirc = ()$ 。
- 小明用画正字的方法统计衣服的件数:正正正一 结果是()件。
- 把 $12 + 8 = 20$, $20 \div 5 = 4$ 合并成一个综合算式是()。
- 有32个苹果,至少去掉()个,才能正好平均分给5个小朋友。

二、巧思妙断,我会断。(对的打“√”,错的打“×”)(共5分)

- 任何一句乘法口诀都可以写出两道乘法算式和两道除法算式。()
- 长方形有4条对称轴,圆有无数条对称轴。()
- 把14个苹果分成2份,每份一定是7个。()
- 把12张邮票分给丽丽和她的2个同学,平均每人分6张。()
- 商是1时,除数和被除数相等。()

三、反复比较,我会选。(请选择正确答案的序号填在括号里)(每题2分,共12分)

- ①钟面时针、分针的运动是()

②升国旗时国旗的上升运动是()

- A. 平移现象 B. 旋转现象 C. 对称现象

2. 下面的图形中,()是轴对称图形。

3. 下面算式中与 $12 \div 3 \div 2$ 结果一样的算式是()

- A. $12 \div 3 \times 2$ B. $12 \div 2 \times 3$ C. $12 \div (3 \times 2)$

4. 一支铅笔3元,小明有20元钱,最多可以买()支这样的铅笔。

- A. 8 B. 7 C. 6

5. 有48千克水果,每箱6千克。最合适的问题是()

- A. 一共有多少千克? B. 每箱装几千克? C. 能装几箱?

6. 一道除法题,除数是9,小明把被除数的个位和十位数字看颠倒了,结果除得的商是4。这道题正确的商是()

- A. 6 B. 7 C. 8

四、注意审题,我会计算。(共22分)

1. 直接写出得数。(6分)

$64 \div 8 =$	$6 \times 7 =$	$54 \div 6 =$	$24 - 16 =$
$17 + 13 =$	$27 \div 3 =$	$9 \div 9 =$	$6 \div 1 =$
$54 - 8 =$	$72 \div 9 =$	$3 \times 6 + 20 =$	$6 \times 6 - 6 =$

2. 脱式计算。(12分)

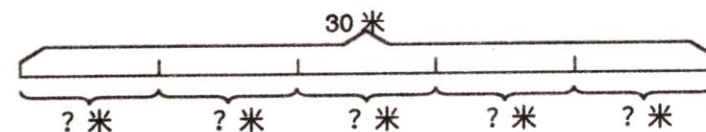
$6 + 2 \times 8$	$73 - 26 + 35$
------------------	----------------

$$(22 + 18) \div 8$$

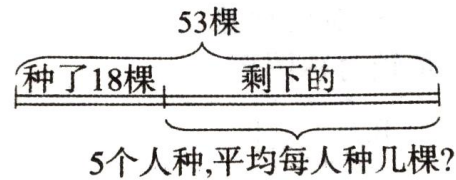
$$50 - 35 \div 5$$

3. 看图列式计算。(4分)

(1)




(2) 列出综合算式。




3. 袜子原来8元一双,现在优惠促销,一次买5双35元。促销的袜子每双多少元?每双比原来便宜了多少元?(6分)

五、动手实践,我会画。(共8分)

1. 在()里填上“平移”或“旋转”。(3分)



2. 在下面方框内画☺表示五七三十五这句乘法口诀,并看图写一道乘法算式和两道除法算式。(5分)



$$\square \circ \square = \square$$

$$\square \circ \square = \square$$

$$\square \circ \square = \square$$

4. 王叔叔:我每周工作56小时。
李叔叔:我两天工作18小时。
张阿姨:我5天工作35小时。
李阿姨:我每周工作42小时。
谁每天工作的时间最长?(每周按7天计算)(6分)

六、走进生活,我会解决。(共25分)

1. 采摘的苹果有25筐,桃子有26筐。已经运走了18筐,还有多少筐没有运走?
(4分)

2. “母亲节”小红想给妈妈买一束花。一只康乃馨4元,小红有30元钱,想买9枝,还差多少钱?
(4分)

5. 下面的统计表记录的是二年级(1)班同学的课余生活情况。(5分)

名称	看动画片	读课外书	打游戏机	去户外玩
人数	13	2	18	8

(1) 二(1)班同学在课余时间喜欢()的人最多。
(2) 二(1)班同学在课余时间喜欢打游戏机的人数比喜欢读课外书的多()人。
(3) 你在课余时间喜欢()。
(4) 看了上面的统计表,你有什么发现? 想给同学们提哪些建议?