

小学二年级期中检测

一、口算：（20题，每题0.5分，共10分）

$16 \div 4 =$

$20 \div 5 =$

$36 \div 9 =$

$5 + 5 =$

$7 \times 8 =$

$27 \div 9 =$

$35 + 55 =$

$86 - 35 =$

$48 \div 8 =$

$54 \div 6 =$

$7 \times 3 =$

$5 \div 5 =$

$64 + 9 =$

$17 - 9 =$

$83 - 73 =$

$42 \div 7 =$

$6 \times 2 =$

$32 \div 8 =$

$21 + 3 =$

$16 \div 2 =$

二、脱式计算：（每题3分，共12分。）

$72 \div (52 - 44)$

$7 \times 8 - 15$

$5 + 9 \times 6$

$4 + 4 \times 8$

三、填空：（共34分）（其中第7小题占8分，其余每空占1分）

1、 $24 \div 4 = ()$ ，口诀：_____，被除数是()，除数是()，商是()。表示把()平均分成()份，每份是()。

2、请在○里填上“+”、“-”、“×”或“÷”。

$8 \bigcirc 2 = 6$

$9 \bigcirc 3 = 3$

$6 \bigcirc 6 = 36$

$35 \bigcirc 7 = 5$

$6 \bigcirc 4 = 10$

$18 \bigcirc 2 = 9$

学(考)号:

姓名:

班级:

学校:

线

订

装

3、请在□里填上适合的数：

$4 \times \square = 28$

$\square \times 6 = 42$

$56 \div \square = 7$

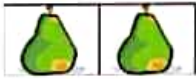

$49 \div \square = 7$



$72 \div \square = 9$

$5 \times \square = 20$

4、有 21 根小棒，每 3 根摆一个 ，可以摆 () 个 。

5、



 的个数是  的 () 倍。

6、将下列算式填在合适的 () 里。

4×5

$12 \div 2$

8×1

$72 \div 8$

$42 \div 6$

() > () > () > () > ()

7、给“<”“>”“=”找家。(每小题 2 分，共 8 分)

$32+9 \bigcirc 6 \times 7$

$15-3 \bigcirc 12 \div 4$

$3+3 \bigcirc 3 \times 3$

$7 \times 9 \bigcirc 8 \times 8$

四、我会判断。(对的打“√”，错的打“×”) (4 分)

(1)、 $32 \div 8 = 4$ 读作 32 除 8 等于 4。 ()

(2)、拉抽屉是旋转现象。 ()

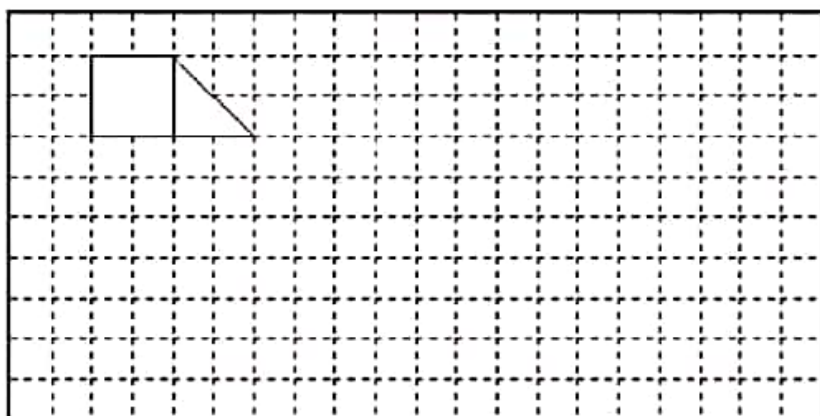
(3)、小明有 35 元，我有 5 元，我的钱是小明的 7 倍。 ()

(4)、比直角小的角是锐角。 ()

五、画一画：（共 7 分）

1、分别画出直角、锐角和钝角，并写出它们的名称。（3 分）

2、画出下面图形向右平移 8 格，再向下平移 4 格后的图形。（4 分）



六、列式计算（每题 4 分，共 8 分）

1、把比 25 多 17 的数平均分成 6 份，

2、49 是 7 的几倍？

每份是多少？

七、解决问题：（共 25 分）

1、小明家养了 25 只兔，又买来 15 只，养在 8 个笼子中，每个笼子养多少只？（5 分）

2、水果店运来 80 箱苹果。上午卖出 26 箱，下午卖出 38 箱，还有多少箱？（5 分）

3、小明（9 岁）和爷爷、奶奶、爸爸、妈妈去公园玩，成人票价：8 元\人，儿童票价：5 元
\人，他们一共要付多少钱？（5 分）

4、修一条 80 米的水渠，已经修了 56 米，剩下的 3 天修完，每天修多少米？（5 分）

5、王老师买来 6 枝钢笔和 8 盒铅笔，已知每枝钢笔 7 元，每盒铅笔 9 元，王老师一共用了多少
钱？（5 分）