

座号

2018—2019 学年下期期中质量调研试题

四年级数学

题号	一	二	三	四	五	六	总分
得分							


一、用心思考,正确填写。(共24分,每空1分。)

- 一个小数由6个十和5个百分之一组成,这个小数写作(),读作()。
- 计算 $[200-(88+32)] \times 6$ 时,应该先算()法,再算()法,最后算()法。
- 在○里填上“<”“>”或“=”。
 $10.01 \bigcirc 9.99$ $5.40 \bigcirc 5.4$ $8.03 \bigcirc 8.30$ $145 \text{厘米} \bigcirc 1.4 \text{米}$
- 6吨35千克=()吨 44公顷=()平方千米
- 小数12.69在哪两个整数之间?() $<12.69 <$ (),它更接近于()。
- 小数24.806保留整数是(),保留一位小数是(),精确到百分位是()。
- 2018年济源市总人口数约是709000人,改写成用“万”做单位的数是()万人,精确到万位,约是()万人。
- 计算 125×88 时,小明这样计算: $125 \times 80 + 125 \times 8$,他运用了我们学过的()。
- 如果要改变算式 $20 \times 48 + 60 \div 4$ 的运算顺序,先算加法,再算除法,最后算乘法,那么算式可写成()。
- 用计算器计算 1238×49 时,发现按键“4”坏了,如果还使用这个计算器,你会怎样计算?请你写出算式:()
- 如果1000张纸大约厚10厘米,那么1000000张这样的纸大约厚()厘米,也就是()米。

二、仔细推敲,判断对错。(对的画√,错的画×。)(共10分,每题2分。)

- 0.25和0.250大小相等,计数单位也相同。 ()
- 一个数的末尾添上两个0,这个数的大小不变。 ()
- 大于0.3小于0.5的小数有无数个。 ()
- 四位小数一定比三位小数大。 ()
- 观察一个物体,从不同的位置观察到的形状一定不同。 ()

三、认真辨析,合理选择。(将正确答案的序号填在括号里)(共10分,每题2分。)

- 在3.702中,“0”所在数位的计数单位是()。
A. 0 B. 0.1 C. 0.01 D. 0.001
- 从()观察立体图形 ,看到的形状是相同的。
A. 前面和上面 B. 前面和右面 C. 上面和右面
- 一个小数先扩大到原来的100倍后,小数点又向左移动了一位,得到9.25,原来这个小数是()。
A. 0.925 B. 92.5 C. 9.25
- 右边的竖式,在计算中运用了()。
A. 乘法交换律 B. 乘法结合律 C. 乘法分配律
- 小方3分钟跳绳453下,小明2分钟跳286下,()的速度快。
A、小方 B、小明 C、无法确法

$$\begin{array}{r} 36 \\ \times 42 \\ \hline 72 \\ 144 \\ \hline 1512 \end{array}$$

四、操作题(共7分)

- 下面各数中的“4”分别表示什么?连一连。(4分)

0.48

4.08

0.048

8.084

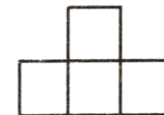
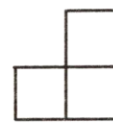
4个0.001

4个十分之一

4个一

4个 $\frac{1}{100}$

- 下图是从哪个面看到的?请你连一连。(3分)



从右面看

从前面看

从上面看

五、注意审题,细心计算。(23分)

1. 口算。(11分)

$28 \times 60 =$

$0.6 \times 1000 =$

$46 + 0 \div 24 =$

$5 - 0.3 =$

$5.6 + 6.4 =$

$23 + 187 =$

$1.2 + 2.5 =$

$8.3 + 9.8 =$

$10 - 5.4 =$

$0.207 \times 100 \div 10 =$

$25 \times 4 \div 25 \times 4 =$

2. 简便计算。(共12分)

$46 + 46 \times 99$


$762 - (258 + 162)$

125×32

$65 \times 142 - 42 \times 65$

六、联系实际,解决问题。(共26分)

1. 如右图,游泳池长50米,君君能游9个来回。他游了多少米?(5分)



2. 某地区对小学生视力进行抽测,平均每100名学生中正常视力仅为46人。这个地区约有1万人,正常视力的人数大约是多少人?(5分)

3. 食堂运来大米面粉各16袋,面粉每袋重35千克,大米每袋重65千克,运来的大米和面粉一共重多少千克?(5分)

4. 学校图书馆新进720本图书,要摆在书架上,每个书架有3层,每层能放24本书,一共需要多少个这样的书架?(5分)

5. 文博园推出“一日游”活动,现在有成人4人和儿童7人要去游玩,想一想怎样买票最省钱?(6分)

购票须知:
成人每人160元,儿童每人100元。
团体10人以上(包括10人)每人120元。