



三位数的加减法

长江航线示意图

重庆 宜昌 武汉 南京 上海

(单位:km)

轮船	重庆	→	宜昌
二等舱	上铺 578元		下铺 636元
三等舱	上铺 270元		下铺 297元

上海到武汉与重庆到武汉比,哪段路近?

买三等舱的1张上铺票和1张下铺票,一共要多少元?

要用到三位数加三位数。



整十、整百数的加减

1 两种气球一共有多少个？红气球比黄气球多多少个？



8袋红气球,5袋黄气球。



每袋10个。

$$80+50=\square(\text{个})$$

$$80-50=\square(\text{个})$$



8个十加(减)5个十,等于……

从80往后(前)数5个十……




答:两种气球一共有()个,红气球比黄气球多()个。

试一试 $300+900=\square$

$900-700=\square$

2 看图填空。



苹果300个



苹果50个

$300+50=\square$

$\square-50=\square$


$\square-300=\square$

试一试 $30+400=\square$

$430-\square=\square$



3 小玲家与小丁家相距多少米？



$$400 + 500 = \square \text{ (m)}$$



怎样验算计算结果对不对？

可以用500加400……



还可以算900减……



答：小玲家与小丁家相距()m。

4 2月份销售文学书多少册？



科技书 (册)	文学书 (册)	合计 (册)
400		600

$$600 \bigcirc 400 = \square \text{ (册)}$$

答：2月份销售文学书()册。

议一议 怎样验算计算结果对不对？



再算一次600减400……

200加400……



课 堂 活 动

1. 我拨珠,你写算式。

我拨……

万 千 百 十 个
位 位 位 位 位

我拨……

万 千 百 十 个
位 位 位 位 位

400 ○ 200 =

600 ○ 200 =

2. 卡片游戏。

3. 口算游戏。

400

300+100
700-300
480-80
...

练 习 六

1. 看图填算式。



○

=

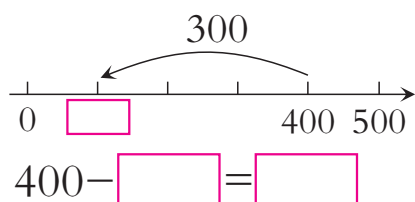
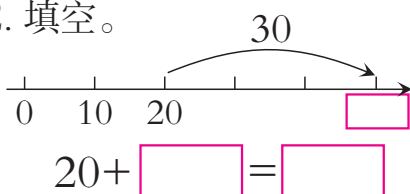
○

=

○

=

2. 填空。



- | | | | |
|----|------------|------------|------------|
| 3. | $20+50=$ | $70-40=$ | $300+700=$ |
| | $200+500=$ | $700-400=$ | $900+700=$ |
| | $200+50=$ | $750-700=$ | $900+70=$ |
| | $20+500=$ | $750-50=$ | $90+700=$ |

4. 看图写算式。



加法算式: _____

减法算式: _____

5. 根据加法算式填空。

(1) $80+60=$

- 60 =


- 80 =

(2) $300+600=$

- 600 =

- 300 =

6. 乐山大佛。



$71 \bigcirc$ = (m)

验算:

7. 计算并验算。

$110+70=$

验算: \bigcirc =

$400-100=$

验算: \bigcirc =



8. 填空。

$$\begin{array}{|c|} \hline 500 \\ \hline 600 \\ \hline 700 \\ \hline \end{array} + 300 = \begin{array}{|c|} \hline \\ \hline \\ \hline \\ \hline \end{array}$$

$$\begin{array}{|c|} \hline 400 \\ \hline 600 \\ \hline 800 \\ \hline \end{array} + \begin{array}{|c|} \hline 600 \\ \hline 400 \\ \hline 200 \\ \hline \end{array} = \begin{array}{|c|} \hline \\ \hline \\ \hline \\ \hline \end{array}$$

$$\begin{array}{|c|} \hline 600 \\ \hline 700 \\ \hline 800 \\ \hline \end{array} - 300 = \begin{array}{|c|} \hline \\ \hline \\ \hline \\ \hline \end{array}$$

$$\begin{array}{|c|} \hline 500 \\ \hline 600 \\ \hline 700 \\ \hline \end{array} - \begin{array}{|c|} \hline 300 \\ \hline 400 \\ \hline 500 \\ \hline \end{array} = \begin{array}{|c|} \hline \\ \hline \\ \hline \\ \hline \end{array}$$

9. 在()里填适当的数。

$() + 150 = 450$

$300 + () = 800$

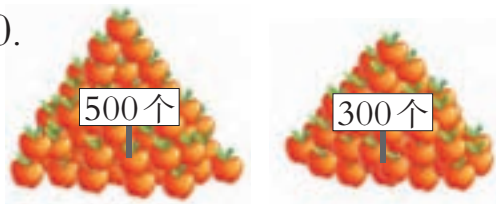
$() - 100 = 400$

$300 - () = 100$

$() - 80 = 200$

$540 - () = 40$

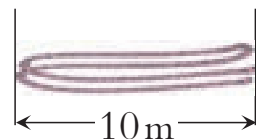
10.



(1) 两堆苹果一共有多少个?

(2) 怎样使两堆苹果个数同样多?

11. 一根绳子对折再对折(如右图), 这根绳子长()m。



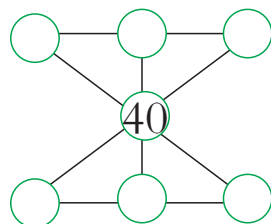
12. 二年级师生共80人去春游。



坐1辆客车还剩()人, 坐2辆客车还空()个座位。



把10, 20, 30, 50, 60, 70填入图中的○内, 使每条线上3个数的和相等。



5 大约要准备疫苗多少支?



295 接近 300, 把 295 看成 300,
298 接近 300, 把 298 看成 300。



$$300+300=600(\text{人})$$

答:大约要准备疫苗 600 支。

议一议 华村第二小学有男生 307 人,女生 316 人,准备 600 支疫苗够不够?

6 张强有 326 元。



MP4
187 元



手机
525 元

买一个 MP4 大约能剩多少元?

326 接近 300, 把 326 看成 300,
187 接近 200, 把 187 看成 200。



$$300-200=\square(\text{元})$$

答:买一个 MP4 大约能剩()元。

议一议 如果买一部手机,大约还差多少元?



课 堂 活 动

估一估,说一说。

新农村建设的居民点,已经入住583户,还能入住212户。这个居民点大约能住多少户人家?

583接近(),
把583看成……



练 习 七

1. 一张拼音报,第1版有585个汉字,第2版有312个汉字。这两个版面大约有多少个汉字?
2. 学校团体操练习,应到678人,实到580人,大约还差多少人?
3. 两辆车一共大约装多少个西瓜?



517个



470个

4. 王兵参加全民健身活动,计划每天早上大约跑600 m,傍晚大约跑400 m,()天可以跑完10000 m。

5. 除草机



680元

水泵



770元

脱粒机



910元

打浆机



435元

(1)买1台  和1台  大约要多少元?

(2)你还能提出并解决哪些数学问题?

6. 蓝天小学的同学到公园春游,全校有男生493人,女生490人。公园门票每张1元,带1000元为学生购买门票够吗?为什么?



三位数的加法

1 两种笔一共有多少支？



$$220 + 260 = \square (\quad)$$



$$\begin{aligned} 200 + 200 &= 400 \\ 20 + 60 &= 80 \\ 400 + 80 &= 480 \end{aligned}$$

$$\begin{array}{r} 220 \\ + 260 \\ \hline 480 \end{array}$$

相同数位要对齐。



答：两种笔一共有()支。

2 丰收小学共有学生多少人？

丰收小学学生人数表

男生(人)	433
女生(人)	418

$$433 + 418 = \square (\quad)$$

$$\begin{array}{r} 433 \\ + 418 \\ \hline \square \square 1 \end{array}$$

个位上的数相加满10……



答：丰收小学共有学生()人。

试一试

$$\begin{array}{r} 306 \\ + 405 \\ \hline \end{array}$$

$$\begin{array}{r} 444 \\ + 338 \\ \hline \end{array}$$

$$\begin{array}{r} 356 \\ + 237 \\ \hline \end{array}$$


议一议

在加法计算中应该注意什么？



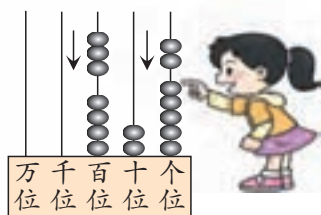

课 堂 活 动

1. 填一填,说一说。



$$\begin{array}{r}
 320 \\
 + \square\square\square \\
 \hline
 \square\square\square
 \end{array}$$

2. 我拨珠,你填空。



3. 先说说合计人数表示什么,再填表。

田园小学课外活动人数表

	体育活动	艺术活动	科技活动
男生(人)	174	115	204
女生(人)	118	142	189
合计(人)			

3 有多少头猪?



153 头



比牛多 270 头

$$153 + 270 = \square (\quad)$$

$$\begin{array}{r}
 153 \\
 + 270 \\
 \hline
 \square 23
 \end{array}$$

十位上的数相加满 10……



答:有()头猪。





4 一辆自行车要多少元？

三轮童车



125元

两轮童车



378元

自行车



等于前两辆车的总价

$$125 + 378 = \square (\quad)$$

$$\begin{array}{r} 125 \\ + 378 \\ \hline \square \square 3 \end{array}$$

十位上的数怎么算？



答：一辆自行车要()元。



用竖式计算。

$$338 + 169$$

$$427 + 584$$



怎样计算三位数的加法？

课 堂 活 动

1. 看第30页图。

(1) 说一说图中有哪些数学信息。

(2) 提出并解决数学问题。

2. 二年级有学生多少人？



二年级比一年级多47人。

一年级学生人数表

男生(人)	127
女生(人)	98
合计(人)	



练 习 八

1. 口算。

$400+150=$	$800-500=$	$9\times 7=$	$36\div 4=$
$500+400=$	$850-50=$	$3\times 9=$	$49\div 7=$

2. 计算。

$\begin{array}{r} 325 \\ +134 \\ \hline \end{array}$	$\begin{array}{r} 564 \\ +328 \\ \hline \end{array}$	$\begin{array}{r} 419 \\ +457 \\ \hline \end{array}$	$\begin{array}{r} 408 \\ +387 \\ \hline \end{array}$
--	--	--	--

3. 世界上最高的巨杉树高 115 m, 上海“东方明珠”电视塔比它还高 353 m。上海“东方明珠”电视塔高多少米?

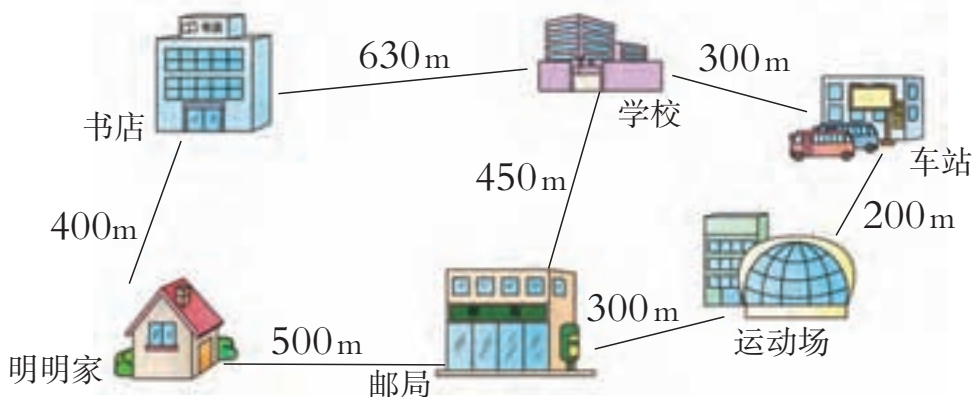


4. 截至 2010 年 12 月, 我国西部有国家级森林公园 212 个, 其他地区有 534 个, 我国国家级森林公园有多少个?

5. 三峡水库二期蓄水水位高度 156 m。从二期蓄水到三期蓄水, 水位升高了 19 m。三期蓄水水位高度是多少米?



6. 从明明家到什么地方大约有 1 km?



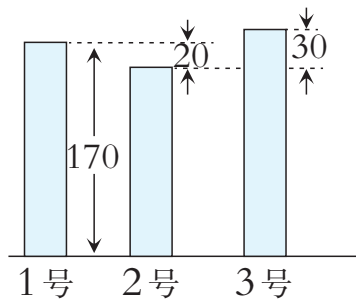
7. 计算。

$\begin{array}{r} 344 \\ + 485 \\ \hline \end{array}$	$\begin{array}{r} 372 \\ + 235 \\ \hline \end{array}$	$\begin{array}{r} 249 \\ + 458 \\ \hline \end{array}$	$\begin{array}{r} 775 \\ + 228 \\ \hline \end{array}$
---	---	---	---

8. 3位运动员的跳高成绩如右图。(图中单位:cm)

(1) 2号运动员跳高成绩是多少? 3号呢?

(2) 你还能提出并解决哪些数学问题?



9. 两车共运南瓜多少个?



运468个



运985个


10. 买商品。



转椅285元



办公桌708元



书柜680元



传真机890元

(1) 买1张办公桌和1个书柜,要多少元?

(2) 2000元能买哪些商品?

(3) 你还可以提出并解决哪些数学问题?


11. 在 里填合适的数。

$$\begin{array}{r} \square 1 2 \\ + 4 \square 5 \\ \hline 6 4 \square \end{array}$$

$$\begin{array}{r} 2 5 \square \\ + 4 \square 5 \\ \hline 7 5 4 \end{array}$$



每个苹果一样重,每个梨一样重。



2个 = () 个



三位数的减法

1 小丽有340元,买1个计算器后,还剩多少元?



120元

$$340 - 120 = \square (\quad)$$



$$\begin{aligned} 300 - 100 &= 200 \\ 40 - 20 &= 20 \\ 200 + 20 &= 220 \end{aligned}$$

$$\begin{array}{r} 340 \\ -120 \\ \hline \square\square\square \end{array}$$

相同数位
要对齐。



答:还剩()元。

2 光明小学共有学生876人,其中女生有448人,男生有多少人?

$$876 - 448 = \square (\quad)$$

个位上的数不够减怎么办?



$$\begin{array}{r} 8\overset{\cdot}{7}6 \\ -448 \\ \hline \square\square8 \end{array}$$

验算:

$$\begin{array}{r} \square\square\square \\ \bigcirc 448 \\ \hline \square\square\square \end{array}$$

答:光明小学的男生有()人。

试一试

$$\begin{array}{r} 433 \\ -218 \\ \hline \end{array}$$

$$\begin{array}{r} 547 \\ -439 \\ \hline \end{array}$$

$$\begin{array}{r} 613 \\ -409 \\ \hline \end{array}$$


议一议

在减法计算中要注意什么?



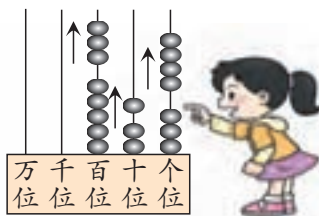
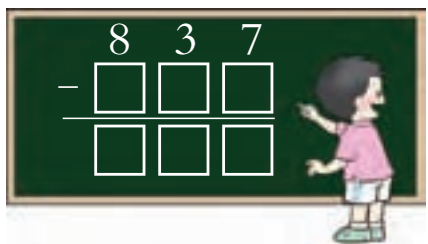
课 堂 活 动

1. 填一填,说一说。



$$\begin{array}{r} 430 \\ - \square\square\square \\ \hline \square\square\square \end{array}$$

2. 我拨珠,你填空。



3 上山行了517m,下山走近路,比上山少行85m,下山行了多少米?



$$517 - 85 = \square (\quad)$$

$$\begin{array}{r} 517 \\ - 85 \\ \hline \square 32 \end{array}$$



十位上的数不够减怎么办?

答:下山行了()m。

试一试

$$\begin{array}{r} 609 \\ - 413 \\ \hline \end{array}$$

$$\begin{array}{r} 348 \\ - 278 \\ \hline \end{array}$$

议一议

怎样计算三位数的减法?



4 计算。

$$\begin{array}{r} 713 \\ -548 \\ \hline \square\square5 \end{array}$$

十位上的数怎么算?



试一试

$$\begin{array}{r} 334 \\ -237 \\ \hline \end{array}$$

$$\begin{array}{r} 414 \\ -358 \\ \hline \end{array}$$

5 还剩多少个座位?



个位上不够减,而十位上又是0,怎么办?

$$800 - 736 = \square (\quad)$$

个位上减了以后,十位上是几减几呢?



$$\begin{array}{r} 800 \\ -736 \\ \hline \square\square \end{array}$$



答:还剩()个座位。

试一试

$$\begin{array}{r} 400 \\ -345 \\ \hline \end{array}$$

$$\begin{array}{r} 805 \\ -526 \\ \hline \end{array}$$

课 堂 活 动

1. 算一算,说一说。

$$\begin{array}{r} 743 \\ -173 \\ \hline \end{array}$$

$$\begin{array}{r} 415 \\ -348 \\ \hline \end{array}$$

2. 说一说错在哪里,再改正。

$$\begin{array}{r} 516 \\ -368 \\ \hline 158 \end{array}$$

$$\begin{array}{r} 400 \\ -187 \\ \hline 387 \end{array}$$

$$\begin{array}{r} 705 \\ -696 \\ \hline 19 \end{array}$$

3. 提出并解决数学问题。



练习九

1. 口算。

$30-17=$

$300+70=$

$850-350=$

$56\div 7=$

$27\div 9=$

$710-210=$

$837-400=$

$320-220=$

$48\div 8=$

2. 计算。

$$\begin{array}{r} 784 \\ -342 \\ \hline \end{array}$$

$$\begin{array}{r} 586 \\ -176 \\ \hline \end{array}$$

$$\begin{array}{r} 624 \\ -518 \\ \hline \end{array}$$

3. 计算下面各题,能口算的可以口算。

$800-400=$

$431-120=$

$740-530=$

$800-430=$

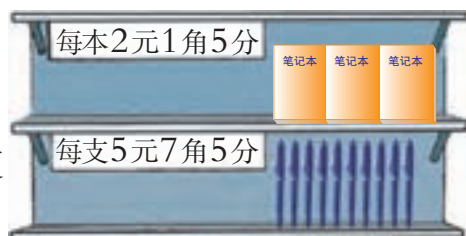
$431-206=$

$740-350=$



4. 算一算, 填一填。

小康有4元8角, 如果买1本笔记本, 还剩(); 如果买1支钢笔, 还差()。



5. 计算。

$$\begin{array}{r} 807 \\ -396 \\ \hline \end{array}$$

$$\begin{array}{r} 342 \\ -187 \\ \hline \end{array}$$

$$\begin{array}{r} 714 \\ -648 \\ \hline \end{array}$$

6. 计算并验算。

(1) 375 验算:

$$\begin{array}{r} 375 \\ +457 \\ \hline \end{array}$$

(2) 714 验算:

$$\begin{array}{r} 714 \\ -417 \\ \hline \end{array}$$

7. 下面是火车的部分路线示意图, 分别算出石家庄到郑州、济南到青岛的路程。



北京		(单位: km)
283	石家庄	
695		郑州
北京		
497	济南	
890		青岛

8. 计算。 300

$$\begin{array}{r} 300 \\ -180 \\ \hline \end{array}$$

800

$$\begin{array}{r} 800 \\ -718 \\ \hline \end{array}$$

503

$$\begin{array}{r} 503 \\ -408 \\ \hline \end{array}$$

9. 养猪场每天需要猪饲料125袋。买回400袋, 用了1天, 还剩多少袋?

10. 计算。

(1) $375+148$
 $375-148$

$213+189$
 $213-189$

$320+184$
 $320-184$

(2) $437+163-246$

$800-143+96$



11. 先看王军家本月底的水、电、气表,再填表。



水表

315



电表

926



气表

530

	水 (吨)	电 (千瓦时)	气 (立方米)
上月底的读数	287	758	482
本月底的读数			
本月使用数			

12. 一辆车从甲城开往乙城。在下表中填出已行路程或剩下路程。

已行路程 (km)	100	150		250
剩下路程 (km)	200		100	

观察上表,你发现了什么?

13. 填表。

小明父亲(岁)	35	40	
小明(岁)	10	15	20
相差(岁)			

观察上表,你发现了什么?



在 里填合适的数字,使算式正确。

$$\begin{array}{r} 53 \square \\ - 2 \square 5 \\ \hline \square 4 2 \end{array}$$

$$\begin{array}{r} 7 \square \square \\ - \square \square 7 \\ \hline 3 3 \end{array}$$



探索规律

1 先找规律,再说一说。



2 在下列横线上填合适的数、字母或图形,并说明理由。

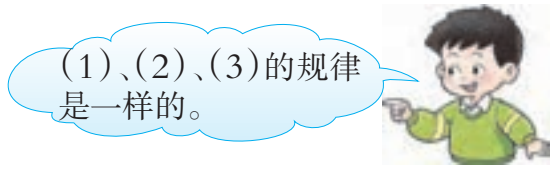
(1) 1, 1, 2, 1, 1, 2, 1, 1, 2, _____, _____, _____。

(2) A, A, B, A, A, B, A, A, B, _____, _____, _____。

(3) □, □, □, □, □, □, □, □, □, _____, _____, _____。



(1)的规律是1, 1, 2的重复。




(1)、(2)、(3)的规律是一样的。

3 先找规律,再填空。

1, 1, 2, 3, 5, 8, _____。



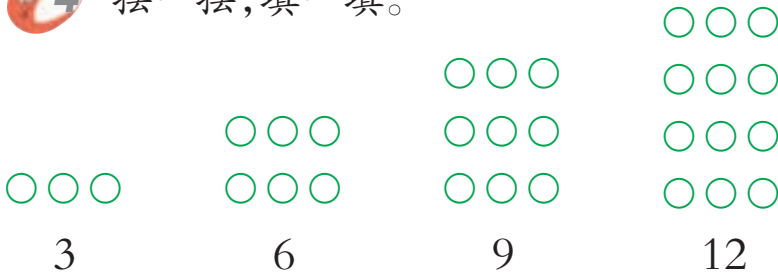
有什么规律呢?



我发现,第3个数是前两个数的和……



4 摆一摆,填一填。



摆的图形的规律是:先摆3个圆片,依次增加3个圆片。

这组数的规律是……



试一试 找规律填数。 16, 12, 8, 4, _____。

课 堂 活 动

1. 说说生活中的数学规律。
2. 按一定的规律摆一摆,说一说。


我们摆的规律是……



我们摆的规律是……



3. 照图摆一摆,说一说。



我发现的规律是……



练 习 十

1. 找规律,画一画。

(1) $\triangle, \square, \bigcirc, \triangle, \square, \bigcirc, \triangle, \square, \bigcirc, \underline{\hspace{1cm}}, \underline{\hspace{1cm}}, \underline{\hspace{1cm}}$ 。

(2) $\triangle, \triangle, \blacktriangle, \blacktriangle, \triangle, \triangle, \blacktriangle, \blacktriangle, \triangle, \triangle, \blacktriangle, \blacktriangle, \underline{\hspace{1cm}}, \underline{\hspace{1cm}}, \underline{\hspace{1cm}}$ 。

2. 说一说有什么规律。



3. 先找规律,再填合适的数。

(1) 5, 5, 10, 5, 5, 10, 5, 5, 10, $\underline{\hspace{1cm}}, \underline{\hspace{1cm}}, \underline{\hspace{1cm}}$ 。

(2) 1, 2, 3, 1, 2, 3, 1, 2, 3, $\underline{\hspace{1cm}}, \underline{\hspace{1cm}}, \underline{\hspace{1cm}}$ 。

(3) 4, 8, 12, 16, $\underline{\hspace{1cm}}$ 。 (4) 30, 25, 20, 15, $\underline{\hspace{1cm}}, 5$ 。

(5) 4, 6, 10, 16, 26, $\underline{\hspace{1cm}}$ 。 (6) 20, 30, 50, 80, 130, $\underline{\hspace{1cm}}$ 。

4. 选出4个数组成一组有规律的数。



按规律填数。你有不同的填法吗?

10, 20, $\underline{\hspace{1cm}}, \underline{\hspace{1cm}}, \underline{\hspace{1cm}}, \underline{\hspace{1cm}}$ 。



问题解决

1 还剩多少元?



要求还剩多少元。



要求还剩多少元,应该先算……



先算买了成语词典还剩多少元,再算……

先算一共用去多少元,再算……



怎样检验计算结果对不对?

答:还剩()元。



议一议 说说解决这个问题的过程是怎样的。



试一试 1本故事书有480页。小明第1天看了108页,第2天看了172页,还剩多少页?



2 鸭和鹅一共有多少只？



知道鸭有680只……

要求鸭和鹅一共有多少只。



要求一共有多少只，应该知道鸭的只数和鹅的只数……

鹅的只数不知道，要先算鹅的只数，再算……



$$680 - 375 = 305 (\text{只})$$

$$680 + 305 = 985 (\text{只})$$

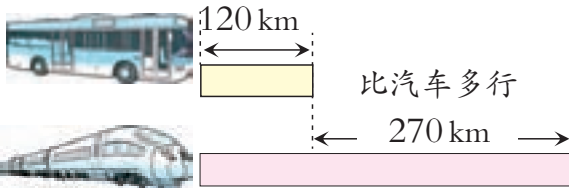
答：鸭和鹅一共有()只。

试一试 果园里有梨树523棵，桃树比梨树多297棵。
桃树和梨树一共有多少棵？

课 堂 活 动

你能提出并解决哪些数学问题？并说说解决问题的方法。

(1) 小明从家乡到重庆，先乘汽车，再乘动车。



(2) 阅览室里原有138人。





用 10 m 长的绳子做跳绳。可以怎么做？

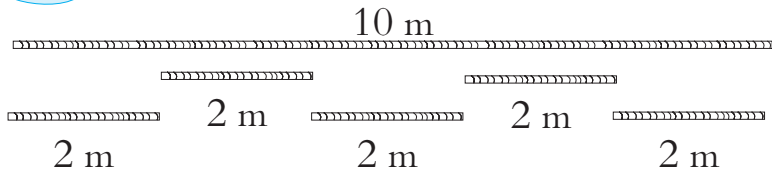


长绳 4 m



短绳 2 m

都做成短绳，就看 10 米里面有几个 2 米。



$$10 \div 2 = 5 (\text{根})$$



先做 1 根长绳，再做……

$$10 - 4 = 6 (\text{m})$$

$$6 \div 2 = 3 (\text{根})$$

先做 2 根长绳，再做……

$$4 \times 2 = 8 (\text{m})$$

$$10 - 8 = 2 (\text{m})$$



还可以这样做。



长绳 (根)	用去长度 (m)	剩下长度 (m)	短绳 (根)
0	0	10	5
1	4	6	
2			



36 名同学去阅览室看书。长凳每张坐 6 人，短凳每张坐 4 人，可以怎样准备凳子？



课 堂 活 动

逛公园。



(1) 小丽家买门票要多少元?

(2) 你还能提出并解决哪些数学问题?

练 习 十 一

1. 口算。

$37+40=$

$350-150=$

$157+40=$

$32\div 4=$

$76-45=$

$8\times 2=$

$16\div 4=$

$5+65=$

$5\times 9=$

2. 二年级共有 187 人参加以下兴趣组的活动(每人只参加一组)。科技组有多少人?



体育组 68 人



艺术组 54 人



科技组 () 人

3. 涪陵到宜昌航线长 528km。小明爸爸从涪陵乘船已经到达万州, 还要行多少千米才能到达宜昌?



4. 小猴摘桃。



小猴第1天摘30个桃,以后每天都比前一天多摘10个桃。




- (1)第3天摘了多少个桃?第5天呢?
 (2)你还能提出并解决哪些数学问题?

5. 小兔姐妹上山采蘑菇,一共采了多少朵?



6. 江南车站每天发出客车365次,江北车站每天比江南车站多发出客车80次。江南和江北两个车站每天一共发出客车多少次?

7. 一共是多少元?



8.

苹果	吃了	还剩
<p>100个 100个 100个</p>	250个	()个



9. 展览馆里原有450人。



- (1) 9:00 ~ 10:00, 进去 50 人, 出来 50 人, 这时展览馆有多少人?
 - (2) 10:00 ~ 11:00, 进去 100 人, 出来 80 人, 这时展览馆有多少人?
 - (3) 11:00 ~ 12:00, 进去 100 人, 出来 150 人, 这时展览馆有多少人?
- 你认为选择哪个时段去参观最合适?

10. 神州家电城3月份售出电视机743台。



- (1) 4月份比3月份多售出205台, 3月份和4月份一共售出电视机多少台?
- (2) 5月份比4月份少售出68台, 3月份和5月份一共售出电视机多少台?

11. 星期天, 24个同学去公园坐游船。他们可以怎样租船?



12. 母亲节到了, 兰兰用36元买花送妈妈。



- (1) 只买康乃馨, 可买()枝。
- (2) 只买百合, 可买()枝。
- (3) 两种都买, 可买()枝康乃馨和()枝百合。

整理与复习



1. 用竖式计算,并说一说计算时应注意什么。

$$587+239$$

$$424-286$$

2. 说出解决问题的过程和方法。



橘子 100 个



20 个



20 个



20 个

苹果

(1) 橘子和苹果一共有多少个？

(2) 你还能提出并解决哪些数学问题？

练习十二

1. 口算。

$$300-150=$$

$$300+105=$$

$$80+120=$$

$$315-210=$$

$$800-600=$$

$$205+50=$$

2. 计算。

$$\begin{array}{r} 324 \\ + 256 \\ \hline \end{array}$$

$$\begin{array}{r} 451 \\ + 362 \\ \hline \end{array}$$

$$\begin{array}{r} 281 \\ - 154 \\ \hline \end{array}$$

$$\begin{array}{r} 800 \\ - 752 \\ \hline \end{array}$$



3. 计算。

$$\begin{array}{lll} 479+494= & 147+358= & 900-427-373= \\ 743-457= & 923-764= & 500+378-527= \end{array}$$

4. 下面的计算对吗? 如果有错误, 请改正。

$$\begin{array}{r} 425 \\ +356 \\ \hline 771 \end{array}$$

$$\begin{array}{r} 830 \\ -315 \\ \hline 525 \end{array}$$

$$\begin{array}{r} 604 \\ -509 \\ \hline 95 \end{array}$$

5. 填空。

(1) 一个三位数减去99, 差最小是()。

(2) 一个加数增加5, 另一个加数减少5, 它们的和()。

6. 二年级全体同学去科技馆看电影。估算一下座位够吗。

电影厅座位有800个。



二年级有男生398人, 女生379人。

7. 填出合适的数、字母或图形, 并说明理由。

(1) J Q K, J Q K, J Q K, _____。

(2) $\triangle\triangle\bigcirc, \triangle\triangle\bigcirc, \triangle\triangle\bigcirc, ______。$

(3) 92, _____, 96, 98, _____。

(4) 52, 48, 44, _____, 36, _____。

(5) 3, 6, 9, _____, _____, _____。

8. 实际比计划多植树多少棵?

计划植树180棵。



实际植树225棵。



9. 填表。

学 校	男生(人)	女生(人)	全校(人)
东川小学	475	448	
石峰小学	449		907
南江小学		445	931

10. 渝西飞行护林队给 240 个镇进行森林防虫。

第 1 批防虫 85 个镇，
第 2 批防虫 93 个镇。



还有多少个镇没防虫？

11. 扎西家养了山羊 306 只，养的绵羊比山羊少 86 只。扎西家的绵羊和山羊一共有多少只？

12. 二年级 24 名同学参加舞蹈排练。按照 8 人 1 组或 4 人 1 组编排队形，可以怎样编排？

13. 下面是一个人民币活期存折的一部分，填出 3 次余额。

日期	存入(元)	支出(元)	余额(元)
2011-04-10	947	—	947
2011-04-20	—	570	
2011-04-25	485	—	
2011-04-30	—	675	



1 张桌子配 1 把椅子。

(1) 1 次搬完 8 套桌椅，一共要多少名同学？

(2) 安排 40 名同学

搬，1 次一共可以搬多少套桌椅？多少人搬桌子，多少人搬椅子？





生活中的数学规律

斑马斑纹的规律是黑，白，黑，白，黑，白……



1 动物的花纹有规律。



这些花的瓣数组成的规律是：1, 2, 3, 5, 8, 13。

2 花的瓣数有规律。



3 丝织品中有规律。



4 电影院的座位号有规律。



彩旗排列的规律是红，黄，红，黄，红，黄……




5 课外活动中有规律。




参观南村养鸡场




算一算,肉鸡有多少只?



数一数,鸡蛋有多少个?



算一算,种鸡比肉鸡少多少只?



议一议,还能提出哪些数学问题?

