



六 简单的统计活动

1 统计小猫钓鱼的情况。



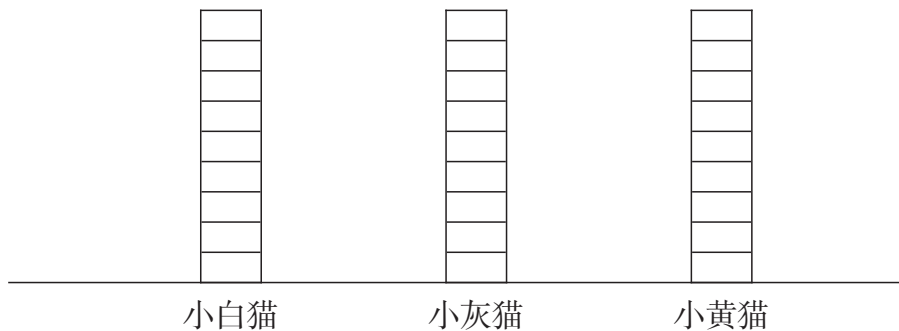
小猫全天钓鱼数统计表

小动物	小白猫	小灰猫	小黄猫	合计
钓鱼数(条)				

表中的“合计”表示什么？

3只小猫全天钓鱼数的情况还可以用统计图表示,涂色完成统计图。

小猫全天钓鱼数统计图



从图中可以直观地看出:

() 钓得最多, () 钓得最少。

小白猫钓的鱼比小灰猫多()条。

小黄猫钓的鱼比小白猫少()条。

你还能提出哪些数学问题?



2 统计1个组同学的年龄情况。

我让同学报年龄,用画“正”字的方法统计。



我让同岁的同学举手,用数一数的方法统计。

我用统计表展示统计的结果。

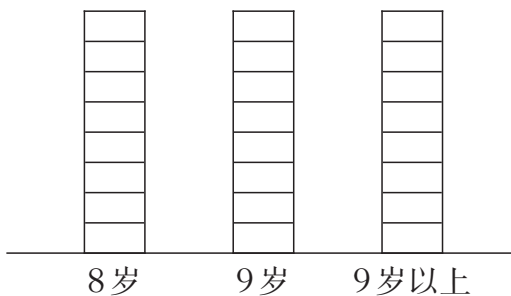


××组同学年龄统计表

年龄段	8岁	9岁	9岁以上	合计
人数(人)				

涂色完成统计图。

××组同学年龄统计图



我用统计图展示统计的结果。



你能给大家介绍一下你们组同学的年龄情况吗?

根据统计情况填空。

()的人数最多,()的人数最少。



课 堂 活 动

1. 统计1个组的同学放学回家的方式。

××组同学放学回家方式统计表

回家方式	走路	坐公交车	坐小车	其他	合计
人数(人)					

(1)用哪种方式回家的同学最多? 哪种最少?

(2)向大家介绍你们组同学放学回家所用方式的情况。



2. 收集上个月每天的天气情况,用你喜欢的方式记录,完成下面的统计表。

()年()月天气情况统计表

天气情况					其他	合计
天数(天)						

我来告诉你每天的天气情况。



我用画“√”的方法来记录。



练习二十

1. 根据体检结果,统计全班同学龋齿的情况。



全班同学龋齿情况统计表

龋齿颗数(颗)	0	1	2	3	4	4以上	合计
人数(人)							

- (1) 哪种情况的人数最多?
- (2) 没有龋齿的同学有多少人?
- (3) 统计后,你有什么想给同学们说的吗?

2. 统计全班同学每天的睡眠时间。

三()班同学睡眠时间统计表

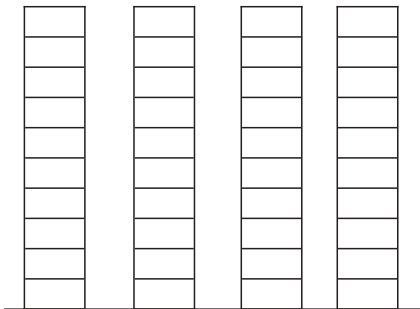
睡眠时间	9时以下	9~10时	10时以上	合计
人数(人)				

每天睡眠时间为()的人数最多,睡眠时间为()的人数最少。说一说睡眠时间太少的害处。



3. 调查全班同学最喜欢看的少儿节目的人数。先涂色计数,再填表。

全班同学最喜欢看的
少儿节目人数统计图



大风车 动画城 智慧树 其他

全班同学最喜欢看的少儿节目人数统计表

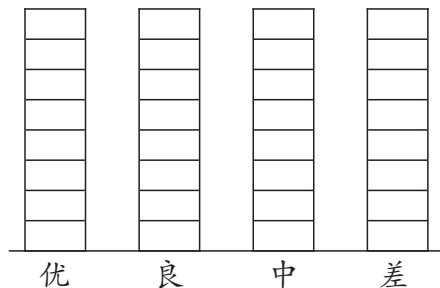
节目名称	大风车	动画城	智慧树	其他	合计
人数(人)					

4. 观察统计表,并在格子里涂色记录。

某市4月上半月空气质量统计表

日期	1	2	3	4	5	6	7	8
空气质量	良	优	优	优	良	良	良	优
日期	9	10	11	12	13	14	15	
空气质量	中	中	差	良	良	优	良	

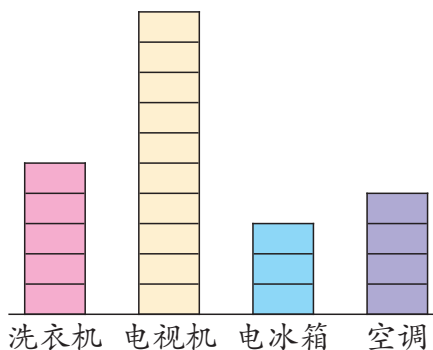
某市4月上半月空气质量统计图



哪种空气质量的天数最多? 哪种最少呢?

5. 下面是长江家电商场某天上午家电销售情况的统计图。

长江家电商场×月×日上午家电销售情况统计图



从图中看出什么卖得最多?
什么卖得最少?

根据左边的统计图,填写统计表。


长江家电商场×月×日上午家电销售情况统计表

家电名称	洗衣机	电视机	电冰箱	空调	合计
台数(台)					

你能简单介绍一下长江家电商场这天上午的销售情况吗?



一天用的纸



分类。



收集。

一天用纸统计表

这是我们组设计的统计表。

类别	作业纸	草稿纸	面巾纸	卫生纸	其他	合计
张数(张)						



我用画“正”字的方法来整理。



我用画“√”的方法来整理。

交流。

我们组一天用的面巾纸最多,有17张。

我们发现一天用的草稿纸比作业纸多6张。



思考。

一张张的纸是由一棵棵大树变成的哦!

我以后用面巾纸也要“精打细算”!

如果能少用一点纸就好了!

