



山西省 2017 年中考考前适应性训练试题

文科综合
历史

注意事项:

1. 文科综合由历史和思想品德两部分组成, 满分 150 分, 考试时间 150 分钟。其中历史部分分第 I 卷和第 II 卷, 全卷共 8 页, 满分 75 分, 考试时间 70 分钟。
2. 答卷前, 考生务必将自己的姓名、准考证号填写在本试卷相应的位置。
3. 答案全部在答题卡上完成, 答在本试卷上无效。
4. 考试结束后, 将本试卷和答题卡一并交回。

第 I 卷 选择题 (共 30 分)

一、选择题(在每小题的四个选项中, 只有一项最符合题意, 请选出并在答题卡上将该项涂黑。本大题有 15 个小题, 每小题 2 分, 共 30 分)

1. 对血缘、制度、价值取向和家国的认同, 便是对文化的认同。“西周”所处的时代, 体现出这些文化认同的主要特征是
 - A. 封邦建国、制礼作乐
 - B. 社会变革、百家争鸣
 - C. 国家分裂、民族交融
 - D. 皇权强化、闭关锁国
2. 唐太宗时制定的《贞观律》规定: 对官员、地主“占田过限”“在官侵夺私田”等不法行为, 予以惩治; 擅自加重赋敛的要坐以赃罪或枉法罪。这反映了
 - A. 唐太宗时社会出现了治世局面
 - B. 唐朝初年政府征收苛捐杂税
 - C. 唐朝官员贪赃枉法的严重后果
 - D. 唐朝对官员的刑罚过于严苛
3. 山西民间有“六郎站在雁门关, 一箭射到大青山(位于内蒙古)”的传说。下列对这一传说的理解, 说法最合理的是
 - A. 杨六郎勇武过人, 这种传说完全可能发生
 - B. 当时与杨六郎发生冲突的是成吉思汗率领的蒙古军
 - C. 历史传说多虚拟夸张, 不可作为历史研究资料
 - D. 传说虽有夸张, 但可以推测出北宋与北方民族处于战争状态

4. 下表是科举考试在不同时期南北方状元人数的对比(单位: 个), 结合所学知识, 判断出现这种趋势的主要原因可能是

地区\朝代	唐	五代	北宋	南宋	明	清
北方	40	6	28	6	11	10
南方	17	10	27	74	78	88

- A. 南方自然条件比较优越
 - B. 南方经济逐渐超过北方
 - C. 统治者更重视南方人才
 - D. 南方社会环境比较安定
5. 钱币在方圆之中记录着人类的政治生活、经济发展、历史文化和各民族之间的相互关系, 是反映人类文明进程的重要实物。对下列货币相关历史的解读, 不正确的是



①汉代五铢钱



②洛阳出土的罗马金币



③日本和同开珎



④近代流入中国的西班牙银元

- A. 货币①是汉武帝实现经济大一统的成果
 - B. 货币②是古代中西方经济交流的见证
 - C. 货币③是唐朝时日本向中国学习的产物
 - D. 货币④是清代前期中国遭受外来侵略的铁证
6. “学界开通到女流, 金丝眼镜自由头。皮鞋黑袜天然足, 笑彼金莲最可羞。”根据材料中描述的现象, 判断此情景最有可能开始于
 - A. 洋务运动后
 - B. 新文化运动后
 - C. 五四运动后
 - D. 北伐战争后
7. 小新同学在参观中国人民革命军事博物馆时, 被陈列于解放战争时期展台上的一根小竹竿所吸引: 这根竹竿上刻有一位参加过淮海战役的支前民工唐和恩所到过的山东、江苏、安徽三个省共 88 个城镇、村庄的地名, 行程达 1600 多公里的事实。这根小竹竿现属于国家一级文物。下面是小新由此得出的结论, 你认为正确的是
 - ①淮海战役得到了人民群众的大力支持
 - ②这场战役创造了我军以少胜多的奇迹
 - ③小竹竿成为了见证这一战役的实物史证
 - ④唐和恩可作为采访淮海战役的亲历者
 - A. ①②③
 - B. ②③④
 - C. ①②④
 - D. ①③④

8. 图像史料是了解历史的实证史料之一。下列对四幅图像史料所反映的历史史实解读不正确的是



图1 土改纪念章



图2 “一五计划”纪念邮票



图3 新社员入社大会照片



图4 小岗村农民共按手印群雕

- A. 图1彻底废除了封建土地制度,农民成为土地的主人
B. 图2改变了工业落后的面貌,向社会主义工业化迈进
C. 图3农民加入生产合作社,农业走上集体化道路
D. 图4农民获得土地的所有权,生产积极性极大提高
9. 1992年邓小平“南方谈话”时指出,计划经济不等于社会主义,资本主义也有计划;市场经济不等于资本主义,社会主义也有市场。计划和市场都是经济手段。能体现这个观点的是
①罗斯福新政加强国家对经济的干预 ②苏联实行高度集中的政治经济体制 ③德国纳粹党上台后,疯狂实行扩军备战 ④中国改革开放允许多种经济形式并存
- A. ①②③ B. ①②④ C. ①④ D. ②④

10. 1996年,山西省提前完成了普及小学阶段义务教育的历史任务;到2008年,我省小学、初中入学率分别达到99.86%和99.47%,义务教育实现了全省城乡学杂费全免;同年,山西在全国率先启动了新中国成立以来财政集中投入最多的中小学校舍安全工程建设,这是我省推进教育发展的一项重要举措。此外,积极推进义务教育阶段学校标准化建设,还开展大中专学校与贫困县中小学对口帮扶活动,促进义务教育均衡发展。下面对这段材料的叙述,理解不正确的是

A. 山西省义务教育阶段实现了城乡学杂费全免
B. 山西省义务教育的发展水平居于全国领先地位
C. 中小学校舍安全工程建设成为推进教育发展的重要举措
D. 开展对口帮扶活动是促进义务教育均衡发展的做法之一

11. 庄园是构成中世纪西欧社会的一个最基本单元。庄园的主要产业是农业,同时也有手工业,有木匠、铁匠,庄园自己酿造啤酒,有自己的磨坊和面包师。庄园的土地除了可耕地之外,还有林地和草地,土地分为庄园主的土地和村民的份地,庄园主除了耕地之外,还有森林和草地,庄园中的磨坊、桥梁、牲畜等都属于庄园主。庄园里的村民们除了耕种自己的份地之外,还要为庄园主耕种土地,每周都要有几天为庄园主干活。这段话说明了

- A. 庄园经济具有自给自足的特点 B. 庄园里的劳动者主要是奴隶
C. 庄园里的人们生活水平较高 D. 庄园里人们的居住条件较好
12. 2006年美国《思想之林》杂志评选“十个人类有史以来最伟大的国家”,意大利以第一名入选,根据所学知识判断,其入选依据不应包括
A. 这里是西方资本主义萌芽之地
B. 15世纪航海家们从这里出发,发现了新大陆
C. 这里是文艺复兴运动的起源之地
D. 古罗马在法律、文化等领域产生了深远影响

13. 某研究性学习小组在整理和归纳“革命领袖——列宁”的主要事迹时,编制了右面的知识结构图。其中,横线上应填写的是

A. 战时共产主义政策 B. 新经济政策
C. 工业化建设 D. 农业集体化



14. 某日,甲乙二人阔谈中西饮食文化之不同,甲说:西方饮食严格按规范行事,肯德基家乡鸡的味道从美国肯德基州到中国太原毫无二致。乙说:中国八大菜系各有秘诀,出了家门我就尝不到妈妈的味道了。这个例子可以从侧面反映出
①中国饮食文化落后于同期的西方 ②中国饮食文化的独特性 ③肯德基的技术有严格的标准与操作规范 ④肯德基现象是经济全球化的表现

- A. ①②③④ B. ②③④ C. ①③④ D. ①②③
15. 美国著名国际问题专家布热津斯基在他的《大棋局》中说道:“二战后仅25年,一个崭新的世界格局开始出现。头几年还十分盛行的两极格局开始消失,一股股新的力量在萌动,在发展。”当时冲击世界两极格局的新力量是
①西欧的联合 ②日本的重新崛起 ③第三世界国家的兴起 ④国际恐怖主义势力猖獗
- A. ①②③ B. ②③④ C. ①③④ D. ①②④

历史

第II卷 非选择题 (共45分)

二、简答题(本大题共10分)

16. 请运用所掌握的历史基本技能,完成下面各题。

【时空观念】(1)观察下面两幅战争地图,分别简述其反映的历史事件的影响。(2分)

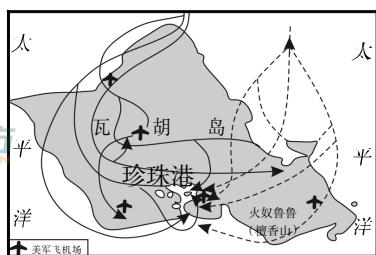


图1

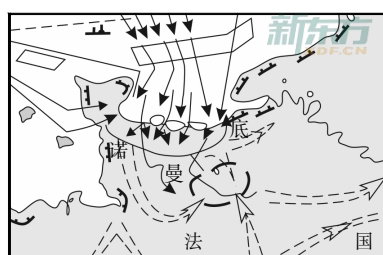
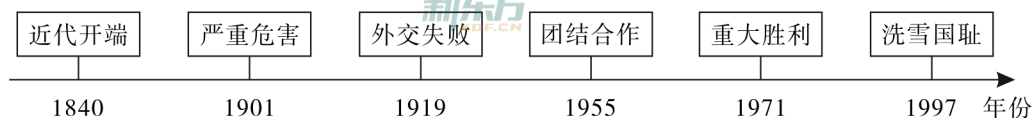


图2

(2)请根据下面中国近现代外交发展历程年代尺提示的信息,写出与“严重危害”“外交失败”相对应的条约名称,并归纳中国近现代外交发展历程的特点。(3分)



【历史解释】(3)从下面关键词中任选一个与年代尺上内容有因果关系的事件,并简述它们之间的关系。(2分)

- 工业革命 五四运动 “求同存异” “一国两制”

【史实与推论】(4)请根据所给出的史实,对下面的推论作出判断,正确的打“√”,错误的打“×”。(3分)

史实	推论	判断
商君治秦,法令至行,公平无私,罚不讳强大,赏不私亲近…… ——《战国策·秦策一》	商鞅变法这一措施体现了“以德治国”的理念。	
旧制度所显示的破产导致旧制度的变革。第一个变革是解放农奴……这是俄国历史上的一个重大转折点……工厂工人的数目从1865年的381000人上升到1890年的1620000人。 ——[美]斯塔夫里阿诺斯著《全球通史》	这次变革使俄国走上资本主义道路,促进了俄国资本主义的发展。	
中国共产党成立以后,由于无产阶级的领导,引出了阶级关系的新调度,农民革命的大发动,反帝国主义和反封建主义的革命彻底性……所有这些,都是在资产阶级领导革命时期不可能出现的。 ——毛泽东《矛盾论》	中国共产党领导的革命是一场彻底的反帝反封建的新民主主义革命。	

三、材料解析题(本大题含两小题,每小题10分,共20分)

17. 在世界近现代民主发展史上,尽管政体形式、机构设置等方面有所差异,但“条条大路通罗马”,最终契合民主化和法制化的历史趋势。阅读下列材料,结合所学知识,回答问题。(10分)

材料一 光荣革命后,英国以渐进改革的方式把传统政治转化为民主政治。法国则是在革命和复辟的反复中、共和与君主的交替中,以“进两步退一步”的方式,艰难地实现了政治民主化……

——李剑鸣《世界历史上的民主与民主化》

材料二 在设计一个由人来统治人的(中央)政府时,最大的困难在于:你必须首先使(中央)政府有能力控制被统治者;其次要强制(中央)政府控制自己。

——“美国宪法之父”麦迪逊

材料三 1912年3月颁布的《中华民国临时约法》部分条款:

第二条 中华民国之主权属于国民全体。

第十七条 参议院对于临时大总统认为有谋叛行为时,得以总员五分四以上之出席,出席员四分三以上之可决弹劾之。

第二十九条 临时大总统、副总统由参议院选举之。以总员四分三以上出席,得票满投票总数三分二以上者为当选。

材料四 新中国成立以来宪法修订历程

1954年第一届全国人民代表大会通过了新中国第一部宪法。

1975年宪法有着严重的缺点和问题,如:在内容上是对民主宪政和人权的大破坏。

1978年宪法一方面恢复了1954年宪法的很多内容,另一方面还保留了“坚持无产阶级专政下继续革命”等错误提法。

1982年宪法是对1954年宪法的继承和发展,也是对十一届三中全会以来拨乱反正和民主建设成果的确认和巩固。

1999年九届人大二次会议通过了《宪法修正案》,将邓小平理论、依法治国等主要内容写入了宪法。

(1)根据材料一,分别指出英国和法国民主政治发展的特点。简述光荣革命后英国的政体及其影响。(4分)

(2)根据材料二并结合所学知识,指出美国是如何克服材料中的困难的。(2分)

(3)根据材料三,指出《中华民国临时约法》体现了哪些立法原则。(2分)

(4)材料四中的1982年宪法与1978年宪法相比有何进步性?1954年以来我国宪法的修订说明了什么?(2分)

18. 纺织业的发展,从一个侧面见证了生产力发展推动社会进步。阅读下列材料,结合所学知识,回答问题。(10分)

材料一 北宋时,棉花在两广和福建普遍种植,南宋时推广到长江流域。棉花逐渐成为两宋重要的经济作物,这为棉纺织业的兴起创造了条件。宋应星在《天工开物》中记载:“凡棉布寸土皆有”,“织机十室必有”。棉纺织业在江南的松江地区十分发达,被誉为“以棉布衣被天下”。

——摘编自百度百科

材料二 15世纪,英格兰出现棉花种植,随后被英国殖民者带到了英属北美殖民地。英属北美殖民地南部因其自然条件适宜,棉花种植业迅速发展起来,成为英国的棉花主要供应地。美国的南方种植园主千方百计向中西部地区扩展棉花种植园,并且认为“人们不敢向棉花开战,世界上没有任何力量敢于向棉花开战,因为棉花就是王”。

——摘编自[法]埃里克·奥森纳《棉花国之旅》

材料三 明治维新后,日本的资本主义迅速发展,纺织、缫丝、制糖、造纸等轻工业部门逐步实现资本主义工业化,其中最突出的是纺织部门。1889年日本纺纱业大约拥有十万个纱锭,1897年就突破了一百万,机器纺纱占绝对优势。日本纱在海外市场的竞争能力也大大提高。

——董文倩《19世纪末~20世纪初日本纺织业的产销模式》

材料四 甲午战争后,棉纺织业利润优厚,刺激了这一行业的发展。1895~1899年五年中分别在上海、宁波、无锡、苏州、杭州、萧山、南通等地增设了10家棉纺织厂、18.8万枚纱锭,形成中国棉纺织业第一次设厂高潮。著名的业勤纱厂、大生纱厂等就是在这一时期建立的。

——凯越纺织研究中心《中国纺织品发展史》

材料五 1978~1998年我国外贸和纺织行业出口额统计表

年份	1978	1980	1990	1995	1997	1998
外贸出口总额(亿美元)	98	132	621	1488	1828	1838
纺织业出口总额(亿美元)	24	44	168	380	456	429

- 根据材料一,归纳宋明时期棉纺织业的发展状况。(2分)
- 根据材料二并结合所学知识,说明棉花种植业对北美历史发展产生的影响。(2分)
- 根据材料三并结合所学知识,说说推动日本纺织业迅速发展的有利条件有哪些。(2分)
- 根据材料四,分析中国棉纺织业出现“第一次设厂高潮”的原因。(2分)
- 从材料五数据的变化中,你能得到哪些信息?(2分)

四、探究题(本大题共15分)

19. 九年级(1)班的张老师为了提升同学们的学科素养,对历史史事形成正确的认识和价值判断,组织同学们分小组开展了如下丰富多彩的探究体验活动,请你一起完成学习任务。

<p>活动一【图片展览——体验工匠精神】</p> <p>(1)一组同学举办以“古代中国的匠心”为主题的图片展。请将他们搜集的图片进行分类(只填序号),并谈谈你对“工匠精神”的理解。(4分)</p> <div style="display: flex; justify-content: space-around;">    </div> <p>①冰裂纹瓷器 ②云冈石窟 ③故宫</p> <div style="display: flex; justify-content: space-around;">    </div> <p>④秦兵马俑 ⑤唐三彩 ⑥赵州桥</p> <p>手工业品: _____ 建筑工程: _____</p> <p>雕塑艺术: _____</p> <p>工匠精神: _____</p>	<p>活动二【人物评选——感悟科学情怀】</p> <p>(2)二组同学开展以“文明之光”为主题的科技人物评选活动。下面是他们搜集到的素材。</p> <p>①《梦溪笔谈》记载:庆历中有布衣毕昇,又为活板……若止印三二本,未为简易,若印数十百千本,则极为神速。</p> <p>②瓦特的墓志铭:才能加努力方可成功。</p> <p>③爱迪生:我的一切发明都是深思熟虑和严格试验的结果。</p> <p>④美国经济学家唐·帕尔伯格说:袁(隆平)正引导我们走向一个丰衣足食的世界。</p> <p>请你据此分别介绍这些科学家的成果对推动社会进步所起的作用。(4分)</p> <p>① _____ ② _____</p> <p>③ _____ ④ _____</p>
<p>活动三【周年纪念——弘扬民族精神】</p> <p>(3)三组同学进行的是以“难忘1937——勿忘国耻”为主题的周年大事纪念活动,如果要了解那一年的真实历史,可以通过哪些渠道搜集证据?抗战的胜利,彰显了怎样的民族精神?(3分)</p>	
<p>活动四【模拟会议——拓宽国际视野】</p> <p>(4)四组同学决定开展模拟国际组织的会议。请你任选下面一个主题,运用给出的关键词写出发言提纲。(4分)</p> <div style="display: flex; justify-content: space-around;"> <div data-bbox="1564 1421 2019 1769" style="border: 1px dashed black; padding: 5px;">  <p>联合国会徽</p> <p>联合国旨在维护世界和平与安全</p> <p>发言主题:亚太地区和平与安全</p> <p>关键词:抗美援朝、中日建交、尼克松访华</p> </div> <div data-bbox="2058 1421 2513 1769" style="border: 1px dashed black; padding: 5px;">  <p>G20 2016 CHINA</p> <p>G20 是国际经济合作论坛</p> <p>发言主题:经济全球化与中国</p> <p>关键词:亚太经合组织、世界贸易组织、“一带一路”</p> </div> </div>	

文科综合 思想品德

注意事项:

1. 文科综合由历史和思想品德两部分组成, 满分 150 分, 考试时间 150 分钟。其中思想品德部分采用开卷考试, 分第 I 卷和第 II 卷, 全卷共 8 页, 满分 75 分, 考试时间 70 分钟。
2. 答卷前, 考生务必将自己的姓名、准考证号填写在本试卷相应的位置。
3. 答案全部在答题卡上完成, 答在本试卷上无效。
4. 考试结束后, 将本试卷和答题卡一并交回。


第 I 卷 选择题 (共 36 分)

一、选择题(在每小题的四个选项中, 只有一项最符合题意, 请选出并在答题卡上将该项涂黑。每小题 3 分, 共 36 分)

1. 中国共产党第十八届中央委员会第六次全体会议于 2016 年 10 月 24 日至 27 日在北京举行, 会议审议通过了_____和_____。
 - A. 《中国共产党纪律处分条例》《关于新形势下党内政治生活的若干准则》
 - B. 《关于新形势下党内政治生活的若干准则》《中国共产党党内监督条例》
 - C. 《中国共产党问责条例》《中国共产党党内监督条例》
 - D. 《中国共产党纪律处分条例》《中国共产党问责条例》
2. 下列是关于十八届六中全会内容的陈述, 其中不正确的一项是
 - A. 加强和规范党内政治生活的根本要求是坚持全心全意为人民服务的根本宗旨, 保持党同人民群众的血肉联系
 - B. 十八届六中全会的主题是全面从严治党
 - C. “一个核心”是指以习近平同志为核心的党中央
 - D. “四个意识”是指政治意识、大局意识、创新意识、共享意识

3. 爸爸对上初中的小雨说:“初中是人生的重要阶段, 会遇到许多小学时没有的问题, 只要你树立‘天生我材必有用’的信念; 学会管理自己的情绪, 做到‘当别人误解你时, 请学会宽容与理解’; 本着‘滴自己的汗, 吃自己的饭。自己的事情自己干, 靠人靠天靠祖上, 不算是好汉’的心态, 你就一定会为成功打下扎实基础。”下列内容能对应爸爸观点的是
 - A. 自信 宽容 自立
 - B. 人生理想 宽容 自主
 - C. 自信 理智控制法 自立
 - D. 自尊 转移注意力 自强

4. 下列行为违反了未成年人保护法的是




①



②



③



④



⑤



⑥

- A. ①④⑥
- B. ③④⑤
- C. ②⑤⑥
- D. ①③④

5. 下列说法正确的一项是

- A. 闭锁心理与自闭症都是青春期正常心理现象, 二者没有区别, 都是将自己“封闭”起来
- B. 在公共场合, 我总感到害羞, 紧张冒汗, 说不上话来, 这是意志薄弱和虚荣心导致的
- C. 我国的基本政治制度有三项, 如街道办换届选举就是基层群众自治制度的体现
- D. 初中生小刘携带管制刀具, 多次拦截殴打他人和强行索要财物, 这是严重不良行为

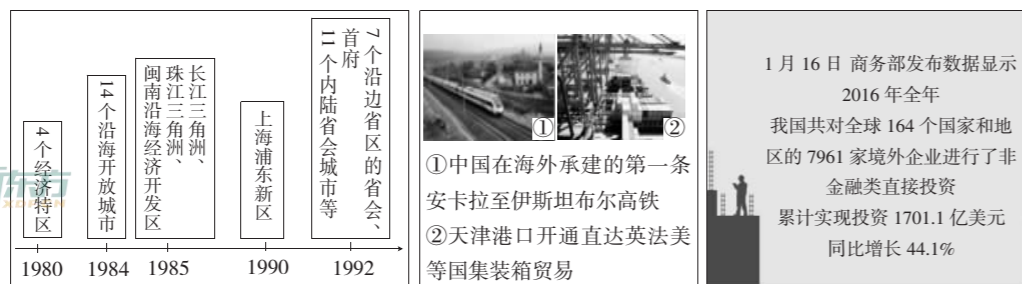
6. 2017年2月,山西某校园发生了欺凌事件,他们不但群殴弱者,还拍成视频进行网传,引起了全社会的共同关注。如果从法律的角度来分析,校园欺凌行为侵犯了学生的

- ①知情权 ②隐私权 ③生命健康权 ④人格尊严权
⑤荣誉权 ⑥平等交易权 ⑦政治自由 ⑧姓名权
A. ①②⑧ B. ②③④
C. ④⑤⑦ D. ①④⑥

7. 下列古语或诗词中能体现出中国传统节日或节气的是

- ①微雨众卉新,一雷惊蛰始。田家几日闲,耕种从此起
②南朝四百八十寺,多少楼台烟雨中
③遥知兄弟登高处,遍插茱萸少一人
④千门万户曈曈日,总把新桃换旧符
A. ①②③ B. ①③④
C. ①②④ D. ②③④

8. 在思想品德课上,某小组利用多媒体给同学们展示了以下一组图片,请根据图片内容归纳出展示的主题应该是



- A. 开放共享 合作共赢 B. 和平发展 生态中国
C. 科教兴国 创新驱动 D. 民族团结 共同繁荣

9. 下列新闻事件完全属于“精神文明建设”活动的是

- ①截止2016年底,全国开展了一系列“精准扶贫”攻坚战,1000多万人口脱贫
②2016年12月,太原市举办了第32届青少年科技大赛活动
③2017年1月至2月,中央电视台成功举办了第二届“中华诗词”大赛活动

④2017年1月,国家主席习近平应邀出席瑞士“达沃斯论坛”,并发表了主旨演讲

⑤2017年“两会”,民法总则草案提交全国人大进行审议

- A. ①③⑤ B. ②③
C. ④⑤ D. ①②④

10. 2016年以来,全国人大及其常委会针对“舌尖”上的食品安全、“足尖”上的交通安全等人民群众共同关心、关注的问题开展定期与不定期的全国执法巡视与检查,确保人民群众的利益不受侵害。对此,下列理解正确的是

- ①这是全国人大及其常委会最高立法权的体现
②这是全国人大及其常委会的重要职能,是在行使监督权
③这有利于公民生命健康权的维护
④我国要解决食品、交通等安全问题,只能靠全国人大及其常委会
A. ①④ B. ①③
C. ②③ D. ②④

11. 中国某大公司要在非洲建工厂,这就需要了解当地的文化及风土民情。公司在培训出国员工时,在大屏幕上打出四组图片,哪一组属于此地?

- A. 青瓦台 尼罗河 纺锤树 大笨钟 马克·吐温 巴拿马运河
B. 唐宁街 多瑙河 白桦林 日月潭 罗曼·罗兰 苏伊士运河
C. 国会山 莱茵河 和服 悬空寺 伽利略 圣诞节
D. 金字塔 尼罗河 好望角 长颈鹿 索马里 撒哈拉大沙漠

12. 2016年9月13日上午,中国学生发展核心素养研究成果发布会在北京师范大学举行。核心素养综合表现为六大素养,具体为人文底蕴、科学精神、学会学习、健康生活、责任担当、实践创新。下列事例中所反映的核心素养与其他三项不同的是

- A. 思想品德课堂上老师用辩论式方法学习“网络是把双刃剑”
B. 某学生无意剐蹭了别人的汽车,留下联系方式以便赔偿车主损失
C. 教师课堂上变多讲为少讲,空出时间留给学生进行小组合作学习,解决问题
D. 实验课由学生亲自动手操作,观察现象并书写实验报告

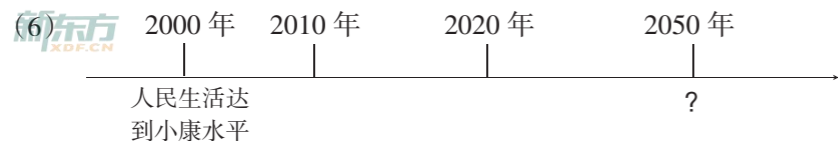
思想品德

第II卷 非选择题 (共39分)

二、简答题(本大题有4小题,共19分)

13. 请按要求完成下列“学案”中的问题。(每空1分,共6分)

- (1)长胡须、猛长个头等属于青春期的 ▲ 变化。
- (2)我国在少数民族聚居的地区,实行 ▲ 的基本政治制度。
- (3)社会主义初级阶段是从 ▲ 年开始的。
- (4)在中国特色社会主义理论体系中,强调“以人为本”的是 ▲ 。
- (5)我国环境保护的基本法律是 ▲ 。




根据上述图示,2050年“?”处应填的内容是 ▲ 。

14. 某校研究性学习小组在学习“世界文化之旅”时,从网上搜集到了一组图片,请结合图片回答下列问题。(4分)



① ② ③ ④

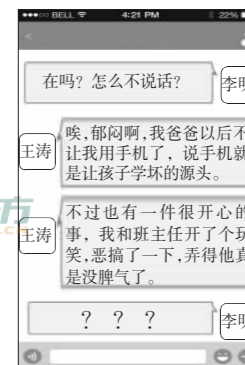


⑤ ⑥ ⑦ ⑧

- (1)反映美国文化的图片是 ▲ 。(1分,只写序号)
- (2)上述体现中国传统文化的图片中,时间最早的是 ▲ 。(1分,只写序号)
- (3)面对不同民族的文化,我们应该持怎样的态度?(2分)

答: ▲ 。

15. 右图是王涛和李明的微信聊天记录,看了王涛的讲述,李明该如何答复呢? 请你帮他回复一下。(4分)



答: ▲ 。

16. 批判质疑的精神与能力,是当代中学生应该具备的核心

素养和品质。下面表格中的3个问题是根据当今社会焦点材料提出的,其中有一条不能用“辩证思维模式”分析,请选出来,而后作答。(5分)

- (1)农民工在多方求助讨薪未果的情况下,实在无奈,为了生计,在欠薪公司门外的人行道上集体下跪要求发薪,可这办法合适不合适呢?关于“讨薪下跪”,你怎么看待?
- (2)随着中考的临近,学校组织的各类练兵考试时常进行,每次考试都有学生感到焦虑。关于“考试焦虑”,你怎么看?
- (3)2017年2月,浙江农民陈某为吃野味,抓114只“癞蛤蟆”宰杀而被刑拘,对此他觉得很无辜。关于陈某的行为,你怎么看?

你的选择是 ▲ ;(1分,写出序号即可)

作答: ▲ 。(4分)

三、分析说明题(注意:下面有两道题,请你任选其中一道,在答题卡上作答,7分)

17. 选做题1

“撕名牌”进入博物馆

“撕名牌”是某卫视的一档王牌节目,疯狂的追逐、激烈的对抗吸引了很多观众,特别是青少年,节目的主角也被称为“跑男”。这一次“撕名牌”剧组把节目地点选在了博物馆,“跑男”们在杭州博物馆展馆内玩起了火爆的“撕名牌”活动,镜头在追逐相互对抗的同时,也不断闪现着馆藏文物,节目一播出就引发热议。

(注:撕名牌是一种休闲竞技游戏,每个人后背上会贴上自己的名字,叫做名牌。对战开始,双方想方设法把对方后背上的名牌撕下来即为胜利。)

假如你反对“跑男”撕进博物馆,请说说反对的理由。

18. 选作题 2

让座有奖

某市快速公交的车厢里,贴上了“寻找公交文明风”的海报,车长说,这是他们发起的“寻找公交文明风”活动。只要乘坐公交车时有文明举动的乘客,比如给特殊群体让座、搀扶老人上下车、帮助不方便乘客递送行李等,车长将会送上一张有机会获得500万元大奖的福利彩票。他和车队的同事想通过这种方式,来鼓励更多的人做文明乘客。

对于“让座送彩票”这种行为,你怎么看?



四、实践探究题(共13分)

19. 新东方 XDF.CN

网购不是“法外之地”

近年来,电子商务越来越火,可出现的问题也越来越多。特别是网购中的侵权行为时有发生,且呈现上升趋势,“网购”甚至被戏称为“法外之地”。为此,某校九年级(3)班将召开“网购与消法”的主题调查。

假如你是班里的一员,请积极参与并完成下列任务。

调查目的	(1)请结合实际,谈谈这次调查活动的目的是什么。(至少写两条,1分) 答: ▲。
调查准备	(2)为了保证调查活动的真实性与有效性,你觉得应该做哪些准备工作呢?(2分) 答: ▲。
调查案例	<p>案例一:王大妈网购了一套专治腰椎病的医疗器,半个月后,发现是“山寨”品。要求退货,卖家却以“超出七天”为由拒绝退货退款。</p> <p>案例二:妈妈网购了“打折”家电,发现质量问题,且没有保修卡,儿子要立马退货,可妈妈说:“不用退,比实体店便宜,以后注意点就行了。”</p> <p>案例三:小刘网购了商品,支付宝绑定的银行卡里的30000元钱不翼而飞,他多次找有关部门反映,可都没有结果。</p> <p>.....</p> <p>(3)上述案例中消费者的哪些权益受到了侵犯?你觉得他们在网购中应该注意些什么呢?(4分) 答: ▲。</p>



法律探究	<p>(4)以上两部法律,如从维权实效角度分析,应该选择哪一部?为什么?(2分) 答: ▲。</p> <p>(5)你判断“消法”第三条“?”处应该是对什么人的规定?(1分) 答: ▲。</p>
调查小结	<p>组长对本次活动进行总结时说:“我们应该找政协委员建议他们提议案,呼吁国务院对消费者权益保护法进行修改,尽快把个人信息保护写进去,这也是国务院最高权力机关职能的体现。再说了,依法治国首先是依法行政。完善‘消法’就是为了保障消费者的合法权益。”</p> <p>(6)组长的总结中有5处知识性错误,请指出其中3处并说明理由。(3分) 答: ▲。</p>

