

山西省 2020 年中考考前适应性训练试题

文科综合

(考试时间：下午 2:30-5:00)

历史

注意事项：

1. 文科综合由历史和思想品德两部分组成，满分 150 分，考试时间 150 分钟。其中历史部分分第 I 卷和第 II 卷。全卷共 6 页，满分 75 分，考试时间 70 分钟。
2. 答卷前，考生务必将自己的姓名、准考证号填写在本试卷相应的位置。
3. 答案全部在答题卡上完成，答在本试卷上无效。
4. 考试结束后，将本试卷和答题卡一并交回。


第 I 卷（选择题，共 30 分）

一、选择题（本大题共 15 小题，每小题 2 分，共 30 分。在每小题的四个选项中，只有一项最符合题意，请选出并在答题卡上将该项涂黑）


1. 《周易·系辞下》记载，“黄帝、尧、舜……舟楫之利以济不通”。以下考古发现能够印证记载中“舟楫”的是




A. 北京人遗址出土的刮削器和尖状器



B. 河南舞阳出土的七孔骨笛



C. 浙江河姆渡遗址出土的骨耜



D. 陕西宝鸡出土的船形彩陶壶

【答案】D

【解析】本题考查原始社会状况，舟楫之利即交通方面的成就，本题的四张图中 D 项，船型壶，最能够说明当时已有舟楫或舟船的存在，所以本题最佳选择 D。

【考点】中国古代原始社会

2. 钱穆在《国史新论》中说唐代制度，在下有……为政府公开选拔人才；在上有……综合管理全国行政事务。这两种制度，奠定了中国传统政治后一千年的稳固基础。”材料中提到的“在下”和“在上”的两个制度分别是指

- A.分封制和中央集权制
- B.郡县制和三省六部制
- C.科举制和三省六部制
- D.科举制和行省制度

【答案】C

【解析】本题考查唐代政治制度，在下公开选拔人才，很明显是唐代积极采用的科举制；在上综合管理全国事务，也就是唐代中央实施的三省六部制，故本题选择 C 项。

【考点】中国古代政治制度

3.《资治通鉴》中记载，“魏主下诏，以为：‘北人谓土为拓，后为跋。魏之先出于黄帝，以土德王，故为拓跋氏。夫土者，黄中之色，万物之元也，宜改姓元氏。’”这段话反映的“魏主”改革的措施是

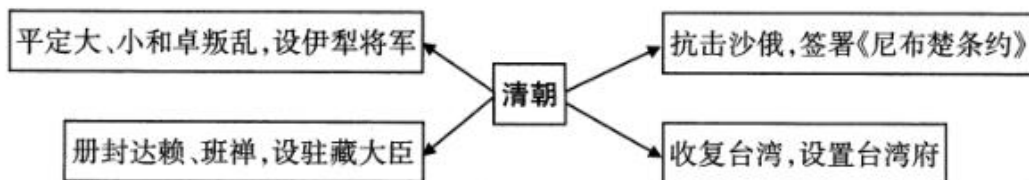
- A.迁都洛阳
- B.整顿吏治
- C.改用汉姓
- D.改穿汉服

【答案】C

【解析】本题关键词在于“拓跋氏改元氏”的信息，结合所学知识，这里的魏主指的是北魏孝文帝，题中涉及的具体改革措施是改用汉姓，选择 c 项。

【考点】北魏孝文帝改革

4.构建示意图是历史学习的重要方法。下图所示是张丽同学的学习笔记，据此判断，她学习的主题是



- A.清朝抗击外来侵略的斗争
- B.清朝统一多民族国家的巩固
- C.清朝加强中央集权的举措
- D.清朝加强对边疆地区的管辖

【答案】B

【解析】本题中心点在于清朝以及划设的四个地理方位：西北的伊犁将军，西藏地区的驻藏大臣，东北的抗击沙俄入侵以及东南的收复台湾，既涉及到了少数民族地区，也涉及到了抗击外敌侵略，以及汉族内部的台湾问题，所以反映的是清朝统一多民族国家巩固的主题。ACD 项都只描述了单方面的事件，B 项将其统一起来，是最全面的最佳项。

【考点】清朝统一多民族国家的巩固

5.“中国的失败使国人痛心疾首、深受震撼，一些有识之士如康有为、梁启超等痛定思痛，开始探索新的救国之道。他们认为，中国要生存、要强大，应该而且也只能像日本那样维新变法，学习西方。”与材料中“中国的失败”和“学习西方”对应的事件分别是

- A.鸦片战争战败和洋务运动
- B.《马关条约》签订和戊戌变法

- C.甲午中日战争失败和义和团运动
D.《辛丑条约》签订和戊戌变法

【答案】B

【解析】本题的题干关键词在康有为，梁启超以及他们所探索救国之道。结合所学知识，他们受到了甲午中日战争的战败、《马关条约》签订的刺激，而学习西方对应的事件呢应该是戊戌变法，所以本题最佳项是选择 B。

【考点】中国近代史

- 6.毛泽东诗词“钟山风雨起苍黄，百万雄师过大江。虎踞龙盘今胜昔，天翻地覆慨而慷”反映的历史事件发生于
A.国共十年对峙时期
B.全民族抗日战争时期
C.人民解放战争时期
D.抗美援朝战争时期

【答案】C

【解析】题干中给出毛泽东的《七律·人民解放军占领南京》这首诗，结合所学知识与诗句内容，为发生在 1949 年 4 月 20 号-4 月 23 号的渡江战役期间，为人民解放战争时期，所以本题选择 C 项。

【考点】解放战争

- 7.某历史公众号准备推送一期以“近代经济和社会生活的变迁”为主题的资源包。下列各项可以放进主题资源包的有

- ①论文：《“实业救国”为何没能挽救民族危机》
②电影片段：《阿 Q 正传》中剪辫子
③图片：《申报》报道京张铁路通车
④文件：《中华人民共和国土地改革法》

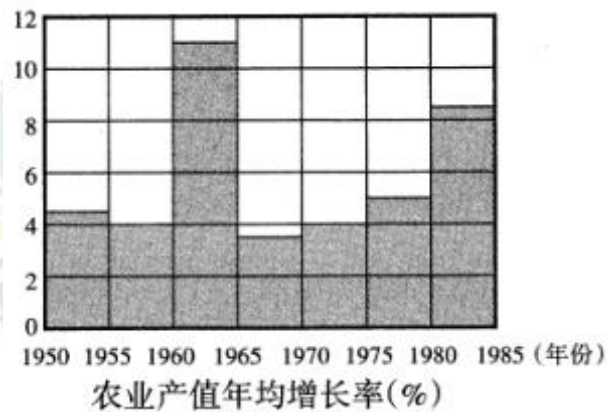
- A.①②③
B.②③④
C.①③④
D.①②④

【答案】A

【解析】本题题干说以近代经济和社会生活变迁为主题的资源包，限定时间在 1840-1949 年，故清末民国时期的实业救国、阿 Q 正传还有申报，都处于近代史时期。第四个文件《中华人民共和国土地改革法》是 1950 年颁布的法律，是中国现代史的内容，因此选①②③，A 项。

【考点】近代经济和社会生活的变迁

- 8.下图反映的是中国 20 世纪 50 年代至 80 年代农业产值年均增长率的变化。图中数据显示在 1960—1965 年和 1980—1985 年这两个时间段都明显增长，出现这一变化的共同原因是



- A. “一五计划”的超额完成
- B. 国家对经济发展政策的调整
- C. 家庭联产承包责任制的推行
- D. 允许多种所有制经济并存

【答案】B

【解析】根据材料及图表可知，在 1960 年到 1965 年和 1980 年到 1985 年农业产值增加，原因在于 60 年代初提出了经济调整政策；80 年代改革开放下农村家庭联产承包责任制的影响，都是国家对经济政策的调整。所以 B 项正确。“一五计划”是 1953 年提出的，不符合题目的时间，A 项错误。家庭联产承包责任制是 1978 年以后提出的，和题目中 1960 年到 1965 年的时间不符合，C 项错误。1960 年到 1965 年时期的经济所有制是公有制，不包含其它所有制经济，D 项错误。

【考点】新中国农业的发展

9. 下面年代尺梳理了新中国成立以来中国共产党召开的历次重要大会，其中对国内主要矛盾作出正确分析的有



- A. 中共八大和中共十九大
- B. 中共十一届三中全会和中共十三大
- C. 中共十二大和中共十八大
- D. 中共十四大和中共十五大

【答案】A

【解析】由题意对国内主要矛盾作出正确分析的有中国八大（人民对于建立先进的工业国和落后的农业国不能满足人民生产的矛盾；是人民对于经济文化迅速发展的要求同当前的经济文化不能满足人民需要状况。）和十九大（人民日益增长的对美好生活需要同不平衡不充分的发展之间的矛盾。），所以 A 选项正确。

【考点】主要矛盾的发展演变

10. 德谟克利特（约公元前 460—公元前 370），出现在希腊 100 德拉马克的旧纸币上。德谟克利特最主要的成就是



- A.写出了《荷马史诗》
- B.提出了“原子论”
- C.创作了《掷铁饼者》
- D.提出了人要“认识你自己”

【答案】B

【解析】由题目，德谟克利特提出的主要学说成就是“原子论”，所以 B 项正确。《荷马史诗》是由古希腊作家荷马所写的，A 项错误。《掷铁饼者》是古希腊雕刻家米隆创作的，C 项错误。人要“认识你自己”是由苏格拉底提出的，D 项错误。

【考点】古希腊思想文化

11.15—16 世纪期间，意大利的父母给孩子们取名，不是取《圣经》中的人物和基督教的圣哲，而是取不信基督教的名人——凯撒、荷马、梭伦、伯里克利等。这是因为

- A.殖民扩张的不断加剧
- B.人文主义思潮的流行
- C.新航路的开辟
- D.资产阶级革命的爆发

【答案】B

【解析】由题意可知，15—16 世纪意大利处于文艺复兴时期，借古希腊古罗马来宣扬“人文主义”，父母起名以古希腊、古罗马人物名字为主，而不是基督教名字，体现了人文主义思潮的流行，所以 B 项正确。殖民扩张早期主要国家是西班牙和葡萄牙，不包括意大利，A 项错误。新航路的开辟是西欧的大西洋沿岸，意大利在地中海沿岸，C 项错误。15—16 世纪没有爆发过资产阶级革命，D 项错误。

【考点】欧洲近代人文主义

12.下列历史事件的概述与对应的“历史评价”，关联正确的是

选项	事件概述	历史评价
A	从武装革命到“光荣革命”	英国资产阶级革命保留国王是革命的倒退
B	从《独立宣言》发表到 1787 年宪法颁布	君主立宪制是防止专权的有效机制
C	从《人权宣言》颁布到《民法典》颁行	见证了法国资本主义民主法治的健全
D	从东欧剧变到苏联解体	社会主义制度不适应历史发展趋势

【答案】C

【解析】“光荣革命”是妥协；《独立宣言》与 1787 年宪法是美国革命的事件，并没有确立君主立宪制；东欧剧变与苏联解体是共产主义发展中的局部挫折，并不能说明社会主义制度不适应历史发展趋势。

【考点】资本主义国家的发展

13. 列宁在 1895 年评价一本书时曾说这本书篇幅不多，价值却相当于多部巨著。它的精神至今还鼓舞着、推动着文明世界全体有组织的正在进行斗争的无产阶级。”材料中的“这本书”是指

- A. 《共产党宣言》
- B. 《物种起源》
- C. 《战争与和平》
- D. 《新青年》

【答案】A

【解析】由题目中列宁所说的“推动着文明世界全体有组织的正在进行斗争的无产阶级”，可知此书是马克思的《共产党宣言》，所以 A 项正确。《物种起源》是达尔文的著作，提出了进化论，是资本主义的思想，B 项错误。《战争与和平》是列夫托尔斯泰的现实主义文学著作，与无产阶级革命无关，C 项错误。

【考点】《共产党宣言》的影响

山西历史悠久，文化灿烂。下面是李老师根据搜集的新闻报道，设计的一组山西地方史试题，请你作出正确选择。

14. 右图为考古学家在山西省侯马市发掘的春秋晚期玉片，因为该玉片上的文字记录了春秋战国时代各诸侯国或卿大夫之间订盟誓约中的言词，因此称作“盟书”或“载书”。玉片上用晋国官方文字记载了卿大夫间订立盟约，共同讨伐敌对贵族，处置土地、财产、人口等内容。据此判断，符合其史学价值认识的是



- ①对研究春秋时期晋国历史有重大意义
- ②反映了晋国末期上层贵族的争权夺利
- ③为研究中国古文字提供了实物证据
- ④反映了当时从分裂走向统一的历史趋势

- A. ①②③
- B. ①③④
- C. ①②④
- D. ②③④

【答案】A

【解析】由题目可知，山西省侯马市出土的“盟书”、“载书”时期为春秋晚期，这一地区是晋国领土，所以①正确；玉片记录了晋国卿大夫订立的盟约，反映了上层贵族之间的斗争，所以②正确；玉书上用晋国官方文字记载，为研究中国古代文字提供了实物证据，所以③正确。

【考点】史料实证

15.【中新网记者 2019 年 11 月 9 日】从山西省太原市园林局获悉,曾作为阎锡山办公场所、见证山西近代历史变迁的督军府旧址,将于 2020 年以“千年府衙”博物馆的形式呈现在世人面前。根据下面相关信息,对此建筑解读正确的是

据记载:“千年府衙”在唐朝时为晋文公重耳庙,北宋初年成为山西地区的政治中心,在此后的一千年时间里,这个大院一直是山西地区的行政或军政中心。1911 年阎锡山参加辛亥革命推翻清政府后改其为督军府;1949 年太原解放后成为山西省政府驻地,直到 2017 年迁出,这个大院是全国连续使用时间最长的政府大院。

- A.是春秋时期为纪念重耳所建
- B.北宋统治时期是太原的政治中心
- C.辛亥革命后一直是政府所在地
- D.是山西具有悠久历史文化的见证

【答案】D

【解析】由题目可知,“千年府衙”从唐朝到现在,并且纪念春秋时期的人物晋文公,体现了山西具有悠久历史文化,所以 A 项正确。“千年府衙”是唐朝时为晋文公重耳庙,非春秋时期建立的,A 项错误。北宋时期这里成为了山西地区的政治中心,并不只是太原,所以 B 项错误。辛亥革命后到 2017 年一直是政府所在地,现在已经不是,所以 C 项错误。

【考点】史料实证

第 II 卷 (非选择题, 共 45 分)

二、简答题 (本大题共 10 分)


16.文化是一个国家的软实力。“文化自信”是我们践行社会主义核心价值观的重要信念。根据要求,回答下列问题。

(1)【中医精髓】中医药文化是中华民族优秀传统文化的重要组成部分。分别简述下面两位人物在中医学方面的成就及其在世界医学史上的价值。(4 分)

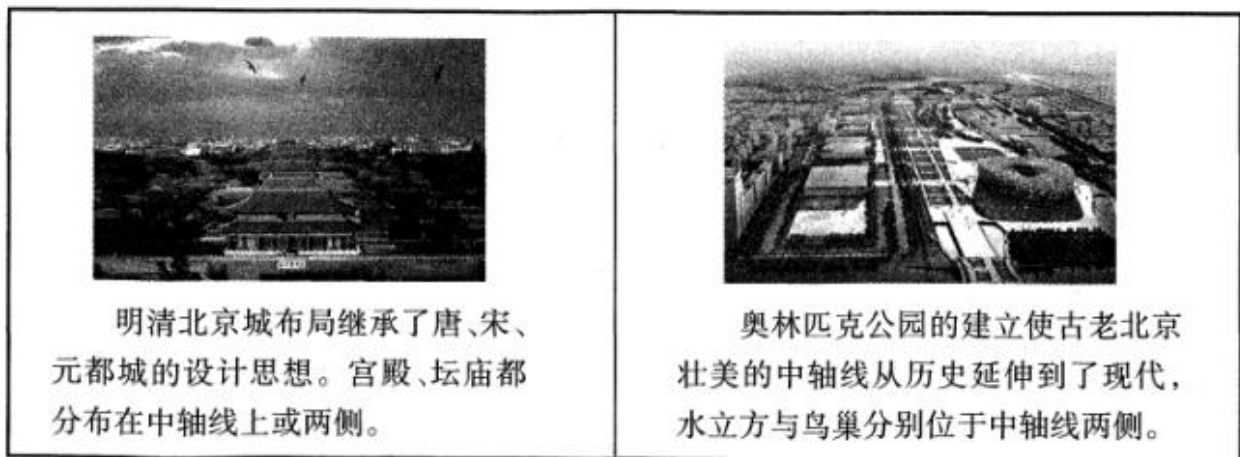
2010 年 11 月 16 日,中医针灸被联合国教科文组织列入“人类非物质文化遗产代表作名录”。东汉医学家华佗在针灸、外科手术等方面都有突出成就。

2015 年 10 月 5 日,诺贝尔委员会把诺贝尔生理学或医学奖授予屠呦呦等科学家。

(2)【科技创新】科技发明是社会进步和经济发展的根本保证。简述一组科技成就的历史意义,概括二组科技成就取得的原因。(4 分)



(3) 【建筑智慧】建筑凸显地域文化特色。根据下面图文信息，概括其反映出中国建筑文化的哪些特征。(2分)



【答案】

(1) 华佗：在医学史上首先采用了以“麻沸散”麻醉全身对患者进行手术的方法，将外科手术的范围空前地扩大，同时也为医学的发展开辟了新的道路。(1分) 对后世的中国医学产生了深远的影响，被历来的医家推崇为“外科鼻祖”。(1分) 屠呦呦：多年致力于中医药研究实践，带领团队攻坚克难，研究发现了青蒿素，开创了治疗疟疾的新方法。(1分) 青蒿素类药物对疟疾的治愈率很高，得到世界卫生组织的认可和大力推广，对中医药科技创新和人类健康事业作出巨大贡献。(1分)

(2) 意义：活字印刷术的发明，推动了教育文化事业的发展；传到世界各地，对世界文明发展也产生了重大的影响；指南针用于航海事业，经阿拉伯人传到欧洲，大大促进了世界远洋航海技术的发展；为欧洲航海家开辟新航路提供了条件等。(两种科技成就的意义分别答出任意一点得1分，共2分)

原因：改革开放后，我国经济实力不断增强，为科技研发创新奠定了基础；我国政府重视科技事业的发展；科教兴国战略的提出；科学家坚持不懈、刻苦钻研，振兴中华民族的精神；新时期航天员的创新精神等。(答出任意一点得1分，共2分)

(3) 两个建筑都有一条中轴线，重要建筑围绕中轴线左右对称；左图折射出了中国古代大一统思想、中正观念等，是中国古代最显著的文化特征；右图反映了把中轴对称这一古老的建筑特征延续到了现代，是对这一传统文化的继承和发扬。

评分说明：答出符合上述意思的任意一点得1分，共2分

【解析】

(1) 本题考察对人物知识的了解，材料中已经告知人物为华佗和屠呦呦，在两汉的科技与文化中讲解了关于华佗的知识，名医华佗处于东汉末年时代，不仅擅长用针灸、汤药为人治病，而且能实施外科手术。他发明了“麻沸散”，让病人和酒服下，失去知觉，然后进行各种手术。华佗还模仿虎、鹿、熊、猿、鸟五种动物的活动姿态，创编出了“五禽戏”，帮助人们强身健体。屠呦呦在建国后的科技与文化中出现，20 世纪 60 年代，为寻找治疗疟疾的新型有效药物，许多国家组织科研力量展开研究。中国药学家屠呦呦领导科研团队，从中医药古典文献中获得灵感，在极为艰苦的科研条件下，经过数百次实验，终于在 70 年代初发现了能够有效抵抗疟疾的青蒿素，开创了治疗疟疾的新方法。青蒿素类药物对疟疾的治愈率很高，得到世界卫生组织的认可和大力推广，使全球数亿人受益。由于对人类生命健康事业作出了巨大贡献，屠呦呦获得 2015 年诺贝尔生理学或医学奖。

(2) 本题考察对科技知识的了解，图片一为四大发明中的活字印刷术和罗盘针，活字印刷术对人类文明的发展产生了重大的影响。13 世纪时，活字印刷术传入朝鲜，之后传到日本及东南亚地区，又经丝绸之路传到波斯，后来经过蒙古人的西征等途径传入欧洲。北宋末年，中国的海船上开始使用指南针。乘坐中国海船的阿拉伯商人将指南针传到阿拉伯国家，后来又传到欧洲，大大促进了世界远洋航海技术的发展。第二问考察学生对于改革开放以后以后我国如何发展科技知识的理解，可以从经济实力、政府政策、宇航员自身等多个角度回答。

(3) 本题考察对于图片的理解能力和中国古代建筑的文化特征，从图片和材料信息可以看出中国古代建筑的布局，从而可以从布局中得出大一统、中正等观念，并根据时间得出其文化理念对现代建筑的影响。

【考点】

(1) 七年级上册第 15 课—两汉的科技和文化；八年级下册第 18 课—科技文化成就

(2) 七年级下册第 13 课—宋元时期的科技与中外交通；八年级下册第 18 课—科技文化成就

(3) 七年级下册第 16 课—明朝的科技、建筑与文学。

三、材料解析题（本大题共 2 小题，每小题 10 分，共 20 分）

17. 城市是经济发展的缩影，城市发展的历史就是一部人类文明发展的历史。阅读下列材料，结合所学知识，回答问题。

材料一 北宋时期都城开封不仅是全国最大最繁荣的城市，也是全国最大的旅游城市，常常吸引外地的游客来此游乐。此外，东京还经常聚居一大批饥饿的流民，少时数百上千，多者数万。东京城行业众多，彩帛、占卜、典当等行业十分发达，经久不衰。此外，还有相当数量的瓦肆，专供贵族、富人寻欢作乐。

——张莹《论宋代城市发展及其影响》

(1) 根据材料一，概括宋代都城的特点。（3 分）

材料二 汉口开埠以后，江汉关以下地段开辟了租界区。外国人在汉口有自己的码头货栈，兴建了工厂公司，开办了航运业。汉口的商业中心，从沿河一带向沿江一带转移，汉口向近代城市迈进的脚步缓慢地移动了。1871 年冬，清政府在汉口设立招商局，1889 年，洋务派人物张之洞调任湖广总督以后，创办了汉阳铁厂、湖北织布局，加速了汉口前进的步伐。

——摘编自百度百科

(2) 分析材料二中推动汉口向近代城市迈进的主要原因。（3 分）

材料三 17 世纪，曼彻斯特是一个小镇。18 世纪 60 年代起，随着纺纱业和织布业的机械化，它成为英国工业革命的摇篮。1760 年，开通了通向附近煤区沃斯利的英国第一条运河，1830 年又建成通向重要港口利物浦的铁路，率先实现了交通运输革命。在此期间城市经济和人口高速增长。18 世纪 20 年代，它的人口仅 12000 人，1841 年底猛增至 40 万人，跻身于全国大城市之列。1848 年，沿曼彻斯特向外延伸的公路把附近的奥尔德姆、海德等城镇连接起来，使整个集合体的人口达到 106.3 万人。

——摘编自王章辉《近代英国城市化初探》

(3) 材料三中，曼彻斯特是在什么样的背景下兴起的？它的兴起有何影响？（4分）

【答案】

(1) 特点：规模大；经济繁荣；旅游业发达；流动人口多；流民聚居；娱乐活动丰富。

评分标准：答出任意一点得 2 分，共 4 分。

(2) 原因：西方工业文明及先进技术的传入；通商口岸的开放；洋务运动和民族资本主义的推动；近代工商业的推动；交通方式的影响等。

评分标准：答出任意一点得 2 分，共 4 分。

(3) 背景：工业革命推动；蒸汽机的推广使用；工厂制建立；运河与铁路的兴修等。（答出任意一点得 2 分，共 4 分）

影响：曼彻斯特纺织行业的技术革命推动了英国工业革命的开展（推动英国近代工业化进程）；曼彻斯特城市内运河与铁路的兴修，提升了其辐射与带动作用；促进人口流动加快；促进周边中小工业城市的崛起（带动周边中小工业城市的发展）；等等。

评分标准：答出任意一点得 2 分，共 4 分。

【解析】

本题第一问考察宋代城市生活。结合所学知识可知，宋代城市的商业活动时空限制被打破，商业环境相对宽松。通过材料中“开封不仅是全国最大最繁荣的城市，常常吸引外地的游客来此游乐”可得城市规模大，经济繁荣，旅游业发达，流动人口多；“……饥饿的流民少时数百上千，多者数万”可知流民聚居；“还有相当数量的瓦肆（娱乐场所）专供贵族寻欢作乐”可得知城市娱乐活动丰富。本题第二问考察中国近代化进程。可以从洋务运动的背景来考虑，也可以从这一时期中国洋务运动的发展和民族资本主义的发展这一角度来理解。本题第三问考察工业革命。根据时间段可知曼彻斯特的发展是基于近代工业革命背景下的工业经济。可以从工业革命的背景这一角度来分析解答。结合所学知识和材料可知，曼彻斯特发展的影响可以从推动工业革命、交通线路的发展和城市的带动作用这几个方面来思考。

【考点】宋代城市的发展；中国近代化进程；工业革命；城市化

18.20 世纪以来世界政治舞台风云变幻，对世界历史产生了深远影响。阅读下列材料，结合所学知识，回答问题。

材料一 1919 年以来，中国外交呈现出 10 年一小变、30 年一大变的周期性变化。每隔 30 年左右为一个大周期，迄今已经历了三个周期，这三个周期的起点分别为 1919 年、1949 年和 1979 年。在每个周期，中国的外交政策都会出现战略性调整。中国外交的这种周期性变化是中国与国际上其他力量实力对比的变化以及国内形势与国际局势联动的必然结果。

——摘编自刘胜湘《中国外交周期与外交转型》

材料二 在 20 世纪中，1917 年是至关重要的一年。就在这一年，两个欧洲以外的大国——苏联和美国——踏进历史的主流，宣告两个对立世界的意识形态出现。……严格意义上的“冷战”，从 1917 年就已经开始，然而只是在 1945 年以后，人们才感觉到……1945 年后，苏联仍是一个地区性强国，“安全”对其而言意味着它的边界上都是一些“友好”的邻国。而美国是一个全球性的经济大国，“安全”对其而言则意味着一个金钱、货物和人才都能自由交换的开放的世界。

——摘编自约翰·W·梅森《冷战（1945—1991）》

材料三 当今世界在政治、经济、军事、文化等每一个层面，都日益清晰地表现出整体性、体系性的运动。……与此同时，针对这种新的整体性运动，出现了声势浩大的反抗。这种反抗既有理性主义的……也有浪漫主义的，如西雅图、热那亚和纽约街头的反全球化抗议活动。本·拉登和“基地组织”的恐怖主义活动，虽为异数和极端，但本质上属于这种反体系运动的一部分。

——宿景祥《贫富扩大与全球反抗》

- (1) 根据材料一画线部分的三个时间节点，结合具体史实，说明中国外交周期性变化是“必然结果”。(3分)
- (2) 材料二中，作者认为 1917 年“冷战”开始的标志是什么？列举 1945 年后美苏两国为了各自的“安全”而采取的措施各一例。(4分)
- (3) 根据材料三，结合所学史实，概括当今世界主要存在哪些不和谐的问题。(2分)
- (4) 综上所述，你认为制约国际关系和国际格局变化的主要因素有哪些？(1分)

【答案】

(1) 示例：1919 年：国际：巴黎和会上，中国外交的失败；国内：五四运动发展为全国性的爱国运动，最终迫使北洋政府拒绝在“巴黎和约”上签字。评分说明：三个时间节点从国内和国际两方面答出任意一点得 2 分，共 6 分。

(2) 1917 年，俄国爆发十月革命，第一个社会主义国家诞生；(2分) 一战使欧洲削弱，美国兴起。(2分) 措施：苏联经济上加强了对东欧各国的经济援助；军事上建立华约；外交上与中国签订《中苏友好同盟互助条约》。(答出任意一点得 2 分) 美国：政治上出台杜鲁门主义；经济上提出马歇尔计划；军事上建立北约。(答出任意一点得 2 分)

(3) 恐怖活动猖獗、反全球化、环境污染、气候变暖、能源危机、粮食短缺、毒品泛滥、传染病盛行。(答出符合题意的任意一点得 2 分)

(4) 大国关系的变化；国家实力的消长；国际形势的发展等。(答出符合上述意思的任意一点即可得 2 分)

【解析】第一小问考察影响外交的因素，再结合当时中国不同阶段的发展情况和国际环境回答；第二小问考察冷战形成的历史背景，需要掌握苏联成立的时间，以及冷战时期两国的对立措施；第三小问考察当代影响国际安全的因素；第四小问考察影响国际关系的因素。

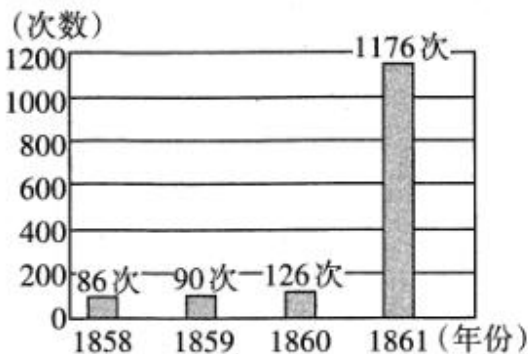
【考点】近现代中国的外交关系；两极格局的形成；现代世界格局

四、探究题 (本大题共 15 分)

19. 在人类历史发展的进程中，面对各种危机如何作出正确的抉择，考验着人类的智慧。李老师以“危机与抉择”为主题，设计了下面的主题学习任务板块，请你完成各板块的问题探究。

板块一【面对制度困境之抉择】(2 分)

- (1) 面对图一出现的历史现象，俄国政府是如何解决的？分析图二中日本经济类型所占比重发生变化的原因。



图一 19世纪中期俄国农民暴动次数

经济类型	资本主义经济	地主经济	个体经济
1878	约 20%	约 18%	约 60%
1893	约 35%—40%	约 17%	约 45%

图二 日本不同经济类型所占比重的变化情况

【答案】

(1) 通过颁布法令，进行了废除农奴制的改革。(2分) 图二中资本主义经济明显增长，是因为日本进行了明治维新改革；在经济上，日本推了地税改革，以“殖产兴业”为口号，大力发展近代经济，即大力扶持资本主义经济。(答出任意一点得 2 分)

【解析】

本题是一道图片题考查俄国历史的相关知识以及观察图片能力。首先观察图片可知题目展示的是 1858—1861 年农民暴动次数，尤其以 1861 年次数呈爆发性增长。观察图片并结合所学知识可知，材料得出农奴制度的矛盾空前激化

的信息，为了巩固统治俄国颁布法令废除农奴制，进行了自上而下的农奴制改革。
 本题是一道图片题考查 19 世纪八九十年代日本经济的相关知识以及观察表格的能力。首先观察图片是日本不同经济类型所占比重变化表，主要考不同经济的比重变化的原因。观察图片得出 19 世纪七八十年代日本国内正在进行明治维新，图片上展现了经济的变化尤其是资本主义经济比重上升，可以得出明治维新在经济方面的相关内容是其不同经济比重变化的原因。

板块二【面对社会危机之抉择】(3 分)


(2) 分别简述下面三位历史人物在国家危难之时所作出的具体抉择。



图三 林肯



图四 孙中山



图五 甘地

【答案】

(2) 图三：1861 年，美国南北战争爆发，林肯政府先后颁布《宅地法》和《解放黑人奴隶宣言》，领导北方赢得了战争最后胜利，维护了国家统一。(2 分)

图四：1911 年，孙中山领导辛亥革命推翻了清王朝的反动统治，宣告了中国两千多年君主专制制度的终结。(2 分)

图五：一战以后，甘地先后于 1920 年和 1930 年两次发动非暴力不合作运动，打击了英国的殖民统治，增强了印度人民的民族自尊心和自信心。(2 分)

【解析】本题考查著名的历史人物的相关历史事件以及他们所做出的历史贡献。学生要注意本题考查的内容是，这些著名人物在国家危亡时做出的贡献，所以要问什么答什么。观察第一幅图片结合所学可知是美国总统林肯，美国内战爆发后，颁布了《宅地法》、《解放黑人奴隶宣言》扭转了战局，维护了国家的统一。观察图二可知考查孙中山在国家民族危亡之际的贡献，根据所学知识孙中山领导辛亥革命推翻了两千多年的封建专制制度，在民族危机日益严重的情况下带领先进的中国人探索救国强国之路。图三考查印度圣雄甘地，结合所学知识，甘地先后两次领导非暴力不合作运动，沉重打击了英国殖民统治为争取民族独立和印度自治做出巨大贡献。

板块三【面对经济危机之抉择】(4 分)

(3) 根据下表中的信息，三国改革前分别面临怎样的经济危机？归纳其摆脱危机的共同特点。

<p>列宁说：“在战争结束的时候，俄国就像一个被打得半死的人……而现在，谢天谢地，他居然能够拄着拐杖走动了！”……这个结果是什么呢？结果就是把商品、货币、市场机制引进到苏俄的社会主义建设里面去，在马克思主义的发展史上，这是一个重大突破。</p>	<p>1933 年 3 月 4 日，罗斯福在总统就职演说中说：“……叹交换手段难逃贸易长流冰封，看工业企业尽成枯枝残叶；农场主的产品找不到市场；千万个家庭的多年积蓄毁于一旦。”</p>	<p>1978 年 9 月，邓小平以深深的忧患意识指出：“外国人议论中国人究竟能够忍耐多久，我们要注意这个话。我们要想一想，我们给人民究竟做了多少事情呢？我们一定要根据现在的有利条件加速发展生产力，使人民的物质生活好一些，使人民的文化生活、精神面貌好一些。”</p>
--	--	---

【答案】

(3) 苏俄：经过第一次世界大战以及三年粉碎外国武装干涉和国内反革命叛乱后，经济面临严重困难。(1分)

美国：1929-1933年，蔓延世界的经济大危机，造成美国经济形势十分严峻。(1分)

中国：经过十年“文化大革命”，国民经济面临严重困难，亟待恢复。(1分)

共同特点：都制定了适应本国国情的经济政策；都以经济发展为中心；都同时发挥了政府宏观指导和市场的作用。

(答出任意一点得1分)

【解析】

本题考查苏俄、美、中三国的经济危机。首先阅读第一段材料引用列宁的相关话语，要注意把握材料中的关键词“战争”、“商品”、“市场”“社会主义”再结合所学知识可以得出考查的是苏俄十月革命后经历了三年内战，为保证战争的胜利，实行新经济政策，随着战争胜利结束，战时的特殊情况下实行的经济政策不能适应社会发展的需要。1921年俄国实行了新经济政策。

第二段材料引用美国罗斯福总统的发言考察1933年美国的经济的危机。本题抓住美国总统，抓住时间以及材料对美国社会和及现状的描述可以得出。

第三段材料引用我们国家领导人邓小平的讲话，注意时间1978年，接着思考为什么中国会出现经济危机，1978年之前中国经历了什么样的曲折，国家发展和建设遭到破坏，结合所学知识得出中国经历了十年文革，国民经济面临严重困难，亟需恢复。

板块四【面对共同问题之合作】(6分)

(4) 根据下面图片中的信息，自拟题目，写一篇150字左右的小短文。



图六 《联合国宣言》签署



图七 中国加入WTO



图八 绿色和平志愿者



图九 G20应对新冠肺炎疫情特别峰会

(4) 示例：题目：团结合作，共渡难关（或合作共赢，战胜困难人类发展的历史证明，加强国际合作是摆脱危机、战胜困难、促进人类发展的重要途径）

第二次世界大战期间，为共同抗击法西斯侵略，1942年1月，美、英、苏、中等26个国家代表签署《联合国宣言》，世界反法西斯联盟形成。此后，签约各国协同作战，共同打败了法西斯。当今世界经济全球化的发展趋势，推动了世界贸易组织的成立促进了全球贸易和世界经济的发展，成为具有重大影响力的组织，推动着世界经济在合作共赢中发展。随着全球范围内工业化的推进，生态、环境问题等成为人类共同面临的问题，需要全世界共同努力，协同应对。面对新冠肺炎疫情的全球蔓延，中国在为世界做出榜样的同时，加强国际合作，应对共同挑战也势在必行。疫情无国界，世界各国只有采取一切措施及时分享信息，保障医疗物资供应，同时完善全球公共卫生体系，才能遏制全球疫情、保护生命、重振经济。总之，历史证明，当人类面临共同危机和困难时，各国打破国界，携手合作，共渡难关，是实现共赢的必然之选。

【分值以及评分说明】

6分：

1. 围绕主题，文章结构完整，层次分明，逻辑关系清晰
2. 观点论述与3个事件及影响建立联系，并能解释和扩展出材料本身的意义

4-5分：

1. 围绕主题，层次不清晰，表述不太完整

2. 与 3 个事件及影响建立联系，并对此作出一定解释

2-3 分：

1. 使用一个材料就直接得出答案，事件与影响没有联系

2. 使用 2 个材料，但未建构其关系。

【解析】本题给了四幅图片分别是《联合国宣言签署》的场景、中国加入世贸组织、绿色和平志愿者、G20 峰会。题目要求根据下面图片提取信息写一篇 150 字小短文。首先作答要规范首先要自拟题目，其次小短文字数要合乎要求。接下来要观察图片结合所学知识提取图片当中展现的历史史实之间的联系展开论述。一定注意历史的小短文切忌答成语文和政治，不要空谈，要史论结合，结合历史知识摆事实说观点。根据所学知识我们可以得出联合国宣言，是世界人民正义的反法西斯宣言，世界人民的合作促进战争的胜利结束。WTO 是经济全球化世界经济紧密联系在一起的表现，当今世界唯有合作才能共赢，相互促进。环境问题也不再是一地一国的事情，世界息息相关，保护地球环境，治理环境污染需要全世界携手合作。图片四很新针对最近爆发的大规模世界性的公共卫生危机，更是表明各国只有合作才能发展才能度过危机。