

试题类型：A

秘密★启用前

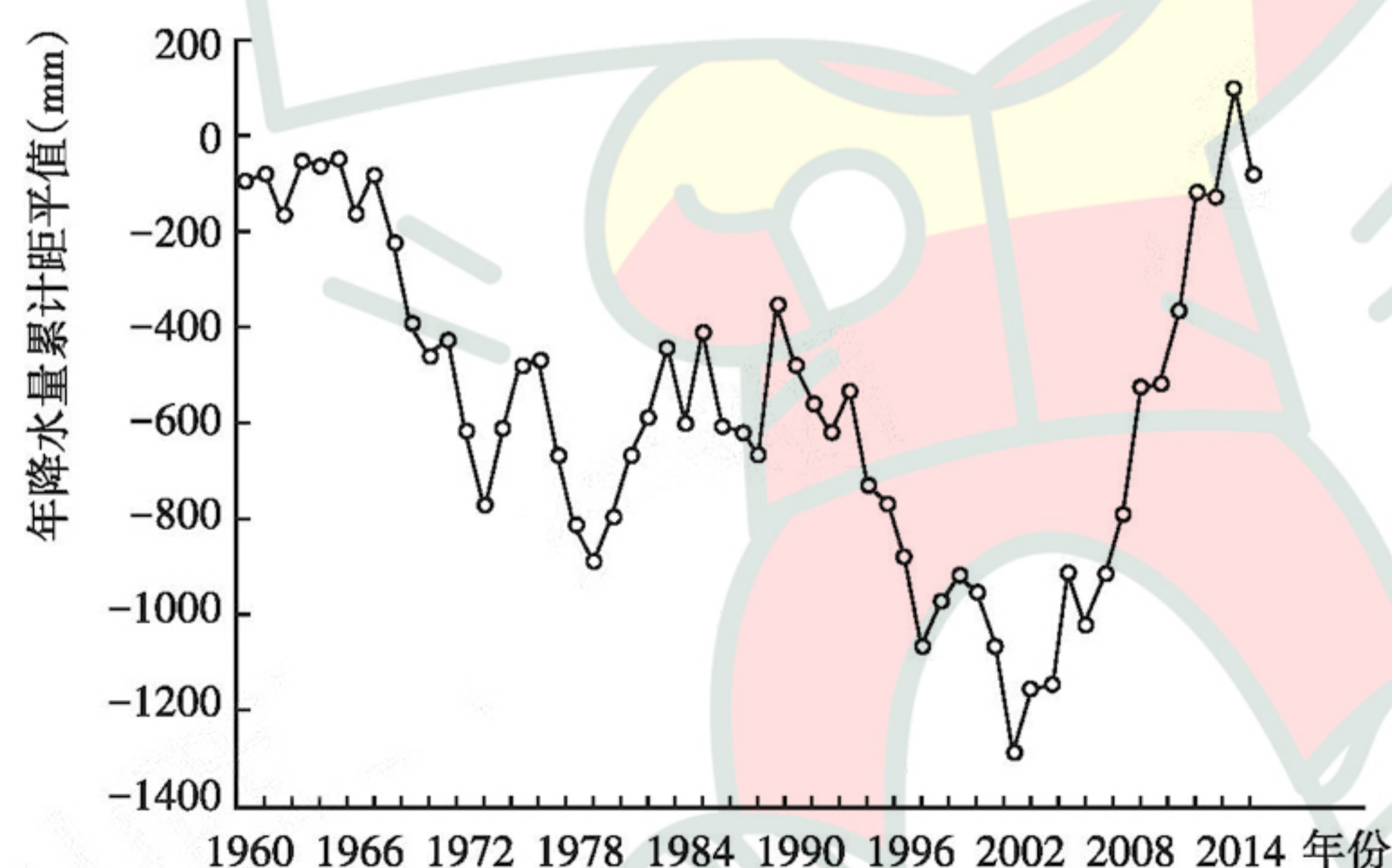
文科综合

注意事项：

1. 答卷前,考生务必将自己的姓名、准考证号等填写在答题卡和试卷指定位置上。
2. 回答选择题时,选出每小题答案后,用铅笔把答题卡上对应题目的答案标号涂黑。如需改动,用橡皮擦干净后,再选涂其他答案标号。回答非选择题时,将答案写在答题卡上,写在本试卷上无效。
3. 考试结束后,将本试卷和答题卡一并交回。

一、选择题:共35小题,每小题4分,共140分。在每小题给出的四个选项中,只有一项是符合题目要求的。

三江源地区是中国生态系统最为敏感和脆弱的地区,区内沼泽湿地、冰川、湖泊等水体广布,是中国江河重要的水源涵养区、补给区以及中国乃至亚洲的重要水源区。降水波动是影响三江源及江河中下游水资源安全、生态系统可持续发展的关键因素。下图示意1960~2015年青海三江源区年降水量累计距平值。累计距平值是指某要素值与多年平均值的差值累计值。据此完成1~3题。



1. 三江源区年降水量的变化趋势为
 - A. 逐渐减少
 - B. 波动变化
 - C. 先增后减
 - D. 先减后增

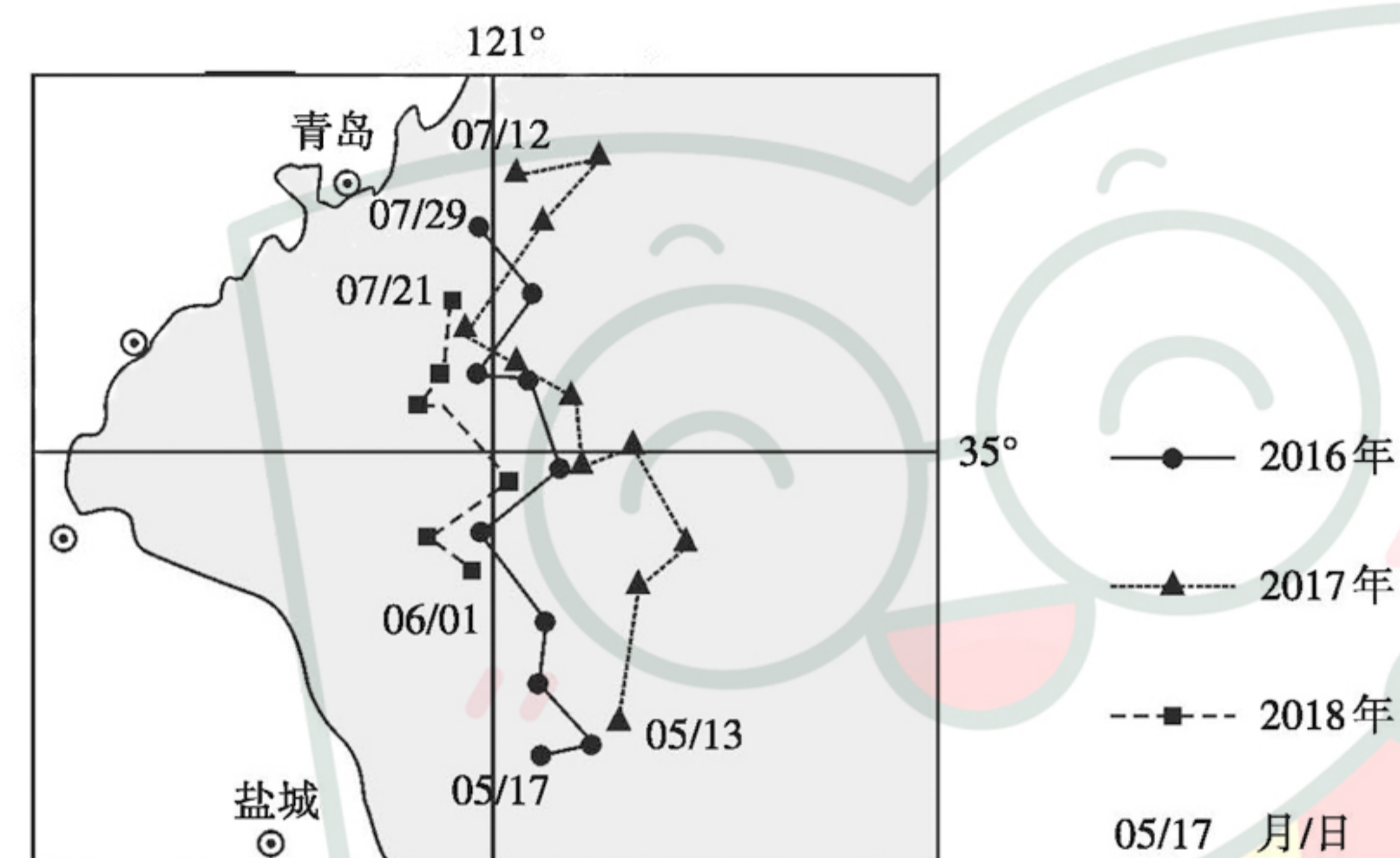
2. 2002年以来,三江源区年降水量变化的根本原因是

- A. 该区气候变暖
- B. 环保力度增大
- C. 冰雪面积萎缩
- D. 地形格局改变

3. 2002年以来,三江源区年降水量变化造成的影响是

- A. 湿地面积扩大
- B. 中下游供水紧张
- C. 森林面积扩大
- D. 生物多样性减少

浒苔是我国黄海海域常见的一种绿藻,最适生长温度为15~25℃。近年来,我国实施浒苔资源化利用,将其加工为饲料添加剂、生物肥、食品等产品,初步实现了浒苔的“变害为宝”,但目前浒苔的加工利用仍未形成规模化的完整产业链。下图示意2016~2018年黄海浒苔时空分布及迁移路径。据此完成4~6题。



4. 黄海浒苔时空分布特点是

- A. 2016年扩展范围最广
- B. 2017年持续时间最长
- C. 随时间逐渐向外海扩展
- D. 随时间从南向北迁移

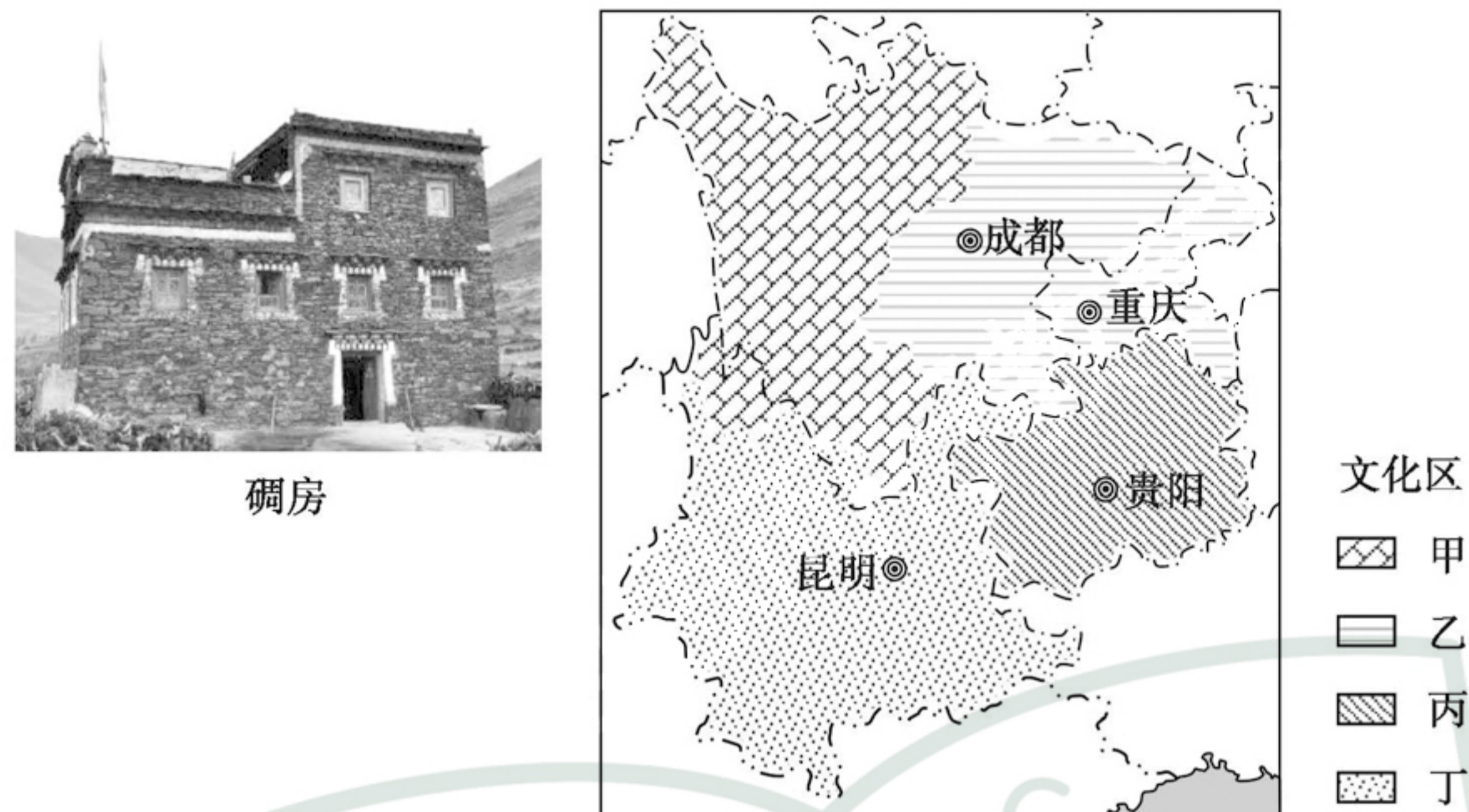
5. 推测影响浒苔空间迁移的主要因素是

- A. 海岸线
- B. 海水温度
- C. 盛行风
- D. 陆地径流

6. 目前浒苔的加工利用未形成规模化完整产业链的主要原因是

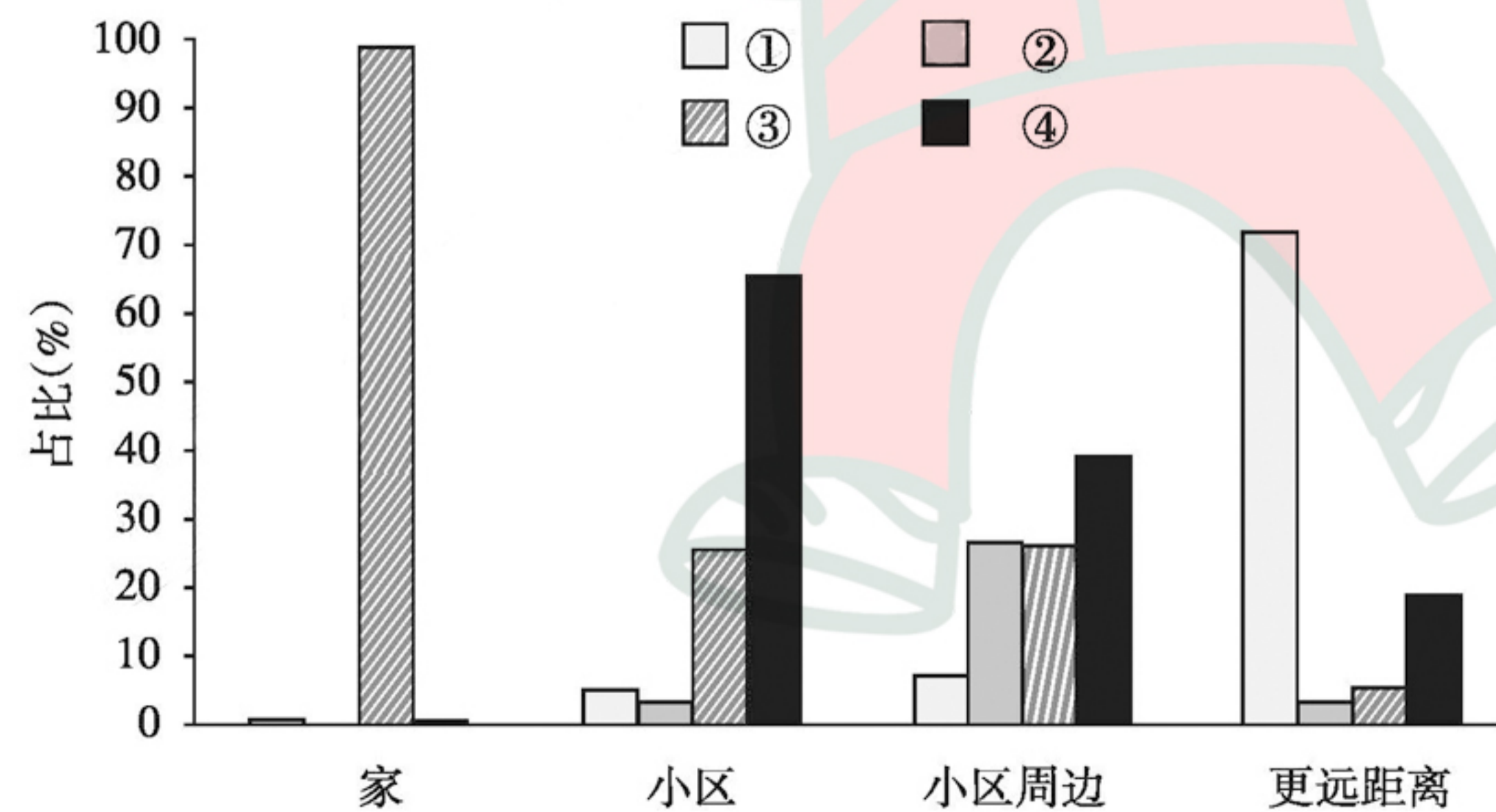
- A. 原料供应不稳定
- B. 加工技术落后
- C. 市场营销成本高
- D. 产品结构单一

碉房具有坚实稳固、结构严密、楼角整齐的特点,因其外部很像碉堡,故称碉房,是我国西南地区具有地域或民族特征的传统居住建筑,也是当地文化不可或缺的一部分,生动地反映了人与自然和谐共生的关系。下图示意某文化区传统民居碉房景观和西南地区四种文化区分布。据此完成7~9题。

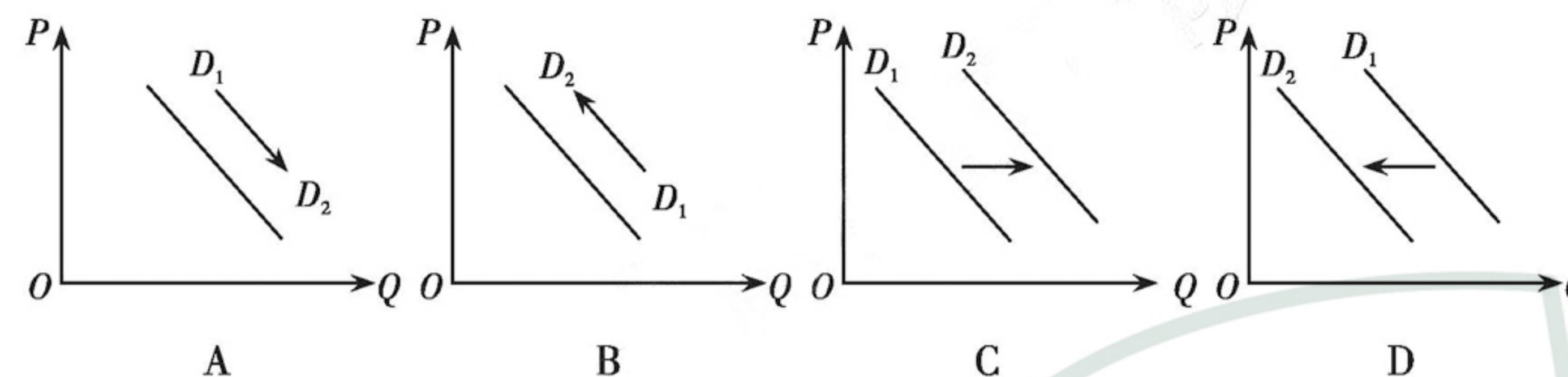


- 碉房景观所在的文化区是
A. 甲 B. 乙 C. 丙 D. 丁
- 碉房对当地自然环境的适应性特征是
A. 窗户小,利于防风防沙 B. 屋顶坡大,利于排水
C. 墙体厚,利于隔热保温 D. 石头砌墙,利于防洪
- 传统民居文化分区利于
A. 改善居民居住条件 B. 精准保护传统民居
C. 提高环境人口容量 D. 促进农村脱贫致富

人类的身体活动分为工作性、交通性、家务性、休闲性四类。目前世界一半以上人口居住在城市地区,城市化的发展较大程度上改善了人们的生活环境,但不良的生活方式也影响着人类的身体健康。下图示意我国某大城市居民工作日不同空间身体活动分配占比统计,图中①②③④表示身体活动的四种类型。据此完成10~11题。



- 图中表示家务性身体活动类型的是
A. ① B. ② C. ③ D. ④
- ②类身体活动占比较低的主要原因是
A. 上班距离近 B. 依赖机动交通
C. 劳动强度小 D. 休闲娱乐活动少
- 2019年11月11日,工业和信息化部发布《携号转网服务管理规定》,强调电信业务经营者应当为用户提供便捷的“携号转网”服务。为此,中国联通近期推出了大量“电视+语音+流量+宽带”的固移融合套餐,以吸引消费者,此举给中国移动带来一定的影响。若不考虑其他因素,市场上对中国移动需求的变动图示是(P表示价格,Q表示数量)



- 近年来,分期消费成为互联网金融热点。各平台推出了多种分期消费产品,市场规模持续增长。除了实物商品,分期消费已嵌入旅游、运动、健身等服务领域。下列对分期消费认识正确的是
①货币在分期消费中执行了流通手段的职能
②分期消费易产生非理性消费,消费者应量力而行
③分期消费一定程度降低了支付门槛,能促进消费升级
④分期消费中,消费者仅能获得一定期限的商品使用权
A. ①② B. ①④ C. ②③ D. ③④
- 党的十九届四中全会提出,健全劳动、资本、土地、知识、技术、管理、数据等生产要素由市场评价贡献、按贡献决定报酬的机制。这是党中央首次提出将数据作为生产要素参与收益分配,是一个重大的理论创新。这一创新有利于
①完善我国基本经济制度,加快释放数据红利
②引导企业重视数据要素,推动数字经济发展
③调整我国收入分配格局,缩小收入分配差距
④完善再分配调节机制,维护社会的公平正义
A. ①② B. ①③ C. ②④ D. ③④
- 2020年1月1日起施行的《中华人民共和国外商投资法》,确立了我国新型外商投资法律制度的基本框架,对外商投资的准入、促进、保护、管理等作出了统一规定,是我国外商投资领域新的基础性法律,是对我国外商投资法律制度的完善和创新。该法的出台
①可以为企业走出去、扩大对外开放提供有效的法律保障
②使重大改革于法有据,体现立法主动适应改革发展需要
③为我国维护多边贸易体制、主导经济全球化奠定法律基础
④旨在保护外商投资合法权益,推动形成全面开放新格局
A. ①③ B. ①④ C. ②③ D. ②④

16. 城乡社区是社会治理的基本单元,是人民群众安居乐业的美好家园,是党和国家许多政策措施落实的“最后一公里”,对于巩固党的执政基础具有重大意义。要解决党和国家政策措施落实的“最后一公里”,需要政府
- ①转变自身职能,建设服务政府 ②领导立法工作,坚持依法行政
③坚持求真务实,提高行政效率 ④杜绝权力滥用,提高管理水平
- A. ①③ B. ①④ C. ②③ D. ③④
17. 十九届四中全会提出,坚持和完善党和国家监督体系,强化对权力运行的制约和监督。党和国家监督体系是党在长期执政条件下实现自我净化、自我完善、自我革新、自我提高的重要制度保障。坚持和完善党和国家监督体系
- ①有利于全面从严治党,提高党的执政能力和领导水平
②需要充分发挥人民政协作为参政党的监督作用
③能为推进国家治理体系和治理能力现代化提供保障
④必须坚持立法、司法、行政三权分立,相互制衡
- A. ①② B. ②④ C. ①③ D. ③④
18. 2019年9月27日,国家主席习近平出席全国民族团结进步表彰大会时强调:“要以铸牢中华民族共同体意识为主线,全面贯彻党的民族理论和民族政策,坚持共同团结奋斗、共同繁荣发展,把民族团结进步事业作为基础性事业抓紧抓好,促进各民族像石榴籽一样紧紧拥抱在一起。”把民族团结进步事业作为基础性事业抓紧抓好是基于
- ①民族团结是社会稳定、国家统一的前提和基础
②民族团结是实现各民族共同繁荣的政治基础
③民族区域自治制度是我国的根本政治制度
④民族团结、民族凝聚力是经济发展和社会进步的保证
- A. ①④ B. ②③ C. ②④ D. ①③
19. 2019年8月19日,习近平总书记敦煌研究院座谈时讲话指出,敦煌作为中国通向西域的重要门户,古代中国文明同来自古印度、古希腊、古波斯等不同国家和地区的思想、宗教、艺术、文化在这里汇聚交融。中华文明以海纳百川、开放包容的广阔胸襟,不断吸收借鉴域外优秀文明成果,造就了独具特色的敦煌文化和丝路精神。这启示我们要
- ①增强文化自信,推动中华文化得到国际社会普遍认同
②不断吸收借鉴域外优秀文明成果,推动中华文化发展
③坚持讲好中国故事,推动中华文化融入世界主流文化
④坚持文化多样性原则,在交流中展示中华文化独特魅力
- A. ①③ B. ②④ C. ①② D. ③④

20. 在2020年新年贺词中,习近平主席指出初心和使命是我们走好新时代长征路的不竭动力。开展“不忘初心,牢记使命”主题教育活动,主要目的是教育广大党员干部
- ①坚守中华文化立场,发展中国特色社会主义文化
②开展精神文明创建活动,构建社会和谐文明风尚
③坚定马克思主义理想信念,自觉践行核心价值观
④保持斗争精神,自觉肩负起民族复兴的使命担当
- A. ①③ B. ①②
C. ③④ D. ②④
21. 右图漫画《吃啥补啥?》主要是讽刺那些
- A. 固守传统、照搬经验,犯了形式主义错误的人
B. 主观随意、臆造联系,犯了主观唯心主义的人
C. 万物有联、事事有关,尊重了联系多样性的人
D. 主观能动、承认联系,善于建立新的联系的人
22. 2019年6月,美国霍华德-休斯医学研究所和布罗德研究所研究人员共同开发出一种新的微观观测技术——“DNA显微术”,能在基因组水平上提示细胞内部图景。这一成果能够让科学家改进癌症治疗方法,同时探索人体神经系统的形成,对生物学和医学研究具有重要意义。这说明
- ①“DNA显微术”延伸了人类的认识器官,促进了实践的发展
②人可以通过技术进步增强认识能力,人的认识能力是无限的
③客观世界是复杂的,其本质的暴露和展现取决于人的认识能力
④“DNA显微术”的研究体现了实践—认识—实践螺旋上升过程
- A. ①④ B. ②③ C. ①② D. ③④
23. 84岁的钟南山院士、73岁的李兰娟院士等医学专家以及全国各地支援湖北的医疗队,面对新冠肺炎疫情,没有退缩,而是逆流而上,坚守在医疗救治第一线,得到了全国人民的高度赞誉。他们的事迹告诉我们
- ①正确的价值观能指导人们正确地认识和改造世界
②将自己的才能贡献给医疗事业才能实现人生价值
③价值选择的正确性决定着人生价值的实现程度
④投身为人民服务的实践是实现人生价值的根本途径
- A. ①② B. ③④ C. ②③ D. ①④



24. 占卜是商代统治者通过贞人(专职占卜的人)借上天以神化王权的一种手段。从已发现的卜辞来看,商代前期占卜的范围非常广泛,多为贞人解释和发布;但后期的范围却大为缩小,多为商王行止的记录。这反映出

- A. 商代后期政局更加稳定
- B. 商王的权力在不断增强
- C. 宗教祭祀活动逐渐减少
- D. 神权与王权正走向分离

25. 先秦时期,粮食加工方式非常简单,人们多以粒食为主,且多为两餐制。秦汉时期,人们由两餐制逐渐向三餐制过渡,且随着石磨的广泛应用,磨制面粉越来越容易,面食的品种也更加丰富。由此可知,秦汉时期

- A. 农作物的种类大大增加
- B. 生产工具出现根本变革
- C. 农业发展推动饮食变迁
- D. 民众温饱问题得以解决

26. 宋代私人设书院讲学之风盛行,书院最多时达300多所,成为文人思想传承与交流的主要阵地,自由论辩的氛围空前浓厚。书院的大量出现

- A. 确立了两宋重文轻武的格局
- B. 导致文人脱离现实崇尚空谈
- C. 说明宋代官学发展严重滞后
- D. 推动了宋代理性精神的发展

27. 明代中叶以后,江南市镇的分布十分密集,以苏州府吴江县盛泽镇为例,东南至新杭市五里,东至王江泾镇六里,北至平望镇十五里,西南至新城镇三十里,至濮院镇五十里,西至震泽镇三十里,至南浔镇五十里。这些密集的市镇网络

- A. 体现了长途贩运贸易发展
- B. 表明资本主义萌芽的兴起
- C. 促进了地区间的经济合作
- D. 阻碍农业生产的正常发展

28. 下表是关于1844—1847年五个通商口岸贸易的货值统计表(单位:万元)。据此可知当时

年份	宁波	广州	厦门	福州	上海
1844年	11.1	733.5	19.3	0	48.7
1845年	2.7	681.5	16.3	8.4	234.1
1846年	1.1	554.5	17.6	极少	216.2
1847年	1.2	549.2	18.7	极少	229.9

- A. 上海的区位优势日益凸显
- B. 广州的对外贸易地位没落
- C. 自然经济对洋货强烈抵制
- D. 中国的贸易逆差现象严重

29. 下表是甲午战后出现的兴办各类教育的主张。这些主张

类别	主要主张
人才教育	强调政治人才教育
实业教育	强调算术、理化、西文,以利实业发展
国民教育	提高国民素养,懂得支持立宪
女子教育	重视女学,男女平等,享有立宪国民资格
师范教育	兴办师范教育是近代教育的前提
留学教育	重视政法(服务立宪政治)与师范(服务国民教育)

- A. 改变了传统教育的模式
- B. 表明立宪成为国人共识
- C. 推动了维新思潮的兴起
- D. 体现了强烈的时代特色

30. 1936年9月17日,中共中央作出《关于抗日救亡运动的新形势与民主共和国的决议》,认为蒋介石为代表的国民党政府及其军队有转向抗日运动的可能,改苏维埃人民共和国为民主共和国。这一决议

- A. 顺应了国内形势发展的需要
- B. 缓和了国共对峙的紧张局势
- C. 改变了苏维埃政权的性质
- D. 推动了西安事变的发生

31. 十一届三中全会后,我国政府颁布了一系列国企改革的文件,意在使国企成为自负盈亏、自主经营、自我约束、自我发展的“四自”经济实体。这些文件的颁布

- A. 构建了社会主义市场经济体制
- B. 为企业进入市场奠定初步基础
- C. 彻底改变了政企不分的弊端
- D. 动摇了国有企业的主体地位

32. 罗马法学家弗罗丁斯认为,奴隶制是违反自然法的,因为人是生而自由的。但根据万民法,一个人可以成为另一人的财产。这说明罗马法

- A. 遭到了罗马法学家的普遍质疑
- B. 严重违背了自然法的基本理念
- C. 推动了奴隶制度逐渐走向繁荣
- D. 将自由民作为法律关系的主体

33. 1710年到1795年的英国,资本主义大农场经营方式的采用、农机的推广,使得农村谷物单位面积产量大大提高;牲畜的科学培育和饲养,使羊的平均重量从每只28磅增加到80磅,牛的平均重量从每头370磅增加到800磅。这反映出18世纪的英国

- A. 农业与工业发展相得益彰
- B. 农业发展取决于圈地运动
- C. 农村实现了机械化的生产
- D. 科学理论得到了广泛应用

34. 1848年欧洲革命失败后,马克思在1856年致恩格斯的一封信中强调指出:“德国的全部问题将取决于是否有可能由某种再版的农民战争来支持无产阶级革命。如果那样就太好了。”马克思意在

- A. 创立无产阶级革命的新理论
- B. 总结1848年革命的经验教训
- C. 肯定农民在革命中的领导地位
- D. 强调工农革命有利于德国统一

35. 20世纪末,面对亚洲的金融危机,亚太经合组织表现平庸,部分成员国对亚太经合组织的期望值明显降低,转而寻求加强本地域的经济合作,纷纷组建次区域的双边或多边自由贸易区。这表明

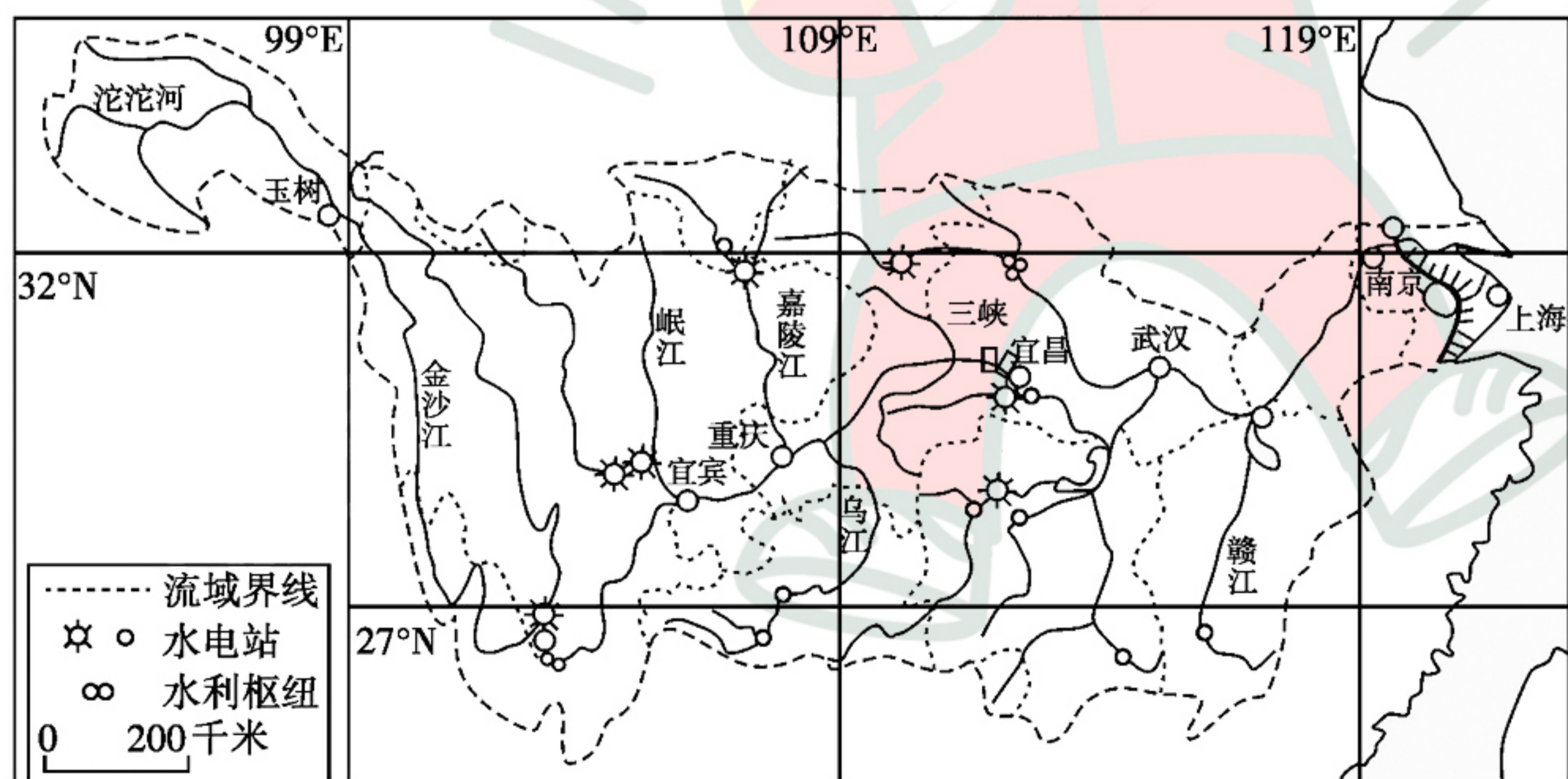
- A. 经济全球化阻力重重
- B. 亚太经合组织趋于瓦解
- C. 区域经济合作遭抵制
- D. 亚太贸易实现了自由化

二、非选择题:本大题包括必考题和选考题两部分。第36~42题为必考题,每个试题考生都必须作答。第43~47题为选考题,考生根据要求作答。

(一)必考题:共135分

36. 阅读图文资料,完成下列要求。(24分)

长江是世界上水生生物多样性最为丰富的河流之一,是地球上极其宝贵的淡水生物宝库。长江流域覆盖我国11个省市,近28万渔民,人口和生产总值均超过全国的40%,是中国经济的重要驱动力。长期以来因人类不合理活动,导致渔业生产受到严重影响,即使大规模增殖放流,每年的捕捞量也不足10万吨,约占全国淡水水产品总量的0.15%。我国农业农村部、财政部、人力资源社会保障部联合印发的《长江流域重点水域禁捕和建立补偿制度实施方案》明确规定,2020年1月1日起,长江干流和重要支流的重点水域实行为期10年的常年禁捕,期间禁止天然渔业资源的生产性捕捞。下图示意长江流域范围。



(1)说明长江流域水生生物资源丰富的原因。(6分)

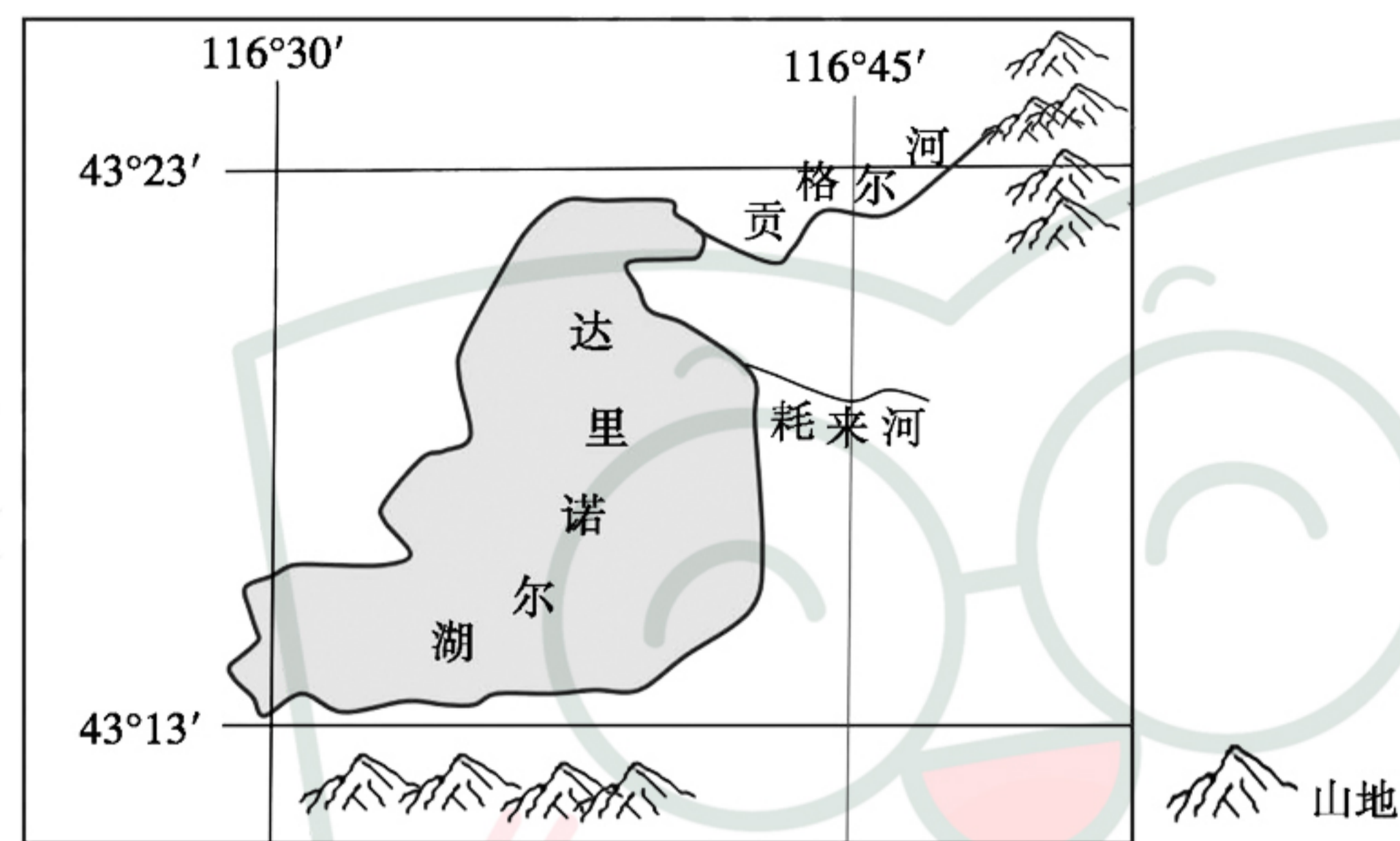
(2)指出目前长江流域存在的主要生态问题。(6分)

(3)从渔业生产方面,推测国家在长江流域重点水域实施常年禁捕的地理背景。(6分)

(4)简述实施禁捕对长江流域渔业可持续发展带来的生态和经济价值。(6分)

37. 阅读图文资料,完成下列要求。(22分)

达里诺尔湖地处内蒙古高原东南边缘,是一个高原碱性内陆湖,形成之初面积达2000平方千米,最大深度接近100米,蓄水上千亿万立方米。然而,如今该湖的面积只剩下不到190平方千米,最大水深不足10米。为拯救达里诺尔湖,当地政府实施了禁牧休牧、防护林体系建设、规范旅游开发、跨流域调水等一系列生态修复和保护措施。下图示意达里诺尔湖流域地理位置。



(1)从水循环角度,分析近年来达里诺尔湖泊萎缩的气候原因。(6分)

(2)运用地理环境整体性原理,推测湖泊持续萎缩对流域内自然环境演化的影响。(8分)

(3)为拯救达里诺尔湖,当地政府实施了一系列生态修复和保护措施。说出这些措施在生态修复方面所起的主要作用。(8分)

38. 阅读材料,完成下列要求。(14分)

改革开放40多年来,我国民营经济从小到大、从弱到强,不断发展壮大。目前,中国民营企业 and 个体工商户总数超过1亿,贡献了50%以上的税收,60%以上的国内生产总值,70%以上的技术创新成果,80%以上的城镇劳动就业,90%以上的企业数量。另据统计,民营企业大约生产和销售了全国80%以上的日用消费品和60%以上的中高档消费品。党的十九届四中全会旗帜鲜明地指出,要健全支持民营经济发展的法治环境,促进非公有制经济健康发展。

结合材料,运用经济生活知识,分析我国支持民营经济发展的原因并为政府推动民营企业科技创新提出合理化建议。(14分)

39. 阅读材料,完成下列要求。(12分)

构建人类命运共同体是以习近平同志为核心的党中央在新形势下确立的中国外交目标,也是马克思主义中国化最新成果的重要体现。这一战略思想是着眼于人类发展和世界前途提出的中国理念、中国方案,已被多次写入联合国文件,成为中国引领时代潮流和人类文明进步方向的鲜明旗帜。中国坚定不移走和平发展道路,永远是世界和平的建设者、全球发展的贡献者、国际秩序的维护者。当前,全球疫情形势持续快速发展,对此中方密切关注,对各国防控工作压力感同身受。中方秉持公开、透明及对全球卫生安全和人民健康高度负责的态度,加强与世卫组织、有关国家和地区有效合作,为全球共同抗击疫情作出中国贡献。在全球联合抗击疫情的关键时刻,各国应集思广益、凝聚共识、汇聚力量,为推动构建人类命运共同体、建设更加美好的世界发挥积极作用。

结合材料,运用国际社会的知识,说明中国如何为推动构建“抗击疫情命运共同体”作出努力。(12分)

40. 阅读材料,完成下列要求。(26分)

突如其来的新冠肺炎疫情,是新中国成立以来在我国发生的传播速度最快、传染范围最广、防控难度最大的重大突发公共卫生事件。

疫情牵动着14亿中国人民的心,拉近了个人与国家之间的距离,数千人、上万人舍弃春节期间与家人的团聚,投入到防疫一线,为了让更多的家庭平安和团圆,他们舍小家为大家,战斗在防疫一线。各省人民始终同湖北、武汉同胞心连心、共命运,各地选派330多支医疗队,超过4万名医务人员出征湖北,29个省市“一省包一市”,同舟共济、守望相助。借用火神驱瘟、雷神惩恶的神话寓意,鼓舞人民坚定了抗疫必胜的信心。人民群众发挥聪明才智,主动破局迎变,科学抗疫,及时引入方舱医院,创造了抗击疫情的中国速度、中国效率、中国答卷。

每一次攻坚克难,每一场重大灾难,都给我们留下了宝贵的精神财富。在抗疫斗争中形成的抗疫精神是鼓舞和激励人民奋发前进的强大精神动力,是伟大民族精神的又一次精彩迸发。

- (1)结合材料,运用所学文化生活知识,说明抗疫精神是如何体现中华民族精神的。(10分)
- (2)结合材料,运用意识相关知识,说明抗疫精神的作用。(12分)
- (3)学校要求各班围绕新冠肺炎疫情办一期宣传抗疫精神的板报,请画一简图,说明你班本期板报的主题思想及其主要栏目设计。(4分)

41. 阅读材料,完成下列要求。(25分)

材料一 在1689年之后约150年的时间内,除安妮女王统治的12年外,英国国王一直由一位同时担任他国国王的欧洲人担任。为了保护国王在欧洲的属地,与欧洲国

家结盟成为英国外交的首要特征。虽然结盟外交受到国王的影响,然而介入欧洲事务在很大程度上是英国因素使然。在重商主义指导下,在海外殖民掠夺并获取商业特权成为18世纪特别重要的内容,在这种竞争中,强大的法国越来越成为英国最主要对手。英法七年战争中,英国于1756年通过《威斯敏斯特协定》与普鲁士建立盟约关系,由普鲁士牵制法国,使英国取得最终胜利。英国一方面重新确立了欧洲大陆的均势格局,另一方面在与法国争夺殖民与商业利益方面获得完全的胜利。这使得英国从早先孤立欧洲的一个边缘国家变为欧洲最具影响力的国家。

——摘编自刘明周《18世纪英国的结盟外交》

材料二 清代外交公文一定程度上体现了清王朝的外交理念。清朝对待亚洲各国的公文,一般使用“谕”与“敕谕”,充分表现出宗主国与藩属国的上对下的等级关系。康熙年间中俄双方定例,“中国行俄罗斯之公文,用理藩院的印信,咨(地位相当的高级官署间相互行文时使用的平行公文文种)行俄罗斯萨那特(“萨那特”意为理事)衙门;俄罗斯行中国之公文,用萨那特衙门及托博勒城守尉印信,咨行中国理藩院衙门。”理藩院与萨那特衙门两个机构在职位、品级上都是对等的。1689年,清政府与俄国公使费要多罗签订《尼布楚条约》,这是清朝在雅克萨自卫反击战中全获全胜后与俄国人签订的平等条约。1793年,英国政府正式派出以乔治·马夏尔尼为正使的使团访华进贡,乾隆皇帝在遣回来使时,写给英王乔治三世的一封敕谕,以“奉天承运皇帝敕谕英吉利国王知悉”开头。

——摘编自陈静《论清代外交关系变化在对外文书文种上的体现》

- (1)根据材料一并结合所学知识,概括英国实行结盟外交的原因并分析其影响。(12分)
- (2)根据材料二并结合所学知识,指出清政府与俄英两国不同的外交关系并分析其原因。(13分)

42. 阅读材料,完成下列要求。(12分)

“以诗文证史”是指以诗词歌赋和笔记小说等文学作品作为史料来研究历史和书写历史。宋代以来的史家开始自觉地将诗文作为史料使用,形成了“以诗文证史”的史学传统。中国现代史家继承和发展了这一传统,陈寅恪是其中最具有成就的史家。

在陈寅恪看来,小说主要有四方面的史料价值。第一,小说在历史研究中可与正史文献互补;第二,小说对史事的记载可弥补正史记载的不足;第三,有些小说史料价值很高,堪称实录;第四,小说对古代社会史研究有重要价值。陈寅恪对以小说证史释史作了重要发展,提出“通性之真实”和“个性之真实”两个重要概念,指出小说作为史料具有“个性不真实,通性真实”的特点。

——摘编自徐国利《陈寅恪对“以诗文证史”史学传统的继承和发展》

结合相关史实,评析材料中陈寅恪的观点(任意一点或整体)。(要求:史论结合,论证充分,表述清晰。)

(二)选考题:共25分。请考生从2道地理选考题、3道历史选考题中每科任选一题作答,并用2B铅笔在答题卡上把所选题目题号后的方框涂黑。注意:所做题目的题号必须与所涂题目的题号一致,在答题卡选答区域指定位置答题。如果多做,则每学科按所做的第一个题目计分。

43.【地理——选修3:旅游地理】(10分)

贵州省夏季平均气温仅为23.6℃,是同纬度最凉爽的区域之一。近年来,贵州省连续推出避暑旅游优惠“大礼包”,使其成为夏季旅游热门的旅游目的地之一。2019年6月15日至9月22日,贵州省面向除本省以外全国其他省(区、市)和港澳台地区居民推出为期100天,景区门票5折、高速5折的旅游优惠政策。

简述近年来贵州连续推出避暑旅游优惠“大礼包”对其旅游业发展的意义。

44.【地理——选修6:环境保护】(10分)

近年来,福建宁德对辖区内海水养殖业的渔排进行升级改造,全面推广抗风浪塑胶渔排,以取代传统渔排,大幅度提高养殖单产。传统渔排材质多为塑料泡沫,抗风浪能力差,因此大都只能集中在风浪较小、离岸较近的湾内海域及近岸港口养殖。



与传统渔排相比,说明塑胶渔排对环境保护的益处。

45.【历史——选修1:历史上重大改革回眸】(15分)

材料 北洋政府时期货币的流通十分混乱,各种银两、银元、铜元、纸币、外国银行的货币等同时流通,名目繁多。1912年秋,北洋政府财政部特设币制委员会讨论币制。经过多方详加讨论,最终确定了实行银本位制,并于1914年2月7日正式颁布了《国币条例》、《国币条例施行细则》。《国币条例》规定:国币之铸发权,专属于政府,币面铸有袁世凯头像和铸造年份,通称“袁头币”。银币有壹元、半元、贰角、壹角4种;辅币有镍币和铜币,币值为伍分、贰分、壹分、伍厘、贰厘、壹厘6种。《国币条例施行细则》还规定“凡在中国境内,以国币条例授受者,概不得拒绝”。银元制的确立,是中国近代货币史上的一次变革,它适应了当时商品经济发展的需要,由于其式样新颖、形式划一、重量成色符合既定标准,逐渐成为流通中的主币,为后来南京国民政府实行废两改元打下了基础。

——摘编自郭剑林《北洋政府简史》

- (1)根据材料并结合所学知识,概括北洋政府币制改革的举措。(7分)
- (2)根据材料并结合所学知识,说明北洋政府币制改革的意义。(8分)

46.【历史——选修3:20世纪的战争与和平】(15分)

材料 1942年初,斯大林强硬要求英美军队在西欧开辟第二战场来减轻德军对苏联的压力。然而第二战场在1942、1943年并未出现。1943年,苏联在斯大林格勒击溃了德军。当年夏天,苏联人收复了沦陷领土的三分之二,并在美英多次许诺开辟第二战场却从未兑现的情况下,抗击了希特勒全部军力的80%。斯大林对西方盟国的需求依然巨大,但已经大大减少了。实际上罗斯福正在转变成为恳求者,因为他要求苏联答应欧洲战事结束后对日本作战。1943年的军事战役急剧改变了苏联与它的两个盟国之间的外交关系。1944年6月,盟军登陆诺曼底海滩,8月下旬解放巴黎,9月中旬攻入德境。

——摘编自[美]沃尔特·拉菲伯《美国世纪》

- (1)根据材料并结合所学知识,简析盟军开辟欧洲第二战场的原因。(9分)
- (2)根据材料并结合所学知识,说明欧洲第二战场开辟的历史意义。(6分)

47.【历史——选修4:中外历史人物评说】(15分)

材料 孙思邈(581—682),唐代著名医药学家。他目睹民众缺医少药,毅然放弃仕途,立志做一名“苍生大医”。他以历代名医为榜样,刻苦钻研医药典籍,博采群经,删裁繁重,并结合个人的学术经验,先后撰成《备急千金要方》和《千金翼方》。他认为“人命至重,有贵千金”,故以“千金”两字命名。该书搜集整理了6000多种医方,较系统地总结了我国自古以来至唐初的医药学成就。他提出行医应具备两个基本条件:“精”,即精深的医学造诣和精湛的医疗技术;“诚”,即对病家、对同道怀有一片赤诚之心。在治疗学方面,他对传染病的防治和护理有比较突出的创造性。他还十分重视妇幼保健卫生,强调妇科病的特殊性和小儿护理的重要性。孙思邈与唐朝政府合作开展医学活动,并完成了世界上第一部国家药典《唐新本草》。人们为了纪念孙思邈,尊其为“药王”,“箫鼓年年拜药王”,已成了孙思邈故乡人民千百年的习俗。

——摘编自白寿彝主编《中国通史》

- (1)根据材料并结合所学知识,概括孙思邈的主要贡献。(7分)
- (2)根据材料并结合所学知识,说明孙思邈所具备的优秀品质。(8分)