

太原市 2020 年初中毕业班综合测试(三)

文科综合

(考试时间:下午 3:00—5:30)

道德与法治

注意事项:

1. 本试卷由历史和道德与法治两部分组成,满分 150 分,考试时间 150 分钟。其中道德与法治部分采用开卷考试,分第 I 卷和第 II 卷两部分,全卷共 8 页,满分 75 分,考试时间 70 分钟。
2. 答卷前,考生务必将自己的姓名、准考证号填写在本试卷相应的位置。
3. 答案全部在答题卡上完成,答在本试卷上无效。
4. 考试结束后,将本试卷和答题卡一并交回。

第 I 卷 选择题(共 36 分)

一、选择题(在每小题的四个选项中,只有一项最符合题意,请选出并在答题卡上将该项涂黑。本大题共 12 个小题,每小题 3 分,共 36 分)

1. 下列关于党的十九届四中全会的会议精神说法正确的有

①中国共产党领导是中国特色社会主义最本质的特征,是中国特色社会主义制度的最大优势,党是最高政治领导力量 ②坚持和完善中国特色社会主义制度、推进国家治理体系和治理能力现代化的总体目标是,到我们党成立一百年时,各方面制度更加完善,基本实现国家治理体系和治理能力现代化 ③建设中国特色社会主义法治体系、建设社会主义法治国家是坚持和发展中国特色社会主义的内在要求 ④要毫不动摇巩固和发展公有制经济,毫不动摇鼓励、支持、引导非公有制经济发展。坚持按劳分配为主体、多种分配方式并存。加快完善社会主义市场经济体制。完善科技创新体制机制。建设更高水平开放型经济新体制

A. ①③④ B. ②③④ C. ①②③ D. ①②④
2. 下列关于今年全国“两会”的内容说法正确的是

A. 全国政协十三届三次会议听取和讨论政协全国委员会常务委员会工作报告

B. 政府工作报告指出,今年要优先稳就业保民生,坚决打赢脱贫攻坚战,努力实现全面建成小康社会目标任务

C. 2020 年单位国内生产总值能耗和主要污染物排放量持续下降,努力完成“十二五”规划目标任务

D. 2020 年要筹办好第二届进博会等

3. 对下列法律知识理解不正确的是

A. 行政诉讼俗称“民告官”,是指国家行政机关在双方当事人的参与下,依照司法诉讼程序解决行政争议案件的活动;刑事诉讼是指公安机关在当事人和其他诉讼参与人的参加下,依法查明犯罪事实、惩罚犯罪分子、保障无罪的人不受刑事追究的活动

B. 2020 年 6 月 1 日起正式实施的《山西省禁止公共场所随地吐痰的规定》,是全国首部专门的聚焦治理公共场所随地吐痰问题的省级地方性法规,是由山西省人大常委会表决通过

C. 根据《中华人民共和国预防未成年人犯罪法》规定,不良行为指的是严重违背社会公德的行为;严重不良行为是指严重危害社会,尚不够刑事处罚的违法行为

D. 公民政治权利和自由包括选举权和被选举权、政治自由和监督权等。剥夺政治权利则是剥夺下列权利:选举权和被选举权,言论、出版、集会、结社、游行、示威自由的权利,担任国家机关职务的权利,担任国有公司、企业、事业单位和人民团体领导职务的权利
4. 下列理解正确的是

A. 美特好超市和肯德基都属于私营经济,是我国社会主义市场经济的重要组成部分,也是我国经济制度的基础

B. 山西省人民政府是山西省的权力机关,可以监督山西省人大的工作

C. 村民委员会实行自我管理、自我教育、自我服务,主任和村支书都是村民直接选举产生的

D. 自治区、自治州和自治县的人民代表大会和人民政府是民族自治地方的自治机关
5. 八年级学生丽丽的妈妈经常给她讲述有关疫情防控的知识。依据《中华人民共和国未成年人保护法》,下面选项中实施的保护与妈妈行为属于同一保护的是

A. 有关国家机关和社会组织应当为未成年人的父母或者其他监护人提供家庭教育指导

B. 对有严重不良行为的未成年学生,学校应当和父母或其他监护人互相配合加以管教

C. 任何组织或者个人不得披露未成年人的个人隐私

D. 对未成年人犯罪案件,新闻报道等不得披露该未成年人的隐私以及可能推断出该未成年人的资料
6. 下列图例表示正确的是

A. 犯罪的三个特征 { 社会危害性
刑事违法性
应受刑罚处罚性

B. 人民 $\xrightarrow{\text{直接选举}}$ 人大代表 $\xrightarrow{\text{产生}}$ 权力机关

C.

1993 年	将中国共产党领导的多党合作和政治协商制度将长期存在和发展写入宪法
1999 年	实行依法治国,建设社会主义法治国家写入宪法
2018 年	增设监察委员会写进宪法

D.

7. 以下是初中生李某一天中的几个生活情景,你认为他的行为或认知正确的是


A. 在坐公交车去姥姥家的路上,沿途看到了几块牌子,属于行政机关的是d

代 表 大 会 常 委 会 太 原 市 人 民	会 太 原 市 委 员 党 中 国 共 产 党	市 委 员 会 山 西 省 太 原 市	监 督 管 理 局 太 原 市 市 场
a	b	c	d


B. 发现姥姥家小区外的路灯被损坏了,应该拨打下图的b电话



C. 李某将刚吃完的瓜果皮壳扔进了d垃圾桶



D. 晚上打开“学习强国”公众号,看到了下列自治区的地图,其中成立最早的是d



8. 以下是中学生雯雯的生活片段,其中同学们评价正确的有

- ①早晨在妈妈的多次催促下,才懒洋洋地起床——这是依赖心理,是不自立的表现
- ②骑自行车上学时,为了赶时间闯红灯——这是行政违法行为,应该受到拘役的处罚
- ③上课间操时,及时制止了愚弄班长的同学——这是关爱他人的表现,同时维护了班长的尊严
- ④放学后,阅读《红岩》——懂得养护精神生命,守护精神家园
- ⑤快考试了,紧张地睡不着觉——学习压力过大的表现,应该想办法调整
- ⑥上自习课时,遇到不会的题,就会和同桌讨论,周围的同学都会听到他们大声的争论——这是善于学习,自觉履行受教育的义务的表现

A. 2个 B. 3个 C. 4个 D. 5个

9. 下列说法正确的是

- ①选举权、依法服兵役和依法纳税一样都要年满18周岁
- ②山西省级法律监督机关的名称是山西省高级人民法院,太原市级审判机关的名称是太原市中级人民法院
- ③乡镇人大设主席团主持工作,县级以上人大才设常委会
- ④全国和地方各级人大代表有权依法审议各项议案和报告、表决各项决定、提出议案和质询案

A. ①② B. ③④ C. ①③ D. ②④

10. 作为一种政治实践和价值理念,人民民主是社会主义的生命。而发展人民民主,必须坚持全面依法治国。下列关于“民主”和“法治”的认识错误的有

- ①新中国的成立,标志着社会主义民主在中国大地上的真正确立。我国实行人民民主,既发展选举民主,又发展协商民主。协商民主是我国社会主义民主政治的特有形式和独特优势
- ②我国社会主义民主是维护人民根本利益的最广泛、最真实、最管用的民主。如广泛性主要体现在了享有的权利和实施的主体广泛;而我国尊重和保障人权方面取得的成就,能体现人民民主的真实性
- ③公民参与是社会主义民主的要求,也是公民的一项权利。社情民意反映制度、专家咨询制度、重大事项社会公示制度和社会听证制度等是公民参与民主监督的有力保证
- ④1978年党的十一届三中全会提出“有法可依、有法必依、执法必严、违法必究”的要求;2020年提出“科学立法、严格执法、公正司法、全民守法”的新十六字方针,2014年党的十八届四中全会专题研究全面推进依法治国若干重大问题
- ⑤人民代表大会制度要符合中国国情和实际,人民代表大会制度是坚持党的领导、人民当家作主、依法治国有机统一的根本政治制度安排

A. ①③④ B. ②⑤ C. ②③④ D. ①②③

11. 下列对疑问的解析中不正确的是

- A. 疑问:市政府门口需挂国徽吗?
解释:是,按照国徽法规定,县级以上各级人民政府应该悬挂国徽。
- B. 疑问:公民的住宅不受侵犯,是指禁止搜查或侵入公民的住宅吗?
解释:不是,是指禁止非法搜查或者非法侵入公民住宅。
- C. 疑问:山西省监察委员会能领导朔州市监察委员会吗?
解释:能领导,我国设有五级监察委员会,上级和下级之间就是领导与被领导的关系。
- D. 疑问:中国共产党是国家机构吗?
解释:不是,中国共产党是中国工人阶级的先锋队,是中国人民和中华民族的先锋队,是中国特色社会主义事业的领导核心。

12. 下列事件中评价正确的是

- ①截至2019年10月,中国铁路建设业务遍及非洲46国,建成铁路与城轨10605公里、公路4800公里,帮助许多非洲国家降低了交通运输成本,促进了经济贸易发展,增加了就业,提高了人民生活水平。——这说明我国坚持合作共赢的发展理念
- ②安徽省歙县人民法院审理的吴某甲等11人犯寻衅滋事、敲诈勒索、强迫交易、聚众扰乱社会秩序一案,吴某甲等三被告人不服一审判决,向黄山市中级人民法院提起上诉——上诉针对的是尚未发生法律效力的一审判决不服的案件,可在规定的时间内进行
- ③由市委宣传部主办的,太原市第二季“最美时代新人榜”发布会暨“时代新人说——逆行者的光芒”讲述活动于6月24日举行,30位在坚守抗疫一线、推动转型发展、创建文明城市、决战脱贫攻坚等方面涌现出的先进人物,成为“最美时代新人”——市委宣传部是政府部门,归市长管
- ④2020年2月24日,在北京举行的新闻发布会上,联合专家考察组外方组长、世界卫生组织总干事高级顾问布鲁斯·艾尔沃德说,在全球为疫情做应对和准备的过程中,中国的做法是有什么就有什么,能怎么拯救生命就怎么拯救生命。事实证明中国的方法是成功的。——“中国的做法”显示了中国智慧,为全球疫情防控提供了中国方案

A. ②③④ B. ①②③ C. ①③④ D. ①②④

第 II 卷 非选择题(共 39 分)

二、简答题(本大题含 4 小题,共 18 分)

13. 按要求完成下列试题。

(1) 将下列知识补充完整:(7分)

①我们必须坚持总体国家安全观,以_____安全为宗旨,以_____安全为根本,以经济安全为基础,以军事、文化、社会安全为保障,以促进国际安全为依托,走出一条中国特色的国家安全道路。

②_____是我国的宪法原则,且于 2004 年写入宪法。

③美团外卖的小哥说:“太好了,今天又挣了 300 元。”他获得的收入是按照_____生产要素参与分配。

④监察机关可以对违法的_____依法作出警告、记过、记大过、降级、撤职、开除等政务处分,这是在行使_____职责。

⑤进入中国特色社会主义新时代,中国共产党领导全国各族人民,在_____指导下,全面擘画中国特色社会主义伟大事业。

(2) 山西省人民代表大会常务委员会关于修改《山西省实施〈中华人民共和国野生动物保护法〉办法》的决定,已于 2020 年 3 月 31 日通过,自公布之日起施行。其中规定:“乡镇人民政府、街道办事处应当配合做好禁止食用陆生野生动物相关工作”。

据上述报道,同学们发表了如下观点,请你将空白处补充完整,错误之处进行改正。(2分)

①材料中提到的山西省人大常委会是_____。

②街道办事处与居委会都属于基层群众自治组织。

14. 2020 年 3 月 20 日,中共中央、国务院印发《关于全面加强新时代大中小学劳动教育的意见》(以下简称《意见》)。《意见》强调劳动教育是中国特色社会主义教育制度的重要内容,要全面贯彻党的教育方针,坚持立德树人,把劳动教育纳入人才培养全过程,贯通大中小学各学段,贯穿家庭、学校、社会各方面,把握育人导向,遵循教育规律,创新体制机制,注重教育实效,实现知行合一,促进学生形成正确的世界观、人生观、价值观。

国家为什么如此重视劳动教育?(3分)

15. 近日,中国百名学者联合发布新时代文明工程倡议书,倡议呼吁全民携手启动“餐桌革命”,践行“一分二公三自带”(分餐、公筷公勺、自带筷子),做推动“餐桌革命”的先行者,推行文明健康绿色环保的新生活方式,为拥有一个美好的“健康中国”而行动。

为使大家更好地落实上述倡议,请你据此设计一个宣传海报。(2分)

16. 请你从“集体”、“责任”和“国家利益”三个专题中任选一个,就此专题提出三个问题,并解答其中一个问题。(4分)

三、分析说明题(本大题含 1 小题,共 7 分。以下两题任选一题作答)

17. 选做一:

近日,一张截图在网上流传,引发很多网友的讨论。截图的内容是一位老师多次向家长反映孩子没有按时交数学作业,家长没有任何回应。

晚上九点半左右,老师再次给家长留言,发现自己居然被拉黑了……


这位老师哭笑不得,又倍感委屈,自己本着对孩子负责的原则,督促孩子上网课交作业,结果反倒被拉黑。

作为一名网友,如果请你给这位家长写信沟通,你会怎样说?

选做二:

2020 年 6 月的一天,北京天坛公园门口,一名大爷不戴口罩,也不出示“健康宝”,推搡工作人员试图硬闯公园。工作人员和周围的市民劝阻大爷,他也不听。

假如你在现场,你会如何劝说这位大爷?



四、实践探究题(本大题含1小题,共14分)

18. 巍巍太行,绵绵吕梁,群山叠翠,汾河荡漾。

在决胜全面建成小康社会、决战脱贫攻坚的关键时刻,习近平总书记来到山西,进农村、访农户、看企业、察改革,就统筹推进常态化疫情防控和经济社会发展工作、巩固脱贫攻坚成果进行调研。某校道德与法治老师组织同学们收集相关新闻报道并进行讨论,请你也参与其中,完成下列任务。

片段一:2020年5月11日下午,习近平总书记首先来到大同市云州区有机黄花标准化种植基地、西坪镇坊城新村,了解巩固脱贫攻坚成果工作情况。总书记指出,要把黄花产业保护好、发展好,做成大产业,做成全国知名品牌,让黄花成为乡亲们的“致富花”。

(1)国家为什么要高度重视巩固脱贫、防止返贫、确保乡亲们持续增收致富?(3分)

(2)为让黄花成为乡亲们的“致富花”,假如请你为黄花直播带货,你会怎样介绍?(2分)

片段二:5月11日傍晚时分,习近平总书记来到大同云冈石窟考察,了解历史文化遗产保护情况。习近平总书记仔细察看雕塑、壁画,详细询问石窟开凿历史、艺术风格、文物保护等情况。总书记强调,云冈石窟是世界文化遗产,保护好云冈石窟,不仅具有中国意义,而且具有世界意义。对历史文化遗产要始终把保护放在第一位。

(3)总书记强调对历史文化遗产“要始终把保护放在第一位”的原因何在?(2分)

(4)云冈石窟与我国诸多石窟相比较,既有印度、中亚艺术元素,也有希腊、罗马建筑造型、装饰纹样、相貌特征等。这说明了什么?(2分)

片段三:5月12日上午,习近平总书记前往太钢不锈钢精密带钢有限公司考察调研。在光亮机组前,总书记饶有兴致地观看了厚度仅有0.02毫米的不锈钢箔材“手撕钢”产品。两位同学就习总书记选择太钢视察,发表自己的看法。

甲:手撕钢是创新的产物,总书记的重视,意在强调创新是引领发展的第一动力。

乙:视察太钢,可以了解国有企业发展现状。

(5)你认为习近平总书记视察太钢还有哪些意义?(2分)

片段四:5月12日中午,习近平总书记来到汾河太原城区晋阳桥段,考察汾河水治理及沿岸生态保护、城市环境建设等情况,对太原汾河沿岸生态环境的沧桑巨变表示欣慰。总书记强调:“要切实保护好、治理好汾河,再现古晋阳汾河晚渡的美景,让一泓清水入黄河。”

(6)总书记为什么强调要保护好、治理好汾河?(2分)

(7)如今,汾河逐步实现了“水量丰起来、水质好起来、风光美起来”。对汾河沿岸的治理,你还有什么建议吗?请写下来。(1分)