

2020~2021 学年第一学期七年级阶段性测评

历史试卷

(考试时间：下午 2:30-4:00)

说明：本试卷闭卷笔答，做题时间 90 分钟，满分 100 分。

题号	一	二	三	四	总分
得分					

一、单项选择题 (本大题含 15 小题，每小题 2 分，共 30 分)

题号	1	2	3	4	5	6	7	8	9	10	11	12	13	14	15
选项															

1. 北京人已经学会使用火，还会长时间保存火种，用火烧烤食物、御寒、照明、驱兽。下面能为此提供佐证的是
- A. 《山海经》中记载的神话传说
  - B. 遗址中发现的灰烬、烧石和烧骨
  - C. 《韩非子》中远古时代的记述
  - D. 历史研究者的推测和论述文章

**【答案】B**

**【解析】**题目要求论证北京人会使用火，并保留火种，最有利和直观的证据就是考古发现。考古发现属于一手资料，可以直接作为证据，其他文字史料是二手资料，经过认为加工，需要经过甄别后使用。

2. 我国原始居民已经培育出粟 (俗称谷子，去壳后称小米)。考古学家在黄河流域发现了距今约 6000 年，种植粟的农耕文化遗存。它是
- A. 元谋人遗址
  - B. 北京人遗址
  - C. 河姆渡村落遗址
  - D. 半坡村落遗址

**【答案】D**


**【解析】**根据所学可知，河姆渡种植水稻，半坡人种植粟，故选 D。

3. 追忆历史，四千多年前，华夏大地经历了一场大洪水，最终在华夏先民前赴后继的艰苦努力下，治理了大洪水，为华夏民族的生存发展创造了广阔空间。下列传说与之有关的是
- A. 精卫填海
  - B. 夸父追日
  - C. 大禹治水
  - D. 盘古开天辟地

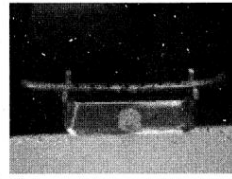
**【答案】C**

**【解析】**材料中描述的是早期先民治理洪水的事迹，根据所学可知，这是神话传说大禹治水的故事，故选 C。

4. 《周易·系辞下》记载，“黄帝、尧、舜……舟楫之利以济不通”。以下考古发现能够印证记载中“舟楫”的是




A. 浙江余杭良渚文化遗址出土的玉璧



B. 河南舞阳出土的七孔骨笛



C. 浙江河姆渡遗址出土的猪盆陶钵



D. 陕西宝鸡出土的船形彩陶壶

【答案】D

【解析】《周易》记载“黄帝，尧舜禹时期，制作舟楫使通行更加方便。”选项中的图片与船有关的只有D项。

5. 《史记》记载“平王立，东迁于洛邑，辟（避）戎寇”。这说明平王迁都的直接原因是

- A. 社会矛盾的激化
- B. 洛邑地理位置优越
- C. 犬戎族攻破镐京
- D. 爆发“国人暴动”

【答案】C

【解析】材料中提到周平王东迁洛邑是为了躲避少数民族的侵略，所以选择C项。

6. 山西太原是一座具有 4700 多年历史的古城，建城史可以上溯到公元前 497 年赵简子家臣董安于所筑的晋阳城。据此判断，当时中国正处于

- A. 西周时期
- B. 春秋时期
- C. 战国时期
- D. 秦汉时期

【答案】B

【解析】韩赵魏三家分晋和田氏代齐表明中国历史进入战国时期，材料中说是赵简子的家臣建立晋阳城，说明三家分晋并没有发生，故选B。

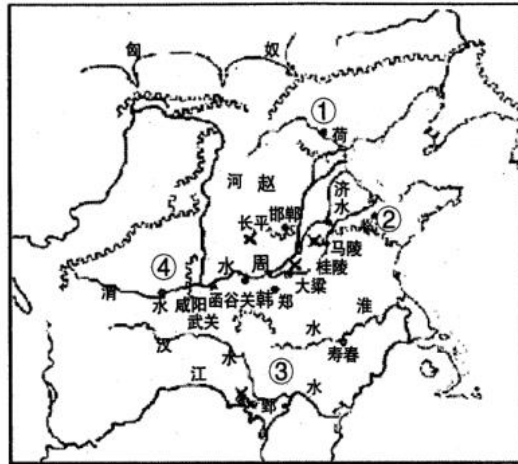
7. 他任用丞相叫管仲，“尊王攘夷”为口号，第一霸主遥威风。该歌谣中的“他”是指

- A. 晋文公
- B. 齐桓公
- C. 楚庄王
- D. 越王勾践

【答案】B

【解析】根据材料结合所学可知，春秋第一霸主是齐桓公，选B。

8. 观察右边《战国七雄形势图》，其中与①②③④所示位置对应的分别是



- A. 秦、楚、齊、燕
- B. 齊、楚、秦、燕
- C. 燕、齊、秦、楚
- D. 燕、齊、楚、秦

**【答案】D**

**【解析】**根据材料并结合所学可知，战国七雄正确的地理位置应是 D 项。

9. 据巴蜀文化研究专家冯广宏考证，李冰在公元前 273 年前后担任蜀守，并主持修建了都江堰。据图 1 判断，公元前 273 年属于

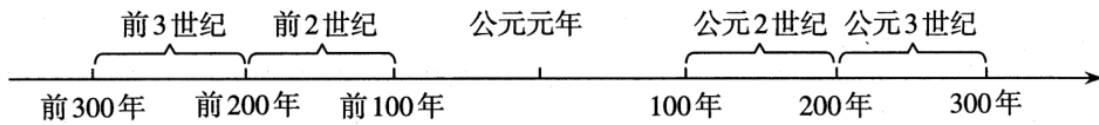


图1 公元纪年年代尺

- A. 公元前 3 世纪前期
- B. 公元前 3 世纪后期
- C. 公元前 2 世纪前期
- D. 公元前 2 世纪后期

**【答案】A**

**【解析】**公元前 273 年是公元前 3 世纪，公元前数字越大表明时间越早，以 50 年为分界线，公元前 273 年是公元前 3 世纪早期，故选 A。

10. 成语典故是我国历史文化遗产中的一颗璀璨明珠。下列成语典故与其对应的战役，发生在今山西境内的是

- A. 围魏救赵——桂陵之战
- B. 破釜沉舟——巨鹿之战
- C. 纸上谈兵——长平之战
- D. 退避三舍——城濮之战

**【答案】C**

**【解析】**根据所学可知，桂林之战发生在河南省，巨鹿之战发生在河北省，长平之战发生在山西省高平市，城濮之战发生在山东省，故选 C。

11. 春秋战国时期，学派纷呈。其主张能体现下表所示内容的学派是

层面	日常规范
个人	用礼仪规则来要求自己,可以不犯错误
家族	父母健在时,要对他们表示尊敬和爱戴
政府	君主遵守礼仪规则,臣民就听从他召唤

- A. 墨家  
B. 儒家  
C. 道家  
D. 法家

**【答案】B**

**【解析】**春秋战争百家争鸣期间，要求用礼仪规范个人言行，要求尊敬父母，孝敬长辈，尊崇君主的只有儒家，故选 B。

12. “七雄戈戟乱如麻，四海无人得坐家。”是唐诗《流沙》中描述战国时期的诗句。诗句反映出当时的时代特征是

- A. 周王室衰微  
B. 北方戎狄侵扰  
C. 兼并战争不断  
D. 农民起义频繁

**【答案】C**

**【解析】**材料中的诗句描绘的是战国时期，因为诸侯之间兼并战争频繁，百姓民不聊生，所以选 C。

13. 《史记·秦始皇本纪》记载：“因地形，用制险塞，起临洮，至辽东，延袤万余里。”史记记载的是秦朝修筑的

- A. 灵渠  
B. 阿房宫  
C. 骊山陵墓  
D. 万里长城

**【答案】D**

**【解析】**根据材料中的描述“西起临洮，冬至辽东”，依据地形修建的只能是长城，所以选 D。

14. 余秋雨说：“汉字是第一项中华文明长寿的秘密……它是活着的图腾，永恒的星辰。”下列汉字演变顺序排列正确的是

- ①甲骨文      ②小篆      ③金文      ④隶书  
A. ①②③④  
B. ①③②④  
C. ①④②③  
D. ②①③④

**【答案】B**

**【解析】**甲骨文是商时期的文字，金文又称为“铭文”，是周朝刻在青铜器上的文字，小篆是秦朝统一后的文字，隶书是秦朝时期，民间用的文字，故选择 B。

15. 同学们在学习了《秦末农民大起义》一课后，对陈胜、吴广领导的农民起义提出了不同的看法。你认为正确的

是

- A. 作为中国历史上第一次农民起义，其革命首创精神永远激励后世
- B. 去渔阳戍守，因遇大雨误期，按清律当斩，是起义爆发的根本原因
- C. 起义一定程度上打击了秦王朝，但并没有动摇了秦朝的统治基础
- D. 起义并没有失败，因为项羽、刘邦领导的农民起义最终推翻了秦朝

**【答案】A**

**【解析】**陈胜吴广起义是中国历史上第一次农民起义，具有首创精神，A项正确。陈胜吴广延误戍守日期，按秦律当斩，B项错误。起义在一定程度上打击了秦王朝，动摇了秦朝的统治根基，C项错误。陈胜吴广被杀，起义失败，D项错误。

**二、简答题**（本题共 16 分）

16. 早期国家的产生和发展见证了王朝的兴衰更替。根据下面图表信息，回答相关问题。

(1) 根据下面王朝更替简表，在序号处填写正确内容。从三朝的兴亡更替历程中，总结出怎样的历史发展规律？（8分）

朝代	①	商	西周
建立时间	约前 2070 年	约前 1600 年	约前 1046 年
建立者	禹	汤	③
都城	阳城	殷	镐京
暴君	桀	②	厉王、幽王

(2) 右图显示的是西周实行的什么制度？这一制度反映出天子与诸侯之间怎样的权利和义务关系？（6分）



(3) 简述这一制度建立的作用。（2分）

**【答案】**

(1) ①夏（2分）②纣（2分）③周武王（2分）规律认识：“暴政亡国”“得道多助失道寡助”“得民心者得天下，失民心者失天下”“得贤则昌，失贤则亡”等等。（写出符合题意的任意一点得2分）

(2) 分封制（2分）内容：周天子将宗亲和功臣分封到各地，授予他们管理土地和人民的权力，建立诸侯国；（2分）

分) 诸侯需要向周王进纳贡物, 并服从周王调兵。受封者可以在自己的封地内进行再分封, 从而确立了周王朝的社会等级制度。(2分)

(3) 加强了周王朝对地方的控制, 稳定了政局, 巩固了疆土, 扩大了统治范围等。(2分)

【解析】(1) 根据材料给出的时间、建立者、都城、暴君可判断出答案为夏、纣、周武王。注意第二小问历史发展规律实际上是让回答朝代兴亡的启示, 即可得出答案。

(2) 根据材料给出的西周等级示意图可知此制度为分封制, 第二小问天子与诸侯之间权利与义务关系, 强调是权利与义务相互之间, 要指出双方面的关系和作用。


(3) 考查基础知识, 回答出分封制作用即可。

【考点】夏商周朝代更替和分封制内容和作用。

### 三、材料解析题 (本大题含 2 个小题, 每小题 16 分, 共 32 分)

17. 春秋战国时期不仅是社会政治、经济发生深刻变化的时代, 也是学术发展、文化昌盛的时代。阅读下列材料, 结合所学知识, 回答问题。

材料一



春秋战国时期的农具



牛耕图

(1) 材料一中, 铁制农具和牛耕的出现与使用有何重要意义?(4分)

材料二 (商鞅变法) 行之十年, 秦民大说(悦), 道不拾遗, 山无盗贼, 家给人足。民勇于公战, 怯于私斗, 乡邑大治。

——司马迁《史记·商君列传》

(2) 结合商鞅变法的具体内容, 分析材料二中所述现象出现的原因。(4分)

材料三

“祸兮福之所倚, 福兮祸之所伏。孰知其极?”	——老子
“仁者爱人”“己所不欲, 勿施于人”“己欲立而立人, 己欲达而达人”。	——孔子
“国无常强, 无常弱。奉法者强则国强, 奉法者弱则国弱”	——韩非子

(3) 材料三中思想家的主张对后世有何影响?(任选两例作答)(8分)

【答案】

(1) 铁制农具和牛耕的出现, 促进了农业上的深耕细作; 为开发山林、扩大耕地创造了条件; 它们的使用, 是春秋时期农业生产水平提高的重要标志等。(评分说明: 答出上述任意一点得 2 分, 共 4 分。)

(2) 因为商鞅变法采取了一些列措施, 使得秦国出现了国富兵强的局面。如政治上: 确立县制, 由国君直接派官

吏治理，废除了旧贵族的特权，改革户籍制度、严明法度等一系列措施，加强了对人民的管理，加强了中央集权；经济上：奖励耕织，统一度量衡等措施，调动了农民生产积极性，促进了封建经济的发展；军事上：奖励军功，对军功授爵等，提高了士兵积极性，增强了军队战斗力，使得秦国成为战国时期最强盛的诸侯国。（评分说明：从不同角度，分别答出上述任一点措施并加以说明得2分，共4分。）

（3）示例：老子：认为世间的事物都有对立面，对立面的双方是可以相互转化。（2分）他告诉人们要善于从正反两方面思考问题，这一思想奠定了辩证法的思想理论。（2分）孔子：其核心思想是“仁”，他提出“仁者爱人”，即要有爱心和同情心，将“仁”作为处理人与人关系的最高行为法则和道德规范；（2分）这一思想主张对后世统治者的治国理政和公民个人的道德规范和行为准则都产生了深远影响。（2分）韩非子：主张君主治国要靠法令、权术和威势，以使臣民慑服，他反对空谈仁义，强调以法治国，树立君主权威，建立中央集权专制统治；（2分）其主张对后世王朝的统治者加强中央集权奠定理论基础；对国家依法治国提供了思想理论等。（2分）（评分说明：任选两位思想家作答，答出符合上述意思的主张各得2分，影响各得2分，共8分。）

**【解析】**

（1）考查生产工具对生产力的影响，注意材料给出铁制农具和牛耕的出现和使用带来的意义，要从出现和使用分别回答其意义即可。

（2）首先需要分析出材料的现象，比如“家给人足”说明变法所带来的积极影响，再结合商鞅变法具体内容回答出具体内容所带来的作用意义。注意识记商鞅变法内容和所带来的意义。

（3）根据三位思想家的主张来回答其思想对后世的影响。任选两位即可，注意先写清楚思想家主张，再说明其带来的影响。

**【考点】春秋战国时期经济发展变迁、商鞅变法内容及其影响和百家争鸣的流派及其主张带来的影响。**

18.秦朝是我国历史上第一个统一的多民族的封建国家。阅读下列材料，结合所学知识，回答问题。

材料一 秦统一中国的意义，并不仅仅在于当时消除了国家分裂的局面，使整个中国达到了空前的统一和繁荣，关键在于它找到了一套大一统制度，并使其成为中国古代社会长期有效的一套规则。

材料二 为了防止再次分裂，秦始皇从加强中央集权的目的出发，采用郡县制牢牢地掌握了中央对地方政府的控制权。他通过在中央和地方各级行政机构中实行的官僚制度，形成了一整套高度发展的中央管理体系，并以古今第一帝的始皇帝身份将自己凌驾于政府之上，最终为大一统制度的实现奠定了君主集权和官僚统治的组织保证。……建立起统一国家行政管理制度的秦始皇，又分别从政治、经济、文化各个方面，推行了巨大的统一工程，铸就了中国古代大一统制度的雏形。

——材料一、二均摘编自杨松华《大一统制度与中国兴衰》

材料三 是圣是魔，未可轻易议。始皇帝，自是千古一帝也。

——明末李贽《藏书》

（1）材料一中秦统一中国是哪一年？简述秦统一中国的历史意义。（6分）

（2）根据材料二，概述秦始皇在政治、经济、文化方面巩固大一统的措施。（6分）

(3) 根据材料三，列举一例秦始皇“是魔”的事例，并谈谈你对“千古一帝”的理解。(4分)

**【答案】**

(1) 公元前 221 年。(2 分) 意义：结束了春秋战国以来长期征战混乱的局面，建立起我国历史上第一个统一的多民族的封建国家；秦的统一促进了各地区、各民族之间的经济、文化交流，其建立的各项制度对后世王朝产生了深远影响。(答出上述任意一点得 2 分，共 4 分)

(2) 政治：最高统治者称皇帝，拥有至高无上的权威，总揽全国的一切军政大权；在中央，设立中央政权机构，分别掌管行政、军事和监察事务，确立专制主义中央集权制度；在地方，废除分封制，实行郡县制等。(2 分) 经济：统一度量衡；统一货币；统一车轨等；文化：统一文字等。(2 分) (评分说明：分别答出符合题意的任意一点各得 2 分，共 6 分。)

(3) 事例：他在位时期焚书坑儒，钳制思想，摧残文化；沉重的徭役和赋税加重了人民的负担，给百姓带来深重的灾难。(答出符合题意的任意一点即可得 2 分) 理解：秦始皇嬴政是中国历史上首位完成华夏大一统的铁腕政治人物；是古今中外第一个称皇帝的君主。(或答：秦始皇完成了统一中国大业，建立起中国历史上第一个统一的多民族的中央集权的封建国家，奠定中国两千余年政治制度基本格局等。)(评分说明：答出符合上述意思的任意一点得 2 分。)

**【解析】**

(1) 根据所学知识即可得出秦统一时间和意义。

(2) 根据所学知识可以答出秦统一后秦始皇在政治、经济、文化方面巩固大一统所采取的措施。


(3) 根据问题所问先列举秦始皇暴政的事例，再对秦始皇进行评价，注意从正反两方面来分析。

**【考点】** 秦朝建立以及秦始皇为巩固大一统采取的措施和对秦始皇的评价。


**四、探究题** (本题共 22 分)

19. 七年级(1)班的同学们以“追溯古老的中华文明”为主题，开展了读史学史活动。下面是其中一个小组列出的学习任务，请你一起来完成。

**任务一【考古遗址——追溯文明起源】(8分)**



图一 北京人复原头像及其使用的石器



图二 河姆渡遗址出土的耒耜和房屋复原图


(1) 根据图一信息，描述北京人的相貌特征及其生活的时代。(4分)

(2) 根据图二，简述河姆渡农耕居民的生产生活状况。(4分)

**任务二【传说记载——探寻华夏之祖】(6分)**

(3) 每年的清明时节，都有大量来自海内外的炎黄子孙到图三的黄帝陵拜祭，请你陈述出现这一现象的理由。从图四材料中可以看出华夏民族的形成有何特点？





图三 位于陕西省黄陵县的黄帝陵

华夏民族，非一族所成。太古以来，诸侯（部落）错居，接触交通，各去小异而大同，渐化合以成一族之形，后世所谓诸夏是也。

图四 摘自梁启超《饮冰室合集》

任务三【实物史料——挖掘历史价值】（8分）

（4）青铜器和甲骨文反映了夏商周时期高度发达的文明。根据图五、图六提供的信息，概述它们共同的历史价值。（4分）



图五 武王征商利簋及铭文 图六 刻有文字的甲骨文

（5）据《华阳国志·蜀志》记载，都江堰建成后，“水旱从人，不知饥馑。时无荒年，天下谓之‘天府’也”。2000年，都江堰被列入“世界物质文化遗产”名录。请说明其入选的理由。（4分）

【答案】

（1）北京人的头骨，前额低平，眉骨粗大，额骨突出，鼻骨扁平，嘴部前伸。（2分）旧石器时代。（2分）

（2）河姆渡原始居民使用耒耜进行农业种植，水稻是这一带的主要农作物；他们建造的房屋主要是干栏式建筑，上面住人，下面饲养家畜，既通风又防潮；他们还会制作陶器、玉器和乐器，会运用雕刻技术制作古朴的艺术品等。（评分说明：答出上述任意一点得2分，共4分。）

（3）图三：黄帝是传说中黄河流域部落联盟的首领。相传黄帝已能建造宫室，制作衣裳，挖掘水井，制造船只，发明弓箭和指南车等。（2分）这一部落联盟后来逐渐形成华夏族主干，因此后人尊崇黄帝为中华民族的“人文初祖”，每年海内外炎黄子孙都会到黄帝陵祭拜，增强了中华民族凝聚力。（2分）图四：中华民族是各民族长期融合发展而成（或中华民族由错居杂处的众多民族，在不断的交往、交流过程中逐渐融合而成）（2分）

（4）都是重要的实物史料：帮助我们了解商周时期的社会发展状况，都具有极高的史料价值；都是承载文字的工具等。（评分说明：答出上述任意一点得2分，共4分。）

（5）都江堰作为一座综合性水利枢纽，发挥出防洪、灌溉、水运等多方面的作用；建成之后，解决了洪水泛滥的问题，为农业丰收提供了有利条件，使得成都平原成为沃野；工程的修建重在疏导，维护了生态平衡，保护环境；修建工程中积累了经验形成了一套科学的治水和管水的方法，代表了当时世界先进的水利建筑工程水平；2200多年来，都江堰一直发挥着巨大的作用，在世界水利史上绝无仅有，充分反映出我国古代劳动人民的智慧等。（评分说明：从不同角度答出符合上述意思的任意两点得4分。）

【解析】

（1）根据所学知识可知北京人相貌特征及其生活时代。

（2）根据所问，河姆渡农耕居民生产生活状况从衣食住行用等方面来回答即可。

（3）第一小问回答出黄帝的相关知识即可，从黄帝发明和带来的影响入手。第二小问从材料出发“部落错居”、“渐化合以成一族之形”等可以得出答案。

(4) 考查文物的历史价值，可以从文物本身和所处时代进行分析。

(5) 可以从都江堰修建的作用和影响来入手进行分析。

【考点】早期人类代表北京人、原始农耕生活、原始传说、青铜器与甲骨文和战国时期的社会变化。

新东方  
XDF.CN  
太原新东方

新东方  
XDF.CN  
太原新东方

新东方  
XDF.CN  
太原新东方

新东方  
XDF.CN  
太原新东方

新东方  
XDF.CN  
太原新东方

新东方  
XDF.CN  
太原新东方