

2020~2021 学年第一学期八年级期中质量监测

历史试卷

(考试时间:下午2:30—4:00)

说明:本试卷为闭卷笔答,答题时间90分钟,满分100分。

题号	一	二	三	四	总分
得分					

一、单项选择题(本大题含15个小题,每小题2分,共30分)

题号	1	2	3	4	5	6	7	8	9	10	11	12	13	14	15
得分															

1. 史学家陈旭麓指出:“这场战争,自西方人1514年到中国起,是他们积325年窥探之后的一逞。对于中国来说,这场战争是一块界碑。它铭刻了中世纪古老的社会在炮口逼迫下走入近代的最初一步。”这场战争是指
 - A. 鸦片战争
 - B. 第二次鸦片战争
 - C. 甲午中日战争
 - D. 八国联军侵华战争
2. 1843年,中英双方在香港议定了160余种货物的税率,中国的关税税率较以前降低了许多。这些税率调整的主要依据
 - A. 世界市场自由竞争的现象
 - B. 遵循贸易平等互利的原则
 - C. 中英两国友好协商的结果
 - D. 《南京条约》中条款的规定
3. 下面年代尺中的时间表述正确的是

1840 1842 1856 1860 1894 1900
① ② ③ ④ (年)

 - A. ①处为18世纪中期
 - B. ②处为19世纪中期
 - C. ③处为18世纪晚期
 - D. ④处为19世纪初
4. 《天朝田亩制度》规定“……凡天下田,天下人同耕。此处不足,则迁彼处,彼处不足,则迁此处。凡天下田,丰荒相通。此处荒,则移彼丰处,以赈此荒处。彼处荒,则移此丰处,以赈彼荒处。”这反映了
 - A. 农民要求得到土地的愿望
 - B. 平均分配土地得以顺利推行
 - C. 当时中国历史发展的趋势
 - D. 极大地解放了农村的生产力
5. 学习历史必须分辨清史实和结论。下列属于历史结论的一项是
 - A. 1840年6月英军封锁珠江口
 - B. 俄国是近代史上割占中国领土最多的国家
 - C. 威海卫战役中丁汝昌自杀殉国
 - D. 清政府任命左宗棠为钦差大臣,督办新疆军务

6. 《申报》评论道:“中国自仿行西法以来,铁舰钢舰,其大倍于日本,其数亦多于日本,而又设机器局以制枪械,……十余年来,旧观顿改。”材料反映了当时中国

- A. 民用工业远超日本
- B. 海上交通运输业发达
- C. 旧式兵器全部淘汰
- D. 近代军事工业的发展

7. 下图是京师同文馆课程计划表,从中可看出洋务派创办新式学堂旨在

- A. 学习西方自然科学知识
- B. 宣传维新变法的思想
- C. 仿效西方的政治制度
- D. 培养翻译和科技人才

首年:认字写字。浅解辞句。讲解浅书。
二年:讲解浅书,练习文法。翻译条子。
三年:讲各国地理。读各国史略。翻译选编。
四年:数理启蒙。代数学。翻译公文。
五年:讲求格物。几何原本。……练习译书。
六年:讲求机器。微分积分。航海测算。练习译书。
七年:讲求化学。天文测算。万国公法。练习译书。
八年:天文测算。地理金石。富国策。练习译书。
……
至汉文经学,原当始终不已,故于课程并未另列。

8. 下列历史事件因果关系的表述,正确的是
 - A. 鸦片战争爆发是虎门销烟的导火线
 - B. 第二次鸦片战争战败导致太平天国运动
 - C. 《马关条约》的签订引发了公车上书
 - D. 八国联军侵华战争引发了义和团运动
9. 唐德刚在《从晚清到民国》中指出,“康有为是近代中国现代化运动这场‘接力赛’中,第一个‘接棒’跑其‘第二段’的短跑健将”。康有为在“第二段”的主要活动是
 - A. 查禁鸦片,虎门销烟
 - B. 力陈变法,推行维新
 - C. 建立组织,组织起义
 - D. 宣传科学,批判礼教
10. “神助拳,义和团,只因鬼子闹中原。……兵法艺,都学会,要平鬼子不费难。拆铁路,拔线杆,紧急毁坏火轮船……洋鬼子,尽除完,大清一统靖江山。”义和团这个揭帖宣传的主张是
 - A. 排斥西方文明成果
 - B. 通过武力将列强赶出中国
 - C. 武力推翻清朝统治
 - D. 相信降神附体,刀枪不入
11. 某班同学在进行专题复习时,整理了以下知识点,空缺处应填入

宣传思想	《革命军》《猛回头》
成立团体	光复会
成立政党	第一个资产阶级革命政党_____
组织起义	萍浏醴起义 广西起义 黄花岗起义

- A. 兴中会
 - B. 华兴会
 - C. 同盟会
 - D. 国民党
12. 孙中山将民族主义放在了三民主义的首位,把推翻清王朝同建立统一民族国家及共和制度相结合。这反映出三民主义
 - A. 适应了救亡图存的需要
 - B. 提出了明确的反帝口号
 - C. 推动新文化运动的开展
 - D. 代表维新派的思想要求
 13. 《新青年》主张写文章不应摹仿古人,写“八股文”而应该用自己的话写自己的文章。提倡用文白话文代替文言文。这反映了新文化运动
 - A. 提倡自由平等
 - B. 抨击封建礼教
 - C. 提倡民主科学
 - D. 倡导文学革命

14. 右面表格中的数据可以说明

- A. 军阀割据混战的原因
- B. 护国战争形势
- C. 军阀割据混战的后果
- D. 袁世凯复辟帝制

农户	1914~1918年	减少1500多万户
耕地	1914~1918年	减少2600多万亩
荒地	1914~1918年	增加4900多万亩
陆军	1914~1919年	增加92万多人
军费	1916~1918年	增加5000多万元

15. 对同类历史事件进行对比是学习历史的基本技能。下面两段材料描述的历史事件的共同影响是

辛亥革命推翻了统治中国两千年的君主专制制度,建立起共和政体。传播了民主共和理念,极大推动了中华民族思想解放,以巨大的震撼力和影响力推动了中国社会变革。

五四运动中,爱国青年和工人阶级为达到爱国的目的,高举民主与科学的旗帜,积极倡导民主和科学的精神,进而推动了全社会的思想大解放。

- A. 都通过武装斗争取得胜利
- B. 都是资产阶级性质的革命
- C. 都完成了反帝反封建的任务
- D. 都传播了自由民主的思想


二、简答题(本大题共16分)

16. 城市变迁是历史发展的缩影。根据要求,完成下面相关问题。

(1)【北京篇】下面两图记录了近代发生在北京的重大事件。请分别为图片反映史实做一简要介绍。(6分)

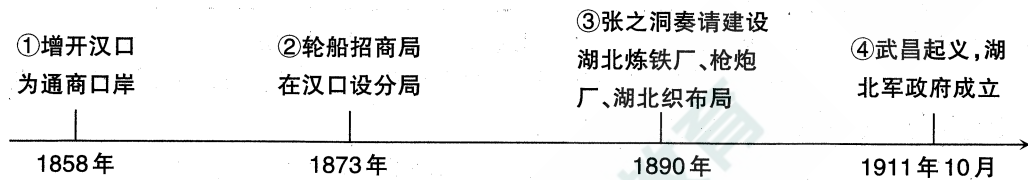


图一 圆明园遗址



图二 八国联军闯入紫禁城

(2)【武汉篇】写出下面年代尺上与①处内容有关的条约名称。②③处现象的出现有何积极意义? ④处的事件对历史产生了怎样的影响?(6分)



(3)【太原篇】阅读下面材料,把你从中提取到的信息写下来。(4分)

1882年,张之洞任山西巡抚期间,在山西设令德堂,书院聘请的讲师都是主张变通的,令德堂为山西培养了一大批“通省人才”。“通中西法”成为令德楷模。

1912年9月,孙中山来太原时发表讲话,他说:“去岁武昌起义,不半载竟先成功,此实山西之力,使非山西起义,断绝南北交通,天下事未可知也。……”

——摘编自《太原史话》

三、材料解析题(本大题含2个小题,17小题16分,18小题18分,共34分)

17. 鸦片战争后,中国面临的危局日益加深。根据下列材料,结合所学知识,回答问题。

材料一 “开放广州、福州、厦门、宁波、上海五处为通商口岸;割香港岛给英国;赔款2100万两;英商进出口货物应纳税款,必须经过双方协议。”

“清政府割辽东半岛、台湾全岛及所有附属各岛屿、澎湖列岛给日本,赔偿日本兵费白银2亿两;开放沙市、重庆、苏州、杭州为商埠,允许日本在通商口岸开设工厂。”

(1)材料一所述分别出自哪个条约? 分析这两个条约内容给中国社会带来的共同影响。(8分)

材料二 列强在华强租租借地和划分“势力范围”情况表

国别	强租租借地	“势力范围”
德国	胶州湾租借地	山东
沙俄	旅大租借地	长城以北、新疆、东北
法国	广州湾租借地	广东、广西、云南
英国	九龙租借地、威海卫租借地	长江流域
日本		福建

(2)根据材料二,简述出现这一历史现象的背景。(4分)

材料三 清政府赔偿白银4.5亿两,分39年还清,本息共计9.8亿两,以海关税、盐税等税收作担保;清政府保证严禁人民参加任何形式的反帝活动;清政府拆毁大沽炮台,允许外国军队驻扎在北京到山海关的铁路沿线要地;划定北京东交民巷为“使馆界”,由各国派兵驻守,不准中国人居住;改总理衙门为外务部,班列六部之前。

(3)根据材料三,说明《辛丑条约》签订后,清政府已经完全沦为“洋人的朝廷”。(4分)

18. 19世纪中期后,中国面临千古未有之大变局,中国人走上艰难的近代化探索道路。阅读下列材料,结合所学知识,回答问题。

材料一 尽管“师夷长技”的主张遭到强烈反对,但统治者面对着接踵而来、一次比一次严重的内忧外患,为生存计还是不得不实践这一主张。首先从军事利器的引进仿制,逐渐推广深入到全面学习西方机器大工业所需的科学技术学理的层次和阶段。

——雷颐《取静集》

材料二

1898年6月11日,清政府颁布“明定国是”诏书,宣布实行变法主要内容有:裁撤冗官,允许官民上书言事;鼓励私人兴办工矿企业,发展农业、工业、商业……

1912年3月11日颁布的《中华民国临时约法》规定:中华民国之主权属于国民全体。中华民国人民一律平等,无种族、阶级、宗教之区别。人民得享有下列各项之自由和权利……中华民国之立法权,以参议院行之。临时大总统、副总统享有行政权,司法独立。中华民国参议院对于临时大总统,认为有谋叛行为时,可决弹劾之。

材料三 新文化运动的发生,其对民主与科学的张扬,对封建礼教的批判,通过新的表达方式普及到社会和民间,使国人又接受了一次思想的洗礼,启蒙了他们的民主精神,增进了他们的科学意识,推动了他们的思想解放。

——整理自百度百科

(1)材料一中的“内忧外患”具体指的是什么?列举这一时期将“师夷长技”的主张付诸实践的具体举措。(4分)

(2)根据材料二,比较戊戌变法和辛亥革命的异同之处。(6分)

(3)根据材料三,简述新文化运动的历史意义。(4分)

(4)综上所述,归纳中国近代化历程呈现出的特点。(4分)

四、探究题(本大题共20分)

19. 八年级(1)班同学开展以“时代洪流”为主题的中国近代史的探究性学习。下面是第一小组同学根据搜集到的素材设计的学习任务单,请你一起完成相关学习任务。

任务一 【解读馆藏历史——见证时代足迹】(8分)

(1)图一呈现的标题是位于南京“太平天国博物馆”馆内简史陈列的内容。请按先后顺序把下列事件填写到对应的空白序号处。(只填字母6分)

A. 天京事变 B. 金田起义 C. 北伐西征

- ① _____
- ② 定都金陵
- ③ _____
- ④ _____
- ⑤ 挺进苏浙
- ⑥ 天京失陷

图一

总类	序言
平定粤寇纪略	官文序
第一册目录	卷一 道光三十年六月起至咸丰二年十二月止
	卷二 咸丰三年
	卷三 咸丰四年
	卷四 咸丰五年
	卷五 咸丰六年
	卷六 咸丰七年
	卷七 咸丰八年
	卷八 咸丰九年
	卷九 咸丰十年正月起到六月止

图二


(2)图二是馆内珍藏的《太平天国资料汇编》第一册目录。从目录看,这一汇编采用了哪种纪年方法?(2分)

任务二 【观察图片场景——分析时代局势】(8分)

(3)图三场景反映出当时中国面临了怎样的时代困局?简述图四、图五所反映历史史实之间的关系。



图三 袁世凯就任中华民国临时大总统后与北洋将领合影



图四 五四运动(绘画)



图五 北京高师被捕学生回校时受到热烈欢迎

任务三 【感受民族精神——倾听时代呐喊】(4分)

(4)从下面历史人物发出的呐喊声中体会到了怎样的民族精神?

林则徐:“苟利国家生死以,岂因祸福避趋之”
 邓世昌:“我立志杀敌报国,今死于海,义也,何求生为!”
 谭嗣同:“我自横刀向天笑,去留肝胆两昆仑。”
 孙中山:“吾志所向,一往无前;百折不挠,愈挫愈奋。”

中国的土地可以征服而不可以断送!
 中国的人民可以杀戮而不可以低头!
 国亡了!同胞起来呀!
 ——《北京学界全体宣言》