

2020~2021 学年第一学期高三年级期中质量监测

政治试卷

(考试时间:上午 10:00—12:00)

说明:本试卷分第 I 卷(选择题)和第 II 卷(非选择题)两部分,做题时间 120 分钟,满分 150 分。

第 I 卷(选择题 共 75 分)

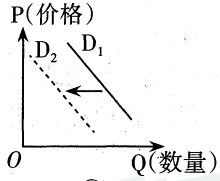
本卷共 30 小题,每小题 2.5 分,共 75 分。在每题给出的四个选项中,只有一项是符合题目要求的。请将正确答案填在下表相应位置。

题号	1	2	3	4	5	6	7	8	9	10	11	12	13	14	15
答案															
题号	16	17	18	19	20	21	22	23	24	25	26	27	28	29	30
答案															

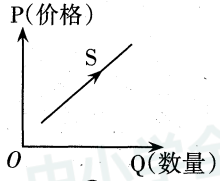
一、选择题(每题 2.5 分,共 30 题,共 75 分)

- 中国人民银行数字货币是一种基于区块链技术的全新加密电子货币体系。2020 年 8 月商务部出台的《全面深化服务贸易创新发展试点总体方案》提出:在京津冀、长三角、粤港澳大湾区及中西部具备条件的地区开展数字人民币试点。下列对数字货币认识正确的是
 - 数字货币将成为抑制通货膨胀的有效手段
 - 数字货币是以国家信用为担保的法定货币
 - 数字货币能简化收款手续,方便购物消费
 - 数字货币的发行量及购买力均由央行决定

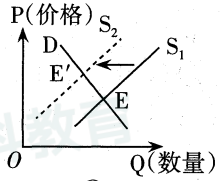
A. ①③ B. ①④ C. ②③ D. ②④
- 2020 年 4 月,财政部、工信部等部门联合发布《关于完善新能源汽车推广应用财政补贴政策的通知》,明确将新能源汽车推广应用财政补贴政策实施期限延长至 2022 年底。若不考虑其他因素,下列说法与图像对应正确的是(图中 S、D 分别表示供给和需求曲线,E 表示均衡价格)



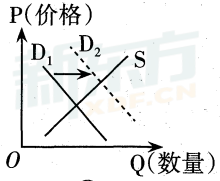
①



②



③



④

A. ①表示随着新能源汽车的普及,消费者对传统能源汽车需求变化
 B. ②表示随着新能源汽车市场发展,传统能源汽车的生产变化情况
 C. ③表示随着新能源汽车的需求增加,传统能源汽车均衡价格的变化情况
 D. ④表示随着新能源汽车市场占有率上升,传统能源汽车的市场变化情况

- 习近平总书记关于制止餐饮浪费行为的重要指示指出,要维护社会的稳定、经济的正常发展,就要高度关注粮食安全。减少粮食浪费,公民应当
 - 确保中国人的饭碗要始终牢牢端在中国人民手上
 - 增强节约粮食的意识,养成节约粮食的消费习惯
 - 组织协调粮食生产功能区的建设与保护开发工作
 - 养成健康文明生活方式,培育现代餐桌上的文明

A. ①③ B. ①④ C. ②③ D. ②④
- 2020 年,福建、青海以及广西这三个地区上调了最低工资标准。上调最低工资标准对经济社会发展有重要影响,下列分析正确的是
 - 社会保障水平提高→当前收入增加→消费水平提高
 - 社会收入差距缩小→收入预期增强→消费结构完善
 - 用工成本提高→企业裁员可能增多→失业率大幅提高
 - 用工成本提高→倒逼技术创新增强→劳动生产率提高
- 2020 年 4 月召开的中共中央政治局会议提出“六保”,即保居民就业、保基本民生、保市场主体、保粮食能源安全、保产业链供应链稳定、保基层运转,坚定实施扩大内需战略,维护经济发展和社会稳定大局。下列符合“六保”预期目标实现的措施是
 - 推进减税降费,激发市场主体内生活力
 - 发行特别国债,稳定基层政府的财政收入
 - 培育壮大新业态,优先安排大学生就业
 - 保障种粮基本收益,维护国家粮食安全

A. ①② B. ①④ C. ②③ D. ③④
- 党的十九届四中全会首次提出要“重视发挥第三次分配作用,发展慈善等社会公益事业”。第三次分配是指在道德、文化、习惯等影响下,社会力量通过民间捐赠、慈善事业、自愿行动等方式济困扶弱的行为,是对初次分配和再分配的有益补充。重视发挥第三次分配作用
 - 有利于缩小收入差距,助力实现共同富裕
 - 有利于发挥道德在社会分配中的基础作用
 - 需要在全社会培育积极健康的社会财富观
 - 需要政府加快推进基本公共服务均等统一

A. ①② B. ①③ C. ②④ D. ③④
- 2020 年我国金融业进一步落实支持实体经济的政策措施,助力市场主体纾困发展。今年以来,我国货币政策持续发力,上半年人民币贷款增加 12.09 万亿元,同比多增 2.42 万亿元。下列对银行助力经济发展解读正确的是
 - 大水漫灌,确保新增融资重点流向实体经济中的小微企业
 - 稳健的货币政策更加注重灵活适度,保持流动性合理充裕
 - 金融服务实体经济的质效持续提升,银行业盈利水平递增
 - 提高金融支持政策便利度满意度,扩大市场主体的受益面

A. ①② B. ①③ C. ②④ D. ③④

8. 2020年5月中共中央、国务院出台的《关于新时代加快完善社会主义市场经济体制的意见》提出,积极稳妥推进国有企业混合所有制改革。在深入开展重点领域混合所有制改革试点基础上,按照完善治理、强化激励、突出主业、提高效率要求,规范有序发展混合所有制经济。国有企业混合所有制改革

- ①要求增强国有资本的控制力,保持国有经济的主体地位
- ②要进一步优化企业的股权结构,建立健全现代企业制度
- ③有利于实现全体股东对债务承担无限责任,减轻债务负担
- ④有利于提高国有资本配置和运行效率,优化国有经济布局

A. ①② B. ①③ C. ②④ D. ③④

9. 2020年5月,全国两会特别报道《决胜2020》栏目中,财政部部长解读了积极的财政政策如何更加积极有为。下列对积极财政政策效果理解正确的是

- ①做好“加法”→发行抗疫特别国债→政府投资增加→提振市场信心
- ②做好“减法”→加大减税降费→企业融资成本降低→企业扩大生产
- ③做好“乘法”→坚持“提质增效”→提高财政资源的配置效率→改善民生
- ④做好“除法”→特殊转移支付机制→做好防范化解风险工作→扩大消费

A. ①③ B. ①④ C. ②③ D. ②④

10. 2020年是全国科技活动周举办20周年,今年主题为“科技抗疫、创新驱动”。网络“云展厅”向公众开放,集中展示科技战疫、科技创新、体验美好生活、服务脱贫攻坚等方面的内容。举办科技活动周

- ①坚持了按劳分配的原则,增加居民收入
- ②体现了国家对知识、科技、人才的尊重
- ③是对科技要素所有权存在合理性的确认
- ④有利于促进公众理解科学,支持科技创新

A. ①③ B. ①④ C. ②③ D. ②④

11. 新中国成立70多年特别是改革开放40多年以来,我国经济以世所罕见的速度发展壮大,创造了经济发展奇迹。这一奇迹的背后,是不断巩固和完善的社会主义基本经济制度的坚强保障。当前我国基本经济制度助推经济高质量发展的措施有

- ①坚持我国的生产资料所有制,实现各种所有制经济共同发展
- ②坚持我国的个人收入分配制度,提高劳动报酬在再分配中的比重
- ③充分发挥市场在资源配置中的决定性作用,更好发挥政府作用
- ④围绕“一个中心”,把推进需求侧结构性改革作为经济工作的主线

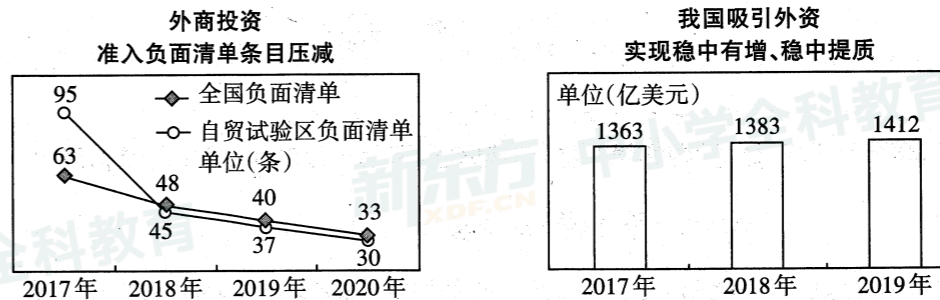
A. ①③ B. ①④ C. ②③ D. ②④

12. 1980年8月,全国人大常委会审议通过《广东省经济特区条例》,深圳经济特区正式建立。40年间,深圳经济特区发挥着对全国改革开放和社会主义现代化建设的重要窗口和示范作用,深圳人的生活也经历了从未有过的改变。示范作用具体表现为

- ①深化改革,以高水平对外开放打造国际合作和竞争新优势
- ②实现从建设中国特色社会主义先行示范区到经济特区的转变
- ③加快构建现代产业体系,打造竞争优势明显的千亿级产业集群
- ④把生态文明建设作为中心工作,健全生态建设和环境保护制度

A. ①② B. ①③ C. ②④ D. ③④

13. 2020年6月,国家发展改革委、商务部对外发布《外商投资准入特别管理措施(负面清单)(2020年版)》和《自由贸易试验区外商投资准入特别管理措施(负面清单)(2020年版)》。由下列两幅图可推断出



- ①自贸试验区负面清单调减幅度低于全国负面清单调减幅度
 - ②缩减外商投资准入负面清单以开放促进深层次的宏观调控
 - ③对外商投资实行准入负面清单管理制度促进开放水平提高
 - ④中国坚持为外国企业在华投资兴业提供更好的服务和环境
- A. ①② B. ②③ C. ①④ D. ③④

14. 2020年9月国新办新闻发布会指出,中国是2020年3月份以来全球主要服务贸易国中唯一增长的国家。前7个月,中国服务出口降幅小于进口降幅21.4个百分点,带动整体的逆差下降49.4%,中国知识密集型服务进出口1.15万亿元人民币,逆势增长8.9%,占服务进出口总额的比重达到44%,提升了9.7个百分点。这表明

- ①中国正逐步形成以服务等为核心的出口竞争新优势
 - ②中国要大幅减少服务进口以缩小服务贸易逆差
 - ③中国创新对外投资方式,加快实施“走出去”战略
 - ④中国推动开放朝加快转变方式和优化结构方向转变
- A. ①② B. ①④ C. ②③ D. ③④

15. “十三五”收官、“十四五”即将开启之际,加快形成以国内大循环为主体、国内国际双循环相互促进的新发展格局,是党中央积极应对国内国际环境变化的重大战略部署,是着眼于长远战略布局和经济可持续发展的深度谋划。下列符合新发展格局的措施有

- ①削弱传统产业链固有优势,注重新技术新业态的优化布局调整
 - ②发挥内需先动潜力优势,以区域规模优势带动国内大循环主体
 - ③以区域小循环带动国内大循环,促进国内国际双循环良性互补
 - ④畅通国内国际产业链可持续发展通道,成为经济增长的立足点
- A. ①② B. ①④ C. ②③ D. ③④

16. 2020年6月,国家主席习近平主持召开专家学者座谈会,强调人民安全是国家安全的基石,要构建起强大的公共卫生体系,为维护人民健康提供有力保障;强调疾病预防控制体系是保护人民健康、保障公共卫生安全、维护经济社会稳定的重要保障。要把增强早期监测预警能力作为健全公共卫生体系当务之急,完善传染病疫情和突发公共卫生事件监测系统。这表明

- ①我国奉行人民为中心的发展理念
 - ②人权高于主权,人权无国界之分
 - ③我国保障人民的生存权和发展权
 - ④任何人权都是无条件的和抽象的
- A. ①② B. ③④ C. ①③ D. ②④

17. 某小区通过智慧社区 App 与单元楼微信群携手共建美好家园。在这个 APP 和微信群里, 有左邻右舍、物业人员、居委会成员, 还有社区党员和党支部书记, 实现了全天候沟通, 方便居民积极参与到社区服务和品质监督中来。智慧社区 App 和单元楼微信群建设
- ①有利于政府坚持群众路线, 满足居民各项诉求
 - ②创新自治方式, 为社区治理提供政治制度保障
 - ③为居民表达诉求参与民主管理提供了技术平台
 - ④有利于党员密切联系群众, 发挥先锋模范作用
- A. ①② B. ①③ C. ②④ D. ③④
18. 2021 年开始实施“十四五”规划, 党中央正在组织制定“十四五”时期经济社会发展规划建议。根据习近平总书记重要指示精神和规划建议编制的法定程序, “十四五”规划编制工作开展网上征求有关方面对“十四五”规划的意见建议。这
- ①有利于公民通过社会公示制度积极参与民主监督
 - ②有利于公民通过社情民意反映制度参与民主决策
 - ③有利于党充分发扬民主、提高组织经济建设职能
 - ④体现党的领导、人民当家作主和依法治国的统一
- A. ①② B. ①③ C. ②④ D. ③④
19. 近年来, 山西省中阳县在车鸣峪乡推行诚信系统“积分制”, 通过试行诚信系统“积分制”, 从规范村民道德行为、提升依法治理水平入手, 初步形成了“自治、德治、法治”“三治融合”的新格局, 彰显了乡村治理新成效。这种“积分制”改革能
- ①维护公民权益, 丰富民主实践 ②扩大公民权利, 筑牢民主基础
 - ③确立政府管理与服务的职能 ④推进基层治理能力的现代化
- A. ①② B. ①④ C. ②③ D. ③④
20. 数字政务是推动公共服务和社会治理精细化、智能化的重要载体。当前, 政务区块链已经涵盖了数字身份、电子存证、电子票据、产权登记、工商注册等多个场景。在北京, 140 个政务服务上了链, 不少服务只需“最多跑一次”; 在深圳, 区块链电子证照应用平台已经整合了 100 多项高频政务服务事项。政府推动数字政务可以
- ①推动依法行政, 实现政府职能部门功能的最优化
 - ②推进政府转化职能, 提高自身的执行力和公信力
 - ③创新管理方式, 提高我国政府的管理和服务水平
 - ④健全中国特色社会主义行政体制, 提高服务效能
- A. ①③ B. ①④ C. ②③ D. ②④
21. 党的十九届四中全会专门对“坚持和完善党和国家监督体系、强化对权力运行的制约和监督”作出部署, 要求“强化政治监督, 加强对党的理论和路线方针政策以及重大决策部署贯彻落实情况的监督检查, 完善巡视巡察整改、督察落实情况报告制度”。推动政治监督旨在
- ①深化政治监督实践, 提升监督效率, 增强监督效果
 - ②精准落实党的政治领导, 推动国家治理体系现代化
 - ③强化社会监督, 方便公民更好地行使民主权利
 - ④回应群众关切, 提供法律依据, 依法减轻基层负担
- A. ①② B. ①④ C. ②③ D. ③④

22. 2020 年 6 月起, 《中华人民共和国基本医疗卫生与健康促进法》开始施行, 该法是我国卫生与健康领域第一部基础性、综合性的法律。内容涵盖基本医疗卫生服务、医疗卫生机构和人员、药品供应保障、健康促进、资金保障等方面内容, 凸显“保基本、强基层、保健康”的理念。该法的施行有利于
- ①尊重和保护公民健康权, 提高公民健康水平
 - ②彰显民主真实性, 维护公民基本的民主权利
 - ③推动医疗卫生改革发展, 推进健康中国建设
 - ④强化公民在基本医疗卫生服务中的主体责任
- A. ①③ B. ①④ C. ②③ D. ②④
23. 2020 年 6 月, 国务院办公厅印发《生态环境领域中央与地方财政事权和支出责任划分改革方案》。方案指出, 健全充分发挥中央和地方两个积极性体制机制, 适当加强中央在跨区域生态环境保护等方面事权, 优化政府间事权和财权划分, 建立权责清晰、财力协调、区域均衡的中央和地方财政关系, 形成稳定的各级政府事权、支出责任和财力相适应的制度。该方案的出台
- ①提高了政府在环境保护管理中的决策效率和管理水平
 - ②坚持了民主集中制原则, 科学合理划分中央与地方职权
 - ③完善了相关法律法规和管理制度, 拓宽政府的职能范围
 - ④促使政府依法正确履行职能, 实现公权力的合理配置
- A. ①② B. ②④ C. ①③ D. ③④
24. 2020 年 9 月 8 日, 为了隆重表彰在抗击新冠肺炎疫情斗争中作出杰出贡献的功勋模范人物, 弘扬他们忠诚、担当、奉献的崇高品质, 根据第十三届全国人民代表大会常务委员会第二十一次会议的决定, 授予钟南山“共和国勋章”, 授予张伯礼、张定宇、陈薇“人民英雄”国家荣誉称号。对功勋模范的表彰
- ①体现了全国人大常委会依法行使决定权
 - ②反映了国家主席依法行使最高决定权
 - ③表明了人大在党领导下依法行使职权
 - ④有利于宣传道德模范, 彰显时代新风
- A. ①② B. ①④ C. ②③ D. ③④
25. 获得“共和国勋章”的钟南山院士, 是一名 84 岁高龄的共产党员, 面对新冠疫情, 他挺身而出, 他的事迹感动着每一个中国人, 他的所作所为体现了对党忠诚、担当作为、心系群众的优秀品质。钟南山院士受到人民爱戴, 是因为他
- ①践行以人民为中心的思想, 体现了共产党员先进性
 - ②严守纪律, 公正执法, 传递共产党员的责任和担当
 - ③不忘初心, 为人民服务, 坚持立党为公、执政为民
 - ④信念坚定, 敢于担当, 发挥共产党员先锋模范作用
- A. ①③ B. ①④ C. ②③ D. ②④

第II卷(非选择题 共75分)

题号	31	32	33	34	35	合计
得分						

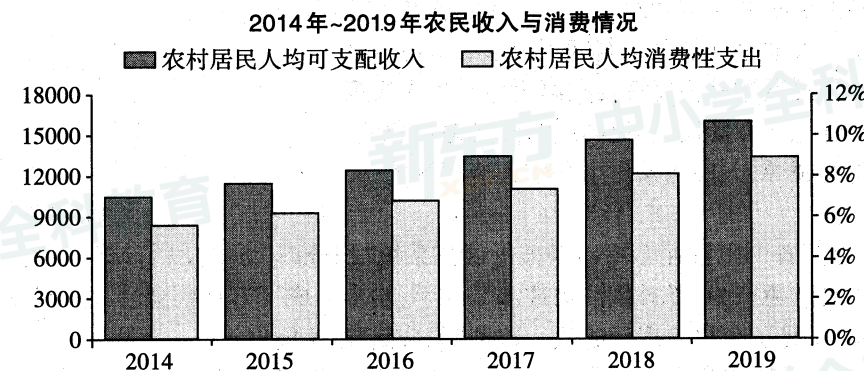
本卷共5大题,共75分。

二、非选择题(本题共5小题,共75分)

得分	评卷人

31. (12分)阅读材料,完成下列要求。

材料一



材料二 拓展农民增收渠道,国家多措并举。增强集体经济实力,目前全国有74.5%的村完成农村集体产权制度改革,2019年全国村集体经营收益超过5万元以上的村占到48.2%,比2016年提高23.2个百分点;扶持适度规模经营主体,支持现代农业设施、支持农产品深加工,促进一二三产业融合发展;加强农民职业技能培训,支持农民就近就业创业,拓展农民就业增收渠道;完善乡村产业发展用地保障政策,加强农户社会化服务、饮水安全工程和人居环境整治,持续改善农民生产生活条件。

(1)解读材料一包含的经济信息。(4分)

(2)结合材料并运用经济知识,说明促进农民增收的举措对农村经济社会发展产生的重要影响。(8分)

26. 1996年,党中央、国务院作出开展东西扶贫协作的重大战略决策,启动闽(福建)宁(宁夏)扶贫协作。闽宁对口扶贫协作按照“优势互补、互利互惠、长期协作、共同发展”方针,广泛深入地开展多种形式的扶贫协作。24年来,人才、资金、教育、科技等资源开始植入宁夏“肌体”,使近60万贫困群众直接受益。“闽宁协作”启示我们加快民族地区的发展需要

- ①坚持中国共产党的领导,统筹区域经济协调发展
- ②坚持民族平等原则,消除各少数民族之间的差异
- ③巩固社会主义的民族关系,坚持各民族共同繁荣
- ④发挥各地优势,优先维护贫困地区人口的各项权利

A. ①② B. ③④ C. ①③ D. ②④

27. 2020年6月,十三届全国人大常委会第二十次会议表决通过《中华人民共和国香港特别行政区维护国家安全法》,明确规定了香港特别行政区维护国家安全应当遵循的重要法治原则、香港特别行政区维护国家安全相关机构的职责与活动的准则,以及防范、制止和惩治四类危害国家安全的罪行等内容。制定香港国安法旨在

- ①拓展“一国两制”的法治基础,保持香港的繁荣稳定
- ②完善依法治港,推进国家治理体系和治理能力现代化
- ③扩大香港特区的职责范围,巩固特区的高度自治地位
- ④维护中央政府的权威,确保香港与内地法制的一致性

A. ①② B. ③④ C. ②③ D. ①④

28. 2020年2月起施行的《宗教团体管理办法》对宗教团体性质、组织机构、职能进行了规定。该办法指出,宗教团体是中国共产党和政府团结、联系宗教界人士和广大信教公民的桥梁和纽带。此办法有利于

- ①规范我国宗教团体管理,促进宗教团体健康发展
- ②发扬科学精神,弘扬和培育社会主义核心价值观
- ③坚持宗教的中国化方向,引导宗教与社会主义社会相适应
- ④做好民族地区的宗教工作,确保民族平等和民族团结

A. ①② B. ①③ C. ②④ D. ③④

29. 2020年5月,习近平主席在第73届世界卫生大会视频会议中指出,中国将在两年内提供20亿美元国际援助,中国将同联合国合作,在华设立全球人道主义应急仓库和枢纽等五大措施,呼吁各国携起手来,共同构建人类卫生健康共同体。我国的主张体现了

- ①中国支持联合国符合宪章精神的各项工作
- ②中国与国际社会的根本利益始终是一致的
- ③维护联合国的权威是中国外交活动的宗旨
- ④中国积极作为,展现负责任大国的国际形象

A. ①② B. ②③ C. ①④ D. ③④

30. 哈萨克斯坦是共建“一带一路”的首倡之地和先行先试地区。自2013年9月提出共同建设“丝绸之路经济带”以来,在两国领导人的亲自关心和引领下,中哈两国在“五通”领域合作迅猛推进,取得丰硕成果。中哈“丝绸之路经济带”建设

- ①有利于增强两国综合国力,提高国际地位
- ②有利于我国在国际事务中发挥主导作用
- ③需要尊重双方核心利益,为构建和谐世界提供新思路
- ④能有效引导沿线国家以和平的方式解决国际争端

A. ①② B. ①③ C. ②④ D. ③④

新东方 中小学全科教育 XDF.CN

得分	评卷人

32. (9分) 阅读材料, 完成下列要求。

2020年5月28日, 十三届全国人大三次会议表决通过了《中华人民共和国民法典》, 宣告中国“民法典时代”正式到来。民法典的制定, 开启了我国公民权利保护的新时代, 体现了人民需求, 保障了人民权益。民法典用权利本位构建起整部法典的逻辑主线, 必定能够更好地满足群众日益增长的美好生活需要。

例如: 将“保护生态环境”写入民法典的总则编, 有助于树立生态文明理念, 发挥环境保护职能, 协调经济发展与环境保护的关系; 再如, 民法典明确对个人信息的保护, 能够有效避免公民受到信息泄露的非法侵扰, 对维护正常的信息秩序和个人隐私具有现实意义。总之, 民法典的实施回应了群众的法治要求, 完善了我国法律体系, 有助于推进国家治理体系和治理能力现代化。

有人认为良法之下方有善治国家。结合材料, 运用政治生活知识分析“良法”和“善治”的关系。(9分)

得分	评卷人

33. (12分) 阅读材料, 完成下列要求。

长三角覆盖上海、江苏、浙江、安徽全域, 面积35.8万平方公里。长三角以不到4%的国土面积, 创造出中国近1/4的经济总量, 1/3的进出口总额、外商直接投资和对外投资, 成为中国经济发展最活跃、开放程度最高、创新能力最强的区域之一。如今, 上海综合服务功能齐全, 江苏实体经济基础好, 浙江民营经济活跃, 安徽科技创新后发优势明显, 区域经济深具活力……长三角坐拥上海张江、安徽合肥两个综合性国家科学中心, 全国约1/4的“双一流”高校、国家重点实验室、国家工程研究中心, 集成电路和软件信息服务产业规模分别约占全国1/2和1/3, 科技创新优势明显。从发轫于安徽凤阳小岗村的“大包干”, 到苏南模式、温州模式, 从浦东开发开放到启动上海自由贸易试验区……长三角在中国改革开放历程中书写了浓墨重彩的一笔。

结合材料, 运用经济生活知识, 分析长三角如何实现跨越式发展。(12分)

得分	评卷人

34. (20分) 阅读材料, 完成下列要求。

浙江安吉县余村是“绿水青山就是金山银山”理论的发源地。

材料一 青山叠翠、流水潺潺, 15年来, 在“绿水青山就是金山银山”的理念指导下, 从“矿山”到“青山”, 从“卖石头”到“卖风景”, 余村的绿水青山之路, 同时也是一条乡村善治之路。

20世纪八九十年代, 余村人靠着挖矿山、建水泥厂实现了生活富裕, 但这种方式导致了严重的资源破坏、环境污染问题。该村人敏锐地意识到问题的严重性, 2003到2005年间, 不但关停了矿山和水泥厂, 而且开始封山育林、保护环境, 依托“竹海”资源优势, 着力发展生态休闲旅游, 开农家乐、民宿, 办漂流, 让绿水青山源源不断地带来金山银山。该村2019年实现农村经济总收入2.796亿元, 农民人均收入49598元, 村集体经济收入达到521万元, 是远近闻名的全面小康建设示范村。

(1) 结合材料一, 分析余村取得成功的经济原因。(11分)

材料二 余村在绿色发展上成效显著, 乡村治理同样位居前列。

十几年来, 余村不断压实党建责任, 建强基层组织, 培育党员骨干, 形成了以农村党组织为核心, 以村民自治组织、集体经济组织为主体, 以群团组织和民间组织为补充的农村基层组织体系。目前, 余村已形成了民主恳谈、村“两委”商议、党员审议、村民代表决议和乡贤评议的议事决策传统, 探索出一套“自主提事、按需议事、约请参事、民主评事、跟踪监事”的议事机制。余村村规民约不仅上了墙, 关键还落了地, 成为全村人的自觉行为, 村民还根据各自家风, 制定了家规, 或以竹匾, 或以书法的形式悬挂在家中醒目位置, 提醒每位成员时刻谨守家规家训, 弘扬美好家风。

(2)结合材料二和政治生活知识,分析余村在乡村治理方面的成功经验给我们的启示。(9分)

材料二 支持企业家心无旁骛、长远打算,以恒心办恒业,扎根中国市场,深耕中国市场。党的十八大以来,一场广泛而深刻的“放管服”改革在神州大地激荡开来。国家层面大刀阔斧推进,大幅削减行政审批事项,彻底终结非行政许可审批,尽量压缩企业开办时间;地方政府因地制宜进行探索,如“最多跑一次”“一门式一网式”等,同时推进实施智慧监管,进一步完善以“双随机、一公开”监管为基本手段,以重点监管为补充,以信用监管为基础的新型监管机制,创造了许多好经验好做法;深化商事制度改革,优化营商环境,减税降费等措施,使企业负担得到大幅减轻。各级政府以断腕之痛打开市场活力之门,为建设人民满意的服务型政府交出了亮丽成绩单。

(2)结合材料二,运用政治生活知识,说明如何建设服务型政府增强市场主体活力。(12分)

得分	评卷人

35. (22分)阅读材料,完成下列要求。

2020年7月21日,中共中央总书记、国家主席、中央军委主席习近平在北京主持召开企业家座谈会并发表重要讲话。

材料一 市场主体是我国经济活动的主要参与者、就业机会的主要提供者、技术进步的主要推动者,在国家发展中发挥着十分重要的作用。在这次企业家座谈会上,国家主席习近平充分肯定企业家群体所展现出的精神风貌,明确提出了“增强爱国情怀”“勇于创新”“诚信守法”“承担社会责任”“拓展国际视野”等五点希望,丰富和拓展了企业家精神的时代内涵,为新形势下弘扬企业家精神提供了思想和行动指南。努力推动市场主体成为新时代构建新发展格局、建设现代化经济体系、推动高质量发展的生力军。

(1)结合材料一,运用经济生活知识,谈谈企业家落实五点希望对推动经济高质量发展的作用。(10分)

弥 封 线 内 不 要 答 题