

山西中考模拟百校联考试卷(一)

文科综合
道德与法治

注意事项:

1. 文科综合由历史和道德与法治两部分组成,满分 150 分,考试时间 150 分钟。其中道德与法治部分采用开卷考试,分第 I 卷和第 II 卷,全卷共 6 页,满分 75 分,考试时间 70 分钟。

2. 答卷前,考生务必将自己的姓名、准考证号填写在本试卷相应的位置。

3. 答案全部在答题卡上完成,答在本试卷上无效。

4. 考试结束后,将本试卷和答题卡一并交回。

第 I 卷 选择题 (共 36 分)

一、选择题(在每小题的四个选项中,只有一项最符合题意,请选出并在答题卡上将该项涂黑。本大题共有 12 小题,每小题 3 分,共 36 分)

1. 2020 年 10 月 26 日至 29 日,中国共产党第十九届中央委员会第五次全体会议在北京举行。下列全会的内容中,今后将作为国家发展战略支撑的是


- A. 科技自立自强
- B. 2021 年起,我国经济社会发展进入新发展阶段
- C. “十三五”时期,经济实力、科技实力、综合国力跃上新的台阶
- D. 到 2035 年基本实现社会主义现代化远景目标

2. 博览五千年,塑造当代贤。中华文化积淀着中华民族最深层的精神追求,代表着中华民族独特的精神标识,为中华民族的伟大复兴提供精神动力。下列做法与名言古语的文化价值对应不一致的一项是

- A. 我劝天公重抖擞,不拘一格降人才——我省引进具有高级专业技术职务任职资格或博士学位的人员及其他紧缺专业人才时,可采取直接考核的方式确定拟聘用人选
- B. 言有物而行有格也——两名在国外务工的中国籍男子,在新冠病毒核酸检测为阳性后,购买伪造的核酸检测阴性证明,向使馆申领绿色健康码,违规搭乘飞机回国
- C. 道之以德,齐之以礼,有耻且格——一名小男孩跟着爷爷坐地铁时,无意间“逃票”,爷爷发现后,对小男孩进行了严肃批评,最后让他重新刷卡进站

D. 大学之道,在明明德,在亲民,在止于至善——小明受到启发,决心努力学习,不断提高自己的思想道德水平,多做善事、公益之事

3. 一切有劳动能力的公民有劳动就业和取得劳动报酬的权利,这是公民赖以生存的基础。下列图片中,不能直接体现保障公民这一权利的是



A

B

C

D

4. 民法典实施后,我国现行婚姻法、继承法、民法通则、收养法、担保法、合同法、物权法、侵权责任法、民法总则同时废止。民法典的颁布适应了时代发展需要,回应了当今社会的现实需求。这说明

- A. 这些法律与道德、纪律及其他法律一样,都属于社会规则
- B. 社会规则是人们为了维护有秩序的社会环境,在逐渐达成默契与共识的基础上形成的
- C. 我国法律的本质是体现最广大人民群众的根本利益,是一种特殊的行为规则
- D. 规则不是一成不变的,需要随着社会的发展和社会生活的变迁,加以调整和完善

5. 诚信是社会主义核心价值观在公民个人层面的一个价值准则,是一种道德规范和品质,是中华民族的传统美德,也是一项民法原则。因此,我们应该这样理解诚信

- ①诚信是公民个人层面的价值准则,教育引导全靠国家
- ②诚信是一种道德规范和品质,践行落实需要自我约束
- ③诚信是中华民族的传统美德,美德需要自觉继承
- ④诚信是一项民法原则,更强调人们在家庭、学校生活中讲信用、守诺言

- A. ①②
- B. ②③
- C. ①④
- D. ③④

6. 变与不变

刀削面是山西人最幸福的味道,随着时代的发展,刀削面的制作也出现了变化(如下图)。但不管制作方法有多大变化,刀削面带给山西人家乡的味道,是永远不可磨灭的记忆。这说明

- ①变化的是制作方法,不变的是爱家乡、爱祖国的浓厚情感
- ②制作方法的变化,一定程度上体现了对传统文化的创造性转化、创新性发展
- ③变化的是制作方法,不变的是浓浓的乡情乡味,其实是对中华文化重要组成部分——饮食文化的强烈认同感
- ④创新是引领发展的第一动力



- A. ②③④
- B. ①③④
- C. ①②③
- D. ①②③④

7. 习近平总书记在纪念中国人民志愿军抗美援朝出国作战 70 周年大会上的讲话中指出:70 年来,我们始终没有忘记谱写了气壮山河英雄赞歌的中国人民志愿军将士,以及所有为这场战争胜利作出贡献的人们。我们始终没有忘记这些英雄人物的意义是

- ①有利于人民铭记历史,缅怀革命前辈,展望未来,努力奋斗
 - ②有利于营造崇尚英雄、学习英雄、争做英雄的社会氛围,榜样的力量是无穷的
 - ③有利于高举和平发展的旗帜,共同构建人类命运共同体
 - ④有利于继承和弘扬中华民族精神,践行社会主义核心价值观等
- A. ①②③④ B. ①②③ C. ②③④ D. ①②④

8. 下列漫画中,能体现民主建设和法治政府建设的是



- 甲 乙 丙 丁
- A. 甲、丁 B. 乙、丙 C. 甲、乙 D. 丙、丁

9. 关于我国的政治和经济制度,同学们有如下理解,其中认识有误的是

- A. 基本经济制度中公有制为主体、多种所有制经济共同发展,是由按劳分配为主体、多种分配方式并存决定的,社会主义市场经济体制适用于任何经济形式
- B. 根本政治制度是人民代表大会制度,由人民代表大会产生的国家机关依法行使各自的职权,比如监察委员会依照法律规定独立行使监察权
- C. 基本政治制度包括三项,人民调解、治安保卫、公共卫生等委员会是依据基层群众自治制度设立的
- D. 这些政治和经济制度的形成与落实,为我国政治稳定、经济发展、人民幸福提供了保证

10. 王爱兵一家是奋斗的一家。王爱兵通过小学、初中、高中的努力学习,终于考上了心仪的大学。看了征兵宣传片后,他便应征入伍,成为一名光荣的士兵。他的爸爸退役后成为一名预备役军人,与参加民兵组织的妈妈共同开了一家公司,被评为依法纳税光荣户。从材料中,我们可以概括出

- A. 王爱兵与父母都自觉履行了依法服兵役的义务
- B. 王爱兵的父母因依法纳税而获奖,享受了纳税和荣誉等权利
- C. 王爱兵在成长过程中,先后享受到了受教育、劳动、生命健康等权利
- D. 王爱兵全家都享有选举权和被选举权等政治权利

11. 智斗

当未成年人面对歹徒行凶时,常有三种应对之法:一是忍气吞声,任其侵害;二是与歹徒进行殊死搏斗;三是与歹徒斗智斗勇,利用社会力量将其抓获。下列四位同学对三种方法的判断与分析合理的是

同学	方法选择	判断分析
甲	第一种办法	正确,否则可能会危及自己的生命或对自己带来身体伤害
乙	第二种办法	正确,否则可能会助长歹徒行凶的恶行或嚣张气焰
丙	第三种办法	正确,这样既能抓住歹徒,使其受到应有惩罚,又可以保全自己和他人生命及财产安全
丁	第三种办法	正确,虽然未成年人保护法设置了家庭保护等六种保护,但我们首先要做好自我保护,然后与歹徒斗智斗勇

- A. 甲、乙 B. 乙、丙 C. 丙、丁 D. 甲、丁

12. 黄文秀同志在研究生毕业后,回到家乡广西百色扶助贫困村担任第一书记。她为村民引进当地特产砂糖橘种植技术,教村民网络销售。短短两年时间,全村脱贫 88 户。共产党员刘发英是一名小学教师,不论在山区小学还是县城小学,她都坚持通过互联网为贫困学生们募集爱心助学,托起了 3000 多名贫困孩子的读书梦。

从材料中可以总结出的“战贫”经验主要有

- ①经济扶贫,因地制宜发展特色产业,如种植当地特产砂糖橘
 - ②均衡发展,实施乡村振兴战略,促进区域协调发展
 - ③教育扶贫,扶贫先扶智,提高人口素质,如贫困山区支教、发动社会力量助学
 - ④科技扶贫,引进科学技术,促进经济发展,如引进技术、网络销售
- A. ①②④ B. ①③④ C. ②③④ D. ①②③

第 II 卷 非选择题 (共 39 分)

二、简答题(本大题有 4 小题,共 19 分)

13. 基础知识填空。(每空 1 分,共 7 分)

- (1)全国人大常委会制定《中华人民共和国海警法》,体现了法律 ▲ 的特征。
- (2)最近大葱又涨价了,这能体现出 ▲ 在资源配置中起决定性作用。
- (3)中学生的学习,除了在课堂上、书本中学习外,还需要在 ▲ 中学习。

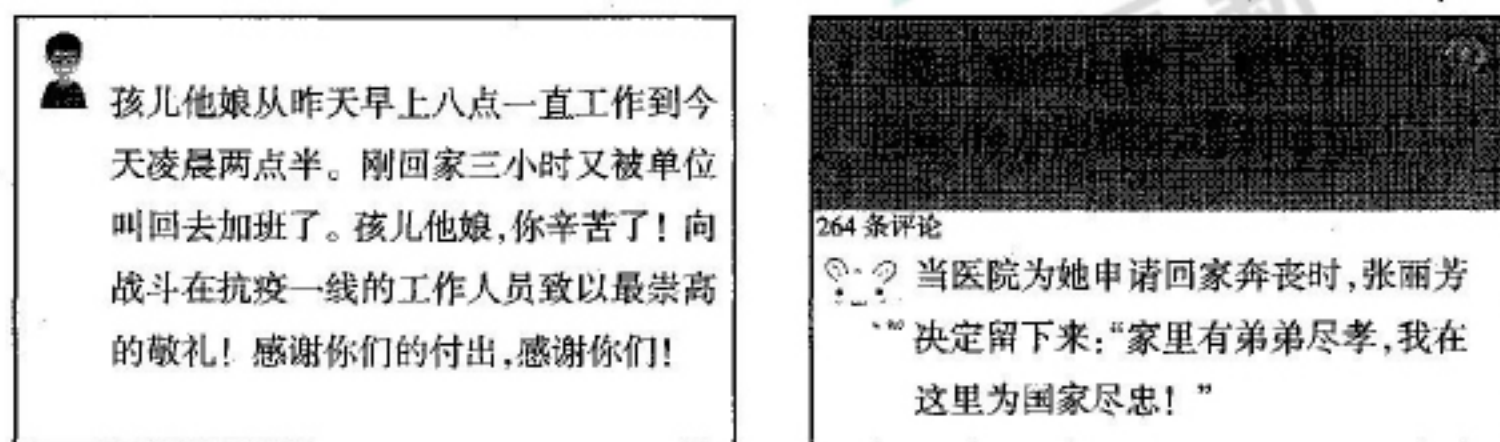
(4)网络交往具有的特点主要有 ▲ 。

(5)认识自己很重要,我们可以通过 ▲ 和 ▲ 两种途径来认识自己。

(6)因新冠肺炎疫情防控寒假提前,小英因怕耽误学习而心烦。在老师的指导下,小英发现寒假正好培养自己自主学习的能力,还可以补补弱科,便高兴地投入新的学习。这是运用了 ▲ 法调节自己的情绪。

14. 石家庄人的朋友圈,我看哭了……

看到石家庄网友发的两条朋友圈,直白的文字,让人眼眶瞬间一热……



你认为这两条朋友圈看哭无数人的原因有哪些?(4分)


15. 2021年1月25日,国家主席习近平以视频方式出席世界经济论坛“达沃斯议程”对话会,并发表题为《让多边主义的火炬照亮人类前行之路》的特别致辞。习近平强调,解决好这个时代面临的课题,出路是维护和践行多边主义,推动构建人类命运共同体。

21世纪的多边主义要守正出新、面向未来,既要坚持多边主义的核心价值和基本原则,也要立足世界格局变化,着眼应对全球性挑战需要。要坚持开放包容,坚持以国际法为基础,坚持协商合作,坚持与时俱进。中国将继续积极参与国际抗疫合作、实施互利共赢的开放战略、促进可持续发展、推进科技创新、推动构建新型国际关系,向着构建人类命运共同体不断迈进!

习近平在达沃斯论坛上的致辞说明了什么?(4分)

16. 高温为啥比低温冷?

地理课上,老师在讲完“气温”的相关知识后,许多同学很困惑:天气预报昨天是 -2°C ,微风;今天是 2°C ,4-5级西北风。但大家都感觉今天更冷。经讨论,一致认为天气预报出错了。小明在认真思考探究后,提出了自己的见解——天气预报没有错,是因为有风才使大家感觉上更冷,并用右图进行了分析,老师因此表扬了小明。



小明的哪些地方值得我们学习?(4分)

三、分析说明题(8分)

17. 制止餐饮浪费,守护“舌尖文明”

学校的食堂、各大小饭店、城乡居民区的垃圾桶中,到处能看到被扔掉的食物。为了解决全省餐饮浪费的重点难点问题,提出具有山西特色的立法对策,为反浪费提供法治保障,山西省十三届人大常委会第二十二次会议于2021年1月15日表决通过

《山西省预防和制止餐饮浪费规定》(以下简称《规定》)。

(1)从宪法的法律效力看,《规定》能够审议通过的基本要求是什么?(2分)

(2)请根据材料,并结合实际,谈谈你对我省制定这一《规定》的看法。(6分)

四、实践探究题(12分)

18. 中国共产党第十九届中央委员会第五次全体会议听取和讨论了习近平受中央政治局委托作的工作报告,审议通过了《中共中央关于制定国民经济和社会发展第十四个五年规划和二〇三五年远景目标的建议》(以下简称《建议》)。


山西某中学九年级(2)班“时政学习兴趣小组”,计划以此为专题,自主设计编辑《时政学习报》进行宣传工作,请你参与进来,一起完成。

(1)兴趣小组的同学可以通过哪些方式搜集关于“十四五”时期经济社会发展的主要目标?(1分)

(2)在编者按栏目,编者准备以“展望‘十四五’学子勇担当”为题目,写一篇“编者按”,请你把应该用到的主要观点写出来供参考。(2分)

(3)栏目一:“十三五 大成就”。有同学计划在本栏目插入两幅画,来体现《建议》中表达的“污染防治力度加大,生态环境明显改善”的成就。

①请从下图中选出符合本主题要求的两幅画。(1分)



②你认为这一成就得益于我国坚持哪些基本国策、发展战略和发展理念?(2分)

(4)栏目二:“开好局 起好步”。《建议》指出:坚持党的全面领导,坚持和完善党领导经济社会发展的体制机制,坚持和完善中国特色社会主义制度,不断提高贯彻新发展理念、构建新发展格局能力和水平,为实现高质量发展提供根本保证。

①材料中为什么强调必须坚持党的全面领导?(2分)

②材料中提到要“坚持和完善中国特色社会主义制度”,请你列举两项制度并说明其优越性。(2分)

(5)栏目三:“民主法治更健全”。《建议》指出:国家治理效能得到新提升,社会主义民主法治更加健全。你认为实现“十四五”规划的目标,社会主义民主法治更加健全有什么作用?(2分)

山西中考模拟百校联考试卷（一）

文科综合（道德与法治）答题卡

姓名 _____ 准考证号

考生禁填

缺考考生，由
监考员用2B铅笔填
涂下面的缺考标记



缺考标记

注意事项

1. 答题前，考生先将自己的姓名及准考证号填写清楚，并认真核对条形码上的姓名及准考证号。
2. 选择题必须使用2B铅笔填涂；非选择题必须使用0.5毫米的黑色笔迹签字笔书写，字体工整、笔迹清晰。
3. 请按照题号顺序在各题目的答题区域内作答，超出答题区域书写的答案无效；在草稿纸、试卷上答题无效。
4. 保持清洁，不要折叠，不要弄破、弄皱，不准使用涂改液、修正带、刮纸刀。

正确填涂

样例



贴条形码区

一、选择题

- | | | |
|---|--|--|
| 1 <input type="checkbox"/> A <input type="checkbox"/> B <input type="checkbox"/> C <input type="checkbox"/> D | 6 <input type="checkbox"/> A <input type="checkbox"/> B <input type="checkbox"/> C <input type="checkbox"/> D | 11 <input type="checkbox"/> A <input type="checkbox"/> B <input type="checkbox"/> C <input type="checkbox"/> D |
| 2 <input type="checkbox"/> A <input type="checkbox"/> B <input type="checkbox"/> C <input type="checkbox"/> D | 7 <input type="checkbox"/> A <input type="checkbox"/> B <input type="checkbox"/> C <input type="checkbox"/> D | 12 <input type="checkbox"/> A <input type="checkbox"/> B <input type="checkbox"/> C <input type="checkbox"/> D |
| 3 <input type="checkbox"/> A <input type="checkbox"/> B <input type="checkbox"/> C <input type="checkbox"/> D | 8 <input type="checkbox"/> A <input type="checkbox"/> B <input type="checkbox"/> C <input type="checkbox"/> D | |
| 4 <input type="checkbox"/> A <input type="checkbox"/> B <input type="checkbox"/> C <input type="checkbox"/> D | 9 <input type="checkbox"/> A <input type="checkbox"/> B <input type="checkbox"/> C <input type="checkbox"/> D | |
| 5 <input type="checkbox"/> A <input type="checkbox"/> B <input type="checkbox"/> C <input type="checkbox"/> D | 10 <input type="checkbox"/> A <input type="checkbox"/> B <input type="checkbox"/> C <input type="checkbox"/> D | |

二、简答题

13. (1) _____ (2) _____

(3) _____ (4) _____

(5) _____ (6) _____

14. _____

15. _____

16. _____

请在各题目的答题区域内作答，超出黑色矩形边框限定区域的答案无效

考号：

姓名：

班级：

学校：

请在各题目的答题区域内作答,超出黑色矩形边框限定区域的答案无效

三、分析说明题

17.(1)

(2)

四、实践探究题

18.(1)

(2)

(3) ①

②

(4) ①

②

(5)

请在各题目的答题区域内作答,超出黑色矩形边框限定区域的答案无效