

山西中考模拟百校联考试卷(一)

文科综合 历史

注意事项:

1. 文科综合由历史和道德与法治两部分组成, 满分150分, 考试时间150分钟。其中历史部分分第I卷和第II卷, 全卷共8页, 满分75分, 考试时间70分钟。
2. 答卷前, 考生务必将自己的姓名、准考证号填写在本试卷相应的位置。
3. 答案全部在答题卡上完成, 答在本试卷上无效。
4. 考试结束后, 将本试卷和答题卡一并交回。

第I卷 选择题 (共30分)

一、选择题(在每小题的四个选项中, 只有一项最符合题意, 请选出并在答题卡上将该项涂黑。每小题2分, 共30分)

1. 社科院版《中国通史》记载:“鲁国(今山东曲阜), 是周公长子伯禽的封地, 原来商朝重要的属国奄国所在, 奄国也是周公东征的主要讨伐对象之一。鲁国的受封主要是为了加强对东夷的控制。”此材料说明
 - A. 分封制的对象是宗亲和功臣
 - B. 分封的主要目的是巩固统治
 - C. 西周只在商朝故地进行分封
 - D. 周公创立了西周的分封制度
2. 文物是鲜活的历史, 是今人了解古代历史的重要渠道。有关下列文物的说法, 正确的是



图一 司母戊鼎



图二 “汉并天下”瓦当



图三 着汉服的北魏文官俑



图四 契丹鸡冠壶

- A. 图一代表西周时期青铜制造水平
- B. 图二见证了西汉政府设西域都护
- C. 图三是北魏时期民族交融的体现
- D. 图四反映了契丹制瓷业高度发达

3. 成语是中华文学宝库中的重要组成部分, 许多成语的来源与我国古代著名战役有密切的关系。下列成语与战役的搭配正确的是

- A. 围魏救赵——城濮之战
- B. 纸上谈兵——长平之战
- C. 草木皆兵——巨鹿之战
- D. 破釜沉舟——赤壁之战

4. 列表法是历史学习中常用的方法, 通过列表可以把同类型史实或者人物进行归纳总结。小李同学以“中国古代科学家”为主题制作了下面的知识简表, 从中可以得出

| 姓名 | 时代 | 主要成就 |
|-----|----|--------------------------------|
| 张仲景 | 东汉 | 广泛收集民间药方, 写成《伤寒杂病论》 |
| 贾思勰 | 北朝 | 总结了农、林、牧、副、渔等方面的生产技术, 撰写《齐民要术》 |
| 宋应星 | 明朝 | 整理各地的农业和手工业生产技术和经验, 编著《天工开物》 |
| 李时珍 | 明朝 | 搜集和整理了800多种医药书籍, 编著《本草纲目》 |

- A. 中国古代科技多居于世界前列
 - B. 科技成就大多源于实践经验
 - C. 科技著作由政府统一组织编写
 - D. 科学家勇于创新钻研的精神
5. 清政府与西方列强签订的不平等条约, 以《辛丑条约》为界可分为两个阶段。前一阶段涉及开埠通商和割地等条款; 后一阶段列强要求清政府镇压中国人民的反帝斗争。这一变化说明
- A. 列强由经济侵略转为政治侵略
 - B. 中国领土已经被列强瓜分完毕
 - C. 清政府已完全沦为洋人的朝廷
 - D. 列强进入商品输出为主的阶段
6. 史料的表现形式多种多样。下图是川军战士王建堂在出征前由其父王者诚赠送的“死”字旗, 据此判断, 与这份史料相关的战争是



我不愿你在近前尽孝, 只愿你在民族分上尽忠。
 国难当头, 日寇狰狞。国家兴亡, 匹夫有责。本欲服役, 奈过年龄。幸吾有子, 自觉请缨。赐旗一面, 时刻随身。伤时拭血, 死后裹身。勇往直前, 勿忘本分。

- A. 鸦片战争
- B. 北伐战争
- C. 抗日战争
- D. 解放战争

7. 19世纪中后期,在中国出现了一批新式学堂(如下表),这说明

- A. 科举制度已经被废除
- B. 新式教育取代儒学地位
- C. 西方文化成社会主流
- D. 教育出现近代化趋势

| 时期 | 学堂名称 |
|---------|-----------|
| 洋务运动时期 | (北京)京师同文馆 |
| 甲午中日战争后 | (天津)北洋西学堂 |
| | (上海)南洋公学 |
| 百日维新时期 | (北京)京师大学堂 |

8. 某班准备举办先进人物的事迹展览,搜集到以下一组图片,请为这组图片拟定一个合适的主题



邓稼先



王进喜



焦裕禄



雷锋

- A. 艰苦创业年代的楷模
 - B. 国防建设领域的模范
 - C. 改革开放时期的标兵
 - D. 科技战线前沿的先锋
9. 在雅典担任陪审员的公民,有不少是年老的退伍公民。伯里克利时期规定,在进入法院大厦之前,授给每个陪审员一根出庭杖和一枚证章,凭证可以领受两个欧布尔的津贴。对材料解读正确的是
- A. 津贴制度只针对年老退伍的雅典公民
 - B. 每一个雅典人都有权利参加公民大会
 - C. 担任陪审员是每一个雅典公民的义务
 - D. 津贴制度有利于提高公民的参政热情
10. 15世纪东西方虽都开启了海上探索之路,但差异明显。下面材料反映出东西方这两个航海活动

郑和所率的船队,满载着中国的优质丝绸、精美瓷器、上等茶叶和漆器等各类物品。这些物品有的用于慷慨送礼,展现大国风度,发展相互之间的友好关系;有的用于贸易,互通有无,互补互利。

哥伦布希望探索出一条通往东方的新航路,找到马可·波罗所描述的黄金、珠宝和香料之国。他曾说过:“谁占有黄金,谁就能获得他在世上所需的一切。”他明白地表露过,在追求黄金和传播宗教之间,更侧重于前者。

- A. 目的不同
 - B. 条件不同
 - C. 范围不同
 - D. 影响不同
11. 阿萨·勃里格斯在《英国社会史》中写道:“从这条污浊的排水管中,排出人类工业的最大一股潮流去滋润全世界;从这条肮脏的下水道中,流淌出纯金。在这里,人类的发展成就既是最完备的,又是最野蛮的。”对这段话理解最准确的是
- A. 工业革命创造了巨大的社会财富
 - B. 工业革命加剧殖民掠夺
 - C. 工业的发展带来了环境污染问题
 - D. 工业革命是一把双刃剑

12. 第一次世界大战结束后,德国外交部长西蒙斯说:“必须对敌人的策略有所估计,敌人当中,一些人想挤牛奶,另一些人想割牛的头,那些想挤牛奶的人将会同我们达成协议。”显然这里的“牛”指的是德国,那么与其“达成协议”是指

- A. 签署《凡尔赛条约》
 - B. 签订《九国公约》
 - C. 成立国际联盟
 - D. 成立欧洲联盟
13. 下列各项内容来自于某历史公众号推送的一个学习资源包。由此可知,该期推送的历史主题是
- ①论文:《论二战后资本主义的发展》
 - ②图片:《社会主义的改革》
 - ③视频:《美苏冷战》
 - ④地图:《亚非拉的独立运动》
- A. 两极对峙格局的初步形成
 - B. 二战后世界的变化与发展
 - C. 二战后政治格局的多极化
 - D. 经济全球化的发展趋势

太原市某校开展了以“山西近代历史风云”为主题的研究性学习。下面是同学们搜集的活动资料,请你运用所学知识完成第14~15题。

14. 同学们走进太原市漪汾公园,拍摄到下面照片,并听导游简介记录了如下文字。根据下面的学习成果,可以得出



太原市漪汾公园徐继畲雕塑蒙的序幕。

徐继畲是山西五台县人,晚清名臣、学者,著有《瀛寰志略》一书,比较全面地介绍了当时世界各洲各国的疆界位置、物产风俗、历史沿革等情况,为人们认识世界提供了丰富的世界史地知识。该书还充分肯定了近代资本主义方式,对后来的洋务运动、戊戌变法都产生了深远影响,拉开了中国近代思想启

- A. 徐继畲是中国近代开眼看世界的第一人
 - B. 徐继畲是中国近代洋务运动的主要领导人
 - C. 《瀛寰志略》对中国近代化进程产生深远影响
 - D. 《瀛寰志略》主张中国发展西方资本主义制度
15. 为弘扬我市历史文化、发掘红色资源,陪伴了太原人近70年的城市地标太原五一广场正在全面改造,其中北广场将复建“首义门”纪念辛亥革命太原起义的功勋,南广场设一组主题为“伟大的开端”反映八路军北上抗日的纪念群雕,它们将成为英雄太原、文化太原的载体和坐标。下列可以作为五一广场改造的历史依据是
- A. 戊戌变法中山西人杨深秀以身殉法
 - B. 洋务运动中山西创办了令德堂书院
 - C. 中共在百团大战中光复了省城太原
 - D. 辛亥革命时山西积极响应武昌起义

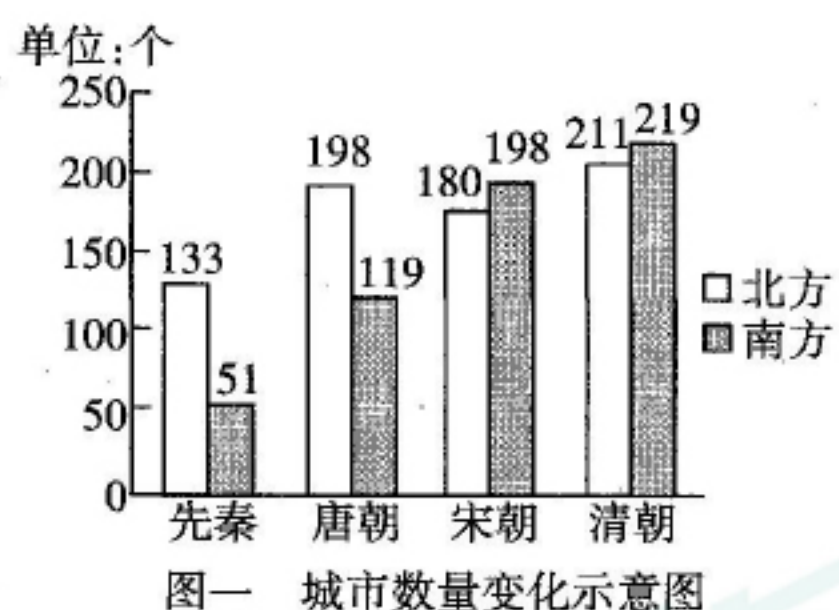
历史

第Ⅱ卷 非选择题 (共45分)


二、简答题(本大题共10分)

16. 城市地区的发展犹如一本书,每一页都记述着人类发展的历程。根据下面图文信息,回答问题。

(1)【古代兴衰】城市变迁反映了历史的兴衰。下列数据反映出我国南北方城市的发展有何特点?并分析其原因。(3分)



(2)【近代风云】武汉见证了中国近代历史的风云变幻。分别写出下面两幅照片反映的历史事件及其积极影响。(4分)



图二 1890年创建的汉阳铁厂

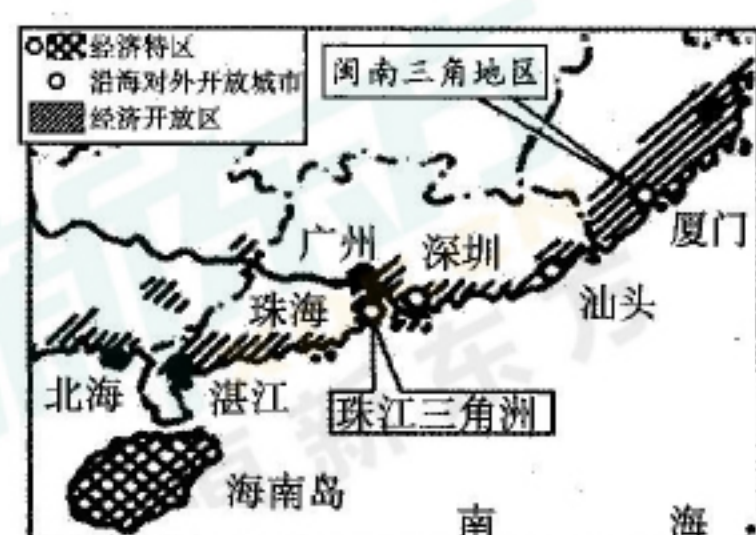


图三 1911年成立的湖北军政府

(3)【现代发展】区域经济发展折射时代脉搏。结合史实简述图四、图五中经济区域规划出现的历史背景,并归纳它们的共同之处。(3分)



图四 “一五”计划部分成就分布示意图



图五 沿海地区对外开放局部示意图

三、材料解析题(本大题含两小题,每小题10分,共20分)

17. 成功的改革推动国家发展。阅读下列材料,结合所学知识,回答问题。

材料一 1870年,在德国的街头,这位铁血宰相(俾斯麦)偶然遇到了两群东方人:……那个小国的人来到德国以后,翻译典籍和制度。那个天朝大国的人来到德国以后,大部分在学做生意、挣钱。铁血宰相说,30年内那个东方的岛国必将成为强国,而那个东方的天朝大国必将成为弱国,后者必将受前者的欺凌。

——周熙明《丘吉尔的名言与俾斯麦的一个预言》

(1)材料一中的“天朝大国”和“东方岛国”分别指哪两个国家?并用史实说明你对材料中画线部分这一观点的理解。(4分)

材料二 俄罗斯现代化的第一个高峰发生在十八世纪初以后的彼得大帝至叶卡捷琳娜时期……第二个高峰发生在亚历山大二世统治时期,1861年改革是当下受到高度关注的一次自由主义导向的改革……

——冯绍雷《普京和俄国政治》

(2)材料二中,推动俄国出现两个现代化高峰的历史事件分别是什么?并简述它们对俄国现代化进程的影响。(4分)

材料三 20世纪八九十年代是中苏两国重要转型期,中国构筑了有自身民族特色的现代化道路和政治现代化模式。苏联的改革则造成了动荡的政治、经济秩序,引发了苏共领导权的丧失和国家制度的崩溃,致使国家走向解体。中苏两国改革虽同为社会主义国家的改革,却出现了完全不同的结局。

——摘编自钟鸣《20世纪80年代中苏政治现代化进程的比较分析》

(3)根据材料三,分析20世纪八九十年代中苏两国改革出现不同结果的原因。(2分)

18. 近代以来欧美国家的兴衰更替承载过去,也昭示未来。阅读下列材料,结合所学知识,回答问题。

材料一 英国曾是世界上最为先进的国家,率先进行了资产阶级革命。光荣革命后,随着议会主权原则的确立,英国人在君主立宪的政体之下确立了议会主权的原则。英国所创建的这种新型政治制度,终究营造出一种相对宽松的政治环境,使英国能够有充足的精力投身于经济发展和海外扩张,为走向强盛创造了条件,成为新时代的领头羊。

——摘编自刘金源《论近代英国霸权崛起的几个要素》

材料二 200多年前,北美是英国的殖民地,200多年后,英国却成了美国的小兄弟。美国的崛起有多方面的原因。作为后起的资本主义国家和最大的移民国家,美国从世界上吸纳了大量的先进技术和优秀劳动力资源;欧洲列强在两次世界大战中的衰弱赐予美国成为世界头号强国的历史机遇。

——摘编自刘德斌《国际关系史》

材料三 人们在描述二战后的资本主义世界时,常常使用“欧洲的衰落”这样的提法……欧洲的衰落是相对19世纪它高居世界政治经济军事优势地位的“黄金时代”而言。现在的衰落并不意味着它没有发展与进步。欧洲,或者说资本主义发达的西欧,仍是当今世界的重要基地,它的作用在资本主义世界体系中不可或缺。

——据刘宗绪《历史学科专题讲座》

(1)根据材料一,概括英国成为“新时代的领头羊”的表现。(2分)

(2)根据材料二,指出英国与美国国际地位的变化,并分析变化原因。(3分)

(3)概括材料三中作者所持的观点,并结合史实说明这一观点。(3分)

(4)综合上述材料,从欧美国家发展进程中可以汲取哪些历史经验?(2分)

四、探究题(本大题共15分)

19. 创新发展是人类历史永恒的主题,在危机中育新机、于变局中开新局。王老师以“危机与新机”为主题设计了下面的学习任务单,请你一起参与完成相关学习任务。

任务一 【解读史料——开创统治新局面】(4分)

(1)阅读下面两则史料,简述公元前3世纪的秦朝和罗马分别面临怎样的统治危机,并结合史实说明两国是如何开创统治新局面的。

(秦统一后)丞相绾(王绾)等言:“诸侯初破,燕、齐、荆地远,不为置王,毋以填之。”……廷尉李斯议曰:“……今海内赖陛下神灵一统,皆为郡县,……则安宁之术也。置诸侯不便。”

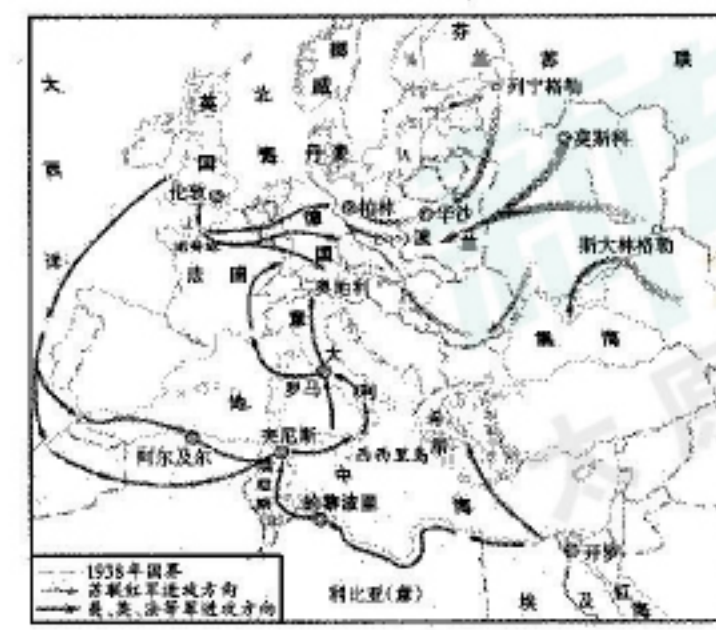
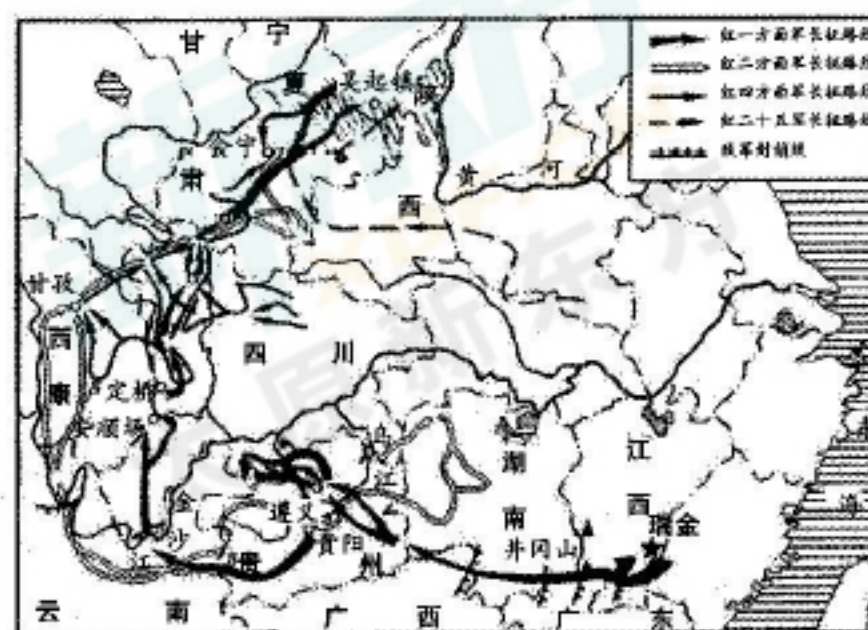
——《史记·秦始皇本纪》

罗马社会在不断强大以后,开始对外扩张,罗马市民与外国人之间的商贸及其他交往不断加强,而随着交往的频繁,矛盾在所难免,在解决问题时所适用法律的矛盾同样十分尖锐……

——《罗马法的借鉴价值》

任务二 【释读地图——开辟战争新局面】(4分)

(2)结合史实,阐述下面两场军事行动分别是如何开辟战争新局面的。



图一 中国工农红军长征路线示意图 图二 1943年—1945年欧洲、北非战场示意图

任务三 【以史为鉴——应对人类新挑战】(7分)

(3)2020年,一场突如其来的新冠肺炎疫情影响了人类社会发展的节奏,没有一个国家可以独善其身。让我们从人类历史的长河中汲取智慧,请以“挑战·应对”为题,写一篇150字左右的小短文。(提示:可以从下面的关键词中任选三个)

罗斯福新政 26国华盛顿会议 联合国 世界贸易组织 抗美援朝

山西中考模拟百校联考试卷（一）

文科综合（历史）答题卡

姓名 _____

准考证号

| | | | | | | | | | | | |
|--|--|--|--|--|--|--|--|--|--|--|--|
| | | | | | | | | | | | |
|--|--|--|--|--|--|--|--|--|--|--|--|

考生禁填

缺考考生，由
监考员用2B铅笔填
涂下面的缺考标记



缺考标记

注意事项

1. 答题前，考生先将自己的姓名及准考证号填写清楚，并认真核对条形码上的姓名及准考证号。
2. 选择题必须使用2B铅笔填涂；非选择题必须使用0.5毫米的黑色笔迹签字笔书写，字体工整、笔迹清晰。
3. 请按照题号顺序在各题目的答题区域内作答，超出答题区域书写的答案无效；在草稿纸、试卷上答题无效。
4. 保持清洁，不要折叠，不要弄破、弄皱，不准使用涂改液、修正带、刮纸刀。

正确填涂 样例



贴条形码区

一、选择题

- 1 A B C D
2 A B C D
3 A B C D
4 A B C D
5 A B C D

- 6 A B C D
7 A B C D
8 A B C D
9 A B C D
10 A B C D

- 11 A B C D
12 A B C D
13 A B C D
14 A B C D
15 A B C D

二、简答题

16.(1) _____

(2) _____

(3) _____

三、材料解析题

17.(1) _____

(2) _____

(3) _____

请在各题目的答题区域内作答，超出黑色矩形边框限定区域的答案无效

考号：

姓名：

班级：

学校：

