

秘密★启用前

文科综合

注意事项:

1. 答卷前,考生务必将自己的姓名、准考证号等填写在答题卡和试卷指定位置上。
2. 回答选择题时,选出每小题答案后,用铅笔把答题卡上对应题目的答案标号涂黑。如需改动,用橡皮擦干净后,再选涂其他答案标号。回答非选择题时,将答案写在答题卡上,写在本试卷上无效。
3. 考试结束后,将本试卷和答题卡一并交回。

一、选择题:共35小题,每小题4分,共140分。在每小题给出的四个选项中,只有一项是符合题目要求的。

全国地理信息特色小镇位于浙江省湖州市德清县莫干山国家高新区内。小镇的地理信息产业仅用了4年时间,就从当初的零基础发展到目前的300多家相关企业,国内地理信息行业巨头纷纷在此设立子公司。据此完成1、2题。



1. 小镇的地理信息产业得以迅速发展的主要优势是

A. 技术水平高	B. 生活成本低
C. 交通条件优	D. 产业集聚好
2. 小镇的潜力在于对“地理信息+”的拓展,未来可以利用该镇产品或技术的是

A. 无人驾驶技术	B. 特色小镇的评定
C. 优选培育良种	D. 垃圾分类和回收

海洋牧场是基于海洋生态学原理,在一定海域内,采用规模化渔业设施和系统化管理体制,利用自然的海洋生态环境设置的人工渔场,其主要目的是确保作为渔业生产基础的水产资源稳定和持续增长。海南省三亚海洋牧场是我国第一个位于热带地区的海洋牧场,将打造具有国际影响力和地域特色的海洋牧场品牌。据此完成3~5题。

3. 海南省三亚建设海洋牧场首要考虑的因素是

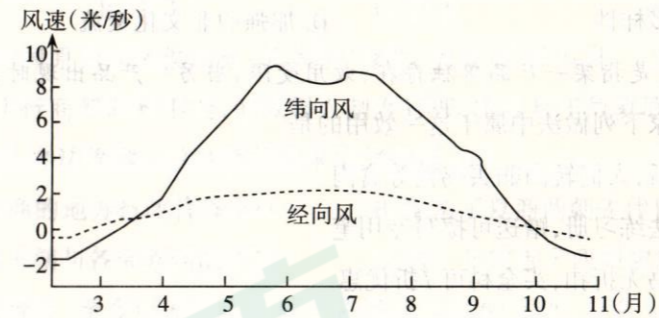
A. 投入产出比	B. 科学技术	C. 环境承载力	D. 市场需求
----------	---------	----------	---------

4. 从长远来看,与粗放式海水养殖相比,三亚海洋牧场可

A. 实现水产品多元化	B. 恢复海洋原生环境
C. 减轻海洋自然灾害	D. 缓解耕地资源紧张
5. 海南省三亚海洋牧场的特色定位是

A. 娱乐休闲	B. 渔业养殖
C. 综合牧场	D. 生态修复

孟加拉湾位于赤道以北,印度半岛和中南半岛之间,是印度洋北部的一个海湾。下图示意孟加拉湾3~11月多年平均经、纬向风的变化。经向风速大于0代表南风,小于0代表北风;纬向风速大于0代表西风,小于0代表东风。据此完成6~8题。




6. 孟加拉湾经、纬向风的变化特征是

A. 纬向风比经向风平均风速小	B. 西风和南风持续的时间较长
C. 纬向风比经向风风速变化小	D. 东风转西风同时南风转北风
7. 10月~次年3月孟加拉湾经、纬向风的形成原因是

A. 亚洲高压减弱	B. 气压带风带的季节移动
C. 印度低压增强	D. 海陆热力性质差异显著
8. 孟加拉湾风向变化对沿岸地区带来的影响是

A. 河流径流量季节变化大	B. 耕地复种指数较高
C. 中南半岛台风灾害频发	D. 印度半岛西岸多雨

肯尼亚山是东非大裂谷最大的死火山,位于肯尼亚中部的赤道上,最高海拔5199米。近年来,中科院中-非联合研究中心的科学家对肯尼亚山的生物多样性进行了研究。下图示意肯尼亚山植被带的俯视分布。据此完成9~11题。



9. 肯尼亚山植被带的分布特点是
- A. 基本呈半环状分布
B. 低海拔处不同坡向差异明显
C. 东坡比西坡带谱多
D. 随海拔升高植被带数量减少
10. 随海拔升高不同坡向植被带差异减小的原因是
- A. 山体面积减小
B. 人类干扰减少
C. 水分交换减少
D. 热量差异减小
11. 中科院中-非联合研究中心研究肯尼亚山植被带的生态价值是
- A. 认识地理环境规律
B. 合理开发利用资源
C. 保护生物的多样性
D. 加强中非文化交流
12. 所谓补充效用,是指某一产品单独存在,效用受限;当另一产品出现时,彼此的效用会同时提升。商家下列做法中属于这一效用的是
- ①牛羊肉涨价后,人们转向购买鸡鸭等禽肉
②在商家买书法练习册,赠送可擦写专用笔
③买一科辅导书无折扣,买全科可7折优惠
④打印机免费送,专用墨盒却适当提高价格
- A. ①③
B. ②④
C. ②③
D. ①④
13. 2020年11月14日,江西首个万亩智慧农场发布活动在南昌县蒋巷镇举行,通过机械化、信息化、智能化的深度融合,给农业插上科技的翅膀,让农民更“慧”种地。据悉,该农场11450亩稻田,只要26个职业农民就能够实现全部生产种植。发展智慧农场能够
- ①增加农产品价值量,保障国家粮食安全
②提高农业经济效益,助力乡村振兴
③保障农民合法权益,加速城乡一体进程
④培育新型职业农民,推动现代农业发展
- A. ①③
B. ①④
C. ②③
D. ②④
14. 少则几十元,多则上千元,有的人退税已经入账;有的人前期预缴税额不足,需要补缴一笔税款……日前,2020年个税综合所得汇算清缴在各地陆续启动。纳税人需在指定日期前完成个税汇算申报,继而缴纳补税或申请退税。这一税收政策
- ①可以避免对一个环节重复征税
②能够促进纳税人自觉诚信纳税
③有利于缓解国家财政支出压力
④体现税收强制性、固定性特征
- A. ①②
B. ①③
C. ③④
D. ②④

①

15. 与传统基建相比,“新基建”更加关注5G、人工智能、工业互联网、物联网等底层信息技术的应用。2020年,新冠肺炎疫情催生了“无接触”经济的需求,直播带货、直播网课、远程办公、远程医疗……“新基建”提供的应用场景立下了汗马功劳。“新基建”
- ①可以促进新兴产业发展,带动上下游产业发展
②能够促进社会公平正义,调节和优化资源配置
③可以带动实体经济振兴,成为经济发展的基点
④能够增强市场创新活力,为生产发展提供动力
- A. ①③
B. ①④
C. ②③
D. ②④
16. 在2020年疫情防控财政资金和捐赠款物审计中,S省审计厅结合对慈善总会、红十字会等单位的审计情况,分析研判被审计单位管理中的风险点、薄弱环节,系统梳理出5类23项风险隐患,督促相关部门单位排查风险、做好防范。此举有利于
- ①完善民主监督形式,健全监督体系
②推动规范管理,服务经济社会发展
③降低监督成本,提高社会监督效率
④提升行政监督效能,建设有为政府
- A. ①②
B. ①③
C. ②④
D. ③④
17. 2020年全国两会期间,民进中央带来《关于完善网络教育体系提升重大疫情应对能力的提案》指出,疫情期间“停课不停学”面临的困难之一是网络学习准备不足、网上教育资源不足、良莠不齐,教育内容、授课水平差异较大等。民进中央建议,应构建服务于全民终身学习的教育资源体系。民进中央提案
- ①有利于促进党和国家决策的科学化和民主化
②能够发挥其自身优势,参与国家方针政策的决定
③是政协委员按法定程序向国家权力机关提出议案
④聚焦社会热点,围绕人民群众切身利益建言献策
- A. ①②
B. ②③
C. ①④
D. ③④
18. 2020年10月12日,国家主席习近平同中非合作论坛非方共同主席国塞内加尔总统萨勒就中非合作论坛成立20周年共致贺电。习近平和萨勒指出,中非双方愿继续秉持团结合作精神,共同应对各类风险挑战,让中非合作成为多边主义和互利共赢的典范,为捍卫国际公平正义作出积极贡献。这从一个侧面体现了
- ①中国和非洲各国致力于建设睦邻友好的关系
②中国和非洲各国是具有共同利益的结盟关系
③我国政府根据时代发展潮流作出的战略选择
④和平共处五项原则是我国对外关系基本准则
- A. ①②
B. ①④
C. ②③
D. ③④

Ⓐ

19. 在紫禁城建成600年之际,故宫博物院根据观众需求,发布了“云游故宫”线上服务平台与“数字故宫”小程序。近百万用户通过数字平台即时获取故宫资讯,足不出户地“云游”紫禁城,“走进”故宫展厅,尽情感受故宫文化的魅力。这表明
- ①有价值的文化创造源于文化传播载体的变革
②现代技术手段能给观众带来更好的参与体验
③与现代科技融合丰富了故宫文化的基本内涵
④传播方式的创新能够增强故宫文化的影响力
- A. ①② B. ②③ C. ②④ D. ③④
20. 2020年9月8日,全国抗击新冠肺炎疫情表彰大会在京隆重举行。习近平总书记向国家勋章和国家荣誉称号获得者颁授勋章奖章并发表重要讲话,明确提出了“生命至上、举国同心、舍生忘死、尊重科学、命运与共”的伟大抗疫精神。抗疫精神
- ①是维系民族生存和发展的精神纽带
②阐明全国抗“疫”斗争的精神实质
③赋予中华民族精神以新的时代内涵
④为抗“疫”取得胜利奠定物质基础
- A. ①② B. ②③ C. ①④ D. ③④
21. 1838年,德国人施莱登和施旺基于显微观察提出19世纪最重大的自然科学发现——细胞学说。随后,人们发现生物体的一切生命现象都是细胞活动的体现。不幸的是,“一切生物学法则皆有例外”。20世纪早期发现的病毒,没有被直接定义为生命,却能通过感染细胞表现出基本生命特征。这一发现让至高无上的“细胞学说”走下神坛。材料说明
- ①对客观事物的正确认识必然要经历多次否定
②人们对客观事物的认识受社会实践水平限制
③真理是具体的,在特定阶段人们无法获得真理性的认识
④认识发展永无止境,要求我们在实践中追求和发展真理
- A. ①② B. ①③ C. ②④ D. ③④
22. 新中国成立初期,某县林木绿化率不到0.3%,一年到头,黄风肆虐,粮食产量极低,严重威胁当地群众生存。70多年来,该县坚持植树造林,截至2019年底该县林木绿化率已达56%,创造了将“不毛之地”变成“塞上绿洲”的生态奇迹。该县的做法
- ①说明了人为事物的联系都符合客观规律
②遵循了生态规律促进地区生态良性循环
③使自在事物的联系变成人为事物的联系
④正确处理了眼前联系和长远联系的关系
- A. ①③ B. ②④ C. ②③ D. ①④

23. 从“民生福祉达到新水平”的“十四五”时期发展目标,到“人均国内生产总值达到中等发达国家水平,中等收入群体显著扩大”的2035年远景目标,无不紧紧围绕不断满足人民日益增长的美好生活需要这条主线,这是中国共产党始终不渝的奋斗目标,也是中国发展前行的根本动力。这蕴含的价值观道理是
- ①正确的价值判断是人类社会历史发展的基础
②价值判断的正确性依赖于价值选择的合理性
③价值观对改造世界的活动具有重要导向作用
④把人民群众的根本利益作为最高的价值标准
- A. ①② B. ①③ C. ②④ D. ③④
24. 西周初年,齐国原为商诸侯故地,姜太公“修政,因其俗,简其礼,人民多归齐”;卫康叔治理卫国,实行商朝旧政不变,但以周人制度管理;唐叔封于故夏墟,“启以夏政,疆以戎索”,用戎人办法管理。这些诸侯国采取的措施
- A. 承袭了夏商的地方行政管理制度 B. 保留了夏商两朝先代贵族的实力
C. 缓解了周王朝与各部族间的矛盾 D. 进一步完善了西周初年的分封制
25. 据考古发现统计,至今已发现的东汉牛耕图遗迹有60多处,分布于许多地区,北到辽宁、内蒙古,西到新疆、甘肃,南到四川、贵州、广东、福建,东到山东、江苏等地。这说明当时
- A. 男耕女织的小农经济已经成熟 B. 精耕细作的农耕经济逐渐推广
C. 各地的经济发展水平基本持平 D. 豪强地主兼并土地得到了抑制
26. 北宋时期,官吏大多由中央政府按才学标准和官职资历加以任命,中央的中高级官员大都具有长期的地方工作经验,他们依资历自州县幕职官至知县、通判、知州逐级升进。该现象
- A. 是“重文轻武”政策的产物 B. 体现了官僚体制的自我完善
C. 导致了宋代官僚队伍膨胀 D. 表明基层治理能力逐渐弱化
27. 明朝的东林学派提出了“天下之是非,自当听之天下”“天下非一人之天下,乃天下人之天下”的主张,把百姓看作是社会的主体。这一主张的提出
- A. 否定以孔子的思想作为是非标准 B. 动摇了南宋以来程朱理学的地位
C. 背离了先秦民贵君轻的思想传统 D. 受到明后期社会矛盾激化的影响
28. 1862年,总理衙门设立京师同文馆,招收八旗少年入馆学习。初设英文馆,不久增设俄文馆、法文馆,1872年又增设德文馆,甲午战后更增设日文馆。这些语种的增加从侧面反映出
- A. 洋务派引进了西方政治教育 B. 外国侵略势力在中国的扩张
C. 封建统治集团内部开始分化 D. 同文馆学员普遍接受新思想

29. 1919年11月出版的《浙江新潮》杂志《发刊词》中说,浙江“为全世界全人类的一部分,我们因为环境的关系,不得不谋一部分人类的发展,以助全人类的发展”;1920年初创刊的《北京大学学生周刊》在《发刊词》上宣布,“中国是世界的单位”,所以“凡有利于一国而不利世界者不为”。据此可知,五四时期的先进知识分子

- A. 在国内广泛宣传社会主义思想 B. 开始关注人类发展面临的问题
C. 超越了狭隘的民族和国家立场 D. 以全球视角审视中国对外政策

30. 1941年5月,陕甘宁边区政府颁布了《陕甘宁边区施政纲领》,指出“依据民族平等原则,实行蒙回民族与汉族在政治、经济、文化上的平等权利,建立蒙回民族的自治区,尊重蒙回民族的宗教信仰与风俗习惯”。这一政策

- A. 是中共处理民族关系的有益探索 B. 宣告少数民族自治区的正式建立
C. 打破了日伪军对边区的严密封锁 D. 表明边区政府属于工农民主政权

31. 下表为改革开放后我国农村经济发展状况简表。据此可知,农村经济体制改革

乡镇企业	1990年前后	
	工业总产值占全国比重33%	利润265.3亿元,超过了国有企业利润
从事农业的劳动力	1978年	1988年
	占全国劳动力总数的比例为70.7%	占全国劳动力总数的比例为59.5%

- A. 使乡镇企业成为国民经济的支柱 B. 推动农村工业化基本实现
C. 使农业总产值超过其他产业总值 D. 加速了农村城镇化的进程

32. 《十二铜表法》规定:“凡占有土地(包括房屋)二年,其他物品一年的,即因时效取得所有权。”罗马法学家盖尤斯对此指出,罗马人“为了公共利益创设了取得时效,以便使某些物的所有权不致长期地并几乎永久地处于不确定状态”。这一规定

- A. 强调法律的公平公正 B. 关注社会的公益事业
C. 旨在保护私有财产权 D. 使平民利益受到侵害

33. 右图为16世纪德国画家丢勒创作的《圣希罗尼穆斯·霍尔茨舒尔像》。画中人物的每一部分都画得非常细致:炯炯有神的双眼,棕色皮毛大衣,头上闪光的金发。该作品



- A. 具有浓郁的人文主义气息
B. 体现了印象派的艺术特点
C. 彻底打破教会的思想枷锁
D. 集中体现了理性主义思想

①

34. 1917年12月9日,全俄农民苏维埃举行第二次代表大会,在布尔什维克党和左派社会革命党的共同努力下,战胜了社会革命党的反对,决定同工兵苏维埃合并。22日,布尔什维克党又同左派社会革命党达成联合组阁的协议,7名左派社会革命党人进入人民委员会。布尔什维克党的这些作为

- A. 巩固了新生的苏维埃政权 B. 得到了资产阶级大力支持
C. 充分体现了社会主义性质 D. 解决了不同派别间的矛盾

35. 2005年,欧盟向中国鞋企征收16.5%的反倾销税。之后中国154家鞋企积极抗辩和申诉,一审败诉。但奥康公司认真研究欧盟《反倾销法》,继续上诉,2012年欧盟高等法院宣判奥康胜诉。这反映了

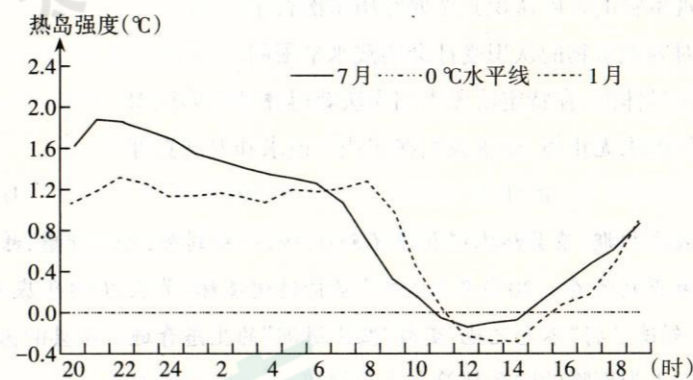
- A. 国际经济秩序发生了根本变化 B. 经济全球化趋势出现逆转迹象
C. 发展中国家的权利得到了维护 D. 遵循规则是经济全球化的保障

二、非选择题:本大题包括必考题和选考题两部分。第36~42题为必考题,每个试题考生都必须作答。第43~47题为选考题,考生根据要求作答。

(一)必考题:共135分

36. 阅读图文材料,完成下列要求。(24分)

城市热岛是指城区气温明显高于外围郊区的现象,是城市气候最显著的特征之一。近年来随着汉中城市化进程的加快、城镇企业迅速发展以及人口密度的快速增加,导致城乡温差增大,城市热岛效应日益严重。下图示意2009~2018年汉中市热岛强度日变化。

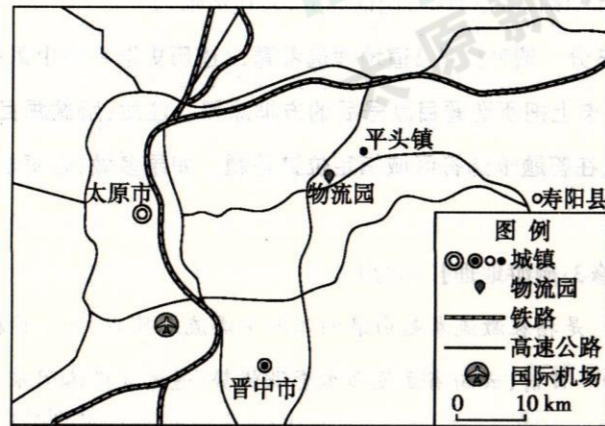


- (1) 比较汉中市1月和7月热岛强度日变化的异同。(8分)
(2) 说出影响汉中市热岛效应强弱的因素。(4分)
(3) 分析汉中市夜间热岛强度强于白天的原因。(8分)
(4) 画出汉中市12~14时的城郊热力环流。(4分)

姓名 _____ 准考证号 _____

37. 阅读图文材料,回答下列问题。(22分)

山西交通物流园区(下图)选址在晋中市寿阳县平头镇,规划占地面积2800亩,包括电商汽配区、现代农产区、配套服务区等。该项目深度整合大数据、人工智能、供应链等,构建多体系立体化物流产业布局的综合服务型智慧物流园。该物流园是太原市东部物流的主要门户,可促进战略性新兴产业的发展。



- (1)从地理位置角度,说明山西交通物流园区选址的优势。(6分)
- (2)说出该物流园区建成后为该区域农业发展带来的益处。(6分)
- (3)简述物流园区对提高太原新兴产业市场竞争力的作用。(6分)
- (4)该物流园拟规划建设公寓楼、商业配套、酒店、会展中心等设施,请说明其合理性。(4分)

38. 阅读材料,完成下列要求。(14分)

材料一 “十三五”以来我国研究与试验发展(R&D)经费及其来源情况

年度	R&D经费		R&D经费来源(亿元)		
	总量(亿元)	占GDP比重(%)	政府	企业	高校
2016	15676.7	2.11	2260.2	12144	1072.2
2017	17606.1	2.13	2435.7	13660.2	1266
2018	19677.9	2.19	2691.7	15233.7	1457.9
2019	22143.6	2.23	3080.8	16921.8	1796.6
2020	我国《中长期科技发展规划纲要》提出,2020年我国 R&D经费占GDP比重2.5%。				

注:①R&D经费支出占GDP比重是目前国际通用的衡量科技创新活动的重要指标,当前发达国家该指标平均水平为3%。②作为衡量R&D经费产出的重要指标,我国在目前全球10个尖端领域的发明专利申请数量世界第一,比例高达49%;但质量方面目前仍由美国公司占主导。在进入这10个领域的前100家公司中,有64家公司属于美国,中国仅1家公司上榜。

材料二 十四五规划提出,坚持创新在我国现代化建设全局中的核心地位,把科技自立自强作为国家发展的战略支撑,面向世界科技前沿、面向经济主战场、面向国家

A

重大需求、面向人民生命健康,深入实施科教兴国战略、人才强国战略、创新驱动发展战略,完善国家创新体系,加快建设科技强国。

材料一反映了哪些经济信息?结合材料,分析说明我国应如何加快建设科技强国。

39. 阅读材料,完成下列要求。(12分)

中央全面依法治国工作会议于2020年11月16日至17日在北京召开。习近平总书记出席会议并发表重要讲话,强调推进全面依法治国要全面贯彻落实党的十九大和十九届二中、三中、四中、五中全会精神,从把握新发展阶段、贯彻新发展理念、构建新发展格局的实际出发,围绕建设中国特色社会主义法治体系、建设社会主义法治国家的总目标,坚持党的领导、人民当家作主、依法治国有机统一,以解决法治领域突出问题为着力点,坚定不移走中国特色社会主义法治道路,在法治轨道上推进国家治理体系和治理能力现代化,为全面建设社会主义现代化国家、实现中华民族伟大复兴的中国梦提供有力法治保障。这个会议非比寻常,它明确了习近平法治思想是全面依法治国的根本遵循和行动指南,对当前和今后一个时期推进全面依法治国的重点工作提出了“十一个坚持”的要求。

结合材料并运用政治生活知识,分析说明我国应如何全面推进依法治国。

40. 阅读材料,完成下列要求。(26分)

2020年是中国人民志愿军抗美援朝出国作战70周年。在波澜壮阔的抗美援朝战争中,英雄的中国人民志愿军始终发扬祖国和人民利益高于一切、为了祖国和民族的尊严而奋不顾身的爱国主义精神,英勇顽强、舍生忘死的革命英雄主义精神,不畏艰难困苦、始终保持高昂士气的革命乐观主义精神,为完成祖国和人民赋予的使命、慷慨奉献自己一切的革命忠诚精神,为了人类和平与正义事业而奋斗的国际主义精神,锻造了伟大抗美援朝精神。毛主席用诗意的语言总结胜利之道,敌人是钢多气少,我们是钢少气多,这一精神是中国共产党人和中国人民军队崇高风范的生动写照,是中华民族传统美德和民族品格的集中展示,是以爱国主义为核心的民族精神的具体体现,必将激励中国人民和中华民族克服一切艰难险阻、战胜一切强大敌人。伟大的抗美援朝精神跨越时空、历久弥新。今天,我们站在实现“两个一百年”奋斗目标的历史交汇点上,要铭记抗美援朝战争的艰辛历程和伟大胜利,弘扬伟大的抗美援朝精神,雄赳赳、气昂昂,向着全面建设社会主义现代化国家新征程,向着实现中华民族伟大复兴的中国梦继续奋勇前进。

- (1)结合材料,运用意识能动作用的知识,说明抗美援朝精神对赢得抗美援朝伟大胜利的作用。(10分)
- (2)新时代传承和弘扬抗美援朝精神对于建设中国特色社会主义文化,实现中华民族伟大复兴具有十分重要的意义。结合材料,运用文化生活知识对此加以分析。(12分)
- (3)如果你所在班级拟开展“回望历史,接续奋斗”主题班会,请你列出两条发言提纲,每条不超过20个字。(4分)

41. 阅读材料,完成下列要求。(25分)

材料一 秦朝统一六国后,修筑了驰道、直道和五尺道,构成了以咸阳为中心的全国性道路网,并统一了车辙宽度;同时开通灵渠,沟通湘江与漓江。丝绸之路在汉代贯通,成为连接亚、欧、北非的大通道。隋炀帝开凿大运河,以洛阳为中心,沟通南北。唐朝驿道将近2.5万公里,以长安为中心向各方辐射。元朝拓展了京杭大运河,全长近1800公里,为当时世界之最。

——据孙家骊编《道路概论》等

材料二 1879年,开平矿务局总办唐廷枢请求修筑铁路,顽固派以“破坏风水”、“与民争利”等理由反对。经李鸿章多次斡旋,1881年中国人自建的第一条铁路唐胥铁路通车,全长11公里。但通车后不久朝廷就下令禁止使用机车,于是改用骡马拖曳。到1911年,全国铁路近1万公里,但90%受外国人控制。自20世纪初汽车输入中国后,通行汽车的公路在中国发展起来。到1946年12月,中国公路总里程超过13万公里,但在战争中遭到严重破坏,能通行的只有一半左右。

——摘编自白寿彝《中国通史》

材料三 1955年7月,全国人大一届二次会议审议通过“一五”计划(1953—1957),明确提出“发展运输业,特别是铁路的建设,使之适应于国家经济建设、工业农业生产的发展、商品流通的扩大、居民对交通的需要”。到1957年,全国铁路通车里程已达29862公里,比1949年增长35.8%。公路通车里程为25.5万公里,比1949年增长了215.3%。海拔高、工程艰巨的康藏、青藏、新藏公路,也都相继通车。在广大农村和中小城市之间也修建了许多简易公路。1957年10月,武汉长江大桥建成通车,“天堑变通途”。在水路运输方面,1957年全国内河航运里程已达14.4万多公里,比1952年增长51.6%。

——据《关于发展国民经济的第一个五年(1953—1957年)计划执行结果的公报》等

- (1)根据材料一并结合所学知识,概括中国古代交通建设的特点。(10分)
- (2)根据材料二并结合所学知识,简析中国近代交通建设相对迟滞的原因。(8分)
- (3)根据材料三并结合所学知识,说明新中国建国初期交通建设发展的意义。(7分)

42. 阅读材料,完成下列要求。(12分)

材料 现代化的世界进程也就是世界历史的形成过程。这一过程开始于西欧。1500年前后,西欧地区社会结构中有利于制度创新的各种因素通过一系列彼此联结的历史运动而会聚、互动,最终为工业文明的诞生准备了知识基础、制度环境和政治、经济、文化条件。16—18世纪的200年间,西欧地区的科学革命、思想革命、政治革命和产

A

业革命接踵而至,在英法等国首先塑造了现代社会的原型。此后,就开始了工业文明向全球的扩展。

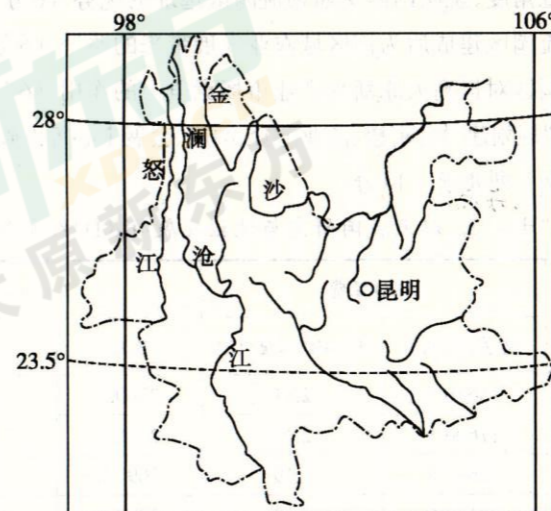
——摘自王斯德《世界通史》

根据材料并结合所学知识,就材料整体或其中任意一点拟定一个论题,并予以阐述。(要求:论题明确,持论有据,论证充分,表达清晰。)

(二)选考题:共25分。请考生从2道地理选考题、3道历史选考题中每科任选一题作答,并用2B铅笔在答题卡上把所选题目题号后的方框涂黑。注意:所做题目的题号必须与所涂题目的题号一致,在答题卡选答区域指定位置答题。如果多做,则每学科按所做的第一个题目计分。

43.【地理——选修3:旅游地理】(10分)

白水运动,是指在激流卷起白浪的江河中漂流或嬉戏,是一种极富挑战性、刺激性和乐趣的运动。目前,云南省立足白水资源优势,通过建设休闲旅游漂流基地,拉动经济增长,助推少数民族地区脱贫攻坚。下图示意云南省水系分布。



说明云南省建设休闲旅游漂流基地的有利条件和对当地旅游业发展的积极作用。

44.【地理——选修6:环境保护】(10分)

2011年日本福岛核电站发生核泄漏事故后,含有放射性物质的核污水被储存在大型罐体内,现有存储容量将于2022年夏天用尽。为解决核污水的难题,日本政府拟于2022年起将这数百万吨的核污水排入太平洋。这种成本最低、最快捷的排污方式,会极大危害海洋的生态环境。

简述日本的核污水排入太平洋对海洋环境安全带来的影响。

45.【历史——选修1:历史上重大改革回眸】(15分)

材料 改革开放以前,我国价格形式过于单一,许多商品价格甚至几十年不变。这些状况大大阻碍了商品流通和分配的合理化,制约着我国国民经济的发展。1979年,国务院开启了全方位的价格大改革。第一阶段(1979—1984年),对价格体系进行结构性调整。由于农产品价格过低影响农民的生产积极性和城市供应,国家连续几年大幅度提高农副产品收购价格。除此之外,国家还先后对农产品内部比价、工业品内部比价、部分消费品价格、各种运输方式之间的比价进行结构性调整。第二阶段(1985—1989年),把部分商品价格放开。政府实行计划指导下的议购议销、国家参与市场调节、逐步扩大企业定价权等措施,对价格体系与价格管理体制进行全面改革。通过一系列的改革,逐步形成国家定价、国家指导价、市场调节价等多种价格形式并存的格局,商品价格较以往能更好的反映价值和供求关系。但后期由于物价升幅过大,使改革一度陷入困境。

——摘编自刘一民《我国八十年代价格改革的得与失》

- (1)根据材料并结合所学知识,说明1979—1989年价格改革的原因。(6分)
- (2)根据材料并结合所学知识,简析1979—1989年价格改革的作用。(9分)

46.【历史——选修3:20世纪的战争与和平】(15分)

材料 苏联对华政策在1936—1937年期间发生了变化。苏联日益担心日本在东北亚持续突进,就遏制日本而言,苏联与中国有着共同利益。1937—1938年,苏联两次向中国提供借款,每次均为5000万美元。到1939年6月,中苏之间又有一份1.5亿美元的新借款协议签署。苏联对中国的援助大部分依靠海运,在前18个月里取道香港和印度支那进入中国的军火多达6万吨,其对中国1938年3月的台儿庄大捷功不可没。除此之外,苏联还提供了几支由飞行员和其他人员组成并配有飞机的航空队,这些飞行员统称为“志愿者”,但其实际身份却是苏联空军。第二次世界大战于1939年9月爆发为中国带来了新局面,苏联(对华)的援助力度变弱了。

——摘编自[美]阿瑟·N·杨格《1937—1945年的外国援助与中日货币战》

- (1)根据材料并结合所学知识,概括1937—1939年苏联援华的背景。(8分)
- (2)根据材料并结合所学知识,简析1937—1939年苏联援华的影响。(7分)

47.【历史——选修4:中外历史人物评说】(15分)

材料 方观承(1698—1768),安徽桐城人,历任道台、按察使、布政使、巡抚、总督等职。乾隆14年,任直隶总督并长达二十年之久直至其去世,是清前期直隶总督在任时间最长的。在任期间,他劝垦荒地、丈量田亩,民间垦田报官升科(征税)者多达13万顷以上;他亲行勘查永定河,确定了加固上游堤坝、疏浚下游的方针,经过治理,使永定河20年间没再发生重大水患;针对“热河地方,人烟辐,日用浩繁”,他在热河等地访获煤

①

矿21处,并奏请分界设窑,招募殷实民户动工开采;他认为种棉“功同菽粟”,并根据长期积累的植棉经验,绘成《棉花图》16幅,是研究我国植棉史和农业科技史的珍贵资料,许多成功的经验至今仍在广泛应用。因其政绩显赫、对改善民生贡献良多,故深得乾隆帝赏识,乾隆帝称赞他“任久民情悉,心恒吏治敦”。

——摘编自金卫国《清朝名臣方观承》

- (1)根据材料,概括方观承任职直隶的历史贡献。(8分)
- (2)根据材料并结合所学知识,简析方观承做出贡献的原因。(7分)

文科综合答题卡

答题卡类型: A

姓名

准考证号

贴条形码区

注意事项

1. 答题前, 考生务必首先认真核对条形码上的姓名、准考证号, 然后使用0.5毫米的黑色笔迹签字笔将姓名、准考证号填写在相应位置, 并在答题卡背面左上角填写姓名和准考证号末两位。准考证号的每个书写框内只能填写一个阿拉伯数字。要求字体工整、笔迹清晰。填写阿拉伯数字的样例: 0 1 2 3 4 5 6 7 8 9
2. 答选择题时, 必须使用2B铅笔填涂。修改时, 要用橡皮将修改处擦干净, 规范填涂样例:
3. 答非选择题时, 必须使用0.5毫米的黑色笔迹签字笔书写; 作图题可先用铅笔绘出, 确认后再用0.5毫米的黑色笔迹签字笔描清楚。要求字体工整、笔迹清晰。严格按照题号所指示的答题区域作答, 超出答题区域书写的答案无效; 在试题、草稿纸上答题无效。
4. 保持答题卡清洁、完整。严禁折叠, 严禁在答题卡上作任何标记, 严禁使用涂改液、胶带纸和修正带, 严禁污染答题卡上的黑色方块。
5. 未按上述要求填写、答题, 影响评分质量, 后果自负。

此栏禁止考生填涂 缺考标记 缺考考生由监考员贴条形码, 并用2B铅笔填涂左边的缺考标记。

选择题 (用2B铅笔填涂)

1 <input type="checkbox"/> A <input type="checkbox"/> B <input type="checkbox"/> C <input type="checkbox"/> D	6 <input type="checkbox"/> A <input type="checkbox"/> B <input type="checkbox"/> C <input type="checkbox"/> D	11 <input type="checkbox"/> A <input type="checkbox"/> B <input type="checkbox"/> C <input type="checkbox"/> D	16 <input type="checkbox"/> A <input type="checkbox"/> B <input type="checkbox"/> C <input type="checkbox"/> D
2 <input type="checkbox"/> A <input type="checkbox"/> B <input type="checkbox"/> C <input type="checkbox"/> D	7 <input type="checkbox"/> A <input type="checkbox"/> B <input type="checkbox"/> C <input type="checkbox"/> D	12 <input type="checkbox"/> A <input type="checkbox"/> B <input type="checkbox"/> C <input type="checkbox"/> D	17 <input type="checkbox"/> A <input type="checkbox"/> B <input type="checkbox"/> C <input type="checkbox"/> D
3 <input type="checkbox"/> A <input type="checkbox"/> B <input type="checkbox"/> C <input type="checkbox"/> D	8 <input type="checkbox"/> A <input type="checkbox"/> B <input type="checkbox"/> C <input type="checkbox"/> D	13 <input type="checkbox"/> A <input type="checkbox"/> B <input type="checkbox"/> C <input type="checkbox"/> D	18 <input type="checkbox"/> A <input type="checkbox"/> B <input type="checkbox"/> C <input type="checkbox"/> D
4 <input type="checkbox"/> A <input type="checkbox"/> B <input type="checkbox"/> C <input type="checkbox"/> D	9 <input type="checkbox"/> A <input type="checkbox"/> B <input type="checkbox"/> C <input type="checkbox"/> D	14 <input type="checkbox"/> A <input type="checkbox"/> B <input type="checkbox"/> C <input type="checkbox"/> D	19 <input type="checkbox"/> A <input type="checkbox"/> B <input type="checkbox"/> C <input type="checkbox"/> D
5 <input type="checkbox"/> A <input type="checkbox"/> B <input type="checkbox"/> C <input type="checkbox"/> D	10 <input type="checkbox"/> A <input type="checkbox"/> B <input type="checkbox"/> C <input type="checkbox"/> D	15 <input type="checkbox"/> A <input type="checkbox"/> B <input type="checkbox"/> C <input type="checkbox"/> D	20 <input type="checkbox"/> A <input type="checkbox"/> B <input type="checkbox"/> C <input type="checkbox"/> D
21 <input type="checkbox"/> A <input type="checkbox"/> B <input type="checkbox"/> C <input type="checkbox"/> D	26 <input type="checkbox"/> A <input type="checkbox"/> B <input type="checkbox"/> C <input type="checkbox"/> D	31 <input type="checkbox"/> A <input type="checkbox"/> B <input type="checkbox"/> C <input type="checkbox"/> D	
22 <input type="checkbox"/> A <input type="checkbox"/> B <input type="checkbox"/> C <input type="checkbox"/> D	27 <input type="checkbox"/> A <input type="checkbox"/> B <input type="checkbox"/> C <input type="checkbox"/> D	32 <input type="checkbox"/> A <input type="checkbox"/> B <input type="checkbox"/> C <input type="checkbox"/> D	
23 <input type="checkbox"/> A <input type="checkbox"/> B <input type="checkbox"/> C <input type="checkbox"/> D	28 <input type="checkbox"/> A <input type="checkbox"/> B <input type="checkbox"/> C <input type="checkbox"/> D	33 <input type="checkbox"/> A <input type="checkbox"/> B <input type="checkbox"/> C <input type="checkbox"/> D	
24 <input type="checkbox"/> A <input type="checkbox"/> B <input type="checkbox"/> C <input type="checkbox"/> D	29 <input type="checkbox"/> A <input type="checkbox"/> B <input type="checkbox"/> C <input type="checkbox"/> D	34 <input type="checkbox"/> A <input type="checkbox"/> B <input type="checkbox"/> C <input type="checkbox"/> D	
25 <input type="checkbox"/> A <input type="checkbox"/> B <input type="checkbox"/> C <input type="checkbox"/> D	30 <input type="checkbox"/> A <input type="checkbox"/> B <input type="checkbox"/> C <input type="checkbox"/> D	35 <input type="checkbox"/> A <input type="checkbox"/> B <input type="checkbox"/> C <input type="checkbox"/> D	

非选择题 (用0.5毫米的黑色笔迹签字笔书写)

36. (24分)

(1)

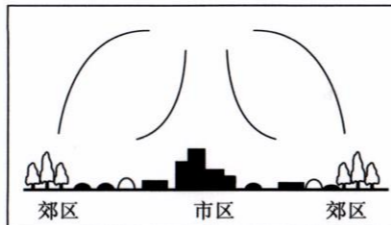
(2)

请在各题目的答题区域内作答, 超出答题区域的答案无效

请在各题目的答题区域内作答, 超出答题区域的答案无效

(3)

(4)



37. (22分)

(1)

(2)

(3)

(4)

请在各题目的答题区域内作答, 超出答题区域的答案无效

请在各题目的答题区域内作答, 超出答题区域的答案无效

38. (14分)

39. (12分)

40. (26分)

(1)

请在各题目的答题区域内作答, 超出答题区域的答案无效

