



山西省 2021 年中考考前适应性训练试题

文科综合 道德与法治

注意事项:

- 1. 文科综合由历史和道德与法治两部分组成, 满分 150 分, 考试时间 150 分钟。其中道德与法治部分采用开卷考试, 分第 I 卷和第 II 卷, 全卷共 8 页, 满分 75 分, 考试时间 70 分钟。
2. 答卷前, 考生务必将自己的姓名、准考证号填写在本试卷相应的位置。
3. 答案全部在答题卡上完成, 答在本试卷上无效。
4. 考试结束后, 将本试卷和答题卡一并交回。

第 I 卷 选择题 (共 36 分)

一、选择题(在每小题的四个选项中, 只有一项最符合题意, 请选出并在答题卡上将该项涂黑。本大题共有 12 小题, 每小题 3 分, 共 36 分)

1. 下列是某校《今日简讯》的一则时政新闻, 其中核心词语对应正确的一项是

时政新闻
中国共产党第十九届中央委员会第五次全体会议, 于 2020 年 10 月 26 日至 29 日在北京举行。全会审议通过了\_\_\_\_\_。
全会一致认为, 坚持统筹推进“\_\_\_\_\_”总体布局, 协调推进“\_\_\_\_\_”、全面深化改革、全面依法治国、全面从严治党”战略布局, 扎实做好“六稳”工作、全面落实“六保”任务。

- A. 《中共中央关于坚持和完善中国特色社会主义制度、推进国家治理体系和治理能力现代化若干重大问题的决定》/ 五位一体 / 全面建成小康社会
B. 《中共中央关于制定国民经济和社会发展第十四个五年规划和二〇三五年远景目标的建议》/ 四个全面 / 全面建成小康社会
C. 《中共中央关于坚持和完善中国特色社会主义制度、推进国家治理体系和治理能力现代化若干重大问题的决定》/ 四个全面 / 全面建设社会主义现代化国家
D. 《中共中央关于制定国民经济和社会发展第十四个五年规划和二〇三五年远景目标的建议》/ 五位一体 / 全面建设社会主义现代化国家

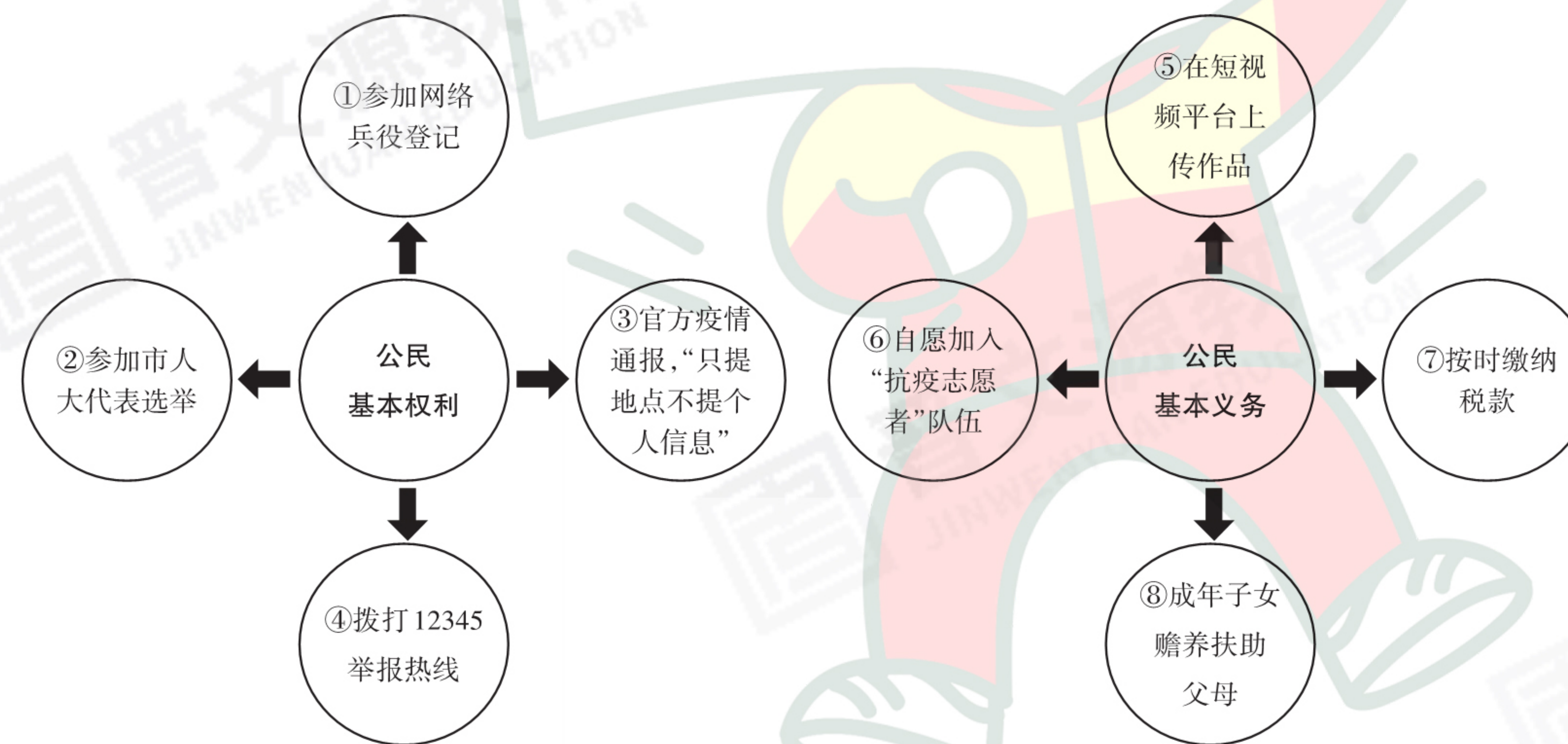
2. 下列有关十九届五中全会理解正确的一项是

- A. 此次会议体现中国特色社会主义根本政治制度, 体现人民当家作主
B. 此次会议与全国人大会议、政协会议一样, 都是国家机关在行使自己的职权
C. 此次会议中许多“利民为民”关键词, 再次彰显中国共产党人的初心和使命
D. 此次会议的委员需要审议政府工作报告以及“两高”工作报告

3. 下面是初中生小军“抗疫寒假日记”的部分内容, 你认为记录正确的是

- A. 期末考试成绩不尽如人意, 于是假期上数学网课时听音乐调节情绪。
——能做到合理调节情绪和统筹安排时间
B. 有几次, 老师在钉钉群批改作业时, 批评我不够认真, 心想: “老师怎么总跟我过不去?”
——这是具有独立意识、思想走向成熟的表现
C. 最近疫情好转, 与同学约好周末去公园晨练, 想睡懒觉的我给同学发微信“我生病啦, 真抱歉”。
——善意的谎言, 并不违背诚信原则
D. 那么多人没有被疫情打垮, 坚持自主创业, 我将来也要响应国家号召, 做一名新时代的劳动者。
——这是对升学和职业选择的正确思考

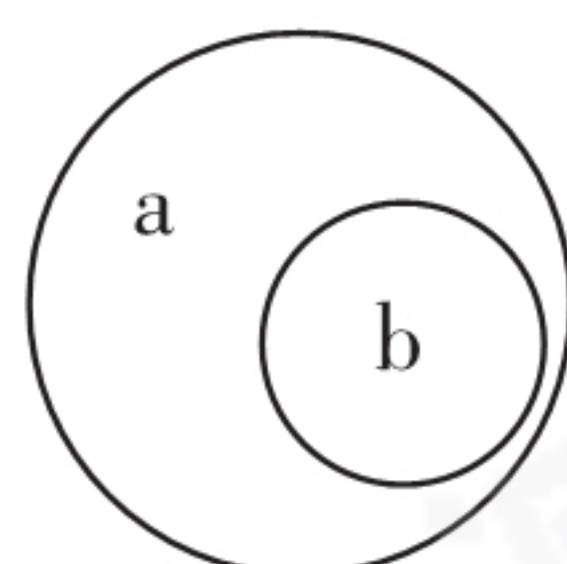
4. 下列行为中涉及“公民基本权利和义务”的相关知识, 小明归类和列举正确的有



- A. 3 处
B. 4 处
C. 5 处
D. 6 处

5. 以下知识点之间的关系与右图相符的是

- ① a. 某人回国时,隐瞒患新冠肺炎的事实,被判妨害传染病防治罪  
b. 某药店涉嫌哄抬物价,被给予20万元的行政处罚
- ② a. 具有中华人民共和国国籍的人  
b. 被剥夺政治权利的中国公民
- ③ a. 由全国人大制定和修改的基本法律  
b. 《中华人民共和国民法典》
- ④ a. 智力成果权  
b. 知识产权



- A. ①④      B. ②③      C. ①③      D. ②④

6. 下列图标属于国家机关的是



- ①                      ②                      ③                      ④                      ⑤
- A. ①②④                      B. ③⑤  
C. ①③④                      D. ②⑤

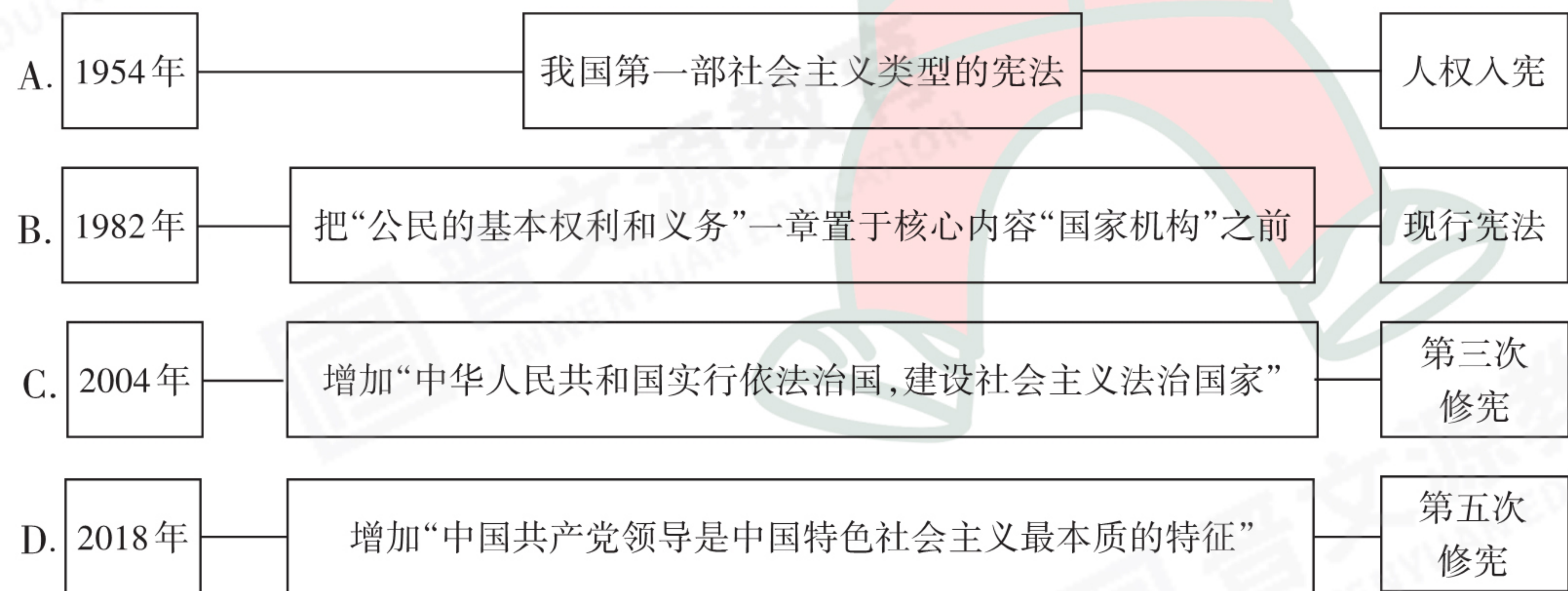
7. “我是十四五”

以下是关于“十四五”的自述,表述正确的是


- ①“十三五”是我的哥哥,1953年开启的第一个五年计划是我们兄弟十四人中的老大
- ②我从2019年登场,努力向着“2035年全面建成社会主义现代化强国”的目标奋进
- ③我的任务:继续实施创新驱动发展战略,推进以教育创新为核心的全面创新
- ④我的愿望:发挥市场在资源配置中的决定性作用,推动有效市场和有为政府的结合

- A. ①④                      B. ②③  
C. ③④                      D. ①②

8. 我国社会主义法治发展进程中,宪法的发展尤为典型,下列有关图示正确的是



9. 下列图片所反映的内容归类正确的一组是



- A. ①③/④⑥      B. ②④/③⑤      C. ②⑥/④⑤      D. ①③/⑤⑥

10. 下列填空题答案正确的一项是

- A. 规范政府的行政权是依法行政的( ):保障
- B. “习近平新时代中国特色社会主义思想”是党的指导思想的第( )个:三
- C. “一国”是实行“两制”的( ):前提和基础
- D. 我国处理民族关系的( )政治制度是民族区域自治制度:根本

11. 下列是某同学关注到的热点新闻,其中哪些可为同类主题呢?

- ①张桂梅同志多年扎根山区教育,被评为“感动中国2020年度人物”
- ②深圳经济特区建立40周年庆祝大会在广东省深圳市隆重举行
- ③北斗三号全球卫星导航系统正式开通

- A. ①②                      B. 三条都是同类主题  
C. ②③                      D. 三条主题各不相同

12. 请看下列两道分析说明题:

选做题1:

“盲盒经济”何去何从?

你买过盲盒吗?这种类似于抽奖的营销策略,极易刺激消费者购买的欲望,成为当下吸引青少年群体消费的营销方法之一。近日,中国消费者协会官方网站发布一则消费提示指出,有经营者用盲盒“清库存”,扰乱市场,提醒广大消费者勿盲目购买。

你如何看待“盲盒经济”?

答:

选做题2:

职业技能大赛“有必要”?

12月10日,中华人民共和国第一届职业技能大赛在广州开幕。首届大赛以“新时代 新技能 新梦想”为主题,是新中国成立以来规格最高、项目最多、规模最大、水平最高的综合性国家职业技能赛事。

你认为为什么要开展职业技能大赛?

答:

你认为上述分析说明题分别采用哪种思维模式?

- A. 辩证思维与并列思维                      B. 层进思维与因果思维
- C. 辩证思维与因果思维                      D. 层进思维与并列思维

第II卷 非选择题 (共39分)

二、简答题(本大题有4小题,共20分)

13. 基础知识填空。(每空1分,共6分)

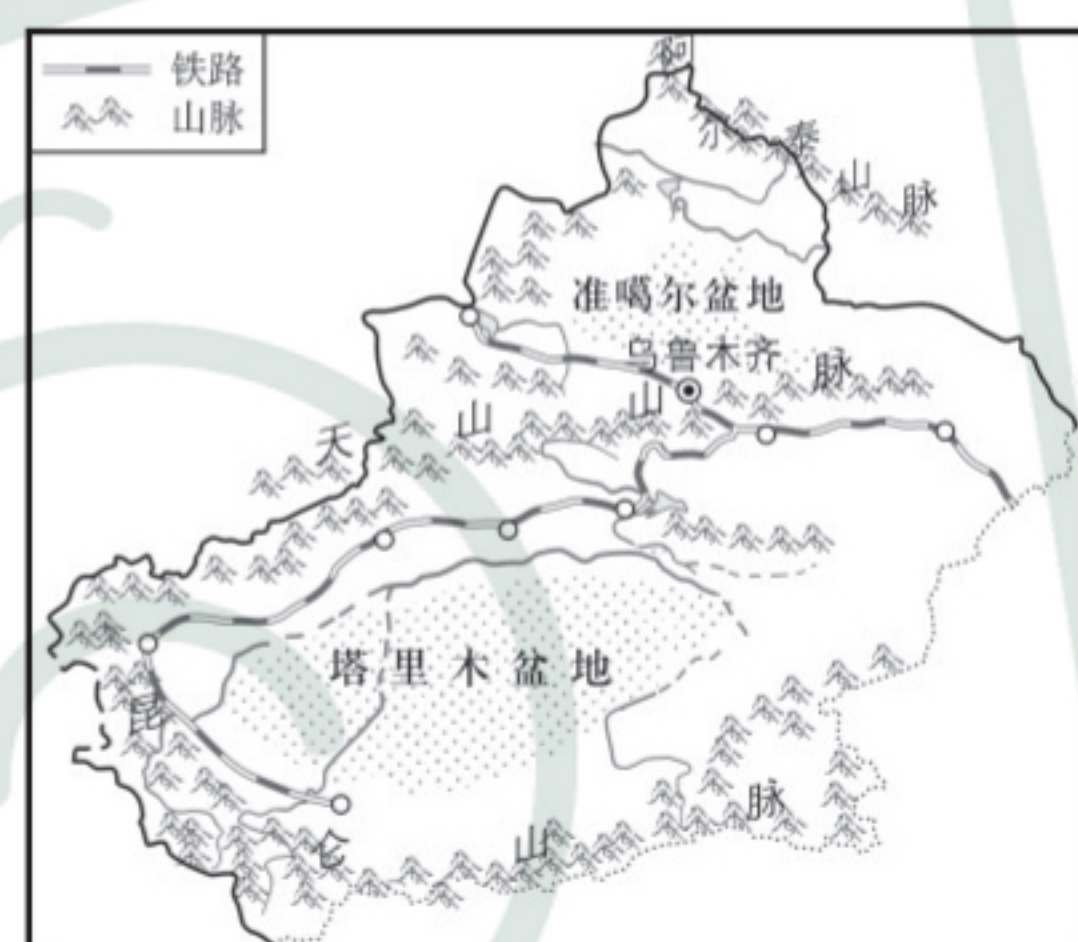
- (1)法律的三大特征是权威性(由国家制定或认可)、平等性、▲。
- (2)“任何组织不得散发危害未成年人身心健康的广告”是对未成年人的▲保护。
- (3)▲是我国社会主义民主政治的特有形式和独特优势。
- (4)规范国家权力运行以保障公民权利是宪法的▲。
- (5)同在世界文化大花园,“物之不齐,物之情也”。说明▲是人类社会的基本特征。
- (6)▲行使监督宪法实施的职权。

14. 今年是西藏和平解放70周年,小李决定“云游西藏”。

(1)你觉得下面哪些照片是小李收集的有关“西藏”的照片?(2分)




①



②



③



④

答: ▲。(只写序号不给分)

(2)请你把小李与藏族网友多吉的部分聊天记录补充完整。(3分)

小李:按行政区域划分来说,西藏自治区相当于太原市,对吧?

多吉:① ▲。

小李:西藏居住的都是藏族同胞吧,没有我们汉族。

多吉:② ▲。

小李:考考你,我们国家新型民族关系是什么?

多吉:③ ▲。

15. 下列是刘叔叔与赵叔叔的一段对话。

刘叔叔:电视里说,公民可以监督政府的工作。可咱们都是普通百姓,有这个权利吗?

赵叔叔:当然有,这是宪法赋予我们的权利,是公民的政治权利。

刘叔叔:公民,一介草民,监督政府能有什么作用?

赵叔叔一时说不上来,你能帮他回答吗?(3分)

答:

16. 请仔细阅读下面案例,并回答后面的问题。

2021年1月5日,赵某和李某因琐事发生纠纷,赵某把李某打成了重伤。

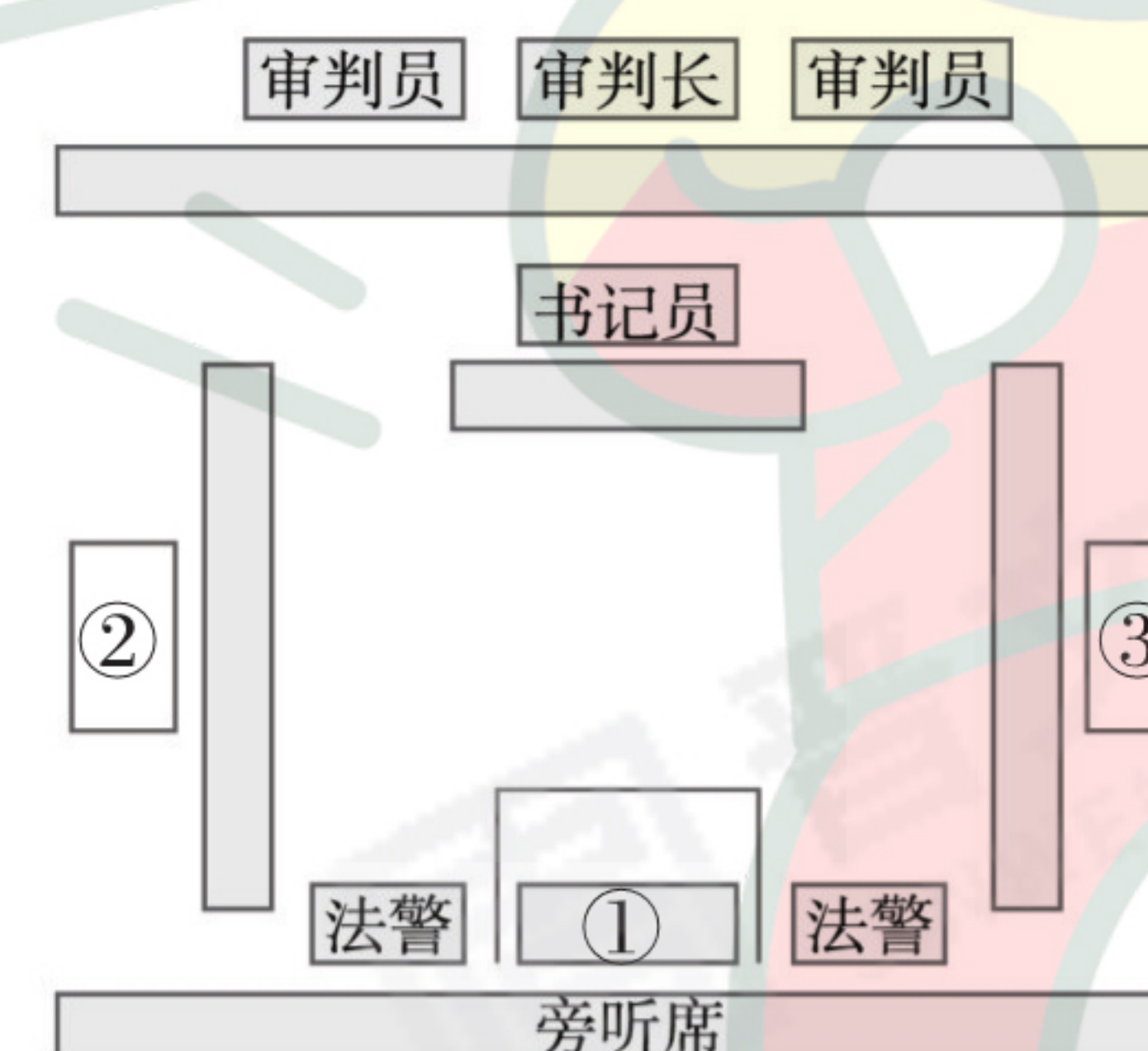
(1)你认为李某应该去哪里报案?(1分)

答:

(2)你认为赵某的行为属于哪种违法行为?请说明理由。(2分)

答:

(3)假如要模拟法庭,此案件的法庭应该如何布置?(请完成填空)(3分)



答:

三、分析说明题(7分)

17.

《唐宫夜宴》火了



《簪花仕女图》原图(部分)



《唐宫夜宴》(剧照)

2021年河南春晚《唐宫夜宴》火了。一群娇憨可爱、活泼生动的唐装仕女从古画中走来,穿越《簪花仕女图》等七大国宝,带领观众经历一场博物馆奇妙之旅。传统画卷与数字科技完美结合,创意精美的舞台效果令人惊叹。

《唐宫夜宴》为什么能迅速火遍全国?


答:

四、实践探究题(共12分)


18.

回顾2020年,展望2021年


2021年3月初,省城某中学计划创建“回顾2020年,展望2021年”展览馆,筹备组搜集到下列图片。



①



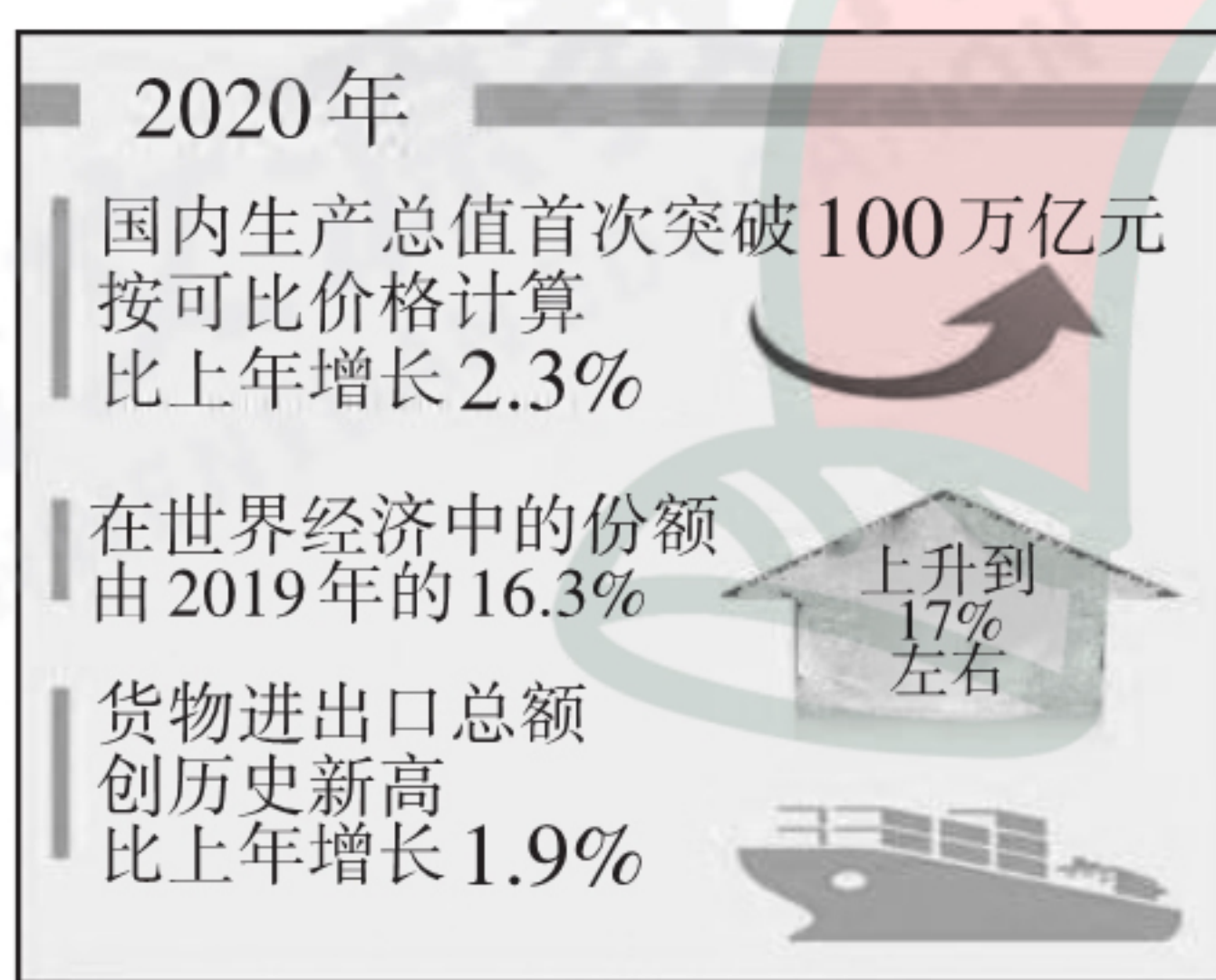
②




③



④



⑤



⑥

假如你是筹备组的一员,请完成下列任务:

(1)根据上述所收集图片内容,如果两张就可以构建一个主题板块,你认为该展览馆目前可设立几个板块呢?请写出板块主题名称并将图片归类。(2分)

答:

(2)筹备组的小李发现图②明显“过时”了,你认为应该换成什么呢?而且该板块可展览的“同类”图片太多了,你还能提供哪些呢?(2分)

答:

(3)有组员说,图⑥的意思看不太明白,你能予以解释吗?(2分)

答:

(4)组长问大家:“我们展览馆的主题板块还可以再丰富,大家开动脑筋,看看还能增加哪些?”(2分)

答:

(5)小李又说:“图⑤有一个网红数据。”你知道是什么吗?另外,你还能说出有关十三五成果的什么“网红”数据吗?(2分)

答:

(6)组长安排你写一个参观须知,其中的要点应该有哪些呢?(2分)

答: