

太原市2021年初中学业综合测试(三)

文科综合

(考试时间:下午3:00—5:30)

道德与法治

注意事项:

1. 本试卷由历史和道德与法治两部分组成,满分150分,考试时间150分钟。其中道德与法治部分采用开卷考试,分第I卷和第II卷两部分,全卷共8页,满分75分,考试时间70分钟。
2. 答卷前,考生务必将自己的姓名、准考证号填写在本试卷相应的位置。
3. 答案全部在答题卡上完成,答在本试卷上无效。
4. 考试结束后,将本试卷和答题卡一并交回。

第I卷 选择题(共36分)

一、选择题(在每小题的四个选项中,只有一项最符合题意,请选出并在答题卡上将该项涂黑。本大题共12个小题,每小题3分,共36分)

1. 2020年10月26日到29日,党的十九届五中全会召开。全会审议通过了《中共中央关于制定国民经济和社会发展第十四个五年规划和二〇三五年远景目标的建议》。对此表述正确的有
- ①此次会议的全称是中国共产党第十九届中央委员会第五次全体会议 ②全会强调,加快构建以国内大循环为主体、国内国际双循环相互促进的新发展格局 ③全会指出决胜全面建成小康社会取得决定性的成就有:2020年国内生产总值突破一百万亿元;五千五百七十五万农村贫困人口实现脱贫;城镇新增就业超过六千万人;粮食年产量连续五年稳定在一万三千亿斤以上等 ④全会提出了“十四五”时期经济社会发展主要目标,包括经济发展取得新成效;改革开放迈出新步伐;社会文明程度得到新提高;生态文明建设实现新进步;民生福祉达到新水平;国家治理效能得到新提升等
- A. ①③ B. ②③④ C. ①②③④ D. ①③④
2. 下列表述正确的是
- ①国家权力机关在国家机构中居于主导地位,全国人民代表大会在整个国家机关体系中居于最高地位 ②国家主席属于我国国家机构。中央军事委员会也是我国国家机关,领导全国武装力量 ③出席十三届全国人大四次会议的人大代表近3000人,审查了国民经济和社会发展第十四个五年规划和二〇三五年远景目标纲要草案 ④全国人大审议“一府两院”工作报告,体现了全国人大行使最高监督权
- A. ①②③④ B. ①②③ C. ②③④ D. ①④

3. 对比是我们常用的一种方法。下列对比的知识点完全正确的是
- ①公民的基本权利和义务是宪法的核心内容;规范国家权力运行以保障公民权利是宪法的核心价值追求 ②宪法是一切组织和个人的根本活动准则;监督是权力正确行使的根本保证 ③我国的国体是人民民主专政;我国的政体是人民代表大会制度 ④国家的根本制度是社会主义制度;国家的根本任务是沿着中国特色社会主义道路,集中力量进行社会主义现代化建设 ⑤在社会主义国家,国家利益是广大人民最根本、最长远的利益;国家安全利益是国家的最高利益
- A. 2个 B. 3个 C. 4个 D. 5个
4. 创新改变我们的思维方式和行为方式,让我们勇敢面对挑战,激发潜能,超越自我。下列事例没有直接体现思维创新的是
- A. 据说篮球运动刚诞生的时候,篮板上钉的是真正的篮子。每当球投进的时候,就有一个专门的人踩在梯子上把球拿出来。有一天,一位父亲带着他的儿子来看球赛。小男孩看到大人们一次次不辞劳苦地取球,不由大惑不解:为什么不把篮筐的底去掉呢?于是有了今天我们看到的篮网样式。
- B. 有个老人爱清静,可附近常有小孩玩闹,于是他想了个办法,他把孩子们召集过来说:“我这很冷清,谢谢你们让这更热闹。”说完每人发3颗糖。孩子们很开心,天天来玩。几天后,每人只给2颗,再后来给1颗,最后就不给了。孩子们生气说:“以后再也不要来这给你热闹了。”老人清静了。
- C. 以前有一个叫海曼的画家,他在画画的过程中经常找不到橡皮,影响了他画画的情绪。有一天,海曼又找不到橡皮了,他很懊丧地想,“要是铅笔和橡皮是连在一起的就好了!这样就不会找不到橡皮了!”这个突如其来的想法给海曼带来了灵感,他立刻动起手来,想办法把橡皮固定在了铅笔的末端,带橡皮铅笔由此诞生。
- D. 语文课文《羿射九日》中前一段刚提到“江河里的水被蒸干了”,下一段又提到“他蹚过九十九条大河,来到东海边”。福州8岁男孩小冯质疑道:“既然晒干了,那后羿是怎么蹚的?是不是课文出错了?”官方回应称:联系上下文,“蹚”字的确用得不恰当。
5. 下列对概念的解释与相应概念依次对应正确的是
- ①_____是指扰乱公共秩序,妨害公共安全,侵犯人身权利、财产权利,妨碍社会管理,具有社会危害性,尚不够刑事处罚的行为。
- ②_____是指人民法院在双方当事人的参与下,依照司法诉讼程序解决行政争议案件的活动。
- ③_____是指审判机关依法对犯罪分子适用的最严厉的强制性法律制裁方法,以限制或者剥夺犯罪人权益为主要内容。
- ④_____是当事人之间自行解决纠纷的方式。
- ⑤_____是具有严重社会危害性、触犯了刑法、应当受刑罚处罚的行为。
- A. 行政违法行为 行政诉讼 剥夺政治权利 上诉 严重违法行为
B. 严重不良行为 民事诉讼 死刑 仲裁 民事违法行为
C. 违反治安管理的行为 行政诉讼 刑罚 协商 犯罪
D. 不良行为 刑事诉讼 拘役 调解 一般违法行为

6. “五一”小长假期间,九年级的小鹏跟随父母回姥姥家探亲。在村子里,他看到了宣传栏内有着各种各样的宣传介绍。下列是小鹏对这些宣传内容的理解,其中不正确的是



图一



图二



图三



图四

- A. 图一体现了我国的基层群众自治制度。村民委员会成员由村长提名产生
 B. 图二中的举措有利于保护农村环境和人民群众的生命健康,体现了以人民为中心的发展思想
 C. 图三是我国的省鸟—褐马鸡,属于濒危物种
 D. 图四是剪纸,是我国的世界级非物质文化遗产。它不仅可以作为一项文化产业创造经济效益,同时还能发挥自身的文化功能。此外皮影戏、珠算和二十四节气也是世界级非物质文化遗产

7. 小明是一个喜欢不断求知探索的同学。他对下列问题的判断正确的是


A. 下列名言启示我们要扬长避短的是②

- ①工欲善其事,必先利其器
 ②仁者如射,射者正己而后发,发而不中,不怨胜己者,反求诸己而已矣
 ③仁者爱人,推己及人
 ④役其所长,则事无废功;避其所短,则世无弃材矣

B. 下列几位人物中提出“有教无类”思想的是②



①



②



③



④

C. 下列书籍中属于科普读物的是③

- ①《水浒传》 ②《北极星》 ③《昆虫记》 ④《山海经》

D. 下列景点在英国的是④



①



②



③



④

8. 小华整理的下列有关宪法的知识中有误的是

- ①宪法规定:财产权、继承权、知识产权、人格尊严权等都是公民的基本权利;受教育和劳动既是基本权利又是基本义务;依法服兵役和依法纳税必须年满十八周岁 ②我国宪法是公民意志和利益的体现,我国的宪法宣誓制度规定,国家工作人员就职时应当依照法律规定公开进行宪法宣誓 ③全国人大及其常委会行使监督宪法实施的职权 ④1999年“依法治国,建设社会主义法治国家”写入宪法;“国家尊重和保障人权”是我国宪法的原则之一,于2004年写入宪法;“中国共产党领导是中国特色社会主义最本质的特征”,于2018年写入宪法

- A. ①② B. ③④ C. ②③ D. ①④

9. 自由、平等、公正、法治是社会主义核心价值观在社会层面的价值取向。同学们就此谈了如下理解,其中不正确的是

- A. 自由是法律之内的自由,法治既标定了自由的界限,又是自由的保障。作为公民,要发自内心地敬畏规则,将规则内化于心、外化于行。比如过马路遵守交通规则,不在车辆少或没有车的时候闯红灯
 B. 每个公民都平等地受法律的保护,平等地享有权利和履行义务;任何人不论职务高低,功劳大小,只要触犯国家法律,都必须承担相应的法律责任。平等既包括同等情况同等对待,比如男女同工同酬;也包括不同情况差别对待,比如老人、儿童、孕妇、残疾人在乘坐公共交通工具时,应获得优先权和得到特殊关照
 C. 殴打他人和欠钱不还违反了民法典的相关规定,需要承担民事责任;没收财产属于刑罚处罚中的附加刑,被处以这种刑罚的犯罪分子需要关在拘留所;没收违法所得属于行政处罚,这类违法人员必须关在看守所里。司法是捍卫公平正义的最后一道防线
 D. 法治是治国理政的基本方式,是实现自由平等、公平正义的保证,法治是现代政治文明的核心,是国家治理现代化的重要标志

10. 学会读图也是一种必备的素养。你认为对下列图片的解读合适的有




图一



图二



图三



图四

- A. 图一:只要是年满18周岁的我国公民就享有选举权和被选举权,行使这项权利是公民参与管理国家和社会的基础
 B. 图二:未成年人保护法中的家庭保护,就是父母对未成年子女进行精神上鼓励、关心、支持
 C. 图三:公民权利受到损害,要依照法定程序维护权利。公民与其他个人或组织之间发生合同纠纷和其他财产权益争议时,可以通过图三中的方式解决,对裁决不服可以上诉
 D. 图四:这是2020年通过的《中华人民共和国刑法修正案(十一)》修改的内容之一,承担刑事责任的最低年龄降至十二周岁,说明规则不是一成不变的

11. 以下说法正确的是

①我国是统一的多民族国家,56个民族分布呈现大杂居、小聚居、相互交错的特点,在长期的交往中确立了平等团结互助的社会主义民族关系。维护和促进民族团结,是每个公民的神圣职责和光荣义务 ②坚定文化自信,必须坚持以习近平新时代中国特色社会主义思想为指导,推动中华优秀传统文化创造性转化、创新性发展。文明因交流而多彩,文明因互鉴而丰富,我们也要从不同文明中寻求智慧、汲取营养,坚持以我为主,兼收并蓄 ③人与自然是相互依存、共生共荣,我们要敬畏生命,坚持节约资源和保护环境的基本国策,走绿色发展道路,建设生态文明,实现可持续发展 ④我国是世界上人口最多的发展中国家。人口基数大,人口素质偏低,是我国人口现状的基本特点 ⑤今年是我国加入世界贸易组织20周年。20年来,我国坚持对外开放,积极适应经济全球化,取得了巨大成就。在经济全球化与世界多极化的进程中,各国在经济、政治、安全、文化等领域应该深化合作,寻求发展

- A. ①③④ B. ②③④⑤ C. ①②④ D. ①③④⑤

12. 下列学习卡片中的内容完全正确的是

<p>“四史”指的是“党史、新中国史、改革开放史、社会主义发展史”,整体讲的就是中国共产党为人民谋幸福、为民族谋复兴、为世界谋大同的实践史,中国共产党的领导是“四史”的主线。</p>	<p>开天辟地、敢为人先的首创精神,坚定理想信念、百折不挠的奋斗精神,立党为公、忠诚为民的奉献精神,是红船精神的深刻内涵;延安精神、抗疫精神、脱贫攻坚精神等都是以改革开放为核心的民族精神的重要组成部分。</p>
<p>1921年党的一大在上海和浙江嘉兴南湖召开。自从有了中国共产党,中国革命的面目就焕然一新了。 1927年八一南昌起义,标志着中国共产党独立的创造革命军队和领导革命战争的开始,也是创建人民军队的开始。 1935年举行的遵义会议,是党的历史上生死攸关的转折点。 1949年在河北平山县西柏坡举行的七届二中全会,解决了中国由新民主主义革命向社会主义革命转变的重大问题。 1987年召开的“十三大”明确提出社会主义初级阶段的理论,并制定了党在初级阶段的基本路线。</p>	<p>1945年党的七大确立毛泽东思想为党的工作的指导思想;以后党的指导思想逐渐丰富发展,具体包括马列主义、毛泽东思想、邓小平理论、“三个代表”重要思想、科学发展观、习近平新时代中国特色社会主义思想。 “中国共产党的初心和使命是为中国人民谋幸福,为中华民族谋复兴。 党的最高领导机关是党的全国代表大会和它产生的中央委员会。 党的根本组织原则是民主集中制。</p>

- A. 1个 B. 2个 C. 3个 D. 4个

第 II 卷 非选择题(共 39 分)

二、简答题(本大题有 4 小题,共 18 分)

13. 基础知识填空(每空 1 分,共 9 分)

- (1)小红听到奶奶去世的消息非常难过,独自到操场大哭了一场,这是用_____法调控情绪。
- (2)在迎泽区人大代表换届选举中,小英的爸爸当选区人大代表,这是通过_____选举的方式产生。
- (3)晓琳的爸爸是国有企业的技术人员,月工资 5 千元;妈妈是外资企业的高管,年薪 20 万元;晓琳出版了一本书,得到稿费 1 万元;晓琳家出租一套空闲房屋年租金 2 万元。晓琳一家全年按生产要素获得的收入共有_____项。晓琳家出租房屋获得租金,是行使了对财产的_____权。

- (4)民法典第 1254 条规定,禁止从建筑物中抛掷物品。从建筑物中抛掷物品或者从建筑物上坠落的物品造成他人损害的,由侵权人依法承担侵权责任。这体现了法律对侵权人的_____作用。民法典的立法程序为法律案的提出、审议、_____、公布。
- (5)某中学邀请杏花岭区人民法院工作人员结合实际,根据未成年人案件的特点,为全校学生上了一节关于预防未成年人犯罪法治宣传教育课,这体现了对未成年人的_____保护。杏花岭区人民法院是_____机关。
- (6)六一前夕,市委、市人大、市政府、_____“四大班子”领导来到 XX 小学调研教育工作,亲切看望慰问少年儿童,祝愿全市少年儿童节日快乐,并向辛勤耕耘的全市教育工作者表示亲切问候。

14.

这样的“星”值得追!

百年征程中,
是他们在指引我们不断前行
李大钊、方志敏、雷锋、钱学森、吴孟超、袁隆平、屠呦呦,张雪梅……
这些耀眼的星,鼓舞着一代又一代人
肩负使命,砥砺前行。
这些耀眼的星,陪伴我们成长、鼓励我们前行,
他们,才是最值得追的星!
这就是偶像的力量
我可能无法像你一样优秀,但因为你,我要成为更好的自己
你从偶像身上获得了怎样的力量?(3分)

15. 2021 年 4 月 29 日,十三届全国人大常委会第二十八次会议通过《中华人民共和国反食品浪费法》,自公布之日起施行。这意味着,从此,厉行节约、反对浪费不再仅仅是倡导和号召,已经成为生效的法律条文。防止食品浪费从此有法可依。

- (1)节约粮食是传统美德,属于个人道德修养范畴,为何要动用法律这一治国重器加以规定?(2分)
- (2)反食品浪费法立法过程中,立法机关开展专题调研、广泛征求各方意见、充分吸纳合理建议,这说明了什么?(2分)

16. 新修订的《中华人民共和国教育法》于2021年4月30日起施行。该法第五条规定：“教育必须为社会主义现代化建设服务、为人民服务，必须与生产劳动和社会实践相结合，培养德智体美劳全面发展的社会主义建设者和接班人”。

2021年的“五一”国际劳动节期间，一份7~9年级新劳动教育清单在网上热传。某中学选择了其中几项要求学生完成：做一次“家庭废物调查”，将废品进行手工改造，废物利用；研究一项自己感兴趣的职业，并通过纪录片、PPT等方式完成一份行业报告并分享给班级内的同学；寻找并了解身边那些长年累月在工作中默默奉献、朴实无华的劳动者。

如果请你选择其中一项完成，你会选择哪一项？说说你的理由。(2分)

三、分析说明题(本大题有1小题,共9分)

17. 《中华人民共和国动物防疫法》已由中华人民共和国第十三届全国人民代表大会常务委员会第二十五次会议于2021年1月22日修订通过,自2021年5月1日起施行。该法第三十条规定,携带犬只出户的,应当按照规定佩戴犬牌并采取系犬绳等措施,防止犬只伤人、疫病传播。

小明所在的社区有一户居民王×遛狗从不系绳。这一天,在小区里,小明看到邻居们又在与王×交涉此事,王×仍然拒不接受大家的建议,只是说:“我家的狗不咬人。”

(1)小明决定上前与王×进行沟通,你觉得小明会说些什么呢?(8分)

(2)如果沟通无效,小明接下来应该怎样做?(1分)

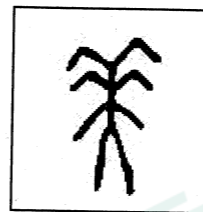
四、实践探究题(本大题有1小题,共12分)

18. 中共中央办公厅、国务院办公厅印发的《关于全面加强和改进新时代学校美育工作的意见》(以下简称《意见》),就全面贯彻党的教育方针,加强和改进新时代学校美育工作进行了系统设计和全面部署。某校就此开展了一次研究性学习活动,请你参与其中,完成下列任务:


(1)甲骨文的“美”写法较多,下半部分是一个“大”,就是一个正面站立的“人”形字,上半部分有点像“羊”,但不是羊,而是一种用毛做的,像羊角形的装饰物,即羊形冠或羊形头饰。全字的含义是带羊形冠和羊形头饰的大人。

许慎《说文解字·羊部》:“美,甘也。从羊,从大”。

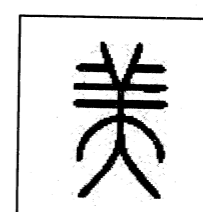
字源演变:



甲骨文



金文



小篆



楷体

从对“美”字的追本溯源中,你体会到了什么?(2分)

(2)《意见》提出,要把中小学生学习音乐、美术、书法等艺术类课程以及参与学校组织的艺术实践活动情况纳入学业要求,探索将艺术类科目纳入初、高中学业水平考试范围。对于上述要求,你怎么看?(3分)

(3)结合《意见》的要求,学校准备开设如下美育选修课。请你选择其中的一项作一个推介说明。(2分)



国画



书法



京剧

(4)2021年,中国共产党迎来百年华诞。学校将结合美育教育举办以“听党话、感党恩、跟党走”为主题的校园艺术节活动,现正征集活动方案,请你设计出三个板块。(写出活动形式与主要内容)(3分)

(5)完成了上述任务,你有哪些感想?(2分)

弥 封 线 内 不 要 答 题

太原市 2021 年初中毕业班综合测试 (三)

文科综合 (道德与法治) 答题卡

姓 名 _____ 准考证号

<p>考生禁涂</p> <p>缺考考生，由监考员用2B铅笔填涂下面的缺考标记</p> <p style="text-align: center;"><input type="checkbox"/></p> <p>缺考标记</p>	<p>注 意 事 项</p>	<p>1. 答题前，考生先将自己的姓名及准考证号填写清楚，并认真核对条形码上的姓名及准考证号。</p> <p>2. 选择题必须使用2B铅笔填涂；非选择题必须使用0.5毫米的黑色笔迹签字笔书写，字体工整、笔迹清晰。</p> <p>3. 请按照题号顺序在各题目的答题区域内作答，超出答题区域书写的答案无效；在草稿纸、试卷上答题无效。</p> <p>4. 保持清洁，不要折叠，不要弄破、弄皱，不准使用涂改液、修正带、刮纸刀。</p>	<p>正确填涂 样例</p> <p style="text-align: center;">■</p>
--	-----------------------------------	---	--



选择题

1 <input type="checkbox"/> A <input type="checkbox"/> B <input type="checkbox"/> C <input type="checkbox"/> D	6 <input type="checkbox"/> A <input type="checkbox"/> B <input type="checkbox"/> C <input type="checkbox"/> D	11 <input type="checkbox"/> A <input type="checkbox"/> B <input type="checkbox"/> C <input type="checkbox"/> D
2 <input type="checkbox"/> A <input type="checkbox"/> B <input type="checkbox"/> C <input type="checkbox"/> D	7 <input type="checkbox"/> A <input type="checkbox"/> B <input type="checkbox"/> C <input type="checkbox"/> D	12 <input type="checkbox"/> A <input type="checkbox"/> B <input type="checkbox"/> C <input type="checkbox"/> D
3 <input type="checkbox"/> A <input type="checkbox"/> B <input type="checkbox"/> C <input type="checkbox"/> D	8 <input type="checkbox"/> A <input type="checkbox"/> B <input type="checkbox"/> C <input type="checkbox"/> D	
4 <input type="checkbox"/> A <input type="checkbox"/> B <input type="checkbox"/> C <input type="checkbox"/> D	9 <input type="checkbox"/> A <input type="checkbox"/> B <input type="checkbox"/> C <input type="checkbox"/> D	
5 <input type="checkbox"/> A <input type="checkbox"/> B <input type="checkbox"/> C <input type="checkbox"/> D	10 <input type="checkbox"/> A <input type="checkbox"/> B <input type="checkbox"/> C <input type="checkbox"/> D	

非选择题

13. (1) _____

(2) _____

(3) _____

(4) _____

(5) _____

(6) _____

14. _____

15. (1) _____

(2) _____

16. _____

请在各题目的答题区域内作答，超出黑色矩形边框限定区域的答案无效

请在各题目的答题区域内作答，超出黑色矩形边框限定区域的答案无效

17.(1)

(2)

18.(1)

(2)

(3)

(4)

(5)

请在各题目的答题区域内作答，超出黑色矩形边框限定区域的答案无效