

2020~2021 学年第二学期七年级期末考试

历史试卷

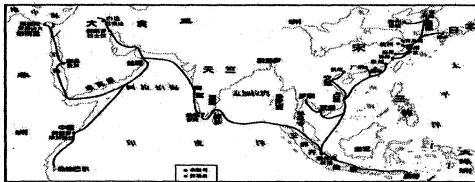
(考试时间:下午4:30—6:00)

说明:本试卷为闭卷笔答,答题时间90分钟,满分100分。





题号	一	二	三	四	总分
得分					

一、选择题(在每小题的四个选项中,只有一项最符合题意,请将正确选项的字母填在下列表格中。)(每小题2分,共30分)

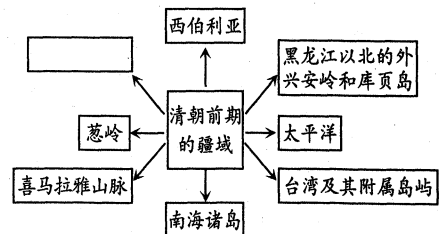
题号	1	2	3	4	5	6	7	8	9	10	11	12	13	14	15
得分															

- 元朝时,迁入中国的阿拉伯人、波斯人,同畏兀儿、蒙、汉等族逐步融合形成一个新的民族,从而出现了民族大融合的盛况。这个新的民族是
A. 朝鲜族 B. 回族 C. 维吾尔族 D. 傣族
 - 宋代城市不断发展,市民阶层不断壮大。为了满足市民阶层的需求,社会上出现许多新的现象。这些新的现象有
A. 开封城内的夜市繁荣 B. 推广种植玉米、甘薯
C. 端午节划龙舟吃粽子 D. 老百姓领取开荒执照
 - 观察《宋代海外贸易图》,提取历史信息。下列说法正确的是
A. 宋朝海外贸易路线直达欧洲
B. 政府设市舶司管理海外贸易
C. 宋朝首次开辟中亚到欧洲的商路
D. 宋朝政府派遣船队出使西洋诸国
- 
- 陈寅恪先生评价宋朝文学艺术“华夏民族的文化,历数千载之演进,造极于赵宋之世”。下列属于宋朝文学艺术成就的是
A. 李白的《望庐山瀑布》 B. 关汉卿的《清明上河图》
C. 苏轼的《水调歌头》 D. 赵孟頫的《秋郊饮马图》
 - 《马可·波罗行纪》中记载,从大都有许多道路通往各地,大路上每隔大约25哩(英里)就有一座驿站。在元朝驿站超过10000多所,驿马超过30万匹,各种物资都很齐备。不管来自何地的使臣,只要带有乘驿金牌都能得到供应,马可波罗正是这样完成在中国的旅行。上述材料反映了
A. 元朝战争频繁 B. 元朝交通便捷 C. 元朝商业繁荣 D. 元朝农业发展

- 明代读书人只会按照固定的题目做没有原创性的文章。他们对“四书”的内容甚至并不了解,但只要能背诵范文,就可以应付考试。造成这一现象是由于明朝
A. 设立军机处 B. 采用八股取士 C. 废除丞相制度 D. 设立厂卫机构
- 明朝有位叫钱宰的官员,因为每天都要早起上朝,在家写了一首打油诗发牢骚,其中有一句“四鼓咚咚起着衣,午门朝见尚嫌迟。”朱元璋第二天就对他说,我并没有“嫌”你,改成“忧”字更合适。朱元璋是通过下面哪一机构知道这首诗的



- 郑和时代的中国,真正承担了一个文明大国的责任:强大却不称霸,播仁爱于友邦,宣诏颁赏,厚往薄来。由此可以判断郑和下西洋的目的是为了
A. 加强同各国的友好往来 B. 炫耀自己国力强盛
C. 增加明朝政府财政收入 D. 寻找失踪的建文帝
- 小明看到了下面一些被清朝统治者认为“大逆不道”的诗句,清朝统治者的目的是
☆清风不识字,何故乱翻书 ☆明月有情还顾我,清风无意不留人
A. 推动科举制的发展 B. 推动思想学术的繁荣
C. 推动当时社会发展 D. 加强了思想领域控制
- 《清史稿·圣祖本纪》中记载了这样一件事:“康熙二十三年正月,罗利踞雅克萨、尼布楚二城,饬断其贸易,萨布素以兵临之。”该事件是
A. 郑成功收复台湾 B. 抗击沙皇俄国侵略
C. 土尔扈特部回归 D. 平定准噶尔部叛乱
- 台湾第一任巡抚施琅曾谏言:“台湾虽在外岛,关四省要害,断不可弃。”1684年,康熙帝采纳其谏言设立了
A. 伊犁将军 B. 驻藏大臣 C. 台湾府 D. 澎湖巡检司
- 小明同学在通俗历史读物《历史是一群喵》中看到这一个观点“清朝奠定了近代中国的版图”。清朝疆域示意图中的 应填入
A. 西域 B. 安西都护府
C. 伊犁 D. 巴勒喀什池
- 山西夏县人常自豪地说“钟秀夏县有瑶台,温公祠奉司马光”。下列名著由司马光编撰的是
A. 《史记》 B. 《资治通鉴》 C. 《红楼梦》 D. 《四库全书》



14. 明清时期出现了许多大型书籍,其中《农政全书》共60卷,50余万字;《天工开物》几乎涵盖当时中国农业和手工业的所有生产、加工部门;《康熙字典》共收入47000多个字。这一时期出现诸多大型图书的共同原因主要是

- A. 经济繁荣 B. 政府支持 C. 思想解放 D. 对外开放


15. 戏曲是中国传统艺术之一,具有鲜明的民族特色。关于下列戏曲小知识说法正确的是

- A. 《桃花扇》是元代杂剧作家白朴的作品 B. 昆曲《牡丹亭》只保留了南曲的清柔婉转
C. 京剧是在徽调、汉调基础上形成的 D. 清代成为中国古代的戏曲艺术最繁荣时期

二、简答题(本大题共18分)

16. 中华传统文化是几千年来中国人民智慧的结晶,它深深的植根于中国社会的方方面面。根据要求,完成下面相关任务。

(1)【中医之道】是中国传统文化的瑰宝。请你观察图片,简述图中名医的历史贡献。(4分)



(2)【科技之光】照亮人类前行的道路。宋代是中国古代科学技术发展史上最辉煌的时期,请你将这一时期中国古代四大发明的小报内容补充完整。(6分)

四大发明

指南针

战国“司南”——宋代制成人造磁铁——北宋末年中国海船上开始使用指南针——由阿拉伯人传向欧洲。

造纸术

西汉蔡伦改进造纸术,使纸的质量大大提高。纸术的发明,是中国对世界文明的伟大贡献之一。


火药

唐朝发明火药——唐末应用于军事领域——① 广泛应用于战争。


活字印刷术

②

(3)【建筑之美】建筑中蕴含着深厚的文化内涵。观察图片简述紫禁城的建筑特点和长城的功能,并归纳两组建筑所反映的共同精神内涵。(8分)



紫禁城



八达岭长城

三、材料解析题(本大题共两小题,17题14分,18题18分,共32分)

17. 文学作品来源于社会生活,文学作品记录时代的变迁。阅读下列材料,结合所学知识回答问题。

材料一 东南形胜,三吴都会,钱塘(今杭州)自古繁华。烟柳画桥,风帘翠幕,参差十万人家……市列珠玑(珠玉),户盈罗绮,竞豪奢。

——(宋)柳永《望海潮》

(1)根据材料一,归纳宋朝都城“钱塘”繁华的表现并分析其成因。(6分)

材料二 明代小说《醒世恒言》中有这样一段描述:苏州府盛泽镇上男女老少都以蚕桑为业,丝织作坊彻夜工作。这里有说合买卖双方成交而从中取得佣金的绸丝牙行千百家。周围村镇的手工业者和商人都在这里交易买卖,人头攒动,热闹非凡。

(2)根据材料二,明朝时盛泽镇经济发展出现了哪些新变化?(4分)

材料三 晋商历史小说《大商道》中提到:明清以来,凡有麻雀的地方就有山西商人的影子。大凡繁华都市、水陆码头、交通要津、商业集镇都建有晋商会馆。清代著名晋商乔致庸提出:“首重信,次讲义,第三才是利。”

(3)根据材料三,概括明清时期山西晋商发展的特点。(4分)

18. 在历史发展的长河中,政策调整事关国家长治久安。阅读下列材料,结合所学知识,回答问题。

材料一 “在宋以前有三公坐而论道的说法……到宋朝便不然了。从太祖以后,大臣上朝在皇帝面前无坐处,一坐群站,在明代,不但不许坐,站着都不行,得跪着说话了。”

——吴晗《朱元璋》

(1)材料一中大臣“从坐到站再到跪”的变化与明代的哪些措施有关?(4分)

材料二 军机处之所以创立,部分是由于雍正帝需要一个联系紧密的助手小班子帮助他起草敕令;部分则由于它是一种避开权势显赫的亲王,从而进一步巩固皇权和提高效率的手段。军机大臣与皇上并肩商讨国是,并就一些皇上还未批阅的奏折提出对策建议,以及尽力记下皇上的旨意,然后回去起草谕旨。

——摘编自徐中约《中国近代史:1600—2000,中国的奋斗》

(2)根据材料二,概括军机处设立的原因并简述其职能。(4分)

材料三 清初,小农思想指导下的对外政策,进取不足而保守有余,统治者对当时世界大势缺乏足够认识,以天朝大国乃世界之中心自居,视外国为蛮夷,居高临下地处处加以提防。

——摘编自樊树志《国史概要》

(3)根据材料三,写出清朝前期实行的对外政策,并分析该政策对当时社会发展产生的影响。(6分)

(4)综合上述材料,概括中国古代政治制度和对外政策的发展趋势。(4分)

四、探究题(本大题共20分)


19. 元明清时期是中国统一多民族国家巩固和发展的重要时期。七年级同学以“统一的历程”为主题开展了丰富多彩的探究活动,请你一起完成探究任务。

任务一 【名画中的历史——维护国家统一】

(1)下面名画分别反映了中央政府维护国家统一的场景,请你任选其一,为其写出简介。(6分)



图一 明代《抗倭图卷》(局部)



图二 清代《顺治会晤五世达赖图》

任务二 【史料中的历史——加强国家统一】

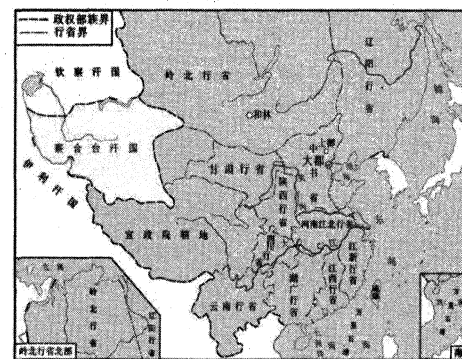
(2)下列材料分别反映了元明清统治者采取哪些措施加强国家统一的?它们的共同目的是什么?(6分)

材料一 元世祖即位之初发布诏令:“国以民为本,民以衣食为本,衣食以农桑为本。”
——《元史·食货志》

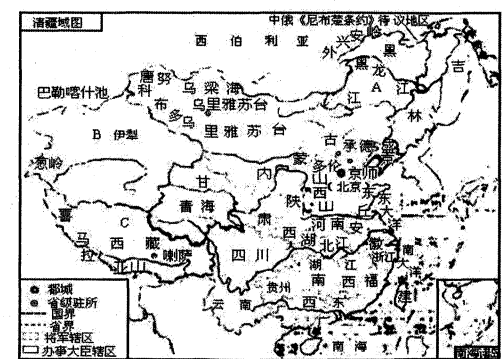
材料二 孔子封号(部分)
元成宗大德十二年(公元1307年):大成至圣文宣王
明世宗嘉靖八年(公元1529年):至圣先师
清世祖顺治二年(公元1645年):大成至圣文宣先师
——《孔府档案》

任务三 【地图中的历史——巩固国家统一】

(3)观察地图,结合史实说明元朝和清朝为统一多民族国家的巩固和发展所做出的贡献。(8分)



图三《元朝疆域图》(1330年)



图四《清朝疆域图》(1820年)


2020~2021 学年第二学期七年级期末考试

历史答题卡



姓 名 _____

考试编号 _____

<p>学生禁填</p> <p>未参加测评的学生，由监考教师用2B铅笔填涂下面的未测标记 <input type="checkbox"/></p> <p>未测标记</p>	<p>注意事项</p>	<ol style="list-style-type: none"> 1. 答题前，学生在答题卡相应位置填写姓名及考试编号。 2. 答选择题时，必须使用2B铅笔填涂。修改时，要用橡皮将修改处擦干净，规范填涂样例： 3. 答非选择题时，必须使用0.5毫米的黑色笔迹签字笔书写，要求字体工整，笔迹清晰，严格按题目所指示的答题区域作答，超出答题区域书写的答案无效，在试题草稿纸上答题无效。 4. 保持答题卡清洁、完整，严禁折叠，严禁在答题卡上作任何标记，严禁使用涂改液、胶带纸和修正带。 5. 未按上述要求填写、答题，影响评分质量，后果自负。
---	--------------------	--

选择题

1 <input type="checkbox"/> A <input type="checkbox"/> B <input type="checkbox"/> C <input type="checkbox"/> D	6 <input type="checkbox"/> A <input type="checkbox"/> B <input type="checkbox"/> C <input type="checkbox"/> D	11 <input type="checkbox"/> A <input type="checkbox"/> B <input type="checkbox"/> C <input type="checkbox"/> D
2 <input type="checkbox"/> A <input type="checkbox"/> B <input type="checkbox"/> C <input type="checkbox"/> D	7 <input type="checkbox"/> A <input type="checkbox"/> B <input type="checkbox"/> C <input type="checkbox"/> D	12 <input type="checkbox"/> A <input type="checkbox"/> B <input type="checkbox"/> C <input type="checkbox"/> D
3 <input type="checkbox"/> A <input type="checkbox"/> B <input type="checkbox"/> C <input type="checkbox"/> D	8 <input type="checkbox"/> A <input type="checkbox"/> B <input type="checkbox"/> C <input type="checkbox"/> D	13 <input type="checkbox"/> A <input type="checkbox"/> B <input type="checkbox"/> C <input type="checkbox"/> D
4 <input type="checkbox"/> A <input type="checkbox"/> B <input type="checkbox"/> C <input type="checkbox"/> D	9 <input type="checkbox"/> A <input type="checkbox"/> B <input type="checkbox"/> C <input type="checkbox"/> D	14 <input type="checkbox"/> A <input type="checkbox"/> B <input type="checkbox"/> C <input type="checkbox"/> D
5 <input type="checkbox"/> A <input type="checkbox"/> B <input type="checkbox"/> C <input type="checkbox"/> D	10 <input type="checkbox"/> A <input type="checkbox"/> B <input type="checkbox"/> C <input type="checkbox"/> D	15 <input type="checkbox"/> A <input type="checkbox"/> B <input type="checkbox"/> C <input type="checkbox"/> D

非选择题

二、简答题

16. (1) _____

(2) ① _____ ② _____

(3) _____

三、材料解析题

17. (1) _____

(2) _____

(3) _____

请在各题目的答题区域内作答，超出答题区域的答案无效

请在各题目的答题区域内作答，超出答题区域的答案无效

18.(1)

(2)

(3)

(4)

四、探究题

19.(1)

(2)

(3)

请在各题目的答题区域内作答，超出答题区域的答案无效