

## 2020~2021 学年第二学期七年级期末考试

# 地理试卷

(考试时间:上午10:00—11:30)

说明:本试卷为闭卷笔答,答题时间90分钟,满分100分。

题号	二					总分
	21	22	23	24	25	
得分						

一、选择题(本题共20个小题,每小题2分,共40分。下列各题的选项中,只有一项符合题意,请将正确选项的序号填入下表相应位置。)

题号	1	2	3	4	5	6	7	8	9	10
答案										
题号	11	12	13	14	15	16	17	18	19	20
答案										

2021年3月23日,一艘超大型集装箱船“长赐”号在苏伊士运河搁浅,造成这条重要的国际航道双向通航中断。下图示意“苏伊士运河位置”。据此完成1~3题。



1. 苏伊士运河是两大洲的分界线,这两大洲是  
A. 亚洲、大洋洲                      B. 亚洲、非洲  
C. 欧洲、大洋洲                      D. 欧洲、非洲
2. 搁浅的“长赐”号直接阻断的海域是  
A. 地中海-大西洋                    B. 地中海-黑海  
C. 红海-阿拉伯海                    D. 红海-地中海
3. 由于苏伊士运河被堵,部分商船可能绕行  
A. 巴拿马运河    B. 非洲好望角    C. 马六甲海峡    D. 霍尔木兹海峡

第32届夏季奥运会定于2021年7月23日在日本东京举行,日本将是亚洲两次举办夏季奥运会的国家。该届奥运会奖牌使用的金属来自废弃手机、电脑等电子产品。据此完成4~6题。

4. 从经济状况看,日本能两次获得举办奥运会资格的优势是  
A. 山地为主,景色宜人              B. 地狭人稠,气候暖湿  
C. 经济发达,资金雄厚              D. 交通闭塞,设施先进
5. 该届奖牌的制作体现了日本  
A. 经济落后    B. 矿产资源丰富    C. 生活节俭    D. 资源循环利用
6. 奥运会是举办国展示优秀文化的有利契机。下列能体现日本文化特征的是



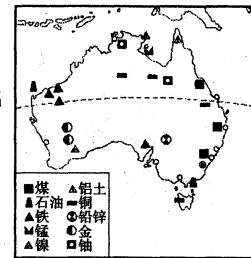
- A. ①②③      B. ②③④      C. ①③④      D. ①②④

目前,非洲版抖音——“Vskit”在撒哈拉以南非洲国家广泛流行,坦桑尼亚青年吉姆经常在“Vskit”晒自己的家乡。结合图片完成7~9题。



7. 吉姆家乡的居民主要属于  
A. 黑色人种    B. 白色人种    C. 黄色人种    D. 混血人种
8. 我们在“Vskit”上看到当地的景象可能有  
A. 袋鼠跳跃    B. 熊猫嬉戏    C. 角马迁徙    D. 驯鹿奔跑
9. 该景象反映的气候类型是  
A. 热带雨林气候    B. 热带草原气候    C. 热带季风气候    D. 热带沙漠气候

据报道,2020年我国进口的铁矿石约有60%来自澳大利亚。下图示意“澳大利亚矿产资源分布”。据此完成10~12题。



10. 横穿澳大利亚中部的特殊纬线是  
A. 南极圈    B. 南回归线    C. 北极圈    D. 北回归线
11. 澳大利亚矿产资源丰富,被称为  
A. “坐在矿车上的国家”              B. “铜矿之国”  
C. “石油王国”                          D. “黄金之国”
12. 澳大利亚铁矿石的分布地区靠近  
A. 太平洋    B. 大西洋    C. 北冰洋    D. 印度洋

历时179天的“雪龙2”号于2021年5月6日下午顺利返回上海港,标志着中国第37次南极科学考察任务圆满完成。据此完成13~14题。

13. 赴南极开展科学考察的最佳时间是  
A. 3月-5月    B. 6月-8月    C. 9月-11月    D. 11月-次年3月
14. 队员在南极科学考察中需要适应的气候环境是  
A. 台风、寒潮、干旱                  B. 酷寒、烈风、干燥  
C. 暴雨、雷电、冰雹                  D. 飓风、暴雨、寒潮

欧洲西部地形以平原为主,温带海洋性气候分布广泛,河网密集,是世界上发达国家最集中的区域。下图示意“欧洲西部”。据此完成15~17题。



15. 欧洲西部的河流四季通航,其中商业价值最高的河流是  
A. 多瑙河    B. 莱茵河    C. 乌拉尔河    D. 易北河
16. 欧洲西部温和湿润的平原地区最适宜发展的农业是  
A. 种植业    B. 渔业    C. 畜牧业    D. 林业
17. 近年来,中欧贸易额迅速增长,欧洲西部国家出口到我国的货物可能有  
A. 石油、瓷器、稻米                  B. 服装、木材、铁矿石  
C. 橡胶、油棕、锡矿                  D. 汽车、葡萄酒、奶制品

2021年2月10日,中国与尼日利亚建交50周年,已成为尼日利亚全球最大贸易伙伴。下图示意“尼日利亚”。据此完成18~20题。



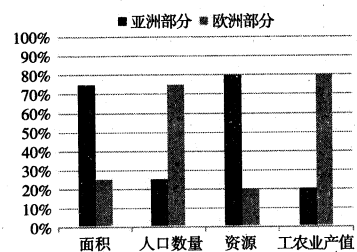
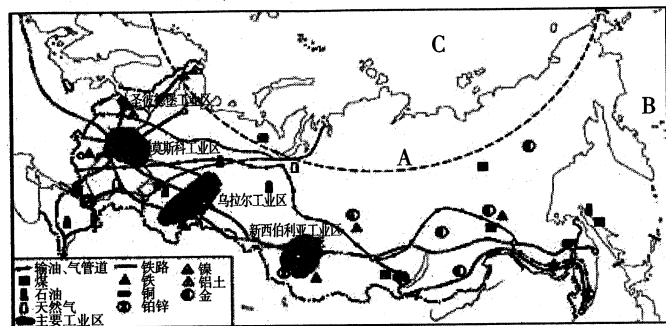
18. 尼日利亚有“西非经济巨人”之称,该国位于非洲  
A. 北部    B. 南部    C. 西部    D. 东部
19. 为该国农业发展提供灌溉水源的主要河流是  
A. 亚马孙河    B. 尼日尔河    C. 伏尔加河    D. 尼罗河
20. 尼日利亚的首都是  
A. 阿布贾    B. 迈杜古里    C. 拉各斯    D. 哈科特港

二、非选择题(本题共4个小题,每小题15分,共60分。)

21. (15分)【互联互通 合作共赢】

资料一 俄罗斯是世界上天然气资源最丰富、产量最大、天然气管道最长、出口量最多的国家,有“天然气王国”之誉。2021年2月21日,中欧班列从成都国际铁路港缓缓驶出,预计13天后抵达俄罗斯圣彼得堡,本次专列承运的是中国公司在波罗的海的项目建设所用的配套物资。据了解,这个天然气化工综合体(GCC)项目合同金额接近1000亿元,是全球最大的乙烯(气体)一体化项目,也是中国企业“走出去”的最大合同额项目。

资料二 “俄罗斯矿产资源、工业区和交通示意图”和“俄罗斯亚洲、欧洲部分占比”



思考完成:

(1) 写出图中字母所代表的地理事物名称。(3分)

纬线:A \_\_\_\_\_ 大洋:B \_\_\_\_\_ 大洋:C \_\_\_\_\_

(2) 俄罗斯地跨亚、欧两大洲,阅读图表任选两项比较亚、欧两部分的占比情况。(4分)

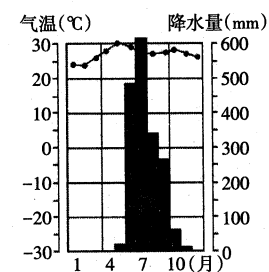
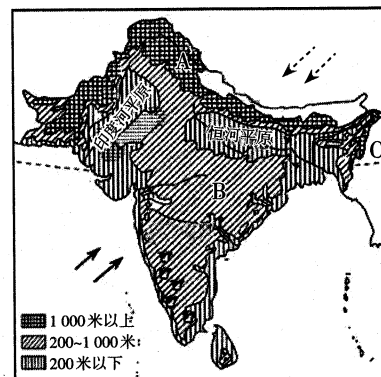
(3) 概括俄罗斯铁路网的分布特征,并简析其主要原因。(4分)

(4) 简述俄罗斯基础工业发达的优势,推测俄罗斯出口到中国的物资。(4分)

22. (15分)【独特水井 古老文明】

资料一 印度全年高温,分为明显的旱雨两季。西部地区较为干旱,为适应当地气候,古印度人发明了一种独特的阶梯井,整口井呈倒金字塔形向下延伸,四面都有台阶,方便人们从各个角度下去取水。旱季来临,阶梯井为人们提供生产生活用水;每当雨季,台阶(多达一百多级)会被升高的水位淹没。阶梯井已有上千年历史,是古代印度文明的一个标志性建筑物,有蓄水、纳凉、祈祷等多种用途,也展现了古印度石匠的高超技术。“王后”阶梯井规模宏大、浮雕精美,于2014年6月被列入《世界遗产名录》。

资料二 “南亚地形示意图”和“孟买气候图”



“王后”阶梯井

思考完成:

(1) 写出图中字母所代表的地理事物名称。(3分)

山脉:A \_\_\_\_\_ 高原:B \_\_\_\_\_ 纬线:C \_\_\_\_\_

(2) 说出印度有“圣河”之称的第一大河。(2分)

(3) 概括印度的气候类型,并说出影响其气候的两种季风风向。(4分)

(4) 推测古代时期,印度阶梯井使用频率较高的月份,并说明理由。(3分)

(5) 印度在建筑、雕刻、文学、哲学、自然科学和宗教等方面为人类文明作出了巨大贡献。请列举三例。(3分)

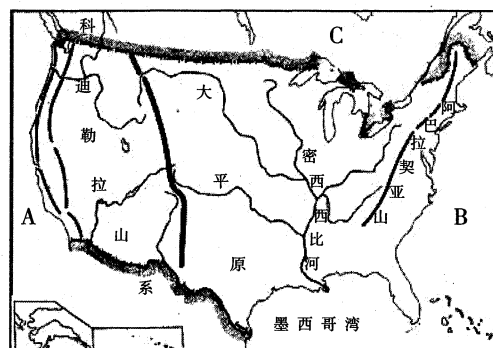
23. (15分)【相约云端 游览世界】

资料一 疫情虽然阻挡了世界各国人们线下旅行的脚步,却挡不住人们开拓视野、欣赏世界的欲望。太原市某中学地理兴趣小组的同学们通过“云游”收集整理了美国部分资料。

**黄石国家公园**  
黄石国家公园位于美国中西部,是世界上第一个国家公园,1978年被列入《世界遗产名录》。该公园是世界上最大的火山口之一,拥有众多的瀑布、峡谷、温泉和间歇泉等。间歇泉是间断喷发的温泉,多发生于火山运动活跃的区域,有人把它比做“地下的天然锅炉”。

**斯图尔特农场**  
斯图尔特兄弟俩经营着祖辈在19世纪建立的8000英亩家庭农场,主要种植玉米和大豆,在一片树林养殖马匹。农场拥有大型拖拉机和联合收割机,耕地连成一片,便于机械化作业。如果需要,兄弟俩只要拨打电话,每项工作都可以找到专业的公司代劳。

资料二 “美国地形分布示意图”



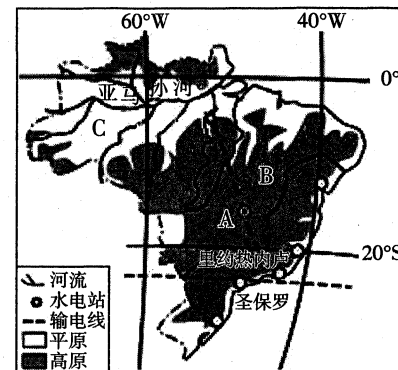
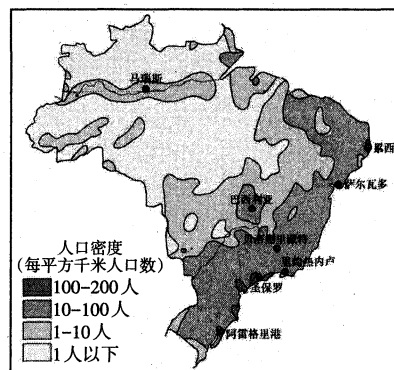
思考完成:

- 写出图中字母所代表的地理事物名称。(3分)  
大洋:A \_\_\_\_\_ 大洋:B \_\_\_\_\_ 国家:C \_\_\_\_\_
- 美国领土包括北美洲中部的本土、西北部的 \_\_\_\_\_ 和太平洋上的 \_\_\_\_\_ 群岛组成,陆地面积930多万平方千米,居世界第 \_\_\_\_\_ 位。(3分)
- 黄石国家公园多火山、温泉,说出其所属的火山地震带。(2分)
- 美国本土地形分为三个南北纵列带,推测斯图尔特农场所在的地形区,并说明理由。(5分)
- 以斯图尔特农场为例,概括美国农业生产的主要特点。(2分)

24. (15分)【中巴“压舱石” 中国“新名片”】

资料一 2020年12月27日,巴西美丽山特高压输电二期项目获得中国工业大奖,成为首个获此殊荣的中国海外项目。美丽山水电站坐落于亚马孙河下游,该项目采用中国特高压输电技术,高效率、低成本、绿色地完成了“北电南送”的重大“电力搬运”工程,有效缓解了巴西东南部能源紧张问题,对深化落实国家“走出去”战略、加快提升我国企业国际竞争力,起到重要推动和示范作用,是中国和巴西全面提升战略伙伴关系的“压舱石”、走向世界的“新名片”。

资料二 “巴西人口、城市分布示意图”和“巴西美丽山特高压输电线路示意图”




思考完成:

- 写出右图中字母所代表的地理事物名称。(3分)  
首都:A \_\_\_\_\_ 高原:B \_\_\_\_\_ 平原:C \_\_\_\_\_
- 巴西是 \_\_\_\_\_ 洲面积最大的国家,原住居民为 \_\_\_\_\_,种族构成中混血种人所占比例较高。(2分)
- 概括巴西人口、城市的分布特征,并简析其主要原因。(4分)
- 与煤炭、石油、天然气等矿物能源相比,说出巴西水力发电的优势。(3分)
- 简述此次中巴两国合作的重要意义。(3分)

奖励题(加入总分不再另计,高出试卷满分者也按100分计)

25. (3分)日本合掌屋已有400年历史,屋顶倾斜约60度,屋顶茅草厚度达七八十厘米。下图示意“日本”。据此完成下列要求。

- 图中A、B两地最适宜修建合掌屋的是 \_\_\_\_\_。(1分)
- 简析合掌屋屋顶倾斜大、茅草厚的主要原因。(2分)



地理答题卡

姓名 \_\_\_\_\_

(贴条形码区)

考试编号 \_\_\_\_\_

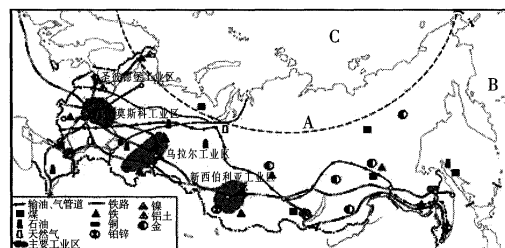
<p><b>学生禁涂</b> 未参加测评的学生，由监考教师用2B铅笔填涂下面的未测标记</p> <p><input type="checkbox"/></p> <p>未测标记</p>	<p><b>注意事项</b></p>	<p>1. 答题前，学生在答题卡相应位置填写姓名及考试编号。</p> <p>2. 答选择题时，必须使用2B铅笔填涂；修改时，要用橡皮将修改处擦干净，规范填涂样例：<input type="checkbox"/></p> <p>3. 答非选择题时，必须使用0.5毫米的黑色笔迹签字笔书写，字体工整、笔迹清晰，严格按题目所指示的答题区域内作答，超出答题区域书写的答案无效；在试题草稿纸上答题无效。</p> <p>4. 保持清洁，完整，严禁折叠，严禁在答题卡上作任何标记，严禁使用修改液、胶带纸和修正带。</p> <p>5. 未按上述要求填写、答题，影响评分质量，后果自负。</p>
---	--------------------	--

一、选择题

- |   |  |  |  |
|---|--|--|--|
| 1 <input type="checkbox"/> A <input type="checkbox"/> B <input type="checkbox"/> C <input type="checkbox"/> D | 6 <input type="checkbox"/> A <input type="checkbox"/> B <input type="checkbox"/> C <input type="checkbox"/> D  | 11 <input type="checkbox"/> A <input type="checkbox"/> B <input type="checkbox"/> C <input type="checkbox"/> D | 16 <input type="checkbox"/> A <input type="checkbox"/> B <input type="checkbox"/> C <input type="checkbox"/> D |
| 2 <input type="checkbox"/> A <input type="checkbox"/> B <input type="checkbox"/> C <input type="checkbox"/> D | 7 <input type="checkbox"/> A <input type="checkbox"/> B <input type="checkbox"/> C <input type="checkbox"/> D  | 12 <input type="checkbox"/> A <input type="checkbox"/> B <input type="checkbox"/> C <input type="checkbox"/> D | 17 <input type="checkbox"/> A <input type="checkbox"/> B <input type="checkbox"/> C <input type="checkbox"/> D |
| 3 <input type="checkbox"/> A <input type="checkbox"/> B <input type="checkbox"/> C <input type="checkbox"/> D | 8 <input type="checkbox"/> A <input type="checkbox"/> B <input type="checkbox"/> C <input type="checkbox"/> D  | 13 <input type="checkbox"/> A <input type="checkbox"/> B <input type="checkbox"/> C <input type="checkbox"/> D | 18 <input type="checkbox"/> A <input type="checkbox"/> B <input type="checkbox"/> C <input type="checkbox"/> D |
| 4 <input type="checkbox"/> A <input type="checkbox"/> B <input type="checkbox"/> C <input type="checkbox"/> D | 9 <input type="checkbox"/> A <input type="checkbox"/> B <input type="checkbox"/> C <input type="checkbox"/> D  | 14 <input type="checkbox"/> A <input type="checkbox"/> B <input type="checkbox"/> C <input type="checkbox"/> D | 19 <input type="checkbox"/> A <input type="checkbox"/> B <input type="checkbox"/> C <input type="checkbox"/> D |
| 5 <input type="checkbox"/> A <input type="checkbox"/> B <input type="checkbox"/> C <input type="checkbox"/> D | 10 <input type="checkbox"/> A <input type="checkbox"/> B <input type="checkbox"/> C <input type="checkbox"/> D | 15 <input type="checkbox"/> A <input type="checkbox"/> B <input type="checkbox"/> C <input type="checkbox"/> D | 20 <input type="checkbox"/> A <input type="checkbox"/> B <input type="checkbox"/> C <input type="checkbox"/> D |

二、非选择题

21.



(1) A \_\_\_\_\_ B \_\_\_\_\_ C \_\_\_\_\_

(2) \_\_\_\_\_

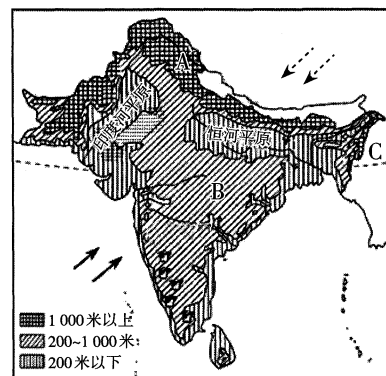
(3) \_\_\_\_\_

请在各题目的答题区域内作答，超出黑色矩形边框限定区域的答案无效

请在各题目的答题区域内作答，超出黑色矩形边框限定区域的答案无效

(4) \_\_\_\_\_

22.



(1) A \_\_\_\_\_ B \_\_\_\_\_ C \_\_\_\_\_

(2) \_\_\_\_\_

(3) \_\_\_\_\_

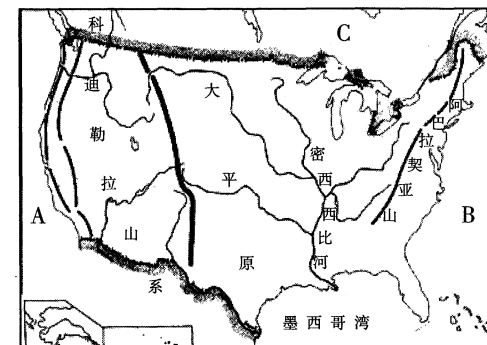
(4) \_\_\_\_\_

请在各题目的答题区域内作答，超出黑色矩形边框限定区域的答案无效

请在各题目的答题区域内作答，超出黑色矩形边框限定区域的答案无效

(5) \_\_\_\_\_

23.



(1) A \_\_\_\_\_ B \_\_\_\_\_ C \_\_\_\_\_

(2) \_\_\_\_\_

(3) \_\_\_\_\_

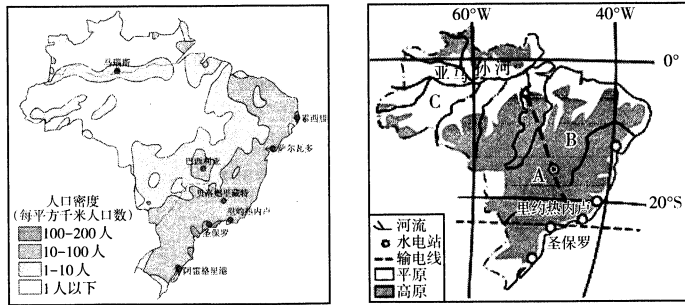
(4) \_\_\_\_\_

(5) \_\_\_\_\_

请在各题目的答题区域内作答，超出黑色矩形边框限定区域的答案无效

请在各题目的答题区域内作答，超出黑色矩形边框限定区域的答案无效

24.



(1) A \_\_\_\_\_ B \_\_\_\_\_ C \_\_\_\_\_

(2) \_\_\_\_\_

(3) \_\_\_\_\_

\_\_\_\_\_

\_\_\_\_\_

\_\_\_\_\_

\_\_\_\_\_

(4) \_\_\_\_\_

\_\_\_\_\_

\_\_\_\_\_

\_\_\_\_\_

(5) \_\_\_\_\_

\_\_\_\_\_

\_\_\_\_\_

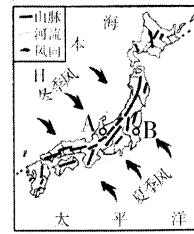
\_\_\_\_\_

请在各题目的答题区域内作答，超出黑色矩形边框限定区域的答案无效

请在各题目的答题区域内作答，超出黑色矩形边框限定区域的答案无效

奖励题

25.



(1) \_\_\_\_\_

(2) \_\_\_\_\_

\_\_\_\_\_

\_\_\_\_\_

\_\_\_\_\_

\_\_\_\_\_

\_\_\_\_\_

\_\_\_\_\_

\_\_\_\_\_

\_\_\_\_\_

\_\_\_\_\_

\_\_\_\_\_

\_\_\_\_\_

\_\_\_\_\_

\_\_\_\_\_

请在各题目的答题区域内作答，超出黑色矩形边框限定区域的答案无效

请在各题目的答题区域内作答，超出黑色矩形边框限定区域的答案无效

请在各题目的答题区域内作答，超出黑色矩形边框限定区域的答案无效