

2020~2021 学年第二学期八年级期末考试

物理试卷

(考试时间:上午 10:00—11:30)

说明:本试卷为闭卷笔答,答题时间 90 分钟,满分 100 分。

题号	一	二	三	四	五	总分
得分						

一、选择题(本大题共 10 个小题,每小题 3 分,共 30 分。每小题只有一个选项符合题意,请将其字母标号填入下表相应题号的空格内)

题号	1	2	3	4	5	6	7	8	9	10
答案										

- 疫情防控不松懈,守护健康不停歇。对下列防控物品的估测最接近实际的是
 - A. 一张消毒湿巾的厚度约为 50mm
 - B. 一只长方形口罩的面积约为 500cm²
 - C. 将测温枪举高 0.5m 所做的功约为 50J
 - D. 一瓶家用洗手液的重力约为 5N
- 下列物体运动状态没有发生改变的是
 - A. 正在掉落的苹果
 - B. 在平直公路上匀速行驶的汽车
 - C. 正在草地上滚动的足球
 - D. 绕地球匀速飞行的人造卫星
- 小明家自驾出游途经多沙地带时,车轮打滑无法前行。解决上述问题的做法是
 - A. 请家人下车
 - B. 给刹车片加润滑油
 - C. 邀请路人上车
 - D. 换用表面花纹更少的备胎
- 端午节,小明提着图 1 所示的一盒粽子去奶奶家。他提礼盒时,由单手提单绳变为双手提双绳的目的是
 - A. 增大压强
 - B. 减小压强
 - C. 增大压力
 - D. 减小压力
- “孝”是中华民族的传统美德。图 2 是小梦给父母曲臂端茶时的示意图,其中肱二头肌对前臂的拉力为动力,端着的托盘对手臂向下的作用力为阻力。下列与其属于同类的杠杆是
 - A. 筷子
 - B. 羊角锤
 - C. 核桃夹
 - D. 瓶盖起子



图 1

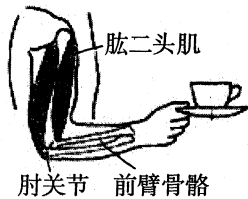


图 2

- 图 3 是一款网红“晴雨瓶”。它由密闭球体 A 和上端开口的玻璃管 B 组成, A 和 B 的底部相通。瓶内装适量有色液体,随着天气阴晴转换, B 内液面高度也会发生变化。下列说法正确的是
 - A. 若遇晴朗天气(气压升高), B 管内液面会下降
 - B. 若将此瓶从一楼拿到十楼, B 管内液面会下降
 - C. 若再向瓶内加入一些液体, A 和 B 内液面可能相平
 - D. 若在 A 的顶部轻轻打开一个小孔,则液体可能从 B 管口喷出

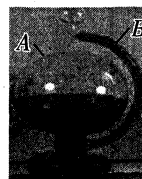


图 3

- 为了缓解市内停车难的问题,我市一些商业区建起了垂直升降式立体停车库。当开启电机时,车库内停在载车板上的汽车随载车板一起匀速上升至相应位置。在上述过程中,汽车的能量变化情况是
 - A. 重力势能不变
 - B. 动能不变
 - C. 机械能不变
 - D. 动能和机械能都增大

- 图 4 是网红校长领着一群朝气蓬勃的学生跳鬼步舞的情景。下列说法正确的是
 - A. 跳舞过程中身体不断移动,说明舞者没有惯性
 - B. 跳舞时抬起一只脚,舞者对地面的压强不变
 - C. 跳舞时拖脚移步,说明力是改变物体运动状态的原因
 - D. 站立准备跳舞时,舞者对地面的压力和舞者的重力是一对平衡力



图 4

- 如图 5 所示,卡车的车厢高 1.5m,工人师傅将一块 5m 长的木板搭在地面与车厢之间构成斜面,然后站在车上用 400N 的拉力将重为 1000N 的木箱匀速拉上车厢。下列说法正确的是
 - A. 工人所做的总功为 5000J
 - B. 木箱与斜面之间的摩擦力为 400N
 - C. 斜面的机械效率为 75%
 - D. 工人将木箱加速拉上车厢所做的总功不变

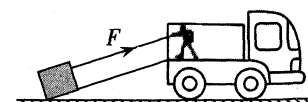


图 5

- 我国研制的“海燕-X”号水下滑翔机最大下潜深度达 10619 米,刷新了水下滑翔机下潜深度的世界纪录。图 6 为水下滑翔机的模型,机身上搭载的油囊可在油泵的控制下进行收缩或膨胀。当油囊收缩时滑翔机下潜,当油囊膨胀时滑翔机上浮。下列说法正确的是
 - A. 滑翔机通过改变自身重力来实现浮沉
 - B. 油囊收缩时滑翔机受到的水的压强逐渐减小
 - C. 油囊膨胀时滑翔机所受的浮力小于滑翔机的重力
 - D. 上浮时滑翔机排开水的重力大于下潜时排开水的重力

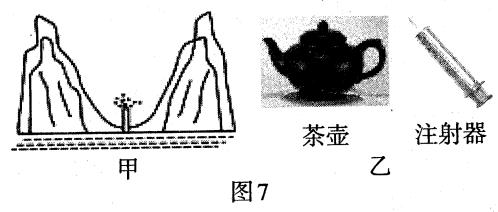


图 6

二、填空与作图题(本题共4个小题,每空1分,14题4分,共10分)

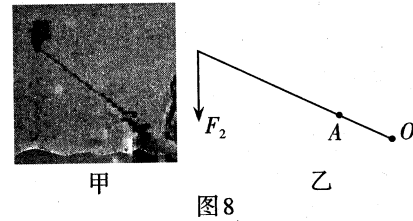
11. “给我一个支点,我就能撬动地球”这句名言出自古希腊物理学家_____,这则豪言壮语依据的物理原理是_____。

12. 小亮在假期和爸妈一起去黄山旅游,在山脚下小亮看到一处喷泉景观,如图7甲所示。他想喷泉口的水之所以能自动地喷出,实际上是与喷泉口相连接的其它端口具有较_____的水位。在图7乙所示物品中,和喷泉工作原理相同的是_____。



13. 小明写了名为《火星历险》的科幻小说,有这样一个片段:被困在火星的宇航员由于飞行器燃料不够,无法到达理想的高度。他急中生智,在自己的宇航服上戳了两个小洞,向上喷出高压气体,成功上升,与救援小组对接。从物理学角度看,其中不合理之处是_____,理由是_____。

14. 图8甲是拍照时用的自拍杆,可以简化为图8乙中以O为支点的杠杆,请在图8乙中画出:



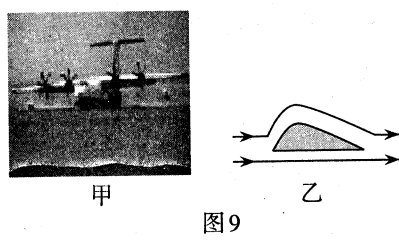
- (1)阻力 F_2 的力臂 L_2 ;
- (2)作用在A点的最小动力 F_1 及其力臂 L_1 。

三、阅读与简答题(本题共1个小题,共10分)

15. 阅读短文,回答问题

“会飞的船”—— 鲲龙 AG600

如图9甲所示,我国自主研发的首款大型水陆两栖飞机—— 鲲龙 AG600。AG600使用四台 WJ-6 涡桨螺旋桨发动机,每台发动机功率约为 3800kW。无论在陆地还是水面它都能实现平稳起降。当 鲲龙 AG600 停泊在水上时,宽大的船体保障它浮在水面。需要起飞时,螺旋桨发动机产生强力,拉动它在水面上加速滑跑,从而利用机翼产生升力,将飞机从水面上托起来,成为在空中飞行的航船。



鲲龙 AG600 的最大起飞质量可达 53.5t。实施水上救援时,一次可救援 50 名遇险人员或装载相应重量的救援物资,是世界上最大的水陆两用飞机。

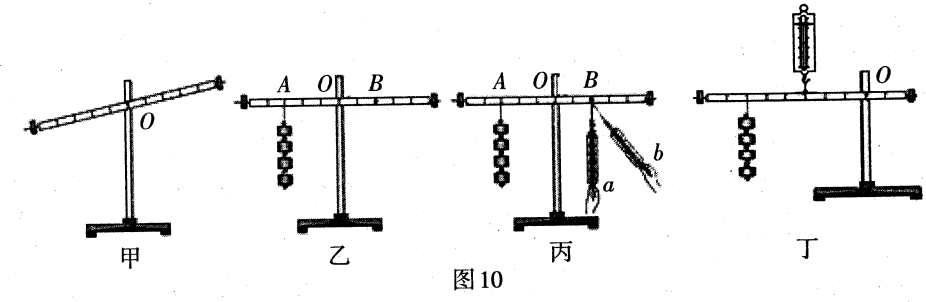
- (1) 鲲龙 AG600 在水面上加速滑跑时受到_____ (选填“平衡力”或“非平衡力”);
- (2) 当停泊在水面上的空载 鲲龙 AG600 接收到搭乘人员后,所受浮力_____ (选填“变大”、“变小”或“不变”),它将_____ (选填“上浮一些”、“下沉一些”或“位置不变”)。鲲龙飞机满载时排开水的体积约为_____ m^3 (g 取 $10N/kg$);
- (3) 若 鲲龙 AG600 全速飞行 1 小时,其四台螺旋桨发动机做的功大约为_____ J。在飞行过程中,若它受到的所有力同时消失,则它会_____。

(4) 鲲龙 AG600 机翼的截面设计成图 9 乙所示的形状,便于获得升力,用学过的物理知识解释其中的道理。

四、实验与探究题(本题共5个小题,每空2分,共40分)

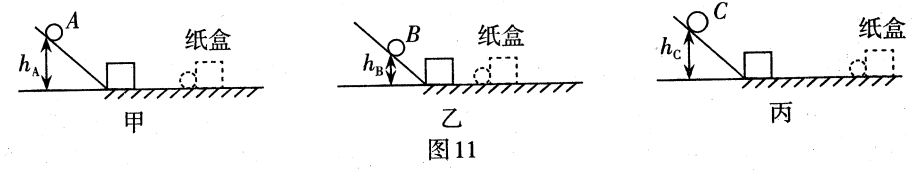
16. 在探究“杠杆平衡条件”的实验中,请你解答下列问题:

(1) 实验前,杠杆静止时的状态如图 10 甲所示,则应将平衡螺母向_____调节,直到杠杆水平平衡;



- (2) 在图 10 乙的 A 点挂 4 个钩码,应在 B 点挂_____个相同的钩码,可使杠杆在水平位置平衡。之后再取下 A、B 下方各一个钩码,则杠杆_____端下沉;
- (3) 改用弹簧测力计在图 10 丙的 B 点向下拉杠杆并始终保持杠杆水平,当弹簧测力计从 a 转到 b 位置时,其示数将_____ (选填“变大”、“变小”或“不变”);
- (4) 若采用图 8 丁所示的装置,弹簧测力计的拉力为 F_1 ,钩码对杠杆的阻力为 F_2 ,多次调整力和力臂的大小发现: F_2L_2 总是小于 F_1L_1 ,其原因是_____。

17. 如图 11 所示,在探究“动能大小与哪些因素有关”的实验中,将 A、B、C 三小球先后从同一装置的 h_A 、 h_B 、 h_C 高处由静止释放,到达水平面推动同一纸盒运动一段距离后静止。已知 $m_A = m_B < m_C$, $h_A = h_C > h_B$,请你解答下列问题:



- (1) 实验中通过观察_____来比较小球动能的大小;
- (2) 比较甲、乙两次实验,可以探究动能大小与_____的关系。在乙、丙两次实验中,纸盒在木板上滑动时受到的摩擦力大小 $f_乙$ _____ $f_丙$ (选填“>”、“<”或“=”);
- (3) 若在完成图 11 甲实验的基础上,进行图 11 丙的实验时,发现纸盒被撞后滑出了木板,为完成对比实验,在不改变木板长度的前提下,应采用下列方法中的_____ (填字母)。
 - A. 换比 A 质量小的钢球
 - B. 给木板上铺毛巾
 - C. 适当降低钢球的高度
 - D. 换较重的纸盒

18. 在探究“影响滑动摩擦力大小因素”的实验中,实验装置如图12所示,其中长方体木块各个表面的粗糙程度相同。请你解答下列问题:

(1)图12甲应用弹簧测力计拉着木块在水平木板上做_____运动,根据_____条件可知,此时木块所受滑动摩擦力的大小为_____N;

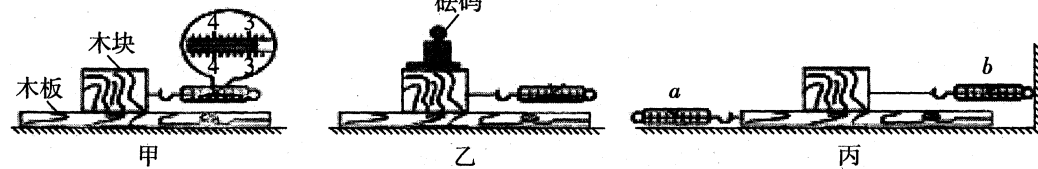


图12

(2)比较图12甲、乙,可以探究滑动摩擦力大小与_____的关系。若换用图12丙的方式来测量,在拉动长木板的过程中发现,当弹簧测力计b的示数稳定后为2.7N,弹簧测力计a的示数为4.5N,则木块和木板之间的摩擦力为_____N。

19. 小明观察到电风扇、落地灯等都有大而重的底座,使它们不易翻倒。由此提出两个猜想:

①物体的稳度(稳定程度)可能与物体重心高低有关;②物体的稳度可能与支撑面积的大小有关。为验证猜想,他将三块相同的橡皮泥分别固定在三个相同的圆柱体的底部、中部和顶部,其重心O的位置如图13甲所示;再用同样的力在三个圆柱体的同一位置小心地向左推翻圆柱体,比较圆柱体刚好翻倒时转过的角度 θ ,如图13乙所示,并记录在下表中。

请你解答下列问题:

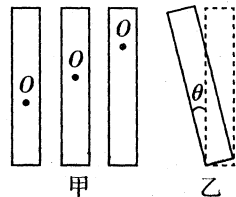


图13

实验次数	1	2	3
重心高低	低	中	高
圆柱体刚好翻倒时转过的角度 θ	大	较大	小

(1)上述实验是为了验证猜想_____ (选填“①”或“②”);
 (2)圆柱体的稳度是通过_____来反映的;
 (3)为了增大货车行驶时的稳度,结合上述实验,给正在装货的司机提出一个合理建议_____。

20. 小明猜想:“固体所受的浮力可能跟固体的形状有关”。请你帮他设计实验,验证猜想。

(1)实验器材:_____ ;
 (2)实验步骤:_____ ;
 (3)分析与论证:_____。

五、分析与计算题(本题共2个小题,每小题5分,共10分)

21. 请从A、B两题中任选一题作答。(g取10N/kg)

A. 秉持“绿色低碳”理念,我市出租车早已全部更换为纯电动车型。电动出租车的部分参数如右表所示,请你计算:

空车质量 m/kg	2380	最大车速 $v/(\text{km}\cdot\text{h}^{-1})$	140
轮胎与地面的接触总面积 S/m^2	0.2	最大功率 P/kW	70

(1)空车静止在水平路面上时,对路面的压强;
 (2)该车在最大功率下,以最大车速在水平路面上匀速直线行驶时,受到阻力的大小。

B. “运-20”飞机是我国国产新一代大型运输机。一架总质量为160t的“运-20”飞机静止在水平地面上时,其轮胎与地面的接触总面积为 5m^2 。在一次飞行任务中,该飞机以 720km/h 的速度爬升至8000m高空。请你计算:

(1)飞机静止在水平地面时对地面的压强;
 (2)飞机本次爬升克服重力做功的功率。

22. 请从A、B两题中任选一题作答。(g取10N/kg)

如图14甲所示,为了方便特殊人群,我市地铁站设立了无障碍电梯,其原理可简化为图14乙所示的装置。

A. 若某次运行过程中,电梯以 0.5m/s 的速度匀速上升了4s,电梯内乘客及物品共重500kg,钢丝绳的拉力F为2000N。请你计算:此次运行中,

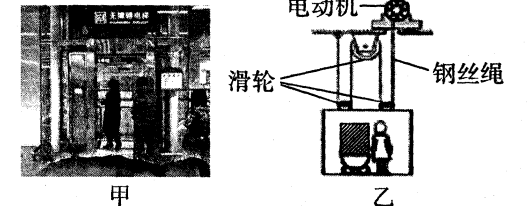


图14

(1)滑轮组提升乘客及物品所做的有用功;
 (2)该滑轮组的机械效率。

B. 若某次运行过程中,钢丝绳的拉力F为1500N,电梯以 0.5m/s 的速度匀速上升了4s,滑轮组提升电梯内乘客及物品的机械效率为60%。请你计算:此次运行中,

(1)滑轮组提升电梯内乘客及物品所做的总功及额外功;
 (2)电梯内乘客及物品的总质量。

2020~2021学年第二学期八年级期末考试

物理答题卡

(贴条形码区)

姓 名 _____ 考试编号 _____

<p>学生禁涂</p> <p>未参加测评的学生，由监考教师用2B铅笔填涂下面的未测标记</p> <p><input type="checkbox"/></p> <p>未测标记</p>	<p>注意事项</p>	<ol style="list-style-type: none"> 答题前，学生在答题卡相应位置填写姓名及考试编号。 答选择题时，必须使用2B铅笔填涂。修改时，要用橡皮将修改处擦干净，规范填涂样例： 答非选择题时，必须使用0.5毫米的黑色笔迹签字笔书写，字体工整、笔迹清晰，严格按题目所指示的答题区域作答，超出答题区域书写的答案无效，在试题草稿纸上答题无效。 保持答题卡清洁，完整，严禁折叠，严禁在答题卡上作任何标记，严禁使用涂改液、胶带纸和修正带。 未按上述要求填写、答题，影响评分质量，后果自负。
--	--------------------	--

一、选择题

1 <input type="checkbox"/> A <input type="checkbox"/> B <input type="checkbox"/> C <input type="checkbox"/> D	6 <input type="checkbox"/> A <input type="checkbox"/> B <input type="checkbox"/> C <input type="checkbox"/> D
2 <input type="checkbox"/> A <input type="checkbox"/> B <input type="checkbox"/> C <input type="checkbox"/> D	7 <input type="checkbox"/> A <input type="checkbox"/> B <input type="checkbox"/> C <input type="checkbox"/> D
3 <input type="checkbox"/> A <input type="checkbox"/> B <input type="checkbox"/> C <input type="checkbox"/> D	8 <input type="checkbox"/> A <input type="checkbox"/> B <input type="checkbox"/> C <input type="checkbox"/> D
4 <input type="checkbox"/> A <input type="checkbox"/> B <input type="checkbox"/> C <input type="checkbox"/> D	9 <input type="checkbox"/> A <input type="checkbox"/> B <input type="checkbox"/> C <input type="checkbox"/> D
5 <input type="checkbox"/> A <input type="checkbox"/> B <input type="checkbox"/> C <input type="checkbox"/> D	10 <input type="checkbox"/> A <input type="checkbox"/> B <input type="checkbox"/> C <input type="checkbox"/> D

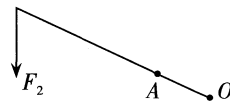
二、填空题

11. _____

12. _____

13. _____

14.



乙
图8

三、阅读与简答题

15. (1) _____ (2) _____

(3) _____

(4) _____

四、实验与探究题

16. (1) _____ (2) _____

(3) _____ (4) _____

请在各题目的答题区域内作答，超出答题区域的答案无效

请在各题目的答题区域内作答，超出答题区域的答案无效

17. (1) _____ (2) _____ (3) _____

18. (1) _____

(2) _____

19. (1) _____ (2) _____

(3) _____

20. (1) _____

(2) _____

(3) _____

五、分析与计算题

21. 我选择 _____ 题。

解: (1)

(2)

22. 我选择 _____ 题。

解: (1)

(2)

请在各题目的答题区域内作答，超出答题区域的答案无效